


PORTUGUÊS

Considere o texto abaixo e responda as questões **01, 02, 03 e 04**.

Fábula dos Dois Leões

Diz que eram dois leões que fugiram do Jardim Zoológico. Na hora da fuga cada um tomou um rumo, para despistar os perseguidores. Um dos leões foi para as matas da Tijuca e outro foi para o centro da cidade. Procuraram os leões de todo jeito mas ninguém encontrou. Tinham sumido, que nem o leite.

Vai daí, depois de uma semana, para surpresa geral, o leão que voltou foi justamente o que fugira para as matas da Tijuca. Voltou magro, faminto e alquebrado. Foi preciso pedir a um deputado do PTB que arranjasse vaga para ele no Jardim Zoológico outra vez, porque ninguém via vantagem em reintegrar um leão tão carcomido assim. E, como deputado do PTB arranja sempre colocação para quem não interessa colocar, o leão foi reconduzido à sua jaula.

Passaram-se oito meses e ninguém mais se lembrava do leão que fugira para o centro da cidade quando, lá um dia, o bruto foi recapturado. Voltou para o Jardim Zoológico gordo, sadio, vendendo saúde. Apresentava aquele ar próspero do Augusto Frederico Schmidt que, para certas coisas, também é leão.

Mal ficaram juntos de novo, o leão que fugira para as florestas da Tijuca disse pro colega:

— Puxa, rapaz, como é que você conseguiu ficar na cidade esse tempo todo e ainda voltar com essa saúde? Eu, que fugi para as matas da Tijuca, tive que pedir arrego, porque quase não encontrava o que comer, como é então que você... vá, diz como foi.

O outro leão então explicou: — Eu meti os peitos e fui me esconder numa repartição pública.

Cada dia eu comia um funcionário e ninguém dava por falta dele.

— E por que voltou pra cá? Tinham acabado os funcionários?

— Nada disso. O que não acaba no Brasil é funcionário público. É que eu cometi um erro gravíssimo. Comi o diretor, idem um chefe de seção, funcionários diversos, ninguém dava por falta. No dia em que eu comi o cara que servia o cafezinho... me apanharam.

Fonte: “Primo Altamirando e Elas”, Stanislaw Ponte Preta. Editora do Autor – Rio de Janeiro, 1961, pág. 153.

01. Considerando o diálogo entre os dois leões, no estudo das figuras de linguagem, podemos identificar um(a):

- A) Antítese.
- B) Eufemismo.
- C) Prosopopéia.
- D) Catacrese.
- E) Anáfora.

02. Considere o enunciado extraído do texto de Stanislaw Ponte Preta: “...Voltou magro, faminto e alquebrado”. A palavra em destaque pode ser substituída sem alteração contextual por:

- A) violento
- B) estressado
- C) desgostoso
- D) desconfiado
- E) abatido

03. Considere o fragmento textual seguinte e assinale a alternativa correta. “...Voltou para o Jardim Zoológico gordo, sadio, vendendo saúde”.

- A) Consiste na presença de antítese.
- B) É notório o registro de uma metáfora.
- C) Há característica forte de uma hipérbole.
- D) Há a insinuação de uma aliteração.
- E) Registra-se um pleonasmu vicioso.

04. Pelo texto de Stanislaw Ponte Preta é possível concluir que:

- A) o tempo em que os dois leões estiveram separados foi de sete meses e três semanas.
- B) no Brasil há uma carência de servidores públicos para serviços administrativos.
- C) ambos leões foram capturados simultaneamente.
- D) o segundo leão (gordo e sadio) pediu arrego depois de oito meses.
- E) o primeiro leão adotou capciosamente o sistema vegetariano.

Considere o texto seguinte para a questão **05**.

Irene no Céu

Irene preta

Irene boa

Irene sempre de bom humor

Imagino Irene entrando no céu:

– Licença, meu branco!

E São Pedro bonachão:

– Entra, Irene. Você não precisa pedir licença.

Fonte: Manuel Bandeira. *Estrela da vida inteira*. Rio de Janeiro: José Olympio, 1970. pág. 125

05. Considerando a forma de tratamento do último verso, podemos concluir que:

- I. Do ponto de vista da norma culta, a frase deveria ser: *Entre, Irene*.
- II. Trata-se de uma variedade coloquial da língua.
- III. Estabelece uma relação informal de comunicação entre os falantes.
- IV. Não constitui erro de linguagem, na fala popular.

Está(ão) correta(s) as proposições:

- A) I, apenas;
- B) I e II, apenas;
- C) II e III, apenas;
- D) I, II e IV, apenas;
- E) I, II, III e IV.

06. Marque a alternativa em que o elemento indicado entre parênteses NÃO preenche corretamente os espaços:

- A) O office boy chegou inesperadamente _____ novo restaurante (àquele).
- B) Mário deseja uma pizza _____ moda italiana (à).
- C) Voltará daqui _____ meia hora (a).
- D) Seja bem-vindo _____ fria São Paulo (à).
- E) O concurso público será daqui _____ duas semanas (a).

07. Numere a segunda coluna de acordo com a primeira, baseado na classificação da palavra que:

- 1. Substantivo
- 2. Pronome relativo
- 3. Pronome interrogativo
- 4. Conjunção subordinada integrante
- 5. Conjunção coordenada explicativa

- () Somos bombardeados por uma massa de informações contrárias, que não leva a nada nem a lugar nenhum.
- () Que houve com a família?
- () Ela fingiu que não o via.
- () Todos têm um quê de ambição.
- () Não seja tão ambicioso que você pode sofrer.

A sequência correta é:

- A) 2 – 3 – 4 – 1 – 5.
- B) 4 – 1 – 5 – 2 – 3.
- C) 1 – 2 – 3 – 5 – 4.
- D) 4 – 3 – 1 – 2 – 5.
- E) 3 – 2 – 4 – 1 – 5.

08. Assinale a alternativa em que há oração na voz reflexiva:

- A) O prédio na íntegra desabava.
- B) Antes de deixar a cidade, foi visto por um amigo madrugador.
- C) O festival Rock In Rio fará o maior sucesso.
- D) Eu jamais tinha ouvido coisa igual.
- E) Joana com aquela cabeleira penteava-se.

09. O processo de formação da palavra “combate” é:

- A) Composição por aglutinação
- B) Derivação regressiva
- C) Composição por justaposição
- D) Hibridismo
- E) Derivação parassintética

10. A alternativa em que todas as palavras estão grafadas corretamente é:

- A) exceção, enxurrada, jiló, belesa.
- B) excessão, enxorrada, jiló, beleza.
- C) ecessão, enchurrada, giló, beleza.
- D) esseção, enchorrada, jilo, beleza.
- E) exceção, enxurrada, jiló, beleza.

11. Assinale o enunciado em que o pronome e o verbo em destaque estão usados CORRETAMENTE, de acordo com a norma culta.

- A) Vossas Senhorias, desculpe-me, mas vossos documentos estão incompletos.

- B) Sua Excelência, o Sr. Ministro, conquistastes vossos adeptos.
- C) Vossa Excelência trouxe seus documentos indeferidos?
- D) Pelo presente, solicitamos a Vossa Senhoria que envieis seu currículo.
- E) Informamos que Vossa Excelência e vossos auxiliares sois bem recebidos.

12. As palavras nuvens e margens não são acentuadas pela mesma razão que:

- A) Polens
- B) Jovens
- C) Edens
- D) Hifens
- E) Himens

Considere a imagem abaixo e responda a questão 13.



13. Quanto ao discurso do personagem:

- I. É possível identificar o uso formal da próclise;
- II. Há uma conjugação inadequada posterior ao pronome pessoal “me”;
- III. Houve uma supressão de fonemas no verbo “estar”, presente no texto.

Está(ão) correto(s) o(s) item(ns):

- A) I, apenas;
- B) II, apenas;
- C) III, apenas;
- D) II e III, apenas;
- E) I, II e III.

14. No trecho “Esse shopping vai abrir hoje?” a palavra em destaque apresenta um:

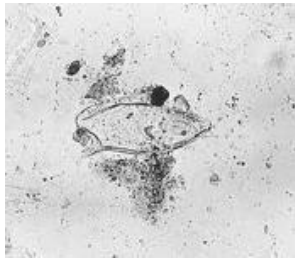
- A) Dígrafo
- B) Encontro vocálico
- C) Ditongo
- D) Hiato
- E) Tritongo

15. Considere o enunciado a seguir: “Não obstante, além de praticamente não haver programas educativos, a televisão brasileira ainda insiste em explorar o lado sensual da mulher de forma vulgar.” A expressão destacada anteriormente poderá ser substituída sem alteração de sentido por:

- A) E.
- B) Então.
- C) Por mais que.
- D) Entretanto.
- E) Pois.

CONHECIMENTOS ESPECÍFICOS

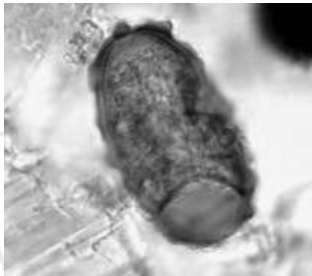
16. Identifique quais Parasitas do ser humano as figuras abaixo representam:



(Fonte: ufrgs.br)

- A) Cisto de *G. lamblia*
- B) Ovo de *S. mansoni*
- C) Ovo de *A. lumbricóides*
- D) Cisto de *E. coli*
- E) Ovo de *S. stercorallis*

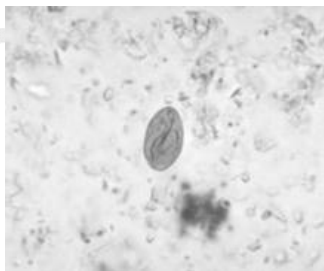
17.



(Fonte: fcfrp.usp.br)

- A) Cisto de *G. lamblia*
- B) Ovo de *S. mansoni*
- C) Ovo de *A. lumbricóides*
- D) Cisto de *E. coli*
- E) Ovo de *S. stercorallis*

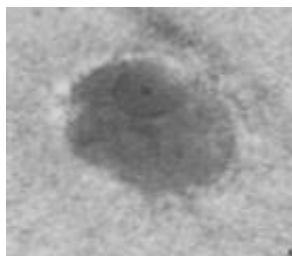
18.



(Fonte: microbiologybook.org)

- A) Cisto de *G. lamblia*
- B) Ovo de *S. mansoni*
- C) Ovo de *A. lumbricóides*
- D) Cisto de *E. coli*
- E) Ovo de *S. stercorallis*

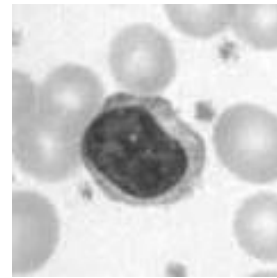
19.



(Fonte: r1.ufrj.br)

- A) Cisto de *E. coli*
- B) Cisto de *G. lamblia*
- C) Cisto de *E. histolytica*
- D) Cisto de *T. canis*
- E) Cisto de *E. nana*

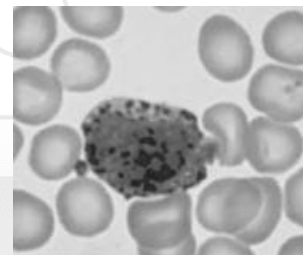
20. Identifique a célula representada na figura abaixo:



(Fonte: jornallivre.com.br)

- A) Monócito
- B) Linfócito
- C) Plaqueta
- D) Neutrófilo
- E) Eosinófilo

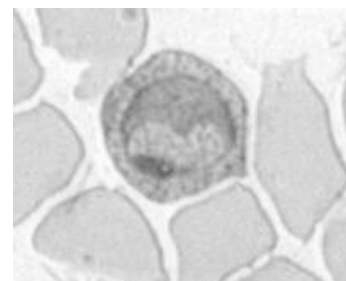
21. Identifique qual célula sanguínea está representada na figura abaixo:



(Fonte: jfgbiomedi.blogspot.com)

- A) Neutrófilo
- B) Linfócito
- C) Eosinófilo
- D) Monócito
- E) Basófilo

22. Com base na figura seguinte, podemos afirmar que este esfregaço sanguíneo é de alguém portador de qual das patologias abaixo citadas?



(Fonte: geocities.ws)

- A) Anemia Megaloblástica
- B) Leucemia Linfocítica
- C) Leishmaniose Visceral
- D) Malária
- E) Sífilis

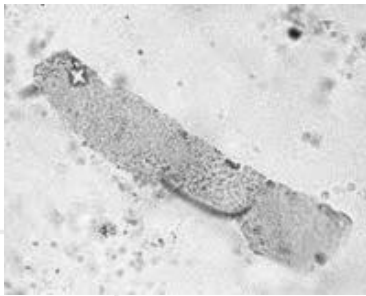
23. Com base na imagem seguinte, podemos afirmar que se trata de qual dos micróbios citados abaixo?



(Fonte: becomehealthy.com)

- A) *Treponema pallidum*
- B) *Mycobacterium bovis*
- C) *Mycobacterium tuberculosis*
- D) *Ascaris lumbricóides*
- E) *Borrelia*

24. A figura seguinte corresponde a que estrutura encontrada em Análise de sedimento urinário?



(Fonte: flickr.com)

- A) Cilindro Hialino
- B) Cilindro Hemático
- C) Cilindro Misto
- D) Cilindro Granuloso
- E) Cristal de Fosfato Cálcico

25. A figura seguinte corresponde a qual dos elementos chamados Cristais encontrados comumente em sedimento urinário citados abaixo:



(Fonte: hvalmada.com)

- A) Estruvita
- B) Cistina
- C) Fosfatoamoníacomagnesiano
- D) Carbonato de Cálcio
- E) Oxalato de Cálcio

26. Identifique qual alternativa corresponde à imagem apresentada na figura abaixo:



(Fonte: fotolog.com)

- A) Fosfato Triplo
- B) Oxalato de Cálcio
- C) Cistina
- D) Carbonato de Cálcio
- E) Estruvita

27. Considere as seguintes assertivas relativas a diversos meios de cultura:

- I. Dentre os meios de cultura para transporte e conservação podemos citar os de Cary-Blair, Salina Tampoadada, Stuart e o Ágar nutriente
- II. Dentre os meios de cultura para crescimento e isolamento podem-se citar o Ágar chocolate, Ágar Thayer-Martin chocolate, Ágar SS (Salmonella-Shigella), Caldo selenito, Caldo tetracionato, Caldo Tioglicolato com e sem indicador, Ágar Mac Conkey, Ágar sangue etc
- III. Em caso de se intencionar o isolamento de fungos patogênicos, principalmente Dermatófitos, podemos usar o Ágar Mycosel
- IV. Para caracterização de fungos filamentosos podemos usar o Ágar Sabouraud

Está **CORRETO** o que se diz em:

- A) Apenas I e III
- B) Apenas II e III
- C) Apenas I e IV
- D) Nenhuma
- E) Todas

28. O achado deste tipo de cilindro em sedimento urinário é típico de patologia renal grave.



(Fonte: farestaie.com.ar)

Trata-se de que tipo de cilindro?

- A) Hemático
- B) Leucocitário
- C) Céreo
- D) De Células Epiteliais
- E) Granuloso

29. Qual dentre as alternativas abaixo é o tipo de cálculo urinário responsável pela maioria dos casos de Urolitíase?

- A) Fosfato de Cálcio
- B) Oxalato de Cálcio
- C) Ácido Úrico
- D) Cistina
- E) Estruvita

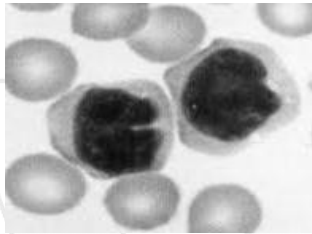
30. Podemos afirmar que o Teste mais específico para o diagnóstico de Sífilis é a(o):

- A) Pesquisa direta através da Microscopia em Campo Escuro
- B) VDRL (Venereal Disease Research Laboratory)
- C) RPR (Rapid Plasma Reagin)
- D) FTA-abs (Fluorescent Treponemal Antibody Absorption)
- E) MATP (Microhaemagglutination Assay for Antibodies to T. Pallidum)

31. No Diagnóstico Laboratorial da Febre Reumática, nos últimos anos tem-se sugerido a utilização de um teste como substituto para a dosagem de **Mucoproteína**. Qual?

- A) Alfa-1-Glicoproteína ácida
- B) Eletroforese de Proteínas
- C) VHS
- D) PCR
- E) Teste das Aminas

32. A imagem seguinte corresponde a qual das opções citadas abaixo?



(Fonte: ciencianews.com.br)

- A) Basófilos
- B) Linfócitos atípicos
- C) Neutrófilos
- D) Plaquetas
- E) Eosinófilos

33. Observe a figura seguinte e identifique de qual Parasita do ser humano é o ciclo representado:



(Fonte: dombosco.com.br)

- A) *Plasmodium*
- B) *Taenia spp*
- C) *Echinococcus spp*
- D) *Schistosoma mansoni*
- E) *Wuchereria bancrofti*

34. Na desinfecção de materiais e utensílios de laboratório utilizados em pacientes portadores do vírus **HIV**, a **solução** que deve ser empregada é:

- A) Clorexidina
- B) Álcool a 70%

- C) Álcool a 50%
- D) Éter Etílico
- E) Hipoclorito de sódio a 0,5%

35. Podemos afirmar que a atividade de **Esterilização** através do uso do **Óxido de Etileno** não pode ser exercida por pessoa do sexo feminino que:

- A) Estiver em idade fértil
- B) For menopausada
- C) Tiver + de 60 anos
- D) For estéril
- E) Estiver grávida

36. O Painel de Hemácias serve para:

- A) Fenotipagem das Células
- B) Dosagem de Antígenos
- C) Pesquisa de Anticorpos Irregulares
- D) Confirmação do Grupo ABO
- E) Prova de Compatibilidade Sanguínea

37. Qual dos testes abaixo **NÃO** é considerado como obrigatório antes das **Transfusões**?

- A) Teste de Compatibilidade maior
- B) Determinação direta ABO e Rh do doador
- C) Determinação direta ABO e Rh do receptor
- D) Pesquisa de anticorpos irregulares no receptor
- E) Teste de compatibilidade entre as hemácias do receptor e o plasma do doador

38. A **Medida Laboratorial** mais útil em definir o mecanismo da **Anemia** é:

- A) Transferrina Sérica
- B) Hemoglobina
- C) Hemoglobina Corpuscular Média
- D) Índice de Reticulócitos
- E) Concentração de Hemoglobina Corpuscular Média

39. Que volume de sangue deve ser coletado (para doação) de um indivíduo com 50 kg de peso?

- A) 08 ml/kg, independentemente do sexo
- B) Se for mulher, 08 ml/kg
- C) Se for mulher, 09 ml/kg
- D) Se for homem, 10 ml/kg
- E) Não importa o peso do indivíduo, desde que a doação não ultrapasse 555 ml

40. O aparecimento no Sangue Periférico de Células "**em gota de lágrima**" chama a atenção para a possibilidade diagnóstica de:

- A) Anemia Imuno-Hemolítica
- B) Talassemia
- C) Mielofibrose
- D) Hipertensão Arterial Maligna
- E) Mieloma Múltiplo