



CÂMARA MUNICIPAL DE SÃO CARLOS

CONCURSO PÚBLICO

004. PROVA OBJETIVA

ANALISTA ADMINISTRATIVO

- ◆ Você recebeu sua folha de respostas e este caderno contendo 50 questões objetivas.
- ◆ Confira seu nome e número de inscrição impressos na capa deste caderno e na folha de respostas.
- ◆ Quando for permitido abrir o caderno, verifique se está completo ou se apresenta imperfeições. Caso haja algum problema, informe ao fiscal da sala.
- ◆ Leia cuidadosamente todas as questões e escolha a resposta que você considera correta.
- ◆ Marque, na folha de respostas, com caneta de tinta azul ou preta, a letra correspondente à alternativa que você escolheu.
- ◆ A duração da prova é de 3 horas, já incluído o tempo para o preenchimento da folha de respostas.
- ◆ Só será permitida a saída definitiva da sala e do prédio após transcorridos 75% do tempo de duração da prova.
- ◆ Ao sair, você entregará ao fiscal a folha de respostas e este caderno, podendo levar apenas o rascunho de gabarito, localizado em sua carteira, para futura conferência.
- ◆ Até que você saia do prédio, todas as proibições e orientações continuam válidas.

AGUARDE A ORDEM DO FISCAL PARA ABRIR ESTE CADERNO DE QUESTÕES.

CONHECIMENTOS GERAIS

LINGUA PORTUGUESA

Leia o texto para responder às questões de números **01** a **03**.

Acesso à internet mais que dobra no Brasil de 2005 a 2011

Quase metade da população brasileira com 10 anos ou mais de idade (46,5%) acessava a internet em 2011. Segundo estudo do IBGE, o índice é mais do que o dobro do percentual registrado em 2005, quando aproximadamente 21% da população haviam acessado a internet. No mesmo período, a população nessa faixa etária cresceu 9,7%.

(*Brasil de Fato*. Fatos em foco – da Redação. 23 a 29 maio de 2013. p.03)

01. O uso da crase, empregado no título da notícia, seria desnecessário se a palavra **internet** fosse substituída por

- (A) rede digital.
- (B) espaço virtual.
- (C) informatização.
- (D) navegação virtual.
- (E) pesquisa digital.

02. No texto, o verbo **haver** está no plural, concordando com

- (A) 21%.
- (B) população.
- (C) dobro.
- (D) índice.
- (E) percentual.

03. Ao se usar a expressão “quase metade”, compreende-se que

- (A) os dados apontados pelo IBGE não são confiáveis.
- (B) é impossível calcular todos os percentuais.
- (C) a quantidade de usuários da internet é pequena.
- (D) os 3,5% pouco afetam a noção de “metade”.
- (E) o texto busca registrar apenas dados exatos.

Leia o texto para responder às questões de números **04** e **05**.

Com temor de gripe A, igreja suspende hóstia na boca e abraço.

Para tentar evitar a transmissão da gripe, principalmente do vírus H1N1, dioceses do interior paulista mudaram os rituais das missas.

Em cidades como Aparecida, Taubaté e Franca, o abraço da paz de Cristo, a oração do pai-nosso feita de mãos dadas e a entrega da hóstia na boca foram suspensos.

O Estado de São Paulo registra 90% das mortes por gripe A no país.

(*Folha de S.Paulo*. 30 maio 2013. Capa)

04. No título, a expressão “com temor da gripe A” tem função

- (A) adjetiva.
- (B) substantiva.
- (C) verbal.
- (D) adverbial.
- (E) prepositiva.

05. De acordo com o texto, pode-se afirmar que

- (A) não se entregam mais hóstias na igreja.
- (B) as práticas religiosas não foram afetadas pela gripe.
- (C) o contato físico está sendo evitado.
- (D) alguns termos da oração foram modificados.
- (E) o abraço na igreja está sendo punido.

Leia o texto para responder às questões de números **06** a **08**.

Tratado de paz

Na esteira dos recentes casos de violência – entre eles a morte de Kevin Espada –, o governo federal organizou um seminário para elaborar uma carta sul-americana de intercâmbio e colaboração na prevenção da violência no futebol. O encontro, marcado para 6 e 7 de junho, terá a participação de representantes de nove países, que compartilharão ideias sobre o combate a atos violentos envolvendo torcedores nos estádios.

Unidos. Representantes da Inglaterra, país que conseguiu conter a violência dos torcedores, e da Espanha participarão do seminário. Colômbia, Uruguai, Brasil, Argentina, Equador, Chile e Peru são os sul-americanos que enviarão membros ao encontro, capitaneado pelo Ministério do Esporte.

(*Folha de S.Paulo*. Esporte. 30 maio 2013. p.D-2)

06. A expressão “na esteira” pode ser substituída, sem prejuízo de sentido para o texto, por

- (A) como exemplo.
- (B) na contramão.
- (C) como resultado.
- (D) na onda.
- (E) contrapondo-se.

07. De acordo com o texto, os “casos de violência” em foco referem-se a

- (A) brigas entre jogadores.
- (B) conflitos entre torcedores.
- (C) discussões entre equipes.
- (D) embates entre times.
- (E) problemas entre seguranças.

08. A expressão “unidos”, subtítulo da matéria, refere-se

- (A) aos jogadores dos países citados.
- (B) a um problema comum no futebol daqueles países.
- (C) à reunião dos representantes dos nove países.
- (D) aos países norte-americanos no combate à violência.
- (E) aos torcedores dos países em questão.

Leia o texto para responder às questões de números 09 e 10.

Prepare-se para uma viagem inesquecível

Guias indicam verdadeiros paraísos na Terra. Escolha o seu destino e embarque com todas as dicas e informações em mãos!

Guias turísticos da Folha de S. Paulo

(Folha de S. Paulo. Turismo. 30 maio 2013. p.-F-4. Adaptado)

09. Ao se empregar o modo **imperativo**, na peça publicitária, o texto tem como objetivo

- (A) determinar.
- (B) recomendar.
- (C) impor.
- (D) argumentar.
- (E) ordenar.

10. De acordo com a peça publicitária, além da visita a “paraísos na Terra”, para que a viagem seja inesquecível é importante

- (A) escolher o destino.
- (B) ir a lugares paradisíacos.
- (C) comportar-se como turista.
- (D) preparar-se para o embarque.
- (E) ter informações corretas.

Leia o texto para responder às questões de números 11 a 13.

Vírus e espíões

Um cidadão comum, inocente nas manhas da internet, pode ver-se em tantos perigos na rede quanto Chapeuzinho Vermelho na floresta. O mundo está cheio de parentes eletrônicos do Lobo Mau – gente cruel, que se diverte induzindo a abrir os anexos e *links* que disparam para ter nosso computador invadido por seus vírus e espíões.

E como fazem isso? Enviando uma mensagem do “nosso interesse”. É o banco fulano que precisa “atualizar” nosso acesso ao seu sistema de identificação, ou o banco beltrano que, como se fundiu com o sicrano, precisa “reconfigurar” nosso cadastro. Para isso, diz o texto, basta clicar abaixo e, depois, em “salvar” e “executar”. Quando você acorda e se dá conta de que não é cliente daqueles bancos, é tarde – seus dados bancários já foram.

Outra armadilha é a do “Ministério Público da Justiça” que, no desempenho de suas atribuições etc., com fundamento nos artigos tais, inciso xis da Lei Complementar de 30 de fevereiro de 1993, intima Vossa Senhoria – você, o otário – a comparecer à Procuradoria do Trabalho para participar de audiência relativa ao “procedimento investigatório em epígrafe”. Para saber mais, “clique no link”. Faça isto – e você verá o inciso que o espera.

Mas as campeãs de audiência são as mensagens que começam com “Oiêêê, quanto tempo... Já se esqueceu de tudo? Olha o que eu fiz com as nossas fotos. Não deixe ninguém ver, hein?”, e o convidam a clicar para ver as “fotos”. Você não se lembra de foto nenhuma, mas sabe-se lá? Pois, no que clicou, como diria o presidente Lula, sifu.

O que nos salva e nos impede de abrir essas tentações é o português de quinta com que as mensagens são escritas. Elas são criativas, mas escritas por semianalfabetos, gente ruim de pronome e vírgula.

(Castro, Ruy. *Crônicas para ler na escola*. Rio de Janeiro: Objetiva, 2010. p.149-150)

11. A pergunta “sabe-se lá?”, empregada pelo narrador no quarto parágrafo, refere-se

- (A) à certeza sobre o conteúdo.
- (B) a uma dúvida do remetente.
- (C) aos argumentos da mensagem.
- (D) à curiosidade do cronista.
- (E) a uma hipótese remota.

12. Ao comentar as mensagens que se dizem do “Ministério Público”, o narrador aponta uma forma de tratamento pessoal característica desse meio:

- (A) você.
- (B) inciso.
- (C) Lei Complementar.
- (D) Vossa Senhoria.
- (E) audiência.

13. De acordo com o texto, o que aproxima o cidadão comum da figura de Chapeuzinho Vermelho na floresta é/são:
- (A) a ignorância sobre a internet.
 - (B) as maldades da floresta.
 - (C) as armadilhas de ambos os mundos.
 - (D) os perigos dos anexos e links.
 - (E) a convivência entre seres virtuais.

Leia o texto para responder às questões de números 14 e 15.

Biografia

Entre o olhar suspeito da tia
E o olhar confiante do cão
O menino inventava a poesia...

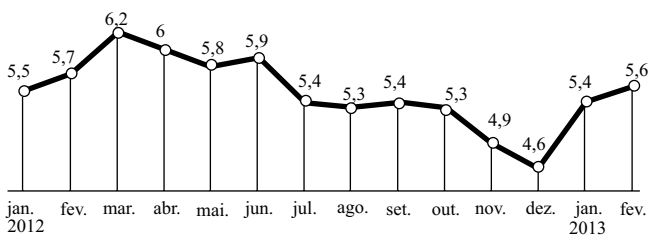
(Mário Quintana, *in: Amores diversos*. Ilustr. Edith Derdyk. São Paulo: Melhoramentos, 2003. Col. Literatura em minha casa. p.20)

14. Em relação ao terceiro verso, os dois primeiros versos do poema apresentam
- (A) a reação do menino em relação à tia e ao cão.
 - (B) a situação em que o menino criava poesia.
 - (C) os pensamentos do menino sobre a poesia.
 - (D) a criatividade do menino e seu fazer poético.
 - (E) a valorização da criatividade e da poesia.
15. Os dois primeiros versos do poema exercem a função de
- (A) complemento verbal.
 - (B) adjunto adverbial.
 - (C) oração coordenada.
 - (D) complemento nominal.
 - (E) predicativo do sujeito.

16. Na câmara municipal de certa cidade, os vereadores estabeleceram que, a cada 4 dias úteis, haveria atendimento aos munícipes e, a cada 5 dias úteis, haveria uma sessão deliberativa. Em um certo mês sem feriados ou pontos facultativos, o atendimento ao público e a reunião deliberativa ocorreram no mesmo dia 2, uma segunda-feira. A próxima coincidência, em que atendimento e reunião ocorrerão no mesmo dia, ou seja, na mesma data, será no dia
- (A) 27.
 - (B) 28.
 - (C) 29.
 - (D) 30.
 - (E) 31.
17. Ao participar de um evento dirigido à população, uma caminhada pelas avenidas de sua cidade, uma garota cronometrou o tempo gasto para percorrer 500 m, que foi de 4,0 min. Desejando estimar quanto tempo gastaria para cobrir a distância total prevista pelos organizadores, 8,5 km, mantendo a mesma frequência e extensão de seus passos, concluiu, corretamente, que demoraria
- (A) 48min.
 - (B) 52min.
 - (C) 58min.
 - (D) 1h 8min.
 - (E) 1h 18min.
18. Nas últimas semanas de maio passado, o preço do dólar norte-americano aumentou sensivelmente do valor médio de R\$ 2,00, mantido por vários meses, para R\$ 2,15. Este valor representa um aumento, em relação ao preço médio, de
- (A) 5,0%.
 - (B) 7,5%.
 - (C) 10,0%.
 - (D) 12,5%.
 - (E) 15,0%.

19. O gráfico mostra a evolução do desemprego em certo país, em termos percentuais, ao longo tempo.

Taxa de desemprego (em %)



Se, de janeiro de 2013 para fevereiro de 2013, entraram 10 mil pessoas para a lista de desempregados, o número total de desempregados na ocasião era de

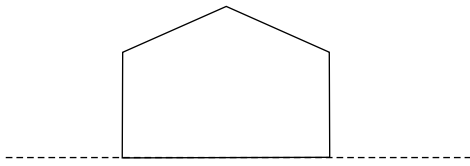
- (A) 50 mil.
(B) 200 mil.
(C) 500 mil.
(D) 2 milhões.
(E) 5 milhões.
20. O IPTU (imposto predial e territorial urbano), pago anualmente pelos proprietários de imóveis nas cidades às respectivas prefeituras, é calculado proporcionalmente à área do lote de terreno, adicionado ao cálculo proporcional da área construída e adicionado também à taxa fixa, relativa aos serviços de manutenção, limpeza e recolhimento de resíduos. Neste ano, em determinado bairro, o metro quadrado de terreno é taxado a R\$ 1,20, e o metro quadrado da área construída é taxado a R\$ 1,00. A taxa de manutenção é fixada em R\$ 180,00. Assim, o proprietário de uma casa de 120 m² construída num lote de 300 m² está pagando de IPTU
- (A) R\$ 360,00.
(B) R\$ 420,00.
(C) R\$ 480,00.
(D) R\$ 520,00.
(E) R\$ 660,00.
21. Na prefeitura de certo município há 9 funcionários recebendo salários de R\$ 900,00 cada um, 4 funcionários com salário de R\$ 1.400,00 cada, 5 funcionários com salário de R\$ 2.200,00 cada; o vice-prefeito ganha R\$ 3.200,00 por mês, e o prefeito recebe R\$ 4.000,00 mensalmente. A média salarial mensal paga por essa prefeitura é, em reais, mais próxima de
- (A) 1.600.
(B) 1.800.
(C) 2.000.
(D) 2.200.
(E) 2.300.

22. Fábio comprou uma casa financiada pelo sistema de juros simples, a uma taxa de 8,0% ao ano, calculada sobre o saldo devedor. A quantia financiada é de R\$ 200.000,00 e será quitada em 4 prestações anuais de R\$ 50.000,00 acrescidos dos respectivos juros de cada período. Ao final do empréstimo, Fábio terá pago um total, em reais, de

- (A) 204.000.
(B) 212.000.
(C) 216.000.
(D) 240.000.
(E) 264.000.
23. Em determinada casa de espetáculos, paga-se um ingresso de R\$ 30,00 aos quais serão acrescidos R\$ 6,50 cada vez que o espectador solicitar uma bebida ou um petisco. Se, em uma mesa ocupada por 4 pessoas, o gasto total, incluindo os ingressos, foi de R\$ 198,00, a quantidade de bebidas e petiscos consumida foi de
- (A) 8.
(B) 9.
(C) 10.
(D) 11.
(E) 12.
24. O gabinete de cada vereador de certa câmara municipal é retangular, tendo 20,00 m de perímetro. O comprimento de cada gabinete é o triplo da respectiva largura. A medida desse comprimento, em metros, é igual a

- (A) 8,00.
(B) 7,75.
(C) 7,50.
(D) 5,00.
(E) 2,50.

28. A soma dos ângulos internos (S_i) de um polígono convexo é dada pela expressão $S_i = (n-2) \cdot 180^\circ$, onde n é o número de lados do polígono. A figura, fora de escala, ilustra o corte em perfil de uma das paredes de uma sala cujo teto acompanha a declividade do telhado.



Sabe-se que os três ângulos obtusos são congruentes e que as paredes são verticais com o piso horizontal. Cada ângulo obtuso mede, então,


- (A) 110° .
(B) 112° .
(C) 115° .
(D) 120° .
(E) 124° .
29. Telas de TV, de monitores de computadores, de celulares etc. têm seu tamanho expresso em polegadas, sendo que tal valor representa a medida de sua diagonal. Adota-se $1 \text{ pol} = 2,5 \text{ cm}$.

Se o telão retangular de uma TV exposta numa praça pública tem 6,0 m de largura por 4,0 m de altura, a sua diagonal mede, em polegadas,

- (A) 200.
(B) 400.
(C) 500.
(D) 600.
(E) 800.

30. A Figura (1) mostra parte do teclado de um piano com a nota **dó** identificada. Sabe-se que a escala musical é composta pelas notas naturais **dó, ré, mi, fá, sol, lá** e **si**, e as notas correspondem às teclas brancas em sequência, da esquerda para a direita.

FIGURA (1)



Na Figura (2), a seta aponta para a nota

FIGURA (2)



- (A) fá.
(B) sol.
(C) lá.
(D) si.
(E) dó.

ATUALIDADES

31. “Em ato contra Assad, Brasil ficará sem embaixador na Síria”.

A chamada de uma notícia do jornal *Folha de S. Paulo* de 9 de janeiro está relacionada à

- (A) implantação da ditadura nesse país do Oriente Médio.
- (B) política repressiva desse governo às manifestações sociais.
- (C) ruptura comercial da Síria com países do Mercosul.
- (D) aproximação política e militar desse país com a Rússia.
- (E) adoção de um modelo teológico de poder por Assad.

32. Papa Bento XVI renuncia em 28 de fevereiro: “Sinto o peso do cargo”.

O Papa justificou sua atitude como fruto

- (A) da crise econômica vivida pela Igreja Católica.
- (B) do despreparo religioso para o pontificado.
- (C) da idade avançada, que dificultava a realização de certas obrigações.
- (D) da necessidade de tomar decisões políticas para governar Roma.
- (E) dos problemas derivados pelo conflito com outras religiões.

33. “Desemprego em 2012 é o menor já registrado; renda tem alta recorde. Aumento do rendimento familiar é acompanhado de queda do número de jovens que buscam trabalho.”

(*Folha de S. Paulo*, 01.02.2013)

A frase que condiz com a manchete e com a situação do Brasil é:

- (A) No ano passado o país conheceu um grande salto econômico.
- (B) A origem desses dados está na valorização da moeda frente ao dólar.
- (C) Maior nível de emprego está associado à política de estatização.
- (D) O crescimento da renda foi maior na zona rural.
- (E) A indústria foi responsável pela queda do índice de desemprego.

34. Pode-se dizer que nos últimos anos a divisão da sociedade se aprofundou; no entanto, com a morte do presidente, eleito mais uma vez pela grande massa popular, essa cisão se agudizou e os conflitos se ampliaram no país, mesmo após a realização de novas eleições.

As informações referem-se

- (A) aos conflitos que ocorrem no Egito.
- (B) aos movimentos denominados de “primavera árabe”.
- (C) ao processo de sucessão de Hugo Chávez na Venezuela.
- (D) à ascensão de Cristina Kirchner na Argentina, após a morte do marido.
- (E) ao assassinato do líder líbio Muammar Kadafi.

35. “Como empregadas, uma parte está formalizada. Como empregadoras, a maioria contrata informalmente. A nova regra deve abalar esse importante segmento de mercado.” José Pastore, professor da USP e especialista em relações do trabalho e recursos humanos.

(*Folha de S. Paulo*, 01.03.2013)

O texto se refere à Lei que

- (A) permite licença-gestante remunerada a todas as trabalhadoras domésticas, independentemente do tempo de serviço.
- (B) abala o segmento de trabalho informal, seja ele doméstico ou empreendedor, envolvendo desde empregadas até ambulantes.
- (C) garante aos empregados domésticos todos os benefícios que os demais trabalhadores possuem, mesmo sem Carteira de Trabalho.
- (D) amplia os direitos trabalhistas das empregadas domésticas nas cidades com mais de 500 mil habitantes.
- (E) estabelece direitos como hora extra, adicional noturno e jornada máxima de trabalho a empregados domésticos.

36. “Há uma síndrome que costuma acometer as autoridades brasileiras quando se trata de inflação: a dificuldade em perceber que se trata de um esporte coletivo.

A inflação não é fruto de jogadas individuais que encantam ou irritam torcedores e dirigentes, de vilões ou heróis facilmente identificáveis, mas do trabalho de uma equipe muito grande manobrando atabalhoadamente um transatlântico”.

As frases, publicadas no jornal *O Estado de S. Paulo* em 20 de abril, são de Gustavo Franco, ex-presidente do Banco Central e, a partir delas, podemos concluir que

- (A) o aumento da inflação detectado em março foi determinado pela elevação do preço do tomate.
- (B) há uma crítica ao comportamento da área econômica do governo e não apenas à Presidente do país.
- (C) a inflação é determinada pela incompetência dos políticos, mais preocupados com as eleições.
- (D) são as diversas esferas do poder, municipal, estadual e federal, que determinam o índice de inflação.
- (E) o autor responsabiliza a sociedade pelo aumento da inflação, devido à elevação do consumo.

37. Em março deste ano o Congresso Nacional derrubou o veto da Presidente Dilma e, dessa forma, a divisão dos *royalties* deve ser mais equilibrada entre os diversos estados da federação. Tal medida determina grande perda para o Rio de Janeiro e o Espírito Santo e está associada

- (A) ao aumento das forças policiais.
- (B) à redução do IPI sobre carros.
- (C) ao combate ao tráfico de drogas.
- (D) à exploração de petróleo.
- (E) aos investimentos em turismo.

38. Em abril de 2013, o país foi impactado por um novo atentado. Parecia que o pesadelo de mais de dez anos voltaria. O pânico tomou conta das pessoas presentes no evento; nas horas seguintes, contagiou todo o país e durante semanas se manteve como uma sombra constante.

O texto faz alusão

- (A) à explosão de bombas na Maratona de Boston, nos Estados Unidos.
- (B) aos ataques do crime organizado a bases policiais em São Paulo.
- (C) à ação dos grupos paramilitares nos morros do Rio de Janeiro.
- (D) ao atentado à embaixada dos Estados Unidos na África.
- (E) à violência dos grupos de oposição a Evo Morales, na Bolívia.

39. A ex-primeira-ministra do Reino Unido Margaret Thatcher, de 87 anos, morreu em consequência de um derrame cerebral, disse nesta segunda-feira (08/04) um porta-voz da família. “É com grande pesar que Mark e Carol Thatcher anunciam que a mãe deles, baronesa Thatcher, morreu em paz depois de um acidente vascular cerebral nesta manhã”, afirmou o porta-voz, lorde Timothy Bell.

(<http://www.cartacapital.com.br/internacional/morre-ex-premie-britanica-margaret-thatcher>)

A morte de Thatcher foi noticiada com destaque, pois a primeira-ministra

- (A) foi representante máxima do neoliberalismo no Reino Unido e no mundo.
- (B) foi a principal questionadora do imperialismo dos Estados Unidos ao longo de décadas.
- (C) promoveu reformas políticas e sociais, ampliando as conquistas trabalhistas na Inglaterra.
- (D) inspirou, como líder política, diversos governantes a adotarem uma política populista.
- (E) foi a principal crítica às reformas políticas que determinaram a extinção da antiga URSS.

40. Em 2013, os países que compõem a União Europeia veem suas economias manterem o processo decadente. Mais uma vez, houve recuo do PIB (Produto Interno Bruto) e a elevação da taxa de desemprego. A crise, mais acentuada em alguns países, tem provocado intensas manifestações sociais que se dirigem contra governantes e contra a “troika”.

A expressão “troika” se refere aos

- (A) três países mais ricos do continente, Alemanha, Inglaterra e França.
- (B) gigantes da economia mundial, com suas políticas imperialistas sobre a Europa.
- (C) países que formam os BRICs, que tomaram os mercados europeus.
- (D) agentes financeiros internacionais, que fazem imposições para a concessão de recursos.
- (E) organismos internos da ONU, que se recusam a ajudar os países mais endividados.

Observe a janela do MS-Windows 7, em sua configuração original, que contém os itens da pasta São Carlos e responda às questões de números 41 a 43.



41. Assinale a alternativa que contém o nome de pelo menos um item de cada tipo relacionado a seguir:

- I. Página Web
- II. Atalho
- III. Subpasta vazia
- IV. Item do Outlook

- (A) I. Concurso Câmara São Carlos, II. Câmara, III. Câmara Municipal, IV. Analista RH.
- (B) I. Concurso Câmara São Carlos, II. Simulador Questões São Carlos, III. Câmara Municipal, IV. Comunicação Concurso.
- (C) I. Consultor Administrativo, II. Hino Nacional, III. Prefeitura São Carlos, IV. Câmara.
- (D) I. Técnico Administrativo, II. Concurso Câmara São Carlos, III. Prefeitura São Carlos, IV. Municipal.
- (E) I. Analista Administrativo, II. Comunicação Concurso, III. Prefeitura São Carlos, IV. Simulador Questões São Carlos.

42. Considerando apenas o nome dos arquivos e subpastas, assinale a alternativa que contém a quantidade de itens que serão visualizados após se digitar o argumento de pesquisa Camara OR Concurso na caixa

Pesquisar São Carlos

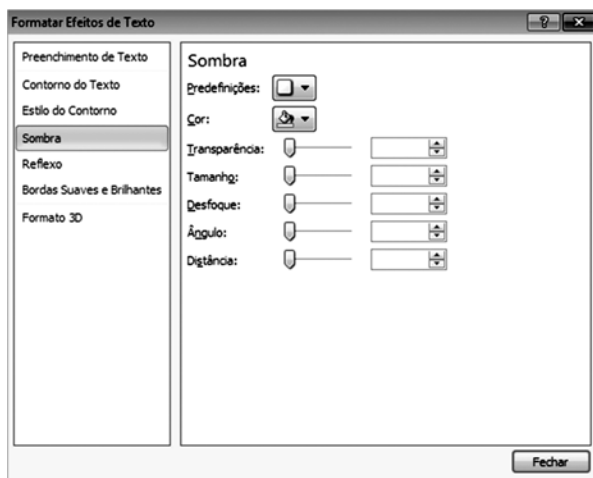
- (A) 2, sem contar subpastas.
- (B) 3, incluindo subpastas.
- (C) 4, incluindo subpastas.
- (D) 12, incluindo itens do Outlook.
- (E) 15, incluindo itens MPEG Layer 3.

43. Quanto ao modo de exibição e ao painel de visualização, podemos afirmar, respectivamente:

Foi aplicado o modo de exibição

- (A) Ícones Médios, e o painel de visualização está inativo.
- (B) Ícones Médios, e o painel de visualização está ativo.
- (C) Ícones Pequenos, e o painel de visualização está ativo.
- (D) Ícones Grandes, e o painel de visualização está inativo.
- (E) Ícones Grandes, e o painel de visualização está ativo.

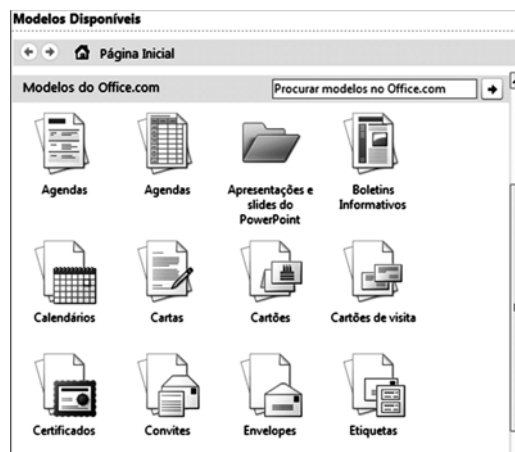
44. Considere a janela de efeitos de texto do MS-Word 2010, na sua configuração padrão.



Esta janela é acessada a partir do seguinte botão da guia de opções Página Inicial:

- (A)
- (B)
- (C)
- (D)
- (E)

45. Observe os modelos do Office.com acessados pelo MS-Word 2010, em sua configuração original, exibidos parcialmente na figura.



Estes modelos são acessados por meio da seguinte opção encontrada na guia Arquivo:

- (A) Salvar.
 - (B) Abrir.
 - (C) Opções.
 - (D) Recente.
 - (E) Novo.
46. É possível aumentar ou diminuir o *zoom* aplicado em uma planilha do MS-Excel 2010, na sua configuração padrão, utilizando a tecla
- (A) Shift e apertando o botão direito do *mouse*.
 - (B) Shift e apertando o botão esquerdo do *mouse*.
 - (C) Alt e deslocando a roda do *mouse*.
 - (D) Ctrl e deslocando a roda do *mouse*.
 - (E) Ctrl e apertando o botão direito ou esquerdo *mouse*.
47. No MS-Excel 2010, em sua configuração original, as planilhas consistem em colunas, linhas e células. Analise as seguintes perguntas:
- I. Qual dos elementos citados tem cabeçalhos em ordem alfabética, começando com A, B, C e assim por diante?
 - II. Depois das primeiras 26 letras do alfabeto, o Excel continua o cabeçalho desse elemento com quais indicadores?
- Assinale a alternativa que responde, correta e respectivamente, as perguntas I e II.
- (A) I. Célula; II. A1 a Z1.
 - (B) I. Coluna; II. AA a AZ.
 - (C) I. Coluna; II. A1 a Z1.
 - (D) I. Linha; II. AA a AZ.
 - (E) I. Linha; II. A1 a Z1.

48. No MS-PowerPoint 2010, em sua configuração original, o modo de exibição que preenche a tela com os *slides* em forma de miniaturas é
- (A) Classificação de slides.
 - (B) Normal.
 - (C) Modo de exibição de leitura.
 - (D) Apresentação de slides.
 - (E) Estrutura de tópicos.

49. Observe a imagem incluída no MS-PowerPoint 2010, na sua configuração padrão, exibida na Figura I.

FIGURA I



Note que a imagem da Figura I sofreu alteração, conforme se verifica na Figura II.

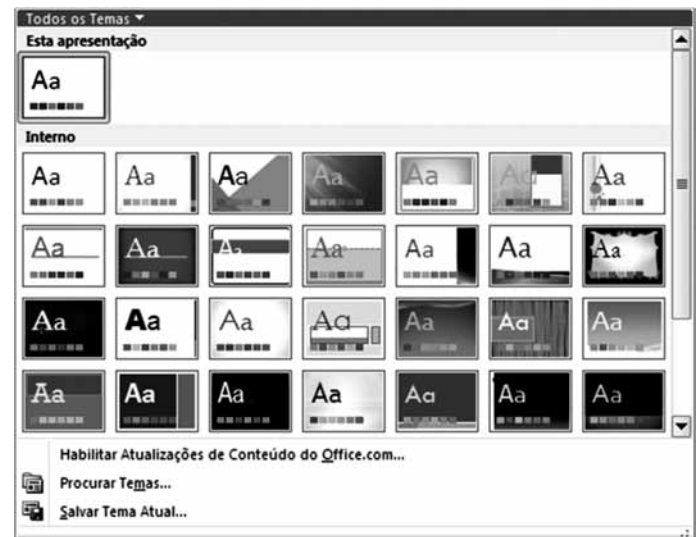
FIGURA II



A guia Formatar aparece automaticamente quando uma imagem é selecionada. Assinale a alternativa que contém a opção, disponível nessa guia, que permite transformar a imagem da Figura I naquela visualizada na Figura II.

- (A) Efeitos de Imagem ▾
- (B) Efeitos Artísticos ▾
- (C)
Cortar ▾
- (D)
Formas ▾
- (E) Layout de Imagem ▾

50. Considere a janela de Temas do MS-PowerPoint 2010, na sua configuração padrão.



Esta opção é encontrada na seguinte guia:

- (A) Exibição.
- (B) Animações.
- (C) Página Inicial.
- (D) Inserir.
- (E) Design.

