

TÉCNICO DE TV
OPERADOR DE CARACTERES
Código 115**LEIA COM ATENÇÃO AS SEGUINTE INSTRUÇÕES**

- 1 - Este caderno contém as questões da **PROVA OBJETIVA**.
- 2 - Ao receber a **Folha de Respostas da PROVA OBJETIVA**:
- confira seu nome, número de inscrição e o cargo;
 - assine, **A TINTA**, no espaço próprio indicado.

ATENÇÃO:
FOLHA DE RESPOSTA SEM ASSINATURA NÃO TEM VALIDADE.

- 3 - Ao transferir as respostas para a **Folha de Respostas**:

01 A B C D

02 A B C D

03 A B C D

04 A B C D

- use apenas caneta esferográfica azul ou preta;
- preencha, sem forçar o papel, toda a área reservada à letra correspondente à resposta solicitada em cada questão;
- assinale somente **uma** alternativa em cada questão. Sua resposta **NÃO** será computada se houver marcação de mais de uma alternativa, questões não assinaladas ou questões rasuradas.

NÃO DEIXE NENHUMA QUESTÃO SEM RESPOSTA.

A **Folha de Resposta da PROVA OBJETIVA** e o **Caderno da PROVA DISSERTATIVA** não devem ser dobrados, amassados ou rasurados.

CUIDE BEM DELES. ELES SÃO A SUA PROVA.

O tempo de duração das provas abrange a assinatura da **Folha de Respostas**, a transcrição das respostas do **Caderno de Questões da PROVA OBJETIVA** para a **Folha de Respostas**, [...]. (subitem 5.4.4).

ATENÇÃO - Nos termos do Edital nº 03/2013, "Poderá ainda ser eliminado o candidato que [...]: **portar arma(s)** no local de realização das provas [...]; **portar**, mesmo que desligados [...] **quaisquer equipamentos eletrônicos** [...] ou de **instrumentos de comunicação** interna ou externa, tais como **telefone celular** [...] entre **outros**:[...]" (subitem 9.3.39, alíneas "d", "e")

DURAÇÃO MÁXIMA DA PROVA: QUATRO HORAS

Data: ____/____/____

ATENÇÃO

Sr.(a) Candidato(a).

Antes de começar a fazer a prova, confira se este caderno contém, ao todo, **50 (cinquenta) questões objetivas** — cada uma constituída de **4 (quatro) alternativas** — assim distribuídas: **10 (dez) questões de Português, 10 (dez) questões de Atualidades, 5 (cinco) questões de Raciocínio Lógico e 25 (vinte e cinco) questões de Conhecimentos Específicos**, todas perfeitamente legíveis.

Havendo algum problema, informe ***imediatamente*** ao aplicador de provas para que ele tome as providências necessárias.

Caso V.Sa. não observe essa recomendação, ***não lhe caberá qualquer reclamação ou recurso posteriores.***

INSTRUÇÃO - As questões de 1 a 10 se referem ao texto abaixo.
Leia-o com atenção antes de responder às questões.

A televisão pública é importante para o Brasil?

Vale a pena o Estado gastar dinheiro na montagem de um sistema público de televisão quando o País tem tantas carências? Esse gasto não seria ainda mais injustificável se considerarmos que a televisão pública existente tem baixa audiência e, portanto, interessa a pouca gente? Reformar essa TV pública, para que fique atraente e aumente a audiência, não interessa apenas ao governo para promovê-lo? Não é melhor termos apenas canais comerciais, que são pagos pela publicidade privada e não oneram demasiadamente o Estado?

Analisando em profundidade a televisão brasileira e suas conexões com a vida social, econômica e política, a resposta é clara e objetiva: sim, a TV pública é importante. Mais que isso, ela é indispensável. E não se trata apenas de construir uma rede de televisão federal, sob controle do Poder Executivo, mas de promover uma ampla reforma de todo o sistema público e estatal de TV, que transcende em muito o projeto do governo federal e pode desempenhar um papel decisivo para o aperfeiçoamento e a democratização da comunicação eletrônica em nosso País.

A televisão brasileira, como se sabe, surgiu em 1950 e se desenvolveu sob exclusivo regime comercial privado até 1968, quando entrou no ar a primeira emissora educativa do País, a TV Universitária de Recife. Nesses 18 anos em que reinou sozinha, a TV comercial teve todo o tempo e as condições necessárias para se organizar de forma a prover os telespectadores com o que a legislação de radiodifusão obriga: entretenimento, informação e educação. Mas não foi o que ela fez. A TV comercial se especializou na oferta de diversão, limitou os conteúdos informativos e esqueceu quase completamente os educacionais. Desequilíbrio a programação, em favor de conteúdos de apelo mais fácil, de maior atratividade e, conseqüentemente, de maior rentabilidade.

Não fez isso, convém dizer, por algum instinto malévolo, ou por compulsão ao descumprimento da lei. Fez por ser essa a lógica da operação comercial de televisão. Se uma emissora desse tipo oferece programas à fruição do público, ela se remunera oferecendo o público que consegue prender diante da tela aos anunciantes, que lhe pagam as despesas e garantem o lucro. Assim sendo, a regra é inexorável: quanto mais audiência, mais faturamento. E se a acumulação de audiência é a condição para a rentabilidade, ela se transforma no principal objetivo da operação e tem de ser atingida a qualquer preço. Mesmo ao preço do rebaixamento dos padrões estéticos e éticos, eventualmente em níveis intoleráveis, como os da chamada “baixaria”.

A televisão pública, nascida formalmente educativa, veio como uma tentativa de reequilibrar o cenário televisual, para dar ao público o que a TV comercial sonhava: informação e, sobretudo, educação, considerados produtos televisivos de prestígio, mas de baixa ou nenhuma lucratividade. E já veio com forte viés estatal, porque a lei que a criou facultou a possibilidade de requerer outorgas de radiodifusão educativa apenas a governos, fundações e universidades. Nos últimos 40 anos, os três níveis de governo, as

fundações públicas e as universidades federais conquistaram a maior parte das outorgas educativas.

A missão de reequilibrar o sistema televisual, entretanto, não foi cumprida pela TV educativa. Cronicamente carente de recursos e apoio político, limitada por uma legislação canhestra, presa à concepção equivocada de uma tele-educação receosa de divertir enquanto ensina, a TV educativa nunca conseguiu seduzir o grande público, a ponto de rivalizar com a TV comercial nos índices de audiência. [...]

Trata-se, pois, de uma ampla estrutura de comunicação eletrônica, que vem cumprindo, em parte, relevantes serviços à educação, à cultura e à formação de cidadania no País. Mas que poderia fazer muito mais, muito melhor e beneficiando mais gente se merecesse, tanto da sociedade, quanto dos poderes públicos e até do mercado, a mesma atenção que é dispensada à TV comercial. É necessário que a TV pública promova a educação, a informação e a cidadania, com entretenimento de qualidade, sem concessões ao comercialismo e seus imperativos. O Brasil já tem uma TV comercial poderosa, reputada e amada pelo público. Pode ter um dos melhores sistemas de televisão do mundo, se a TV pública e a TV estatal também forem valorizadas e puderem efetivamente servir como ponto de equilíbrio, em ética, qualidade, compromisso social e isenção política. É o que cabe aos brasileiros construir em favor das gerações futuras.

(Priolli Jr. G.; *in Cult*, março de 2010, texto adaptado)

Questão 1

De acordo com o texto, pode ser considerada uma característica da realidade da televisão pública brasileira

- A) buscar obcecadamente audiência, ainda que em detrimento da qualidade do conteúdo.
- B) despertar relativamente pouco interesse no público potencial e não conseguir conciliar diversão e educação.
- C) não haver risco de servir-se de instrumento para a promoção do governo.
- D) priorizar, para definição da grade de programação, tão somente determinados segmentos acentuadamente elitizados da sociedade.

Questão 2

Assinale a alternativa que, de acordo com o texto, não pode ser associada ao papel esperado ou do objetivo da televisão pública.

- A) Agente de formação para a cidadania.
- B) Democratização dos veículos de comunicação eletrônica.
- C) Diversão e entretenimento nos mesmos moldes da TV comercial.
- D) Educação da população e informação.

Questão 3

Assinale a alternativa que contém uma informação que **NÃO** pode ser confirmada pelo texto.

- A) A televisão pública não cumpriu os objetivos para os quais foi criada, entre outros motivos, pela limitação orçamentária que lhe é imposta e em função da legislação.
- B) As questões formuladas no primeiro parágrafo embutem argumentos que levam a pensar, inicialmente, que a televisão pública não deveria ser uma prioridade do Governo.
- C) A audiência e, em consequência, o lucro financeiro constituem um aspecto imprescindível na definição da programação da televisão comercial brasileira.
- D) Os interesses da TV comercial vêm, em parcela significativa, ao encontro das necessidades da população, no que se refere a seu papel de agente educativo e informativo.

Questão 4

“Vale a pena o Estado gastar dinheiro na montagem de um sistema público de televisão quando o País tem tantas carências?”

Desconsideradas as alterações de sentido, assinale a alternativa que contenha uma nova redação totalmente **CORRETA** do fragmento transcrito.

- A) Considerando-se as necessidades e carências que pode ser notada País afora, vale a pena os gastos na montagem de um sistema público de televisão?
- B) Investir recursos na montagem e organização de sistemas públicos de televisão valem a pena, num momento em que surge no País tantas carências?
- C) Vale a pena os investimentos do Estado na montagem de um sistema público de televisão, tendo em vista as inúmeras carências que têm o País?
- D) Valem a pena os investimentos feitos pelo Estado para a montagem de um sistema público de televisão, quando todas as regiões do Brasil têm tantas carências?

Questão 5

Assinale a alternativa em que o trecho destacado produz sentido de **CAUSA**.

- A) “A televisão brasileira, como se sabe, surgiu em 1950 e se desenvolveu sob exclusivo regime comercial privado até 1968 [...]”.
- B) “Fez por ser essa a lógica da operação comercial de televisão.”
- C) “Pode ter um dos melhores sistemas de televisão do mundo, se a TV pública e a TV estatal também forem valorizadas [...]”.
- D) “Reformar essa TV pública, para que fique atraente e aumente a audiência, não interessa apenas ao governo para promovê-lo?”

Questão 6

Assinale a alternativa em que a forma verbal destacada **NÃO** esteja no mesmo tempo e modo que as demais.

- A) “E já veio com forte viés estatal, porque a lei que a criou faculta a possibilidade de requerer outorgas de radiodifusão educativa [...]”.
- B) “É o que cabe aos brasileiros construir, em favor das gerações futuras.”
- C) “[...] mas de promover uma ampla reforma de todo o sistema público e estatal de TV, que transcende em muito o projeto do governo federal [...]”.
- D) “[...] presa à concepção equivocada de uma tele-educação receosa de divertir enquanto ensina, a TV educativa nunca conseguiu seduzir o grande público [...]”.

Questão 7

“Nos últimos 40 anos, os três níveis de governo, as fundações públicas e as universidades federais conquistaram a maior parte das outorgas educativas.”

Assinale a alternativa que contém a **CORRETA** redação da forma passiva correspondente.

- A) A maior parte das outorgas educativas foram, nos últimos 40 anos, conquistadas pelos três níveis de governo, pelas fundações públicas e pelas universidades federais.
- B) A maior parte das outorgas educativas, nos últimos 40 anos, seria conquistada pelos três níveis de governo, as fundações públicas e as universidades federais.
- C) Nos últimos 40 anos, a maior parte das outorgas educativas teria sido conquistada pelos três níveis de governo, fundações públicas e universidades federais.
- D) Nos últimos 40 anos, os três níveis de governo, as fundações públicas e as universidades são conquistados pela maior parte das outorgas educativas.

Questão 8

Desconsideradas as alterações de sentido, assinale a alternativa em que a substituição do termo destacado pela expressão entre colchetes mantém a obrigatoriedade da utilização do sinal indicativo de crase.

- A) “[...] a mesma atenção que é dispensada à TV comercial.” [a todas as emissoras comerciais].
- B) “[...] presa à concepção equivocada de uma tele-educação receosa de divertir enquanto ensina [...] [a uma ideia equivocada].
- C) “[...] que vem cumprindo, em parte, relevantes serviços à educação, à cultura e à formação de cidadania no país. [as diferentes formas de educação e de formação de cidadãos no País].
- D) “Se uma emissora desse tipo oferece programas à fruição do público [...]” [a um público ávido por diversão].

Questão 9

Assinale, entre as opções apresentadas, aquela em que o pronome destacado corresponde ao termo transcrito, ao final de cada alternativa, entre parênteses.

- A) “[...] a resposta é clara e objetiva: sim, a TV pública é importante. Mais que isso, ela é indispensável. (a resposta).
- B) “E já veio com forte viés estatal, porque a lei que a criou faculta a possibilidade de requerer outorgas de radiodifusão educativa apenas a governos, fundações e universidades.” (a televisão pública).
- C) “Mas não foi o que ela fez.” (a legislação de radiofusão).
- D) “Reformar essa TV pública, para que fique atraente e aumente a audiência, não interessa apenas ao governo para promovê-lo?” (reformar a TV pública).

Questão 10

“Se uma emissora desse tipo oferece programas à fruição do público, **ela se remunera oferecendo o público que consegue prender diante da tela aos anunciantes, que lhe pagam as despesas e garantem o lucro.**”

Assinale a alternativa que melhor traduz o significado do fragmento destacado.

- A) a televisão tem lucro por oferecer ao público fiel os anúncios veiculados, propagandas estas que pagam as despesas e garantem o lucro dos anunciantes.
- B) a emissora de televisão ganha ao oferecer aos anunciantes o público telespectador que cativa. São esses anunciantes que pagam as despesas e garantem o lucro da emissora.
- C) despesas e garantia de lucro dos anunciantes são resultado dos anúncios que a televisão veicula para o público que ela consegue capturar.
- D) o público que a televisão prende diante da tela é que paga as despesas e garante o lucro tanto dos anunciantes, quanto o das emissoras de televisão, e esta é a principal fonte de lucratividade decorrente da propaganda.

Questão 11

Leia com atenção o trecho a seguir, retirado do texto *Modos de pensar a televisão*, do professor e pesquisador Arlindo Machado (2007).

“A partir da televisão (como já acontecia com o rádio, no plano da transmissão sonora), o registro de um espetáculo, a sua edição e a sua visualização por parte da comunidade de espectadores podem se dar simultaneamente [...].”

Segundo o autor, esse é o traço distintivo de qual operação televisiva?

- A) Da espectralidade.
- B) Da transmissão direta.
- C) Da serialização.
- D) Da programação.

Questão 12

Leia atentamente o trecho a seguir.

“Ao estudar o sistema de comunicação como um todo, veremos que os novos meios não surgem por geração espontânea, nem de modo independente. Aparecem gradualmente pela metamorfose dos meios antigos. E, quando emergem novas formas de meios de comunicação, as antigas geralmente não deixam de existir, mas continuam evoluindo e se adaptando” (FIDLER, citado por FINGER; SOUZA, 2012, p. 374).

O fragmento acima refere-se ao conceito de:

- A) *Crossmedia*.
- B) Midiamorfose.
- C) *Transmedia*.
- D) Mídiação.

Questão 13

Sobre a importância da publicidade para o desenvolvimento da televisão brasileira, são feitas as seguintes afirmativas com base no livro *História da Televisão Brasileira*.

- I. A televisão absorve a maior parte dos investimentos publicitários para os produtos mais anunciados no Brasil graças ao grande potencial de audiência.
- II. O governo brasileiro sempre esteve entre os maiores anunciantes de TV do País, aumentando sua influência política sobre as emissoras.
- III. O aumento dos investimentos publicitários contribuiu para o desenvolvimento da indústria televisiva brasileira, mas, ao mesmo tempo, aumentou sua dependência em relação a anunciantes.

Assinale a alternativa que apresenta apenas as afirmativas **CORRETAS**.

- A) I apenas.
- B) I e II apenas.
- C) II e III apenas.
- D) I, II e III.

Questão 14

Segundo Machado (2007), em seu texto *Modos de pensar a televisão*, são características estruturais e expressivas da televisão a:

- A) Programação e a telenovela.
- B) Seriação e a transmissão direta.
- C) Seriação e a espetatorialidade.
- D) Transmissão direta e a telenovela.

Questão 15

Com base no texto *O sucesso da telenovela “Pantanal” e as novas formas de ficção televisiva*, publicado no livro *História da televisão no Brasil* (2010), analise as afirmativas abaixo assinalando com **V** as **verdadeiras** e com **F** as **falsas**.

- () “Pantanal”, telenovela exibida pela TV Manchete, em 1990, mudou os rumos da teledramaturgia brasileira e inaugurou novos padrões de linguagem televisiva.
- () A telenovela “Pantanal” foi a primeira a utilizar sistematicamente a natureza e um Brasil rural como recurso cenográfico.
- () Em “Pantanal” prevalecia fortemente o modelo novelístico dos rádios marcado pela rapidez dos acontecimentos e por uma forte padronização das histórias.
- () Os novos elementos narrativos de “Pantanal” foram, principalmente, o tempo alongado dos planos, um maior aproveitamento do elenco e a presença da natureza.

Assinale a alternativa que representa a sequência **CORRETA**.

- A) F V F V.
- B) V V F F.
- C) F F V F.
- D) V V F V.

Questão 16

Considere o seguinte. Às 9 horas da noite, José chega ao apartamento de seu irmão, Pedro, chama várias vezes e não é atendido. Sentindo um forte odor de gás que sai pela porta do apartamento, José chama a polícia que, 15 minutos depois, arromba a porta e resgata os moradores, Pedro, sua mulher e seus dois filhos menores que se encontravam desacordados sob o efeito do gás.

Na hipótese e considerando o que dispõe a Constituição da República sobre a inviolabilidade de domicílio, é **CORRETO** afirmar que o ingresso forçado no imóvel é

- A) irregular, porque não poderia ter ocorrido à noite.
- B) regular, porque teve o consentimento de um parente do morador.
- C) regular, porque foi efetivado por decisão policial.
- D) regular, porque foi efetuado para prestação de socorro.

Questão 17

A Constituição não se contenta com o simples reconhecimento abstrato ou teórico dos direitos fundamentais que prevê. Ao contrário, exige que o poder público garanta o cumprimento e a observância prevendo mecanismos coercitivos tendentes a impedir sua violação.

Assinale a alternativa que apresenta a característica dos direitos fundamentais a que se refere o trecho acima.

- A) Universalidade.
- B) Complementaridade.
- C) Efetividade.
- D) Imprescritibilidade.

Questão 18

Entre aqueles que podem propor ação civil pública para proteger os interesses coletivos ou difusos das pessoas portadoras de deficiência pública **NÃO** se inclui:

- A) O cidadão em geral.
- B) O Ministério Público.
- C) A União.
- D) O Município.

Questão 19

A **COLUNA I** indica categorias ou classes de direitos fundamentais previstos na Constituição da República de 1988 e a **COLUNA II** indica alguns desses direitos fundamentais.

Correlacione as colunas **CORRETAMENTE**.

COLUNA I		COLUNA II
1. Direitos Individuais e Coletivos.	()	É livre o exercício de qualquer trabalho, ofício ou profissão, atendidas as qualificações legais.
2. Direitos Sociais.	()	O mandato eletivo poderá ser impugnado ante a Justiça Eleitoral.
3. Direitos de Nacionalidade.	()	A lei não poderá estabelecer distinção entre brasileiros natos e naturalizados, salvos nos casos previstos pela Constituição.
4. Direitos Políticos.	()	Direito à aposentaria.

Assinale a alternativa que contém a sequência **CORRETA**.

- A) 1 2 3 4.
- B) 1 4 3 2.
- C) 2 4 1 3.
- D) 2 4 3 1.

Questão 20

Segundo o Estatuto da Igualdade Racial, assinale a alternativa que apresenta as ações **CORRETAS**.

- A) São legítimos os atos de discriminação racial ou étnico-racial pelas quais se busque afirmar a prevalência de raça ou etnia sobre outra.
- B) São legítimas as ações judiciais propostas junto ao Supremo Tribunal Federal para declarar a inconstitucionalidade de leis ou atos normativos que se revelem discriminatórios.
- C) São legítimos os programas e medidas especiais adotadas pelo Estado e pela iniciativa privada para a correção de desigualdades raciais e para a promoção da igualdade de oportunidades.
- D) São legítimas as diretrizes políticas de inclusão das vítimas de desigualdade étnico-racial e da valorização da igualdade étnica.

Raciocínio Lógico

Questão 21

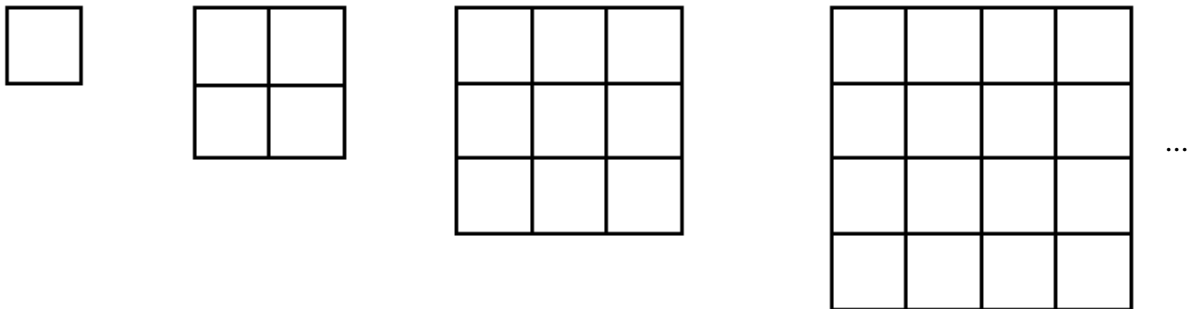
Uma avaliação de matemática com duas questões foi aplicada a uma classe com quarenta alunos. Quinze alunos acertaram as duas questões, 25 acertaram a primeira questão e 20 acertaram a segunda questão.

Quantos alunos **erraram** as duas questões?

- A) 5.
- B) 10.
- C) 15.
- D) 25.

Questão 22

Observe a sequência abaixo.



Quantos quadradinhos terá a 7ª figura?

- A) 16.
- B) 25.
- C) 36.
- D) 49.

Questão 23

Observe os produtos.

$$\begin{aligned}9 \times 9 &= 81 \\9 \times 99 &= 891 \\9 \times 999 &= 8991 \\9 \times 9999 &= 89991 \\9 \times 99999 &= 899991\end{aligned}$$

Qual será o resultado do produto de 9 por 999.999?

- A) 8999991.
- B) 89999991.
- C) 899999991.
- D) 8999999991.

Questão 24

Observe a sequência:

1, 2, 3, 4, 5, 4, 3, 2, 1, 2, 3, 4, 5, 4, 3, 2, 1, 2 ...

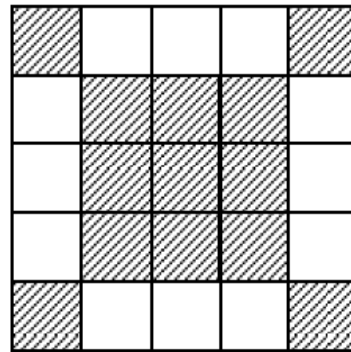
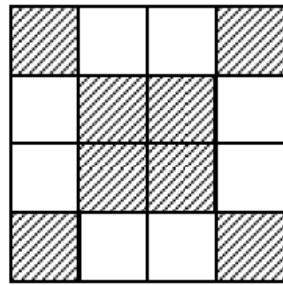
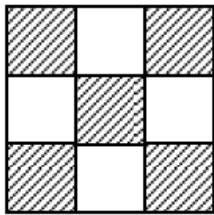
OBS: Sequência retirada da Revista EUREKA nº 19/2004 p. 7.

Obedecendo ao mesmo padrão acima, qual será o 32º termo da sequência?

- A) 5.
- B) 4.
- C) 3.
- D) 2.

Questão 25

Observe a sequência considerando como ordem o número de quadradinhos de cada lado da figura.



...

Quantos quadradinhos brancos há na figura de ordem 6?

- A) 16.
- B) 20.
- C) 24.
- D) 28.

Conhecimentos Específicos

Questão 26

Nas transmissões ao vivo utilizando uma unidade móvel de externa, é possível utilizar duas ou três câmeras de vídeo. Estas câmeras são selecionadas de forma a colocar no ar as imagens que mais interessam.

Qual o equipamento utilizado para essa seleção?

- A) Monitor de Programa.
- B) Mixer de áudio.
- C) *Frame synchronizer*.
- D) *Switcher*.

Questão 27

Hoje, no mercado audiovisual, temos vários formatos para captar e armazenar sons e imagens. A escolha deles depende do custo e benefício de cada emissora.

São formatos utilizados para captação e armazenamento, **EXCETO**:

- A) XDCam.
- B) DVCam.
- C) Betacam.
- D) Supercam.

Questão 28

Nos próximos anos, as emissoras de TV passarão a transmitir por canais digitais exclusivamente como prevê a legislação brasileira de TV Digital.

Assinale a alternativa que apresenta tecnicamente a **diferença** entre a transmissão digital e a transmissão analógica.

- A) A transmissão digital não está sujeita a nenhum tipo de interferência, não tendo, assim, os *fantasmas* nas imagens na tela.
- B) As imagens digitais têm maior definição, pois cada imagem que compõe um frame tem até o dobro de pixels do sistema analógico.
- C) No sistema digital, o sinal é amplificado possibilitando a recepção do sinal sem a necessidade de qualquer tipo de antena de recepção.
- D) No sistema digital, o suporte de armazenamento é outro. Em nenhum momento utiliza fitas de vídeo.

Questão 29

No dia a dia de uma equipe de jornalismo utilizamos o microfone *de mão*. Com ele é possível captar facilmente as sonoras dos entrevistados e a passagem dos repórteres com qualidade, agilidade e a rapidez que o trabalho de reportagem exige.

Isto é possível por se tratar de um modelo de microfone em que

- A) utilizamos microfone *boom*.
- B) a captação é omnidirecional.
- C) a captação é no padrão unidirecional.
- D) a captação é no padrão cardioide.

Questão 30

Ao utilizarmos uma ilha de edição não linear, para edição de matérias de jornalismo em uma emissora de TV, o *insert* de vídeo é usado para

- A) inserção de caracteres e recursos gráficos.
- B) inserção de transições.
- C) correção de cores das imagens por processo eletrônico.
- D) cobertura de um *off* com imagens e cenas de corte.

Questão 31

São funções básicas da mesa de corte utilizadas nos estúdios e nas unidades de externa avançada, **EXCETO**:

- A) Gerar caracteres e efeitos digitais.
- B) Selecionar a fonte de vídeo adequada a partir das várias entradas.
- C) Executar transições básicas entre as fontes de vídeo.
- D) Criar ou executar os efeitos básicos.

Questão 32

O barramento de visualização nas mesas de corte tem na sua *saída de linha* a função de

- A) monitoramento das imagens em *preview*.
- B) gravação das imagens utilizando disposto externo.
- C) saída das imagens para o ar.
- D) execução de efeitos especiais.

Questão 33

Na câmera de TV para a formação da imagem, temos a conversão do sinal luminoso em sinal elétrico. Isto ocorre em um dispositivo que comumente é conhecido como *chip*.

Dois são os tipos de sensores utilizados atualmente, são eles:

- A) RGB/ CCD.
- B) CCD/ CMOS.
- C) LCD/ RGB.
- D) RGB/ CMOS.

Questão 34

Por vezes, em transmissões ao vivo para cobertura de eventos, temos que enviar o sinal de áudio e vídeo de ponto a ponto. Podemos transmitir de um teatro, por exemplo, para os estúdios da emissora para que entre no jornal local.

Para enviar esse sinal, devemos usar

- A) um *link* de microondas.
- B) uma mesa híbrida.
- C) uma câmera *wireless*.
- D) uma antena parabólica.

Questão 35

Na câmera de vídeo, a imagem de luz captada deve ser dividida nas três cores primárias de luz: vermelho, verde e azul (RGB).

Onde essa separação de cores é feita?

- A) No dispositivo de imagem.
- B) Nas lentes objetivas.
- C) No divisor óptico.
- D) No *chip*.

Questão 36

A resolução pode ser definida como o grau de nitidez de uma imagem. A televisão de alta definição, HDTV, produz imagens com resolução superior à da televisão SD padrão.

Essa resolução é determinada por:

- A) Número de *pixels* verticais da imagem.
- B) Número de linhas e pelo número de pixels de cada linha.
- C) Número de linhas verticais.
- D) Número de *pixels* horizontais da imagem.

Questão 37

Quando gravamos em uma câmera digital no formato 720p 24, temos um formato com a seguinte configuração:

- A) Largura de 720 pixels e 24 quadros progressivos.
- B) Altura de 1.280 pixels e 24 quadros progressivos.
- C) Altura de 480 pixels e 24 quadros progressivos.
- D) Altura de 720 pixels e 24 quadros progressivos.

Questão 38

Ao utilizarmos o sinal de áudio e vídeo digitais, temos varias vantagens sobre o sistema analógico.

No que diz respeito aos ruídos e sinais eletrônicos estranhos, assinale a alternativa **CORRETA**.

- A) Nos sinais analógicos, essas interferências não são percebidas
- B) O código binário utilizado no sistema digital é praticamente imune a esse tipo de interferência.
- C) Os ruídos são mais comuns em repetidas gerações de fitas digitais.
- D) Os ruídos e sinais estranhos são muito comuns em transmissões digitais.

Questão 39

São sistemas de gravação em fita de vídeo digital, **EXCETO**:

- A) DV.
- B) *Betacam SX*.
- C) Hi8.
- D) HDTV.

Questão 40

São vantagens do sistema de gravação sem fita, em relação ao sistema com fita, **EXCETO**:

- A) Permite acesso aleatório quase instantâneo a qualquer quadro da gravação.
- B) Mais propenso a desgaste.
- C) O material editado ocupa um espaço muito menor.
- D) Facilita todo o processo de edição.

Questão 41

Quando falamos em cromaticidade nas câmeras e nos gravadores de vídeo tratamos, **respectivamente**, de:

- A) Sinais em preto e branco.
- B) Informações sobre o brilho.
- C) Atributos de matiz e saturação de cor.
- D) Sinais de vídeo digital.

Questão 42

São movimentos padrões de câmera de TV, **EXCETO**:

- A) Panorâmica vertical.
- B) *Dolly*.
- C) *Pan*.
- D) Nivelção.

Questão 43

Campo de visão refere-se a quão longe ou perto o objeto parece estar em relação à câmera.

São etapas do campo de visão, **EXCETO**:

- A) Grande plano geral.
- B) Plano médio.
- C) Plano geral ou aberto.
- D) Plano cruzado.

Questão 44

São tipos de refletores muito usados em estúdios de TV, **EXCETO**:

- A) Refletor *Fresnel*.
- B) Refletor pantógrafo.
- C) Refletor *scoop*.
- D) *Soft light*.

Questão 45

Existem dois padrões de medida de intensidade de luz: o padrão americano *foot-candle* (fc) e o europeu *lux*.

Como o padrão de TV não exige medidas precisas de intensidade, para converter valores originais de *fc* em *lux*, devemos

- A) multiplicar o valor por 10.
- B) dividir o valor por 100.
- C) dividir o valor por 10.
- D) multiplicar o valor por 100.

Questão 46

Tecnicamente chamamos de iluminante a luz que cada refletor utiliza.

São tipos básicos de iluminantes utilizados em televisão, **EXCETO**:

- A) Lâmpada de HDMI.
- B) Lâmpada fluorescente.
- C) Lâmpada incandescente.
- D) Lâmpada HMI.

Questão 47

A temperatura de cor é medida na escala Kelvin, que mede a tonalidade relativa da luz.

Qual seria a medida em °K de uma tomada externa de um dia azul e ensolarado?

- A) Entre 5700°K e 6200°K.
- B) Entre 4200°K e 5700°K.
- C) Entre 6500°K e 8000°K.
- D) Entre 3500°K e 4500°K.

Questão 48

Nos estúdios de TV, é muito comum a transmissão do sinal de áudio de forma analógica e balanceada.

Assinale a alternativa que apresenta o tipo de conexão utilizada em equipamentos profissionais de áudio para esse tipo de sinal.

- A) TRS de 1/4" (6.35mm) ou P10.
- B) RCA em 2 canais (esquerdo e direito)
- C) TRS de 1/8" (3.5mm) ou P2.
- D) XLR ou Canon de três pinos.

Questão 49

Os sinais de vídeo de luminância e crominância podem ser transportados juntos ou separados de acordo com o sistema utilizado.

Assinale a alternativa que apresenta o tipo de sinal e seus conectores quando a luminância e crominância trafegam separados.

- A) Sinal de vídeo componente com conectores RCA ou BNC.
- B) Sinal de vídeo composto com conector RCA ou BNC.
- C) Sinal de vídeo composto com conectores RCA separados em vídeo e áudio.
- D) Sinal de vídeo componente com conector do tipo RS de 3.5 mm com duas vias de áudio e uma de vídeo.

Questão 50

São funções básicas de edição simples, **EXCETO**:

- A) Combinar.
- B) Reduzir.
- C) Corrigir.
- D) Cruzar.

FOLHA DE RESPOSTAS (RASCUNHO)

01 A B C D

02 A B C D

03 A B C D

04 A B C D

05 A B C D

06 A B C D

07 A B C D

08 A B C D

09 A B C D

10 A B C D

11 A B C D

12 A B C D

13 A B C D

14 A B C D

15 A B C D

16 A B C D

17 A B C D

18 A B C D

19 A B C D

20 A B C D

21 A B C D

22 A B C D

23 A B C D

24 A B C D

25 A B C D

26 A B C D

27 A B C D

28 A B C D

29 A B C D

30 A B C D

31 A B C D

32 A B C D

33 A B C D

34 A B C D

35 A B C D

36 A B C D

37 A B C D

38 A B C D

39 A B C D

40 A B C D

41 A B C D

42 A B C D

43 A B C D

44 A B C D

45 A B C D

46 A B C D

47 A B C D

48 A B C D

49 A B C D

50 A B C D

AO TRANSFERIR ESSAS MARCAÇÕES PARA A FOLHA DE RESPOSTAS, OBSERVE AS INSTRUÇÕES ESPECÍFICAS DADAS NA CAPA DA PROVA.

USE CANETA ESFEROGRÁFICA AZUL OU PRETA.

**ATENÇÃO:
AGUARDE AUTORIZAÇÃO
PARA VIRAR O CADERNO DE PROVA.**