

PORTUGUÊS

01. Considere a piada abaixo:

O bêbado esta pendurado em um poste cantarolando, até que chega um guarda e diz:

— Desça já daí!

O bêbado desce e o guarda pergunta:

— Quem é você?

— Não se lembra de mim? Sou o mesmo de lá de cima!

Contribui(em) para a “graça” da piada:

- I. A surpresa, o desfecho inesperado, que ocorre com o último trecho do texto.
- II. A informação prévia de que se tratava realmente de um ébrio.
- III. O fato de que o ébrio não compreendeu o contexto do seu interlocutor.

Está(ão) correto(s) o(s) item(ns):

- A) I, apenas;
- B) II, apenas;
- C) I e II, apenas;
- D) I e III, apenas;
- E) I, II e III.

Considere a imagem abaixo e responda as questões 02, 03 e 04.



02. Pela imagem acima é possível concluir que:

- A) o garoto se irrita ao afirmar que tirou zero na avaliação.
- B) o garoto faz uma ameaça verbal a professora que lhe deu zero na avaliação.
- C) a professora corrige, mas não justifica o motivo do erro.
- D) a professora ao ver o garoto com uma arma de fogo se vê na obrigação de alterar o resultado da avaliação.
- E) a professora errou na nota obtida pelo aluno e achou melhor corrigi-la.

03. De acordo com a fala do garoto, podemos concluir que ocorre a predominância da função:

- A) poética
- B) metalinguística
- C) conativa
- D) expressiva
- E) fática

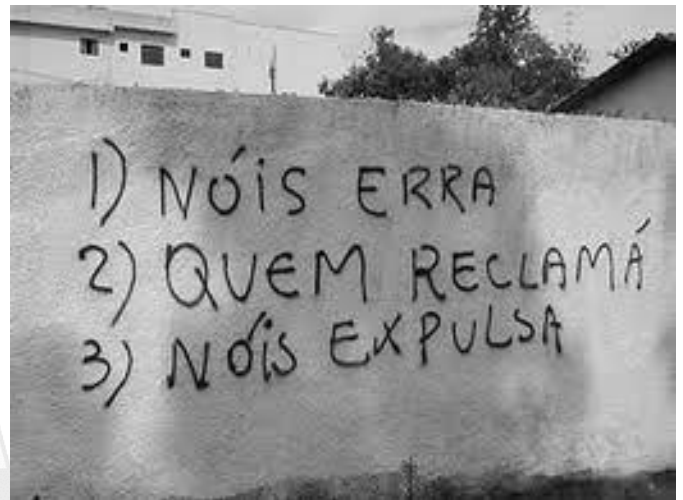
04. Ainda sobre a fala do garoto na charge acima, podemos concluir que:

- I. ocorre uma ruptura no uso da língua portuguesa;
- II. há registro de uma variante linguística social;
- III. há o registro da formalidade no uso da língua portuguesa.

Está(ão) correto(s) o(s) item(ns):

- A) I, apenas;
- B) II, apenas;
- C) I e II, apenas;
- D) I e III, apenas;
- E) I, II e III.

05. Considere a imagem abaixo e marque a alternativa correta.



Linguisticamente, a forma mais adequada para o enunciado acima seria:

- A) Nós erramos. Quem reclamar, nós expulsaremos.
- B) Nós erramos, mas quem reclamar, nós expulsamos.
- C) Nós erra, quem reclama, nós expulsa.
- D) Nós erra, mas quem reclama, nós expulsa.
- E) Nós erremos, quem reclamar, nós expulsemos.

06. Sobre o uso pronominal, marque a alternativa correta.

- A) Nada faz-me querer sair de Pernambuco.
- B) Vou-me embora para Moreilândia.
- C) Em Moreilândia, a prova se realizará neste domingo pela manhã e tarde.
- D) Anita despediu-se, me beijando a face.
- E) Em tratando-se de negócios, João está sempre atento.

07. Na expressão: “É provável que ele chegue ainda hoje.”, temos:

- A) Oração Subordinada Substantiva Subjetiva
- B) Oração Subordinada Substantiva Objetiva Direta
- C) Oração Subordinada Substantiva Objetiva Indireta
- D) Oração Subordinada Substantiva Predicativa
- E) Oração Subordinada Substantiva Apositiva

08. No estudo da linguagem, sabemos que o paralelismo consiste em uma sequência de expressões com estrutura idêntica. Com base neste contexto, marque a ÚNICA alternativa INCORRETA.

- A) Mariana vende balas e biscoitos.
- B) Pedro falou para sua mãe que iria para o cinema e depois para a festa.
- C) Fagner tem dois sonhos a se realizar: ser jogador e ficar famoso.
- D) Dona Georgita pediu para seu filho ir na farmácia e depois passasse no supermercado.
- E) Geralda afirmou ao delegado ter ido ao colégio e ter ido ao mercado.

09. Marque, entre as alternativas abaixo, a que apresenta todas as palavras separadas corretamente.

- A) sols-tí-ci-o, al-fai-a-te, ba-lei-a
- B) pneu, rá-bu-la, tungs-tê-ni-o
- C) ap-to, psi-co-se, o-bso-le-to
- D) ad-vir, ab-so-lu-to, si-le-pse
- E) pai, cog-no-me, ar-le-quim

10. Considere o fragmento textual abaixo e marque a alternativa correta.

“O rato roeu a roupa do Rei de Roma.”

Este famoso enunciado tem como predominância, quanto às figuras de linguagem:

- A) metonímia
- B) aliteração
- C) eufemismo
- D) hipérbole
- E) antítese

CONHECIMENTOS GERAIS

11. Sabemos que Pernambuco está se preparando para receber uma montadora de automóveis que irá elevar ainda mais a economia do estado. Serão milhares de ofertas de emprego a serem gerados durante a instalação da Fiat, bem como, quando do início de produção. A cidade que irá instalar a primeira montadora de automóveis no estado consiste em:

- A) Abreu e Lima
- B) Caruaru
- C) Igarassú
- D) Paulista
- E) Goiana

12. Atualmente, o presidente do Tribunal de Justiça do Estado de Pernambuco corresponde a:

- A) Des. Jones Figueirêdo Alves
- B) Des. José Fernandes de Lemos
- C) Des. Bartolomeu Bueno de Freitas Moraes
- D) Des. Jovaldo Nunes Gomes
- E) Des. Alexandre Guedes Alcoforado Assunção

13. Assinale a alternativa abaixo que apresenta, economicamente, a maior empresa brasileira em valor de mercado.

- A) Itaú
- B) Vale
- C) Bradesco

- D) Bando do Brasil
- E) Petrobras

Considere o texto a seguir e responda a questão 14.

Da manga rosa
Quero gosto e o sumo.
Melão maduro, sapoti, juá.
Jaboticaba, teu olhar noturno;
Beijo travoso de umbú cajá.
Pele macia,
Ai! carne de cajú!
Saliva doce, doce mel,
Mel de uruçú.
Linda morena,
Fruta de vez temporana,
Caldo de cana caiana,
Vem me desfrutar!
Linda morena,
Fruta de vez temporana,
Caldo de cana caiana,
Vou te desfrutar!
Morena Tropicana,
Eu quero teu sabor.
Ai! Ai! Ioiô! Ioiô!

14. Trata-se de uma das músicas mais conhecidas do meio artístico brasileiro que é de autoria de:

- A) Chico César
- B) Zé Geraldo
- C) Caetano Veloso
- D) Maria Betânia
- E) Alceu Valença

15. Todos os artistas abaixo citados são de Pernambuco, EXCETO:

- A) Alceu Valença
- B) Nando Cordel
- C) Elba Ramalho
- D) Reginaldo Rossi
- E) Geraldo Azevedo

16. É sabido que Pernambuco será uma das sedes da Copa do Mundo em 2014, inclusive com a construção de um moderno estádio de futebol exclusivo para o evento na cidade de:

- A) Recife
- B) São Lourenço da Mata
- C) Carpina
- D) Olinda
- E) Jaboatão dos Guararapes

17. Moreilândia, conforme dados do censo IBGE de 2010, está com uma população estimada em:

- A) 09.766 habitantes
- B) 11.132 habitantes
- C) 17.876 habitantes
- D) 23.445 habitantes
- E) 27.090 habitantes

18. O gentílico utilizado para quem nasce em Moreilândia corresponde a:

- A) moreirense
- B) moreilano
- C) moreiense
- D) moreilense
- E) moreilanense

19. O prefeito eleito na cidade de Moreilândia para o quadriênio 1997-2000 foi:

- A) Valdemar Peixoto de Luna
- B) Antonio Primo de Queiroz
- C) Jose Miranda Filho
- D) João Angelim Cruz
- E) Jeser de Sa Vieira

20. Entender a importância das artes plásticas, torna-se caminho para reconhecer a sensibilidade intelectual de uma pessoa. Muitas vezes, é através de uma obra de arte que se percebe a personalidade do ser humano, bem como, sua expressão de sentimento. Assinale, entre as alternativas abaixo a que apresenta uma artista plástica brasileira:

- A) Clara Nunes
- B) Anita Malfatti
- C) Chiquinha Gonzaga
- D) Clarice Lispector
- E) Cecília Meireles

CONHECIMENTOS ESPECÍFICOS

21. Deseja-se realizar o diagnóstico de um paciente com suspeita de difteria. As amostras coletadas devem ser espécimes de:

- A) Conjuntiva
- B) Sangue
- C) Urina
- D) Orofaringe
- E) Fezes

22. A anemia perniciosa se enquadra em que tipo de anemia?

- A) Por defeito de produção
- B) Por defeito de canalização
- C) Por deficiência de fatores
- D) Por depleção
- E) Por alteração morfológica dos eritrócitos

23. Numa maneira direta para o diagnóstico de micose, é feito o exame a fresco e também o exame em material clareado com uma certa solução, que é a (o):

- A) Lactofenol de Amann
- B) Líquido de Turk
- C) Álcool
- D) Giemsa
- E) Líquido de Rees e Ecker

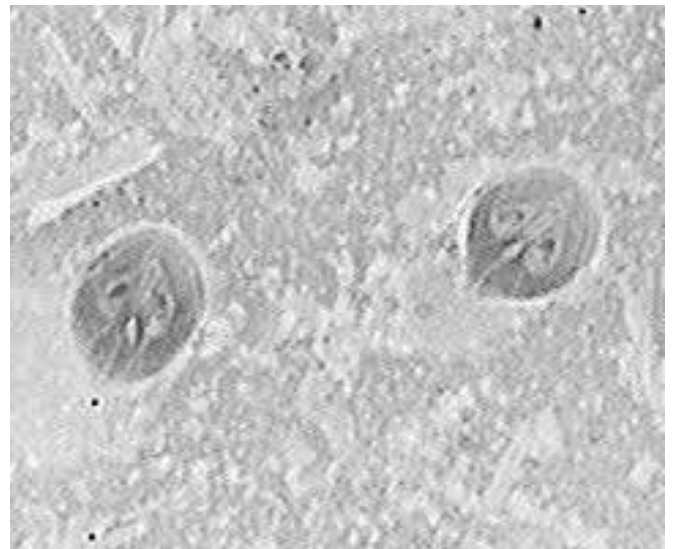
24. "Poiquilocitose" se trata de uma anomalia nas hemácias, quanto à seu (sua):

- A) Tamanho
- B) Granulação
- C) Cor
- D) Espaço vazio
- E) Forma

25. É realizada a pesquisa de coliformes de origem fecal e coliformes totais, na análise bacteriológica de alimentos e água. Por qual motivo?

- A) São bactérias e vírus existentes no solo, em abundância
- B) Causam doenças tais como a cólera e a leptospirose
- C) São parasitas do corpo humano
- D) São bactérias patogênicas
- E) São indicadores de contaminação

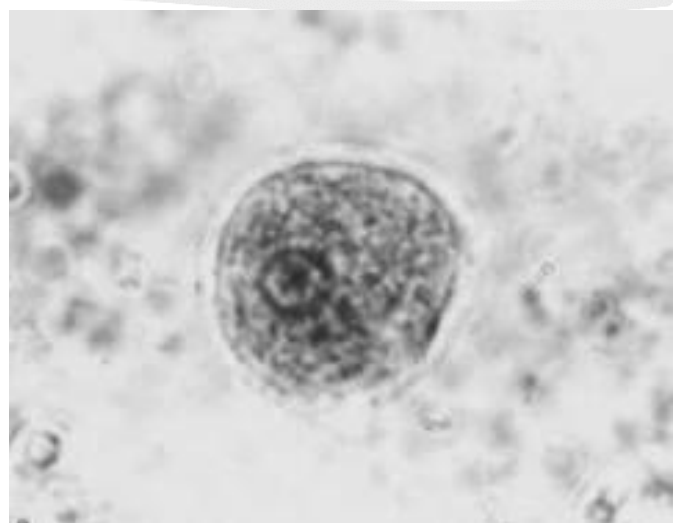
26. Identifique corretamente qual Microrganismo Patogênico é retratado pela figura abaixo:



(Fonte: ufrgs.br)

- A) Cisto de *Endolimax nana*
- B) Cisto de *Entamoeba coli*
- C) Cisto de *Entamoeba histolytica*
- D) Cisto de *Balantidium coli*
- E) Cisto de *Giardia lamblia*

27. Identifique corretamente o Microrganismo Patogênico representado na figura abaixo:



(Fonte : biomedicinapadrao.com)

- A) Cisto de *Endolimax nana*
- B) Cisto de *Entamoeba coli*
- C) Cisto de *Entamoeba histolytica*
- D) Cisto de *Balantidium coli*
- E) Cisto de *Giardia lamblia*

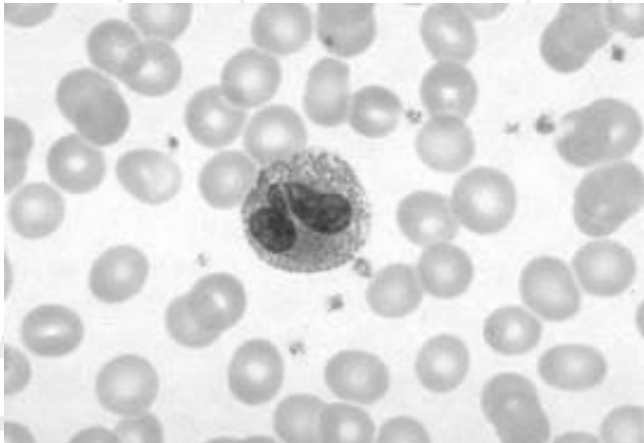
28. Identifique corretamente qual dos Microorganismos listados entre as alternativas é retratado na figura abaixo:



(Fonte : bioinfo-aula.blogspot.com)

- A) Ovo de *Schistosoma mansoni*
- B) Ovo de *Ascaris lumbricoides*
- C) Ovo de *Trichocephalus trichiura*
- D) Ovo de *Strongyloides stercoralis*
- E) Ovo de *Taenia sp*

29. Identifique corretamente que importante Componente do Sangue Humano é representado pela figura abaixo:



(Fonte : forobioquimico.com.ar)

- A) Reticulócito
- B) Eosinófilo
- C) Basófilo
- D) Neutrófilo
- E) Monócito

30. Podemos afirmar que o Método mais recomendável para fornecer o valor mais exato de uma Glicemia é o (a):

- A) Orto-toluidina
- B) Somogy-Nelson
- C) Enzimático
- D) Ogino-Knaus modificado
- E) Benedict