

PORTUGUÊS

Leia o texto abaixo para as questões de 01 a 05.

Vidinha Redonda

Esperma, óvulo, embrião, parto. Bebê, choro, sobressalto, cocô, xixi, fralda, leite, colo, sono. Doença, vômito, pavor, pediatra, remédio, preço. Murmúrio, passos, fala. Escola, lancheira, material, professora. Curiosidade, descoberta. Crescimento, desenvolvimento, pêlos pubianos, seios, curvas, menstruação, modess, cólica, atroveran, adolescência. Primeiro beijo, paixão, shopping center. Batom, esmalte, rinsagem, depilação. Namorado, pressão, intimidade, culpa. Festa, pai, ciúme, relógio, motel, desculpa, dissimulação. Faculdade, trabalho, consciência, cansaço, sossego, idade. Noivado, loja, fogão, geladeira, cama, mesa, banho, aliança, chá-de-panela. Cartório, igreja, núpcias. Sexo, trabalho, sexo, trabalho, sexo, esperma, óvulo, licença, parto.

Kátia da Costa Aguiar

01. Com base no texto acima, é correto afirmar que:

- A) apesar de muitas informações fragmentadas, trata-se da história de um adolescente.
- B) utiliza-se apenas de léxicos nominais e verbais.
- C) mesmo implícito, é possível identificar o gênero do agente do discurso.
- D) é incoerente por apresentar ausência de elementos coesivos.
- E) o mesmo apresenta redundância nas flexões verbais.

02. Sobre o texto “Vidinha Redonda” é possível concluir que:

- A) o mesmo é repleto de orações subordinadas substantivas.
- B) há registro de operadores argumentativos.
- C) utiliza-se de uma variante linguística regional.
- D) o mesmo é repleto de enunciados nominais.
- E) não há registro de peculiaridade vocabular.

03. Entre as palavras abaixo extraídas do texto, assinale a ÚNICA utilizada no texto em processo metonímico.

- A) Óvulo
- B) Modess
- C) Choro
- D) Fralda
- E) Noivado

04. Com base no texto, assinale a alternativa que caracteriza um período de maturidade no indivíduo.

- A) Esperma, óvulo, embrião, parto.
- B) Doença, vômito, pavor, pediatra, remédio, preço.
- C) Curiosidade, descoberta.
- D) Primeiro beijo, paixão, shopping center.
- E) Faculdade, trabalho, consciência, cansaço, sossego, idade.

05. A estrutura semântica do texto apresenta um caráter:

- A) conciso
- B) contraditório
- C) fragmentário
- D) redundante
- E) incoerente

Considere a charge abaixo para responder as questões 06 e 07.

Português exemplar



www.humorgasmo.com / Seu canal de humor na Web. Ou quase isso.

06. No terceiro quadrinho é possível concluir que ocorre a predominância da função:

- A) conativa
- B) metalinguística
- C) referencial
- D) fática
- E) poética

07. Quanto ao aspecto ortográfico, ocorre inadequação:

- A) no discurso da aluna e do professor;
- B) no discurso do professor;
- C) no discurso da aluna, apenas no primeiro quadrinho;
- D) no discurso da aluna, apenas no quarto quadrinho;
- E) nenhuma das alternativas.

08. Assinale a alternativa abaixo em que todas as palavras estão acentuadas corretamente.

- A) Vírus, cáries, infância
- B) Médico, órgão, Lápis
- C) enjôo, chapéu, Album
- D) Odontologo, céu, saúde
- E) Imã, armazém, mármore

09. Entre as alternativas abaixo, assinale a ÚNICA que apresenta sentido denotativo.

- A) Andressa, sem dúvida, é uma gatinha.
- B) Estas afirmações podem ter mais de um sentido.
- C) João se arriscando desse jeito entrará pelo ralo.
- D) Toda vez que Maria vem ao colégio sempre tem uma pedra no caminho.
- E) Alda está na flor da idade.

10. Entre as alternativas abaixo identifique a ÚNICA que apresenta oração com sujeito simples.

- A) Choveu muito no último verão.
- B) Bois, vacas e bezerros andavam misturados.
- C) Vejo que, realmente, estão aprendendo.
- D) Telefonaram pra você.
- E) Isso é muito bom.

CONHECIMENTOS GERAIS

11. Historicamente, a primeira construção erguida no município de Atalaia foi:

- A) a Sede da Prefeitura;
- B) a Casa Paroquial da Igreja;
- C) a Usina de Cana-De-Açúcar da Fazenda Lajes;
- D) a Capela de São José;
- E) o Museu do Banguê

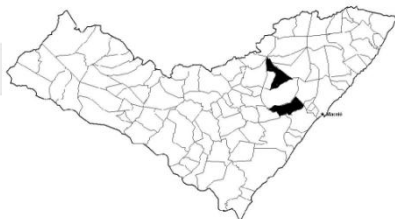
12. Entre os meios de comunicação abaixo, assinale o ÚNICO que não existe contato de reciprocidade.

- A) Celular
- B) Rádio Amador
- C) E-mail
- D) MSN
- E) Radiodifusora

13. O prefeito constitucional de um município exerce um cargo público:

- A) efetivo
- B) comissionado
- C) eletivo
- D) contratado
- E) jurídico

14. Considerando a imagem do mapa do estado de Alagoas abaixo, assinale a alternativa que apresenta os dois municípios grifados no mapa que fazem divisa com Atalaia.



- A) Pindoba ao Norte e Pilar ao Sul;
- B) Capela ao Norte e Boca da Mata ao Sul;
- C) Rio Largo ao Norte e Pilar ao Sul;
- D) Capela ao Norte e Pilar ao Sul;
- E) Rio Largo ao Norte e Maribondo ao Sul.

15. No Brasil, comemora-se no dia 07 de setembro:


- A) o Feriado de Tiradentes;
- B) a Independência do Brasil
- C) a Libertação dos Escravos
- D) o Descobrimto do Brasil
- E) a Proclamação da república

16. O gentílico de Atalaia, no Estado de Alagoas corresponde a:

- A) atalanense;
- B) atalainense;
- C) atalaiense;
- D) atalaneense;
- E) atalense.

17. A imagem abaixo corresponde a um meio de transporte:

- A) terrestre
- B) aquático
- C) lagunar
- D) aéreo
- E) férreo



18. Sabemos que vários são os serviços públicos em uma cidade. O Programa Bolsa Família em um município é controlado pelo Número de Identificação Social (NIS), que por sua vez é administrado pela:

- A) Secretaria de Recursos Humanos
- B) Secretaria da Educação
- C) Secretaria de Ação Social
- D) Chefia de Gabinete do Prefeito(a)
- E) Secretaria da Saúde

19. Todas as alternativas abaixo apresentam os profissionais ilustrados abaixo, EXCETO:



- A) Juiz
- B) Advogado
- C) Médico
- D) Operário
- E) Professor

20. Assinale a alternativa abaixo onde apresenta o mês de comemoração da Proclamação da República.

- A) Fevereiro
- B) Abril
- C) Junho
- D) Setembro
- E) Novembro

CONHECIMENTOS ESPECÍFICOS

21. A placa de sinalização abaixo refere-se a:



- A) Passagem sinalizada de pacientes;
- B) Passagem sinalizada de cadeirantes;
- C) Passagem sinalizada de idosos;
- D) Passagem sinalizada de pedestres;
- E) Passagem sinalizada de escolares.

22. A placa de sinalização abaixo indica:



- A) Confluência à esquerda;
- B) Entroncamento oblíquo à esquerda;
- C) Entrada lateral;
- D) Passagem de nível;
- E) Via lateral à esquerda.

23. Entre as placas de sinalização de trânsito, a imagem abaixo corresponde a uma placa:



- A) de advertência
- B) de regulamentação
- C) de indicação
- D) de serviços auxiliares
- E) de atrativos turísticos

24. Quando uma pista de rolamento comportar várias faixas de circulação no mesmo sentido, as da direita são destinadas para o deslocamento dos veículos:

- A) mais pesados e de maior porte;
- B) mais rápidos e de maior porte;
- C) mais rápidos e de pequeno porte;
- D) mais lentos e de maior porte;
- E) mais longos e de pequeno porte.

25. Entende-se que numa rotatória, a preferência de passagem é do veículo que:

- A) já estiver circulando na mesma;
- B) estiver em aproximação da mesma;
- C) estiver parado na mesma;
- D) estiver ao lado da mesma;
- E) estiver entrando na mesma.

26. A placa abaixo corresponde a:



- A) Hotel
- B) Pronto socorro
- C) Serviço Mecânico
- D) Restaurante
- E) Banheiro

27. A imagem abaixo corresponde a:



- A) Se beber, não dirija;
- B) Pista escorregadia;
- C) Pista sinuosa a direita;
- D) Pista chuvosa;
- E) Pista em desnível.

28. Assinale a alternativa CORRETA:

- A) Câmbio híbrido: câmbio tradicional dotado de mecanismo eletrohidráulico suplementar de atuação que, mediante controle eletrônico, promove trocas sequenciais de marchas.

- B) Câmbio manual: câmbio em que as diferentes marchas precisam ser obrigatoriamente escolhidas pelo motorista, mediante ação manual em uma alavanca, conjugado com desacoplamento/acoplamento da embreagem.
- C) Câmbio manual: tipo de câmbio em que as trocas de marchas são realizadas automaticamente, em função de dois parâmetros básicos: posição do acelerador e velocidade do veículo.
- D) Câmbio manual: câmbio especial dotado de mecanismo eletrohidráulico suplementar de atuação que, mediante controle eletrônico, promove trocas automáticas de marchas.
- E) Câmbio automático: câmbio em que as diferentes marchas precisam ser obrigatoriamente escolhidas pelo motorista, mediante ação manual em uma alavanca, conjugado com desacoplamento/acoplamento da embreagem.

29. O dispositivo destinado a reduzir o esforço do motorista para aplicar o freio de serviço, que utiliza para isso a depressão do coletor de admissão do motor, que por sua vez aciona um grande diafragma situado no interior de uma câmara especial. É denominado de:

- A) Manete
- B) Cuíca
- C) Servofreio
- D) Maneco
- E) Alavanca

30. A denominação dada a capacidade de atrito do pneu com o solo é:

- A) Frenagem;
- B) Ergonomia;
- C) Força centrífuga;
- D) Força centrípeta;
- E) Aderência.

31. Segundo o artigo 42 do Código de Trânsito Brasileiro, nenhum condutor deverá:

- A) Frear bruscamente seu veículo, salvo por razões de segurança.
- B) Frear bruscamente seu veículo, mesmo por razões de segurança.
- C) Viajar com o veículo com a lotação completa.
- D) Aumentar lentamente a velocidade de seu veículo.
- E) Diminuir lentamente a velocidade de seu veículo.

32. Sabemos que o sistema elétrico afeta diretamente a segurança do veículo, porque dele depende o bom funcionamento dos faróis, das luzes de sinalização, da buzina e até o bom funcionamento do motor. Assim sendo, fazem parte do sistema elétrico de um veículo:

- A) Ventilador, bomba d'água e mangueira rígida.
- B) Alternador, bateria e distribuidor.
- C) Radiador, alternador, bateria e distribuidor.
- D) Radiador e catalisador.
- E) Carburador e filtro de ar.

33. Marque a alternativa que não corresponde a uma peça do sistema de freio de automóveis:

- A) Piston
- B) Tambor
- C) Lona
- D) Sapatas
- E) Cilindro Mestre


34. Pela legislação brasileira, quando não existe sinalização regulamentadora em uma rodovia, a velocidade máxima permitida para automóveis, camionetas e motocicletas corresponde a:

- A) 60 km/h
- B) 70 km/h
- C) 80 km/h
- D) 90 km/h
- E) 110 km/h

35. Um dos objetivos da educação para o trânsito, conforme o Capítulo VI do Código de Trânsito Brasileiro é:

- A) fazer campanhas educativas somente de âmbito local;
- B) formar e transformar professores do ensino fundamental;
- C) modificar o comportamento do condutor, conscientizando-o para diminuir o número de acidentes na via;
- D) ensinar os condutores a interpretar as placas de trânsito;
- E) treinar multiplicadores para campanhas em nível regional.

36. A placa ilustrada abaixo corresponde a:



- A) declive acentuado;
- B) aclive acentuada;
- C) saliência ou lombada;
- D) depressão;
- E) pista irregular.

37. A placa abaixo refere-se a:



- A) Conserve-se à direita;
- B) Sentido de circulação da via;
- C) Vire à direita;
- D) Proibido virar à direita;
- E) Confluência à direita.

38. A placa de sinalização abaixo indica:



- A) Curva acentuada em "S" à direita;
- B) Curva acentuada à direita;
- C) Curva em "S" à direita;
- D) Pista sinuosa à direita;
- E) Curva à direita.

39. Com base na Resolução de Nº 26 do Conselho Nacional de Trânsito (Contran), todas as alternativas abaixo estão corretas, quanto ao transporte de carga em veículos destinados ao transporte de passageiros, EXCETO:

- A) O transporte de carga em veículos destinados ao transporte de passageiros, do tipo ônibus, microônibus, ou outras categorias, está autorizado desde que observadas as exigências da Resolução de Nº 26, bem como os regulamentos dos respectivos poderes concedentes dos serviços.
- B) A carga poderá ser acomodada em compartimento próprio, separado dos passageiros, que no ônibus é o bagageiro ou na parte superior externa, desde que bem fixada.
- C) Fica proibido o transporte de produtos considerados perigosos conforme legislação específica, bem como daqueles que, por sua forma ou natureza, comprometam a segurança do veículo, de seus ocupantes ou de terceiros.
- D) Os limites máximos de peso e dimensões da carga, serão os fixados pelas legislações existentes na esfera federal, estadual ou municipal.
- E) No caso do transporte rodoviário internacional de passageiros serão obedecidos os Tratados, Convenções ou Acordos internacionais, enquanto vinculados à República Federativa do Brasil.

40. A Resolução de Nº 278 do Conselho Nacional de Trânsito (Contran), estabelece:

- A) A regulamentação da utilização de semi-reboques por motocicletas e motonetas, define características, estabelece critérios e dá outras providências.
- B) A regulamentação dos artigos 231, X e 323 do Código de Trânsito Brasileiro, fixa metodologia de aferição de peso de veículos, estabelece percentuais de tolerância e dá outras providências.
- C) requisitos de segurança para o transporte de blocos de rochas ornamentais.
- D) a proibição da utilização de dispositivos que travem, afrouxem ou modifiquem o funcionamento dos cintos de segurança.
- E) sobre a extensão do prazo de vigência do Certificado de Inspeção Técnica Veicular quando expirado no país de trânsito ou de destino.