


PORTUGUÊS

Observe a charge abaixo e responda as questões 01, 02, 03, 04 e 05.



<http://conversasilvestre.wordpress.com/>

01. A menina que se encontra brincando no parque está conversando:

- A) sozinha;
- B) com um amigo imaginário;
- C) com um amigo que saiu do local;
- D) com sua mãe;
- E) com um fantasma.

02. A palavra “MUITOS” que aparece na charge é um:

- A) advérbio;
- B) substantivo;
- C) artigo;
- D) adjetivo;
- E) interjeição.

03. A palavra “TEM” que aparece na charge supracitada é um verbo que aparece no:

- A) imperativo;
- B) gerúndio;
- C) particípio;
- D) presente do subjuntivo;
- E) presente do indicativo.

04. A menina está brincando em um local que aparenta ser:

- A) a escola;
- B) a sala de sua casa;
- C) o seu quarto;
- D) o parque de diversão;
- E) a calçada de sua casa.

05. O masculino subsequente, hierarquicamente, da palavra “MAMÃE” é:

- A) vovô;
- B) titio;
- C) papai;
- D) padrinho;
- E) bisavô.

Analise a charge abaixo e responda as questões 06, 07, 08, 09 e 10.



<http://www.jequiereporter.com.br/blog/archives/7507>

06. A palavra “QUADRIA” escrita na forma culta da Língua Portuguesa é:

- A) quadrinha;
- B) quadria;
- C) qadrilha;
- D) quadrilha;
- E) esquadrilha.

07. A palavra “TAMO” corresponde linguisticamente a palavra “ESTAMOS” que é:

- A) verbo;
- B) pronome;
- C) adjetivo;
- D) interjeição;
- E) preposição.

08. A expressão “SÔ” que aparece no segundo balão é classificada quanto sua acentuação como:

- A) sílaba átona;
- B) sílaba tônica;
- C) esdrúxula;
- D) paroxítona;
- E) proparoxítona.

09. A palavra “NESSE” que também aparece na charge acima é um pronome:

- A) pessoal oblíquo;
- B) relativo;
- C) indefinido;
- D) demonstrativo;
- E) possessivo.

10. A expressão do segundo homem, o qual está com uma camisa listrada em perfil vermelho com branco, é de:

- A) tristeza;
- B) alegria;
- C) satisfação;
- D) raiva;
- E) surpresa.

11. A imagem ilustrativa abaixo, pode se definir como uma característica de:



<http://easytoonbr.forumeiro.org/t42-expressoes-faciais>

- A) dúvida;
- B) alegria;
- C) gratidão;
- D) tristeza;
- E) surpresa.

12. Assinale a palavra que está escrita INCORRETAMENTE de acordo com a nova regra ortográfica.

- A) Igarapé;
- B) Vatapá;
- C) Cajú;
- D) Órgão;
- E) Tênuê.

Leia o texto abaixo e responda as questões de 13 à 20.

No Shopping...

Um casal foi às compras no shopping, quando de repente, a mulher percebeu que o marido tinha desaparecido.

Irada, ligou para o celular do marido e gritou:

– "Onde diabos você se meteu?"

– "Querida, lembra-se da joalheria onde você viu o colar de diamantes e se apaixonou por ele, e que eu não tinha dinheiro no momento e disse: "Baby, será seu um dia."?"

Um pouco envergonhada e com um sorriso de orelha a orelha, olhos brilhantes... ela respondeu:

– "Sim, meu amor. Claro que me lembro. "

– "Bem, eu estou no bar ...ao lado daquela joalheria!"

(<http://emailcuriosos.blogspot.com.br/>)

13. Após a leitura do texto, é possível concluir que:

- A) a mulher demonstrou alívio ao conseguir falar com o marido pelo telefone.
- B) a mulher agiu com cordialidade ao fazer a pergunta onde o marido se encontrava.
- C) a mulher mudou seu tom de voz, imaginando ganhar o colar de diamantes naquele momento.
- D) a mulher ganhou o colar de diamantes, o qual foi referenciado.
- E) o marido se encontrava em uma joalheria próximo ao shopping.

14. Sobre o texto acima, também é possível concluir que:

- A) a joalheria foi utilizada pelo homem como referência à localização.
- B) a mulher, após a primeira fala do marido, manteve-se rude em suas palavras.
- C) o marido estava tomando um refrigerante com os amigos.
- D) a mulher estava na companhia de algumas amigas.

E) o marido utilizou do vocativo mulher para fazer referência à localização.

15. De acordo com o texto, podemos inferir que a palavra "BRILHANTES", faz referência a:

- A) shopping.
- B) olhos.
- C) diamantes.
- D) colar.
- E) mulher.

16. A palavra "IRADA" que aparece na linha 3, está funcionando, de forma contextual, como:

- A) um adjetivo para classificar o estado da mulher;
- B) um adjetivo para classificar o estado do homem;
- C) um pronome para se referir a mulher;
- D) um pronome para se referir ao homem;
- E) um substantivo que está fazendo referencia aos dois, tanto o marido quando a mulher.

17. A palavra "POUCO" que aparece na linha 6 é um advérbio de:

- A) modo;
- B) tempo;
- C) dúvida;
- D) intensidade;
- E) negação.

18. O feminino não cognato da palavra "ESPOSO" é:

- A) esposa;
- B) mulher;
- C) amante;
- D) noiva;
- E) namorada.

19. A palavra joalheria separada ortograficamente CORRETA fica:


- A) joa-lhe-ri-a
- B) jo-a-lhe-ria
- C) jo-a-lhe-ri-a
- D) joa-lhe-ria
- E) jo-alhe-ri-a

20. A palavra joalheria é classificada de acordo com o número de sílabas como:

- A) monossílabo;
- B) dissílabo;
- C) trissílabo;
- D) polissílabo;
- E) sílaba tônica.

MATEMÁTICA

Observe a imagem e responda as questões 21, 22 e 23.



<http://cenfopmaticasignificativa.wordpress.com/2010/02/09/charges-matematicas/charge-1/>

21. A conta que aparece no quadro, colocada pela professora para o aluno responder, é:

- A) uma adição;
- B) uma subtração;
- C) uma multiplicação;
- D) uma divisão;
- E) nenhuma das alternativas.

22. Chegando-se a conclusão do tipo de operação utilizada no quadro da professora, o resultado da operação é:

- A) 23.450.600
- B) 23.550.700
- C) 24.562.700
- D) 24.562.720
- E) 24.500.720

23. A quantia R\$ 24.555.000, 00 por extenso se escreve:

- A) vinte e quatro mil, quinhentos e cinquenta reais;
- B) vinte e quatro mil, quinhentos e cinquenta e cinco mil reais;
- C) vinte e quatro milhões, quinhentos e cinquenta mil reais
- D) vinte e quatro milhões, quinhentos e cinquenta e cinco mil reais;
- E) vinte e quatro bilhões, quinhentos e cinquenta e cinco milhões reais.

Com a charge abaixo responda as questões 24 e 25.



<http://www.geometras.com.br/?p=814>

24. O numeral 10 é classificado como:

- A) ordinal;
- B) cardinal;
- C) coletivo;
- D) fracionário;
- E) partitivo.

25. O numeral 10 por extenso fica:

- A) des
- B) deis
- C) dex
- D) dez
- E) deiz

26. Na ordem da imagem abaixo as formas geométricas são:



- A) quadrado, retângulo, círculo e triângulo;
- B) quadrado, triângulo, retângulo e círculo;
- C) retângulo, quadrado, círculo e triângulo;
- D) retângulo, círculo, triângulo e quadrado;
- E) quadrado, círculo, retângulo e triângulo.

27. No sistema métrico decimal a sigla “dm” corresponde ao:

- A) milímetro.
- B) centímetro;
- C) metro;
- D) decímetro;
- E) decâmetro.

28. Observando a imagem abaixo, podemos concluir que foram:



<http://alcehistoria.spaceblog.com.br/1280531/DESCOBRINDO-O-SEculo/>

- A) 905 prisioneiros;
- B) 1405 prisioneiros;
- C) 1500 prisioneiros;
- D) 1555 prisioneiros;
- E) 5150 prisioneiros.

29. O algarismo romano abaixo em indo arábico, corresponde à:



<http://www.educacional.com.br/alunos58/alunos58.asp>

- A) 10
- B) 11
- C) 12
- D) 13
- E) 15

30. Meu pai João, infelizmente faleceu. Contudo, ele deixou uma quantia no banco que será repartido entre os oito filhos. Não é muito, sabemos disso, entretanto, dará para pagar algumas continhas. Ele deixou, exatamente, R\$ 100.000,00. Sendo assim, quanto irá receber cada um de nós?

- A) 12.500,00
- B) 12.000,00
- C) 13.500,00
- D) 12.800,00
- E) 14.500,00

CONHECIMENTOS GERAIS

31. Historicamente, a primeira construção erguida no município de Atalaia foi:

- A) a Sede da Prefeitura;
- B) a Casa Paroquial da Igreja;
- C) a Usina de Cana-De-Açúcar da Fazenda Lajes;
- D) a Capela de São José;
- E) o Museu do Banguê

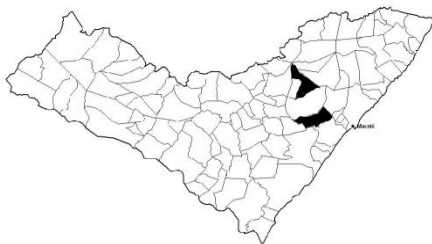
32. Entre os meios de comunicação abaixo, assinale o ÚNICO que não existe contato de reciprocidade.

- A) Celular
- B) Rádio Amador
- C) E-mail
- D) MSN
- E) Radiodifusora

33. O prefeito constitucional de um município exerce um cargo público:

- A) efetivo
- B) comissionado
- C) eletivo
- D) contratado
- E) jurídico

34. Considerando a imagem do mapa do estado de Alagoas abaixo, assinale a alternativa que apresenta os dois municípios grifados no mapa que fazem divisa com Atalaia.



- A) Pindoba ao Norte e Pilar ao Sul;
- B) Capela ao Norte e Boca da Mata ao Sul;
- C) Rio Largo ao Norte e Pilar ao Sul;
- D) Capela ao Norte e Pilar ao Sul;
- E) Rio Largo ao Norte e Maribondo ao Sul.


35. No Brasil, comemora-se no dia 07 de setembro:

- A) o Feriado de Tiradentes;
- B) a Independência do Brasil
- C) a Libertação dos Escravos
- D) o Descobrimto do Brasil
- E) a Proclamação da república

36. O gentílico de Atalaia, no Estado de Alagoas corresponde a:

- A) atalanense;
- B) atalainense;
- C) atalaiense;
- D) atalaneense;
- E) atalense.

37. A imagem abaixo corresponde a um meio de transporte:




- A) terrestre
- B) aquático
- C) lagunar
- D) aéreo
- E) férreo

38. Sabemos que vários são os serviços públicos em uma cidade. O Programa Bolsa Família em um município é controlado pelo Número de Identificação Social (NIS), que por sua vez é administrado pela:

- A) Secretaria de Recursos Humanos
- B) Secretaria da Educação
- C) Secretaria de Ação Social
- D) Chefia de Gabinete do Prefeito(a)
- E) Secretaria da Saúde

39. Todas as alternativas abaixo apresentam os profissionais ilustrados abaixo, EXCETO:



- A) Juiz
- B) Advogado
- C) Médico
- D) Operário
- E) Professor

40. Assinale a alternativa abaixo onde apresenta o mês de comemoração da Proclamação da República.

- A) Fevereiro
- B) Abril
- C) Junho
- D) Setembro
- E) Novembro