

PORTUGUÊS

Leia com atenção:

TEXTO 1

A COPA DA BICHARADA

01 A Copa do Mundo chegou ao fim e o meu investimento não compensou. Antes do início, comprei uma tartaruga vidente que me dispensaria de assistir aos jogos. Mas a Matilde (eis o nome) é lenta, coitadinha, e ainda não conseguiu chegar a
05 um resultado claro sobre o primeiro embate. Que aconteceu em junho passado.

Nada que se compare ao polvo Paul ou ao periquito Mani, as verdadeiras estrelas da competição.

O polvo, nascido na Inglaterra mas atualmente a residir em
10 aquário do norte da Alemanha, mostrou uma infalibilidade arrepiante: largado na água, ele rumou sempre para o contentor com a bandeira da equipe vencedora.

Previu tudo: as vitórias da Alemanha; e até as suas derrotas: contra a Sérvia e, nas semifinais, contra a Espanha. As
15 televisões, enlouquecidas com o fenômeno, passaram a transmitir as previsões do polvo ao vivo, com comentários animados de especialistas desportivos. E as casas de apostas, para não falar dos próprios apostadores, passaram a seguir o polvo com reverência científica. O polvo, na última aparição,
20 deu a vitória final aos espanhóis. Acertou.

E se o polvo acertou, o periquito também. Vive na Malásia, não tem a sofisticação do polvo. Mas com o seu bico psíquico consegue escolher o cartão certo com a bandeira certa. O dono garante que Mani não falha nem perdoa. Previu vitória
25 espanhola frente à Holanda. Acertou.

Como explicar toda essa paixão por animais videntes? Um cínico diria que a sociedade mediática sempre foi pródiga a infantilizar os seus consumidores; e que a moda dos bichos videntes é apenas mais um estágio na nossa gloriosa
30 caminhada rumo à demência.

Não vou tão longe. E confesso a minha admiração por Paul e por Mani. Sejamos honestos: terá havido Copa do Mundo mais medíocre do que essa?

Não creio. Olhando para trás, e depois de ter assistido a uma
35 parte generosa dos jogos, não recordo uma partida memorável, um craque memorável, um gol memorável. Nem sequer uma polémica memorável. A Copa da África do Sul foi como o som das suas vuvuzelas: irritante e entediante.

É por isso que o Brasil deveria aprender a lição em 2010 para
40 inovar em 2014. Para quê perder tempo com jogadores milionários e acomodados, que entram em campo sem nenhuma paixão pelo jogo e com diminuto brio patriótico, quando os bichos são incomparavelmente mais divertidos e imprevisíveis?

45 Na próxima Copa, o Brasil deveria só convidar a bicharada para jogar. O polvo. O periquito. E até a minha Matilde poderia dar o seu contributo, desde que não fosse como goleira da Seleção Nacional.

Fonte: <http://www1.folha.uol.com.br/colunas/joaopereiracoutinho/765410-a-copa-da-bicharada.shtml>

01 – Segundo o texto podemos afirmar que:

- A) O autor é um fanático por Copas, e ficou frustrado com a Copa de 2010.
- B) O autor não concorda com a exploração de animais.
- C) O autor critica a FIFA pela desorganização da copa de 2010.
- D) O autor critica a FIFA pela falta de motivação dos jogadores na copa.
- E) O autor mostra-se frustrado com a apresentação do mundial, e, destaca, os animais apontados no texto como os maiores destaques da copa.

02 – De acordo a transitividade verbal, marque a sequência correta.

- A) chegou - compensou - comprei (verbo Intransitivo).
- B) compare - Previu - chegar (Imperativo, Verbo transitivo direto e Imperativo).
- C) chegar - compensou - creio (Verbo transitivo direto, Imperativo e Imperativo).
- D) creio - comprei - acertou (Verbo transitivo direto, Verbo transitivo direto e Imperativo).
- E) inovar - acertou - creio (Verbo transitivo direto, Verbo transitivo direto e Verbo transitivo indireto).

03 – A partir da leitura dos fragmentos estão corretas, as seguintes alternativas:

- I. “O polvo, nascido na Inglaterra mas atualmente a residir em aquário do norte..” (Conjunção - indica que o autor lamenta que o polvo seja criado em um aquário).
- II. A Copa da África do Sul foi como o som das suas vuvuzelas: irritante e entediante. (Advérbios - adjetivo).
- III. Antes do início, comprei uma tartaruga vidente que me dispensaria de assistir aos jogos (me - ênclise verbal)
- IV. E até a minha Matilde poderia dar o seu contributo, desde que não fosse como goleira da Seleção Nacional. (preposição - com valor semântico de ironia, já que a Matilde, é uma tartaruga.
- V. Previu tudo: as vitórias da Alemanha; e até as suas derrotas. (Preposição com valores semânticos conclusivos)

Estão CORRETAS:

- A) I e II
- B) III e IV
- C) I, II e III
- D) IV e III
- E) V e IV e III

04 – De acordo com a fonética da língua portuguesa, marque a alternativa INCORRETA.

- A) Infalibilidade - chegou (14 letras e 13 fonemas / 6 letras e 5 fonemas)
- B) Partida - Inglaterra (7 letras e 7 fonemas / 10 letras e 8 fonemas)
- C) Holanda - infantilizar (7 letras e 5 fonemas / 12 letras e 10 letras)

- D) Vuvuzelas - incomparavelmente (9 letras e 9 fonemas / 17 letras e 15 fonemas)
E) Bicharada - enlouquecidas (9 letras e 8 fonemas / 13 letras e 11 fonemas)

05 – A sequência de palavras abaixo podemos classificar em (DC) Ditongos Crescentes, (DD) Ditongo decrescentes e HIATO (H). Marque a alternativa correta de acordo com a ordem.

- A) Reverência - brio - coitadinha (dc - dc - H)
B) Patriótico - Mediática - científica (H - dc - dc)
C) entediante - Nacional - gloriosa (H - H - dc)
D) Semifinais - goleira - comentários (dc - H - H)
E) Acertou - coitadinha - brio (H - H - dc)

06 – De acordo com o trecho “Um cínico diria que a sociedade mediática sempre foi pródiga a infantilizar os seus consumidores; e que a moda dos bichos videntes é apenas mais um estágio na nossa gloriosa caminhada rumo à demência.” Podemos INFERIR que:

- A) O autor elogia a sinceridade de uma pessoa de coragem.
B) O autor aponta a mídia como maior vilã da copa.
C) O autor destaca a insensatez humana, já que somos alvos.
D) O autor ironiza a aceitação dos bichos videntes, já que coloca a humanidade em um estágio de afrenia/parvoíce.
E) O autor usa incorretamente o termo “cínico e mediática”, ao invés, de sínico e midiática.

07 – No fragmento “sem nenhuma paixão pelo jogo e com diminuto brio patriótico”, o termo em destaque refere-se a:

- A) Tensão presente em todos os jogos do Brasil, já que a população brasileira é nacionalista.
B) Veemência em que os brasileiros torcem pelo futebol.
C) Ao grande entusiasmo dos torcedores quando a seleção brasileira entra em campo.
D) Apequenada serventia pela nação ao qual pertence.
E) O escasso amor pelo futebol.

08 – Nos fragmentos, os vocábulos marcados pertencem respectivamente às seguintes classes gramaticais.

1. “Sejamos honestos: terá havido Copa do Mundo mais medíocre do que essa?”
2. “Olhando para trás, e depois de ter assistido a uma parte generosa dos jogos, não recorro uma partida memorável, um craque memorável, um gol memorável.”
3. “É por isso que o Brasil deveria aprender a lição em 2010 para inovar em 2014”

- A) Os termos marcados no fragmento 1- retoma a mediocridade da copa.
B) O termo marcado do fragmento 2 é um Complemento verbal de um verbo transitivo direto.
C) Os termos marcados no fragmento 1 e 2 referem-se aos verbos dos respectivos fragmentos.

- D) O termo marcado do fragmento 2 é um Objeto Indireto e complementa o sentido do verbo assistir (V.T.D).
E) No último fragmento, o termo em destaque sintetiza a tese defendida pelo autor ao longo do texto.

09 – Os vocábulos abaixo possuem como sinônimos, respectivamente:

1. psíquico () apequenado.
2. demência () insensato
3. medíocre () ânimo
4. diminuto () vulgar
5. brio () anímico

Sequência correta:

- A) 4 5 2 3 1
B) 4 3 2 5 1
C) 5 4 3 1 2
D) 1 2 5 4 3
E) 4 2 5 3 1

10 – De acordo com as regras de acentuação vigente, podemos afirmar que a palavra está grafada incorretamente em:

- A) aquário, psíquico (regras das paroxítonas)
B) fenômeno, próxima (regras das proparoxítonas)
C) cínico, medíocre (regras das paroxítonas)
D) memorável, demência (regras das paroxítonas)
E) até, imprevisíveis (oxítona e proparoxítona)

Leia o texto a seguir:

TEXTO 2

COPA DO MUNDO X ÉTICA

- 01 A copa do mundo está demonstrando ser um meio ótimo para debater a ética.
Num mundo que cada vez mais reclama a integridade, a honra, a honestidade, o equilíbrio.
- 05 Vemos todo tipo de mau exemplo, dentro e fora do campo de futebol. Fica a questão.
Até que ponto vale conquistar uma partida e até onde se pode chegar, qual o limite ético para levantar a taça? Neste domingo, no jogo do Brasil pudemos ver várias
- 10 demonstrações torpes de conduta de pessoas que deveriam ser exemplos, principalmente às crianças e jovens, no entanto demonstraram uma selvageria, fingimento e palavrões.
Tudo com um único objetivo, vencer.
- 15 O futebol foi um exemplo triste de como se comporta um grupo que tem o objetivo vencer sem se preocupar que o mérito, a ética e a boa conduta não podem ser prescindido.
Quando um jogador deixa os cravos da chuteira para o
- 20 adversário chutar e isso poderá provocar uma perna quebrada e o jogador faltoso tem consciência disso e

o faz, percebe-se o comportamento selvagem que a competição pelo desejo de vencer leva as pessoas.

Quando um jogador finge ser atingido, simula ter sofrido uma falta, dando uma de “esperto”, na verdade está sendo um mau exemplo para um mundo inteiro.

Se isso faz parte do futebol, então o futebol é um grande erro na sociedade, pois o esporte deveria despertar o que há de mais nobre nas pessoas.

Se para conquistar um gol, é preciso quebrar as regras e usar os braços ou derrubar o adversário é preciso repensar esse esporte.

Se um técnico que deveria ser exemplo passa todo o tempo de entrevista xingando e ofendendo um repórter por ser um destemperado, esse esporte tem que ser repensado, ao menos com as crianças e jovens que adoram mais a algazarra, a festividade do gol.

Todos ligados a esse esporte ganham fábulas de dinheiro e pecam nas atitudes grotescas que qualquer pessoa em sã consciência se envergonharia de fazer, principalmente em público. Essa copa é sem dúvida uma ótima matéria para se discutir com os jovens...

Até que ponto da ética, da moral, da civilidade pode-se ultrapassar para poder gritar campeão.

Fonte: <http://almadeeducador.blogspot.com/2010/06/copa-do-undo-x-etica.html>.

11 – De acordo com os Substantivos e com o processo de flexão da língua Portuguesa, é correto afirmarmos que:

- A) Todos / ligados - Substantivos masculinos.
- B) adversário / fábulas - Desinência de gênero masculino e feminino.
- C) crianças / grotescas - Substantivo comum de dois gêneros e desinência de gênero feminino, mais desinência de número.
- D) perna / destemperado - Vogal temática nominal / desinência de gênero masculino.
- E) jovens / jogador - Substantivos masculinos comum de dois gêneros.

12 – A partir das regras de concordância marque a alternativa correta.

- A) “Neste domingo, no jogo do Brasil pudemos ver várias demonstrações (linha 8) – retoma o termo anterior.
- B) Se isso faz parte do futebol (linha 27) - refere-se as más ações humanas presentes no futebol e citadas no parágrafo anterior.
- C) “... isso poderá provocar uma perna quebrada...” (linha 20) - é anafórico e retoma algo que já foi mencionado. Tendo o mesmo valor semântico da alternativa anterior.
- D) “é preciso repensar esse esporte..” (linha 31) - anuncia algo que está por vir, e refere-se as ações humanas.
- E) “Essa copa é sem dúvida uma ótima matéria para se discutir com os jovens (linha 41) - refere-se ao termo “uma ótima matéria”.

13 – Nos fragmentos:

1. “Até que ponto vale conquistar uma partida e até onde se pode chegar, qual o limite ético para levantar a taça?”

2. “Até que ponto da ética, da moral, da civilidade pode-se ultrapassar para poder gritar campeão.”


- () O termo grifado refere-se aos valores morais.
- () Categorias e valores relativos a sentimentos.
- () Diz-se de categorias e valores utilizados na descrição e análise realizadas pelo observador, e que não correspondem, necessariamente, àqueles que vigoram na sociedade ou cultura em estudo.
- () ética e moral são termos distintos que não há nenhum tipo de relação entre os seus valores semânticos.
- () A ética refere-se aos estudo dos juízos de apreciação referentes à conduta humana suscetível de qualificação do ponto de vista do bem e do mal, seja relativamente a determinada sociedade, seja de modo absoluto.

A sequência correta é:

- A) VVFFV
- B) FFVVF
- C) VFVVF
- D) FFVFF
- E) FFVVF

Leia o texto abaixo para responder as questões que se seguem.

Texto 3



Fonte: <http://images.orkut.com/orkut/photos/>

14 – A partir da leitura do texto 1 e 2 podemos afirmar que:


- I. O texto 1 diverge do texto 2, já que não há nenhum elemento em comum.
- II. Na imagem 1, do texto, percebemos uma dialogicidade com o texto 1, já que temos a figura do Polvo Paul, protagonista do texto 1.
- III. O texto 2 possui duas possíveis leituras, a primeira a certeza da vitória da candidata Dilma, escolhida pelo polvo (analogicamente comparada ao povo = população)
- IV. Na imagem 2, do texto, o candidato Serra desmascara o polvo, que possui como imagem real o Lula, atribuindo, assim, a ele o domínio sobre a escolha, e conseqüentemente, manipulando o resultado.
- V. A segunda imagem enfatiza a versão que o povo (polvo), está com LULA, já que por analogia o polvo é a população brasileira que decidirá o resultado.

Temos como alternativas corretas:

- A) I e II
- B) III e IV
- C) I, II e III
- D) III, IV e V
- E) Apenas V está correta.

15 – O Texto 4 e 5, respectivamente, dialoga com o texto 1 e 2, já que tem a mesma temática. Partindo dessa afirmativa. Marque V (verdadeiro) ou F (falso).

TEXTO 4



TEXTO 5



Fonte: <http://www.acharge.com.br/index.htm>

- () O texto 4 e o 5 é uma crítica social.
- () O texto 5 demonstra que o Flamengo é o maior time do Brasil
- () O texto 4 dialoga com a temática do texto 1.
- () O texto 5 é uma crítica a impunidade no Brasil.
- () O texto 4 desconsidera o desfecho do texto 1.

Sequência CORRETA:

- A) FFVVF
- B) FFVFF
- C) VVFFV
- D) FVFFF
- E) VVVFF

MATEMÁTICA

16 – Um pacote de batatas contém o dobro de batatas de outro pacote. Se o total de batatas é 96, quantas batatas têm o pacote menor?

- A) 64
- B) 42
- C) 36
- D) 34
- E) 32

17 – Numa sala de aula temos os seguintes conjuntos:

- A: Conjunto formado pelos meninos;
- B: Conjunto formado pelos alunos aprovados.

Assinale a alternativa que equivale ao conjunto $A - B$:

- A) Meninas reprovadas
- B) Meninas Aprovadas
- C) Meninos Reprovados
- D) Meninos Aprovados
- E) Alunos Aprovados

18 – Sabe-se que com três palitos de fósforo formamos um triângulo, com cinco palitos dois triângulos, com sete palitos três triângulos, e assim sucessivamente. Então, podemos afirmar que com 51 palitos, podemos formar:

- A) 20 triângulos
- B) 21 triângulos
- C) 23 triângulos
- D) 24 triângulos
- E) 25 triângulos

19 – Chama-se de diagonal de um polígono um segmento de reta que liga dois de seus vértices que não seja um dos lados do polígono. Dessa forma podemos afirmar que o pentágono tem:

- A) 5 diagonais
- B) 6 diagonais
- C) 8 diagonais
- D) 9 diagonais
- E) 10 diagonais

20 – Numa determinada Padaria da região 3 pãezinhos custam 66 centavos de real. Dessa forma, se comprei 12 pãezinhos e paguei com uma nota de R\$ 5,00, receberei de troco:

- A) R\$ 2,64
- B) R\$ 2,36
- C) R\$ 2,66
- D) R\$ 2,46
- E) R\$ 2,64

21 – Em um restaurante há 5 garçons. No final do dia, as gorjetas recebidas são repartidas igualmente entre eles. Em determinado dia, veja quanto cada um recebeu:

A: R\$ 20,00 B: R\$ 25,00 C: R\$ 30,00 D: R\$ 35,00 E: R\$ 40,00

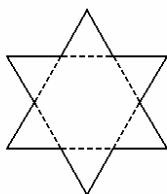
A quantia em R\$ que cada um recebeu no final de expediente foi de:

- A) 20
- B) 30
- C) 70
- D) 40
- E) 50

22 – Um quadrado e um retângulo têm áreas iguais. Se o retângulo mede 25cm x 16cm, quanto mede o lado do quadrado?

- A) 18cm
- B) 16cm
- C) 22cm
- D) 20cm
- E) 24cm

23 – Para formar uma estrela regular de seis pontas foram superpostos dois triângulos equiláteros, como mostra a figura abaixo. O nome do polígono convexo formado pelos lados dos triângulos é:



- A) Pentágono
- B) Octógono
- C) Hexágono
- D) Trapézio
- E) Heptágono

24 – Dois números naturais consecutivos somam 55. Então, a metade do menor deles é:

- A) 16
- B) 18
- C) 14
- D) 12
- E) 20

25 – Observe a tabela abaixo:

X	2	4	C
Y	3	B	2
X+Y	A	7	6

É correto afirmar que o valor de $A + C - B$ é:

- A) 10
- B) 5
- C) 12
- D) 4
- E) 6

26 – O valor da expressão numérica $(6 \times 3 - 4) + 10 : 5$ é:

- A) 8
- B) 3
- C) 12
- D) 16
- E) 6

27 – Numa classe há 7 fileiras com 6 carteiras em cada uma e 2 fileiras com 6 carteiras em cada uma. Determinado dia compareceu apenas 42 alunos, quantas carteiras ficaram vazias?

- A) 8
- B) 10
- C) 12
- D) 14
- E) 16

28 – O triplo do antecessor de um número é 18. Qual é o número?

- A) 6
- B) 7
- C) 8
- D) 5
- E) 4

29 – O número Romano MCX no nosso sistema de numeração indo-arábico representa:

- A) 1110
- B) 1010
- C) 110
- D) 1111
- E) 1011

30 – Numa corrida de meia maratona são percorridos pelos atletas uma distância de 21 km. Com base no sistema métrico decimal, é correto afirmar então que essa distância equivale a:

- A) 2.100 metros
- B) 21.000 centímetros
- C) 2.100 centímetros
- D) 21.000 metros
- E) 21.000.000 centímetros

CONHECIMENTOS GERAIS

31 – Em janeiro acontece a tradicional festa em Jaguariúna que é comemorada na comunidade de:

- A) São Pedro;
- B) São Joaquim;
- C) São Sebastião;
- D) Santo Antônio;
- E) Santo Expedito.

32 – A origem do nome Jaguariúna é de origem:

- A) Tupinambá;
- B) Tabajara;
- C) Tumbalalá;
- D) Tupy;
- E) Ibimirim.

33 – No ano de 1953 em Jaguariúna formava-se uma comissão que estudaria a possibilidade de:

- A) pleito eleitoral;
- B) formação de comissão de vereadores;
- C) emancipação política;
- D) mudar o nome do município;
- E) aumentar a geografia.

34 – O gentílico de Jaguariúna é:

- A) jaguariunense;
- B) jaguarinense;
- C) juaguariunense;
- D) jaguarinense;
- E) juaguariunense.

35 – Em sua emancipação a cidade de Jaguariúna foi desmembrada do município de:

- A) Campinas;
- B) Pedreiras;
- C) Santo Antônio da Posse;
- D) Pirassununga;
- E) Mogi Mirim.

36 – Em 03 de maio de 1875 foi inaugurada a Estrada de Ferro de Mogiana, que liga Jaguariúna a Mogi Mirim. A pessoa ilustre que veio fazer essa inauguração foi:

- A) D. Pedro I;
- B) D. Pedro II;
- C) Marechal Deodoro da Fonseca;
- D) Princesa Isabel;
- E) José Clemente.

37 – A história de Jaguariúna conta que o seu nome foi oficializado em:

- A) 1943
- B) 1944

- C) 1945
- D) 1946
- E) 1947

38 – Leia atentamente o hino da cidade de Jaguariúna. O autor da letra desse hino é:

*Instrumento de paz e progresso
Poderosa e gloriosa coluna
Deus te dê sempre muito sucesso
Jaguariúna, Jaguariúna.*

*Jaguariúna nossa emoção, nossa bandeira,
nossa canção
Jaguariúna nossa emoção, nossa bandeira,
nossa canção*

*Os teus filhos cantando felizes
Num sublime coral à voz una,
Enaltecem as tuas raízes,
Jaguariúna
Jaguariúna*

*Jaguariúna nossa emoção, nossa bandeira,
Nossa canção
Jaguariúna nossa emoção, nossa bandeira,
Nossa canção*

*Do trabalho e da paz alicerce
Do progresso e da ordem tribuna
Cante o rio que vibra em teu solo
Jaguariúna, Jaguariúna*

*Jaguariúna nossa emoção, nossa bandeira,
nossa canção
Jaguariúna nossa emoção, nossa bandeira,
nossa canção*

- A) Guerreiro Kirche;
- B) Dimas Lúcio pires;
- C) Antônio Joaquim Gomes;
- D) Suzana Barreto Ribeiro;
- E) Gióa Junior.

39 – No brasão do município de Jaguariúna a faixa ondata em azul significa:

- A) o rio Jaguarý;
- B) a presença das aves na cidade;
- C) o trabalho;
- D) a onça, que está presente no nome da cidade;
- E) o céu límpido.

40 – Assinale a alternativa em que aparece o nome do quarto prefeito da cidade de Jaguariúna.

- A) Pedro Silveira Martins Júnior;
- B) Adone Donetti;
- C) Luis Fernandes Custódio;
- D) Laércio José Gothardo;
- E) Joaquim Pires Sobrinho.

41 – Na imagem abaixo o senhor faz referência a um meio de transporte considerado muito saudável. A pessoa que conduz esse transporte é um:



<http://www.google.com.br>

- A) motorista;
- B) motoqueiro;
- C) ciclista;
- D) maquinista;
- E) pedestre.

42 – Um município pode ser dividido em:

- I rural
- II urbano
- III turístico

Estão corretos os itens:

- A) I, apenas;
- B) II, apenas;
- C) I e II;
- D) III, apenas;
- E) I, II e III.

43 – Assinale a única alternativa em que **não** aparece um município brasileiro.

- A) Segés;
- B) Seridó;
- C) Sergipe;
- D) Serra Azul;
- E) Serra Alta.

44 – Em 22 de agosto é comemorado o dia do (a):

- A) funcionário público;
- B) artesão;
- C) bibliotecário;
- D) folclore;
- E) fundação de Jaguariúna.

45 – Aponte a única alternativa em que aparece um meio de comunicação que é somente sonoro.

- A) internet;
- B) televisão;
- C) CD-ROM;
- D) jornal;
- E) Podcast.

46 – A imagem abaixo faz referência ao poder:



Charge de Brum para o "Correio da Tarde"

<http://www.google.com.br>

- A) Legislativo;
- B) Executivo;
- C) Judiciário;
- D) Montesquiano;
- E) Administrativo.

47 – Assinale a alternativa em que não aparece um tipo de extrativismo animal.

- A) carnes bovinas;
- B) carnes suínas;
- C) milho;
- D) frangos;
- E) agulhão.

48 – Assinale a alternativa em que não aparece um meio de transporte.

- A) espacial;
- B) tubular;
- C) humano;
- D) animal;
- E) Nenhuma das respostas.

49 – Aponte a alternativa em que tem um veículo de tração humana.

- A) patinação sobre rodas;
- B) navio petroleiro;
- C) ônibus;
- D) teleféricos;
- E) motocicletas.

50 – O serviço público em uma de suas características aparece o coletivismo. Marque a única alternativa em que não aparece um serviço público essencial.

- A) serviço de água;
- B) serviço de telefonia móvel;
- C) serviço de esgoto;
- D) serviço de saúde;
- E) serviço de compensação bancária.