



# REGIME PRÓPRIO DE PREVIDÊNCIA SOCIAL

MUNICÍPIO DE PALMEIRA

## TÉCNICO ADMINISTRATIVO

### INSTRUÇÕES

(Estas instruções passam a fazer parte do Edital n.º 001/2012 do Regime Próprio de Previdência Social do Município de Palmeira.)

01. Deixe sobre a carteira escolar apenas o material estritamente necessário para a realização da prova (caneta, lápis, borracha e apontador) e a Cédula de Identidade.
02. No decorrer da prova, você assinará a **lista de presença**.
03. Você receberá do Fiscal os seguintes materiais:
  - a) **este caderno de prova**; e
  - b) **a folha de respostas**.

### CADERNO DE PROVA


04. Este caderno de prova deve conter **40 (quarenta) questões**, numeradas de 01 a 40. Confira-o **antes** de iniciar a prova. Caso encontre algum defeito, levante o braço e aguarde a chegada do Fiscal. Após a prova ser iniciada, não será aceita qualquer reclamação sobre falhas na impressão e/ou montagem.
05. Em cada questão, somente **UMA alternativa será aceita como resposta**.
06. A interpretação das questões é parte integrante da prova. **Evite perguntas**.
07. A prova é **individual**. É vedada a comunicação entre os candidatos durante a prova.

### FOLHA DE RESPOSTAS

08. **Confira se o seu nome, número de inscrição e número de sua identidade** estão corretos na folha de respostas. Caso contrário, notifique imediatamente o Fiscal.
09. Não amasse, nem dobre a folha de respostas. **Preencha-a com caneta esferográfica azul ou preta, escrita grossa**. Não faça uso de borracha ou corretivo.
10. A marcação na folha de respostas é de inteira **responsabilidade do candidato**.
11. Procure **responder a todas as questões**. As questões não respondidas, com mais de uma resposta ou preenchidas em desacordo com as instruções da folha de respostas serão consideradas nulas.
12. Ao terminar a prova, **devolva ao Fiscal a folha de respostas**. Após a entrega, **retire-se do local de prova**.

### LEMBRETES IMPORTANTES

13. **Guarde o seu relógio** antes do início da prova. O tempo de realização da prova será controlado pelo Fiscal de sala.
14. **Desligue o seu telefone celular** antes do início da prova e guarde-o.
15. **Tire o boné** antes do início da prova e guarde-o.
16. Você somente poderá **retirar-se da sala de provas** após decorrida 1 (uma) hora de seu início.
17. Você poderá levar o seu caderno de prova **somente após duas horas do início da prova**.
18. **Duração da prova**: 03h (três horas), já incluído o tempo destinado à identificação do candidato e ao preenchimento da folha de respostas.
19. Os **03 (três) últimos candidatos** de cada sala deverão entregar a folha de respostas ao mesmo tempo, assinar o **Termo de Encerramento de Prova** e retirar-se, todos juntos, da sala.
20. A **desobediência** a qualquer uma das determinações destas instruções ou das constantes da folha de respostas **poderá implicar a anulação da sua prova**.



Identidade com foto  
sobre a carteira escolar

- Somente **UMA**  
 resposta certa  
 em cada ques-  
 tão. Leia atenta-  
 mente e mar-  
 que a que achar  
correta.



CERTO

Errado



Não use



Não use



Não use



Elaboração: CEC – Núcleo de Concursos

É permitida a reprodução de questões desta prova, desde que citada a fonte.



APLICAÇÃO: 27/05/2012





# REGIME PRÓPRIO DE PREVIDÊNCIA SOCIAL

## MUNICÍPIO DE PALMEIRA

---

### LÍNGUA PORTUGUESA

O texto a seguir servirá de base para você responder às questões de 1 a 5:

#### Texto I

#### Dr. House e o positivismo

O senso comum do cientista e do profissional liberal diz a seguinte regra: deixe de fora as paixões e as intrigas e busque tratar cada caso ou situação de modo objetivo. Por essa regra, o médico, por exemplo, deve concentrar sua atenção exclusivamente na doença, e esta é entendida como o que se manifesta em um setor do corpo ou do psíquico (o que vale para o advogado, o engenheiro, o professor, etc.).

O Dr. House\* subverte esse princípio de ouro do positivismo: ele potencializa a intriga, a fofoca e mistura tudo em um caldeirão de emoções no qual ele próprio vive e para onde arrasta toda a sua equipe e, não raro, uma boa parte do hospital e da família do doente. Ele aposta que o caldeirão que pesa contra todo o nascimento de qualquer objetividade é que produzirá a solução objetiva do caso em questão – e ele não erra nunca.

Por que o Dr. House não erra, mesmo fazendo tudo que é o contrário do bom senso e da filosofia metodológica que guia a ciência? Simples: os médicos que escrevem a série parecem querer realmente subverter o que se pensa academicamente da medicina ou de outras profissões liberais. Tendo ou não alguma visão filosófica um pouco mais elaborada – e isso eu não sei –, o fato é que eles, como escritores que conhecem bem o cotidiano do hospital, puseram na praça um médico que é um bom investigador de casos e, no entanto, aparentemente não trabalha com o chamado “método científico” dentro de seus cânones estabelecidos no final do século XIX.

Assim, o Dr. House é um bom exemplo para a filosofia contemporânea, seja pela abordagem americana, de Rorty, ou pela abordagem alemã, de Habermas (neste caso, ao menos em parte), pois em ambas o conhecimento é visto como do âmbito da intersubjetividade e não dos polos sujeito e objeto. House é o médico que potencializa a liberdade para que a interação das pessoas seja a mais rica possível, e ele aposta que desta situação emergirão boas chances de se chegar a um diagnóstico verdadeiro.

Paulo Ghirdelli Jr., filósofo, escritor e professor. 23/06/2010

Disponível em: <<http://ghirdelli.pro.br/2010/06/23/dr-house-o-anti-positivismo/>>. Acesso em 15 mai. 2012.

\* House é uma série de tevê de investigação, em que o herói é um médico polêmico, irreverente e antissocial que não confia em ninguém, muito menos em seus pacientes. Dr. House formou uma excelente equipe de excelentes médicos para diagnosticar doenças em casos misteriosos e já desacreditados. Somente pacientes em estado crítico são examinados por esse time, sempre disposto a descobrir a causa dos males para salvar vidas, seja através das vias tradicionais ou fazendo uso de métodos pouco tradicionais.

**01** Levando-se em consideração as informações do texto I, assinale a alternativa que contém um comentário **INCORRETO** sobre ele.

- A) Dr. House, em seu trabalho, leva em conta também a emoção para solucionar seus casos.
- B) Dr. House concentra sua atenção exclusivamente na doença, por isso não erra nunca a solução para os casos que trata.
- C) Os autores da série citada no texto são médicos que expressam, por meio de seu personagem, Dr. House, ideias que questionam a medicina tradicional.
- D) Dr. House é um personagem que se utiliza de métodos pouco convencionais para solucionar seus casos.
- E) O personagem Dr. House defende a ideia de que um bom diagnóstico pode ser produzido a partir da interação das pessoas.



**02** Observe o trecho a seguir, extraído do texto I:

Ele aposta que o caldeirão que pesa contra todo o nascimento de qualquer objetividade é que produzirá a solução objetiva do caso em questão – e ele não erra nunca.

Levando-se em conta o texto I como um todo, analise as afirmações a seguir em relação ao trecho acima:

- I. O caldeirão a que se refere o texto acima é um caldeirão de emoções em que House não se envolve.
- II. Dr. House não quer a solução objetiva dos casos que trata.
- III. Para atingir um diagnóstico objetivo, Dr. House incentiva interações de que participam emoções e paixões.

Está(ão) correta(s):

- A) somente I
- B) somente II
- C) somente III
- D) Somente I e II
- E) somente II e III

**03** Levando-se em conta o texto I, julgue as afirmações a seguir, assinalando (V) para o que for verdadeiro e (F) para o que for falso em relação a ele.

- ( ) Em “esta é entendida”, no primeiro parágrafo, o pronome “esta” diz respeito à palavra “regra”.
- ( ) Em “Ele aposta”, no segundo parágrafo, o pronome “Ele” se refere a “Dr. House”.
- ( ) Em “e isso eu não sei”, no terceiro parágrafo, o pronome “isso” diz respeito ao fato de os médicos que escrevem a série terem ou não alguma visão filosófica um pouco mais elaborada.
- ( ) Em “neste caso, ao menos em parte”, no último parágrafo, a expressão “neste caso” refere-se à abordagem alemã, de Habermas.

Assinale a sequência correta, de cima para baixo:

- A) F – V – V – V
- B) V – V – F – F
- C) V – F – V – F
- D) F – V – F – F
- E) V – F – F – V

**04** Assinale a frase em que houve uma INCORREÇÃO ortográfica no(s) elemento(s) destacado(s):

- A) O Dr. House não erra, mesmo fazendo tudo que é o contrário do bom senso e da filosofia metodológica que guia a ciência. **Por quê?**
- B) Não se sabe **por que** o Dr. House não erra, mesmo fazendo tudo que é o contrário do bom senso e da filosofia metodológica que guia a ciência.
- C) Não se sabe **porquê** de Dr. House não errar, mesmo ele fazendo tudo que é o contrário do bom senso e da filosofia metodológica que guia a ciência.
- D) Dr. House não erra, mesmo fazendo tudo que é o contrário do bom senso e da filosofia metodológica que guia a ciência, e não se sabe **porquê**.
- E) Talvez Dr. House não erre **porque** faz tudo que é o contrário do bom senso e da filosofia metodológica que guia a ciência.

**05** Observe o trecho a seguir:

O senso comum do cientista e do profissional liberal diz a seguinte regra: **deixe** de fora as paixões e as intrigas e **busque** tratar cada caso ou situação de modo objetivo.

Assinale a alternativa em que houve a correta transformação dos verbos para a segunda pessoa do singular, mantendo-se o mesmo tempo e modo verbais.

- A) O senso comum do cientista e do profissional liberal diz a seguinte regra: **deixai** de fora as paixões e as intrigas e **buscai** tratar cada caso ou situação de modo objetivo.
- B) O senso comum do cientista e do profissional liberal diz a seguinte regra: **deixes** de fora as paixões e as intrigas e **buscas** tratar cada caso ou situação de modo objetivo.
- C) O senso comum do cientista e do profissional liberal diz a seguinte regra: **deixa** de fora as paixões e as intrigas e **busca** tratar cada caso ou situação de modo objetivo.
- D) O senso comum do cientista e do profissional liberal diz a seguinte regra: **deixes** de fora as paixões e as intrigas e **busques** tratar cada caso ou situação de modo objetivo.
- E) O senso comum do cientista e do profissional liberal diz a seguinte regra: **deixa** de fora as paixões e as intrigas e **busque** tratar cada caso ou situação de modo objetivo.

**06** Uma das noções mais importantes de um bom leitor é a sua capacidade de perceber a relação entre o sujeito e o predicado. Saber, por exemplo, a que sujeito um determinado verbo se refere pode ser fundamental para uma boa leitura. Observe os períodos abaixo:

- I. Em seu conjunto, o patrimônio cultural brasileiro constitui uma importante fonte histórica que, ao ser estudada, pesquisada e interrogada, muitas respostas fornece acerca da nossa identidade cultural.
- II. Por consequência, nem todas as ideias que eclodiram na Europa e que influenciaram a Revolução Inglesa do século 17 e a Revolução Francesa do século 18 iam ao encontro das aspirações das elites latino-americanas.

Assinale a alternativa que contém um comentário correto a respeito dos períodos I e II.

- A) O termo a que se refere a forma verbal “fornece”, no período I, é “muitas respostas”.
- B) O termo a que se refere a forma verbal “iam”, no período II, é “nem todas as ideias”.
- C) O termo a que se refere a forma verbal “iam”, no período II, é “a Revolução Inglesa do século 17 e a Revolução Francesa do século 18”.
- D) O termo a que se refere a forma verbal “fornece”, no período I, é “conjunto”.
- E) O termo a que se refere a forma verbal “fornece”, no período I, é “nossa identidade cultural”.



**07** Em cada alternativa, I e II são duas orações que constituem um mesmo período. Assinale a alternativa em que a ação expressa pela oração destacada (II) é anterior à ação expressa pela oração I.

- A) Se você o encontrar, **diga-lhe que estou esperando pelo livro.**
- B) À medida que corria, **suava bastante.**
- C) Se ela decidir partir, **eu a encontrarei dentro do avião.**
- D) Quando resolvi partir, **ela já havia falado com sua mãe.**
- E) Assim que eu ler a notícia, **vou divulgar para todos.**

**08** Leia o texto a seguir:

Dois alunos chegam tarde \_\_\_\_ escola e justificam-se \_\_\_\_ professora:

O primeiro aluno diz:

– Acordei tarde, professora! Sonhei que fui \_\_\_\_ Polinésia e a viagem demorou muito.

O segundo aluno diz:

– E eu fui esperá-lo no aeroporto!

As lacunas da frase acima estarão corretamente preenchidas, respectivamente, por:

- A) a, a, à.
- B) a, a, a.
- C) à, a, à.
- D) a, à, a.
- E) à, à, à.

O texto a seguir servirá de base para você responder às questões 9 e 10.

## Texto II

### CIÊNCIA CARA = BOM INVESTIMENTO

*Marcelo Gleiser*

Fazer pesquisa é caro, mas vale a pena. Vamos pensar apenas na ciência de base, ou seja, a ciência que não tem o objetivo imediato de ser “útil” via aplicações tecnológicas ou gerando riqueza, cuja meta é investigar a natureza. Quanto um país deve investir nesse tipo de pesquisa?

Quando se discute como equilibrar o orçamento da União, é crucial questionar como os fundos vindos do contribuinte devem ser usados. Afinal, existem necessidades críticas em educação, infraestrutura de transporte, modernização de hospitais, atendimento médico para milhões de necessitados, etc.

Num ensaio recente na “New York Review of Books”, uma prestigiosa publicação americana, o prêmio Nobel Steven Weinberg afirma que a solução nunca deve ser tirar dinheiro de áreas necessitadas para financiar pesquisa de base (ou qualquer outra), mas que, por outro lado, o investimento na pesquisa de base deveria ser uma opção óbvia para qualquer país que pretende ter uma posição de liderança internacional.

[...]

Na minha opinião, cortar o fomento à pesquisa de base, incluindo projetos bem definidos de alto custo, é inadmissível. Um mundo focado no imediato, no pragmático, pode ser eficiente, mas é extremamente monótono. Imagine um mundo sem as descobertas sensacionais que andam sendo feitas sobre o Cosmo e os mistérios da matéria; um mundo sem estrelas explodindo, sem galáxias colidindo e buracos negros.

Pior, imagine um mundo sem o que ainda não conhecemos e que nunca poderemos descobrir sem nossos instrumentos de exploração. Ademais, perderíamos todas as possíveis aplicações das descobertas.

[...].

Folha de São Paulo, 13 mai. 2012.

**09** Levando-se em consideração as informações do texto II, assinale a alternativa que contém um comentário **INCORRETO** sobre ele.

- A) O autor do texto defende que é necessário cortar o incentivo à pesquisa de base, incluindo projetos bem definidos de alto custo.
- B) O autor do texto, ao defender o seu ponto de vista, reconhece a existência de necessidades críticas em vários setores.
- C) Marcelo Gleiser deixa claro que o incentivo à pesquisa é essencial para a possibilidade de novas descobertas que, por sua vez, poderão gerar possíveis aplicações futuramente.
- D) O objetivo principal do autor neste texto é defender a necessidade da existência de pesquisas de base, mesmo que elas sejam consideradas mais caras.
- E) De acordo com Steven Weinberg, caso um país queira assumir uma posição de liderança internacional, é fundamental que haja o investimento em pesquisa de base.



**10** Levando-se em consideração as informações do texto II, analise as afirmações a seguir a respeito dele:

- I. Marcelo Gleiser deixa claro que defende uma ciência que tem o objetivo imediato de ser “útil”, seja via aplicações tecnológicas ou gerando riqueza.
- II. Steven Weinberg, citado por Gleiser, defende que a solução para a questão da pesquisa deve ser a diminuição dos gastos com áreas necessitadas para financiar pesquisa de base.
- III. É possível depreender do texto que Marcelo Gleiser defende que se a ciência for desenvolvida para focar-se apenas em questões práticas, só apoiando pesquisas que deem resultados imediatos, a ciência será muito limitada.

**Está(ão) correta(s):**

- A) somente I
- B) somente II
- C) somente III
- D) somente I e II
- E) somente II e III

**11** Assinale a alternativa em que houve adequada correlação entre os tempos e modos verbais:

- A) Afinal, se tivéssemos apenas um décimo da população, o consumo não importaria tanto, mas se tivéssemos um décimo do consumo, a população não importaria tanto.
- B) Afinal, se tivermos apenas um décimo da população, o consumo não importaria tanto, mas se tivéssemos um décimo do consumo, a população não importaria tanto.
- C) Afinal, se temos apenas um décimo da população, o consumo não importaria tanto, mas se tivermos um décimo do consumo, a população não importará tanto.
- D) Afinal, se teremos apenas um décimo da população, o consumo não importaria tanto, mas se temos um décimo do consumo, a população não importará tanto.
- E) Afinal, se tivéssemos apenas um décimo da população, o consumo não importará tanto, mas se tivéssemos um décimo do consumo, a população não importaria tanto.

**12** Assinale a alternativa em que a mudança de pontuação no período II altera o sentido do período I:

- A) I. Ela descobriu num jornal a resposta para todos os seus problemas.  
II. Ela descobriu, num jornal, a resposta para todos os seus problemas.
- B) I. Certo dia ela resolveu partir e abandonar o bando.  
II. Certo dia, ela resolveu partir e abandonar o bando.
- C) I. Todos acreditam que aos sessenta anos ele ainda se sente muito jovem.  
II. Todos acreditam que, aos sessenta anos, ele ainda se sente muito jovem.
- D) I. Ela não confessou o crime demonstrando sangue-frio.  
II. Ela não confessou o crime, demonstrando sangue-frio.
- E) I. Naquele momento ela não sabia o que dizer.  
II. Naquele momento, ela não sabia o que dizer.

**13** Leia o texto a seguir:

*“[...] Eu diria que o mais importante não é identificar [no sentido de classificar], mas tentar explicitar o que é que tal palavra ou locução está fazendo aí. Especialmente, que importância tem para a significação. Com quais outras palavras ou expressões está relacionada? Se mudasse de lugar, provocaria uma mudança de sentido? [...]”*

(POSSENTI, Sírio. *A cor da língua e outras croniquinhas de linguista*. Campinas, SP: Mercado das Letras, 2001. Fragmento.)

**No fragmento acima, em seu comentário sobre a prática escolar, Sírio Possenti cita o caso de expressões ou palavras que criam mudança de sentido quando mudam de lugar na frase. Assinale a alternativa em que a frase é ambígua em função do posicionamento da palavra “ontem”:**

- A) Ontem o chefe disse que ia viajar.
- B) O chefe ontem disse que ia viajar.
- C) O chefe disse ontem que ia viajar.
- D) O chefe disse que ontem ia viajar.
- E) O chefe disse que ia viajar ontem.



**14** Leia a piada a seguir:

A moça toca a campainha e, quando a dona da casa abre a porta, pergunta:

– É daqui que pediram uma empregada que durma no emprego?

– Sim.

– Então, por favor, mostre-me ONDE fica a cama. Estou morrendo de sono...

A palavra “onde”, na última fala, refere-se a uma ideia de lugar e está, portanto, adequadamente empregada, de acordo com a norma culta. No trecho a seguir, a palavra “onde” foi mal empregada. Observe:

*Versos, anedotas, provérbios, pilhérias, em todas as línguas do mundo, tornam a sogra objeto de ridículo feroz [...]. Era o mesmo entre gregos e romanos e será difícil encontrar povos ONDE a sogra não seja tema de perversidade e raiva constantes.*

**Assinale a alternativa em que a última oração foi modificada, ficando de acordo com a norma culta de linguagem:**

- A) Era o mesmo entre gregos e romanos e será difícil encontrar povos QUE a sogra não seja tema de perversidade e raiva constantes.
- B) Era o mesmo entre gregos e romanos e será difícil encontrar povos CUJA a sogra não seja tema de perversidade e raiva constantes.
- C) Era o mesmo entre gregos e romanos e será difícil encontrar povos COM O QUAL a sogra não seja tema de perversidade e raiva constantes.
- D) Era o mesmo entre gregos e romanos e será difícil encontrar povos ENTRE OS QUAIS a sogra não seja tema de perversidade e raiva constantes.
- E) Era o mesmo entre gregos e romanos e será difícil encontrar povos AONDE a sogra não seja tema de perversidade e raiva constantes.

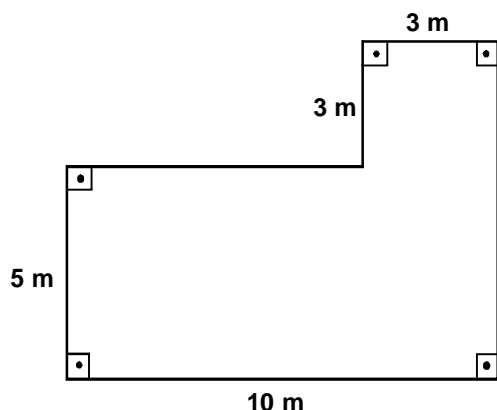
**15** Assinale a alternativa que contém um par de palavras cuja acentuação pode ser justificada de acordo com a mesma regra:

- A) anéis, paletó.
- B) história, árdua.
- C) ônus, ônibus.
- D) período, conteúdo.
- E) ônix, árvore.



## RACIOCÍNIO LÓGICO

16 Na figura abaixo é possível observar a planta de uma sala na Prefeitura do Município de Palmeira:



Considerando-se que as medidas estão indicadas em metros, a medida da área total da sala, em  $m^2$ , é igual a:

- A) 100
- B) 34
- C) 59
- D) 50
- E) 67

17 Atualmente, Rodrigo tem 5 anos e Railson tem 15 anos de idade. Ambos fizeram aniversário juntos, em maio de 2012. Em que ano a idade de Railson será exatamente o dobro da idade de Rodrigo?

- A) 2015
- B) 2016
- C) 2017
- D) 2018
- E) Isto nunca acontecerá antes de 2019.

18 A pavimentação de uma estrada foi realizada em exatamente dois dias. No primeiro dia, um terço da estrada foi pavimentado. No segundo dia, o trabalho foi concluído com 8 km da estrada pavimentada. A extensão total da estrada pavimentada nesses dois dias, em km, foi de:

- A) 12
- B) 20
- C) 21
- D) 15
- E) 16

19 De todas as pessoas que aguardavam atendimento na sala de espera de uma clínica, 30% eram do sexo masculino. Se nesse mesmo instante, exatamente 14 mulheres também aguardavam atendimento, é correto afirmar que:

- A) oito homens aguardavam atendimento.
- B) a quantidade total de pessoas na sala de espera era igual a 20.
- C) é impossível calcular a quantidade total de pessoas.
- D) a quantidade de mulheres era exatamente o dobro da de homens.
- E) existem mais homens que mulheres na sala de espera.

20 A pintura de uma parede de formato retangular e de dimensões 6 m por 2,5 m é feita por uma pessoa que gasta 2 litros de tinta. Se essa mesma pessoa tivesse que pintar outra parede retangular de dimensões 5 m por 3 m e com o mesmo rendimento da anterior, a quantidade de tinta gasta seria igual a:

- A) 1,5 litro
- B) 1,75 litro
- C) 2 litros
- D) 2,25 litros
- E) 2,5 litros

21 Com as letras da palavra "ANO", podemos montar algumas outras permutações, tais como "NOA", "NAO" ou ainda "AON", por exemplo. Essas permutações chamamos de anagramas. O número de anagramas da palavra "ANO", começando com a letra "N" é:

- A) 1
- B) 3
- C) 5
- D) 4
- E) 2

22 Um boleto de cobrança foi pago em atraso no valor de R\$ 56,00. Sabe-se que a multa por atraso era de 12%. Então, pode-se afirmar que o valor original do boleto era de:

- A) R\$ 49,28
- B) R\$ 52,31
- C) R\$ 62,72
- D) R\$ 50,00
- E) R\$ 20,00

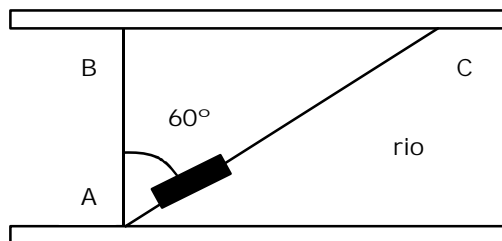




**23** Rodrigo foi trabalhar na Europa e voltou para o Brasil com um capital de R\$ 120.000,00. Ele resolveu aplicar este capital no banco com uma taxa de rendimento de 22% ao ano. Quanto renderá este capital em 8 meses?

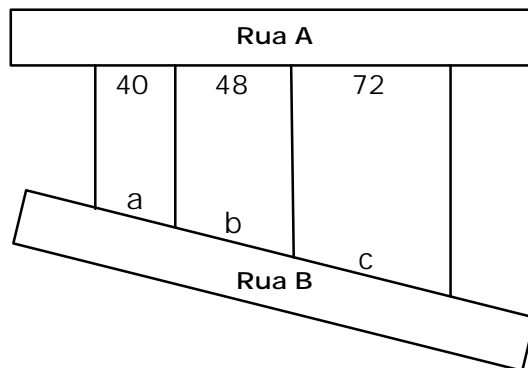
- A) R\$ 26.400,00
- B) R\$ 17.600,00
- C) R\$ 2.200,00
- D) R\$ 24.000,00
- E) R\$ 16.000,00

**24** A figura abaixo representa um barco atravessando um rio. O barco parte de A em direção ao ponto B, porém a forte correnteza arrasta o barco em direção ao ponto C, segundo um ângulo de  $60^\circ$ . Sendo a largura do rio de 240 m, a distância percorrida pelo barco até o ponto C, é:



- A) 720 m
- B) 400 m
- C) 420 m
- D) 240 m
- E) 480 m

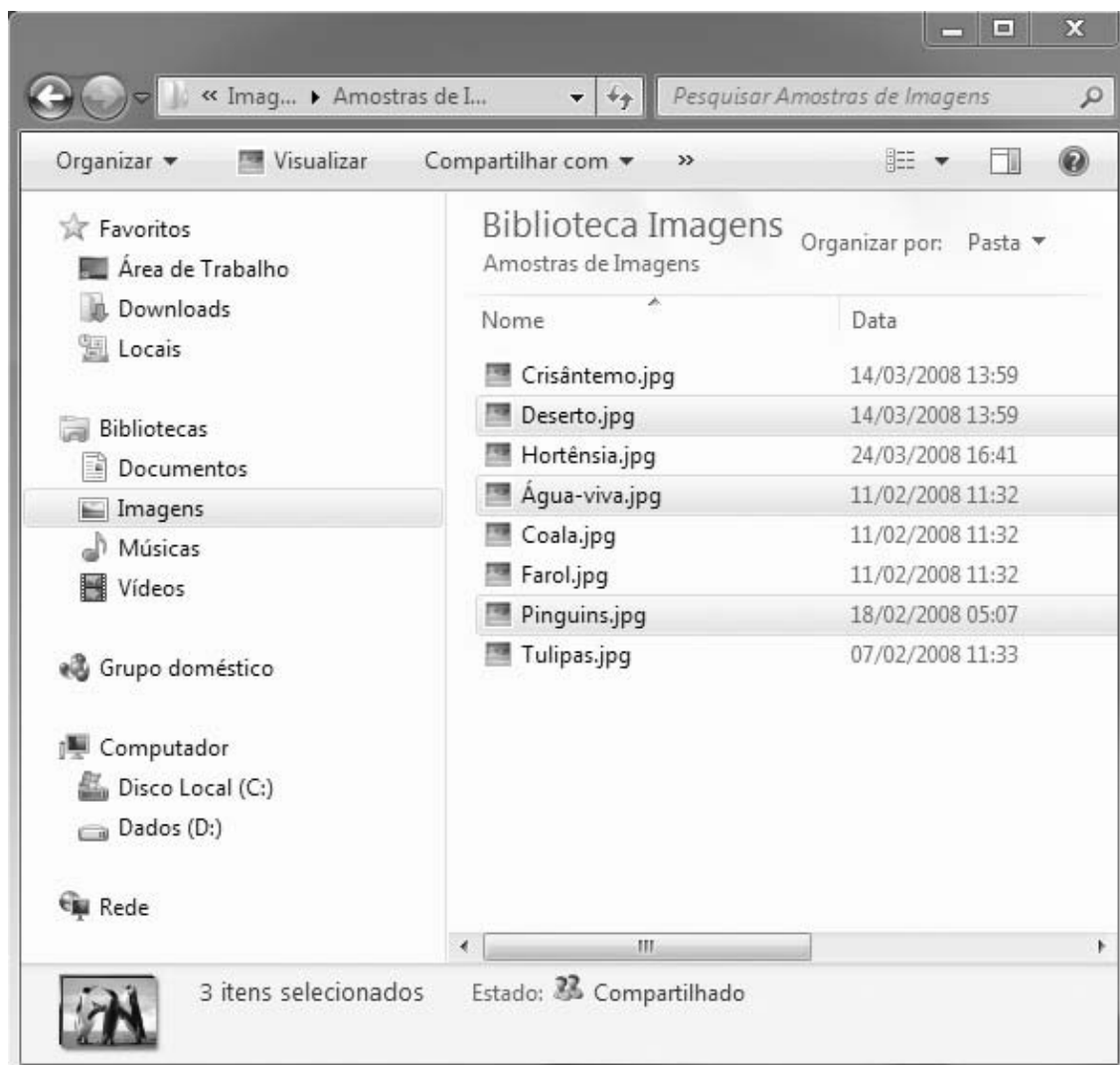
**25** O proprietário de um terreno em Palmeira quer dividi-lo em três lotes, conforme a figura abaixo.



Sabendo-se que as laterais dos terrenos são paralelas e que  $a + b + c = 240$  m, os valores de a, b e c, em metros, são, respectivamente:

- A) 60, 72 e 108
- B) 80, 80 e 80
- C) 50, 82 e 108
- D) 60, 82 e 98
- E) 45, 75 e 120

**26** Considerando a figura abaixo, que mostra uma janela do *Windows Explorer*, marque verdadeiro (V) ou falso (F) para as afirmações a seguir e assinale a alternativa que contém a sequência correta, de cima para baixo:



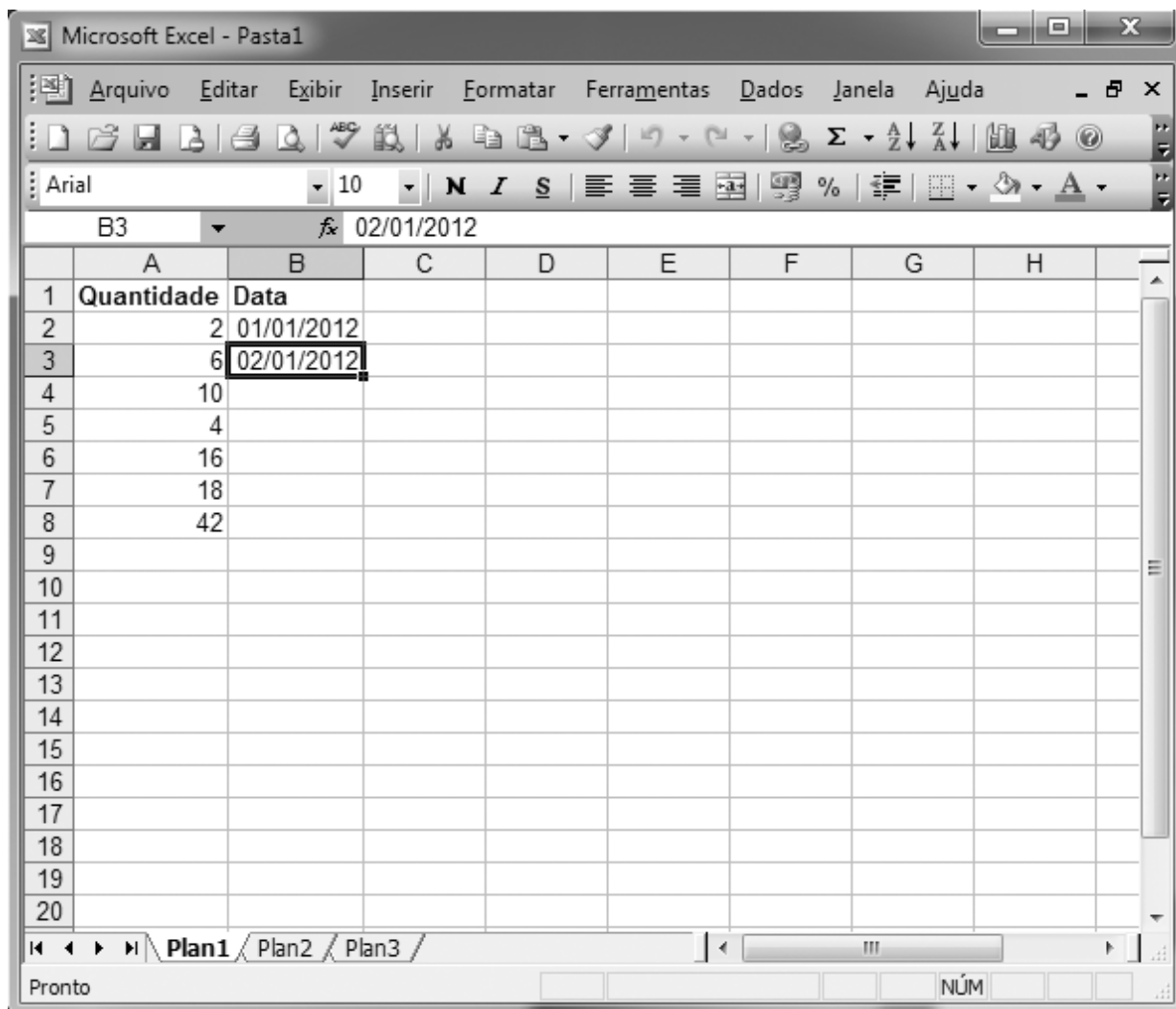
- ( ) Para auxiliar na seleção aleatória dos arquivos, foi usada a tecla *Ctrl* pressionada.
- ( ) O programa *Windows Explorer* é responsável pela organização e manipulação de arquivos e pastas.
- ( ) Para excluir os arquivos selecionados sem enviá-los para a lixeira, pode-se usar a tecla *Delete*.
- ( ) Para copiar os arquivos selecionados para a pasta Documentos, basta clicar com o botão esquerdo do mouse em um dos arquivos selecionados, manter o botão pressionado e arrastar os arquivos até a pasta Documentos.
- ( ) Um nome de arquivo pode conter qualquer um dos seguintes caracteres: \ / : \* ? " < > |
- A) F – F – V – V – V
- B) V – V – V – V – F
- C) V – V – F – V – F
- D) F – V – F – V – V
- E) F – V – V – V – F





27 Considerando a figura abaixo, que mostra o Painel de Controle do Windows 7, assinale a alternativa INCORRETA:



- A) A opção “Desinstalar um programa” também serve para alterar um programa instalado no *Windows*.
- B) Para definir a hora e a data, escolhe a opção “Relógio, Idioma e Região” e em seguida a opção “Definir a hora e a data”.
- C) Para verificar se o computador está conectado na Internet, basta clicar na opção “Verificar o *status* do computador”.
- D) Para alterar a senha do Windows, basta clicar na opção “Contas de Usuário e Segurança Familiar” e em seguida clicar na opção “Alterar senha do Windows”.
- E) Para visualizar os dispositivos instalados no Windows, basta clicar na opção “Exibir impressoras e dispositivos”.



28 A figura abaixo ilustra uma janela do Excel 2003 em processo de edição. Com relação a essa figura, assinale a alternativa correta:



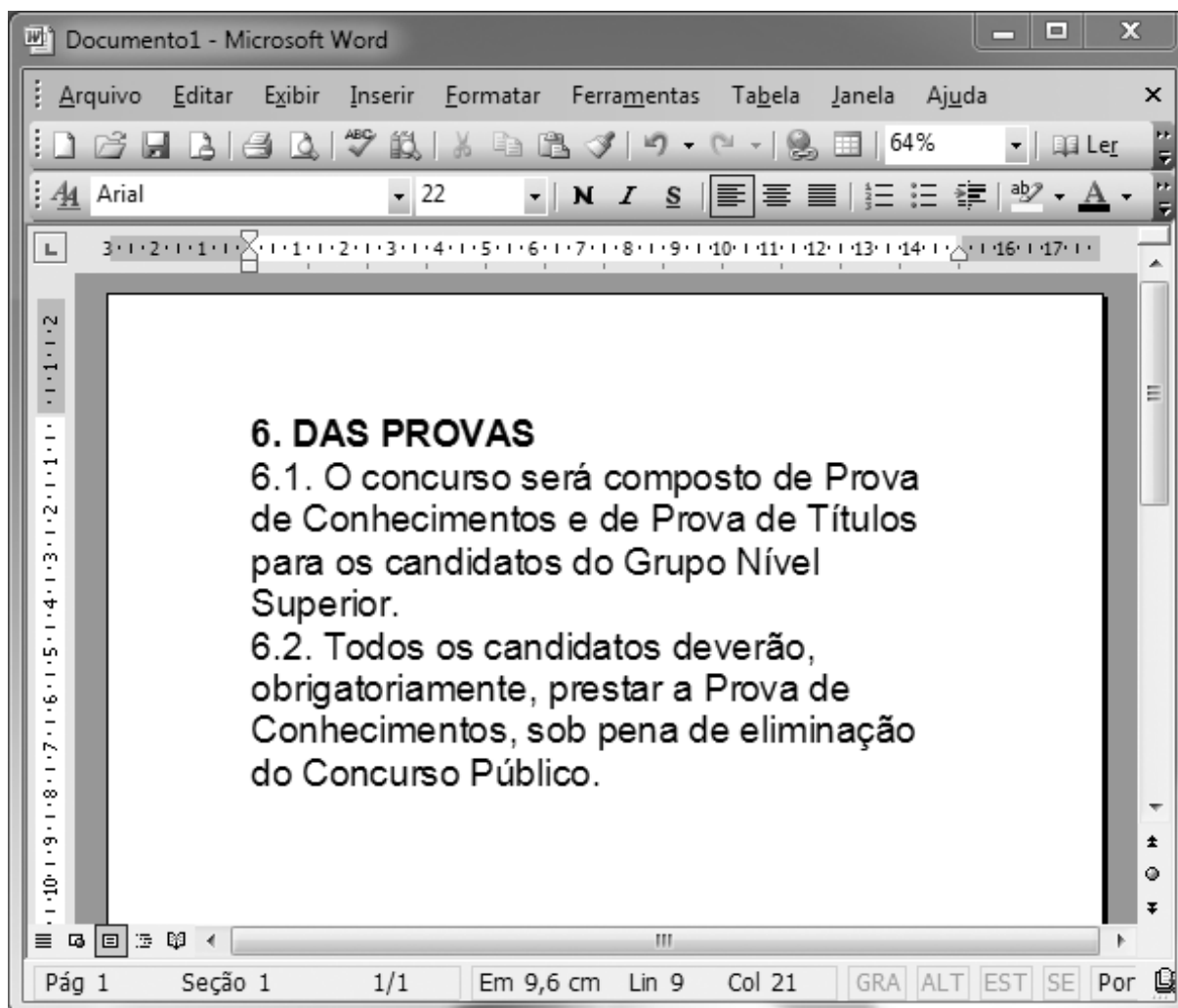
- A) A célula B8 foi preenchida automaticamente com 07/01/2012 após ser dado um clique duplo no pequeno quadrado localizado no canto direito da seleção.
- B) A opção  serve para abrir um arquivo que está armazenado no computador.
- C) Para centralizar o conteúdo da célula B1, basta selecionar a célula B1 e em seguida clicar na opção .
- D) A opção  serve para alterar a cor da fonte.
- E) De acordo com a figura, para somar as quantidades, basta clicar na opção  e em seguida pressionar a tecla ENTER.




29 Considerando a figura abaixo, que apresenta uma janela do Internet Explorer 8, analise as proposições e, em seguida, assinale a alternativa correta:



- I. A opção  serve para apresentar a página inicial do navegador, conhecida como *Home*.
- II. Para adicionar uma página aos favoritos, basta clicar na opção  **Favoritos** e em seguida escolher a opção “Adicionar a Favoritos...” e pressionar ENTER.
- III. Ao pressionar a tecla F5, a página que está sendo exibida é atualizada.
- A) Apenas II e III são corretas.  
B) Apenas I e II são corretas.  
C) Apenas I e III são corretas.  
D) I, II e III são corretas.  
E) Apenas III é correta.

30 Considerando a figura abaixo, que apresenta uma janela do Word 2003, assinale a alternativa correta:



- A) Clicando apenas uma vez na opção , todas as ações serão desfeitas.
- B) A opção  da barra de *status*, quando habilitada, indica que o modo de sobrescrever está ativado.
- C) Quando aparece o termo (Visualização) entre parênteses na barra de títulos do documento que está sendo editado, significa que foi escolhida a opção Imprimir... do menu Arquivo.
- D) Para aplicar a formatação a apenas uma palavra, há a necessidade de seleção desta palavra.
- E) A opção  serve para abrir um novo documento em branco.

## CONHECIMENTOS ESPECÍFICOS

**31 De acordo com o Manual de Redação da Presidência da República, assinale a alternativa correta.**

- A) Para se dirigir ao Presidente da República em uma comunicação oficial, utiliza-se o pronome de tratamento **Excelentíssimo Senhor** e o vocativo **Vossa Santidade**.
- B) Nas comunicações oficiais, são admitidos os fechos **atenciosamente** e **mui respeitosamente**.
- C) O aviso é expedido exclusivamente por Secretários de Estado, para autoridades da mesma hierarquia ou inferior.
- D) Ao se redigir uma comunicação confidencial, para que sejam resguardadas informações sigilosas, não há necessidade de utilizar o princípio da clareza.
- E) O fecho **respeitosamente** é utilizado para se dirigir a autoridades superiores.

**32 De acordo com o Manual de Redação da Presidência da República, assinale a alternativa correta.**

- A) Nas redações oficiais deve-se identificar o autor da correspondência com seu nome e cargo abaixo da assinatura.
- B) Nas redações oficiais deve ser utilizado o pronome “vosso”, no caso de ter sido escolhida a forma de tratamento “Vossa Excelência”.
- C) Nas redações oficiais, se o destinatário for mulher, deve ser utilizada a forma de tratamento “Vossa Senhoria”.
- D) Nas redações oficiais, para pessoas do mesmo nível hierárquico, no fechamento do texto deve ser sempre utilizado “respeitosamente”.
- E) Nas redações oficiais, em forma de ofício, o local e a data devem aparecer por extenso, com alinhamento à esquerda da página.

**33 Analise as afirmativas sobre redação de documentos.**

- I. Correspondência oficial utilizada por autoridades, para tratar de assuntos de serviço ou de interesse da Administração.
- II. Com estrutura específica, esse documento deve, de início, ser numerado em ordem sequencial, com sigla do órgão expedidor e data.
- III. Encerra o assunto a expressão – **Atenciosamente** ou **Respeitosamente** –, seguida da assinatura e do cargo do emitente.

**Com base nas afirmativas, pode-se concluir que se trata de:**

- A) decreto;
- B) portaria;
- C) ofício;
- D) requerimento;
- E) ata.

**34 De acordo com os padrões estabelecidos pelo Manual de Redação Oficial da Presidência da República, analise os seguintes itens:**

- I. No padrão ofício, sempre que o destinatário ocupar o cargo superior do órgão, o fecho do expediente deve conter saudação como a seguinte: Reitero a Vossa Senhoria meus protestos de elevada estima e sincera consideração.
- II. A redação oficial deve caracterizar-se pela impessoalidade, uso do padrão culto de linguagem, clareza, concisão, formalidade e uniformidade. Além disso, incorporam-se os jargões políticos.
- III. O uso do padrão culto nos atos e comunicações oficiais implica o uso de termos técnicos, bem como dos rebuscamentos acadêmicos e figuras de linguagem.
- IV. Os pronomes de tratamento estão vinculados à necessária formalidade dos documentos oficiais e são estabelecidos conforme o posto ocupado pela autoridade.

**Quais são os itens corretos?**

- A) Todos os itens.
- B) Apenas os itens I, II e III.
- C) Apenas os itens I e IV.
- D) Apenas o item IV.
- E) Apenas os itens II e IV.

**35 Sobre a Administração Pública Indireta, considere:**

- I. Pessoa jurídica de direito público, criada por lei, para o desempenho de serviço público descentralizado, mediante controle administrativo exercido nos limites da lei.
- II. Pessoa jurídica de direito privado, instituída pelo Poder Público, mediante autorização de lei específica, sob a forma de sociedade anônima.
- III. Pessoa jurídica de direito privado, instituída pelo Poder Público, mediante autorização de lei específica, sob qualquer forma jurídica.

**Os conceitos em I, II e III referem-se, respectivamente, a:**

- A) fundação pública, empresa pública e sociedade de economia mista;
- B) fundação pública, autarquia e empresa pública;
- C) autarquia, sociedade de economia mista e empresa pública;
- D) sociedade de economia mista, autarquia e fundação pública;
- E) empresa pública, sociedade de economia mista e autarquia.



**36 Considere as afirmativas abaixo.**

- I. Em um jornal de circulação regional foram feitas graves críticas ao Governo Municipal, porém o autor das críticas permaneceu anônimo.
- II. Rafael foi privado de seus direitos por motivo de convicção filosófica ou política, por ter invocado tais direitos para eximir-se de obrigação legal a todos imposta e recusado cumprir prestação alternativa.
- III. Maura não permitiu que a polícia adentrasse em sua casa, uma vez que não havia determinação legal, não estava ocorrendo flagrante delito ou desastre e ninguém estava precisando de socorro.
- IV. Um grupo de sindicalistas reuniu-se pacificamente, sem armas, em local aberto ao público, não frustrando outra reunião anteriormente convocada para o mesmo local, apenas avisando previamente à autoridade competente, não possuindo autorização.

**Estão amparados por garantias fundamentais previstas na Constituição Federal brasileira as situações indicadas apenas em:**

- A) I e II
- B) I, II e IV
- C) I, III e IV
- D) II e III
- E) III e IV

**37 Sobre a organização administrativa, considere as seguintes afirmativas:**

1. As empresas públicas são entidades que compõem a Administração Pública Indireta e se apresentam como pessoas jurídicas de direito privado, constituídas sob quaisquer das formas admitidas no direito comercial e com capital formado exclusivamente por recursos provenientes das pessoas jurídicas de direito público.
2. As sociedades de economia mista são pessoas jurídicas de direito privado, autorizadas por lei, constituídas sob a forma de sociedade anônima, cujo capital votante deve ser majoritariamente público, tendo suas atividades regidas pelo regime jurídico preponderantemente privado.
3. As autarquias são pessoas jurídicas de direito privado, criadas por lei, com autonomia administrativa para o exercício de determinadas atividades típicas do Estado, submetidas ao regime jurídico de direito público.
4. As empresas estatais, não obstante a sua personalidade jurídica de direito privado e sua sujeição ao regime jurídico de direito privado, têm sua contratação de pessoal subordinada à realização de concurso público.

**Assinale a alternativa correta.**

- A) Somente as afirmativas I, II e III são verdadeiras.
- B) Somente as afirmativas II, III e IV são verdadeiras.
- C) Somente as afirmativas I, II e IV são verdadeiras.
- D) Somente as afirmativas I, III e IV são verdadeiras.
- E) Somente as afirmativas III e IV são verdadeiras.

**38 O presidente da comissão de licitação da Autarquia de Regime Próprio de Previdência Social do Município de Palmeira homologou procedimento licitatório para a aquisição de computadores. Após, constatou-se ilegalidade ocorrida na fase de habilitação, praticada pela empresa vencedora do certame. Nessa situação, deverá o presidente da comissão de licitação:**

- A) confirmar a homologação;
- B) anular a licitação;
- C) convalidar a licitação;
- D) revogar a licitação;
- E) sanear o procedimento.

**39 Considerando as afirmativas abaixo, assinale a opção correta:**

- I. É inexigível a licitação quando houver inviabilidade de competição, em especial para contratação de profissional de qualquer setor artístico, desde que consagrado pela crítica especializada ou pela opinião pública.
  - II. A determinação das modalidades de licitação para obras e serviços de engenharia deve respeitar os seguintes parâmetros gerais: convite – até R\$ 150.000,00 (cento e cinquenta mil reais); tomada de preços – até R\$ 1.500.000,00 (um milhão e quinhentos mil reais); concorrência: acima de R\$ 1.500.000,00 (um milhão e quinhentos mil reais).
  - III. É dispensável a licitação nos casos de guerra ou grave perturbação da ordem, entre outros casos.
- A) Nenhuma afirmativa está correta.
  - B) Todas as afirmativas estão corretas.
  - C) Estão corretas apenas as afirmativas I e II.
  - D) Estão corretas apenas as afirmativas II e III.
  - E) Estão corretas apenas as afirmativas I e III.

**40 São princípios da Administração Pública, expressamente previstos na Constituição Federal, dentre outros:**

- A) legalidade, publicidade e pessoalidade;
- B) improbidade, publicidade e sigilo;
- C) legalidade, eficiência e pessoalidade;
- D) legalidade, impessoalidade e improbidade;
- E) legalidade, impessoalidade e eficiência.





