

TÉCNICO DE TRANSPORTE E TRÂNSITO

Código 05

- 1 - Este caderno contém as questões da **PROVA OBJETIVA**.
- 2 - Use, como rascunho, a **Folha de Respostas** reproduzida ao final deste caderno.
- 3 - Ao receber a **Folha de Respostas da PROVA OBJETIVA**:
 - confira seu nome, número de inscrição e o cargo;
 - assine, **A TINTA**, no espaço próprio indicado.

ATENÇÃO:
**FOLHA DE RESPOSTA SEM ASSINATURA
NÃO TEM VALIDADE.**

- 4 - Ao transferir as respostas para a **Folha de Respostas**:

- | | | | | | |
|----|--------------------------|-------------------------------------|-------------------------------------|-------------------------------------|--|
| | A | B | C | D | |
| 01 | <input type="checkbox"/> | <input type="checkbox"/> | <input type="checkbox"/> | <input type="checkbox"/> | • use apenas caneta esferográfica azul ou preta; |
| 02 | <input type="checkbox"/> | <input checked="" type="checkbox"/> | <input type="checkbox"/> | <input type="checkbox"/> | • preencha, sem forçar o papel, toda a área reservada à letra correspondente à resposta solicitada em cada questão; |
| 03 | <input type="checkbox"/> | <input type="checkbox"/> | <input checked="" type="checkbox"/> | <input type="checkbox"/> | • assinale somente uma alternativa em cada questão. Sua resposta NÃO será computada se houver marcação de mais de uma alternativa, questões não assinaladas ou questões rasuradas. |
| 04 | <input type="checkbox"/> | <input type="checkbox"/> | <input type="checkbox"/> | <input checked="" type="checkbox"/> | |

NÃO DEIXE NENHUMA QUESTÃO SEM RESPOSTA.

A **Folha de Respostas da PROVA OBJETIVA** não deve ser dobrada, amassada ou rasurada.

CUIDE BEM DELA. ELA É A SUA PROVA.

ATENÇÃO

Sr.(a) Candidato(a),

Antes de começar a fazer a prova, confira se este caderno contém, ao todo, 55 (cinquenta e cinco) questões de múltipla escolha — cada uma constituída de 4 (quatro) alternativas — assim distribuídas: **20 (vinte) questões de Conhecimentos Específicos, 10 (dez) questões de Interpretação de Texto, 10 (dez) questões de Conhecimentos Básicos de Informática, 10 (dez) questões de Noções de Mobilidade Urbana e 5 (cinco) questões de Noções de Administração Pública**, todas perfeitamente legíveis.

Havendo algum problema, informe **imediatamente** ao aplicador de provas para que ele tome as providências necessárias.

Caso V. S^a não observe essa recomendação, **não lhe caberá qualquer reclamação ou recurso posteriores.**

Boa prova!

O tempo de duração da prova abrange, inclusive, o tempo necessário à transcrição das respostas do rascunho para a **Folha de Respostas da PROVA OBJETIVA**.

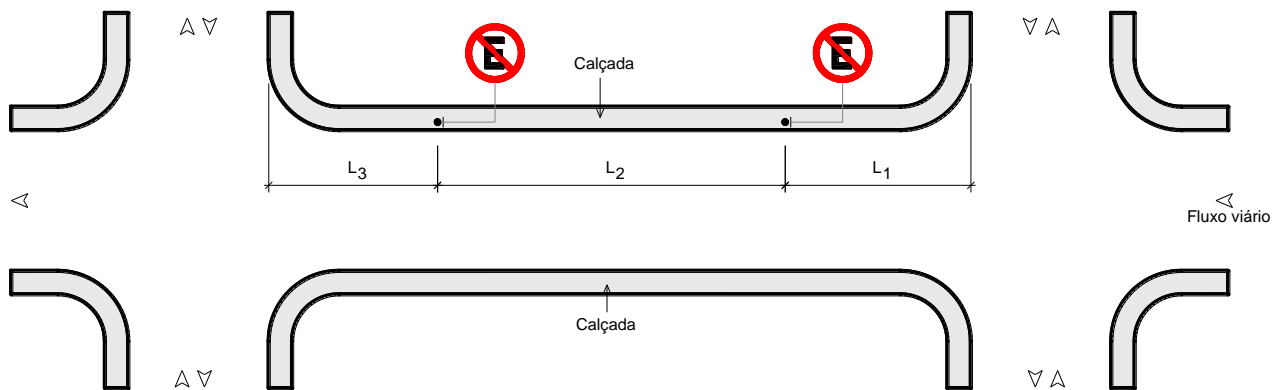
ATENÇÃO - Nos termos do Edital n. 01/2013, "Poderá ainda ser eliminado o candidato que [...]: **portar arma(s)** no local de realização das provas [...]; **portar**, mesmo que desligados [...] **quaisquer equipamentos eletrônicos** [...] ou de **instrumentos de comunicação** interna ou externa, tais como **telefone celular** [...] entre **outros** [...]". (subitem 9.31, alíneas "d" e "e" - errata)

DURAÇÃO MÁXIMA DA PROVA: QUATRO HORAS

Conhecimentos Específicos

Questão 1

Observe a seguinte figura.



A figura acima representa a sinalização de uma face de quadra superior a 60,0 metros. De acordo com o Manual de Sinalização Vertical de Regulamentação, as variáveis L_1 , L_2 e L_3 podem assumir **respectivamente** os valores

- A) 5 m, 100 m, 5 m.
- B) 5 m, 90 m, 5 m.
- C) 6 m, 85 m, 6 m.
- D) 6 m, 80 m, 6 m.

Questão 2

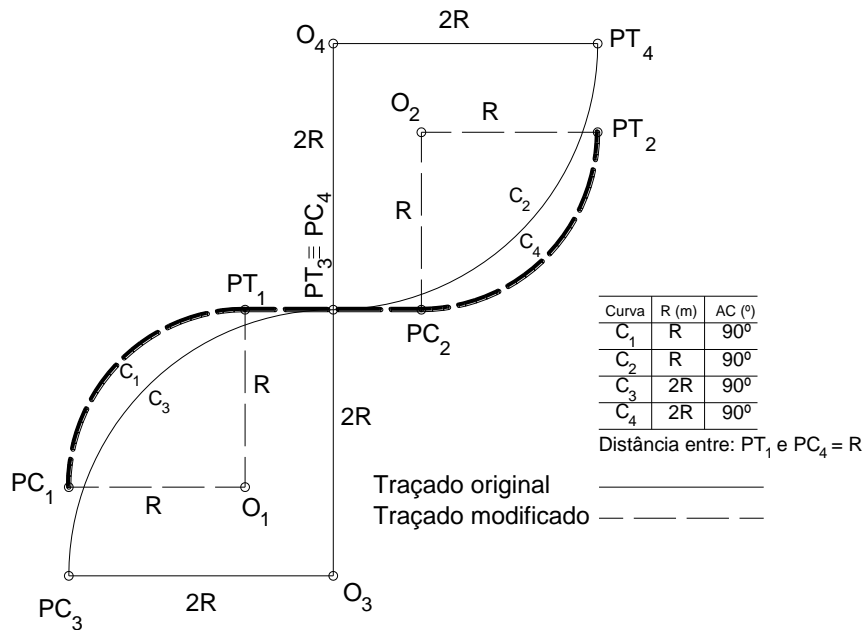
De acordo com o Manual de Práticas de Estacionamento de Belo Horizonte, o cálculo do número de faixas de rolamento para uma interseção com semáforo depende de alguns parâmetros.

Assinale a alternativa que **NÃO** é um desses parâmetros.

- A) Capacidade/faixa.
- B) Velocidade operacional.
- C) Tempo de ciclo.
- D) Tempo de verde na aproximação.

Questão 3

Observe a seguinte figura.



A figura acima representa o traçado geométrico em planta formado por curvas circulares simples. Considere que o traçado geométrico foi modificado e as curvas horizontais circulares simples C₁ e C₂ foram substituídas pelas curvas C₃ e C₄ respectivamente.

É **CORRETO** afirmar que a relação entre o comprimento total do trecho modificado e o comprimento total do trecho original é igual a

- A) $\frac{2\pi}{\pi+1}$
- B) $\frac{\pi R}{3(\pi+1)}$
- C) $\frac{2\pi R}{2\pi+1}$
- D) $\frac{\pi+2}{2\pi R}$

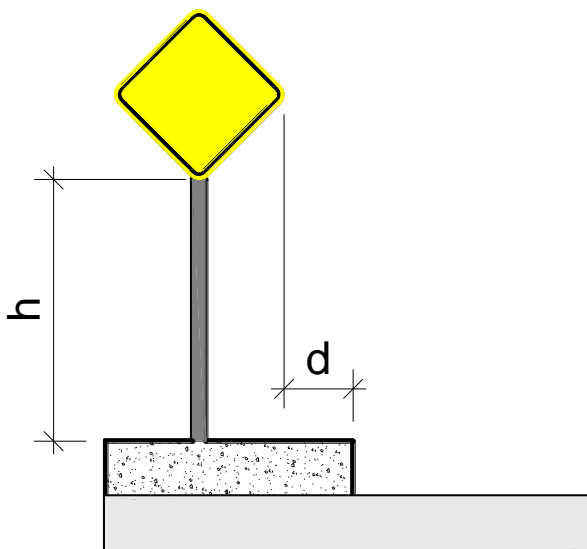
Questão 4

Os parâmetros apresentados abaixo são considerados no cálculo da superlargura, **EXCETO**:

- A) Gabarito lateral.
- B) Folga dinâmica.
- C) Tipo de pavimento.
- D) Número de faixas de trânsito.

Questão 5

A figura a seguir representa uma placa fixada em coluna simples e a seção transversal de uma via.



De acordo com o Manual de Sinalização Vertical de Advertência, a placa colocada lateralmente à via urbana, em trecho reto, tem as dimensões mínimas para altura livre (h) e afastamento lateral (d) **respectivamente** iguais a

- A) 2,60 m e 0,15 cm.
- B) 2,00 m e 0,30 cm.
- C) 1,50 m e 0,40 cm.
- D) 1,20 m e 0,50 cm.

Questão 6

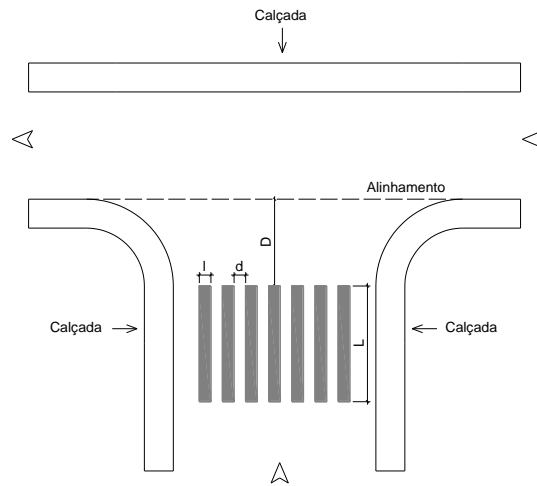
Assinale a alternativa que completa a frase:

A distância de visibilidade de parada é por definição a distância _____

- A) mínima que um motorista, trafegando com a velocidade diretriz, necessita para parar com segurança após avistar um obstáculo na rodovia.
- B) média que um motorista, trafegando com a velocidade máxima, necessita para parar com segurança após avistar um obstáculo na rodovia.
- C) máxima que um motorista, trafegando em pista escorregadia, necessita para parar com segurança após avistar um obstáculo na rodovia.
- D) necessária para que um motorista, trafegando com a velocidade média, possa parar com segurança após avistar um obstáculo na rodovia ou ouvir um sinal sonoro.

Questão 7

Observe a seguinte figura.



De acordo com o Manual de Sinalização Horizontal e observando a interseção acima, é **INCORRETO** afirmar que a

- A) largura (l) varia de 0,30 m a 0,40 cm.
- B) distância (d) varia de 0,30 m a 0,80 cm.
- C) extensão mínima de L é de 3,00 m.
- D) distância D varia de 0,40 m a 0,80 m.

Questão 8

Assinale a alternativa **CORRETA** que justifique, entre as diretrizes do sistema viário do Plano Diretor de Belo Horizonte, o porquê da necessidade de reformulação da atual estrutura viária radioconcêntrica do Município.

- A) Integrar elementos estruturais do Município.
- B) Reforçar a principal centralidade do Município.
- C) Concentrar investimentos de infraestrutura viária.
- D) Orientar os deslocamentos com destino à Área Central.

Questão 9

De acordo com a Lei de Parcelamento, Uso e Ocupação do Solo de Belo Horizonte, assinale a alternativa que apresenta as características geométricas de uma Via Arterial Primária Classe I.

- A) Velocidade diretriz = 60 km/h; rampa máxima = 8%; largura mínima da via = 35 m.
- B) Velocidade diretriz = 60 km/h; rampa máxima = 10%; largura mínima da via = 25 m.
- C) Velocidade diretriz = 50 km/h; rampa máxima = 10%; largura mínima da via = 20 m.
- D) Velocidade diretriz = 80 km/h; rampa máxima = 8%; largura mínima da via = 35 m.

Questão 10

Qual o Índice de Passageiros por Quilômetro (IPK) de uma empresa de transporte público coletivo por ônibus que transporta 1.000.000 passageiros/mês a um custo mensal de R\$3.000.000,00 rodando uma quilometragem de 500.000 km/mês?

- A) 0,50.
- B) 2,00.
- C) 3,00.
- D) 6,00.

Questão 11

NÃO é uma desvantagem de serviços tronco-alimentadores em relação aos serviços diretos do BRT.

- A) Perda de tempo em transferências.
- B) Aumento de distâncias percorridas.
- C) Custo de infraestrutura com terminais e estações intermediárias.
- D) Ineficiência operacional.

Questão 12

O Modelo de Quatro Etapas ou Estágios utilizado no processo de planejamento de transportes consiste no uso de quatro submodelos.

Assinale a alternativa que apresenta a sequência **CORRETA** desses submodelos.

- A) Distribuição, Geração, Divisão Modal e Alocação.
- B) Geração, Divisão Modal, Distribuição e Alocação.
- C) Geração, Distribuição, Divisão Modal e Alocação.
- D) Divisão Modal, Distribuição, Geração e Alocação.

Questão 13

Segundo a Lei de Mobilidade Urbana, a **definição** de mobilidade urbana é

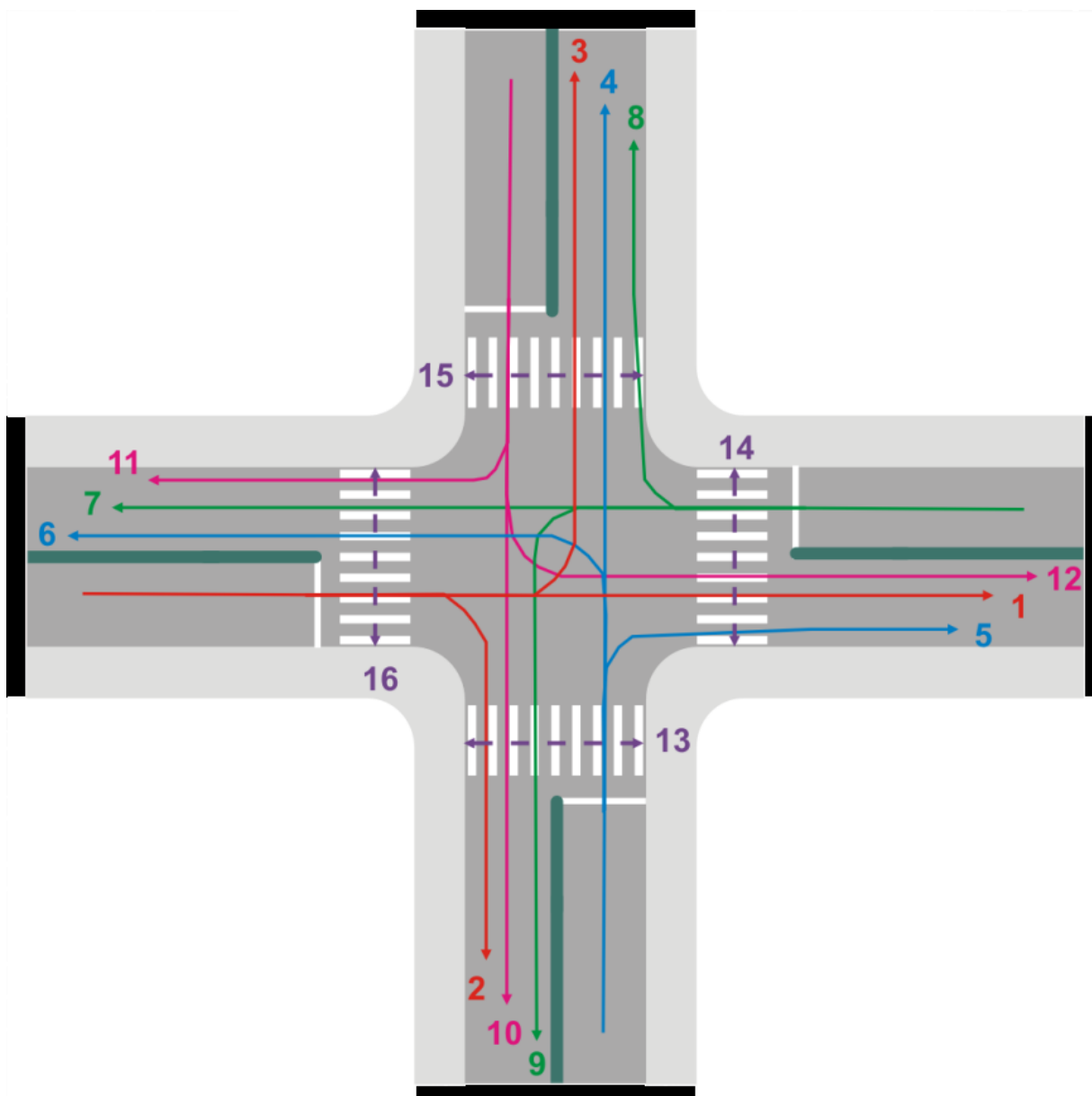
- A) um conjunto dos modos e serviços de transporte público e privado utilizados para o deslocamento de pessoas e cargas nas cidades integrantes da Política Nacional de Mobilidade Urbana.
- B) uma condição em que se realizam os deslocamentos de pessoas e cargas no espaço urbano.
- C) uma facilidade disponibilizada às pessoas que possibilita a todos autonomia nos deslocamentos desejados, respeitando-se a legislação em vigor.
- D) um serviço público de transporte de passageiros acessível a toda a população mediante pagamento individualizado, com itinerários e preços fixados pelo poder público.

Questão 14

Considerando-se que a velocidade de um veículo em uma via urbana é de 60 km/h, a distância a ser percorrida pelo veículo, em metros, até que o condutor observe (1s) um obstáculo e reaja(1s) acionando o sistema de frenagem de tal veículo é

- A) 3,6 m.
- B) 16,7 m.
- C) 33,3 m.
- D) 60,0 m.

INSTRUÇÕES - Analise os movimentos de tráfego mostrados na figura abaixo para responder as questões 15 e 16.



Questão 15

Na situação apresentada na imagem, existem potenciais conflitos entre os movimentos. Quanto à trajetória dos veículos, pode-se afirmar que tais conflitos são classificados em

- A) convergentes, divergentes e cruzamentos.
- B) divergentes, interceptantes e cruzamentos.
- C) não interceptantes, convergentes e com mesmo destino.
- D) origens iguais, destinos diferentes e interceptantes.

Questão 16

Recomenda-se adotar, como solução à demanda mostrada na figura e que, ao mesmo tempo, permita retornar e diminuir os conflitos nos movimentos de tráfego existentes, o tipo de interseção indicado é

- A) bifurcação em Y.
- B) rotatória.
- C) trevo completo.
- D) trevo incompleto.

Questão 17

São dispositivos eletromecânicos utilizados para o gerenciamento e controle de tráfego em uma cidade, **EXCETO**:

- A) Centro de Controle Operacional – CCO.
- B) Radar.
- C) Redutor eletrônico de velocidade.
- D) Sinalização vertical.

Questão 18

NÃO se apresenta como um dos objetivos gerais da engenharia de tráfego

- A) administrar o tráfego.
- B) escalar a equipe de tráfego.
- C) estudar os volumes e as características de tráfego.
- D) planejar sistemas de tráfego.

Questão 19

A alternativa que indica **as três principais características** do tráfego em uma via urbana é

- A) densidade, fluxo e velocidade.
- B) fase, ciclo e estágio.
- C) largura, comprimento e altura.
- D) volume, velocidade e ocupação veicular.

Questão 20

As vias urbanas se classificam em

- A) aerovias, rodovias, ferrovias e dutovias.
- B) expressa, arterial, avenida e coletora.
- C) local, coletora, arterial e de trânsito rápido.
- D) secundária, principal, avenidas e ruas.

Interpretação de Texto

INSTRUÇÕES: As questões de **21** a **30** dizem respeito ao conteúdo do **TEXTO 1**.
Leia-o atentamente antes de respondê-las.

TEXTO 1

Para ler no consultório

Esta é para você. É, você mesmo, que está nessa sala de espera, e mexeu no cesto de revistas velhas ali do lado esquerdo do sofá. Você foi lá, catou uma revista bem do fundo, e abriu logo nesta página - que coincidência: justamente a que foi escrita para você.

Você não sabe a confusão que deu quando esta crônica foi publicada. Choveram *e-mails* indignados. Como pode alguém desperdiçar a última página de uma revista de atualidades para se dirigir a pessoas que só lerão o texto quando esta for uma revista de desatualidades?

Posso ser sincero? Essas pessoas não entendem xongas de sala de espera. Da ansiedade de quem está na iminência de uma obturação. Ou a ponto de um *checkup*. Ou ainda à beira de uma consulta de rotina. Nesse momento, a única notícia nova que queremos ouvir é "Pode entrar, é a sua vez". Enquanto isso não acontece, tratamos de buscar apoio em quem está na sala há muito mais tempo do que nós: as revistas do cesto.

Por mais que se tente, entretanto, é muito difícil manter a concentração na leitura, quando um olho está no relógio e o outro não desgruda da porta. Às vezes, por azar, os assuntos não ajudam, e você se sente na sala de espera errada. Quantas vezes você não está no consultório do dentista e a revista manda você para o consultório do cirurgião plástico? Não, não: não dá para pensar em lipo quando você está envolvido da cabeça aos pés num tratamento de canal.

Leitura de consultório é diferente de leitura de salão de beleza. No cabeleireiro as revistas precisam ter muitas figurinhas, para funcionar como material didático ("Eu quero o meu ASSIM") e de discussão ("Você não acha isso PAVOROSO?").

Já no consultório é o oposto: quanto mais letrinhas, melhor. As revistas da sala de espera servem para você dar a impressão de que está absorto em alguma coisa que não o relógio ou a porta, de modo a erguer uma barreira protetora que impeça o paciente que acabou de chegar - aquele ali! - de alugar seu ouvido para contar toda a sua vida pregressa e seus problemas de saúde, nos mínimos detalhes.

(Como é que eu sei que você não é desses que chegam a uma sala de espera e imediatamente passam a contar seus problemas de saúde nos mínimos detalhes? Ora, porque você foi até o cesto do lado esquerdo do sofá catar esta revista bem lá no fundo.)

Infelizmente, nem todas as pessoas têm essa sua sorte de abrir uma revista na sala de espera e deparar com uma crônica antiga escrita especialmente para elas. Houve muitos casos em que os pacientes leram esta coluna quando a revista ainda era nova. Alguns ficaram um pouco confusos, sem entender como uma revista velha poderia ter previsto tantas coisas que estão acontecendo agora. Outros se deram conta de que esta página só teria toda a graça dali a uns meses, e pela primeira vez na vida se lamentaram por encontrar uma revista nova no consultório.

O quê? A moça da recepção falou "Pode entrar, é a sua vez?". Desculpe, eu estava tão distraído no nosso papo que nem ouvi. Posso pedir um favor antes de você entrar? Coloque esta revista de novo no cesto. Lá no fundo. Isto ainda poderá ser útil para outras pessoas.

RICARDO FREIRE, Ricardo. Para ler no consultório. 20 fev.2009. Para ler no consultório.
Disponível em: <<http://revistaepoca.globo.com/Revista/Epoca/0,,ERT43562-15230,00.html>>
Acesso em: 08 maio 2013.

Questão 21

No primeiro parágrafo, o termo “Esta” que introduz o período “Esta é para você.”, só **NÃO** pode se referir

- A) à reportagem de uma revista contemporânea.
- B) à última página de uma revista desatualizada.
- C) a uma crônica escrita há tempos em uma revista.
- D) a uma coluna de uma revista de consultório.

Questão 22

É **CORRETO** afirmar que o texto

- A) foi escrito por um especialista que oferece uma revista ao leitor que estará em um consultório médico ou odontológico.
- B) é de autoajuda dedicado a pessoas que apreciam revistas antigas, veiculado em uma revista de grande circulação.
- C) apresenta uma visão crítica acerca das revistas que são lidas em ambientes de atendimento ao público.
- D) descreve o ambiente de um consultório e detalha as funções da leitura em quatro espaços sociais.

Questão 23

O fragmento do texto que **NÃO** apresenta interferência da linguagem informal e está escrito em consonância com as normas tradicionais do padrão da modalidade escrita da língua é:

- A) Você não sabe a confusão que deu quando esta crônica foi publicada.
- B) Essas pessoas não entendem xongas de sala de espera.
- C) Não, não, não: não dá para pensar em lipo quando você está envolvido da cabeça aos pés num tratamento de canal.
- D) Leitura de consultório é diferente de leitura de salão de beleza.

Questão 24

Com base em sua leitura, é **CORRETO** afirmar que o autor

- A) sugere que as pessoas, em geral, devem ser cautelosas ao buscar revistas dentro de cestos em consultórios.
- B) instrui o leitor, apresentando-lhe um texto original que antecipa ao leitor acontecimentos futuros em um consultório.
- C) afirma que os pacientes devem buscar apoio nas revistas que estão nas salas dos consultórios há muito tempo.
- D) compara o comportamento inconveniente das pessoas na sala de espera de consultórios e nos salões de beleza.

Questão 25

Em relação às características discursivas do texto lido, é **INCORRETO** afirmar que

- A) a delimitação do contexto conduz a restrições que interferem na coerência e coesão plenas.
- B) o locutor é a voz do texto que apresenta as opiniões pessoais acerca do tema abordado.
- C) o leitor, para quem o texto é dirigido, é um sujeito ativo, convidado a interagir com o autor.
- D) a escolha de determinados vocábulos e estruturas do idioma determinam o estilo do texto.

Questão 26

É **CORRETO** afirmar que

- A) a confusão a que o autor se refere se deveu pelo fato de a revista ter ficado por muito tempo naquele consultório odontológico.
- B) a ansiedade a que o autor se refere remete ao desgosto e angústia daqueles pacientes centrados que têm o hábito de ler revistas.
- C) a frase "Pode entrar, é a sua vez" a que o autor se refere representa a novidade desejada pelos pacientes à espera de uma consulta.
- D) a concentração na leitura a que o autor se refere acontece nos consultórios porque os assuntos são muito interessantes.

Questão 27

Entre as perguntas dirigidas ao leitor, a que **NÃO** foi respondida no texto é:

- A) Posso ser sincero?
- B) Como é que eu sei que você não é desses que chegam a uma sala de espera e imediatamente passam a contar seus problemas de saúde nos mínimos detalhes?
- C) Você não acha isso PAVOROSO?
- D) Posso pedir um favor antes de você entrar?

Questão 28

Leia os trechos a seguir.

- I. Choveram *e-mails* indignados.
- II. Ou a ponto de um *checkup*.
- III. [...] e o outro (olho) não desgruda da porta.

É **CORRETO** afirmar que

- A) em I, o verbo “chover” é impessoal.
- B) em I, houve emprego de personificação.
- C) em II, a expressão “a ponto” introduz uma comparação.
- D) em I e em III, os termos “e-mails” e “checkup” são gírias.

Questão 29

Assinale a alternativa em que o termo entre parênteses **NÃO** se refere ao termo sublinhado na frase.

- A) "Outros se deram conta de que esta página só teria toda a graça dali a uns meses". (pacientes)
- B) "Eu quero o meu ASSIM". (do jeito que está na revista)
- C) [...] "de alugar seu ouvido para contar toda a sua vida pregressa". (aquele ali que acabou de chegar)
- D) "Isto ainda poderá ser útil para outras pessoas." (o cesto de revistas)

Questão 30

O trecho em que o verbo sublinhado remete ao futuro em um contexto passado é:

- A) "Você não sabe a confusão que deu quando esta crônica foi publicada."
- B) [...] "pessoas que só lerão o texto quando esta for uma revista de desatualidades?"
- C) "Enquanto isso não acontece, tratamos de buscar apoio em quem está na sala há muito mais tempo do que nós."
- D) "Nesse momento, a única notícia nova que queremos ouvir é 'Pode entrar' " [...]

Conhecimentos Básicos de Informática

Questão 31

Analise as seguintes afirmativas referentes à Internet.

- I. O TCP/IP é o protocolo de comunicação que mantém os dispositivos interligados.
- II. A internet oferece uma ampla variedade de recursos e serviços, inclusive os documentos interligados por meio de hiperligações da *World Wide Web*.
- III. A internet tem uma infraestrutura que suporta serviços como o de correio eletrônico, serviços de comunicação instantâneo e compartilhamento de arquivos.

A partir dessa análise, conclui-se que estão **CORRETAS**:

- A) I e II, apenas.
- B) I e III, apenas.
- C) II e III, apenas.
- D) I, II e III.

Questão 32

Analise o seguinte texto redigido no MS Word.

O **Produto Interno Bruto (PIB)** é a medida, em valor monetário, do total dos bens e serviços finais produzidos para o mercado durante determinado período de tempo dentro de um país.

Qual o estilo da fonte utilizado para destacar Produto Interno Bruto?

- A) Itálico.
- B) Negrito.
- C) Sublinhado.
- D) Tachado.

Questão 33

As normas para apresentação de trabalhos de uma instituição de ensino indicam que os títulos dos capítulos devem ser do tamanho 16.

Qual o recurso de edição do MS Word o aluno deverá executar para atender o estabelecido pela norma?

- A) Formatação de fonte.
- B) Formatação de letra.
- C) Formatação de parágrafo.
- D) *Layout* da página.

Questão 34

Diante das possibilidades de formatações de parágrafos no MS Word 2010, assinale a alternativa que está **INCORRETA**.

- A) Alinhar parágrafo à direita.
- B) Alinhar texto à esquerda.
- C) Centralizar.
- D) Justificar.

Questão 35

Analise as seguintes afirmativas sobre o correio eletrônico na internet.

- I. É um método que permite compor, enviar e receber mensagens através de sistemas eletrônicos de comunicação.
- II. A @ é uma parte do endereço de email.
- III. Os webmails são sistemas para a utilização de correio eletrônico através da Web.

A partir dessa análise, conclui-se que estão **CORRETAS**.

- A) I e II, apenas.
- B) I e III, apenas.
- C) II e III, apenas.
- D) I, II e III.

Questão 36

Qual das ações permite escrever uma equação matemática no MS Word 2010?

- A) Configurar texto.
- B) Formatar texto.
- C) Inserir objeto.
- D) Inserir formato matemático.

Questão 37

Observe as seguintes informações que constam de uma planilha do MS Excel.

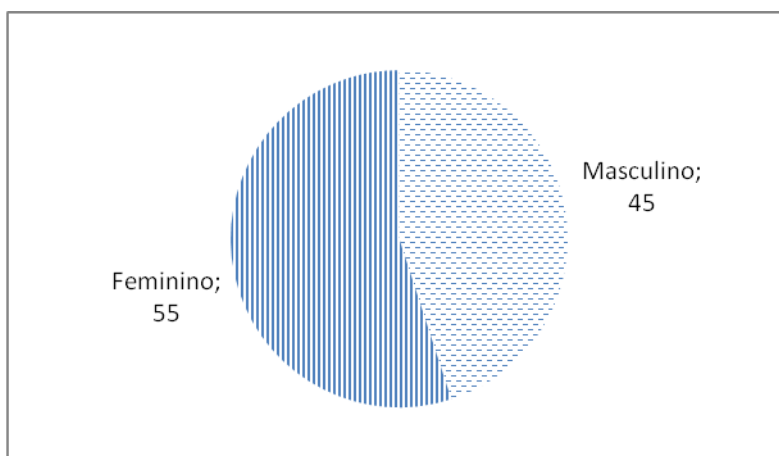
	A	B
1	Mês	Vendas (R\$)
2	Janeiro	500,00
3	Fevereiro	455,00
4	Março	485,00
5	Total	1440,00
6	Média	480,00

Qual a fórmula que calcula a média aritmética mensal mostrada na célula B6?

- A) $=B2+B3+B4/3$
- B) $=(B2+B3+B4+B5)/3$
- C) $=(B2+B3+B4)/3$
- D) $=MÉDIA(B2:B5)$

Questão 38

Observe o gráfico gerado no MS Excel.



Assinale a alternativa que apresenta **CORRETAMENTE** o tipo do gráfico.

- A) Barras.
- B) Colunas.
- C) Dispersão.
- D) Pizza.

Questão 39

Qual a opção do painel de controle do Windows 7 que se deve escolher para remover um *software* aplicativo?

- A) Gerenciador de aplicativos.
- B) Programas e recursos.
- C) Programas do usuário.
- D) *Windows Update*.

Questão 40

Qual das operações do Windows remove um arquivo indesejado?

- A) Criar.
- B) Copiar.
- C) Renomear.
- D) Excluir.

Legislação de Transporte e Trânsito

Questão 41

É **INCORRETO** afirmar que as penalidades para os crimes de trânsito cometidas por condutor de veículo podem ser agravadas se

- A) for alterada a cor do veículo, ainda que esta mudança não afete a segurança.
- B) o veículo estiver sem placas.
- C) causar dano potencial para duas ou mais pessoas ou com grande risco de grave dano patrimonial a terceiros.
- D) ocorrer sobre faixa de trânsito temporária destinada a pedestres.

Questão 42

Em caso de acidente com vítima, envolvendo veículo de transporte coletivo urbano de passageiros equipado com registrador instantâneo de velocidade e tempo, é **CORRETO** afirmar que

- A) somente o representante legal da concessionária de transporte proprietária do veículo poderá retirar o disco ou unidade armazenadora do registro.
- B) somente o agente da autoridade de trânsito poderá retirar o disco ou unidade armazenadora do registro.
- C) somente o oficial que lavrar o boletim de ocorrência poderá retirar o disco ou unidade armazenadora do registro.
- D) somente o perito oficial encarregado do levantamento pericial poderá retirar o disco ou unidade armazenadora do registro.

Questão 43

O recolhimento do Certificado de Registro dar-se-á mediante recibo, além dos casos previstos no Código de Trânsito Brasileiro, quando:

- A) se, alienado o veículo, não for transferida sua propriedade no prazo de quinze dias.
- B) se, alienado o veículo, não for transferida sua propriedade no prazo de trinta dias.
- C) se, alienado o veículo, não for transferida sua propriedade no prazo de sessenta dias.
- D) se, alienado o veículo, não for transferida sua propriedade no prazo de noventa dias.

Questão 44

Quando o infrator cometer, simultaneamente, duas ou mais infrações:

- A) serão aplicadas, cumulativamente, as respectivas penalidades.
- B) será aplicada apenas a penalidade prevista para a primeira infração cometida.
- C) será aplicada apenas a penalidade prevista para a última infração cometida.
- D) será aplicada apenas a penalidade mais gravosa.

Questão 45

Quanto às penalidades estabelecidas no CTB, é **CORRETO** afirmar que

- A) o transportador é o responsável pela infração relativa ao transporte de carga com excesso de peso nos eixos ou quando a carga proveniente de mais de um embarcador ultrapassar o peso bruto total.
- B) o fato de o infrator ser pessoa jurídica o exime do disposto quanto à anotação de pontuação em prontuário.
- C) a infração de natureza leve é punida com multa de valor correspondente a 60 (sessenta) UFIRs.
- D) constatada, em processo administrativo, a irregularidade na expedição do documento de habilitação, a autoridade expedidora promoverá a sua suspensão até o encerramento das apurações de responsabilidade, sem prejuízo das medidas judiciais cabíveis, garantida a ampla defesa.

Noções de Mobilidade Urbana

Questão 46

Conforme o Plano de Mobilidade de Belo Horizonte (PlanMob-BH), é **INCORRETO** afirmar

- A) que o principal objetivo do PlanMob-BH foi propor uma série de intervenções físicas, operacionais e de políticas públicas, de forma articulada e sistêmica, buscando maximizar benefícios para a sociedade.
- B) que o sistema de transporte de ônibus de Belo Horizonte é organizado, atual e efetivamente, segundo o conceito de tronco-alimentação, baseado em linhas de grande capacidade nos eixos principais integrados com linhas que permitam o acesso ao interior dos bairros.
- C) que, para a BHTRANS, mobilidade urbana é o conjunto de deslocamentos de pessoas e bens, com base nos desejos e necessidades de acesso ao espaço urbano, por meio da utilização dos diversos modos de transporte.
- D) que a concentração de atividades econômicas na área central de Belo Horizonte associada à oferta de vagas de estacionamento induz à realização de viagens por automóvel.

Questão 47

A Política Municipal de Mobilidade Urbana instituída em lei estabelece que o Plano Diretor de Mobilidade de Belo Horizonte deve prever a delimitação de áreas prioritárias a serem tratadas por meio de, **EXCETO**:

- A) Pavimentação de vias.
- B) Projeto paisagístico.
- C) Construção ou manutenção de passeios.
- D) Priorização do espaço público como bem comum.

Questão 48

São objetivos da Política Municipal de Mobilidade Urbana em Belo Horizonte ditado pela legislação local aplicável, **EXCETO**:

- A) Proporcionar o acesso amplo e democrático ao espaço urbano.
- B) Priorizar os meios de transporte coletivos de forma inclusiva e sustentável.
- C) Aprimorar a adoção de formas de financiamento e parcerias a serem firmadas.
- D) Priorizar os meios de transporte não motorizados de forma inclusiva e sustentável.

Questão 49

Segundo as orientações do Ministério das Cidades para a elaboração de Plano de Mobilidade Urbana, medidas regulatórias do poder público podem condicionar ou restringir na movimentação de cargas, **EXCETO**:

- A) Regiões e rotas.
- B) Tipos de produtos.
- C) Tipos de usuários.
- D) Tipos de veículos.

Questão 50

O Ministério das Cidades apontou algumas referências para a elaboração de Plano de Mobilidade Urbana. Entre essas referências estão algumas ações que podem melhorar as condições de conforto no uso do transporte público para as mulheres.

Assinale a alternativa que **NÃO** é uma ação referenciada pelo Ministério das Cidades.

- A) Incorporação de elementos de projeto, equipamentos e dispositivos mais adequados à anatomia das mulheres.
- B) Implantação de segurança ostensiva nos pontos de embarque e desembarque do centro das cidades incluindo câmeras de vigilância para controle.
- C) Adoção de políticas tarifárias que facilitem o perfil de deslocamento das mulheres exigidos em sua jornada de trabalho e na condução das tarefas domésticas.
- D) Tratamento adequado dos passeios para garantir segurança nas caminhadas e rebaixamento de guias e de outros dispositivos para a circulação de carrinhos de bebê.

Noções de Administração Pública

Questão 51

Conforme dispositivos da Lei Federal nº 8.429/1992, constitui crime a representação por ato de improbidade contra agente público ou terceiro beneficiário, quando o autor da denúncia o sabe inocente.

Nesse caso, é **CORRETO** afirmar que o denunciante estará sujeito, além das indenizações ao denunciado previstas na Lei, à pena de detenção de

- A) cinco a oito meses e multa.
- B) doze a dezoito meses e multa.
- C) seis a dez meses e multa.
- D) um a dois anos e multa.

Questão 52

O caput do artigo 37 da Constituição Brasileira de 1988 assinala, dentre outros, os seguintes princípios a serem obedecidos pela Administração Pública:

- A) Eficiência, razoabilidade e legalidade.
- B) Eficiência, moralidade e impessoalidade.
- C) Motivação, moralidade e proporcionalidade.
- D) Publicidade, finalidade e legalidade.

Questão 53

Analise as seguintes afirmativas sobre responsabilização dos servidores públicos.

- I. A absolvição na ação penal, por falta de provas ou ausência de dolo, não exclui a culpa administrativa e civil do servidor público que pode, assim, ser punido administrativamente e responsabilizado civilmente.
- II. A responsabilização de que cuida a Constituição é a civil, visto que a administrativa decorre da situação estatutária e a penal está prevista no respectivo Código, em capítulo dedicado aos crimes funcionais.
- III. Uma mesma conduta do servidor público pode configurar ilícito administrativo e ilícito penal, mas o processo administrativo disciplinar somente se inicia após a conclusão do processo crime, caso tenha restado comprovada a autoria.

A partir dessa análise, estão **CORRETAS** as afirmativas

- A) I e II, apenas.
- B) I e III, apenas.
- C) II e III, apenas.
- D) I, II e III.

Questão 54

Analise as afirmativas sobre dispositivos da Lei Federal nº 8.666/1993 e assinale com **V** diante das assertivas **verdadeiras** e com **F** diante das assertivas **falsas**.

- () A declaração de nulidade do contrato administrativo opera a partir da data em que for proferida, não impedindo os efeitos jurídicos que ele, ordinariamente, deveria produzir, além de não desconstituir os já produzidos.
- () O julgamento das propostas apresentadas em regular procedimento de concorrência deve ser feito preliminarmente de acordo com os requisitos constantes do edital, facultando-se aos competidores, antes do julgamento definitivo, a redução de sua proposta.
- () Os contratos administrativos poderão ser alterados unilateralmente pela Administração quando houver modificação do projeto ou das especificações para melhor adequação técnica aos seus objetivos.
- () Quanto à habilitação dos licitantes, é possível condicioná-la à comprovação de que a sede da empresa se situa no território do ente público promotor do certame.

Assinale a alternativa que apresenta a sequência de letras **CORRETA**.

- A) V V V V.
- B) F V V F.
- C) V F F F.
- D) F F V F.

Questão 55

Sobre conceitos associados à administração pública, é **CORRETO** afirmar que

- A) comanda os administrados com responsabilidade constitucional e política, mas sem responsabilidade profissional pela execução.
- B) não pode ser considerada uma atividade neutra, normalmente vinculada à lei ou à norma técnica, mas, sim, atividade política e discricionária.
- C) não pratica atos de governo, pratica tão somente atos de execução, com maior ou menor autonomia funcional, segundo a competência do órgão e de seus agentes.
- D) tem amplo poder de decisão, mesmo fora da área de suas atribuições, e com faculdade de opção política sobre qualquer matéria objeto da apreciação.

FOLHA DE RESPOSTAS

(RASCUNHO)

01	A B C D	21	A B C D	41	A B C D
	<input type="checkbox"/> <input type="checkbox"/> <input type="checkbox"/> <input type="checkbox"/>		<input type="checkbox"/> <input type="checkbox"/> <input type="checkbox"/> <input type="checkbox"/>		<input type="checkbox"/> <input type="checkbox"/> <input type="checkbox"/> <input type="checkbox"/>
02	A B C D	22	A B C D	42	A B C D
	<input type="checkbox"/> <input type="checkbox"/> <input type="checkbox"/> <input type="checkbox"/>		<input type="checkbox"/> <input type="checkbox"/> <input type="checkbox"/> <input type="checkbox"/>		<input type="checkbox"/> <input type="checkbox"/> <input type="checkbox"/> <input type="checkbox"/>
03	A B C D	23	A B C D	43	A B C D
	<input type="checkbox"/> <input type="checkbox"/> <input type="checkbox"/> <input type="checkbox"/>		<input type="checkbox"/> <input type="checkbox"/> <input type="checkbox"/> <input type="checkbox"/>		<input type="checkbox"/> <input type="checkbox"/> <input type="checkbox"/> <input type="checkbox"/>
04	A B C D	24	A B C D	44	A B C D
	<input type="checkbox"/> <input type="checkbox"/> <input type="checkbox"/> <input type="checkbox"/>		<input type="checkbox"/> <input type="checkbox"/> <input type="checkbox"/> <input type="checkbox"/>		<input type="checkbox"/> <input type="checkbox"/> <input type="checkbox"/> <input type="checkbox"/>
05	A B C D	25	A B C D	45	A B C D
	<input type="checkbox"/> <input type="checkbox"/> <input type="checkbox"/> <input type="checkbox"/>		<input type="checkbox"/> <input type="checkbox"/> <input type="checkbox"/> <input type="checkbox"/>		<input type="checkbox"/> <input type="checkbox"/> <input type="checkbox"/> <input type="checkbox"/>
06	A B C D	26	A B C D	46	A B C D
	<input type="checkbox"/> <input type="checkbox"/> <input type="checkbox"/> <input type="checkbox"/>		<input type="checkbox"/> <input type="checkbox"/> <input type="checkbox"/> <input type="checkbox"/>		<input type="checkbox"/> <input type="checkbox"/> <input type="checkbox"/> <input type="checkbox"/>
07	A B C D	27	A B C D	47	A B C D
	<input type="checkbox"/> <input type="checkbox"/> <input type="checkbox"/> <input type="checkbox"/>		<input type="checkbox"/> <input type="checkbox"/> <input type="checkbox"/> <input type="checkbox"/>		<input type="checkbox"/> <input type="checkbox"/> <input type="checkbox"/> <input type="checkbox"/>
08	A B C D	28	A B C D	48	A B C D
	<input type="checkbox"/> <input type="checkbox"/> <input type="checkbox"/> <input type="checkbox"/>		<input type="checkbox"/> <input type="checkbox"/> <input type="checkbox"/> <input type="checkbox"/>		<input type="checkbox"/> <input type="checkbox"/> <input type="checkbox"/> <input type="checkbox"/>
09	A B C D	29	A B C D	49	A B C D
	<input type="checkbox"/> <input type="checkbox"/> <input type="checkbox"/> <input type="checkbox"/>		<input type="checkbox"/> <input type="checkbox"/> <input type="checkbox"/> <input type="checkbox"/>		<input type="checkbox"/> <input type="checkbox"/> <input type="checkbox"/> <input type="checkbox"/>
10	A B C D	30	A B C D	50	A B C D
	<input type="checkbox"/> <input type="checkbox"/> <input type="checkbox"/> <input type="checkbox"/>		<input type="checkbox"/> <input type="checkbox"/> <input type="checkbox"/> <input type="checkbox"/>		<input type="checkbox"/> <input type="checkbox"/> <input type="checkbox"/> <input type="checkbox"/>
11	A B C D	31	A B C D	51	A B C D
	<input type="checkbox"/> <input type="checkbox"/> <input type="checkbox"/> <input type="checkbox"/>		<input type="checkbox"/> <input type="checkbox"/> <input type="checkbox"/> <input type="checkbox"/>		<input type="checkbox"/> <input type="checkbox"/> <input type="checkbox"/> <input type="checkbox"/>
12	A B C D	32	A B C D	52	A B C D
	<input type="checkbox"/> <input type="checkbox"/> <input type="checkbox"/> <input type="checkbox"/>		<input type="checkbox"/> <input type="checkbox"/> <input type="checkbox"/> <input type="checkbox"/>		<input type="checkbox"/> <input type="checkbox"/> <input type="checkbox"/> <input type="checkbox"/>
13	A B C D	33	A B C D	53	A B C D
	<input type="checkbox"/> <input type="checkbox"/> <input type="checkbox"/> <input type="checkbox"/>		<input type="checkbox"/> <input type="checkbox"/> <input type="checkbox"/> <input type="checkbox"/>		<input type="checkbox"/> <input type="checkbox"/> <input type="checkbox"/> <input type="checkbox"/>
14	A B C D	34	A B C D	54	A B C D
	<input type="checkbox"/> <input type="checkbox"/> <input type="checkbox"/> <input type="checkbox"/>		<input type="checkbox"/> <input type="checkbox"/> <input type="checkbox"/> <input type="checkbox"/>		<input type="checkbox"/> <input type="checkbox"/> <input type="checkbox"/> <input type="checkbox"/>
15	A B C D	35	A B C D	55	A B C D
	<input type="checkbox"/> <input type="checkbox"/> <input type="checkbox"/> <input type="checkbox"/>		<input type="checkbox"/> <input type="checkbox"/> <input type="checkbox"/> <input type="checkbox"/>		<input type="checkbox"/> <input type="checkbox"/> <input type="checkbox"/> <input type="checkbox"/>
16	A B C D	36	A B C D		
	<input type="checkbox"/> <input type="checkbox"/> <input type="checkbox"/> <input type="checkbox"/>		<input type="checkbox"/> <input type="checkbox"/> <input type="checkbox"/> <input type="checkbox"/>		
17	A B C D	37	A B C D		
	<input type="checkbox"/> <input type="checkbox"/> <input type="checkbox"/> <input type="checkbox"/>		<input type="checkbox"/> <input type="checkbox"/> <input type="checkbox"/> <input type="checkbox"/>		
18	A B C D	38	A B C D		
	<input type="checkbox"/> <input type="checkbox"/> <input type="checkbox"/> <input type="checkbox"/>		<input type="checkbox"/> <input type="checkbox"/> <input type="checkbox"/> <input type="checkbox"/>		
19	A B C D	39	A B C D		
	<input type="checkbox"/> <input type="checkbox"/> <input type="checkbox"/> <input type="checkbox"/>		<input type="checkbox"/> <input type="checkbox"/> <input type="checkbox"/> <input type="checkbox"/>		
20	A B C D	40	A B C D		
	<input type="checkbox"/> <input type="checkbox"/> <input type="checkbox"/> <input type="checkbox"/>		<input type="checkbox"/> <input type="checkbox"/> <input type="checkbox"/> <input type="checkbox"/>		

AO TRANSFERIR ESSAS MARCAÇÕES PARA A FOLHA DE RESPOSTAS, OBSERVE AS INSTRUÇÕES ESPECÍFICAS DADAS NA CAPA DA PROVA.

USE CANETA ESFEROGRÁFICA AZUL OU PRETA.

**ATENÇÃO:
AGUARDE AUTORIZAÇÃO
PARA VIRAR O CADERNO DE PROVA.**