



GOVERNO DO ESTADO DE SÃO PAULO
FUNDAÇÃO INSTITUTO DE TERRAS DO ESTADO DE SÃO PAULO

CONCURSO PÚBLICO

8. PROVA OBJETIVA
Conhecimentos Gerais e Conhecimentos Específicos

TÉCNICO EM DESENVOLVIMENTO FUNDIÁRIO
Apoio à Regularização Fundiária e Cadastro Físico

INSTRUÇÕES

- ♦ VOCÊ RECEBEU SUA FOLHA DE RESPOSTAS E ESTE CADERNO CONTENDO 50 QUESTÕES OBJETIVAS.
- ♦ CONFIRA SEU NOME E NÚMERO DE INSCRIÇÃO IMPRESSOS NA CAPA DESTES CADERNO.
- ♦ LEIA CUIDADOSAMENTE AS QUESTÕES E ESCOLHA A RESPOSTA QUE VOCÊ CONSIDERA CORRETA.
- ♦ RESPONDA A TODAS AS QUESTÕES.
- ♦ ASSINALE NA FOLHA DE RESPOSTAS, COM CANETA DE TINTA AZUL OU PRETA, A ALTERNATIVA QUE JULGAR CERTA.
- ♦ A DURAÇÃO DA PROVA É DE 3 HORAS.
- ♦ A SAÍDA DO CANDIDATO DO PRÉDIO SERÁ PERMITIDA APÓS TRANSCORRIDA A METADE DO TEMPO DE DURAÇÃO DA PROVA OBJETIVA.
- ♦ AO SAIR, VOCÊ ENTREGARÁ AO FISCAL A FOLHA DE RESPOSTAS E LEVARÁ ESTE CADERNO.

AGUARDE A ORDEM DO FISCAL PARA ABRIR ESTE CADERNO DE QUESTÕES.

CONHECIMENTOS GERAIS

LÍNGUA PORTUGUESA

01. Leia a charge.



(www.chargeonline.com.br)

Considerando o contexto e que há apenas 3 personagens na charge, o espaço da primeira frase deve ser preenchido, segundo a norma culta, com

- (A) para livrá-lo!
- (B) para lhe livrar!
- (C) para livrar ele!
- (D) para livrar-lhe!
- (E) para livrar-lhes!

As questões de números 02 a 17 baseiam-se no texto.

Êxito da fiscalização

Os primeiros balanços da chamada lei seca demonstram com precisão a necessidade de impedir que álcool e volante se misturem.

A Polícia Militar Rodoviária de São Paulo registrou redução de 15,3% no número de acidentes com vítimas e de 8,8% na quantidade de mortes nas rodovias do Estado na comparação entre as estatísticas de 1.º a 20 de julho de 2008 – quando a lei seca já estava em vigor – e os dados do mesmo período de 2007.

Na capital paulista, o efeito foi ainda mais gritante. Estudo do Instituto Médico Legal mostrou queda de 63% no número de mortes em desastres automobilísticos quando se comparam as quintas, sextas, sábados e domingos das primeiras três semanas sob a nova lei com igual período do mês de junho.

O conceito por trás da lei seca é corretíssimo. Se a pessoa opta por beber, precisa renunciar momentaneamente a dirigir. Ninguém tem o direito de colocar em risco a vida de terceiros.

A nova norma, entretanto, peca por exageros e tem pelo menos uma grave falha técnica: há sólida jurisprudência atestando que ninguém é obrigado a produzir prova contra si mesmo. Assim, é bastante provável que o uso do bafômetro ou a coleta de sangue sejam *rechaçados* como meio de prova nos tribunais. Alguns motoristas que ingressaram com ações já obtiveram liminares isentando-os dos testes. A confirmar-se esse entendimento, a nova legislação será menos efetiva do que a anterior.

É o caso, portanto, de rapidamente corrigir o diploma, de modo a despi-lo de seus excessos – como a pena de detenção – e equívocos jurídicos. Mais importante, é fundamental não desmobilizar as operações policiais de fiscalização. Não é necessário muito mais do que bom senso para concluir que o êxito na redução de óbitos se deve muito mais ao surgimento de uma fiscalização sistemática do que aos novos rigores legislativos.

(Folha de S.Paulo, 23.07.2008. Adaptado)

Vocabulário:

- *jurisprudência*: interpretação que os tribunais dão à lei.
- *diploma*: lei.

02. As informações dos dois primeiros parágrafos do texto confirmam que

- (A) é perigoso dirigir um veículo sem que haja ingestão de álcool.
- (B) a direção de veículos é mais agradável quando se ingere álcool.
- (C) não há problema de se misturar álcool e direção de veículos.
- (D) o álcool é um perigo se estiver associado à direção de veículos.
- (E) se deve dirigir um veículo sempre que se ingerir álcool.

03. Comparando os dados dos acidentes nas estradas com os dos acidentes na cidade de São Paulo, constata-se que os resultados da chamada lei seca

- (A) tiveram um impacto bem maior nas rodovias.
- (B) não foram significativos quanto à redução de acidentes.
- (C) tiveram um impacto muito maior na cidade.
- (D) ainda não permitem uma análise confiável.
- (E) mostram que ela certamente é ineficaz.

04. De acordo com o texto, um risco quanto à aplicação da nova lei diz respeito ao fato de

- (A) não ser obrigatório uma pessoa produzir prova contra si mesma.
- (B) as pessoas se disporem, sem restrições, a realizar o teste do bafômetro.
- (C) haver lei que obrigue a coleta de sangue para produzir prova.
- (D) as pessoas não saberem que é obrigatório realizar o teste do bafômetro.
- (E) as pessoas não entrarem com liminar após o teste do bafômetro.

05. De acordo com o ponto de vista do autor,

- (A) a lei seca é fraca, pois não prevê a pena de detenção.
- (B) a pena de detenção é um excesso da chamada lei seca.
- (C) a lei seca deveria prever mais rigor na pena de detenção.
- (D) a pena de detenção evitaria equívocos jurídicos.
- (E) a lei seca é justa por contemplar a pena de detenção.

06. Considere as afirmações:

- I. aplicação da lei sem que haja alterações em seu teor;
- II. detenção dos motoristas que desobedecerem à chamada lei seca;
- III. manutenção das operações policiais de fiscalização.

O ponto de vista do autor está expresso apenas em

- (A) I.
- (B) II.
- (C) III.
- (D) I e II.
- (E) I e III.

Para responder às questões de números 07 a 09, considere o trecho:

É o caso, portanto, de rapidamente corrigir o diploma, de modo a despi-lo de seus excessos – como a pena de detenção – e equívocos jurídicos.

07. As informações do trecho deixam evidente que a correção da chamada lei seca tem por objetivo

- (A) torná-la mais agressiva, evitando excessos dos infratores.
- (B) acrescentar regras, como a pena de detenção.
- (C) pôr em prática a aplicação dos equívocos jurídicos.
- (D) torná-la ágil, para garantir a aplicação da pena de detenção.
- (E) retirar-lhe os equívocos jurídicos e o que for redundante.

08. De acordo com o trecho, é _____ que a chamada lei seca deve ser _____, ou seja, corrigida.

Os espaços da frase devem preenchidos, respectivamente, com

- (A) flagrante ... ratificada
- (B) flagrante ... retificada
- (C) flagrante ... emendada
- (D) flagrante ... ratificada
- (E) flagrante ... retificada

09. No trecho, a conjunção *portanto* expressa sentido de

- (A) tempo.
- (B) adversidade.
- (C) adição.
- (D) conclusão.
- (E) condição.

10. Em sua conclusão, o autor mostra que a redução de óbitos deve ser atribuída

- (A) muito mais à fiscalização policial do que ao rigor da lei.
- (B) a uma fiscalização policial bem menos ostensiva.
- (C) à ineficácia das ações policiais de fiscalização.
- (D) à rigorosa lei combinada à fraca fiscalização policial.
- (E) à ausência absoluta de fiscalização policial.

11. No penúltimo parágrafo do texto, o termo *rechaçados*, significa

- (A) considerados.
- (B) aceitos.
- (C) analisados.
- (D) apresentados.
- (E) rebatidos.

12. No primeiro parágrafo do texto, a expressão “com precisão” expressa sentido de _____ e pode ser substituída, sem alteração de sentido, por _____.

Completam os espaços da frase, respectivamente, os termos:

- (A) afirmação ... preciosamente
- (B) modo ... precisamente
- (C) intensidade ... precipitadamente
- (D) tempo ... precisamente
- (E) afirmação ... precipitadamente

13. Considere a frase: *Se a pessoa opta por beber, precisa renunciar momentaneamente a dirigir.*

A forma verbal “precisa” mantém-se inalterada se “opta” for substituída por

- (A) optou.
- (B) optava.
- (C) optara.
- (D) optasse.
- (E) optaria.

14. Em – *Estudo do Instituto Médico Legal mostrou queda de 63%...* – o antônimo da palavra *queda* é
- (A) baixa.
(B) continuidade.
(C) aumento.
(D) proporção.
(E) tendência.
15. Assinale a alternativa em que a frase está corretamente pontuada.
- (A) O efeito, na capital paulista foi ainda mais gritante.
(B) O efeito na capital paulista, foi ainda mais gritante.
(C) O efeito, foi na capital paulista, ainda mais gritante.
(D) O efeito, na capital paulista, foi ainda mais gritante.
(E) O efeito foi, na capital paulista ainda mais gritante.
16. Considere as frases.
- I. Se as pessoas optam por beber, precisa renunciar momentaneamente a dirigir.
II. As pessoas não têm o direito de colocar em risco a vida de terceiros.
III. As pessoas não são obrigado a produzir prova contra si mesmo.
- Quanto à concordância, está correto apenas o contido em
- (A) I.
(B) II.
(C) III.
(D) I e II.
(E) I e III.
17. Assinale a alternativa em que a preposição “de” expressa sentido de tempo.
- (A) ... a necessidade de impedir que álcool e volante se misturem.
(B) A Polícia Militar Rodoviária de São Paulo registrou redução de 15,3%...
(C) ... no número de acidentes com vítimas...
(D) ... com igual período do mês de junho.
(E) ... o uso do bafômetro ou a coleta de sangue sejam rechaçados...
18. Assinale a alternativa correta quanto à regência verbal.
- (A) Há pessoas que preferem beber mais do que dirigir.
(B) Há pessoas que preferem mais beber do que dirigir.
(C) Há pessoas que preferem beber que dirigir.
(D) Há pessoas que preferem mais beber a que dirigir.
(E) Há pessoas que preferem beber a dirigir.
19. Assinale a frase correta quanto ao emprego do acento indicativo da crase.
- (A) A Polícia divulgou à redução de 15,3% no número de acidentes com vítimas.
(B) Analisando os dados de quinta à domingo, constatou-se queda no número de mortes.
(C) Optando por beber, uma pessoa deve renunciar à direção do veículo.
(D) A lei seca entrou em vigor à partir de junho de 2008.
(E) A lei seca vai ser aplicada à motoristas alcoolizados.
20. Considere as informações:
- PM _____ 266 em blitz da Lei Seca, multa 15 e prende dois.
(www.estadao.com.br/cidades/not_cid201061,0.htm)
 - Nesta terça-feira, integrantes das polícias Civil, Militar e Técnico-Científica estiveram reunidos com advogados, promotores de justiça e _____ para decidir ajustes nos procedimentos administrativos referentes à lei federal 11.705, que trata da _____ no trânsito.
(www.oglobo.globo.com/sp/transito/mat, 01.07.2008)
- Os espaços das frases devem ser preenchidos, respectivamente, com
- (A) pára ... juízes ... embriaguêz
(B) para ... juizes ... embriaguêz
(C) pára ... juizes ... embriaguêz
(D) para ... juízes ... embriaguez
(E) pára ... juízes ... embriaguez

ADMINISTRAÇÃO PÚBLICA

21. O dever administrativo de manter plena transparência em seus atos resulta no princípio da
- (A) razoabilidade.
 - (B) publicidade.
 - (C) proporcionalidade.
 - (D) supremacia do interesse público.
 - (E) finalidade.
22. A disposição da Constituição Federal segundo a qual: “ninguém será obrigado a fazer ou deixar de fazer alguma coisa senão em virtude de lei” implica o princípio da
- (A) legalidade.
 - (B) razoabilidade.
 - (C) supremacia do interesse público.
 - (D) obrigatoriedade do serviço público.
 - (E) moralidade administrativa.
23. Os mesmos fundamentos do princípio da legalidade se radicam ao princípio da
- (A) proporcionalidade.
 - (B) moralidade.
 - (C) impessoalidade.
 - (D) finalidade.
 - (E) publicidade.
24. O ato administrativo quando está disponível para a produção de seus efeitos próprios é
- (A) perfeito.
 - (B) válido.
 - (C) vigente.
 - (D) justo.
 - (E) eficaz.
25. O revestimento exterior do ato administrativo chama-se
- (A) conteúdo.
 - (B) objeto.
 - (C) forma.
 - (D) motivo.
 - (E) possibilidade.
26. É atributo do ato administrativo:
- (A) imperatividade.
 - (B) formalidade.
 - (C) finalidade.
 - (D) validade.
 - (E) eficácia.
27. A manifestação opinativa de um órgão consultivo expendendo sua apreciação técnica sobre o que lhe é submetido é chamado de
- (A) ofício.
 - (B) parecer.
 - (C) portaria.
 - (D) resolução.
 - (E) instrução.
28. A extinção de um ato administrativo ou de seus efeitos por outro ato administrativo, efetuada por razões de conveniência e oportunidade, respeitando-se os efeitos precedentes é feita por
- (A) cassação.
 - (B) contraposição.
 - (C) invalidação.
 - (D) revogação.
 - (E) caducidade.
29. O processo administrativo inicia-se pela fase
- (A) instrutória.
 - (B) probatória.
 - (C) propulsória.
 - (D) dispositiva.
 - (E) de comunicação.
30. O Princípio de acordo com o qual a Administração, em todo o transcurso do processo administrativo, está adstrita a agir de forma lhana, sincera corresponde a
- (A) verdade material.
 - (B) ampla instrução probatória.
 - (C) oficialidade.
 - (D) revisibilidade.
 - (E) lealdade e boa-fé.

CONHECIMENTOS ESPECÍFICOS

31. Identifique a alternativa que corresponda ao limite máximo implantado pela Constituição Federal de 1988, através do artigo 191, para reconhecimento do direito de posse.

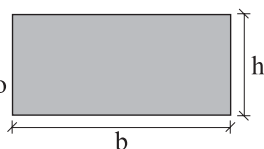
- (A) 25 hectares.
- (B) 50 hectares.
- (C) 2 500 hectares.
- (D) 5 hectares.
- (E) 3 000 hectares.

32. Identifique entre as alternativas aquela que corresponde ao instrumento de levantamento de dados em que são anotadas as características de cada unidade imobiliária, para o lançamento de tributos imobiliários e outras aplicações em planejamento. Ele contém campos para registro dos seguintes dados do imóvel: inscrição cadastral, dados de localização tais como nome do logradouro, n.º predial, bairro, CEP; dados do proprietário ou compromissário do imóvel, como, por exemplo, endereço, telefone, CPF, matrículas existentes no cartório de registro de imóveis, etc.; dados do logradouro relativos aos serviços públicos e melhoramentos; dados do terreno relativos à topografia, situação do imóvel na quadra, tipo de solo, etc.; dados da construção interessando as edificações erigidas sobre o terreno em questão, tais como padrão, uso, idade aparente, idade real, testadas, croqui e as datas de execução das vistorias e dos aumentos de área construída.

- (A) Relatório de Impacto Ambiental – RIMA.
- (B) Cadastro de Imóvel Rural – CIR.
- (C) Parecer Técnico Ambiental – PTA.
- (D) Boletim de Informação Cadastral – BIC.
- (E) Estudo de Unidades Rurais – EUR.

33. Observe a figura geométrica a seguir e identifique a alternativa que apresenta a área correspondente de um imóvel semelhante que possua uma base (b) de 100 metros e uma altura (h) de 50 metros.

b – base do retângulo
h – altura do retângulo



- (A) 150 m².
- (B) 500 m².
- (C) 2 500 m².
- (D) 50 m².
- (E) 5 000 m².


34. Os posseiros de uma área de terras devolutas do sul de São Paulo cortaram 10 lotes rigorosamente quadrados de um hectare de área para abertura de suas posses, uma contígua à outra. Pergunta-se: qual é a extensão do perímetro total desta área ocupada pelos 10 lotes?

- (A) 2 200 metros.
- (B) 5 500 metros.
- (C) 2 000 metros.
- (D) 1 100 metros
- (E) 4 000 metros.

35. Quais são os dois principais objetivos da Fundação Instituto de Terras do Estado de São Paulo “José Gomes da Silva” – ITESP expressos no artigo 2.º da Lei n.º 10.207 de 08 de Janeiro de 1999?

- (A) Desenvolver uma política de produção de etanol nos assentamentos estaduais.
- (B) Desapropriar terras federais para a reforma agrária no estado.
- (C) Planejar e executar as políticas agrária e fundiária no âmbito de sua jurisdição.
- (D) Expropriar as terras ocupadas pelas populações quilombolas para assentamento de sem terra.
- (E) Planejar e destinar as terras devolutas a grandes proprietários para formar mais latifúndios.

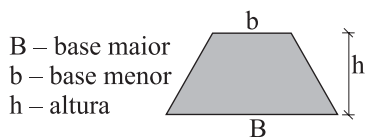
36. Assinale a alternativa que indica as direções apontadas na rosa dos ventos, seguindo a ordem numérica de 1 a 5.



- (A) SSW, NNW, E, S, SW.
- (B) SW, ENE, W, N, SE.
- (C) SSE, NW, S, W, WSW.
- (D) WSW, NE, N, E, ESE.
- (E) SE, NNE, E, S, WNW.

37. As direções NNE, SSE, WNW e ESE na rosa dos ventos são denominadas pontos
- (A) colaterais.
 (B) cardeais.
 (C) elípticos.
 (D) sub-colaterais.
 (E) solstícios.

38. Um topógrafo efetuou o levantamento do perímetro de um imóvel rural que possuía as seguintes medições em metros lineares: Base maior (B): 2000 metros; Base menor (b): 1 000 metros e Altura (h): 100 metros. Assinale a alternativa que corresponde a sua área medida em hectares.



- (A) 15 hectares.
 (B) 30 hectares.
 (C) 1 000 hectares.
 (D) 500 hectares.
 (E) 100 hectares.

39. Uma planta de um imóvel elaborada na escala de 1:100, guarda uma relação correspondente entre as medidas no terreno e na carta. Assinale a alternativa cuja medida no imóvel corresponda na planta a 5 mm.
- (A) 5 metros.
 (B) 50 metros.
 (C) 5 000 metros.
 (D) 150 metros.
 (E) 500 metros.

40. Assinale a alternativa que indica o instrumento de coleta de dados de um imóvel rural abrangendo informações do proprietário e/ou posseiro, localização e identificação do imóvel, documentação e situação jurídica, características do imóvel, infra-estrutura, atividades agropecuárias, máquinas, implementos e veículos, croqui da área, observações gerais e parecer dos técnicos responsáveis pelo seu levantamento.

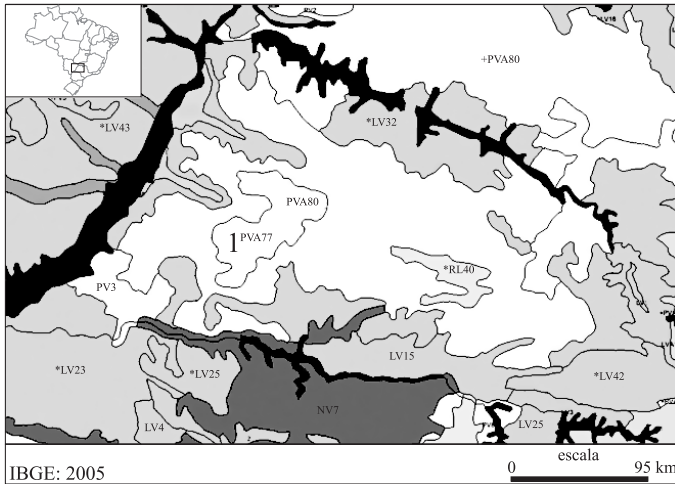
- (A) Estudo de Impacto Ambiental – EIA.
 (B) Parecer Técnico Rural – PTR.
 (C) Laudo de Identificação Fundiária – LIF.
 (D) Perícia de Acidentes Rurais – PAR.
 (E) Ficha Cadastral do Pronaf – FCP.

41. A imagem de satélite a seguir, refere-se à parte do Bairro Reforma Agrária, localizado entre os municípios de Valinhos e Campinas. Analise-a e assinale a alternativa que corresponda a um dos elementos passíveis de ser nela identificados.



- (A) Número de pessoas residentes.
 (B) Ausência de atividade produtiva rural.
 (C) Presença de pecuária de corte.
 (D) Divisa dos lotes rurais.
 (E) Fachada das residências.

42. O mapa de solos do IBGE a seguir mostra em detalhe a região do Pontal do Paranapanema, área de presença de terras devolutas e de forte presença de movimentos sócioterritoriais que lutam pela reforma agrária. Analise o mapa e assinale a alternativa que corresponde ao tipo de solo mais comum nessa região, indicado pelo número 1.

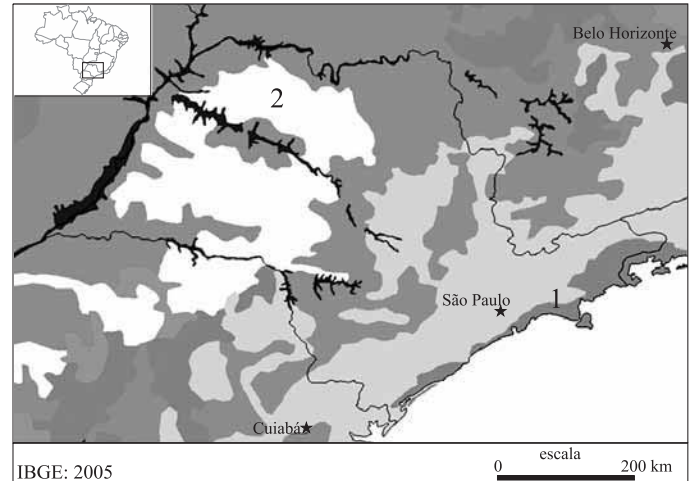


- (A) Cambissolo Húmico.
 (B) Chernossolo Ebânico.
 (C) Argiloso Vermelho-Amarelo.
 (D) Gleissolo Ferrocárbico.
 (E) Planossolo Hidromórfico.
43. Identifique a alternativa que apresenta a figura geométrica cuja fórmula, apresentada a seguir, é utilizada para efetuar o cálculo de sua área.

$$A = \pi r^2$$

- (A) Círculo.
 (B) Trapézio.
 (C) Triângulo.
 (D) Hexágono.
 (E) Poliedro.

44. O mapa do IBGE a seguir, apresenta o potencial agrícola do Estado de São Paulo. Indique a alternativa que corresponda aos atributos das áreas identificadas pelos números 1 e 2, respectivamente.



- (A) Regular e Desfavorável.
 (B) Desfavorável e Boa.
 (C) Boa e Restrita.
 (D) Restrita e Regular.
 (E) Excepcional e Péssima.
45. Assinale a alternativa que apresenta o instrumento jurídico de identificação cartorial dos registros sucessivos dos títulos atuais e anteriores até a origem de um imóvel, pois a confirmação da propriedade privada só se caracteriza quando o domínio da terra sai do patrimônio público para o particular.
- (A) Procuração.
 (B) Esbulho possessório.
 (C) Usucapião.
 (D) Ação ordinária.
 (E) Cadeia dominial.
46. Na hipótese de desapropriação pela União, por interesse social, para fins de reforma agrária, de imóvel rural que não esteja cumprindo sua função social, prevê a Constituição Federal, no seu art. 184, § 1º, que serão indenizadas em dinheiro somente as benfeitorias
- (A) necessárias.
 (B) úteis.
 (C) recentes.
 (D) necessárias e as úteis.
 (E) necessárias e as recentes.

47. Prevê o art. 191, da Constituição Federal, que aquele que, não sendo proprietário de imóvel rural ou urbano, possua como seu, por cinco anos ininterruptos, sem oposição, área de terra, em zona rural, tornando-a produtiva por seu trabalho ou de sua família, tendo nela sua moradia, adquirir-lhe-á a propriedade, desde que a área não seja superior a
- (A) 05 hectares.
 - (B) 10 hectares.
 - (C) 20 hectares.
 - (D) 25 hectares.
 - (E) 50 hectares.
48. Dispõe o art. 184, do Capítulo III (Da Política Agrícola, Agrária e Fundiária), do Título VI (Da Ordem Econômica), da Constituição do Estado de São Paulo, dentre os seus incisos, que caberá ao Estado, com a cooperação dos Municípios:
- I. orientar o desenvolvimento rural, mediante zoneamento agrícola inclusive;
 - II. manter um sistema de defesa sanitária animal e vegetal;
 - III. criar sistema de inspeção e fiscalização de insumos agropecuários;
 - IV. manter e incentivar a pesquisa agropecuária.
- Estão corretos os itens:
- (A) I, II, III e IV.
 - (B) I, II e III, apenas.
 - (C) I, II e IV, apenas.
 - (D) I, III e IV, apenas.
 - (E) II, III e IV, apenas.
49. A Constituição do Estado de São Paulo estabelece em seu art. 184, § 2.º, que o Estado, mediante lei, criará um Conselho de Desenvolvimento Rural, com objetivo de propor diretrizes à sua política agrícola, garantida a participação de
- I. representantes da comunidade agrícola, tecnológica e agrônômica;
 - II. organismos governamentais;
 - III. setores empresariais e de trabalhadores;
 - IV. institutos de pesquisa.
- Estão corretos os itens:
- (A) I, II, III e IV.
 - (B) I, II e III, apenas.
 - (C) I, II e IV, apenas.
 - (D) I, III e IV, apenas.
 - (E) II, III e IV, apenas.
50. O Diretor Executivo da Fundação Instituto de Terras do Estado de São Paulo “José Gomes da Silva” – ITESP, de acordo com o art. 16, § 1.º, da Lei n.º 10.207/99, será nomeado pelo Governador, entre os membros de uma lista tríplice encaminhada pelo Conselho Curador, composta por pessoas de reputação ilibada e de notório conhecimento nas áreas de política agrária e de regularização fundiária, para um mandato
- (A) de 01 ano.
 - (B) de 02 anos.
 - (C) de 03 anos.
 - (D) de 05 anos.
 - (E) por prazo indeterminado.