



GOVERNO DO ESTADO DE SÃO PAULO
FUNDAÇÃO INSTITUTO DE TERRAS DO ESTADO DE SÃO PAULO

CONCURSO PÚBLICO

29. PROVA OBJETIVA
Conhecimentos Gerais e Conhecimentos Específicos

ANALISTA DE DESENVOLVIMENTO FUNDIÁRIO
Análise Espacial

INSTRUÇÕES

- ♦ VOCÊ RECEBEU SUA FOLHA DE RESPOSTAS E ESTE CADERNO CONTENDO 50 QUESTÕES OBJETIVAS.
- ♦ CONFIRA SEU NOME E NÚMERO DE INSCRIÇÃO IMPRESSOS NA CAPA DESTA CADERNO.
- ♦ LEIA CUIDADOSAMENTE AS QUESTÕES E ESCOLHA A RESPOSTA QUE VOCÊ CONSIDERA CORRETA.
- ♦ RESPONDA A TODAS AS QUESTÕES.
- ♦ ASSINALE NA FOLHA DE RESPOSTAS, COM CANETA DE TINTA AZUL OU PRETA, A ALTERNATIVA QUE JULGAR CERTA.
- ♦ A DURAÇÃO DA PROVA É DE 3 HORAS.
- ♦ A SAÍDA DO CANDIDATO DO PRÉDIO SERÁ PERMITIDA APÓS TRANSCORRIDA A METADE DO TEMPO DE DURAÇÃO DA PROVA OBJETIVA.
- ♦ AO SAIR, VOCÊ ENTREGARÁ AO FISCAL A FOLHA DE RESPOSTAS E LEVARÁ ESTE CADERNO.

AGUARDE A ORDEM DO FISCAL PARA ABRIR ESTE CADERNO DE QUESTÕES.

CONHECIMENTOS GERAIS

LÍNGUA PORTUGUESA

Leia o texto para responder às questões de números **01** a **06**.

Nova espécie de planta no Rio

Não é a Amazônia – são apenas 3 hectares (1 hectare [ha] equivale a 10 mil m²) cravados no meio da cidade do Rio de Janeiro, atrás do Palácio da Guanabara, em Laranjeiras. Mas ainda assim esse pequeno resquício de Mata Atlântica guarda surpresas, como a *Calathea reginae*, uma nova espécie de planta que acaba de ser descrita por um pesquisador do Jardim Botânico do Rio de Janeiro (JBRJ). Pertencente à família *Marantaceae*, a *C. reginae* já havia sido coletada em 1971, atrás do Colégio Santo Inácio, mas a sua descrição e classificação só foram possíveis com a nova descoberta. “Para dar um nome científico a uma nova espécie, não basta apenas ter um exemplar da planta, precisamos de amostras da flor, do fruto, etc.”, conta o botânico João Marcelo Alvarenga Braga, do JBRJ.

Para ele, a grande importância do achado é a de mostrar que, mesmo em lugares muito desenvolvidos e afetados pelo homem, ainda é possível encontrar organismos desconhecidos. “Se é assim no Rio, imagine na Amazônia”, ressalta Braga. Mas nem tudo são flores para o novo vegetal carioca – a espécie já ‘nasceu’ em risco de extinção. Segundo o botânico, a *C. reginae* é uma planta endêmica local, ou seja, só existe naquele fragmento de mata. “Há somente um pouco mais de 20 indivíduos dessa espécie”, revela Braga.

Ele espera que o achado mostre a importância de se preservarem os resquícios de mata ainda existentes na cidade. “Começamos um projeto nesse sentido, pois propor salvar uma espécie sem garantir a preservação do seu habitat é o mesmo que deixá-la se extinguir”, conclui o botânico.

(Revista *Ciência Hoje*, junho de 2008. Adaptado)

01. De acordo com a leitura do texto, pode-se afirmar que

- (A) em algumas cidades, como no Rio de Janeiro, são encontradas espécies exóticas de plantas típicas da região amazônica.
- (B) a presença de espécies endêmicas põe em risco a preservação de trechos da Mata Atlântica.
- (C) os botânicos estão preocupados com a proliferação de um novo vegetal carioca, cujas características ainda são desconhecidas.
- (D) o Jardim Botânico do Rio de Janeiro, desde 1971, pesquisa todos os locais em que há a presença da *Calathea reginae*.
- (E) a preservação da Mata Atlântica, mesmo em locais urbanos, faz-se necessária para evitar a extinção das espécies.

02. A *Calathea reginae*

- (A) é uma espécie vegetal muito peculiar de áreas próximas a centros urbanos.
- (B) já era conhecida dos botânicos.
- (C) é uma planta que está em extinção desde 1971.
- (D) faz parte de um projeto do Jardim Botânico do Rio de Janeiro.
- (E) só pôde ser conhecida quando houve a devastação de trechos da Mata Atlântica.

03. Em – ... a espécie já ‘nasceu’ em risco de extinção. – a expressão em destaque significa que

- (A) é um vegetal que está ameaçado por causa da poluição.
- (B) há dificuldades para se classificar esse vegetal.
- (C) não há muita quantidade da espécie.
- (D) o seu habitat não permite que os pesquisadores tenham mais dados sobre a planta.
- (E) a ausência de informações sobre seus frutos dificulta uma classificação científica.

04. Em – ... a *C. reginae* é uma planta endêmica local, ... – a expressão destacada, *endêmica*, significa

- (A) nativa.
- (B) distinta.
- (C) desconhecida.
- (D) similar.
- (E) comestível.

05. Segundo o botânico João Marcelo Alvarenga Braga,

- (A) as pesquisas acerca da descoberta de uma planta da família *Marantaceae* ainda não foram concluídas.
- (B) há muita dificuldade para encontrar espécimes da *C. reginae* na Amazônia.
- (C) é necessário conservar áreas verdes, mesmo que estejam no meio das cidades.
- (D) a preservação das matas deve ser de responsabilidade do Jardim Botânico.
- (E) há muitos organismos vegetais desconhecidos próximos ao Palácio da Guanabara.

06. No trecho – Para ele, a grande importância do achado é a de mostrar que, mesmo em lugares muito desenvolvidos e afetados pelo homem... – a expressão em destaque estabelece relação de

- (A) adversidade.
- (B) explicação.
- (C) conclusão.
- (D) concessão.
- (E) causa.

- 07.** Assinale a alternativa correta quanto ao uso/colocação de pronomes, de acordo com a norma culta.
- (A) *Se* espera que a nova espécie de planta seja mais pesquisada pelos botânicos.
- (B) – Entre *eu* e o Jardim Botânico há uma parceria para elaborar um projeto de preservação da Mata Atlântica – disse o botânico.
- (C) – Para *mim* continuar a pesquisa com a *C. reginae*, será necessário observar a espécie em outros ambientes.
- (D) Quanto às novas espécies de plantas descobertas na cidade do Rio de Janeiro, os pesquisadores que preocupam-se com seu estudo estão desanimados.
- (E) Não *se* pode salvar a espécie se não houver preservação do seu habitat.
- 08.** Leia as frases.
- I. As pesquisas ainda estão meio atrasadas.
- II. Fazem muitos anos que foi coletada uma amostra dessa nova planta.
- III. Pode haver muitas outras plantas como essa em outros locais.
- IV. Necessitam-se de novos exemplares de plantas para dar um nome científico.
- Considerando a concordância verbal e nominal, estão corretas apenas as frases contidas em
- (A) I e II.
- (B) I e III.
- (C) II e III.
- (D) II e IV.
- (E) III e IV.
- 09.** Assinale a alternativa que completa, correta e respectivamente, a lacuna das frases quanto ao acento indicativo da crase.
- I. Os pesquisadores foram obrigados ____ examinar um grande número de espécimes.
- II. O botânico não se referiu ____ essa situação.
- III. Os estudos sobre essa nova descoberta não podem ficar ____ escondidas.
- (A) à ... a ... às
- (B) a ... à ... as
- (C) a ... a ... as
- (D) a ... a ... às
- (E) à ... à ... as
- 10.** Considerando a flexão verbal, está correta a alternativa:
- (A) Se o botânico se dispuser a apresentar os resultados de sua pesquisa, saberemos mais a respeito da planta.
- (B) Quando o pesquisador ver essa nova espécie de vegetal carioca, poderá continuar seu projeto.
- (C) Os estudiosos se contradizeram várias vezes, durante o debate.
- (D) Espero que a região seja preservada.
- (E) Se os moradores intervirem, poderemos ter uma solução melhor para o problema.


- 11.** A administração pública direta e indireta de qualquer dos Poderes da União, dos Estados, do Distrito Federal e dos Municípios, de acordo com o art. 37, *caput* da Constituição Federal, obedecerá aos seguintes princípios:
- (A) eficiência, impessoalidade, legalidade, moralidade e publicidade.
- (B) eficiência, impessoalidade, legalidade, moralidade e sigilo profissional.
- (C) eficiência, legalidade, moralidade, pessoalidade e publicidade.
- (D) eficiência, legalidade, moralidade, pessoalidade e sigilo profissional.
- (E) eficiência, legalidade, pessoalidade, rapidez e sigilo profissional.
- 12.** O ato administrativo unilateral e vinculado, pelo qual a Administração faculta àquele que preencha os requisitos legais o exercício de uma atividade, é denominado
- (A) admissão.
- (B) autorização.
- (C) aprovação.
- (D) licença.
- (E) permissão.
- 13.** Preconiza o princípio da legalidade, previsto no art. 37, *caput*, da Constituição Federal, que o agente público
- (A) pode fazer tudo o que a lei não lhe proíbe.
- (B) somente pode fazer o que a lei lhe permite.
- (C) deve verificar, no caso concreto, se convém ao interesse público aplicar ou não a lei.
- (D) se atuar em desacordo com a lei, deve justificar seu ato.
- (E) pode atuar livremente, não se restringindo aos estritos limites legais.

14. A previsão contida no art. 37, § 1.º, da Constituição Federal, de que a publicidade dos atos, programas, obras, serviços e campanhas dos órgãos públicos deverá ter caráter educativo, informativo ou de orientação social, dela não podendo constar nomes, símbolos ou imagens que caracterizem promoção pessoal de autoridades ou servidores públicos, decorre do princípio da
- (A) Eficiência.
 - (B) Impessoalidade.
 - (C) Legalidade.
 - (D) Pessoalidade.
 - (E) Propaganda.
15. Compõem a Administração Indireta as
- I. Autarquias;
 - II. Fundações Públicas;
 - III. Sociedades de Economia Mista;
 - IV. Empresas Públicas.
- Estão corretos os itens
- (A) I, II, III e IV.
 - (B) I, II e III, apenas.
 - (C) I, II e IV, apenas.
 - (D) I, III e IV, apenas.
 - (E) II, III e IV, apenas.
16. A sociedade de economia mista é pessoa jurídica de direito privado que deve necessariamente ser organizada sob a forma de sociedade
- (A) anônima.
 - (B) comandita simples.
 - (C) cooperativa.
 - (D) em nome coletivo.
 - (E) limitada.
17. As autarquias, conforme art. 37, XIX, da Constituição Federal, somente poderão ser criadas por meio de
- (A) alvará específico.
 - (B) decreto específico.
 - (C) lei específica.
 - (D) portaria específica.
 - (E) resolução específica.
18. Quanto à formação da vontade, os atos administrativos podem ser classificados como:
- (A) de império e de gestão.
 - (B) gerais e individuais.
 - (C) perfeitos, imperfeitos, pendentes e consumados.
 - (D) constitutivos, declaratórios e enunciativos.
 - (E) simples, complexos e compostos.
19. Decreto é a forma pela qual se revestem os atos individuais ou gerais, emanados dos (as)
- (A) Agentes Públicos.
 - (B) Autoridades.
 - (C) Diretores de Serviço.
 - (D) Chefes do Poder Executivo.
 - (E) Secretários de Estado.
20. O ato administrativo discricionário pelo qual a Administração extingue um ato válido, por razões de oportunidade e conveniência, é denominado
- (A) Anulação.
 - (B) Avocação.
 - (C) Cassação.
 - (D) Invalidação.
 - (E) Revogação.

CONHECIMENTOS ESPECÍFICOS

21. A escala 1:100 000 em uma carta topográfica indica a relação constante entre as medidas lineares na carta e as distâncias lineares correspondentes medidas no terreno. Assinale a alternativa que representa sua correspondência correta.
- (A) Um centímetro na carta equivale a 100 quilômetros no terreno.
 - (B) Um milímetro na carta corresponde a 100 metros no terreno.
 - (C) Um decímetro na carta é igual a 100 hectares no terreno.
 - (D) Um metro na carta equivale a 100 hectômetros no terreno.
 - (E) Um decâmetro na carta equivale 100 ares no terreno.
22. O parágrafo único do artigo 191 da Constituição Federal proíbe a aquisição dos imóveis públicos
- (A) em hasta pública.
 - (B) por alienação.
 - (C) em leilão.
 - (D) por usucapião.
 - (E) na reforma agrária.
23. Assinale a alternativa correta sobre o conceito de paralaxe em foto-interpretação.
- (A) O ângulo relativo dos vértices da triangulação levantada em uma imagem de satélite.
 - (B) A posição ocupada pelas fotografias aéreas em relação a um plano de vôo.
 - (C) O cálculo matemático para se determinar o norte em uma fotografia aérea.
 - (D) A medida exata entre os eixos dos planos de vôo em um levantamento aerofotogramétrico.
 - (E) O deslocamento aparente de um objeto fotografado causado pela troca do ponto de observação.
24. Segundo a legislação em vigor, indique a alternativa que traz a consequência legal quando um imóvel rural de domínio público ou particular que não cumpre sua função social for objeto de esbulho possessório ou ocupação motivada por conflito agrário ou fundiário de caráter coletivo.
- (A) A desapropriação por interesse social é imediata.
 - (B) As vistorias ficam proibidas por dois anos.
 - (C) A avaliação pode ser realizada, mas a desapropriação não.
 - (D) A ação discriminatória indicará apenas as terras devolutas.
 - (E) O imóvel será incorporado automaticamente ao patrimônio público.
25. Segundo a legislação brasileira em vigor, as florestas e demais formas de vegetação natural existentes ao longo dos rios ou qualquer curso d'água, nas nascentes e ao redor das lagoas, lagos ou reservatórios d'água naturais ou artificiais, são consideradas
- (A) suscetíveis ao desmatamento em até 80% de sua área.
 - (B) patrimônio da humanidade.
 - (C) de preservação permanente.
 - (D) livres para desmatamento integral.
 - (E) próprias para o aproveitamento econômico.
26. O artigo 185 da Constituição Federal determina que a pequena e a média propriedade rural são insuscetíveis de desapropriação para fins de reforma agrária, porém, autoriza sua desapropriação apenas nos casos em que
- (A) o proprietário possua outra.
 - (B) a pequena propriedade seja produtiva.
 - (C) a média propriedade seja produtiva.
 - (D) a grande propriedade seja produtiva.
 - (E) o proprietário tenha sua posse.
27. A elaboração de uma carta ou uma planta pressupõe a escolha de uma legenda. O uso das cores para representar os elementos componentes da legenda deve obedecer a princípios da comunicação visual, ou seja, respeitar a capacidade do olho humano para melhor absorvê-las. No conjunto do espectro eletromagnético, as radiações sensíveis têm comprimento de onda que vão de 380 a 760 nanômetros. Segundo esse princípio, assinale a alternativa que contém as cores em ordem crescente na escala do espectro.
- (A) Violeta, verde e vermelha.
 - (B) Laranja, amarela e verde.
 - (C) Vermelha, azul e violeta.
 - (D) Amarela, verde e laranja.
 - (E) Laranja, vermelha e violeta.
28. As pesquisas socioeconômicas regionais no Estado de São Paulo utilizam dados estatísticos de várias fontes. Porém, quando é feito o planejamento para a produção nos assentamentos de um determinado Escritório Regional, qual é a fonte estatística que tem o maior banco de dados sobre a agricultura paulista?
- (A) INCRA.
 - (B) FAO.
 - (C) USDA.
 - (D) IEA.
 - (E) MDA.

29.



(www.google.com.br)

A imagem de satélite apresentada contém uma forma moderna da agricultura de grãos que altera as condições do meio físico, porém pode criar outros problemas como aquele da escassez de água nas microbacias, particularmente à jusante dessas áreas. Identifique nas alternativas a seguir, a técnica empregada nesse tipo de uso do solo.

- (A) Irrigação por gravidade.
- (B) Plasticultura.
- (C) Pivô central.
- (D) Micro aspersão linear.
- (E) Irrigação por inundação.

30. Identifique entre as alternativas a seguir, aquela que contém uma das competências fundamentais da Fundação Instituto de Terras do Estado de São Paulo “José Gomes da Silva” – ITESP.

- (A) Realizar levantamentos estatísticos sobre a agricultura.
- (B) Implantar assentamentos de trabalhadores rurais.
- (C) Estimular a expansão do setor sucroalcooleiro.
- (D) Utilizar a polícia para solucionar os conflitos fundiários.
- (E) Fazer desapropriação de terras através do Estatuto da Terra.

31. Na Cartografia Temática há, segundo o cartógrafo francês Jacques Bertin, duas possibilidades na organização de um determinado tipo de mapa com base na visibilidade. A primeira possibilidade considera as classes definidas por agrupamentos apropriados a cada série de dados. A segunda, leva em conta as classes definidas por um agrupamento comum a todas as séries de dados. A primeira possibilita salientar visualmente os agrupamentos espaciais pertinentes construídos por cada distribuição. A segunda, por sua vez, sacrifica os agrupamentos da primeira opção, porém beneficia a percepção dos agrupamentos totais. Ela permite, portanto, visualizar a importância das quantidades, ao passo que a primeira visa maior precisão na avaliação das características de cada padrão espacial e evidencia as disparidades regionais representadas.

Assinale a alternativa referente a esse método de representação na Cartografia Temática.

- (A) Figuras geométricas proporcionais.
- (B) Pontos de contagem.
- (C) Isarítmico.
- (D) Coroplético.
- (E) Pontos de tamanhos crescentes.

32.

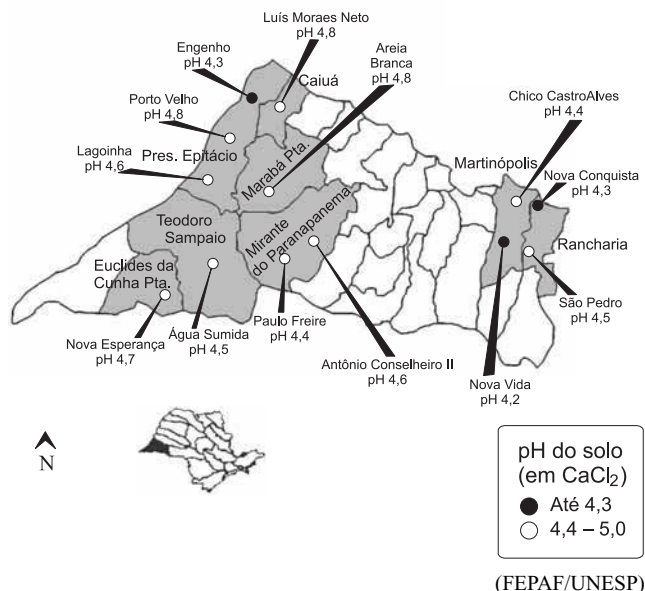


(www.google.com.br)

A imagem de satélite apresentada mostra a área em que se localiza o Assentamento Sumaré I. Como é possível verificar, ela é ferramenta importante para identificação

- (A) das unidades rurais.
 - (B) da fachada das habitações rurais.
 - (C) do consumo das famílias.
 - (D) dos tipos de energia.
 - (E) da opção política dos assentados.
33. O planejamento territorial agrário pressupõe fundamentalmente a participação ativa dos assentados da reforma agrária. Assinale a alternativa que indica uma das técnicas utilizadas para permitir essa participação.
- (A) DRP.
 - (B) PAC.
 - (C) UTM.
 - (D) EDR.
 - (E) PAE.

34.



O mapa de pH dos solos do Pontal do Paranapanema traz os índices médios de acidez ativa nos assentamentos do Pontal do Paranapanema. Observe-os e indique a alternativa que corresponde à avaliação desses indicadores na maioria dos assentamentos de reforma agrária, quanto à acidez.

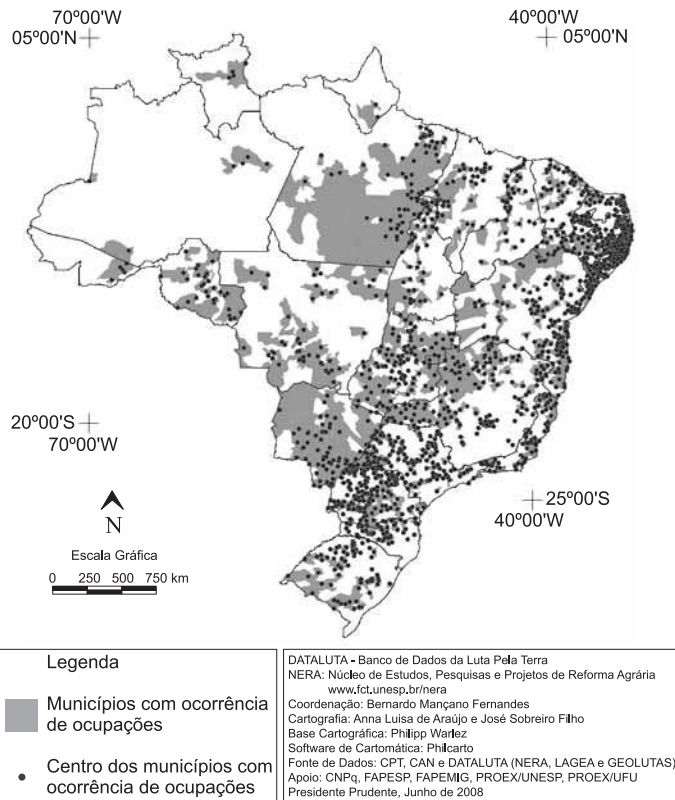
- (A) Baixa.
- (B) Muito alta.
- (C) Muito baixa.
- (D) Alta.
- (E) Média.

35. Assinale a alternativa que indica o instrumento legal federal referenciado expressamente pelo artigo 185, da Constituição do Estado de São Paulo, no capítulo relativo à política agrícola, agrária e fundiária, pois ele estabelece a necessária compatibilidade das ações estaduais visando garantir as diretrizes e metas nacionais estabelecidas.

- (A) Plano Agrícola e Pecuário.
- (B) Programa de Aceleração do Crescimento.
- (C) Plano Nacional de Reforma Agrária.
- (D) Projeto Nacional de Desenvolvimento.
- (E) Programa Nacional de Agroenergia.

36. Observe o mapa a seguir e indique a alternativa que contém uma das convenções mais importantes utilizadas na Cartografia e que deve ser aplicada na elaboração de uma planta ou mapa.

BRASIL – GEOGRAFIA DAS OCUPAÇÕES DE TERRAS 1988-2007
MUNICÍPIOS COM OCORRÊNCIAS DE OCUPAÇÕES



(CPT)

- (A) Solstício de verão.
- (B) Coordenadas geográficas.
- (C) Equinócio de inverno.
- (D) Elíptica solar.
- (E) Hipérbole.

37. Para realização do planejamento territorial agrário dos assentamentos de Sumaré, que possuem 65 famílias, os técnicos devem realizar as pesquisas econômicas sobre o mercado dos produtos hortifrutigranjeiros nas seguintes fontes, em ordem de prioridade:

- (A) CEAGESP de São Paulo e CEASA de Campinas.
- (B) todos os CEASAS do Estado de São Paulo, a partir de Campinas.
- (C) unidades comerciais de Sumaré e CEASA de Campinas.
- (D) todos os CEASAS do Brasil, a partir do CEAGESP.
- (E) CEAGESP e unidades comerciais de Sumaré.

38. A imagem de satélite a seguir representa parte da área de cultivo da cana-de-açúcar entre Ribeirão Preto e Sertãozinho na porção norte da rodovia Atílio Balbo. Observe-a e indique a alternativa que corresponda à característica da maioria das propriedades rurais dessa área.



(www.google.com.br)

- (A) Forte presença de áreas de reserva legal preservadas.
- (B) Pouca presença do uso agrícola das terras nas unidade rurais.
- (C) As propriedades têm muitos sistemas naturais para a proteção ambiental das nascentes.
- (D) Domínio geral da vegetação natural em todas as propriedades rurais.
- (E) Pouca presença de vegetação natural nas áreas de preservação permanente.
39. A Constituição de São Paulo prevê, em seu artigo 184, a atuação do poder público estadual na orientação da utilização racional de recursos naturais de forma sustentada, compatível com a preservação do meio ambiente, especialmente quanto à proteção e conservação do solo e da água. Assinale a alternativa que contém um desses programas estaduais sobre essa temática.
- (A) Programa de Microbacias.
- (B) PRONAF.
- (C) Programa Estadual de Crédito Fundiário.
- (D) PROVÁRZEA.
- (E) Programa Estadual de Reforma Agrária.

40. O setor sucroalcooleiro no Estado de São Paulo é responsável pelo plantio de 3,7 milhões de hectares de cana-de-açúcar, ou seja, mais de 50% da área plantada em todo o país. Esse setor adota uma técnica para a colheita que gera impactos negativos insustentáveis na natureza e na sociedade. Na natureza, afeta o solo porque essa técnica volatiliza substâncias necessárias à nutrição das plantas, destrói grande parte da matéria orgânica do solo e elimina os microorganismos úteis do solo; na flora e na fauna, elimina definitivamente espécies nativas; e, aumenta o efeito estufa provocando mudanças climáticas. Essa técnica também atinge a sociedade em geral, porque aumenta a quantidade de material particulado fino e ultrafino na atmosfera que são inaladas pelo sistema respiratório humano, provocando reações alérgicas e inflamatórias. Essas partículas atingem os alvéolos pulmonares e a corrente sanguínea, provocando uma resposta inflamatória com repercussão sobre o sistema respiratório e cardiovascular. Estudo recente revela o aumento no número de internações hospitalares por asma e hipertensão arterial na cidade de Araraquara. O número de internações por hipertensão durante o período de uso dessa técnica na colheita da cana-de-açúcar tem sido de 2,82 internações por dia, contra 1,92 no período de entressafra. Para os casos de asma, são 1,43 na safra e 0,95 na entressafra.

Indique a alternativa que corresponde a essa técnica utilizada para a colheita da cana.

- (A) Mecanização do corte.
- (B) Corte manual.
- (C) Pulverização.
- (D) Fertirrigação.
- (E) Queimada.

41. Assinale a alternativa que representa o tipo de agricultura expressa pelas seguintes características:

- o agricultor é um empreendedor, um “pequeno empresário” que deve fazer sua propriedade dar lucro;
- ele usa em primeiro lugar a mão-de-obra da família, ou então, contrata trabalhadores assalariados ou por empreitada;
- sua produção deve estar integrada nas cadeias produtivas, com empresas industriais e exportadoras, ou seja, fazer parte do agronegócio;
- ele deve se tornar um produtor especializado em um ou dois produtos para o mercado;
- deve também, almejar ser sempre proprietário da terra; e,
- deve sempre comprar a terra e não se envolver com movimentos sociais que, segundo sua visão, invadem terra de outros proprietários.

- (A) Agricultura patronal.
- (B) Agroecologia.
- (C) Agricultura capitalista.
- (D) Permacultura.
- (E) Agricultura familiar.

42. Assinale a alternativa que representa o sujeito social objeto do que determina o artigo 191 da Constituição Federal de 1988, ou seja, “aquele que, não sendo proprietário de imóvel rural ou urbano, possua como seu, por cinco anos ininterruptos, sem oposição, área de terra, em zona rural, não superior a cinquenta hectares, tornando-a produtiva por seu trabalho ou de sua família, tendo nela sua moradia, adquirir-lhe-á a propriedade.”

- (A) Parceiro.
- (B) Latifundiário.
- (C) Capitalista.
- (D) Grileiro.
- (E) Posseiro.

43. Os laudos de vistoria e avaliação de imóveis rurais que indicam se estes cumprem a função social quanto à produtividade, devem ser baseados em dois indicadores, conforme o artigo 6.º da Lei n.º 8.629/93.

Indique a alternativa que contém esses indicadores.

- (A) Índice de Preço da Terra nua – IPT e Índice de Preços ao Consumidor – IPC.
- (B) Valor Agregado Total – VAT e Valor Adicionado do Produto – VAP.
- (C) Grau de Utilização da Terra - GUT e Grau de Eficiência na Exploração – GEE.
- (D) Índice de Preço Pago pelos Produtores – IPP e Índice de Preços Recebidos pelos Produtores – IPR.
- (E) Índice Geral de Preços – IGP e Índice de Preço por Atacado – IPA.

44. Assinale a alternativa que indica o órgão público estadual que é responsável pela promoção da regularização fundiária em terras devolutas, ou presumivelmente devolutas, nos termos da legislação vigente.

- (A) INCRA
- (B) FIESP
- (C) SPU
- (D) ITESP
- (E) IPESP

45. Assinale a alternativa que apresenta o indicador intensamente utilizado na agricultura, que é produto da correlação entre as seguintes variáveis: temperatura, precipitação e evapotranspiração potencial e real.

- (A) Índice de aridez.
- (B) Balanço hídrico.
- (C) Insolação solar.
- (D) Índice fluviométrico.
- (E) Balanço de energia.

- 46.** A autorização para a União promover a ação de desapropriação decorre de
- (A) decreto que declarar o imóvel como de interesse social para fins de reforma agrária.
 - (B) autorização administrativa do Ministério correspondente.
 - (C) ato discricionário da autoridade administrativa.
 - (D) ato vinculado do Ministério da Agricultura.
 - (E) sentença judicial definitiva.
- 47.** Os beneficiários da distribuição de imóveis rurais pela reforma agrária receberão títulos de domínio ou de concessão de uso, inegociáveis pelo prazo de
- (A) 1 ano.
 - (B) 2 anos.
 - (C) 5 anos.
 - (D) 10 anos.
 - (E) 20 anos.
- 48.** Para a aquisição da propriedade rural por usucapião prevista na Constituição Federal é necessário que a área não seja superior a
- (A) 5 hectares.
 - (B) 10 hectares.
 - (C) 20 hectares.
 - (D) 40 hectares.
 - (E) 50 hectares.
- 49.** São órgãos superiores da Fundação ITESP:
- (A) o Conselho Curador e o Conselho Fiscal.
 - (B) a Diretoria Executiva e o Conselho Curador.
 - (C) a Diretoria Executiva e o Conselho de Administração.
 - (D) o Conselho Curador e o Conselho Consultivo.
 - (E) o Conselho Consultivo e o Conselho Fiscal.
- 50.** A Fundação ITESP é vinculada à Secretaria
- (A) do Meio Ambiente.
 - (B) de Constituição e Justiça.
 - (C) da Justiça e da Defesa da Cidadania.
 - (D) da Agricultura.
 - (E) da Reforma Agrária.