



GOVERNO DO ESTADO DE SÃO PAULO
SECRETARIA DA FAZENDA
SÃO PAULO PREVIDÊNCIA – SPPREV

CONCURSO PÚBLICO

1. PROVA OBJETIVA

TÉCNICO EM GESTÃO PREVIDENCIÁRIA

INSTRUÇÕES

- ♦ VOCÊ RECEBEU SUA FOLHA DE RESPOSTAS E ESTE CADERNO CONTENDO 50 QUESTÕES OBJETIVAS.
- ♦ PREENCHA, COM SEU NOME E NÚMERO DE INSCRIÇÃO, OS ESPAÇOS RESERVADOS NA CAPA DESTE CADERNO.
- ♦ LEIA CUIDADOSAMENTE AS QUESTÕES E ESCOLHA A RESPOSTA QUE VOCÊ CONSIDERA CORRETA.
- ♦ RESPONDA A TODAS AS QUESTÕES.
- ♦ ASSINALE NA FOLHA DE RESPOSTAS, COM CANETA DE TINTA AZUL OU PRETA, A ALTERNATIVA QUE JULGAR CERTA.
- ♦ A DURAÇÃO DA PROVA É DE 3 HORAS.
- ♦ A SAÍDA DO CANDIDATO DO PRÉDIO SERÁ PERMITIDA APÓS TRANSCORRIDA A METADE DO TEMPO DE DURAÇÃO DA PROVA OBJETIVA.
- ♦ AO TERMINAR A PROVA, VOCÊ ENTREGARÁ AO FISCAL A FOLHA DE RESPOSTAS E LEVARÁ ESTE CADERNO.

AGUARDE A ORDEM DO FISCAL PARA ABRIR ESTE CADERNO DE QUESTÕES.

Nome do candidato _____

Número de inscrição _____

LÍNGUA PORTUGUESA

Leia o texto para responder às questões de números **01** a **20**.

Ansiedade

Se estamos vivos hoje, é à ansiedade que devemos agradecer, porque ela nos fez ser mais cautelosos durante séculos e séculos de evolução. É bom que se saiba que todos os tipos de ansiedade podem ser tratados com remédios ou terapia, mas que, por mais que eles atrapalhem o trabalho, o namoro, as coisas boas da vida e acabem com a sua paciência no trânsito, nem sempre é bom se livrar deles. Dá para conviver com a ansiedade pacificamente – e é isso que vai fazer a diferença na hora de reconhecer que nem tudo precisa ser motivo de preocupação o tempo todo.

Ansiedade não é doença. Faz parte do nosso sistema de defesa e está projetada em quase todos os animais vertebrados, do peixinho dourado até aquela tia histórica. Foi ela que nos trouxe até aqui através da evolução. A seleção natural, aliás, favoreceu animais e pessoas preocupadas em excesso. Imagine-se o seguinte: um grupo de homens das cavernas passeia pelos campos da Pré-História, quando, de longe, aparece um tigre-dentes-de-sabre enfurecido. Aqueles mais inquietos, atentos ao mundo à volta, escapam primeiro, mas os distraídos são presas fáceis para o animal – e, assim, também acabam eliminados do rol genético da época. Transfira isso para milênios de evolução e o resultado é que todo mundo é ansioso em menor ou maior grau. (...)

O que influencia, e muito, a ansiedade é a nossa maneira de pensar. “ Se a pessoa é muito catastrófica e imagina o tempo inteiro que as coisas dão errado, ela sofre mais com a ansiedade”, diz Thiago Sampaio, psicólogo membro da Associação dos Portadores de Transtornos de Ansiedade. A presença de pensamento catastrófico faz uma pessoa ser mais preocupada do que outra. E é central para entender a ansiedade no ser humano. (...)

Como a ansiedade virou um mal do mundo moderno, é cada vez mais comum pessoas recorrerem a tratamentos para eliminar qualquer tipo de preocupação. Mas nem todas as dores de cabeça são problemas de verdade. “ Não podemos simplesmente reprimir a ansiedade. O mundo precisa ter pressa, energia e motivação, e a nossa sobrevivência depende disso”, diz Valentim Gentil, professor da USP e Ph.D em psiquiatria pela Universidade de Londres. A ansiedade é como uma febre, um sintoma de que algo está errado. Se simplesmente tratarmos a febre, podemos ignorar o real problema – e isso é perigoso. O grande desafio é descobrir os motivos da inquietação.

Na maioria dos casos, a ansiedade diminui, quando há o enfrentamento direto do problema. Ou seja, se a dificuldade estiver no futuro e distante, a inquietação não vai passar. Não tem muito segredo, é só mentalizar que os problemas lá na frente não podem ser tão grandes assim. Infelizmente, não existe uma forma mágica para diminuir a ansiedade, mas o mecanismo é meio parecido com o do pensamento positivo. Pensar que as coisas vão dar certo diminui o pensamento catastrófico e, assim, a ansiedade. E, se os problemas ainda afligem demais, podemos seguir o exemplo de algumas cidades nos EUA. Elas instituíram um dia para lidar com as preocupações, o 9 de março, e o chamaram de Dia do Pânico. Nessa data vale tudo: gritar, espernear, surtar e botar para fora todas as ansiedades. Vale a pena tentar.

(*Superinteressante*, novembro de 2008. Adaptado)

01. Segundo o texto, a ansiedade

- (A) desafia o conhecimento dos psiquiatras, que não conseguem defini-la claramente.
- (B) atinge em maior intensidade as pessoas mais frágeis diante dos problemas.
- (C) ameniza a natural vocação do ser humano para pensamentos catastróficos.
- (D) impede de forma irreversível que as pessoas aproveitem os bons acontecimentos.
- (E) faz parte dos mecanismos do ser humano diante dos perigos supostos ou reais.

02. Se a ansiedade está projetada em quase todos os animais e humanos, pode-se dizer que ela é

- (A) esporádica.
- (B) natural.
- (C) seletiva.
- (D) variável.
- (E) controlável.

03. É correto afirmar que, de acordo com Thiago Sampaio, no terceiro parágrafo,

- (A) as coisas acabam dando errado para as pessoas muito imaginativas.
- (B) a maneira de pensar das pessoas não afeta a carga de ansiedade.
- (C) a ansiedade acentua o sofrimento dos que pensam negativamente.
- (D) os acontecimentos nefastos são mais comuns em pessoas sem ansiedade.
- (E) a ansiedade causa sofrimentos aos que não têm poder imaginativo.

04. Assinale o que for correto sobre o quarto parágrafo.

- (A) Os tratamentos contra a ansiedade são cada vez mais eficazes no mundo moderno.
- (B) Pode-se estabelecer uma relação entre ansiedade e capacidade de sobrevivência.
- (C) Eliminando-se a ansiedade, resolvem-se todos os problemas.
- (D) Os males do mundo moderno se agravaram com o tratamento da ansiedade.
- (E) Quanto mais as pessoas se tratam, mais se intensifica a ansiedade.

05. Assinale a alternativa que apresenta a relação correta entre as idéias contidas na frase: Na maioria dos casos, a ansiedade diminui, quando há o enfrentamento direto do problema.

- (A) Confrontação do problema/diminuição da ansiedade.
- (B) Desconhecimento do problema/amenização da ansiedade.
- (C) Aumento da ansiedade/percepção do problema.
- (D) Desaparecimento da ansiedade/indiferença em relação ao problema.
- (E) Apatia em relação ao problema/diminuição da ansiedade.

06. Lendo-se a frase: – Pensar que as coisas vão dar certo diminui o pensamento catastrófico e assim, a ansiedade. – conclui-se que

- (A) praticar o pensamento catastrófico é aconselhável.
- (B) não há diferença entre o pensamento positivo e o catastrófico.
- (C) a ansiedade diminui com o pensamento catastrófico.
- (D) pensar positivamente diminui o pensamento catastrófico e a ansiedade.
- (E) o ato de pensar positivamente não interfere na ansiedade.

07. O Dia do Pânico nas cidades americanas consiste

- (A) na celebração dos problemas e da ansiedade.
- (B) na apresentação recíproca das preocupações.
- (C) na manifestação de atitudes socialmente indevidas.
- (D) na demonstração da incapacidade de superar problemas.
- (E) no extravasamento das preocupações e da ansiedade.

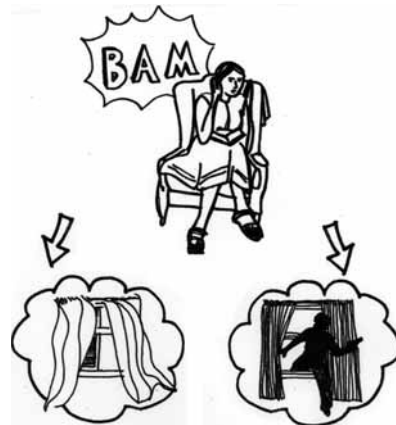
08. Assinale a alternativa que reescreve, sem alteração de sentido, o trecho: Ansiedade é o sentimento típico de quem vive no futuro, preocupando-se com as coisas que ainda vão acontecer.

- (A) O ansioso vive permanentemente preocupado com o que poderá ocorrer no futuro.
- (B) Viver no futuro é a conseqüência natural dos que se recusam a viver ansiosamente.
- (C) São ansiosos apenas os que vivem se preocupando com coisas reais.
- (D) As coisas projetadas no futuro livram as pessoas da ansiedade.
- (E) A pessoa ansiosa pode evitar preocupações com o futuro.

09. Em seu conjunto, as afirmações do texto indicam que a ansiedade

- (A) causa problemas ao homem em qualquer época da cadeia evolutiva.
- (B) deve ser totalmente eliminada, pois prejudica a vida das pessoas.
- (C) contém aspectos positivos, necessários para a sobrevivência das pessoas.
- (D) se torna no mundo moderno o problema mais sério do homem.
- (E) se manifesta de preferência em pessoas propensas a doenças nervosas.

10. Partindo do princípio de que a mulher, na figura a seguir, ao ouvir um barulho, passa a pensar catastróficamente, assinale a frase correta.



- (A) A mulher sem ansiedade fica tranqüila quanto a possíveis assaltos.
- (B) A mulher se livra do pensamento catastrófico e não se sentirá insegura.
- (C) A mulher ouve um barulho, mas como não é ansiosa, não pensa no pior.
- (D) Pensando de forma catastrófica, a mulher achará que um ladrão invade sua casa.
- (E) Com ansiedade ou não, ladrões aparecem a qualquer hora: é melhor se prevenir.

11. Assinale a alternativa em que o verbo virar está empregado com o mesmo sentido que possui na frase: Como a ansiedade virou um mal do mundo moderno... .

- (A) Viramos neuróticos, se deixarmos a ansiedade tomar conta.
- (B) Virava as páginas da revista com displicência.
- (C) Apressou o passo e virou a esquina rapidamente.
- (D) Virou-se para o marido e disse: Controle a ansiedade, querido.
- (E) Em tempos de crise, cada um se vira como pode.

12. Assinale a alternativa em que a conjunção *como* está empregada, respectivamente, com o mesmo sentido que possui nas frases:
Como a ansiedade virou um mal do mundo moderno...
A ansiedade é *como* uma febre...
- (A) Como assim? – perguntou o rapaz à namorada que resolveu partir./Como já lhe falei, não há mais vagas na empresa.
- (B) Não sabemos como controlar a ansiedade./Ela é como a irmã: narcisista.
- (C) Como ousa afirmar tal coisa?/Seja como seu irmão, confie em você mesmo.
- (D) Como ficou combinado, espero-o no restaurante./Não sei como agradecer sua orientação.
- (E) Como a crise chegou de repente, os contratos foram suspensos./O homem de hoje é como o de antigamente: ansioso.
13. Assinale a alternativa em que os advérbios substituem, correta e respectivamente, as idéias em destaque em:
– ... pessoas preocupadas *em excesso*./*Pouco a pouco*, aprendemos a controlar a ansiedade./*Dia e noite*, o homem da Pré-História convivia com a ansiedade.
- (A) excessivamente, minimamente, distantemente.
- (B) demasiadamente, paulatinamente, diuturnamente.
- (C) exageradamente, resumidamente, gradativamente.
- (D) ilimitadamente, sucintamente, diariamente.
- (E) totalmente, integralmente, anualmente.
14. Passe para o plural a palavra *pessoa* no período – “Se a pessoa é muito catastrófica e imagina o tempo inteiro que as coisas dão errado, ela sofre mais com a ansiedade”. – e assinale a alternativa com as alterações corretas.
- (A) Se as pessoas são muito catastrófica e imagina o tempo inteiro que as coisas dão errado, elas sofre mais com a ansiedade.
- (B) Se as pessoas é muito catastróficas e imaginam o tempo inteiro que as coisas dão errado, elas sofrem mais com a ansiedade.
- (C) Se as pessoas são muito catastróficas e imaginam o tempo inteiro que as coisas dão errado, elas sofrem mais com a ansiedade.
- (D) Se as pessoas são muito catastróficas e imagina o tempo inteiro que as coisas dão errado, ela sofre mais com a ansiedade.
- (E) Se as pessoas é muito catastrófica e imaginam o tempo inteiro que as coisas dão errado, elas sofre mais com a ansiedade.
15. O tempo verbal do verbo *Transfira* em – Transfira isso para milênios de evolução... – repete-se em:
- (A) Saiba superar os problemas trazidos pela ansiedade.
- (B) Vivemos numa época essencialmente estressante.
- (C) Na Pré-História, a ansiedade surgia de fatores externos como doenças e catástrofes naturais.
- (D) Um quarto da população mundial apresenta sintomas de pensamento catastrófico.
- (E) Os ansiosos liberam hormônio, principalmente a adrenalina e os glucocorticóides.
16. Assinale a alternativa com frases, respectivamente, na voz ativa e passiva.
- (A) Os animais acabam eliminando os homens primitivos mais distraídos./Os homens primitivos mais distraídos os animais acabam eliminando.
- (B) A seleção natural favoreceu animais e pessoas./Animais e pessoas favoreceram a seleção natural.
- (C) Não podemos simplesmente reprimir a ansiedade./A ansiedade simplesmente não pode nos reprimir.
- (D) Os tipos de ansiedade prejudicam o trabalho./O trabalho é prejudicado pelos tipos de ansiedade.
- (E) As cidades americanas instituíram um dia para trabalhar as preocupações./Para trabalhar as preocupações, as cidades americanas instituíram um dia.
17. Assinale a alternativa em que a palavra ou expressão destacada foi corretamente substituída por um pronome pessoal, de acordo com a norma culta.
- (A) A seleção natural favoreceu *pessoas preocupadas*./A seleção natural favoreceu-lhes.
- (B) Se simplesmente tratarmos *a febre*.../Se simplesmente a tratarmos...
- (C) Os tipos de ansiedade atrapalham *as coisas boas da vida*./Os tipos de ansiedade atrapalham-as.
- (D) As cidades americanas instituíram *o Dia do Pânico*./As cidades americanas lhe instituíram.
- (E) Não podemos ignorar *a causa real* de nossa preocupação./Não podemos ignorar-la.

MATEMÁTICA

18. Assinale a alternativa correta, quanto ao uso ou não da crase, nas respectivas alterações das frases:

- Os que são mais atentos ao mundo escapam primeiro.
 - É comum recorrer a tratamentos.
 - Os ansiosos valorizam demais os problemas.
- (A) Os que são mais atentos à vida escapam primeiro./É comum recorrer à terapias./Os ansiosos valorizam às preocupações.
- (B) Os que são mais atentos a vida escapam primeiro./É comum recorrer à terapias./Os ansiosos valorizam às preocupações.
- (C) Os que são mais atentos à vida escapam primeiro./É comum recorrer a terapias./Os ansiosos valorizam as preocupações.
- (D) Os que são mais atentos à vida escapam primeiro./É comum recorrer a terapias./Os ansiosos valorizam às preocupações.
- (E) Os que são mais atentos a vida escapam primeiro./É comum recorrer à terapias./Os ansiosos valorizam as preocupações.

19. Assinale a alternativa que apresenta expressão de sentido figurado.

- (A) Ansiedade é o sentimento típico de quem não consegue aproveitar o presente.
- (B) Se a pessoa é muito negativista, imagina o tempo inteiro que as coisas dão errado e sofre mais com a ansiedade.
- (C) As pessoas precisam ter pressa e motivação, pois a nossa sobrevivência depende disso.
- (D) Somos bombardeados com histórias de pessoas lindas e bem-sucedidas, e sempre nos comparamos a elas.
- (E) Achar um parceiro compreensível e apaixonado é motivo de ansiedade para muita gente.

20. Atente para as afirmações.

- I. Está correta a concordância da frase: Infelizmente não existe formas mágicas para diminuir a ansiedade.
- II. A preposição *para* em – E é central para entender a ansiedade no ser humano. – indica ideia de finalidade.
- III. Na frase – é a ela que devemos agradecer porque nos fez mais cautelosos ... – o antônimo para *cautelosos*, no contexto, é *desprevenidos*.

Está correto apenas o que se afirma em

- (A) I.
- (B) II.
- (C) III.
- (D) I e II.
- (E) II e III.

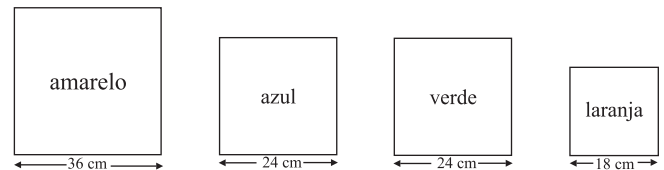
21. Com a intenção de atrair novos alunos, certa academia de dança abre todos os dias e oferece, como promoção, uma aula gratuita de tango a cada 5 dias e uma aula gratuita de gafieira a cada 3 dias. No dia 11 de janeiro coincidiram as aulas gratuitas de tango e de gafieira. Supondo que essa promoção tenha se mantido conforme foi anunciada, conclui-se que, um dos dias em que essa coincidência ocorreu em fevereiro do mesmo ano, foi

- (A) 25.
- (B) 18.
- (C) 14.
- (D) 11.
- (E) 4.

22. Para saldar uma dívida, uma pessoa se propõe a pagar 20% do valor total no ato da negociação e doze parcelas sem juros no valor de R\$ 1.200,00. O valor total da dívida é de

- (A) R\$ 30.000,00.
- (B) R\$ 24.000,00.
- (C) R\$ 22.000,00.
- (D) R\$ 20.000,00.
- (E) R\$ 18.000,00.

23. Usando quatro pedaços quadrados de tecido como os que estão representados a seguir, Dona Clara vai confeccionar colchas de retalhos.



Ela quer recortar esse tecido em retalhos quadrados, todos de mesmo tamanho, de tal forma que tenham a maior área possível e que não haja desperdício de tecido. Nesse caso, a área de cada retalho, em centímetros quadrados, deve ser de

- (A) 42,25.
- (B) 36,25.
- (C) 36.
- (D) 25.
- (E) 9.

24. Após pagar R\$ 33,60 por uma embalagem com 1,20 kg de castanhas, uma pessoa observou que o mesmo produto estava sendo vendido a granel, no mesmo mercado, a R\$ 26,00 o quilograma. Nesse caso, essa pessoa teve um
- (A) prejuízo de R\$ 2,40.
 (B) lucro de R\$ 2,40.
 (C) prejuízo de R\$ 2,00.
 (D) lucro de R\$ 1,00.
 (E) prejuízo de R\$ 1,00.

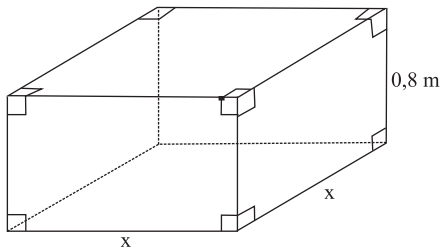
25. Considere a figura:



Sabendo-se que os pontos destacados dividem a reta r em intervalos iguais, é correto afirmar que o número real correspondente ao ponto A é

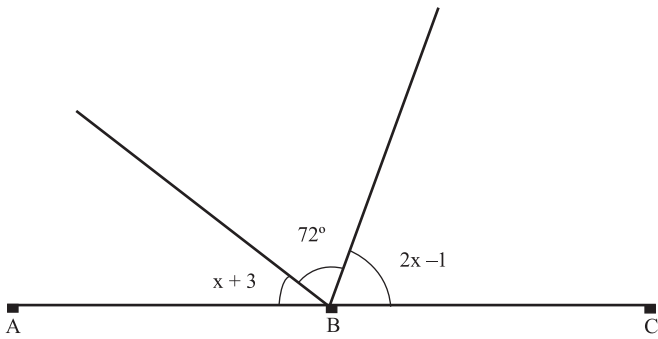
- (A) 20,4.
 (B) 29,4.
 (C) 33.
 (D) 40,2.
 (E) 42.
26. A média de idade de um grupo de 30 pessoas, participantes de uma reunião, é de 40 anos. Após a chegada de um novo convidado com 50 anos de idade, a média passa a ser de aproximadamente
- (A) 41 anos.
 (B) 40,8 anos.
 (C) 40,3 anos.
 (D) 40 anos.
 (E) 30,5 anos.
27. O valor da expressão $\sqrt{(0,004) \cdot (0,00081)}$ é
- (A) $36 \cdot 10^{-4}$.
 (B) $18 \cdot 10^{-3}$.
 (C) $3,6 \cdot 10^{-4}$.
 (D) $1,8 \cdot 10^{-2}$.
 (E) $1,8 \cdot 10^{-3}$.

28. Durante as férias, Seu Mário aluga bicicletas em uma estação de veraneio, cobrando uma taxa fixa acrescida de R\$ 2,50 por hora de aluguel. Se uma pessoa pagou R\$ 35,75 pelo aluguel de uma bicicleta, por um período de 13 horas, conclui-se que a taxa fixa é de
- (A) R\$ 2,70.
(B) R\$ 3,25.
(C) R\$ 3,35.
(D) R\$ 3,50.
(E) R\$ 3,75.
29. Aplicando R\$ 1.200,00, à taxa de 2,5 % ao mês, sob o regime de juro simples, posso obter um montante de R\$ 1.740,00 no prazo de
- (A) 12 meses.
(B) 15 meses.
(C) 18 meses.
(D) 20 meses.
(E) 24 meses.
30. Usando, como base, uma placa quadrada de vidro, Carlos quer construir um aquário que tenha a forma indicada na figura, com a capacidade total de 50 litros. Para que esse aquário tenha a altura de 0,8 metro, a medida x da base deve ser de



- (A) 62,5 cm.
(B) 50 cm.
(C) 40 cm.
(D) 25 cm.
(E) 16,5 cm.

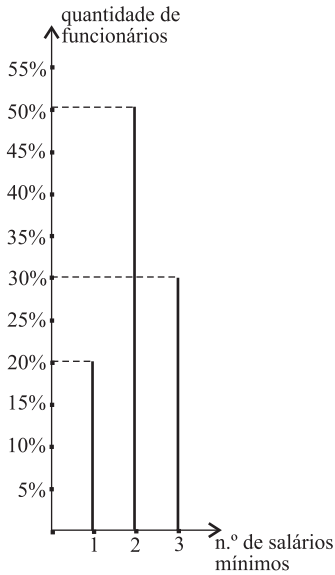
31. Na figura, os pontos A, B e C são colineares e B é vértice comum dos três ângulos em destaque.



Sabendo-se que as medidas desses ângulos estão indicadas em graus, conclui-se que o valor de x é igual a

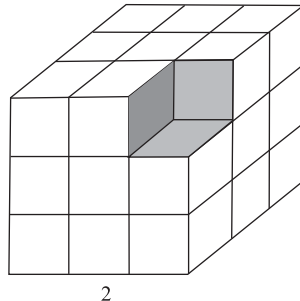
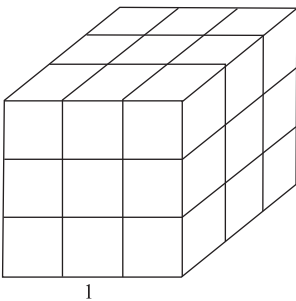
- (A) 30° .
(B) 32° .
(C) $35^\circ 20'$.
(D) $35^\circ 33'$.
(E) 36° .
32. Hoje pela manhã, dirigindo com uma velocidade constante de 50 km por hora, fiz o trajeto de casa ao trabalho em 48 minutos, mas tive um atraso de 8 minutos. Para não sofrer desconto em meu salário, amanhã devo compensar esse atraso, chegando 8 minutos antes do horário de entrada. Se eu sair de casa, exatamente no horário em que saí hoje, devo dirigir com uma velocidade constante mínima de
- (A) 58 km/h.
(B) 68 km/h.
(C) 70 km/h.
(D) 72 km/h.
(E) 75 km/h.

33. O gráfico a seguir representa, em porcentagens, a distribuição dos salários que os funcionários recebem, em uma microempresa.



Sabendo-se que 36 funcionários recebem um salário que corresponde a 3 salários mínimos, pode-se concluir que a média de salário dessa empresa, em salários mínimos, é de

- (A) 3.
 (B) 2,5.
 (C) 2,1.
 (D) 1,8.
 (E) 1,5.
34. Cada uma das faces do cubo representado na figura 1 tem área de 36 cm^2 . Os pequenos cubos que formam essa figura são todos congruentes.



Retirando-se um dos pequenos cubos que formam a figura 1, obtém-se a figura 2, cujo volume, em centímetros cúbicos, é de

- (A) 216.
 (B) 208.
 (C) 204.
 (D) 196.
 (E) 180.

35. Em determinada fábrica, constatou-se que, devido à poluição, 480 dos 2 000 empregados estavam apresentando um problema respiratório. Na tabela que representa esses dados, x indica o número de homens doentes.

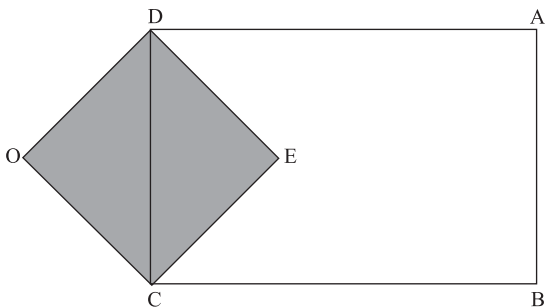
	doentes	sãos	total
homens	x	$2x$	
mulheres			1 064
total	480		2 000

Nesse caso, em relação ao total de empregados, o número de mulheres doentes corresponde a

- (A) 8,4 %.
 (B) 15,6 %.
 (C) 24 %.
 (D) 35 %.
 (E) 53,2 %.
36. Dona Vera preparou certa quantidade de doces para vender durante um evento. Supondo que todos esses doces sejam vendidos, se ela cobrar R\$ 1,50 por unidade, seu lucro será de R\$ 117,00. No entanto, se ela vender cada unidade por R\$ 0,75, terá um prejuízo de R\$ 18,00. Nesse caso, a quantidade de doces preparados por Dona Vera é igual a

- (A) 240.
 (B) 220.
 (C) 200.
 (D) 185.
 (E) 180.

37. Na figura, o perímetro do quadrado CEDO é 48 cm, e a área do retângulo ABCD é 432 cm².



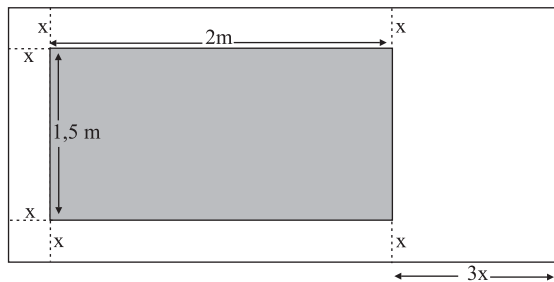
Conclui-se, então, que o lado AD mede

- (A) $16\sqrt{3}$ cm.
 (B) $18\sqrt{2}$ cm.
 (C) $18\sqrt{3}$ cm.
 (D) 18 cm.
 (E) 24 cm.

38. Para encher um reservatório completamente vazio, foi aberta uma torneira que despeja 1,5 litro de água por segundo. Após 15 minutos, três quartos do reservatório estavam cheios. Supondo que a vazão dessa torneira seja reduzida a 1 litro de água por segundo, pode-se concluir que, para o reservatório estar totalmente cheio, sem transbordar, serão necessários mais

- (A) 6 minutos.
- (B) 6,5 minutos.
- (C) 7 minutos.
- (D) 7,5 minutos.
- (E) 8 minutos.

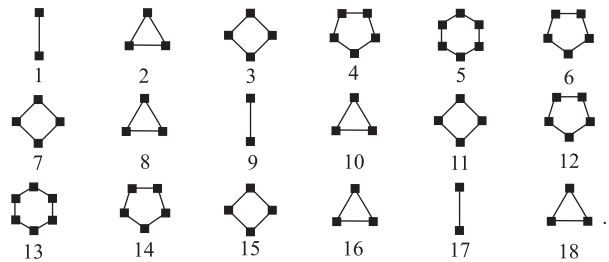
39. Para expor os resultados de uma pesquisa, um grupo de alunos vai construir um painel retangular de 6 m^2 , como o que está representado na figura. A região retangular escura será destinada às fotos dos participantes da pesquisa.



Nesse caso, a medida de x em centímetros é igual a

- (A) 25.
- (B) 20.
- (C) 18.
- (D) 16.
- (E) 15.

40. Considere a sequência de figuras:



Supondo que se mantenha o padrão de regularidade observado na formação dessa sequência, pode-se concluir que a figura de número 60 será igual a

- (A)
- (B)
- (C)
- (D)
- (E)

R A S C U N H O

NOÇÕES DE INFORMÁTICA

41. A figura ilustra uma planilha que está sendo editada no Excel 2000, a partir da sua configuração padrão.

	A	B	C
1			
2	1	2	3
3	2	4	2
4	5	5	5
5	7	6	7
6	8	7	1
7			

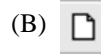
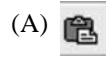
O resultado da fórmula = SOMA(A2:C3) + B4*A3/(4-B\$2) quando aplicada na célula B7 é

- (A) 16.
 (B) 17.
 (C) 18.
 (D) 19.
 (E) 20.
42. A figura ilustra uma planilha que está sendo editada no Excel 2000, a partir da sua configuração padrão. A coluna A contém o nome da pessoa, a coluna B contém a idade da pessoa e a coluna C contém a informação se a idade da pessoa é "Maior" que 14 anos ou "Menor" que 14 anos. A fórmula a ser aplicada na célula C4 para verificar a situação do João Victor Oliveira é

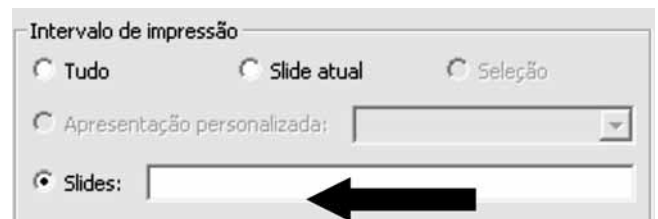
	A	B	C
1	Nome	Idade	Situação
2	Ana Paula Soares	20	Maior
3	Beatriz Paula	21	Maior
4	João Victor Oliveira	13	Menor
5	Luiz Adriano	16	Maior

- (A) =SE(B4 > 14; "Maior";"Menor")
 (B) =SE(B4 > 14; "Menor";"Maior")
 (C) =SE(B4 <> 14; "Maior";"Menor")
 (D) =CONT>SE(B4 > 14; "Maior";"Menor")
 (E) =CONT>SE(B4 > 14; "Menor";"Maior")
43. No Word 2000, a partir da sua configuração padrão, o menu principal que possui opção para ativar o Assistente de carta é
- (A) Arquivo.
 (B) Inserir.
 (C) Formatar.
 (D) Exibir.
 (E) Ferramentas.

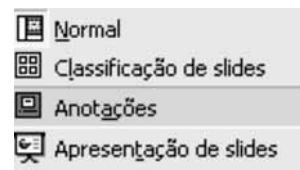
44. Assinale a alternativa que contém o ícone que permite abrir um novo documento em branco no Word 2000, na sua configuração padrão.



45. No PowerPoint 2000, a partir da sua configuração padrão, em uma apresentação contendo 90 slides, na janela de diálogo "Imprimir", os valores a serem colocados na caixa de texto, conforme é mostrado na figura, para imprimir apenas os slides de 1 a 10, e de 15 até 27 são








- (A) 1:10-27
 (B) 1-10-15:27
 (C) 1-10;15-27
 (D) 1:27
 (E) 1:10-15-27
46. No PowerPoint 2000, a partir da sua configuração padrão, o menu principal que contém as opções ilustradas na figura é



- (A) Editar.
 (B) Exibir.
 (C) Inserir.
 (D) Formatar.
 (E) Tabela.

47. No Outlook Express versão 6.0, a partir da sua configuração padrão, o ícone que permite consultar o catálogo de endereços é

- (A) 
- (B) 
- (C) 
- (D) 
- (E) 

48. Dados os seguintes endereços WEB:

- I. <http://www.atenção.com>
- II. <http://g1.globo.com>
- III. <http://www.receita.fazenda.gov.br>
- IV. <http://www.horário.com.br>

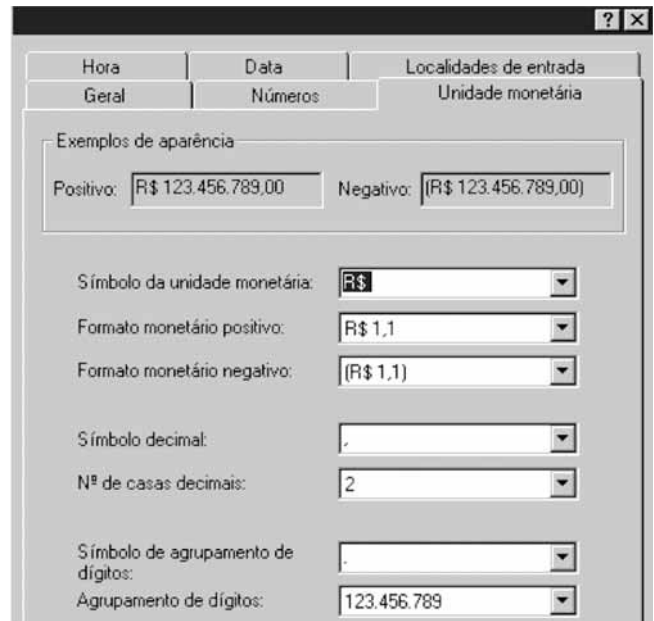
A alternativa que contém apenas endereços válidos de Internet é

- (A) I, II, III e IV.
- (B) I e II, apenas.
- (C) II e IV, apenas.
- (D) III e IV, apenas.
- (E) II e III, apenas.

49. No Windows 2000 versão Profissional, a partir da sua configuração padrão, a sequência a partir do botão Iniciar para acessar a calculadora do Windows é

- (A) Programas, Acessórios e Calculadora.
- (B) Programas, Painel de Controle e Calculadora.
- (C) Programas, Ferramentas Administrativas e Calculadora.
- (D) Executar, CMD e Calculadora.
- (E) Executar, Painel de Controle e Calculadora.

50. No Windows 2000, versão Profissional, a partir da sua configuração padrão, a opção do Painel de controle que permite mudar o símbolo da unidade monetária, como é ilustrada na figura, é



- (A) Sistema.
- (B) Opções de pasta.
- (C) Ferramentas administrativas.
- (D) Opções regionais.
- (E) Opções de acessibilidade.

