



VESTIBULAR DE INVERNO 2012 | SEGUNDA FASE

003. PROVA DE CONHECIMENTOS ESPECÍFICOS E PRODUÇÃO DE TEXTO

- Confira seus dados impressos neste caderno.
- Assine com caneta de tinta azul ou preta apenas no local indicado. Qualquer identificação no corpo deste caderno acarretará a atribuição de nota zero a esta prova.
- Esta prova contém 20 questões discursivas e uma proposta de produção de texto, e terá duração total de 5 horas.
- A prova deve ser feita com caneta de tinta azul ou preta.
- Nas questões de Língua Estrangeira, responda apenas àquelas referentes à sua opção (Inglês ou Espanhol).
- A resolução e a resposta de cada questão devem ser apresentadas no espaço correspondente. Não serão consideradas questões resolvidas fora do local indicado.
- O candidato somente poderá entregar este caderno e sair do prédio depois de transcorridas 3h30, contadas a partir do início da prova.



**VESTIBULAR DE
INVERNO 2012
SEGUNDA FASE**

NÃO ESCREVA NESTE ESPAÇO



Leia a charge.

ONTEM:
SOLTO, COMENDO BALA
NA PADARIA



HOJE:
BALA COMENDO SOLTA
NA PADARIA



(www.chargeonline.com.br)

- a) Explique o tipo de relação de sentido que se estabelece entre as duas imagens da charge.
- b) Segundo o *Dicionário Eletrônico Houaiss*, a polissemia corresponde à “multiplicidade de sentidos de uma palavra ou locução (p.ex., *prato* ‘vasilha’, ‘comida’, ‘iguaria’, ‘receptáculo de balança’, ‘instrumento musical’ etc.). É um fenômeno comum nas línguas naturais, são raras as palavras que não a apresentam.”
- Com base na explicação, transcreva da charge duas palavras que a comprovem e analise os sentidos que elas assumem nos enunciados em que estão empregadas.

RASCUNHO

RESOLUÇÃO E RESPOSTA

RESERVADO À BANCA CORRETORA

a)

b)

INSTRUÇÃO: Leia os textos 1 e 2 para responder às questões de números **02** e **03**.

TEXTO 1

Até que se prove o contrário, o atual programa nuclear iraniano é pacífico e visa solucionar um grave déficit energético. Vale lembrar que Teerã ergueu em 1967 seu primeiro Centro de Pesquisas Nucleares, e planejou a construção de até 20 usinas nucleares. A orientação vinha do Stanford Institute, indicando a necessidade de 20 mil megawatts de energia atômica até 1994.

(Márcia Camargo. *Cortina de Fumaça*. Folha de S.Paulo, 12.11.2011.)

TEXTO 2

O relatório da Agência Internacional de Energia Atômica, publicado nesta semana em Viena, prova além de qualquer dúvida que o governo do Irã vinha desenvolvendo sistematicamente sua capacidade de criar armas nucleares, ao mesmo tempo em que seus líderes refutavam esse fato publicamente!

(Ilan Sztulman. *Regime é perigoso para o mundo todo*. Folha de S.Paulo, 12.11.2011. Adaptado.)

02

Analisando a argumentação desenvolvida nos textos, responda:

- a) em que aspecto os argumentos que sustentam as afirmações dos textos 1 e 2 divergem?
- b) qual das duas conclusões coincide com o que diz o governo do Irã? Justifique sua resposta com informações textuais.

RASCUNHO

RESOLUÇÃO E RESPOSTA

RESERVADO À BANCA CORRETORA

a)

b)

Tendo como referência a organização de frases e períodos, respeitados os aspectos de coesão e coerência textuais,

- a) reescreva a oração – [...] *visa solucionar um grave déficit energético*. – do texto 1, substituindo o verbo “solucionar” por outro que não altere o sentido do enunciado.
- b) explique o sentido da expressão – [...] *ao mesmo tempo em que* [...] – do texto 2 e reescreva a oração em que ela ocorre, substituindo-a por outra de sentido equivalente.

RASCUNHO

RESOLUÇÃO E RESPOSTA

RESERVADO À BANCA CORRETORA

a)

b)

A cavalgada

*A lua banha a solitária estrada...
Silêncio!... Mas além, confuso e brando,
O som longínquo vem-se aproximando
Do galopar de estranha cavalgada.*

*São fidalgos que voltam da caçada;
Vêm alegres, vêm rindo, vêm cantando.
E as trompas a soar vão agitando
O remanso da noite embalsamada...*

*E o bosque estala, move-se, estremece...
Da cavalgada o estrépito que aumenta
Perde-se após no centro da montanha...*

*E o silêncio outra vez soturno desce...
E límpida, sem mácula, alvacenta
A lua a estrada solitária banha...*

(www.academia.org.br)

04

O poema de Raimundo Correia exemplifica o conceito de arte para os parnasianos, que apregoaram a busca da perfeição formal.

- a) Nos versos de Olavo Bilac – *E, ao clarão de uma lâmpada tremente, / Do claustro sob as tácitas arcadas / Passa a ronda noturna, lentamente...* –, ocorre o recurso poético denominado “anástrofe”, tipo de inversão que consiste na anteposição do determinado (preposição+substantivo) ao determinante. Transcreva um trecho do poema de Raimundo Correia que exemplifique tal recurso.
- b) Também a seleção léxica (vocabulário) pode ilustrar o formalismo parnasiano. Esse recurso ocorre no soneto *A cavalgada*? Justifique a sua resposta com base no texto.

RASCUNHO

RESOLUÇÃO E RESPOSTA

RESERVADO À BANCA CORRETORA

a)

b)

O poema apresenta um cenário que se altera em função da passagem dos fidalgos.

- a) Qual dos cinco sentidos humanos é evocado para mostrar dois cenários distintos e antagônicos? Justifique sua resposta com, no mínimo, quatro palavras do texto.
- b) Comparando-se o primeiro com o último verso do poema, é correto afirmar que esse soneto tem um caráter circular? Justifique.

RASCUNHO

RESOLUÇÃO E RESPOSTA

RESERVADO À BANCA CORRETORA

a)

b)

No início de janeiro, uma mulher de 22 anos, com muita dor de cabeça e uma paralisia no lado esquerdo do corpo, decidiu ir a um ambulatório especializado de São Bernardo do Campo, na Grande São Paulo. A enfermeira que a atendeu a convenceu a fazer um teste rápido de detecção do vírus HIV. O resultado, que saiu em 30 minutos, deu positivo.

(Pesquisa Fapesp, março de 2012. Adaptado.)

Observando a organização das informações textuais,

- a) transcreva o trecho que expressa sentido de causa.
- b) explique como se classifica morfologicamente o termo “a” nas ocorrências da oração: *A enfermeira que a atendeu a convenceu a fazer um teste rápido de detecção do vírus HIV.*

RASCUNHO

RESOLUÇÃO E RESPOSTA

RESERVADO À BANCA CORRETORA

a)

b)

Analise o texto.

Enquete

Após beijo, eles podem formar o 1.º casal do “BBB 12”. Tem química entre Laisa e Yuri?

Sim. Quero ver eles juntos

Não tem nada a ver

Resultado parcial **Votar**

(www.uol.com.br, 15.01.2012. Adaptado.)

- a) Explique que variedade linguística é empregada na enquete do UOL, exemplificando sua resposta com uma passagem do texto.
- b) Reescreva a frase – *Sim. Quero ver eles juntos* –, substituindo o pronome “eles” por um pronome oblíquo, fazendo as adaptações que forem necessárias à norma-padrão.

RASCUNHO

RESOLUÇÃO E RESPOSTA

RESERVADO À BANCA CORRETORA

a)

b)

Nunca se sabe direito a razão de um amor. Contudo, a mais frequente é a beleza. Quero dizer, o costume é os feios amarem os belos e os belos se deixarem amar. Mas acontece que às vezes o bonito ama o bonito e o feio o feio, e tudo parece estar certo e segundo a vontade de Deus, mas é um engano. Pois o que se faz num caso é apurar a feiura e no outro apurar a boniteza, o que não está certo, porque Deus Nosso Senhor não gosta de exageros; se Ele fez tanta variedade de homens e mulheres neste mundo é justamente para haver mistura e dosagem e não se abusar demais em sentido nenhum. Por isso também é pecado apurar muito a raça, branco só querendo branco e gente de cor só querendo os da sua igualha — pois para que Deus os teria feito tão diferentes, se não fora para possibilitar as infinitas variedades das suas combinações?

(Rachel de Queiroz. *As cem melhores crônicas brasileiras*, 2007.)

Com base na argumentação da autora, explique

- a) em que situação se apuram a feiura e a boniteza.
- b) como ela se coloca em relação à diversidade de tipos humanos.

RASCUNHO

RESOLUÇÃO E RESPOSTA

RESERVADO À BANCA CORRETORA

a)

b)

RANKING DAS DEZ PRINCIPAIS EMPRESAS EXPORTADORAS DE MINAS GERAIS EM 2008

Ordem	Descrição	US\$*	Part %
1	Companhia Vale do Rio Doce	6.364.521.070	26,04
2	Companhia Brasileira de Metalurgia e Mineração	1.613.752.904	6,60
3	Gerdau Açominas S.A.	1.480.141.162	6,06
4	Fiat Automóveis S.A.	1.023.948.764	4,19
5	Mercedes-Benz do Brasil Ltda.	764.008.013	3,13
6	Celulose Nipo Brasileira S.A. (CENIBRA)	609.842.520	2,49
7	Usinas Siderúrgicas de Minas Gerais S.A. (USIMIN)	450.879.437	1,84
8	Acesita S.A.	385.743.142	1,58
9	ArcelorMittal Brasil S.A.	378.737.676	1,55
10	Nacional Minérios S.A.	305.419.669	1,25

* US\$ FOB – 2006

(www.politicaapls.redesist.ie.ufrj.br. Adaptado.)

Utilizando os dados da tabela e conhecimentos geográficos, indique:

- Os principais ramos industriais presentes em Minas Gerais em 2008.
- A relação entre esses dados e o modelo de desenvolvimento econômico ocorrido no Brasil a partir da década de 1950.

RASCUNHO

RESOLUÇÃO E RESPOSTA

RESERVADO À BANCA CORRETORA

a)

b)

No Brasil, o descaso com a destinação final dos resíduos urbanos tem gerado práticas obsoletas de descarte com inúmeras consequências ao meio ambiente. O problema tornou-se ainda mais grave com o aumento da produção dos resíduos decorrente do modelo de consumo em nossa sociedade. A Política Nacional de Resíduos Sólidos (PNRS), regulamentada por Decreto Presidencial em 23.12.2010, prevê que a situação presente em quase todos os municípios brasileiros seja solucionada. As diretrizes estabelecidas na referida Lei regulamentam a implementação de um novo modelo de descarte, com técnicas adequadas à disposição final dos resíduos e um conjunto de medidas que permitam sua efetiva aplicação.

- a) Quais são os problemas ambientais decorrentes do atual modelo de descarte dos resíduos urbanos?
- b) Indique duas medidas que deverão ser tomadas pelos municípios brasileiros para garantir a implantação da Política Nacional de Resíduos Sólidos.

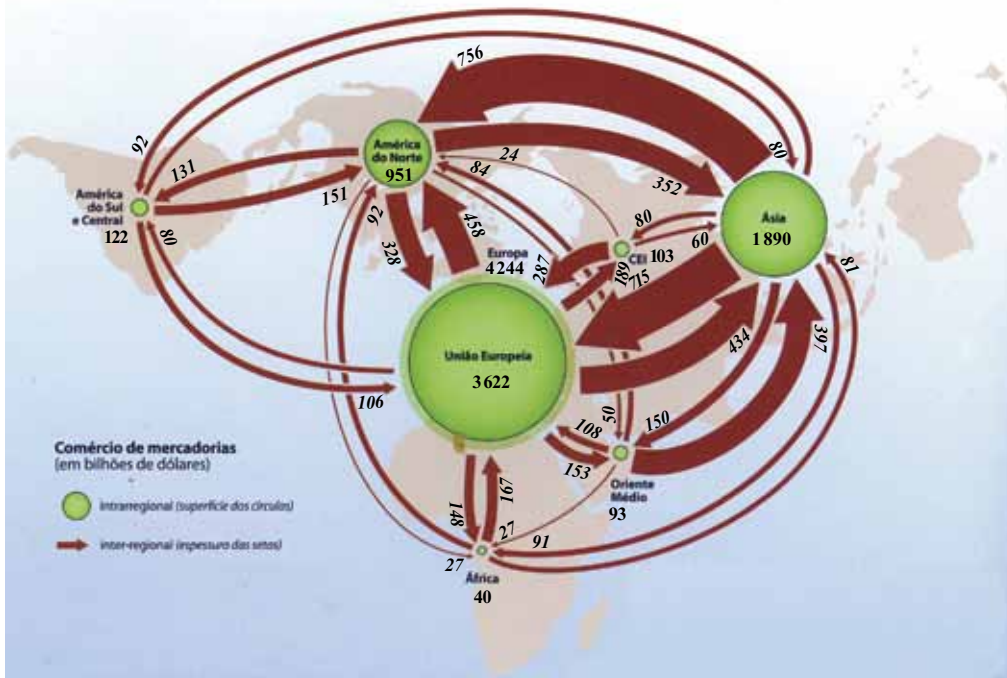
RASCUNHO

RESOLUÇÃO E RESPOSTA

	RESERVADO À BANCA CORRETORA
	a)
	b)

Analise o mapa.

UM COMÉRCIO TRIPOLAR



(Marie-Françoise Durand et al. Atlas da mundialização: compreender o espaço mundial contemporâneo, 2009. Adaptado.)

De acordo com o mapa e conhecimentos geográficos,

- a) descreva o comércio internacional segundo os dados apresentados.
- b) identifique e caracterize duas áreas de menor expressão em termos de comércio intrarregional.

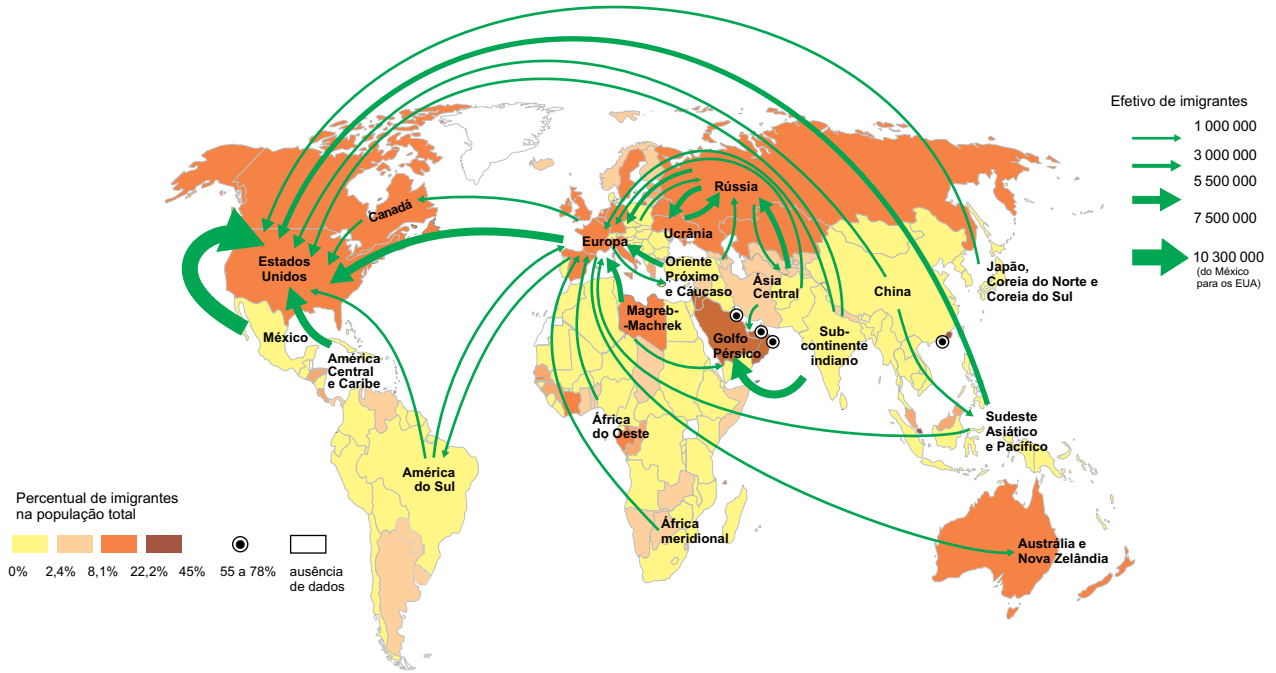
RASCUNHO

RESOLUÇÃO E RESPOSTA

RESERVADO À BANCA CORRETORA
a)
b)

Observe o mapa que apresenta o fluxo de migrações nas últimas décadas do século XX.

AS MIGRAÇÕES, FINAL DO SÉCULO XX



(Caderno do Aluno, SEE/SP, vol.1. Adaptado.)

- Indique quais foram os principais focos de atração de imigrantes no mundo no final do século XX.
- Descreva dois dos principais fluxos indicados no mapa.

RASCUNHO

RESOLUÇÃO E RESPOSTA

RESERVADO À BANCA CORRETORA

a)

b)

Leia o trecho de um discurso de Péricles, que exerceu o governo entre 444 e 429 a.C., tal como registrado pelo historiador Tucídides em sua obra *História da Guerra do Peloponeso*.

Vivemos sob uma forma de governo que não se baseia nas instituições de nossos vizinhos [...]. Nela, enquanto no tocante às leis todos são iguais para solução de suas divergências privadas, quando se trata de escolher (se é preciso distinguir em qualquer setor), não é o fato de pertencer a uma classe, mas o mérito, que dá acesso aos postos mais honrosos; inversamente, a pobreza não é razão para que alguém, sendo capaz de prestar serviços à cidade, seja impedido de fazê-lo pela obscuridade de sua condição [...]. Na educação, ao contrário de outros que impõem desde a adolescência exercícios penosos para estimular a coragem, nós, com nossa maneira liberal de viver, enfrentamos pelo menos tão bem quanto eles perigos comparáveis [...]. Não nos perturbamos antecipando desgraças ainda não existentes e, chegado o momento da provação, demonstramos tanta bravura quanto aqueles que estão sempre sofrendo.

- a) Identifique a forma de governo referida por Péricles e cite dois aspectos, presentes no texto, que a distinguem.
- b) Apresente outra concepção de educação existente no tempo de Péricles.

RASCUNHO

RESOLUÇÃO E RESPOSTA

RESERVADO À BANCA CORRETORA

a)

b)

Observe a gravura, relativa à fundição de cobre na cidade de Swansea, País de Gales, século XIX.



(apud Divalte Garcia Figueira. *História em foco*, 2010.)

- Identifique o sistema de produção representado na gravura e indique um aspecto que o diferencia de formas anteriores de produção.
- Indique uma consequência social dessa forma de produção e comente-a.

RASCUNHO

RESOLUÇÃO E RESPOSTA

RESERVADO À BANCA CORRETORA

a)

b)

Leia o comunicado que deputados e senadores dirigiram à nação, por ocasião da Abdicação de D. Pedro I.

No dia 7 de abril de 1831, começou a nossa existência nacional: o Brasil será dos brasileiros, e livre.

Concidadãos! Já temos Pátria, temos Monarca, símbolo da vossa união e da integridade do Império, que educado entre nós recebeu no berço as primeiras lições da Liberdade Americana, e aprenda a amar o Brasil, que o viu nascer.

(*apud* Ivan Alves Filho. *Brasil, 500 anos em documentos*, 1999.)

- a) Por que se afirma que em 7 de abril de 1831 “começou a nossa existência nacional”?
- b) A que monarca se refere o texto e quais as esperanças nele depositadas?

RASCUNHO


RESOLUÇÃO E RESPOSTA

RESERVADO À BANCA CORRETORA

a)

b)

No momento em que a economia brasileira apresentava resultados muito positivos (1967-1974), o então Ministro da Fazenda, Antonio Delfim Netto, defendia a ideia de que era preciso “primeiro deixar o bolo crescer, para depois dividi-lo”. Em 1979, voltou ao poder como Ministro do Planejamento, prometendo reeditar os bons resultados anteriores, o que motivou a charge de Paulo Caruso, publicada no *Jornal do Brasil*.



- a) Que tipo de política o Ministro da Fazenda tentava justificar com sua proposta de esperar o bolo crescer para depois dividi-lo?
- b) Apesar das promessas, não foi possível alcançar os resultados econômicos registrados no começo da década. Dê duas razões para o insucesso do então Ministro do Planejamento.

RASCUNHO

RESOLUÇÃO E RESPOSTA

RESERVADO À BANCA CORRETORA

a)

b)

Indigenous squatters living in shadow of Brazil's Maracanã stadium facing uncertain future

By Associated Press

RIO DE JANEIRO — As Rio prepares to host the 2014 World Cup and 2016 Olympics, all eyes are turning to the gray and blue walls of the storied Maracanã stadium. Yet even with all the attention, few people notice about 30 indigenous people who have been squatting in the shadow of the cathedral of Brazilian soccer and will have to move as part of the neighborhood's US\$63.2 million makeover. Maracanã, built for the 1950 World Cup, will be the keystone of the city's upcoming sporting events, hosting the opening and closing ceremonies of the Olympics and the final match of World Cup.

The squatters don't fit into the state's plans for the neighborhood's makeover. The group living next to the stadium's wall includes men and women of about 10 ethnicities — mostly Guarani, Pataxo, Kaingangue and Guajajara. They live in 10 homes they built on the site of Rio's old Indian Museum, which has been abandoned since 1977.

Carlos Tukano, the group's leader, says the space provides a place to stay for indigenous people visiting Rio, whether looking for medical care, pursuing their education or hawking crafts to tourists on the beach. "When Indians came to the city, they didn't have their own space, they didn't have money, and would have to sleep out in the streets," said Tukano, himself from a village deep in the Amazon. "We said, 'There is no one here, let's make this our space.'"

They've got history on their side. The crumbling mansion with soaring ceilings that housed the old museum was donated by a wealthy Brazilian to the government in 1847, specifically to serve as a center for the study of indigenous traditions.

The fate of the squatters is uncertain. Tukano has heard only rumors about what will happen to the area: that it'll turn into a parking lot, or a shopping center, or just a walkway into the stadium. They know they'll have to move, but they've had no official communication from the government about when or how. "We're waiting for a shot in the dark," he said. "We don't know when or where it's coming from."

(<http://firstpeoplesblog.wordpress.com>, 22.03.2012. Adaptado.)

- a) Qual o valor previsto para a reforma do entorno do Maracanã?
- b) Que eventos ocorrerão no estádio do Maracanã em 2014 e 2016?

RASCUNHO

RESOLUÇÃO E RESPOSTA

RESERVADO À BANCA CORRETORA

a)

b)

- a) Onde, no entorno do Maracanã, vive a comunidade indígena mencionada no texto?
- b) Caracterize a população da comunidade indígena, com base nas informações do texto.

RASCUNHO

RESOLUÇÃO E RESPOSTA

RESERVADO À BANCA CORRETORA

a)

b)

- a) Qual é a origem da mansão que abrigava o Museu do Índio?
- b) Como os indígenas acabaram se estabelecendo no antigo local do Museu do Índio?

RASCUNHO

RESOLUÇÃO E RESPOSTA

RESERVADO À BANCA CORRETORA

a)

b)

- a) Who is Carlos Tukano and where did he come from?
- b) According to Carlos Tukano, what may happen to the area where his community is settled?

RASCUNHO

RESOLUÇÃO E RESPOSTA

RESERVADO À BANCA CORRETORA

a)

b)

Protesta de los agricultores por la “plaga” de conejos

Unos 150 agricultores de la Unió de Llauradors se han concentrado esta mañana ante la sede de la Consejería de Medio Ambiente, donde han dejado conejos muertos para exigir al gobierno que adopte medidas “contra la plaga de estos animales que destruyen las cosechas”. En un comunicado, la Unió ha agregado que con esta acción pretende que se tomen las medidas “efectivas para controlar la población de fauna salvaje tanto de conejos como de jabalíes, cabras y ciervos, entre otros”. Según la Unió, los conejos que han dejado hoy frente a la consejería los habían cazado los agricultores durante los últimos días en sus campos.

La manifestación de agricultores, que ya estaba anunciada a principios de semana, se mantuvo pese a que este martes se celebró una reunión de representantes de la Unió, entre ellos su secretario general, Ramón Mampel. Mampel ha declarado hoy: “Los agricultores estamos hartos de los daños que nos ocasionan las diversas especies de fauna salvaje en nuestras explotaciones y por ello pedimos que el gobierno coordine y establezca medidas al respecto porque las que se han puesto en marcha no han sido efectivas hasta la fecha”. Asimismo, ha añadido que espera que el compromiso surgido de la reunión para impulsar las propuestas de la Unió “se traduzca en hechos y realidades muy pronto”.

(www.elpais.com, 14.03.2012. Adaptado.)

17 RESPONDA EM PORTUGUÊS.

- a) O que fizeram os agricultores em sinal de protesto?
b) O que eles exigiram? Por quê?

RASCUNHO

RESOLUÇÃO E RESPOSTA

RESERVADO À BANCA CORRETORA

a)

b)

- a) O governo já havia tomado medidas para proteger as lavouras?
- b) O que o secretário geral, Ramón Mampel, espera do governo quanto à proteção das lavouras?

RASCUNHO

RESOLUÇÃO E RESPOSTA

RESERVADO À BANCA CORRETORA

a)

b)

Se duplicó la demanda de cerraduras electrónicas

Cada vez es más frecuente que los consorcios en la capital federal (Buenos Aires) adopten cerraduras con llaves computarizadas, tarjetas de proximidad y sistemas biométricos para la puerta de ingreso, que anulan la vieja cerradura. Si bien no existen datos oficiales sobre esta tendencia, cerrajeros, casas de seguridad y otros referentes coinciden que en los últimos 12 meses, la demanda de estos dispositivos se disparó al doble. “Sobre todo en edificios nuevos, la seguridad se convierte en preocupación para los consorcios. Es muy común que a las cámaras de seguridad les agreguen cerraduras inteligentes o de funcionamiento más complejos”, dicen desde la Liga del Consorcista.

Las tarjetas de proximidad son las más pedidas. Hay modelos similares a una tarjeta de crédito y otros con las dimensiones de una moneda. Incluyen un chip interno que libera el pestillo. Entre otras cualidades, “tienen alta velocidad de autenticación e instalación sencilla”, explica Víctor Santillana, asesor comercial de SAGE Sistemas de Control.

Sobre sus beneficios, Alberto Armesto, de cerrajería SG, sostiene que “en una cerradura común, por robo o pérdida hay que reemplazar el tambor y hacer un juego de llaves a cada inquilino. Con las electrónicas, se le da de baja, se ingresa un nuevo código, sin producir un gasto general”. Y agrega: “Ya de cada diez controles de acceso que instalamos, uno es en un edificio”.

(www.clarin.com, 09.04.2012. Adaptado.)

19 RESPONDA EM PORTUGUÊS.

- a) Qual é a nova tendência quanto aos sistemas de segurança na cidade de Buenos Aires?
- b) Quais dados comprovam isso?

RASCUNHO

RESOLUÇÃO E RESPOSTA

RESERVADO À BANCA CORRETORA

a)

b)

- a) Quanto ao mecanismo de segurança, qual é o tipo mais vendido?
- b) Quais qualidades e benefícios desse dispositivo são apontados no texto?

RASCUNHO

RESOLUÇÃO E RESPOSTA

RESERVADO À BANCA CORRETORA

a)

b)

PRODUÇÃO DE TEXTO

INSTRUÇÃO: Leia os textos para elaborar sua redação, que deverá atender à norma-padrão da língua portuguesa.

TEXTO 1

A preguiça é a mãe do progresso. Se o homem não tivesse preguiça de caminhar, não teria inventado a roda.

(Mario Quintana, *Na volta da esquina.*)

TEXTO 2

Culturalmente, temos negado nosso direito de pouco fazer. Produzir sem cessar é o estereótipo vigente, atrelado às leis do trabalho. E à felicidade. Mas até essa ideia encontrou resistência. O pensador francês Paul Lafargue, por exemplo, pregou o “direito à preguiça” como uma luta verdadeiramente libertária. Já o teórico Jean Baudrillard defendia a escolha pelo ócio: “Não mudarei, qualquer que seja o curso dos acontecimentos. Detesto a atividade agitada dos meus concidadãos, a iniciativa, a responsabilidade social. São valores exógenos, urbanos, pretensiosos. São qualidades industriais. A preguiça é uma energia natural”.

(www.estadao.com.br, 23.01.2010. Adaptado.)

TEXTO 3

Aquele que é mestre na arte de viver faz pouca distinção entre o seu trabalho e o seu tempo livre, entre a sua mente e o seu corpo, entre a sua educação e a sua recreação, entre o seu amor e a sua religião. Distingue uma coisa da outra com dificuldade. Almeja, simplesmente, a excelência em qualquer coisa que faça, deixando aos demais a tarefa de decidir se está trabalhando ou se divertindo. Ele acredita que está sempre fazendo as duas coisas ao mesmo tempo.

(Domenico de Masi, *O ócio criativo.*)

TEXTO 4

*Sem trabalho eu não sou nada
Não tenho dignidade
Não sinto o meu valor
Não tenho identidade
[...]*

(Renato Russo. *Música de trabalho.* www.legiao.org)

Em uma cultura em que tanto se exalta o trabalho, como forma de vencer na vida e de se realizar, e, ao mesmo tempo em que milhões e milhões de pessoas não conseguem o emprego que tanto desejam, paradoxalmente se vê o tempo livre aumentar. Com base na leitura dos textos, elabore um texto dissertativo sobre o tema:

TRABALHO E TEMPO LIVRE: É POSSÍVEL CONCILIAR ESSAS REALIDADES?

Os rascunhos não serão considerados na correção.

RASCUNHO

NÃO ASSINE ESTA FOLHA

