

042. PROVA OBJETIVA

MÉDICO AUDITOR

- ◆ Você recebeu sua folha de respostas e este caderno contendo 60 questões objetivas.
- ◆ Confira seu nome e número de inscrição impressos na capa deste caderno.
- ◆ Quando for permitido abrir o caderno, verifique se está completo ou se apresenta imperfeições. Caso haja algum problema, informe ao fiscal da sala.
- ◆ Leia cuidadosamente todas as questões e escolha a resposta que você considera correta.
- ◆ Marque, na folha de respostas, com caneta de tinta azul ou preta, a letra correspondente à alternativa que você escolheu.
- ◆ A duração da prova é de 3 horas e 30 minutos, já incluído o tempo para o preenchimento da folha de respostas.
- ◆ Só será permitida a saída definitiva da sala e do prédio após transcorrida a metade do tempo de duração da prova.
- ◆ Ao sair, você entregará ao fiscal a folha de respostas e este caderno, podendo levar apenas o rascunho de gabarito, localizado em sua carteira, para futura conferência.
- ◆ Até que você saia do prédio, todas as proibições e orientações continuam válidas.

AGUARDE A ORDEM DO FISCAL PARA ABRIR ESTE CADERNO DE QUESTÕES.

CONHECIMENTOS GERAIS

LÍNGUA PORTUGUESA

Leia o texto, para responder às questões de números **01** a **05**.

Na era da internet, com seus “rsrsrs” e as “longas” mensagens de 140 caracteres do Twitter, que lugar haveria para a retórica, a invenção dos gregos clássicos para permitir que nas democracias o bom cidadão pudesse defender seus pontos de vista falando bem? Na semana passada, o julgamento do mensalão no STF pôs em evidência os advogados dos réus. Eles foram lá exercitar sua retórica, uma vez que as peças de defesa já haviam sido escritas e enviadas aos ministros do tribunal. Os defensores, com raras exceções, saíram-se muito mal no quesito da retórica – que não é blá-blá-blá.

Quando assumiu o posto de presidente da Suprema Corte dos Estados Unidos, Earl Warren perguntou a um colega mais antigo em quem confiava plenamente o que ele deveria ler para conseguir escrever suas sentenças no alto nível que as circunstâncias exigiam. O colega de Warren, Hugo Black, respondeu: “Basta ler Retórica, de Aristóteles”.

Sábio conselho. Com a democracia, os gregos criaram esse mecanismo de sustentação oral baseado na lógica e na honestidade de pensamento a que chamaram de retórica. Os cidadãos eram frequentemente obrigados a defender em público não apenas ideias, mas sua propriedade e até a própria liberdade. Aristóteles ensinou que persuadir uma audiência nada tem a ver com eloquência. Isso é sofisma. O que separa um cidadão grego dotado da retórica de um mero sofista? A retórica vencedora não depende do dom da oratória, mas do valor moral do orador.

(Otávio Cabral e Carolina Melo. A retórica não é blá-blá-blá. *Veja*, 15.08.2012)

- 01.** A palavra que melhor traduz a ideia acerca da qualidade do orador, no contexto, é
- (A) tenacidade.
 - (B) verbosidade.
 - (C) probidade.
 - (D) entusiasmo.
 - (E) proselitismo.
- 02.** Na frase final do primeiro parágrafo está implícito que, em sua maioria, os defensores dos réus do mensalão
- (A) praticaram a retórica somente como oratória vazia.
 - (B) restringiram sua defesa a peças escritas.
 - (C) foram convincentes em suas manifestações escrita e oral.
 - (D) renunciaram ao recurso da sustentação oral.
 - (E) falaram livremente, como deve ocorrer nas democracias.

- 03.** Assinale a alternativa contendo as palavras cujos sentidos se opõem, correta e respectivamente, aos sentidos das expressões destacadas nas frases:

Com a **democracia**, os gregos criaram esse mecanismo de sustentação oral.

Aristóteles ensinou que persuadir uma audiência nada tem a ver com eloquência. Isso é **sofisma**.

- (A) o fisiologismo; falácia.
- (B) a meritocracia; eficácia.
- (C) o elitismo; má-fé.
- (D) o autoritarismo; boa-fé.
- (E) a soberania; imprevidência.

- 04.** Considere as seguintes afirmações:

- I. As aspas em “longas” (1.º parágrafo) indicam que a palavra está sendo empregada em sentido irônico.
- II. As aspas em “rsrsrs” (1.º parágrafo) indicam que se trata de palavra estrangeira, razão pela qual é incorreto empregá-la.
- III. As aspas em “Basta ler Retórica, de Aristóteles” (2.º parágrafo) indicam que se trata de uma citação.

Deve-se concluir que está correto o que se afirma em

- (A) I, apenas.
- (B) II, apenas.
- (C) III, apenas.
- (D) I e III, apenas.
- (E) I, II e III.

- 05.** Observe os trechos destacados em seus respectivos contextos:

- I. ... permitir que nas democracias o bom cidadão pudesse defender seus pontos de vista **falando bem**?
- II. Eles foram lá exercitar sua retórica, **uma vez que as peças de defesa já haviam sido escritas e enviadas aos ministros do tribunal**.
- III. ...o que ele deveria ler **para conseguir escrever suas sentenças no alto nível** que as circunstâncias exigiam.

Esses trechos expressam, correta e respectivamente, as circunstâncias de

- (A) meio, restrição e finalidade.
- (B) modo, restrição e condição.
- (C) meio, causa e condição.
- (D) restrição, condição e finalidade.
- (E) modo, causa e finalidade.

06. Assinale a alternativa que apresenta conjugação de verbos e concordância nominal e verbal de acordo com o padrão culto da língua.
- (A) É inegável que aqueles que se disporem a basear suas defesas em puro blá-blá-blá, não expondo dado consistente, não será bem sucedido.
 - (B) Mesmo que os defensores se dispusessem a praticar uma defesa adequada, com argumentos que se mostrassem irrefutáveis, haveria quem lhes criticasse a estratégia.
 - (C) Haverão sempre os descontentes com as decisões emanadas do iminente julgador, caso as decisões dele se contraporem às expectativas dos réus.
 - (D) Os réus devem ter em seu defensor uma pessoa de sua confiança, que eles reputassem competentes, mesmo quando não se tratam de advogados famosos.
 - (E) Pela lei do Brasil, é proibido a prática da advocacia por estrangeiros; deseja-se que restrinjam sua atuação a seu país de origem, onde goza de plenos poderes.

Leia o texto, para responder às questões de números 07 a 10.

No terceiro dia de julgamento, seguiram-se novos depoimentos e finalmente fizeram-se as acareações. E o que facilitou grandemente a tarefa da acusação foi que, na esperança de melhorarem sua posição pessoal, os réus se puseram a acusar uns aos outros. Fez-se publicamente o exame dos prontuários tirados da parte dos arquivos da Polícia Central que Zabala não tivera tempo de destruir. Por meio desses documentos, ficou provado que mais de duzentas pessoas, entre as quais algumas dúzias de estudantes, haviam morrido de doenças e maus tratos nas diversas prisões de Cerro Hermoso e arredores, e seus corpos enterados numa vala comum, sem que seus parentes tivessem sido sequer notificados da “ocorrência”. Quando o promotor público terminou a acusação, o Presidente do Tribunal deu a palavra ao advogado profissional que o Comitê Central Revolucionário designara para defender os réus. O homem ergueu-se e declarou que, diante de todas aquelas provas, ele não só recusava fazer a defesa de seus constituintes como também não pedia sequer para eles a clemência dos jurados. E sentou-se. Sua “defesa” – que provocou aplausos – durou menos de um minuto.

(Érico Veríssimo, *O Senhor Embaixador*)

07. É correto afirmar que o texto dedica-se predominantemente a
- (A) descrever ações e relatar fatos objetivamente, tendo em vista que apresenta ocorrências havidas durante um julgamento, sem expressão de pontos de vista do enunciador.
 - (B) relatar fatos e descrever personagens subjetivamente, tendo em vista que apresenta ações de personagens que, segundo o ponto de vista do enunciador, mudaram o rumo da revolução.
 - (C) descrever personagens sem se ater a fatos, tendo em vista que apresenta características físicas e psicológicas daqueles, a partir da perspectiva particular do enunciador.
 - (D) expor teses que o enunciador discute a partir de um ponto de vista contrário às personagens identificadas como réus do processo apresentado.
 - (E) relatar fatos e discutir teses, tendo em vista que o enunciador tanto relata acontecimentos quanto expressa seu ponto de vista em apoio a estes.

08. Assinale a alternativa em que as duas formas verbais expressam tempo equivalente.

- (A) Puseram; tivessem sido notificados.
- (B) Fez-se; recusava.
- (C) Tivera; haviam morrido.
- (D) Melhorarem; tivera tempo.
- (E) Designara; declarou.

09. A alternativa em que a nova versão da frase do texto apresenta emprego e colocação de pronome de acordo com a norma-padrão é:

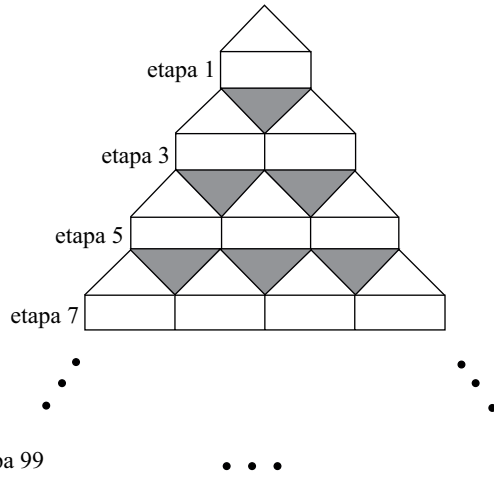
- (A) No terceiro dia de julgamento, se seguiram novos depoimentos, os quais depois deles finalmente fizeram-se as acareações.
- (B) E facilitou grandemente a tarefa da acusação o fato onde os réus, na esperança de melhorarem sua posição pessoal, se puseram a acusar uns aos outros.
- (C) Se fez publicamente o exame dos prontuários tirados da parte dos arquivos da Polícia Central, os quais Zabala não tivera tempo de destruí-los.
- (D) Eram documentos importantes, cujos provaram que torturaram-se mais de duzentas pessoas, entre eles algumas dúzias de estudantes.
- (E) O Presidente do Tribunal deu a palavra ao advogado, profissional cuja designação para defender os réus deveu-se ao Comitê Central Revolucionário.

10. Assinale a alternativa em que o sinal indicativo de crase está empregado corretamente.

- (A) Foi dada a palavra à defesa, que se recusou à falar em favor de seus representados.
- (B) Provou-se que àqueles estudantes foram impostos severos maus tratos, até levá-los à morte.
- (C) À bem da verdade, a defesa não estava plenamente à par das acusações contra os réus.
- (D) À princípio, os acusados submetidos à acareação passaram a incriminar-se uns aos outros.
- (E) À partir daquele momento, as pessoas que assistiam àquele julgamento aplaudiram à atitude do defensor.

11. Alzira, Beatriz, César e Dinah têm 14, 15, 17 e 19 anos de idade, não necessariamente nessa ordem. Sabe-se que César é mais velho que Alzira. A diferença entre as idades de Dinah e Beatriz, não necessariamente nessa ordem, é de 1 ano. Nas condições dadas, a idade de Alzira, em anos, é
- (A) 14.
 - (B) 15.
 - (C) 16.
 - (D) 17.
 - (E) 19.
12. Os radares A, B e C detectam excesso de velocidade nos seguintes tipos de veículos:
- A – detecta apenas veículos de quatro rodas;
 - B – detecta veículos de pelo menos três rodas;
 - C – detecta qualquer veículo.
- Em relação a um veículo que tenha passado pelos três radares em excesso de velocidade, mas que tenha sido multado por apenas dois deles, é correto afirmar que, necessariamente, ele tem
- (A) menos do que três rodas.
 - (B) três ou mais do que quatro rodas.
 - (C) até três rodas.
 - (D) quatro rodas.
 - (E) mais do que quatro rodas.
13. Em um mês, temos 5 quintas-feiras, 5 sextas-feiras e 5 sábados. O dia em que caiu a terceira quarta-feira desse mês indicado foi
- (A) 18.
 - (B) 19.
 - (C) 20.
 - (D) 21.
 - (E) 24.

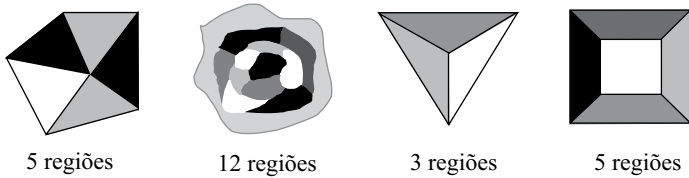
14. Observe a figura.



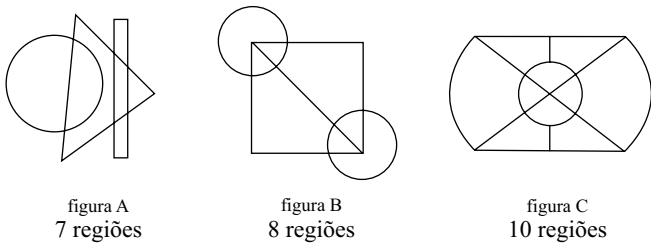
Mantendo-se o mesmo padrão, ao completar a etapa 99 da figura, o total de triângulos sombreados será igual à soma $1+2+3+4+5+\dots+n$, com n igual a

- (A) 44.
- (B) 45.
- (C) 49.
- (D) 50.
- (E) 99.

15. Diremos que uma figura está “bem colorida” se não existem regiões vizinhas coloridas com uma mesma cor. Regiões que só se tocam por um ponto não são consideradas vizinhas. Veja quatro exemplos de figuras consideradas “bem coloridas”.

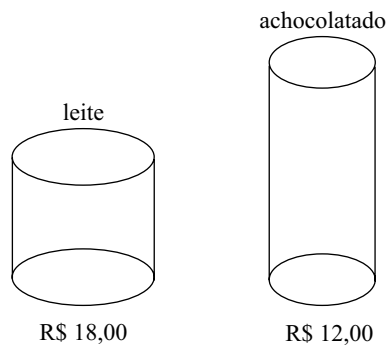


O número mínimo de cores que deve ser usado em cada uma das figuras A, B e C a seguir para que elas fiquem “bem coloridas” é, respectivamente, igual a



- (A) 2, 3, 4.
- (B) 2, 3, 3.
- (C) 2, 4, 3.
- (D) 3, 3, 3.
- (E) 3, 3, 4.

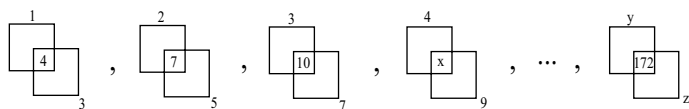
16. Aurélio foi ao mercado com R\$ 96,00 tendo o objetivo de gastar todo o dinheiro na compra de latas de leite e latas de achocolatado, cujos preços, por unidade, estão indicados na figura.



Além da meta de gastar todo o dinheiro, Aurélio também deseja que o total de latas de um dos produtos não supere o total de latas do outro em 8 ou mais unidades. Cumpridas as duas metas de Aurélio, o total de maneiras diferentes que ele poderá realizar sua compra é igual a

- (A) 1.
- (B) 2.
- (C) 3.
- (D) 4.
- (E) 5.

17. Observe a sequência, que mantém sempre o mesmo padrão.



Na sequência, x , y e z representam números, sendo que $x+y+z$ é igual a

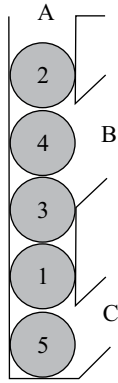
- (A) 158.
- (B) 163.
- (C) 165.
- (D) 176.
- (E) 185.

18. Uma floresta tem x árvores, e cada árvore dessa floresta tem de 300 até 600 folhas. O menor valor de x para que necessariamente haja nessa floresta pelo menos duas árvores com o mesmo número de folhas é

- (A) 299.
- (B) 300.
- (C) 301.
- (D) 302.
- (E) 303.

19. Álvaro e Bianca têm 5 filhas. Cada uma das filhas tem um irmão, e cada uma das 5 irmãs tem quatro sobrinhos. Contando Álvaro, Bianca e todos os seus filhos e netos, o número mínimo de integrantes dessa família é igual a
- (A) 12.
 (B) 14.
 (C) 16.
 (D) 19.
 (E) 23.

20. A figura a seguir mostra um recipiente aberto em A, B e C com cinco esferas numeradas.



Uma “operação” consiste em retirar apenas uma esfera por vez por B ou C (sem soerguimento de conjuntos de esferas) e imediatamente colocá-la de volta por A. O número mínimo de “operações” necessárias para obter a ordem das esferas em 1, 2, 3, 4, 5, de baixo para cima, é

- (A) 4.
 (B) 7.
 (C) 8.
 (D) 10.
 (E) 12.

21. Avaliar o nível de saúde de uma população não é uma tarefa simples. Tradicionalmente utilizam-se vários indicadores, pois nenhum isoladamente preenche todos os critérios desejáveis.

Analisando esse enunciado, pode-se afirmar que as assertivas nele contidas

- (A) são parcialmente corretas, e geralmente é fácil selecionar os indicadores pela sua validade e confiabilidade.
- (B) são parcialmente corretas pois em populações nas quais há um registro de óbitos confiável a avaliação do nível de saúde é fácil.
- (C) são corretas e os indicadores devem obedecer aos critérios de validade, confiabilidade, representatividade e ética.
- (D) são incorretas, mas têm sido utilizadas por gestores que falham na efetividade das ações de saúde da população.
- (E) são parcialmente corretas, pois, com os avanços dos sistemas informatizados, as dificuldades tendem a desaparecer.

22. Sobre o controle de agravos à saúde, assinale a alternativa correta.

- (A) Todos os agravos à saúde são passíveis atualmente de erradicação ou, pelo menos, de eliminação.
- (B) Redução da incidência e redução da letalidade são alguns dos objetivos do controle de agravos à saúde.
- (C) A diminuição das formas graves da esquistossomose permite concluir que houve concomitantemente redução da incidência.
- (D) O diagnóstico e tratamento precoce dos agravos à saúde permitem a redução da letalidade.
- (E) A erradicação e a eliminação dos agravos à saúde dependem exclusivamente do desenvolvimento econômico do país.

23. É vedado ao médico

- (A) revelar resultados de exames complementares de um paciente, a não ser em caso de morte do paciente ou de depoimento do médico como testemunha.
- (B) revelar o diagnóstico de uma doença grave a um paciente que apresente fragilidade emocional.
- (C) revelar um diagnóstico de doença ocupacional a qualquer um antes de discutir com a empresa medidas de prevenção.
- (D) ser perito ou auditor de empresa em que atue ou tenha atuado, salvo nos casos em que haja um pedido especial da empresa.
- (E) assinar laudos periciais, auditoriais ou de verificação médico-legal quando não tenha realizado pessoalmente o exame.

24. Em relação a imunizações, assinale a alternativa correta.

- (A) As vacinas contra a hepatite B e contra o H1N1 são oferecidas na rede pública a todos os adultos.
- (B) O Programa Nacional de Imunizações dispensa dias nacionais de vacinação contra uma doença específica.
- (C) O Brasil tem controle sobre várias doenças, mas continua tendo uma incidência crescente de tétano.
- (D) A poliomielite, a varíola e a febre amarela urbana são consideradas erradicadas no Brasil.
- (E) A eliminação de uma doença dispensa a manutenção da vacina contra a doença considerada eliminada.

25. O mesotelioma maligno de pleura

- (A) apresenta dois tipos histológicos.
- (B) tem tempo de latência de aproximadamente 10 anos.
- (C) raramente apresenta derrame pleural.
- (D) pode produzir metástases em aproximadamente 25% dos casos.
- (E) causa tosse e febre em quase 100% dos casos.

26. Leia as afirmações a seguir.

- I. A política salarial de um país é um dos determinantes de saúde da população.
- II. No Brasil, a mortalidade proporcional por doenças infectocontagiosas é maior do que a por doenças cardiovasculares.
- III. Segundo a OMS, a prática regular de atividade física reduz o risco de mortes prematuras.

Está correto o contido em

- (A) I, apenas.
- (B) I e II, apenas.
- (C) I e III, apenas.
- (D) II e III, apenas.
- (E) I, II e III.

27. Segundo a Lei Orgânica do Município de São Paulo,

- (A) as instituições privadas, ao participarem do Sistema Único de Saúde, ficam sujeitas às suas diretrizes gerais.
- (B) o município garante a saúde, mediante o atendimento integral do indivíduo abrangendo a promoção e a preservação, mas não a reabilitação.
- (C) é permitida a destinação de recursos públicos municipais para incentivos fiscais ou subvenções a instituições privadas com fins lucrativos.
- (D) a direção do Sistema Único de Saúde é exercida no âmbito do município pela secretaria de saúde em conjunto com a câmara de vereadores.
- (E) é permitido cobrar do usuário pela prestação de ações e serviços no âmbito do Sistema Único de Saúde, desde que se comprove que esse usuário tem condições para tal.

28. A definição de saúde na Constituição Federal

- (A) induz à ideia de que o Sistema Único de Saúde tem a responsabilidade exclusiva pela saúde da população.
- (B) tem um viés assistencial que acabou induzindo a preferência de políticas voltadas para a recuperação da saúde, em detrimento da prevenção.
- (C) está em desacordo com a definição da Organização Mundial de Saúde, necessitando de reformulação.
- (D) estimula a formulação de propostas parciais para os problemas e necessidades de saúde para a população mais carente.
- (E) expressa a compreensão de que a saúde da população é resultante da forma como a sociedade se organiza.

29. As Unidades de Pronto-Atendimento (UPA) surgiram como

- (A) serviços que atendem prioritariamente grandes acidentados.
- (B) unidades intermediárias entre as unidades básicas de saúde e os hospitais.
- (C) alternativas ao Serviço de Atendimento Móvel de Urgência (SAMU).
- (D) referências exclusivas das unidades básicas de saúde.
- (E) referências para atendimento de acidentados do trabalho prioritariamente.

30. Um médico atende dois pacientes. Para o primeiro deles faz a hipótese diagnóstica de tuberculose pulmonar e para o outro, de AIDS. Sua conduta em relação à notificação deve ser

- (A) notificar imediatamente e notificar depois da confirmação, respectivamente.
- (B) notificar após a confirmação diagnóstica nos dois casos.
- (C) notificar após a confirmação diagnóstica e notificar imediatamente, respectivamente.
- (D) notificar os dois casos imediatamente.
- (E) notificar apenas o caso de AIDS, pois a tuberculose é uma endemia.

CONHECIMENTOS ESPECÍFICOS

31. Em qual Instituição foram dados os primeiros passos da auditoria médica no Brasil, na década de 70?

- (A) ASSEFAZ (Associação dos Servidores do Ministério da Fazenda).
- (B) INAMPS (Instituto Nacional de Assistência Médica da Previdência Social).
- (C) INSS (Instituto Nacional de Seguro Social).
- (D) MPS (Ministério da Previdência Social).
- (E) SUS (Sistema Único de Saúde).

32. No mercado da assistência médica supletiva, há quatro (4) grandes segmentos. Correlacione a coluna I (segmentos), cujos itens estão numerados, com o grupo de empresas da coluna II (planos de saúde no mercado atual), separados por letras:

COLUNA I	COLUNA II
1 – Autogestão	a) Porto Seguro; Sul América; Itaú
2 – Seguradora	b) CASSI; PLANTEL; SPTrans
3 – Cooperativa	c) Medial Saúde; Golden Cross; Grupo Amil
4 – Medicina de Grupo	d) Unimeds

Após a correlação entre a coluna I e a coluna II, assinale a alternativa que contém as associações existentes no mercado hoje.

- (A) 1b e 2a.
- (B) 1c, 2a e 3d.
- (C) 1b, 2a, 3c e 4d.
- (D) 1b e 3 d.
- (E) 2a e 3d.

33. A Resolução n.º 1.973/2011 do CFM (Conselho Federal de Medicina) dispõe sobre normas reguladoras de especialidades e áreas de atuação reconhecidas.

Assinale a alternativa em que todas as especialidades ou áreas de atuação estão reconhecidas por essa resolução.

- (A) Medicina Legal; Cirurgia Videolaparoscópica; Anestesiologia; Auditoria Médica.
- (B) Perícia Médica; Cirurgia Videolaparoscópica; Acupuntura; Medicina do Trabalho.
- (C) Medicina Legal e Perícia Médica; Cirurgia Videolaparoscópica; Anestesiologia; Medicina do Trabalho.
- (D) Medicina Aeroespacial; Anestesiologia; Cirurgia Videolaparoscópica; Medicina do Trabalho.
- (E) Medicina do Trabalho; Medicina Robótica; Auditoria Médica; Anestesiologia.

34. A ANS atualiza o rol de procedimentos e eventos em saúde de alta complexidade, através de resoluções normativas (RN). A última RN foi a de n.º 262 de 1.º de agosto de 2011. Nela, foram incorporados 73 novos procedimentos.
- A partir de qual data essa RN passou a vigorar?
- (A) 01.11.2011.
 (B) 01.12.2011.
 (C) 10.12.2011.
 (D) 20.12.2011.
 (E) 01.01.2012.
35. A Resolução Normativa (RN) n.º 262/2011 da ANS trata da incorporação de 73 novos procedimentos com cobertura obrigatória. O item n.º 25 refere-se ao PET SCAN Oncológico. Porém, a ANS divulgou a “Diretriz de utilização para cobertura de procedimento”.
- Baseando-se nessa diretriz, assinale a alternativa que apresenta corretamente o grupo de pacientes para os quais há cobertura obrigatória para realização do PET SCAN Oncológico.
- (A) Pacientes portadores de câncer de mama, com metástase no mediastino.
 (B) Pacientes portadores de linfoma (Hodgkin ou não Hodgkin).
 (C) Pacientes portadores de câncer colorretal, com metástase hepático ou ósseo.
 (D) Pacientes portadores de câncer pulmonar, ainda sem diagnóstico de metástase.
 (E) Pacientes portadores de hepatocarcinoma, com metástase pulmonar.
36. A CBHPM (Classificação Brasileira Hierarquizada de Procedimentos Médicos) foi elaborada com total ética, que contemplasse todas as especialidades e remunerasse dignamente os serviços profissionais dos médicos. Em relação ao ato da anestesia, não houve grande mudança, os portes foram mantidos de AN 0 a AN 8 (comparados aos das tabelas anteriores). No entanto, descreve que não estão incluídos medidas/controles que poderão ser valorados separadamente. Assim sendo, principalmente em cirurgia de grande vulto (AN 7 e AN 8) além de poder solicitar um anestesista auxiliar (30% do porte), há ainda o valor da sala cirúrgica vinculada ao porte da anestesia.
- Considerando essas informações, assinale a alternativa que contém as especialidades cirúrgicas, que geralmente têm portes AN 7 ou AN 8.
- (A) Cirurgia Transplante; Neonatologia Cirúrgica; Cirurgia Cardíaca sem CEC.
 (B) Neurocirurgia; Neonatologia Cirúrgica; Cirurgia Transplante.
 (C) Cirurgia Linfática; Cirurgia Cardíaca com CEC; Neurocirurgia.
 (D) Neonatologia Cirúrgica; Cirurgia Transplante; Cirurgia Torácica.
 (E) Neurocirurgia; Cirurgia Linfática; Cirurgia Cardíaca com ou sem CEC.
37. Casal, passando em perícia médica para esterilização cirúrgica voluntária.
- Assinale a alternativa que contém uma das exigências da Lei n.º 9.263/1996 (Planejamento Familiar).
- (A) Homens e mulheres com capacidade civil plena e maiores de 25 anos de idade ou, pelo menos, dois filhos vivos.
 (B) Observar o prazo mínimo de 30 dias entre a manifestação da vontade e o ato cirúrgico.
 (C) A vasectomia ou a laqueadura dependem do consentimento da vontade de ambos os cônjuges, após a informação a respeito dos riscos da cirurgia.
 (D) A esterilização cirúrgica em mulheres deve ser realizada durante o período de parto ou aborto.
 (E) A esterilização cirúrgica como método contraceptivo poderá ser executada através da laqueadura tubária ou ooforectomia.
38. A TUSS (Terminologia Unificada em Saúde Suplementar) foi idealizada para haver compatibilização de informação
- (A) do CIEFAS para o padrão TISS.
 (B) da TISS para o padrão SUS.
 (C) da TAMB para o padrão TUSS.
 (D) das operadoras de planos privados para o padrão TISS.
 (E) do SUS para as operadoras de planos privados.
39. Na história da auditoria médica, *A British Medical Association* (BMA) criou as “normas” para cada patologia e chamou-as de *audit*. Em 1993, nos países anglo-saxônicos, essas *audit* passaram a se chamar *guidelines* (normas). No Brasil, a ANS tem-se utilizado das diretrizes de várias especialidades. São resultados obtidos após árduos estudos, principalmente da Medicina Baseada em Evidências (MBE). Estudos e informações científicas são divididas em Níveis de Evidências, de I até VI (ou até IV em algumas classificações). Quanto maior o nível de evidência, a confiabilidade e a recomendação serão maiores.
- Baseando-se nessas informações, assinale a alternativa que apresenta a melhor definição do GRAU de nível de evidência.
- (A) Nível V – Resumo estatístico chamado de metanálise.
 (B) Nível IV – Baseia-se em pelo menos um ensaio randomizado.
 (C) Nível III – Estudo coortes (divididos em grupos).
 (D) Nível II – Ensaio clínico sistemático com grupo menor.
 (E) Nível I – Revisão sistemática, em somatória estatística.

40. No mercado de OPME (Órteses, próteses e materiais especiais), existem várias divergências, uma vez que esses materiais e procedimentos demandam alta tecnologia e, conseqüentemente, são de alto custo. Para dirimir essas discussões, o CFM criou a Resolução n.º 1.956/2010.

Assinale a alternativa correta em relação a essa determinação.

- (A) Cabe ao médico assistente determinar as características (tipo, matéria-prima, dimensões) da OPME, bem como o instrumental compatível e o fornecedor.
- (B) A autorização ou negativa deve ser acompanhada de parecer, com identificação da operadora.
- (C) O médico assistente requisitante pode, quando julgar inadequado ou deficiente o material implantável, bem como o instrumental disponibilizado, recusá-los, oferecendo à operadora pelo menos 3 marcas de produtos de fabricantes diferentes, quando disponíveis e regularizados pela ANVISA.
- (D) Caso persista a divergência entre o médico assistente requisitante e a operadora, deverá o médico assistente escolher um médico especialista na área para a decisão.
- (E) Essa discussão não deverá ultrapassar o prazo de sete dias úteis, contados a partir do conhecimento do responsável pela arbitragem.

41. Atualmente, o Brasil está passando por grandes movimentos das entidades CFM/AMB para remuneração justa aos médicos, principalmente em São Paulo.

As três propostas fundamentais são:

- (A) consulta a R\$ 80,00; procedimentos conforme CBHPM; índice de reajuste dos honorários nos contratos anualmente.
- (B) consulta a R\$ 70,00; procedimentos conforme TUSS; direito de suspender os atendimentos de urgências nos contratos.
- (C) consultas das áreas básicas em até 7 dias; atendimento de urgência e emergência garantidos; índice de reajuste das consultas nos contratos anualmente.
- (D) procedimentos de tabelas próprias mas com índice de reajuste em contrato; paralisação dos atendimentos eletivos; direito de suspender os atendimentos de urgências nos contratos.
- (E) consulta a R\$ 75,00; procedimentos com índice de reajuste anual; paralisação dos atendimentos eletivos.

42. Na disciplina da OPME, são recomendadas as boas práticas tanto da matéria-prima quanto do fabricante, pois trata-se de material de substituição no ser humano. E caso ocorra alguma rejeição ou complicação isso pode custar-lhe a vida. Para amparar o paciente, há o Código de Defesa do Consumidor (Lei n.º 8.078 de 1.990). Essa lei trata das relações de consumo em todas as esferas (civil, administrativa e penal).

Em qual capítulo há disposições sobre a qualidade do produto (sabendo-se que o capítulo VI refere-se à proteção contratual e o capítulo VII, às sanções administrativas, e que ambos não devem ser considerados)?

- (A) Capítulo I.
- (B) Capítulo II.
- (C) Capítulo III.
- (D) Capítulo IV.
- (E) Capítulo V.

43. A Auditoria médica pode atuar em cinco áreas administrativas.

Para o melhor controle de custos, qual dessas áreas é a mais importante?

- (A) Credenciamento.
- (B) Liberação de guia.
- (C) Auditoria externa.
- (D) Fechamento de conta.
- (E) Faturamento.

44. A maioria das operadoras de saúde supletiva trabalha com OPME Nacional (Nacionalizada), mas devido a qualidade, novas tecnologias e alto custo, muitas vezes os profissionais se deparam com solicitação de material importado.

Para se ter o controle, e não liberar material importado, recorre-se à lista da BRASÍNDICE, à consulta em *site* da UNIDAS, ao registro do produto na ANVISA. Mas existe outra forma, mais simples e prática, que é a verificação do “Código de Barras” do produto. Esse sistema contém, na maioria dos produtos (no caso materiais), uma tarja com várias barras (código de barras). No Brasil, adotou-se o sistema EAN/UPC (um dos mais utilizados no mundo), que faz leitura ótica com luz vermelha, o qual contém uma sequência numérica.

Assinale a alternativa que descreve corretamente essa sequência numérica.

- (A) Os 2 primeiros dígitos são do país (no caso do Brasil – 7,8), e os subsequentes, de 4 a 10 dígitos, do fabricante, empresa do produto.
- (B) Os 2 primeiros dígitos são do país (no caso do Brasil – 8, 9), e os subsequentes, de 4 a 9 dígitos, do fabricante, empresa do produto.
- (C) Os 3 primeiros dígitos são do país (no caso do Brasil – 7, 8, 9), e os subsequentes, de 4 a 9 dígitos, do fabricante, empresa do produto.
- (D) Os 3 primeiros dígitos são do país (no caso do Brasil – 6, 7, 8), e os subsequentes, de 4 a 9 dígitos, do fabricante, empresa do produto.
- (E) Os 2 primeiros dígitos são do país (no caso do Brasil – 6, 7), e os subsequentes, de 4 a 10, do fabricante, empresa do produto.

45. A SPTrans é uma autarquia que gerencia o sistema de transportes de veículos coletivos, formado por 16 consórcios, divididos em empresas e cooperativas. A cidade de São Paulo tem uma população de mais 10 milhões de habitantes. Somada com os habitantes de seus 38 municípios vizinhos, essa população chega a quase 17 milhões. Na região metropolitana, cerca de 55% das viagens motorizadas são feitas em transporte coletivo. A SPTrans mantém benefícios aos seus funcionários e dependentes, sendo que o plano de saúde é um desses benefícios.

O Acompanhamento e a avaliação da garantia do atendimento à saúde são feitos pela ANS (RN 259 e RN 268). Segundo a Agência, as operadoras de planos de saúde estão avaliadas de acordo com o porte.

Considerando essas informações, assinale a alternativa correta.

- (A) Operadora de pequeno porte: n.º de beneficiários inferior a 5 000 (cinco mil).
- (B) Operadora de grande porte: n.º de beneficiários superior a 80 000 (oitenta mil).
- (C) O cálculo do indicador de operadora (IO) independe do n.º de beneficiários, pois depende do tipo de atenção prestada e avaliada anualmente.
- (D) A SPTrans é considerada operadora de pequeno porte.
- (E) A SPTrans é considerada operadora de grande porte.

Leia o enunciado a seguir e responda às questões de números 46 e 47.

Jovem do sexo feminino, 18 anos de idade, relata dispneia progressiva aos esforços há pelo menos 5 meses. Há 1 semana notou dispneia intensa para caminhar apenas 30 metros em superfície plana. O exame físico cardiovascular revelou *ictus cordis* no quinto espaço intercostal na linha hemiclavicular esquerda, ritmo cardíaco regular, B1 e B2 hiperfonéticas e sopro diastólico em ruflar em região apical.

46. Os achados do exame físico sugerem a presença de

- (A) insuficiência mitral.
- (B) estenose mitral.
- (C) insuficiência tricúspide.
- (D) estenose aórtica.
- (E) insuficiência aórtica.

47. O diagnóstico etiológico mais provável, de acordo com sua maior prevalência nessa população, e que justifica o quadro clínico apresentado é

- (A) prolapso de valva mitral.
- (B) anomalia de Ebstein.
- (C) febre reumática.
- (D) cardiopatia congênita.
- (E) endocardite infecciosa.

Leia o enunciado a seguir e responda às questões de números 48 e 49.

Homem, 62 anos de idade, retorna hoje de viagem aérea do Japão. Sem antecedentes mórbidos, nega uso de medicação habitual. Relata que há aproximadamente 6 horas apresentou dor torácica súbita e intensa em base do hemitórax esquerdo, associada a dispneia progressiva. Procurou atendimento médico e o exame físico revelou: paciente ansioso, levemente taquipneico, $SO_2 = 92\%$, PA 140x85 mmHg, FC = pulso = 100 bpm. À inspeção do tórax nota-se redução da expansão do hemitórax esquerdo, com ausculta da voz abolida e macicez à percussão em base torácica esquerda.

48. Os achados propedêuticos descritos, associados à história clínica apresentada, são compatíveis com a presença de

- (A) pneumotórax hipertensivo em hemitórax esquerdo.
- (B) atelectasia em pulmão esquerdo.
- (C) processo broncopneumônico, com consolidação da base pulmonar esquerda.
- (D) derrame pleural em hemitórax esquerdo.
- (E) pneumotórax à direita, com desvio das estruturas para o lado contralateral.

49. Com base na hipótese diagnóstica mais provável em questão, a investigação complementar apropriada deverá incluir:

- (A) tomografia computadorizada de tórax sem contraste e hemograma.
- (B) eletrocardiograma e ecocardiograma transtorácico.
- (C) prova de função pulmonar e radiografia de tórax em duas posições.
- (D) gasometria arterial e toracocentese à esquerda.
- (E) angiotomografia de tórax e *Doppler* venoso de membros inferiores.

50. Paciente do sexo masculino, portador de diabetes *mellitus* tipo I, faz uso de insulina NPH no seguinte esquema: 32 UI no período da manhã e 16 UI à noite. Refere que há pelo menos 1 mês tem apresentado sono agitado, ocorrência de pesadelos e piora no controle glicêmico no período da manhã (dextros em torno de 225 mg/dL). A hemoglobina glicada dosada há 1 semana foi de 5,8 g/dL.

Assinale a alternativa que melhor explique o comportamento relatado e a conduta apropriada, respectivamente.

- (A) “Fenômeno do alvorecer” – diminuir a dose noturna de insulina.
- (B) “Efeito Somogyi” – diminuir a dose noturna de insulina.
- (C) Efeito de “lua de mel” do diabético tipo I – diminuir a dose matutina da insulina.
- (D) “Fenômeno do alvorecer” – aumentar a dose noturna da insulina.
- (E) “Efeito Somogyi” – aumentar a dose noturna da insulina.

51. Em relação ao *Helicobacter pylori*, é correto afirmar que:
- (A) sua alta prevalência pode ser explicada pela dificuldade diagnóstica em decorrência da ausência de métodos confirmatórios não invasivos.
 - (B) é um agente oportunista e trabalhos recentes sugerem que não possui relação causal com as doenças do aparelho digestivo.
 - (C) deve ser pesquisado e erradicado em pacientes portadores de úlcera gástrica.
 - (D) está associado com a gastrite atrófica autoimune e com a anemia perniciosa.
 - (E) seu tratamento está contraindicado em pacientes etilistas crônicos.
52. Mulher, 31 anos de idade, refere cansaço aos esforços moderados nos últimos meses. Relata ainda sensação de palpitações taquicárdicas e certa palidez cutâneo-mucosa. Não apresenta antecedentes mórbidos, mas refere aumento no volume de sangue das menstruações há 1 ano. O exame físico mostra a paciente hígida, em bom estado geral, descorada +/4+ e com frequência cardíaca em repouso de 100 bpm. Os achados laboratoriais compatíveis com o quadro apresentado são (VCM = volume corpuscular médio):
- (A) Hb 9,2 g/dL – Ht 26% – VCM baixo – transferrina alta – ferritina baixa.
 - (B) Hb 12,0 g/dL – Ht 37% – VCM normal – transferrina normal – ferritina baixa.
 - (C) Hb 8,8 g/dL – Ht 24% – VCM alto – dosagem sérica de ácido fólico e vitamina B12 baixas.
 - (D) Hb 10,0 g/dL – Ht 29% – VCM baixo – transferrina baixa – ferritina baixa.
 - (E) Hb 9,5 g/dL – Ht 28% – VCM alto – nível de reticulócitos aumentado.
53. Paciente do sexo masculino, etilista de 1 litro de destilado ao dia, encontra-se internado para tratamento de broncopneumonia aspirativa. No terceiro dia da internação apresenta alucinações visuais e agitação psicomotora, além de tremor de extremidades e hipertensão arterial. A conduta terapêutica mais apropriada deve incluir
- (A) haloperidol e fenitoína.
 - (B) tiamina e fenitoína.
 - (C) diazepam e tiamina.
 - (D) diazepam e haloperidol.
 - (E) tiamina e quetiapina.
54. Paciente do sexo masculino, 68 anos, apresenta ao hemograma anemia macrocítica e hipersegmentação de neutrófilos. Assinale a alternativa que contenha a situação clínica que melhor explique esse achado.
- (A) Hipertensão arterial sistêmica e insuficiência renal crônica dialítica.
 - (B) Úlcera gástrica ativa com sangramento recente.
 - (C) Neoplasia pulmonar não pequenas células, apresentando hemoptise.
 - (D) Gastrectomia total há 3 anos, cursando com déficit de memória e marcha atáxica.
 - (E) Doença pulmonar obstrutiva crônica por fibrose pulmonar idiopática.
55. A gasometria arterial de um determinado paciente evidenciou: pH = 7,50 PaO₂ = 93 PaCO₂ = 42 HCO₃ = 33 BE = +5 Sat O₂ = 96%.
A situação clínica que melhor explica esse achado é a de um paciente
- (A) em uso crônico de diurético de alça com vômitos frequentes há 24 horas.
 - (B) internado com glicemia = 380 mg/dL e cetonúria 4+.
 - (C) em insuficiência respiratória aguda por crise de asma grave.
 - (D) com choque séptico por quadro de broncopneumonia aspirativa.
 - (E) pós-parada cardiorrespiratória na fase aguda de infarto do miocárdio.
56. Paciente do sexo feminino, 78 anos de idade, é trazida à consulta médica pelos familiares. Relatam que, nos últimos meses, ela tem apresentado esquecimento para episódios do cotidiano, como panelas no fogo e geladeira aberta. Em duas ocasiões, saiu de casa para andar pelo bairro e se perdeu. Não apresenta antecedentes mórbidos significativos e o exame clínico é normal. O diagnóstico presuntivo mais provável nesse caso é
- (A) crise parcial do lobo temporal.
 - (B) amnésia global transitória.
 - (C) mal de Parkinson.
 - (D) doença de Alzheimer.
 - (E) crise de ausência.

57. Paciente do sexo masculino, 31 anos de idade, notou aparecimento de lesões cutâneas tipo pápulas eritematosas em palmas das mãos, tronco e planta dos pés. Concomitante ao quadro, relata aparecimento de lesões mucosas e poliadenopatia inguinal e cervical. Relata mal-estar e adinamia, sem febre. Nega aparecimento de lesões genitais ou secreção uretral.

O quadro clínico descrito é fortemente sugestivo de

- (A) condiloma acuminado.
- (B) infecção aguda pelo HIV.
- (C) lues secundária.
- (D) lues terciária.
- (E) uretrite gonocócica não tratada.

58. Paciente do sexo masculino, 68 anos, encontra-se internado no sexto pós-operatório de cirurgia de revascularização miocárdica, com boa evolução clínica. No sétimo dia, inicia quadro de desorientação temporoespacial, apatia, desatenção, labilidade emocional e inversão do ciclo sono-vigília. Passa a dizer que foi raptado e que precisa retornar urgente para sua casa. Trata-se de um caso de

- (A) psicose funcional, devendo ser tratado com neurolépticos.
- (B) depressão maior, devendo ser tratado com antidepressivos tricíclicos.
- (C) depressão maior, devendo ser tratado com inibidores de recaptção da serotonina.
- (D) *delirium*, devendo ser tratado com benzodiazepínicos.
- (E) *delirium*, devendo ser tratado com neurolépticos.

59. A nefrolitíase por ácido úrico tem grande prevalência principalmente em pacientes obesos, diabéticos e portadores de síndrome metabólica. Nesses pacientes, a alteração metabólica comumente observada e que constitui fator de risco para a formação dos cálculos é:

- (A) hiperuricemia.
- (B) hiperuricosúria (maior que 750 mg/dia).
- (C) volume urinário acima de 2 litros ao dia.
- (D) hiperoxalúria (maior que 45 mg/dia).
- (E) pH urinário constantemente ácido.

60. Dentre as situações clínicas descritas a seguir, assinale a única que não cursa com acidose metabólica com o *anion gap* elevado.

- (A) Intoxicação por metanol.
- (B) Acidose tubular renal.
- (C) Cetoacidose diabética.
- (D) Acidose láctica.
- (E) Intoxicação por salicilato.

