



PROCESSO SELETIVO PÚBLICO

030. PROVA OBJETIVA

ANALISTA DE GESTÃO PLENO – PREÇOS E CUSTOS (COMPRAS)

- ◆ Você recebeu sua folha de respostas e este caderno contendo 60 questões objetivas.
- ◆ Confira seu nome e número de inscrição impressos na capa deste caderno.
- ◆ Quando for permitido abrir o caderno, verifique se está completo ou se apresenta imperfeições. Caso haja algum problema, informe ao fiscal da sala.
- ◆ Leia cuidadosamente todas as questões e escolha a resposta que você considera correta.
- ◆ Marque, na folha de respostas, com caneta de tinta azul ou preta, a letra correspondente à alternativa que você escolheu.
- ◆ A duração da prova é de 3 horas e 30 minutos, já incluído o tempo para o preenchimento da folha de respostas.
- ◆ Só será permitida a saída definitiva da sala e do prédio após transcorrida a metade do tempo de duração da prova.
- ◆ Ao sair, você entregará ao fiscal a folha de respostas e este caderno, podendo levar apenas o rascunho de gabarito, localizado em sua carteira, para futura conferência.
- ◆ Até que você saia do prédio, todas as proibições e orientações continuam válidas.

AGUARDE A ORDEM DO FISCAL PARA ABRIR ESTE CADERNO DE QUESTÕES.

CONHECIMENTOS GERAIS

LÍNGUA PORTUGUESA

Leia o texto, para responder às questões de números **01** a **05**.

Na era da internet, com seus “rsrsrs” e as “longas” mensagens de 140 caracteres do Twitter, que lugar haveria para a retórica, a invenção dos gregos clássicos para permitir que nas democracias o bom cidadão pudesse defender seus pontos de vista falando bem? Na semana passada, o julgamento do mensalão no STF pôs em evidência os advogados dos réus. Eles foram lá exercitar sua retórica, uma vez que as peças de defesa já haviam sido escritas e enviadas aos ministros do tribunal. Os defensores, com raras exceções, saíram-se muito mal no quesito da retórica – que não é blá-blá-blá.

Quando assumiu o posto de presidente da Suprema Corte dos Estados Unidos, Earl Warren perguntou a um colega mais antigo em quem confiava plenamente o que ele deveria ler para conseguir escrever suas sentenças no alto nível que as circunstâncias exigiam. O colega de Warren, Hugo Black, respondeu: “Basta ler Retórica, de Aristóteles”.

Sábio conselho. Com a democracia, os gregos criaram esse mecanismo de sustentação oral baseado na lógica e na honestidade de pensamento a que chamaram de retórica. Os cidadãos eram frequentemente obrigados a defender em público não apenas ideias, mas sua propriedade e até a própria liberdade. Aristóteles ensinou que persuadir uma audiência nada tem a ver com eloquência. Isso é sofisma. O que separa um cidadão grego dotado da retórica de um mero sofista? A retórica vencedora não depende do dom da oratória, mas do valor moral do orador.

(Otávio Cabral e Carolina Melo. A retórica não é blá-blá-blá. *Veja*, 15.08.2012)

- 01.** A palavra que melhor traduz a ideia acerca da qualidade do orador, no contexto, é
- (A) tenacidade.
 - (B) verbosidade.
 - (C) probidade.
 - (D) entusiasmo.
 - (E) proselitismo.
- 02.** Na frase final do primeiro parágrafo está implícito que, em sua maioria, os defensores dos réus do mensalão
- (A) praticaram a retórica somente como oratória vazia.
 - (B) restringiram sua defesa a peças escritas.
 - (C) foram convincentes em suas manifestações escrita e oral.
 - (D) renunciaram ao recurso da sustentação oral.
 - (E) falaram livremente, como deve ocorrer nas democracias.

- 03.** Assinale a alternativa contendo as palavras cujos sentidos se opõem, correta e respectivamente, aos sentidos das expressões destacadas nas frases:

Com a **democracia**, os gregos criaram esse mecanismo de sustentação oral.

Aristóteles ensinou que persuadir uma audiência nada tem a ver com eloquência. Isso é **sofisma**.

- (A) o fisiologismo; falácia.
- (B) a meritocracia; eficácia.
- (C) o elitismo; má-fé.
- (D) o autoritarismo; boa-fé.
- (E) a soberania; imprevidência.

- 04.** Considere as seguintes afirmações:

- I. As aspas em “longas” (1.º parágrafo) indicam que a palavra está sendo empregada em sentido irônico.
- II. As aspas em “rsrsrs” (1.º parágrafo) indicam que se trata de palavra estrangeira, razão pela qual é incorreto empregá-la.
- III. As aspas em “Basta ler Retórica, de Aristóteles” (2.º parágrafo) indicam que se trata de uma citação.

Deve-se concluir que está correto o que se afirma em

- (A) I, apenas.
- (B) II, apenas.
- (C) III, apenas.
- (D) I e III, apenas.
- (E) I, II e III.

- 05.** Observe os trechos destacados em seus respectivos contextos:

- I. ... permitir que nas democracias o bom cidadão pudesse defender seus pontos de vista **falando bem**?
- II. Eles foram lá exercitar sua retórica, **uma vez que as peças de defesa já haviam sido escritas e enviadas aos ministros do tribunal**.
- III. ...o que ele deveria ler **para conseguir escrever suas sentenças no alto nível** que as circunstâncias exigiam.

Esses trechos expressam, correta e respectivamente, as circunstâncias de

- (A) meio, restrição e finalidade.
- (B) modo, restrição e condição.
- (C) meio, causa e condição.
- (D) restrição, condição e finalidade.
- (E) modo, causa e finalidade.

06. Assinale a alternativa que apresenta conjugação de verbos e concordância nominal e verbal de acordo com o padrão culto da língua.
- (A) É inegável que aqueles que se disporem a basear suas defesas em puro blá-blá-blá, não expondo dado consistente, não será bem sucedido.
 - (B) Mesmo que os defensores se dispusessem a praticar uma defesa adequada, com argumentos que se mostrassem irrefutáveis, haveria quem lhes criticasse a estratégia.
 - (C) Haverão sempre os descontentes com as decisões emanadas do iminente julgador, caso as decisões dele se contrapõem às expectativas dos réus.
 - (D) Os réus devem ter em seu defensor uma pessoa de sua confiança, que eles reputassem competentes, mesmo quando não se tratam de advogados famosos.
 - (E) Pela lei do Brasil, é proibido a prática da advocacia por estrangeiros; deseja-se que restrinjam sua atuação a seu país de origem, onde goza de plenos poderes.

Leia o texto, para responder às questões de números 07 a 10.

No terceiro dia de julgamento, seguiram-se novos depoimentos e finalmente fizeram-se as acareações. E o que facilitou grandemente a tarefa da acusação foi que, na esperança de melhorarem sua posição pessoal, os réus se puseram a acusar uns aos outros. Fez-se publicamente o exame dos prontuários tirados da parte dos arquivos da Polícia Central que Zabala não tivera tempo de destruir. Por meio desses documentos, ficou provado que mais de duzentas pessoas, entre as quais algumas dúzias de estudantes, haviam morrido de doenças e maus tratos nas diversas prisões de Cerro Hermoso e arredores, e seus corpos enterados numa vala comum, sem que seus parentes tivessem sido sequer notificados da “ocorrência”. Quando o promotor público terminou a acusação, o Presidente do Tribunal deu a palavra ao advogado profissional que o Comitê Central Revolucionário designara para defender os réus. O homem ergueu-se e declarou que, diante de todas aquelas provas, ele não só recusava fazer a defesa de seus constituintes como também não pedia sequer para eles a clemência dos jurados. E sentou-se. Sua “defesa” – que provocou aplausos – durou menos de um minuto.

(Érico Veríssimo, *O Senhor Embaixador*)

07. É correto afirmar que o texto dedica-se predominantemente a
- (A) descrever ações e relatar fatos objetivamente, tendo em vista que apresenta ocorrências havidas durante um julgamento, sem expressão de pontos de vista do enunciador.
 - (B) relatar fatos e descrever personagens subjetivamente, tendo em vista que apresenta ações de personagens que, segundo o ponto de vista do enunciador, mudaram o rumo da revolução.
 - (C) descrever personagens sem se ater a fatos, tendo em vista que apresenta características físicas e psicológicas daqueles, a partir da perspectiva particular do enunciador.
 - (D) expor teses que o enunciador discute a partir de um ponto de vista contrário às personagens identificadas como réus do processo apresentado.
 - (E) relatar fatos e discutir teses, tendo em vista que o enunciador tanto relata acontecimentos quanto expressa seu ponto de vista em apoio a estes.

08. Assinale a alternativa em que as duas formas verbais expressam tempo equivalente.

- (A) Puseram; tivessem sido notificados.
- (B) Fez-se; recusava.
- (C) Tivera; haviam morrido.
- (D) Melhorarem; tivera tempo.
- (E) Designara; declarou.

09. A alternativa em que a nova versão da frase do texto apresenta emprego e colocação de pronome de acordo com a norma-padrão é:

- (A) No terceiro dia de julgamento, se seguiram novos depoimentos, os quais depois deles finalmente fizeram-se as acareações.
- (B) E facilitou grandemente a tarefa da acusação o fato onde os réus, na esperança de melhorarem sua posição pessoal, se puseram a acusar uns aos outros.
- (C) Se fez publicamente o exame dos prontuários tirados da parte dos arquivos da Polícia Central, os quais Zabala não tivera tempo de destruí-los.
- (D) Eram documentos importantes, cujos provaram que torturaram-se mais de duzentas pessoas, entre eles algumas dúzias de estudantes.
- (E) O Presidente do Tribunal deu a palavra ao advogado, profissional cuja designação para defender os réus deveu-se ao Comitê Central Revolucionário.

10. Assinale a alternativa em que o sinal indicativo de crase está empregado corretamente.

- (A) Foi dada a palavra à defesa, que se recusou à falar em favor de seus representados.
- (B) Provou-se que àqueles estudantes foram impostos severos maus tratos, até levá-los à morte.
- (C) À bem da verdade, a defesa não estava plenamente à par das acusações contra os réus.
- (D) À princípio, os acusados submetidos à acareação passaram a incriminar-se uns aos outros.
- (E) À partir daquele momento, as pessoas que assistiam àquele julgamento aplaudiram à atitude do defensor.

11. Alzira, Beatriz, César e Dinah têm 14, 15, 17 e 19 anos de idade, não necessariamente nessa ordem. Sabe-se que César é mais velho que Alzira. A diferença entre as idades de Dinah e Beatriz, não necessariamente nessa ordem, é de 1 ano. Nas condições dadas, a idade de Alzira, em anos, é

- (A) 14.
- (B) 15.
- (C) 16.
- (D) 17.
- (E) 19.

12. Os radares A, B e C detectam excesso de velocidade nos seguintes tipos de veículos:

- A – detecta apenas veículos de quatro rodas;
- B – detecta veículos de pelo menos três rodas;
- C – detecta qualquer veículo.

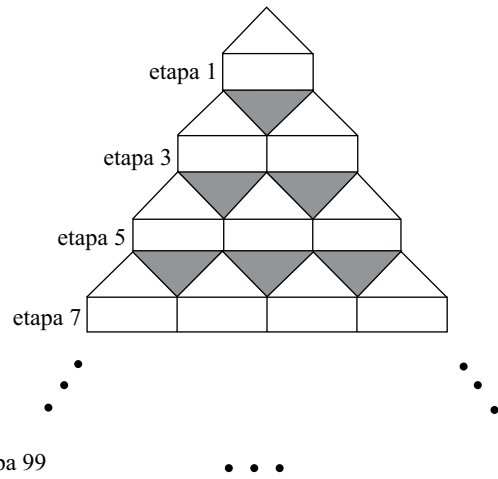
Em relação a um veículo que tenha passado pelos três radares em excesso de velocidade, mas que tenha sido multado por apenas dois deles, é correto afirmar que, necessariamente, ele tem

- (A) menos do que três rodas.
- (B) três ou mais do que quatro rodas.
- (C) até três rodas.
- (D) quatro rodas.
- (E) mais do que quatro rodas.

13. Em um mês, temos 5 quintas-feiras, 5 sextas-feiras e 5 sábados. O dia em que caiu a terceira quarta-feira desse mês indicado foi

- (A) 18.
- (B) 19.
- (C) 20.
- (D) 21.
- (E) 24.

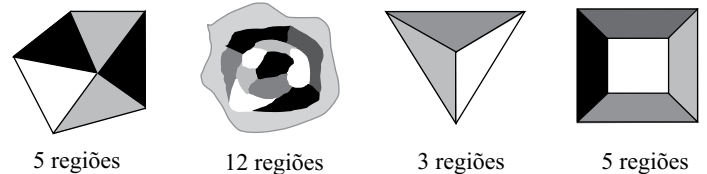
14. Observe a figura.



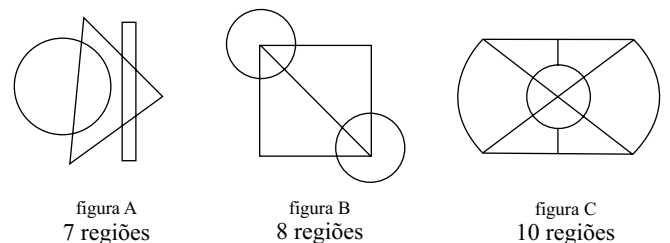
Mantendo-se o mesmo padrão, ao completar a etapa 99 da figura, o total de triângulos sombreados será igual à soma $1+2+3+4+5+\dots+n$, com n igual a

- (A) 44.
- (B) 45.
- (C) 49.
- (D) 50.
- (E) 99.

15. Diremos que uma figura está “bem colorida” se não existem regiões vizinhas coloridas com uma mesma cor. Regiões que só se tocam por um ponto não são consideradas vizinhas. Veja quatro exemplos de figuras consideradas “bem coloridas”.

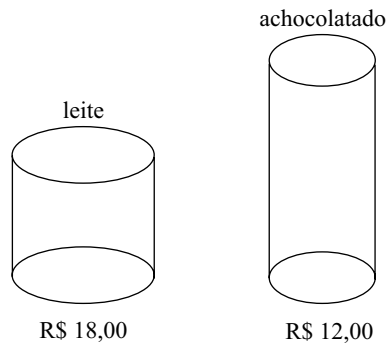


O número mínimo de cores que deve ser usado em cada uma das figuras A, B e C a seguir para que elas fiquem “bem coloridas” é, respectivamente, igual a



- (A) 2, 3, 4.
- (B) 2, 3, 3.
- (C) 2, 4, 3.
- (D) 3, 3, 3.
- (E) 3, 3, 4.

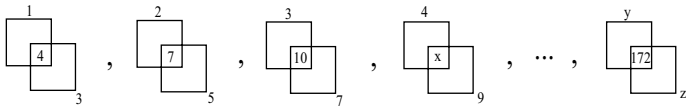
16. Aurélio foi ao mercado com R\$ 96,00 tendo o objetivo de gastar todo o dinheiro na compra de latas de leite e latas de achocolatado, cujos preços, por unidade, estão indicados na figura.



Além da meta de gastar todo o dinheiro, Aurélio também deseja que o total de latas de um dos produtos não supere o total de latas do outro em 8 ou mais unidades. Cumpridas as duas metas de Aurélio, o total de maneiras diferentes que ele poderá realizar sua compra é igual a

- (A) 1.
(B) 2.
(C) 3.
(D) 4.
(E) 5.

17. Observe a sequência, que mantém sempre o mesmo padrão.



Na sequência, x , y e z representam números, sendo que $x+y+z$ é igual a

- (A) 158.
(B) 163.
(C) 165.
(D) 176.
(E) 185.

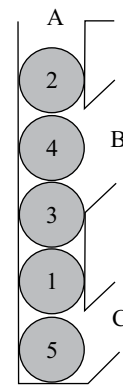
18. Uma floresta tem x árvores, e cada árvore dessa floresta tem de 300 até 600 folhas. O menor valor de x para que necessariamente haja nessa floresta pelo menos duas árvores com o mesmo número de folhas é

- (A) 299.
(B) 300.
(C) 301.
(D) 302.
(E) 303.

19. Álvaro e Bianca têm 5 filhas. Cada uma das filhas tem um irmão, e cada uma das 5 irmãs tem quatro sobrinhos. Contando Álvaro, Bianca e todos os seus filhos e netos, o número mínimo de integrantes dessa família é igual a

- (A) 12.
(B) 14.
(C) 16.
(D) 19.
(E) 23.

20. A figura a seguir mostra um recipiente aberto em A, B e C com cinco esferas numeradas.



Uma “operação” consiste em retirar apenas uma esfera por vez por B ou C (sem soerguimento de conjuntos de esferas) e imediatamente colocá-la de volta por A. O número mínimo de “operações” necessárias para obter a ordem das esferas em 1, 2, 3, 4, 5, de baixo para cima, é

- (A) 4.
(B) 7.
(C) 8.
(D) 10.
(E) 12.

21. Analise as afirmações relacionadas à personalização do Menu Iniciar no sistema operacional Windows XP.

- I. A personalização é efetuada acessando-se, no Painel de Controle no Modo de Exibição Clássico, o ícone *Barra de Tarefas e Menu Iniciar*.
- II. O número de programas que podem ser exibidos pode ser escolhido pelo usuário.
- III. O tamanho dos ícones pode ser alterado.

Sobre as afirmações, está correto o contido em

- (A) I, apenas.
- (B) II, apenas.
- (C) I e II, apenas.
- (D) II e III, apenas.
- (E) I, II e III.

22. O Visualizador da Área de Armazenamento do Windows XP permite que o usuário do computador

- (A) abra arquivos de formatos típicos para a visualização de seus conteúdos.
- (B) veja as informações copiadas na Área de Transferência.
- (C) veja as pastas presentes nas unidades de armazenamento.
- (D) verifique a ocupação dos seus discos e demais dispositivos de armazenamento.
- (E) visualize todos os arquivos armazenados nas unidades de armazenamento.

23. No Windows XP, em sua configuração padrão, deseja-se adicionar um atalho à Área de Trabalho para um arquivo que se encontra em uma determinada pasta. Uma das maneiras que pode ser utilizada para essa ação é:

- (A) Clicar com o botão direito do *mouse* no arquivo, em seguida clicar em *Enviar para* e, posteriormente, em *Área de Trabalho*.
- (B) Clicar com o botão direito do *mouse* no arquivo, em seguida clicar em *Criar Atalho* e, posteriormente, em *Área de Trabalho*.
- (C) Clicar com o botão direito do *mouse* no arquivo e, em seguida, clicar em *Área de Trabalho* e, posteriormente, em *Definir Atalho*.
- (D) No Painel de Controle, selecionar o ícone *Área de Trabalho*, selecionar o arquivo desejado e, em seguida, clicar na opção *Atalho*.
- (E) No Painel de Controle, selecionar o ícone *Atalhos*, selecionar o arquivo desejado e, em seguida, clicar na opção *Área de Trabalho*.

24. No MS-Word 2007, um usuário clicou sobre o seguinte ícone, presente na guia Inserir, grupo Texto.



Por meio dessa ação, é possível

- (A) alterar a borda de uma caixa de texto selecionada.
- (B) inserir uma caixa de texto pré-formatada.
- (C) passar a primeira letra do texto selecionado para caixa alta.
- (D) remover a moldura de todas as páginas do texto.
- (E) remover uma caixa de texto.

25. Durante a edição de um documento no MS-Word 2007, aplicou-se, sobre um parágrafo selecionado, composto por algumas linhas e com alinhamento Justificado, a seguinte formatação de parágrafos, utilizando-se para isso a caixa de diálogo *Parágrafo*, aba *Recuos e espaçamento*.

Recuo

Esquerda: 0 cm

Direita: 0 cm

Especial: *Deslocamento* / Por: 1,25 cm

Com essa formatação, o que ocorre com o parágrafo é:

- (A) Todas as linhas ficarão com deslocamento de 1,25 cm em relação à margem esquerda.
- (B) Todas as linhas ficarão com deslocamento de 1,25 cm em relação à margem direita.
- (C) Somente a primeira linha ficará com deslocamento de 1,25 cm em relação à margem esquerda.
- (D) Com exceção da primeira linha, as demais ficarão com deslocamento de 1,25 cm em relação à margem direita.
- (E) Com exceção da primeira linha, as demais ficarão com deslocamento de 1,25 cm em relação à margem esquerda.

A planilha a seguir, elaborada no MS-Excel 2007, deve ser utilizada para responder às questões de números 26 e 27.

	A	B	C	D
1	0	456	24	12
2	34	42	78	78
3	44	88	24	99
4				

26. Na planilha apresentada, foram inseridas as seguintes fórmulas nas células A4 e B4:

Célula	Fórmula
A4	=E((MÁXIMO(A1:B3)=B1);(MÍNIMO(A1:B3)>0))
B4	=OU((MÁXIMO(A1:B3)=B1);(MÍNIMO(A1:B3)<0))

Os resultados que aparecerão em A4 e B4 serão, respectivamente,

- (A) 456 e 0.
- (B) FALSO e FALSO.
- (C) FALSO e VERDADEIRO.
- (D) VERDADEIRO e FALSO.
- (E) VERDADEIRO e VERDADEIRO.
27. Um usuário selecionou, na planilha apresentada, as células D2 e D3. Na sequência, arrastou o pequeno quadrado presente no canto inferior direito dessa seleção até a célula D7. Pode-se afirmar que os valores que ficarão presentes nas células D4, D5, D6 e D7 serão, respectivamente,
- (A) 78, 78, 78 e 78.
- (B) 99, 99, 99 e 99.
- (C) 100, 101, 102 e 103.
- (D) 120, 141, 162 e 183.
- (E) 198, 297, 396 e 495.

28. Considere o seguinte texto, digitado em um *slide* do MS-PowerPoint 2007:

Exemplo

Selecionando-se uma das opções do botão representado a seguir, disponibilizadas imediatamente por meio do clique no símbolo,



presente na guia Início do MS-PowerPoint 2007, obtém-se como resultado

- (A) Exemplo
- (B) *Exemplo*
- (C) E x e m p l o
- (D) EXEMPLO
- (E) exemplo
29. No uso de correio eletrônico, as contas são protegidas por senhas, sobre as quais é correto afirmar que
- (A) devem ser alteradas periodicamente.
- (B) devem ser formadas apenas por letras.
- (C) somente podem ser determinadas pelo administrador do servidor.
- (D) não podem conter letras maiúsculas.
- (E) uma vez estabelecidas, não podem mais ser alteradas.
30. Analise as afirmações relacionadas com URLs (*Uniform Resource Locators*) utilizados na internet.
- I. A estrutura de um URL é: protocolo://máquina/caminho/recurso.
- II. URLs que se iniciam por ftp:// foram substituídas pelas http://, não sendo mais utilizadas atualmente.
- III. URLs que se iniciam por https:// permitem que se verifique a autenticidade do servidor e do cliente por meio de certificados digitais.
- Sobre as afirmações, está correto o contido em
- (A) I, apenas.
- (B) II, apenas.
- (C) I e II, apenas.
- (D) I e III, apenas.
- (E) I, II e III.

CONHECIMENTOS ESPECÍFICOS

As questões de números **31** a **40** referem-se à constituição da República Federativa do Brasil, de 5 de outubro de 1988.

31. De acordo com o art. 1.º da Constituição da República, a República Federativa do Brasil, formada pela união indissolúvel dos Estados e Municípios e do Distrito Federal, constitui-se em Estado Democrático de Direito e tem como fundamento, entre outros,

- (A) uma sociedade livre, justa e solidária (inciso V).
- (B) a cidadania para desempenho do livre comércio (inciso IV).
- (C) o pluralismo político (inciso V).
- (D) a dignidade da pessoa (natural e jurídica) (inciso V).
- (E) os valores monetários do trabalho livre e da iniciativa privada (inciso III).

32. A promoção do bem de todos, sem preconceitos de origem, raça, sexo, cor, idade e quaisquer outras formas de discriminação, constitui um(a)

- (A) objetivo fundamental.
- (B) determinação constitucional.
- (C) regulamento das relações internacionais.
- (D) princípio de integração econômica e política.
- (E) princípio de integração econômica e cultural.

33. Visando à formação de uma comunidade latino-americana de nações, a República Federativa do Brasil buscará

- (A) a solução pacífica dos conflitos dos povos da América Latina.
- (B) o repúdio ao terrorismo e ao racismo dos povos da América Latina.
- (C) a cooperação entre os povos para o progresso dos povos da América Latina.
- (D) a integração econômica, política, social e cultural dos povos da América Latina.
- (E) a concessão de asilo político aos povos da América Latina.

34. Em conformidade com o art. 4.º, a República Federativa do Brasil rege-se nas suas relações internacionais pelos seguintes princípios, entre outros:

- (A) construção de uma sociedade livre, justa e solidária e intervenção.
- (B) promoção da garantia do desenvolvimento latino-americano, erradicação da pobreza e da marginalização.
- (C) promoção da garantia do desenvolvimento latino-americano, erradicação da pobreza e redução das desigualdades sociais e regionais.
- (D) independência nacional e intervenção.
- (E) independência nacional e não intervenção.

35. Nos termos da Constituição, todo o poder emana

- (A) da dignidade da pessoa humana, e o Presidente do Senado Federal representa o sucessor do Presidente e Vice-Presidente da República, na falta desses, como mais alto escalão de poder.
- (B) dos valores sociais do trabalho e da livre iniciativa, e o Ministro do Supremo Tribunal Federal representa o sucessor do Presidente e Vice-Presidente da República, na falta desses, como mais alto escalão de poder.
- (C) da cidadania, e o Presidente e Vice-Presidente da República representam o mais alto escalão de poder.
- (D) do pluralismo político.
- (E) do povo, que o exerce por meio de representantes eleitos ou diretamente.

As questões de números **36** a **40** referem-se ao art. 37, da Constituição da República Federativa do Brasil, de 5 de outubro de 1988.

36. A administração pública direta e indireta de qualquer dos Poderes da União, dos Estados, do Distrito Federal e dos Municípios obedecerá aos princípios, entre outros,

- (A) de legalidade e da eficiência.
- (B) de impessoalidade e da soberania.
- (C) da moralidade e da cidadania.
- (D) da moralidade e da dignidade da pessoa humana.
- (E) da publicidade e dos valores sociais do trabalho e da livre iniciativa.

37. Os cargos, empregos e funções públicas são acessíveis aos brasileiros que

- (A) abdicarem do direito à livre associação sindical.
- (B) preencham os requisitos estabelecidos em lei especial, assim como aos estrangeiros que tenham desistido de sua cidadania de nascimento.
- (C) preencham os requisitos estabelecidos em lei, assim como aos estrangeiros, na forma da lei.
- (D) preencham os requisitos estabelecidos em lei especial, assim como aos estrangeiros com dupla cidadania, sendo uma delas a brasileira, solicitada a partir de 05 de outubro de 1988.
- (E) preencham os requisitos estabelecidos em lei especial, assim como aos estrangeiros com dupla cidadania, sendo uma delas a brasileira, solicitada até 05 de outubro de 1988.

- 38.** É vedada a acumulação remunerada de cargos públicos, exceto quando houver compatibilidade de horários, observado em qualquer caso o disposto no inciso XI, a de
- (A) três cargos ou empregos privativos de profissionais de saúde, com profissões regulamentadas.
 - (B) dois cargos ou empregos privativos de profissionais de saúde, com profissões regulamentadas.
 - (C) três cargos de professor.
 - (D) dois cargos de professor com outro técnico ou científico.
 - (E) três cargos de professor com outro técnico ou científico, ou com profissões regulamentadas.
- 39.** A publicidade dos atos, programas, obras, serviços e campanhas dos órgãos públicos deverá ter caráter educativo, informativo ou de orientação social, dela não podendo constar
- (A) nos editais publicados para cada ocasião.
 - (B) dos respectivos orçamentos integrantes do orçamento da União.
 - (C) o provimento de vagas de Ministros do Tribunal Federal de Recursos.
 - (D) nomes, símbolos ou imagens que caracterizem promoção pessoal de autoridades ou servidores públicos.
 - (E) a composição dos organismos regionais que executarão, na forma da lei, os planos regionais, integrantes dos planos nacionais de desenvolvimento econômico e social, aprovados juntamente com estes.
- 40.** A administração fazendária e seus servidores fiscais terão, dentro de suas áreas de competência e jurisdição, precedência
- (A) ou não de alocação orçamentária do valor necessário à satisfação do seu débito.
 - (B) ou preterição ao direito de precedência.
 - (C) para pagamento sobre todos os demais.
 - (D) contra a ordem econômica e financeira e contra a economia popular.
 - (E) sobre os demais setores administrativos, na forma da lei.
- As questões de números **41** a **50** referem-se à Lei n.º 8.666/93, sendo que as questões de números **41** a **44** referem-se à modalidade Convite.
- 41.** Em conformidade com o parágrafo 8.º do art. 15, o recebimento de material de valor superior ao limite estabelecido no art. 23 dessa Lei deverá ser confiado a uma comissão de
- (A) 1 membro, no mínimo.
 - (B) 2 membros, no mínimo.
 - (C) 3 membros, no mínimo.
 - (D) 1 membro e 1 agente público responsável pelo processo licitatório.
 - (E) 2 membros.
- 42.** O prazo mínimo até o recebimento das propostas ou da realização do evento será de
- (A) quarenta e cinco dias corridos.
 - (B) trinta dias corridos.
 - (C) quinze dias corridos.
 - (D) quinze dias úteis.
 - (E) cinco dias úteis.
- 43.** O prazo mínimo até o recebimento das propostas ou da realização do evento será contado a partir da última publicação do edital resumido ou da expedição do convite, ou, ainda, da efetiva disponibilidade do edital ou do convite e respectivos anexos, prevalecendo a data que ocorrer
- (A) mais tarde.
 - (B) primeiro, caso a expedição do convite preveja alteração que não afete a formulação das propostas.
 - (C) primeiro, caso a expedição do convite não preveja alteração que afete a formulação das propostas.
 - (D) primeiro, quando a licitação for do tipo “melhor técnica”.
 - (E) primeiro, quando a licitação for do tipo “técnica e preço”.
- 44.** Existindo na praça mais de 3 possíveis interessados, a cada novo convite realizado para objeto idêntico ou assemelhado, é obrigatório o convite a
- (A) mais 2 interessados, enquanto não existirem cadastrados convidados nas últimas 3 licitações.
 - (B) mais 3 interessados, enquanto não existirem cadastrados convidados nas últimas 3 licitações.
 - (C) no mínimo, mais 1 interessado, enquanto existirem cadastrados não convidados nas últimas licitações.
 - (D) no mínimo, mais 2 interessados, enquanto existirem cadastrados convidados nas últimas licitações.
 - (E) no mínimo, mais 3 interessados, enquanto existirem cadastrados convidados nas últimas licitações.
- 45.** A modalidade de licitação Tomada de Preço para obras e serviços de engenharia, tendo em vista o valor estimado da contratação, será determinada pelo limite de até:
- (A) R\$ 80.000,00.
 - (B) R\$ 150.000,00.
 - (C) R\$ 650.000,00.
 - (D) R\$ 1.500.000,00.
 - (E) R\$ 2.500.000,00.

As questões de números 46 a 48 referem-se à modalidade Concorrência.

46. Nos casos em que couber convite, a Administração poderá utilizar a tomada de preços e a concorrência poderá ser utilizada
- (A) em qualquer caso.
 - (B) apenas quando não houver fornecedor do bem ou serviço no País.
 - (C) apenas quando houver consórcio formado por até 3 entes da Federação.
 - (D) apenas quando caracterizada urgência de atendimento de situação que possa ocasionar prejuízo ou comprometer a segurança de pessoas, obras, serviços, equipamentos e outros bens, públicos ou particulares.
 - (E) apenas quando não acudirem interessados à licitação anterior e esta, justificadamente, não puder ser repetida sem prejuízo para a Administração.
47. Nas concorrências de âmbito internacional, o edital deverá ajustar-se às diretrizes da política monetária e do comércio exterior e atender
- (A) aos termos do ato que os autorizou e da respectiva proposta.
 - (B) às condições peculiares do local ou às exigências específicas do empreendimento.
 - (C) ao princípio da padronização, que imponha compatibilidade de especificações técnicas e de desempenho, observadas, quando for o caso, as condições de manutenção, assistência técnica e garantia oferecidas.
 - (D) às exigências dos órgãos competentes.
 - (E) às condições de liderança, obrigatoriamente fixadas no edital.
48. O sistema instituído nesta Lei não impede a pré-qualificação de licitantes nas concorrências, a ser procedida
- (A) sempre que o objeto da licitação recomende análise mais detida da qualificação técnica dos interessados.
 - (B) sempre à análise dos preços e será efetuada exclusivamente por critérios objetivos.
 - (C) a abertura dos envelopes de habilitação.
 - (D) pela impugnação feita tempestivamente pelo licitante.
 - (E) pela inabilitação do licitante.

As questões de números 49 e 50 referem-se à documentação.

49. Para a habilitação nas licitações exigir-se-á dos interessados, exclusivamente, documentação relativa à(ao): I - habilitação jurídica; II - qualificação técnica; III - qualificação econômico-financeira; IV - regularidade fiscal e trabalhista e V - cumprimento
- (A) das obrigações objeto da licitação.
 - (B) do disposto no inciso XXXIII, do art. 7.º, da Constituição Federal: proibição de trabalho noturno, perigoso ou insalubre a menores de dezoito e de qualquer trabalho a menores de dezesseis anos, salvo na condição de aprendiz, a partir de quatorze anos.
 - (C) do disposto no inciso II, do art. 8.º, da Constituição Federal: é vedada a criação de mais de uma organização sindical, em qualquer grau, representativa de categoria profissional ou econômica, na mesma base territorial, que será definida pelos trabalhadores ou empregadores interessados, não podendo ser inferior à área de um Município.
 - (D) de cláusulas contratuais, especificações, projetos ou prazos.
 - (E) de obrigações assumidas anotadas no respectivo registro cadastral.
50. A documentação relativa à qualificação econômico-financeira limitar-se-á, entre outros, à
- (A) prova de inscrição no Cadastro de Pessoas Físicas (CPF) ou no Cadastro Geral de Contribuintes (CGC).
 - (B) prova de inscrição no Cadastro de Contribuintes Estadual ou Municipal, se houver, relativo ao domicílio ou sede do licitante, pertinente ao seu ramo de atividade e compatível com o objeto contratual.
 - (C) prova de regularidade relativa à Seguridade Social e ao Fundo de Garantia por Tempo de Serviço (FGTS), demonstrando situação regular no cumprimento dos encargos sociais instituídos por lei.
 - (D) prova de inexistência de débitos inadimplidos perante a Justiça do Trabalho, mediante a apresentação de certidão negativa, nos termos do Título VII-A da Consolidação das Leis do Trabalho, aprovada pelo Decreto Lei n.º 5.452, de 1.º de maio de 1943.
 - (E) certidão negativa de falência ou concordata expedida pelo distribuidor da sede da pessoa jurídica, ou de execução patrimonial, expedida no domicílio da pessoa física.

- 51.** O Custo de Oportunidade pela utilização dos recursos de propriedade da própria firma corresponde ao conceito de
- (A) custos explícitos.
 - (B) custos implícitos.
 - (C) lucro contábil.
 - (D) lucro econômico.
 - (E) custo de oportunidade total.

As questões de números **52 a 55** referem-se às seguintes informações: uma determinada empresa, em 21/12/xx, apresentou Receita Total de R\$ 900.000,00, Lucro Contábil de R\$ 70.000,00 e Prejuízo Econômico de (R\$ 50.000,00).

- 52.** Os Custos Explícitos Totais, nesta data, eram
- (A) R\$ 970.000,00.
 - (B) R\$ 950.000,00.
 - (C) R\$ 830.000,00.
 - (D) R\$ 120.000,00.
 - (E) R\$ 20.000,00.
- 53.** Os Custos de Oportunidade Total, nesta data, eram
- (A) R\$ 970.000,00.
 - (B) R\$ 950.000,00.
 - (C) R\$ 830.000,00.
 - (D) R\$ 120.000,00.
 - (E) R\$ 20.000,00.
- 54.** Os Custos Implícitos, nesta data, eram
- (A) R\$ 970.000,00.
 - (B) R\$ 950.000,00.
 - (C) R\$ 830.000,00.
 - (D) R\$ 120.000,00.
 - (E) R\$ 20.000,00.
- 55.** Se, nesta mesma data base, os Custos Implícitos fossem de R\$ 70.000,00, o Lucro Econômico seria
- (A) R\$ 70.000,00.
 - (B) R\$ 50.000,00.
 - (C) R\$ 30.000,00.
 - (D) R\$ 20.000,00.
 - (E) Lucro normal.

As questões de números **56 a 60** referem-se ao seguinte quadro:

QUANTIDADE PRODUZIDA	CUSTO FIXO	CUSTO VARIÁVEL
0	R\$ 180,00	R\$ 0,00
1	R\$ 180,00	R\$ 90,00
2	R\$ 180,00	R\$ 120,00
3	R\$ 180,00	R\$ 135,00
4	R\$ 180,00	R\$ 165,00
5	R\$ 180,00	R\$ 225,00
6	R\$ 180,00	R\$ 360,00

- 56.** O custo total para 5 unidades produzidas é
- (A) R\$ 540,00.
 - (B) R\$ 405,00.
 - (C) R\$ 345,00.
 - (D) R\$ 315,00.
 - (E) R\$ 300,00.
- 57.** O custo fixo médio para 4 unidades produzidas é
- (A) R\$ 30,00.
 - (B) R\$ 36,00.
 - (C) R\$ 45,00.
 - (D) R\$ 60,00.
 - (E) R\$ 90,00.
- 58.** O custo variável médio para 2 unidades produzidas é
- (A) R\$ 60,00.
 - (B) R\$ 45,00.
 - (C) R\$ 41,25.
 - (D) R\$ 45,00.
 - (E) R\$ 9,00.
- 59.** O custo médio para 3 unidades produzidas é
- (A) R\$ 270,00.
 - (B) R\$ 150,00.
 - (C) R\$ 105,00.
 - (D) R\$ 86,25.
 - (E) R\$ 81,00.
- 60.** O custo marginal para 1 unidade produzida é
- (A) R\$ 5,00.
 - (B) R\$ 15,00.
 - (C) R\$ 60,00.
 - (D) R\$ 90,00.
 - (E) R\$ 135,00.

