



PROCESSO SELETIVO PÚBLICO

026. PROVA OBJETIVA

ANALISTA DE GESTÃO PLENO – FINANCEIRO

- ◆ Você recebeu sua folha de respostas e este caderno contendo 60 questões objetivas.
- ◆ Confira seu nome e número de inscrição impressos na capa deste caderno.
- ◆ Quando for permitido abrir o caderno, verifique se está completo ou se apresenta imperfeições. Caso haja algum problema, informe ao fiscal da sala.
- ◆ Leia cuidadosamente todas as questões e escolha a resposta que você considera correta.
- ◆ Marque, na folha de respostas, com caneta de tinta azul ou preta, a letra correspondente à alternativa que você escolheu.
- ◆ A duração da prova é de 3 horas e 30 minutos, já incluído o tempo para o preenchimento da folha de respostas.
- ◆ Só será permitida a saída definitiva da sala e do prédio após transcorrida a metade do tempo de duração da prova.
- ◆ Ao sair, você entregará ao fiscal a folha de respostas e este caderno, podendo levar apenas o rascunho de gabarito, localizado em sua carteira, para futura conferência.
- ◆ Até que você saia do prédio, todas as proibições e orientações continuam válidas.

AGUARDE A ORDEM DO FISCAL PARA ABRIR ESTE CADERNO DE QUESTÕES.

CONHECIMENTOS GERAIS

LÍNGUA PORTUGUESA

Leia o texto, para responder às questões de números **01** a **05**.

Na era da internet, com seus “rsrsrs” e as “longas” mensagens de 140 caracteres do Twitter, que lugar haveria para a retórica, a invenção dos gregos clássicos para permitir que nas democracias o bom cidadão pudesse defender seus pontos de vista falando bem? Na semana passada, o julgamento do mensalão no STF pôs em evidência os advogados dos réus. Eles foram lá exercitar sua retórica, uma vez que as peças de defesa já haviam sido escritas e enviadas aos ministros do tribunal. Os defensores, com raras exceções, saíram-se muito mal no quesito da retórica – que não é blá-blá-blá.

Quando assumiu o posto de presidente da Suprema Corte dos Estados Unidos, Earl Warren perguntou a um colega mais antigo em quem confiava plenamente o que ele deveria ler para conseguir escrever suas sentenças no alto nível que as circunstâncias exigiam. O colega de Warren, Hugo Black, respondeu: “Basta ler Retórica, de Aristóteles”.

Sábio conselho. Com a democracia, os gregos criaram esse mecanismo de sustentação oral baseado na lógica e na honestidade de pensamento a que chamaram de retórica. Os cidadãos eram frequentemente obrigados a defender em público não apenas ideias, mas sua propriedade e até a própria liberdade. Aristóteles ensinou que persuadir uma audiência nada tem a ver com eloquência. Isso é sofisma. O que separa um cidadão grego dotado da retórica de um mero sofista? A retórica vencedora não depende do dom da oratória, mas do valor moral do orador.

(Otávio Cabral e Carolina Melo. A retórica não é blá-blá-blá. *Veja*, 15.08.2012)

- 01.** A palavra que melhor traduz a ideia acerca da qualidade do orador, no contexto, é
- (A) tenacidade.
 - (B) verbosidade.
 - (C) probidade.
 - (D) entusiasmo.
 - (E) proselitismo.
- 02.** Na frase final do primeiro parágrafo está implícito que, em sua maioria, os defensores dos réus do mensalão
- (A) praticaram a retórica somente como oratória vazia.
 - (B) restringiram sua defesa a peças escritas.
 - (C) foram convincentes em suas manifestações escrita e oral.
 - (D) renunciaram ao recurso da sustentação oral.
 - (E) falaram livremente, como deve ocorrer nas democracias.

- 03.** Assinale a alternativa contendo as palavras cujos sentidos se opõem, correta e respectivamente, aos sentidos das expressões destacadas nas frases:

Com a **democracia**, os gregos criaram esse mecanismo de sustentação oral.

Aristóteles ensinou que persuadir uma audiência nada tem a ver com eloquência. Isso é **sofisma**.

- (A) o fisiologismo; falácia.
- (B) a meritocracia; eficácia.
- (C) o elitismo; má-fé.
- (D) o autoritarismo; boa-fé.
- (E) a soberania; imprevidência.

- 04.** Considere as seguintes afirmações:

- I. As aspas em “longas” (1.º parágrafo) indicam que a palavra está sendo empregada em sentido irônico.
- II. As aspas em “rsrsrs” (1.º parágrafo) indicam que se trata de palavra estrangeira, razão pela qual é incorreto empregá-la.
- III. As aspas em “Basta ler Retórica, de Aristóteles” (2.º parágrafo) indicam que se trata de uma citação.

Deve-se concluir que está correto o que se afirma em

- (A) I, apenas.
- (B) II, apenas.
- (C) III, apenas.
- (D) I e III, apenas.
- (E) I, II e III.

- 05.** Observe os trechos destacados em seus respectivos contextos:

- I. ... permitir que nas democracias o bom cidadão pudesse defender seus pontos de vista **falando bem**?
- II. Eles foram lá exercitar sua retórica, **uma vez que as peças de defesa já haviam sido escritas e enviadas aos ministros do tribunal**.
- III. ...o que ele deveria ler **para conseguir escrever suas sentenças no alto nível** que as circunstâncias exigiam.

Esses trechos expressam, correta e respectivamente, as circunstâncias de

- (A) meio, restrição e finalidade.
- (B) modo, restrição e condição.
- (C) meio, causa e condição.
- (D) restrição, condição e finalidade.
- (E) modo, causa e finalidade.

06. Assinale a alternativa que apresenta conjugação de verbos e concordância nominal e verbal de acordo com o padrão culto da língua.
- (A) É inegável que aqueles que se disporem a basear suas defesas em puro blá-blá-blá, não expondo dado consistente, não será bem sucedido.
 - (B) Mesmo que os defensores se dispusessem a praticar uma defesa adequada, com argumentos que se mostrassem irrefutáveis, haveria quem lhes criticasse a estratégia.
 - (C) Haverão sempre os descontentes com as decisões emanadas do iminente julgador, caso as decisões dele se contraporem às expectativas dos réus.
 - (D) Os réus devem ter em seu defensor uma pessoa de sua confiança, que eles reputassem competentes, mesmo quando não se tratam de advogados famosos.
 - (E) Pela lei do Brasil, é proibido a prática da advocacia por estrangeiros; deseja-se que restrinjam sua atuação a seu país de origem, onde goza de plenos poderes.

Leia o texto, para responder às questões de números 07 a 10.

No terceiro dia de julgamento, seguiram-se novos depoimentos e finalmente fizeram-se as acareações. E o que facilitou grandemente a tarefa da acusação foi que, na esperança de melhorarem sua posição pessoal, os réus se puseram a acusar uns aos outros. Fez-se publicamente o exame dos prontuários tirados da parte dos arquivos da Polícia Central que Zabala não tivera tempo de destruir. Por meio desses documentos, ficou provado que mais de duzentas pessoas, entre as quais algumas dúzias de estudantes, haviam morrido de doenças e maus tratos nas diversas prisões de Cerro Hermoso e arredores, e seus corpos enterados numa vala comum, sem que seus parentes tivessem sido sequer notificados da “ocorrência”. Quando o promotor público terminou a acusação, o Presidente do Tribunal deu a palavra ao advogado profissional que o Comitê Central Revolucionário designara para defender os réus. O homem ergueu-se e declarou que, diante de todas aquelas provas, ele não só recusava fazer a defesa de seus constituintes como também não pedia sequer para eles a clemência dos jurados. E sentou-se. Sua “defesa” – que provocou aplausos – durou menos de um minuto.

(Érico Veríssimo, *O Senhor Embaixador*)

07. É correto afirmar que o texto dedica-se predominantemente a
- (A) descrever ações e relatar fatos objetivamente, tendo em vista que apresenta ocorrências havidas durante um julgamento, sem expressão de pontos de vista do enunciador.
 - (B) relatar fatos e descrever personagens subjetivamente, tendo em vista que apresenta ações de personagens que, segundo o ponto de vista do enunciador, mudaram o rumo da revolução.
 - (C) descrever personagens sem se ater a fatos, tendo em vista que apresenta características físicas e psicológicas daqueles, a partir da perspectiva particular do enunciador.
 - (D) expor teses que o enunciador discute a partir de um ponto de vista contrário às personagens identificadas como réus do processo apresentado.
 - (E) relatar fatos e discutir teses, tendo em vista que o enunciador tanto relata acontecimentos quanto expressa seu ponto de vista em apoio a estes.

08. Assinale a alternativa em que as duas formas verbais expressam tempo equivalente.

- (A) Puseram; tivessem sido notificados.
- (B) Fez-se; recusava.
- (C) Tivera; haviam morrido.
- (D) Melhorarem; tivera tempo.
- (E) Designara; declarou.

09. A alternativa em que a nova versão da frase do texto apresenta emprego e colocação de pronome de acordo com a norma-padrão é:

- (A) No terceiro dia de julgamento, se seguiram novos depoimentos, os quais depois deles finalmente fizeram-se as acareações.
- (B) E facilitou grandemente a tarefa da acusação o fato onde os réus, na esperança de melhorarem sua posição pessoal, se puseram a acusar uns aos outros.
- (C) Se fez publicamente o exame dos prontuários tirados da parte dos arquivos da Polícia Central, os quais Zabala não tivera tempo de destruí-los.
- (D) Eram documentos importantes, cujos provaram que torturaram-se mais de duzentas pessoas, entre eles algumas dúzias de estudantes.
- (E) O Presidente do Tribunal deu a palavra ao advogado, profissional cuja designação para defender os réus deveu-se ao Comitê Central Revolucionário.

10. Assinale a alternativa em que o sinal indicativo de crase está empregado corretamente.

- (A) Foi dada a palavra à defesa, que se recusou à falar em favor de seus representados.
- (B) Provou-se que àqueles estudantes foram impostos severos maus tratos, até levá-los à morte.
- (C) À bem da verdade, a defesa não estava plenamente à par das acusações contra os réus.
- (D) À princípio, os acusados submetidos à acareação passaram a incriminar-se uns aos outros.
- (E) À partir daquele momento, as pessoas que assistiam àquele julgamento aplaudiram à atitude do defensor.

11. Alzira, Beatriz, César e Dinah têm 14, 15, 17 e 19 anos de idade, não necessariamente nessa ordem. Sabe-se que César é mais velho que Alzira. A diferença entre as idades de Dinah e Beatriz, não necessariamente nessa ordem, é de 1 ano. Nas condições dadas, a idade de Alzira, em anos, é

- (A) 14.
- (B) 15.
- (C) 16.
- (D) 17.
- (E) 19.

12. Os radares A, B e C detectam excesso de velocidade nos seguintes tipos de veículos:

- A – detecta apenas veículos de quatro rodas;
- B – detecta veículos de pelo menos três rodas;
- C – detecta qualquer veículo.

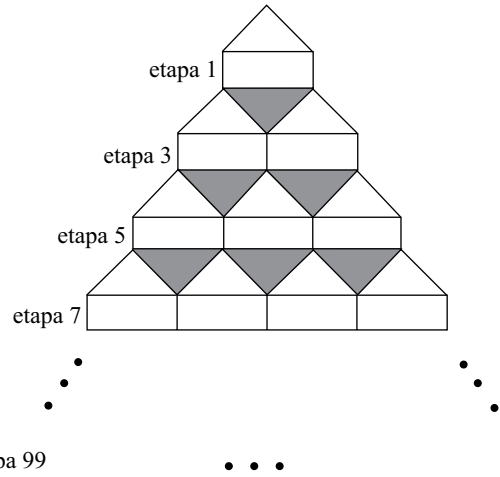
Em relação a um veículo que tenha passado pelos três radares em excesso de velocidade, mas que tenha sido multado por apenas dois deles, é correto afirmar que, necessariamente, ele tem

- (A) menos do que três rodas.
- (B) três ou mais do que quatro rodas.
- (C) até três rodas.
- (D) quatro rodas.
- (E) mais do que quatro rodas.

13. Em um mês, temos 5 quintas-feiras, 5 sextas-feiras e 5 sábados. O dia em que caiu a terceira quarta-feira desse mês indicado foi

- (A) 18.
- (B) 19.
- (C) 20.
- (D) 21.
- (E) 24.

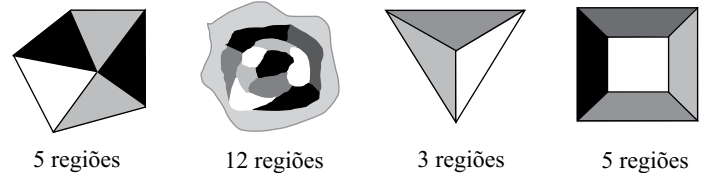
14. Observe a figura.



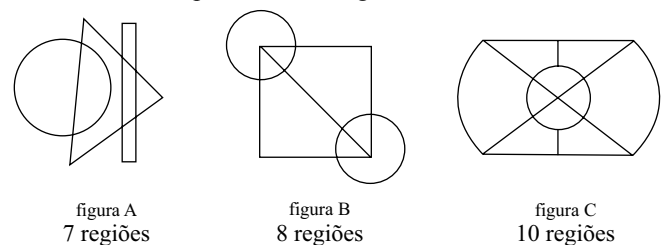
Mantendo-se o mesmo padrão, ao completar a etapa 99 da figura, o total de triângulos sombreados será igual à soma $1+2+3+4+5+\dots+n$, com n igual a

- (A) 44.
- (B) 45.
- (C) 49.
- (D) 50.
- (E) 99.

15. Diremos que uma figura está “bem colorida” se não existem regiões vizinhas coloridas com uma mesma cor. Regiões que só se tocam por um ponto não são consideradas vizinhas. Veja quatro exemplos de figuras consideradas “bem coloridas”.

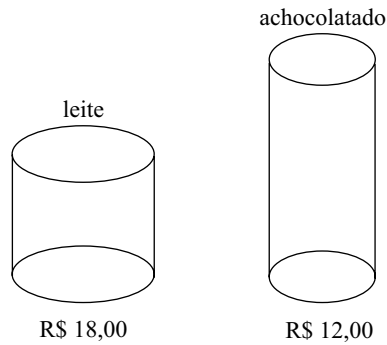


O número mínimo de cores que deve ser usado em cada uma das figuras A, B e C a seguir para que elas fiquem “bem coloridas” é, respectivamente, igual a



- (A) 2, 3, 4.
- (B) 2, 3, 3.
- (C) 2, 4, 3.
- (D) 3, 3, 3.
- (E) 3, 3, 4.

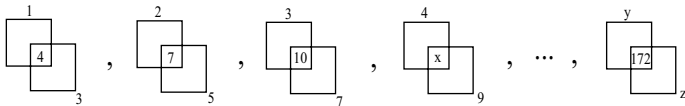
16. Aurélio foi ao mercado com R\$ 96,00 tendo o objetivo de gastar todo o dinheiro na compra de latas de leite e latas de achocolatado, cujos preços, por unidade, estão indicados na figura.



Além da meta de gastar todo o dinheiro, Aurélio também deseja que o total de latas de um dos produtos não supere o total de latas do outro em 8 ou mais unidades. Cumpridas as duas metas de Aurélio, o total de maneiras diferentes que ele poderá realizar sua compra é igual a

- (A) 1.
- (B) 2.
- (C) 3.
- (D) 4.
- (E) 5.

17. Observe a sequência, que mantém sempre o mesmo padrão.



Na sequência, x , y e z representam números, sendo que $x+y+z$ é igual a

- (A) 158.
- (B) 163.
- (C) 165.
- (D) 176.
- (E) 185.

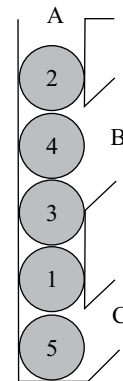
18. Uma floresta tem x árvores, e cada árvore dessa floresta tem de 300 até 600 folhas. O menor valor de x para que necessariamente haja nessa floresta pelo menos duas árvores com o mesmo número de folhas é

- (A) 299.
- (B) 300.
- (C) 301.
- (D) 302.
- (E) 303.

19. Álvaro e Bianca têm 5 filhas. Cada uma das filhas tem um irmão, e cada uma das 5 irmãs tem quatro sobrinhos. Contando Álvaro, Bianca e todos os seus filhos e netos, o número mínimo de integrantes dessa família é igual a

- (A) 12.
- (B) 14.
- (C) 16.
- (D) 19.
- (E) 23.

20. A figura a seguir mostra um recipiente aberto em A, B e C com cinco esferas numeradas.



Uma “operação” consiste em retirar apenas uma esfera por vez por B ou C (sem soerguimento de conjuntos de esferas) e imediatamente colocá-la de volta por A. O número mínimo de “operações” necessárias para obter a ordem das esferas em 1, 2, 3, 4, 5, de baixo para cima, é

- (A) 4.
- (B) 7.
- (C) 8.
- (D) 10.
- (E) 12.

21. Analise as afirmações relacionadas à personalização do Menu Iniciar no sistema operacional Windows XP.

- I. A personalização é efetuada acessando-se, no Painel de Controle no Modo de Exibição Clássico, o ícone *Barra de Tarefas e Menu Iniciar*.
- II. O número de programas que podem ser exibidos pode ser escolhido pelo usuário.
- III. O tamanho dos ícones pode ser alterado.

Sobre as afirmações, está correto o contido em

- (A) I, apenas.
- (B) II, apenas.
- (C) I e II, apenas.
- (D) II e III, apenas.
- (E) I, II e III.

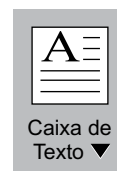
22. O Visualizador da Área de Armazenamento do Windows XP permite que o usuário do computador

- (A) abra arquivos de formatos típicos para a visualização de seus conteúdos.
- (B) veja as informações copiadas na Área de Transferência.
- (C) veja as pastas presentes nas unidades de armazenamento.
- (D) verifique a ocupação dos seus discos e demais dispositivos de armazenamento.
- (E) visualize todos os arquivos armazenados nas unidades de armazenamento.

23. No Windows XP, em sua configuração padrão, deseja-se adicionar um atalho à Área de Trabalho para um arquivo que se encontra em uma determinada pasta. Uma das maneiras que pode ser utilizada para essa ação é:

- (A) Clicar com o botão direito do *mouse* no arquivo, em seguida clicar em *Enviar para* e, posteriormente, em *Área de Trabalho*.
- (B) Clicar com o botão direito do *mouse* no arquivo, em seguida clicar em *Criar Atalho* e, posteriormente, em *Área de Trabalho*.
- (C) Clicar com o botão direito do *mouse* no arquivo e, em seguida, clicar em *Área de Trabalho* e, posteriormente, em *Definir Atalho*.
- (D) No Painel de Controle, selecionar o ícone *Área de Trabalho*, selecionar o arquivo desejado e, em seguida, clicar na opção *Atalho*.
- (E) No Painel de Controle, selecionar o ícone *Atalhos*, selecionar o arquivo desejado e, em seguida, clicar na opção *Área de Trabalho*.

24. No MS-Word 2007, um usuário clicou sobre o seguinte ícone, presente na guia Inserir, grupo Texto.



Por meio dessa ação, é possível

- (A) alterar a borda de uma caixa de texto selecionada.
- (B) inserir uma caixa de texto pré-formatada.
- (C) passar a primeira letra do texto selecionado para caixa alta.
- (D) remover a moldura de todas as páginas do texto.
- (E) remover uma caixa de texto.

25. Durante a edição de um documento no MS-Word 2007, aplicou-se, sobre um parágrafo selecionado, composto por algumas linhas e com alinhamento Justificado, a seguinte formatação de parágrafos, utilizando-se para isso a caixa de diálogo *Parágrafo*, aba *Recuos e espaçamento*.

Recuo

Esquerda: 0 cm

Direita: 0 cm

Especial: *Deslocamento* / Por: 1,25 cm

Com essa formatação, o que ocorre com o parágrafo é:

- (A) Todas as linhas ficarão com deslocamento de 1,25 cm em relação à margem esquerda.
- (B) Todas as linhas ficarão com deslocamento de 1,25 cm em relação à margem direita.
- (C) Somente a primeira linha ficará com deslocamento de 1,25 cm em relação à margem esquerda.
- (D) Com exceção da primeira linha, as demais ficarão com deslocamento de 1,25 cm em relação à margem direita.
- (E) Com exceção da primeira linha, as demais ficarão com deslocamento de 1,25 cm em relação à margem esquerda.

A planilha a seguir, elaborada no MS-Excel 2007, deve ser utilizada para responder às questões de números 26 e 27.

	A	B	C	D
1	0	456	24	12
2	34	42	78	78
3	44	88	24	99
4				

26. Na planilha apresentada, foram inseridas as seguintes fórmulas nas células A4 e B4:

Célula	Fórmula
A4	=E((MÁXIMO(A1:B3)=B1);(MÍNIMO(A1:B3)>0))
B4	=OU((MÁXIMO(A1:B3)=B1);(MÍNIMO(A1:B3)<0))

Os resultados que aparecerão em A4 e B4 serão, respectivamente,

- (A) 456 e 0.
- (B) FALSO e FALSO.
- (C) FALSO e VERDADEIRO.
- (D) VERDADEIRO e FALSO.
- (E) VERDADEIRO e VERDADEIRO.

27. Um usuário selecionou, na planilha apresentada, as células D2 e D3. Na sequência, arrastou o pequeno quadrado presente no canto inferior direito dessa seleção até a célula D7. Pode-se afirmar que os valores que ficarão presentes nas células D4, D5, D6 e D7 serão, respectivamente,

- (A) 78, 78, 78 e 78.
- (B) 99, 99, 99 e 99.
- (C) 100, 101, 102 e 103.
- (D) 120, 141, 162 e 183.
- (E) 198, 297, 396 e 495.

28. Considere o seguinte texto, digitado em um *slide* do MS-PowerPoint 2007:

Exemplo

Selecionando-se uma das opções do botão representado a seguir, disponibilizadas imediatamente por meio do clique no símbolo,



presente na guia Início do MS-PowerPoint 2007, obtém-se como resultado

- (A) Exemplo
- (B) Exemplo
- (C) Exemplo
- (D) EXEMPLO
- (E) exemplo

29. No uso de correio eletrônico, as contas são protegidas por senhas, sobre as quais é correto afirmar que

- (A) devem ser alteradas periodicamente.
- (B) devem ser formadas apenas por letras.
- (C) somente podem ser determinadas pelo administrador do servidor.
- (D) não podem conter letras maiúsculas.
- (E) uma vez estabelecidas, não podem mais ser alteradas.

30. Analise as afirmações relacionadas com URLs (*Uniform Resource Locators*) utilizados na internet.

- I. A estrutura de um URL é: protocolo://máquina/caminho/recurso.
- II. URLs que se iniciam por ftp:// foram substituídas pelas http://, não sendo mais utilizadas atualmente.
- III. URLs que se iniciam por https:// permitem que se verifique a autenticidade do servidor e do cliente por meio de certificados digitais.

Sobre as afirmações, está correto o contido em

- (A) I, apenas.
- (B) II, apenas.
- (C) I e II, apenas.
- (D) I e III, apenas.
- (E) I, II e III.

CONHECIMENTOS ESPECÍFICOS

31. O ISS dos profissionais liberais é classificado como tributo
- (A) direto.
 - (B) adicional.
 - (C) fixo.
 - (D) proporcional.
 - (E) progressivo.
32. A partir de 01.09.2003, por força do art. 22 da Lei n.º 10.684/2003, a base de cálculo da CSLL (Contribuição social sobre o lucro líquido), devida pelas pessoas jurídicas, optantes pelo lucro presumido, corresponderá sobre a receita bruta nas atividades comerciais, industriais, serviços hospitalares e de transporte (exceto transporte de carga), a
- (A) 32%.
 - (B) 25%.
 - (C) 15%.
 - (D) 12%.
 - (E) 5%.
33. A maneira legal de planejamento tributário é denominada elisão fiscal e ocorre quando o legislador dá ao contribuinte determinados benefícios fiscais. Os incentivos fiscais são exemplos típicos de elisão
- (A) informalizada.
 - (B) deduzida.
 - (C) induzida.
 - (D) configurada.
 - (E) evitada.
34. O método indireto do fluxo de caixa consiste em que este seja elaborado por meio de diferenças. O 1.º passo a seguir é: definir quais as operações afetam o fluxo de caixa.
- Assinale a alternativa que contém contas totalmente corretas.
- (A) Depreciações, amortizações e provisões.
 - (B) Depreciações, financiamentos e vendas à vista.
 - (C) Empréstimos, pagamentos de dividendos e amortizações da dívida.
 - (D) Empréstimos e financiamentos, vendas à vista e recebimento de duplicatas.
 - (E) Pagamentos de dividendos e de encargo e amortização da dívida.
35. O valor que deveria ter sido pago a fornecedores no período é o total composto por: mercadoria comprada em períodos anteriores e ainda não paga, mais a mercadoria adquirida e vendida, mais a mercadoria adquirida e estocada, representadas por saldo inicial de fornecedores, mais custo das mercadorias vendidas e ainda o
- (A) saldo do exigível a longo prazo efetivamente pago.
 - (B) patrimônio a longo prazo.
 - (C) saldo do lucro mais depreciação adquirida.
 - (D) custo final de fornecedores.
 - (E) aumento da conta de estoques.
36. A empresa Uso Fruto Pendência Ltda possui a seguinte estrutura de custos e preço:
- ✓ Preço de venda por unidade: R\$ 10,00
 - ✓ Custos fixos operacionais: R\$ 2.500,00
 - ✓ Custo variável unitário: R\$ 5,00
- Assinale alternativa que apresenta o ponto de equilíbrio em quantidade correto.
- (A) 400.
 - (B) 450.
 - (C) 500.
 - (D) 550.
 - (E) 600.
37. Para proceder a uma análise financeira por meio dos seus demonstrativos contábeis, entre os principais instrumentos, há aquele cuja finalidade é permitir o exame da evolução histórica dos valores apresentados. Esse instrumento é denominado(a)
- (A) análise vertical.
 - (B) análise horizontal.
 - (C) índices de atividade.
 - (D) índices de liquidez.
 - (E) análise de estrutura.
38. Medem o retorno que a empresa consegue em relação às suas vendas e ao seu investimento em ativos, os índices de
- (A) liquidez.
 - (B) desempenho.
 - (C) rentabilidade.
 - (D) endividamento.
 - (E) giro de estoques.

39. A análise de balanço deve ser um instrumento que possibilite o gerenciamento da _____. Assim, um dos fundamentos desse modelo de análise é a criação de _____ que permitam sempre uma análise _____.
- informação orçamentária
 - informação contábil
 - indicadores
 - projeções
 - básica
 - comparativa
- Com base nos itens, assinale a alternativa que preenche, correta e respectivamente, as lacunas do texto.
- (A) I, II e III.
(B) I, III e IV.
(C) II, III e VI.
(D) II, IV e V.
(E) III, V e VI.
40. O sistema *DuPont* de análise é utilizado para dissecar as demonstrações financeiras da empresa e avaliar sua situação financeira. Ele funde a demonstração de resultado e o balanço patrimonial em duas medidas simétricas de rentabilidade, uma dessas medidas é o retorno do ativo total (ROA), que é o produto obtido pela multiplicação da margem do lucro líquido x
- (A) giro do ativo total.
(B) giro do ativo vendas.
(C) vendas mais lucro disponível.
(D) ativo circulante.
(E) contas a pagar mais giro médio dos estoques.
41. Consideram-se contas do passivo circulante
- (A) os valores a receber de longo prazo.
(B) o imposto de renda a pagar.
(C) os empréstimos a pagar de longo prazo.
(D) as ações de outras empresas.
(E) as despesas de instalações.
42. Por ocasião da venda, baixa-se o estoque de mercadorias pelo preço de custo da mercadoria vendida. A diferença é
- (A) debitada em receita.
(B) debitada em despesa.
(C) creditada em receita.
(D) creditada em despesa.
(E) creditada em contas a pagar.
43. Ao comparar o resultado final de um período, a empresa saberá se está valendo a pena atuar naquela atividade na relação entre Receitas e Despesas,
- (A) se o resultado final for negativo.
(B) se o resultado final for coincidente.
(C) se o resultado final for positivo.
(D) se a despesa superar a receita no resultado final.
(E) se só houverem despesas no resultado final.
44. No Brasil, embora a contratação de serviços pela Administração Pública já fosse praticada há muito tempo, a orientação favorável a transferência da execução de tarefas auxiliares para a iniciativa privada passou a constituir norma legal, no âmbito federal, apenas a partir da vigência do Decreto Lei n.º 200, de 25.02.1967, cujo art. 10 *caput*, estabelece que a execução das atividades da Administração Federal deverá ser
- (A) própria.
(B) direta.
(C) distribuída.
(D) descentralizada.
(E) centralizada.
45. A duração dos contratos, regidos pela Lei n.º 8.666, de 21.06.1993, fica adstrita à vigência dos respectivos créditos orçamentários, vigorantes durante o exercício financeiro correspondente, segundo a Lei n.º 4.320, de 17.03.1964, ao ano civil (período compreendido entre 1.º de janeiro e 31 de dezembro), devendo observar que não há contrato
- (A) com prazo indeterminado.
(B) com prazo determinado.
(C) caducável.
(D) designado especialmente.
(E) que permita a contratação de terceiros.
46. Segundo o art. 6.º, do Decreto n.º 2.271, de 07.07.1997, a Administração, para que seja responsável pelo acompanhamento e fiscalização da sua execução, procedendo ao registro das ocorrências e adotando as providências necessárias ao seu fiel cumprimento, tendo por parâmetro os resultados previstos no contrato, indicará um
- (A) negociador de contrato.
(B) auditor de contrato.
(C) fiscal de contrato.
(D) gestor do contrato.
(E) controlador do contrato.

47. Considerando o regime de capitalização composta, calcule a remuneração total obtida no período de 3 meses, a uma taxa de 3% de um capital aplicado de R\$ 100.000,00 e assinale a alternativa correta.
- (A) R\$ 9.000,00
 - (B) R\$ 9.270,00
 - (C) R\$ 9.272,70
 - (D) R\$ 9.352,70
 - (E) R\$ 9.378,53
48. No método básico de construção de sistemas de Amortização, denominado SAC – Sistema de Amortização Constante, o valor da amortização do capital emprestado é constante. Se considerarmos que a prestação é igual ao juro mais amortização, se esta última é constante, então o que varia é o valor da (o)
- (A) amortização.
 - (B) juro.
 - (C) capital principal.
 - (D) capital emprestado.
 - (E) taxa contratada.
49. Porcentagem de ganho desejada pela instituição financeira é a operação financeira de curto prazo, denominada
- (A) hot money.
 - (B) encargos.
 - (C) custos tributários.
 - (D) spread.
 - (E) taxa nominal over.
50. O plano orçamentário contempla três grandes segmentos que são: o orçamento operacional, o orçamento de investimentos e financiamentos e
- (A) a projeção da inflação.
 - (B) a projeção de vendas.
 - (C) o planejamento estratégico.
 - (D) o orçamento de preços.
 - (E) o orçamento de caixa.
51. Ao traçar as diretrizes do planejamento das disponibilidades, a empresa procura atingir algumas metas, destacam-se entre elas: defasagem entre as transações correntes, redução de custos sobre empréstimos de curto prazo e
- (A) defasagem das transações de investimentos fixos.
 - (B) aplicação de excedentes de caixa.
 - (C) aplicação de empréstimos sobre transações correntes.
 - (D) redução de custos sobre empréstimos de longo prazo.
 - (E) redução de preços sobre empréstimos de longo prazo.
52. A previsão de todos os gastos referentes ao departamento administrativo e de vendas, que deverão ocorrer no período, é o orçamento de
- (A) despesas com mão de obra.
 - (B) custos indiretos de produção.
 - (C) despesas administrativas.
 - (D) despesas e receitas não operacionais.
 - (E) vendas.
53. O orçamento de caixa indica se está prevista uma insuficiência ou um excesso de caixa em cada um dos meses cobertos pela previsão. A cifra de cada mês baseia-se na exigência internamente imposta de saldo
- (A) mínimo de caixa e representa o saldo total no fim do mês.
 - (B) máximo de caixa e representa o saldo médio no fim do mês.
 - (C) médio de caixa e representa o saldo máximo intermediário.
 - (D) total de caixa e representa o saldo máximo no final do mês.
 - (E) intermediário mensal de caixa e representa o saldo total mínimo no final de meio período.
54. A previsão de gastos e receitas, envolvendo investimentos em ativos imobilizados, cujo fluxo de caixa esperado se dará em um prazo superior a um ano, é denominada
- (A) controle do valor líquido.
 - (B) método ABC.
 - (C) orçamento de capital.
 - (D) orçamento do lucro.
 - (E) orçamento de caixa sintético.
55. Os títulos emitidos por Instituições Financeiras, que comprovam o depósito de um determinado valor a ser resgatado em uma data futura, previamente estipulada, acrescido dos juros correspondentes, são
- (A) Certificados de depósito bancário.
 - (B) Letras do Tesouro Nacional.
 - (C) Commercial Papers.
 - (D) FIFs – Fundos de Investimento Financeiro.
 - (E) FICs – Fundos de Investimento Econômico.

56. As empresas que atuam como intermediárias entre os investidores e o mercado acionário e que precisam da autorização do Banco Central para se constituírem e do Conselho de Valores Mobiliários para exercer a atividade são
- (A) os bancos comerciais.
 - (B) as caixas econômicas.
 - (C) os bancos de investimento.
 - (D) as sociedades corretoras.
 - (E) os bancos múltiplos.
57. As instituições, que compram instrumentos de dívida no mercado monetário para revenda, são
- (A) bolsas de valores.
 - (B) *dealers*.
 - (C) fornecedores de fundos terceirizados.
 - (D) demandantes terceirizados.
 - (E) *extraordinarys*.
58. Se imaginarmos que a Empresa de Transportes Pinochio tem uma política de só vender a prazo e que o valor diário médio das vendas é equivalente a R\$ 503.000,00, que o saldo de contas a receber equivale a R\$ 3.074.000,00.
- É correto afirmar que o prazo médio de recebimento é de
- (A) 59,8 dias.
 - (B) 58,9 dias.
 - (C) 58,6 dias.
 - (D) 56,8 dias.
 - (E) 60,1 dias.
59. O executivo da Empresa de Transportes Pinochio solicitou ao responsável pelo setor de Contas a Pagar que lhe apresentasse o índice de endividamento geral da empresa. O ativo total é R\$ 3.597.000,00 e o passivo exigível total é equivalente a R\$1.643.000,00.
- O índice de endividamento geral da empresa apresentado pelo responsável foi de
- (A) 47,5%.
 - (B) 47,6%.
 - (C) 46,5%.
 - (D) 45,7%.
 - (E) 45,6%.
60. No balanço patrimonial, o Contas a Pagar, situa-se no grupo contábil denominado
- (A) ativo circulante.
 - (B) passivo circulante.
 - (C) realizável no longo prazo.
 - (D) exigível no longo prazo.
 - (E) patrimônio líquido.

