



PROCESSO SELETIVO PÚBLICO

025. PROVA OBJETIVA

ANALISTA DE GESTÃO PLENO – ECONÔMICO FINANCEIRO

- ◆ Você recebeu sua folha de respostas e este caderno contendo 60 questões objetivas.
- ◆ Confira seu nome e número de inscrição impressos na capa deste caderno.
- ◆ Quando for permitido abrir o caderno, verifique se está completo ou se apresenta imperfeições. Caso haja algum problema, informe ao fiscal da sala.
- ◆ Leia cuidadosamente todas as questões e escolha a resposta que você considera correta.
- ◆ Marque, na folha de respostas, com caneta de tinta azul ou preta, a letra correspondente à alternativa que você escolheu.
- ◆ A duração da prova é de 3 horas e 30 minutos, já incluído o tempo para o preenchimento da folha de respostas.
- ◆ Só será permitida a saída definitiva da sala e do prédio após transcorrida a metade do tempo de duração da prova.
- ◆ Ao sair, você entregará ao fiscal a folha de respostas e este caderno, podendo levar apenas o rascunho de gabarito, localizado em sua carteira, para futura conferência.
- ◆ Até que você saia do prédio, todas as proibições e orientações continuam válidas.

AGUARDE A ORDEM DO FISCAL PARA ABRIR ESTE CADERNO DE QUESTÕES.

CONHECIMENTOS GERAIS

LÍNGUA PORTUGUESA

Leia o texto, para responder às questões de números **01** a **05**.

Na era da internet, com seus “rsrsrs” e as “longas” mensagens de 140 caracteres do Twitter, que lugar haveria para a retórica, a invenção dos gregos clássicos para permitir que nas democracias o bom cidadão pudesse defender seus pontos de vista falando bem? Na semana passada, o julgamento do mensalão no STF pôs em evidência os advogados dos réus. Eles foram lá exercitar sua retórica, uma vez que as peças de defesa já haviam sido escritas e enviadas aos ministros do tribunal. Os defensores, com raras exceções, saíram-se muito mal no quesito da retórica – que não é blá-blá-blá.

Quando assumiu o posto de presidente da Suprema Corte dos Estados Unidos, Earl Warren perguntou a um colega mais antigo em quem confiava plenamente o que ele deveria ler para conseguir escrever suas sentenças no alto nível que as circunstâncias exigiam. O colega de Warren, Hugo Black, respondeu: “Basta ler Retórica, de Aristóteles”.

Sábio conselho. Com a democracia, os gregos criaram esse mecanismo de sustentação oral baseado na lógica e na honestidade de pensamento a que chamaram de retórica. Os cidadãos eram frequentemente obrigados a defender em público não apenas ideias, mas sua propriedade e até a própria liberdade. Aristóteles ensinou que persuadir uma audiência nada tem a ver com eloquência. Isso é sofisma. O que separa um cidadão grego dotado da retórica de um mero sofista? A retórica vencedora não depende do dom da oratória, mas do valor moral do orador.

(Otávio Cabral e Carolina Melo. A retórica não é blá-blá-blá. *Veja*, 15.08.2012)

- 01.** A palavra que melhor traduz a ideia acerca da qualidade do orador, no contexto, é
- (A) tenacidade.
 - (B) verbosidade.
 - (C) probidade.
 - (D) entusiasmo.
 - (E) proselitismo.
- 02.** Na frase final do primeiro parágrafo está implícito que, em sua maioria, os defensores dos réus do mensalão
- (A) praticaram a retórica somente como oratória vazia.
 - (B) restringiram sua defesa a peças escritas.
 - (C) foram convincentes em suas manifestações escrita e oral.
 - (D) renunciaram ao recurso da sustentação oral.
 - (E) falaram livremente, como deve ocorrer nas democracias.

- 03.** Assinale a alternativa contendo as palavras cujos sentidos se opõem, correta e respectivamente, aos sentidos das expressões destacadas nas frases:

Com a **democracia**, os gregos criaram esse mecanismo de sustentação oral.

Aristóteles ensinou que persuadir uma audiência nada tem a ver com eloquência. Isso é **sofisma**.

- (A) o fisiologismo; falácia.
- (B) a meritocracia; eficácia.
- (C) o elitismo; má-fé.
- (D) o autoritarismo; boa-fé.
- (E) a soberania; imprevidência.

- 04.** Considere as seguintes afirmações:

- I. As aspas em “longas” (1.º parágrafo) indicam que a palavra está sendo empregada em sentido irônico.
- II. As aspas em “rsrsrs” (1.º parágrafo) indicam que se trata de palavra estrangeira, razão pela qual é incorreto empregá-la.
- III. As aspas em “Basta ler Retórica, de Aristóteles” (2.º parágrafo) indicam que se trata de uma citação.

Deve-se concluir que está correto o que se afirma em

- (A) I, apenas.
- (B) II, apenas.
- (C) III, apenas.
- (D) I e III, apenas.
- (E) I, II e III.

- 05.** Observe os trechos destacados em seus respectivos contextos:

- I. ... permitir que nas democracias o bom cidadão pudesse defender seus pontos de vista **falando bem**?
- II. Eles foram lá exercitar sua retórica, **uma vez que as peças de defesa já haviam sido escritas e enviadas aos ministros do tribunal**.
- III. ...o que ele deveria ler **para conseguir escrever suas sentenças no alto nível** que as circunstâncias exigiam.

Esses trechos expressam, correta e respectivamente, as circunstâncias de

- (A) meio, restrição e finalidade.
- (B) modo, restrição e condição.
- (C) meio, causa e condição.
- (D) restrição, condição e finalidade.
- (E) modo, causa e finalidade.

06. Assinale a alternativa que apresenta conjugação de verbos e concordância nominal e verbal de acordo com o padrão culto da língua.
- (A) É inegável que aqueles que se disporem a basear suas defesas em puro blá-blá-blá, não expondo dado consistente, não será bem sucedido.
 - (B) Mesmo que os defensores se dispusessem a praticar uma defesa adequada, com argumentos que se mostrassem irrefutáveis, haveria quem lhes criticasse a estratégia.
 - (C) Haverão sempre os descontentes com as decisões emanadas do iminente julgador, caso as decisões dele se contraporem às expectativas dos réus.
 - (D) Os réus devem ter em seu defensor uma pessoa de sua confiança, que eles reputassem competentes, mesmo quando não se tratam de advogados famosos.
 - (E) Pela lei do Brasil, é proibido a prática da advocacia por estrangeiros; deseja-se que restrinjam sua atuação a seu país de origem, onde goza de plenos poderes.

Leia o texto, para responder às questões de números 07 a 10.

No terceiro dia de julgamento, seguiram-se novos depoimentos e finalmente fizeram-se as acareações. E o que facilitou grandemente a tarefa da acusação foi que, na esperança de melhorarem sua posição pessoal, os réus se puseram a acusar uns aos outros. Fez-se publicamente o exame dos prontuários tirados da parte dos arquivos da Polícia Central que Zabala não tivera tempo de destruir. Por meio desses documentos, ficou provado que mais de duzentas pessoas, entre as quais algumas dúzias de estudantes, haviam morrido de doenças e maus tratos nas diversas prisões de Cerro Hermoso e arredores, e seus corpos enterados numa vala comum, sem que seus parentes tivessem sido sequer notificados da “ocorrência”. Quando o promotor público terminou a acusação, o Presidente do Tribunal deu a palavra ao advogado profissional que o Comitê Central Revolucionário designara para defender os réus. O homem ergueu-se e declarou que, diante de todas aquelas provas, ele não só recusava fazer a defesa de seus constituintes como também não pedia sequer para eles a clemência dos jurados. E sentou-se. Sua “defesa” – que provocou aplausos – durou menos de um minuto.

(Érico Veríssimo, *O Senhor Embaixador*)

07. É correto afirmar que o texto dedica-se predominantemente a
- (A) descrever ações e relatar fatos objetivamente, tendo em vista que apresenta ocorrências havidas durante um julgamento, sem expressão de pontos de vista do enunciador.
 - (B) relatar fatos e descrever personagens subjetivamente, tendo em vista que apresenta ações de personagens que, segundo o ponto de vista do enunciador, mudaram o rumo da revolução.
 - (C) descrever personagens sem se ater a fatos, tendo em vista que apresenta características físicas e psicológicas daqueles, a partir da perspectiva particular do enunciador.
 - (D) expor teses que o enunciador discute a partir de um ponto de vista contrário às personagens identificadas como réus do processo apresentado.
 - (E) relatar fatos e discutir teses, tendo em vista que o enunciador tanto relata acontecimentos quanto expressa seu ponto de vista em apoio a estes.

08. Assinale a alternativa em que as duas formas verbais expressam tempo equivalente.

- (A) Puseram; tivessem sido notificados.
- (B) Fez-se; recusava.
- (C) Tivera; haviam morrido.
- (D) Melhorarem; tivera tempo.
- (E) Designara; declarou.

09. A alternativa em que a nova versão da frase do texto apresenta emprego e colocação de pronome de acordo com a norma-padrão é:

- (A) No terceiro dia de julgamento, se seguiram novos depoimentos, os quais depois deles finalmente fizeram-se as acareações.
- (B) E facilitou grandemente a tarefa da acusação o fato onde os réus, na esperança de melhorarem sua posição pessoal, se puseram a acusar uns aos outros.
- (C) Se fez publicamente o exame dos prontuários tirados da parte dos arquivos da Polícia Central, os quais Zabala não tivera tempo de destruí-los.
- (D) Eram documentos importantes, cujos provaram que torturaram-se mais de duzentas pessoas, entre eles algumas dúzias de estudantes.
- (E) O Presidente do Tribunal deu a palavra ao advogado, profissional cuja designação para defender os réus deveu-se ao Comitê Central Revolucionário.

10. Assinale a alternativa em que o sinal indicativo de crase está empregado corretamente.

- (A) Foi dada a palavra à defesa, que se recusou à falar em favor de seus representados.
- (B) Provou-se que àqueles estudantes foram impostos severos maus tratos, até levá-los à morte.
- (C) À bem da verdade, a defesa não estava plenamente à par das acusações contra os réus.
- (D) À princípio, os acusados submetidos à acareação passaram a incriminar-se uns aos outros.
- (E) À partir daquele momento, as pessoas que assistiam àquele julgamento aplaudiram à atitude do defensor.

11. Alzira, Beatriz, César e Dinah têm 14, 15, 17 e 19 anos de idade, não necessariamente nessa ordem. Sabe-se que César é mais velho que Alzira. A diferença entre as idades de Dinah e Beatriz, não necessariamente nessa ordem, é de 1 ano. Nas condições dadas, a idade de Alzira, em anos, é

- (A) 14.
- (B) 15.
- (C) 16.
- (D) 17.
- (E) 19.

12. Os radares A, B e C detectam excesso de velocidade nos seguintes tipos de veículos:

- A – detecta apenas veículos de quatro rodas;
- B – detecta veículos de pelo menos três rodas;
- C – detecta qualquer veículo.

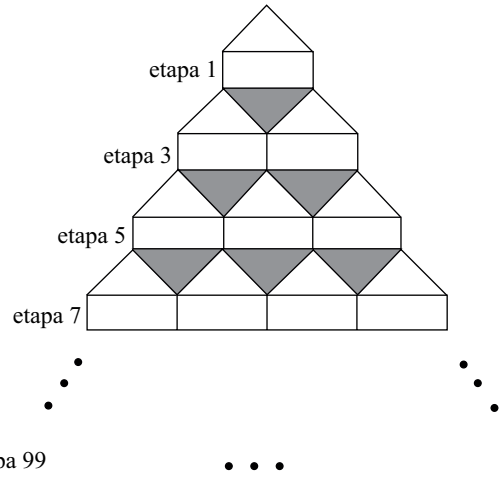
Em relação a um veículo que tenha passado pelos três radares em excesso de velocidade, mas que tenha sido multado por apenas dois deles, é correto afirmar que, necessariamente, ele tem

- (A) menos do que três rodas.
- (B) três ou mais do que quatro rodas.
- (C) até três rodas.
- (D) quatro rodas.
- (E) mais do que quatro rodas.

13. Em um mês, temos 5 quintas-feiras, 5 sextas-feiras e 5 sábados. O dia em que caiu a terceira quarta-feira desse mês indicado foi

- (A) 18.
- (B) 19.
- (C) 20.
- (D) 21.
- (E) 24.

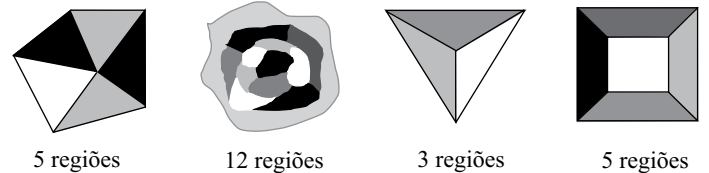
14. Observe a figura.



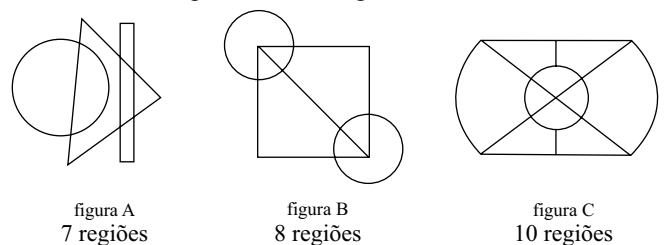
Mantendo-se o mesmo padrão, ao completar a etapa 99 da figura, o total de triângulos sombreados será igual à soma $1+2+3+4+5+\dots+n$, com n igual a

- (A) 44.
- (B) 45.
- (C) 49.
- (D) 50.
- (E) 99.

15. Diremos que uma figura está “bem colorida” se não existem regiões vizinhas coloridas com uma mesma cor. Regiões que só se tocam por um ponto não são consideradas vizinhas. Veja quatro exemplos de figuras consideradas “bem coloridas”.

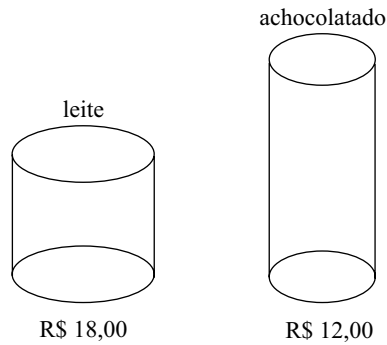


O número mínimo de cores que deve ser usado em cada uma das figuras A, B e C a seguir para que elas fiquem “bem coloridas” é, respectivamente, igual a



- (A) 2, 3, 4.
- (B) 2, 3, 3.
- (C) 2, 4, 3.
- (D) 3, 3, 3.
- (E) 3, 3, 4.

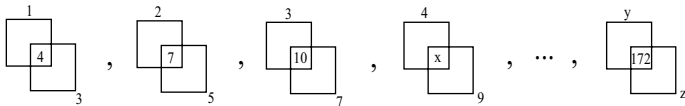
16. Aurélio foi ao mercado com R\$ 96,00 tendo o objetivo de gastar todo o dinheiro na compra de latas de leite e latas de achocolatado, cujos preços, por unidade, estão indicados na figura.



Além da meta de gastar todo o dinheiro, Aurélio também deseja que o total de latas de um dos produtos não supere o total de latas do outro em 8 ou mais unidades. Cumpridas as duas metas de Aurélio, o total de maneiras diferentes que ele poderá realizar sua compra é igual a

- (A) 1.
- (B) 2.
- (C) 3.
- (D) 4.
- (E) 5.

17. Observe a sequência, que mantém sempre o mesmo padrão.



Na sequência, x , y e z representam números, sendo que $x+y+z$ é igual a

- (A) 158.
- (B) 163.
- (C) 165.
- (D) 176.
- (E) 185.

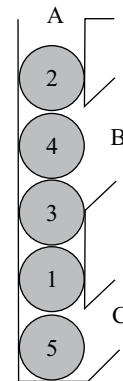
18. Uma floresta tem x árvores, e cada árvore dessa floresta tem de 300 até 600 folhas. O menor valor de x para que necessariamente haja nessa floresta pelo menos duas árvores com o mesmo número de folhas é

- (A) 299.
- (B) 300.
- (C) 301.
- (D) 302.
- (E) 303.

19. Álvaro e Bianca têm 5 filhas. Cada uma das filhas tem um irmão, e cada uma das 5 irmãs tem quatro sobrinhos. Contando Álvaro, Bianca e todos os seus filhos e netos, o número mínimo de integrantes dessa família é igual a

- (A) 12.
- (B) 14.
- (C) 16.
- (D) 19.
- (E) 23.

20. A figura a seguir mostra um recipiente aberto em A, B e C com cinco esferas numeradas.



Uma “operação” consiste em retirar apenas uma esfera por vez por B ou C (sem soerguimento de conjuntos de esferas) e imediatamente colocá-la de volta por A. O número mínimo de “operações” necessárias para obter a ordem das esferas em 1, 2, 3, 4, 5, de baixo para cima, é

- (A) 4.
- (B) 7.
- (C) 8.
- (D) 10.
- (E) 12.

21. Analise as afirmações relacionadas à personalização do Menu Iniciar no sistema operacional Windows XP.

- I. A personalização é efetuada acessando-se, no Painel de Controle no Modo de Exibição Clássico, o ícone *Barra de Tarefas e Menu Iniciar*.
- II. O número de programas que podem ser exibidos pode ser escolhido pelo usuário.
- III. O tamanho dos ícones pode ser alterado.

Sobre as afirmações, está correto o contido em

- (A) I, apenas.
- (B) II, apenas.
- (C) I e II, apenas.
- (D) II e III, apenas.
- (E) I, II e III.

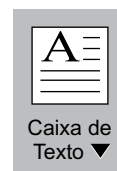
22. O Visualizador da Área de Armazenamento do Windows XP permite que o usuário do computador

- (A) abra arquivos de formatos típicos para a visualização de seus conteúdos.
- (B) veja as informações copiadas na Área de Transferência.
- (C) veja as pastas presentes nas unidades de armazenamento.
- (D) verifique a ocupação dos seus discos e demais dispositivos de armazenamento.
- (E) visualize todos os arquivos armazenados nas unidades de armazenamento.

23. No Windows XP, em sua configuração padrão, deseja-se adicionar um atalho à Área de Trabalho para um arquivo que se encontra em uma determinada pasta. Uma das maneiras que pode ser utilizada para essa ação é:

- (A) Clicar com o botão direito do *mouse* no arquivo, em seguida clicar em *Enviar para* e, posteriormente, em *Área de Trabalho*.
- (B) Clicar com o botão direito do *mouse* no arquivo, em seguida clicar em *Criar Atalho* e, posteriormente, em *Área de Trabalho*.
- (C) Clicar com o botão direito do *mouse* no arquivo e, em seguida, clicar em *Área de Trabalho* e, posteriormente, em *Definir Atalho*.
- (D) No Painel de Controle, selecionar o ícone *Área de Trabalho*, selecionar o arquivo desejado e, em seguida, clicar na opção *Atalho*.
- (E) No Painel de Controle, selecionar o ícone *Atalhos*, selecionar o arquivo desejado e, em seguida, clicar na opção *Área de Trabalho*.

24. No MS-Word 2007, um usuário clicou sobre o seguinte ícone, presente na guia Inserir, grupo Texto.



Por meio dessa ação, é possível

- (A) alterar a borda de uma caixa de texto selecionada.
- (B) inserir uma caixa de texto pré-formatada.
- (C) passar a primeira letra do texto selecionado para caixa alta.
- (D) remover a moldura de todas as páginas do texto.
- (E) remover uma caixa de texto.

25. Durante a edição de um documento no MS-Word 2007, aplicou-se, sobre um parágrafo selecionado, composto por algumas linhas e com alinhamento Justificado, a seguinte formatação de parágrafos, utilizando-se para isso a caixa de diálogo *Parágrafo*, aba *Recuos e espaçamento*.

Recuo

Esquerda: 0 cm

Direita: 0 cm

Especial: *Deslocamento* / Por: 1,25 cm

Com essa formatação, o que ocorre com o parágrafo é:

- (A) Todas as linhas ficarão com deslocamento de 1,25 cm em relação à margem esquerda.
- (B) Todas as linhas ficarão com deslocamento de 1,25 cm em relação à margem direita.
- (C) Somente a primeira linha ficará com deslocamento de 1,25 cm em relação à margem esquerda.
- (D) Com exceção da primeira linha, as demais ficarão com deslocamento de 1,25 cm em relação à margem direita.
- (E) Com exceção da primeira linha, as demais ficarão com deslocamento de 1,25 cm em relação à margem esquerda.

A planilha a seguir, elaborada no MS-Excel 2007, deve ser utilizada para responder às questões de números 26 e 27.

	A	B	C	D
1	0	456	24	12
2	34	42	78	78
3	44	88	24	99
4				

26. Na planilha apresentada, foram inseridas as seguintes fórmulas nas células A4 e B4:

Célula	Fórmula
A4	=E((MÁXIMO(A1:B3)=B1);(MÍNIMO(A1:B3)>0))
B4	=OU((MÁXIMO(A1:B3)=B1);(MÍNIMO(A1:B3)<0))

Os resultados que aparecerão em A4 e B4 serão, respectivamente,

- (A) 456 e 0.
- (B) FALSO e FALSO.
- (C) FALSO e VERDADEIRO.
- (D) VERDADEIRO e FALSO.
- (E) VERDADEIRO e VERDADEIRO.

27. Um usuário selecionou, na planilha apresentada, as células D2 e D3. Na sequência, arrastou o pequeno quadrado presente no canto inferior direito dessa seleção até a célula D7. Pode-se afirmar que os valores que ficarão presentes nas células D4, D5, D6 e D7 serão, respectivamente,

- (A) 78, 78, 78 e 78.
- (B) 99, 99, 99 e 99.
- (C) 100, 101, 102 e 103.
- (D) 120, 141, 162 e 183.
- (E) 198, 297, 396 e 495.

28. Considere o seguinte texto, digitado em um *slide* do MS-PowerPoint 2007:

Exemplo

Selecionando-se uma das opções do botão representado a seguir, disponibilizadas imediatamente por meio do clique no símbolo,



presente na guia Início do MS-PowerPoint 2007, obtém-se como resultado

- (A) Exemplo
- (B) Exemplo
- (C) Exemplo
- (D) EXEMPLO
- (E) exemplo

29. No uso de correio eletrônico, as contas são protegidas por senhas, sobre as quais é correto afirmar que

- (A) devem ser alteradas periodicamente.
- (B) devem ser formadas apenas por letras.
- (C) somente podem ser determinadas pelo administrador do servidor.
- (D) não podem conter letras maiúsculas.
- (E) uma vez estabelecidas, não podem mais ser alteradas.

30. Analise as afirmações relacionadas com URLs (*Uniform Resource Locators*) utilizados na internet.

- I. A estrutura de um URL é: protocolo://máquina/caminho/recurso.
- II. URLs que se iniciam por ftp:// foram substituídas pelas http://, não sendo mais utilizadas atualmente.
- III. URLs que se iniciam por https:// permitem que se verifique a autenticidade do servidor e do cliente por meio de certificados digitais.

Sobre as afirmações, está correto o contido em

- (A) I, apenas.
- (B) II, apenas.
- (C) I e II, apenas.
- (D) I e III, apenas.
- (E) I, II e III.

CONHECIMENTOS ESPECÍFICOS

31. De acordo com a Lei Orgânica do Município de São Paulo, cabe à Câmara Municipal, e não é exigida sanção do Prefeito
- (A) legislar sobre tributos municipais.
 - (B) autorizar a concessão de serviços públicos.
 - (C) tomar e julgar as contas do Prefeito, da Mesa da Câmara Municipal e do Tribunal de Contas do Município.
 - (D) aprovar o Código de Obras e Edificações.
 - (E) delimitar o perímetro urbano e o de expansão urbana.
32. Em consonância com a Lei Orgânica do Município de São Paulo, a regulamentação do transporte público de passageiros deverá contemplar, entre outros
- I. o planejamento e o regime de operação.
 - II. o planejamento e a administração do trânsito.
 - III. a metodologia, as regras de tarifação e as formas de subsídios.
- Está correto o que se afirma em
- (A) I, apenas.
 - (B) II, apenas.
 - (C) I e II, apenas.
 - (D) I e III, apenas.
 - (E) I, II e III.
33. No que diz respeito ao meio ambiente, a Lei Orgânica do Município de São Paulo
- (A) é omissa.
 - (B) diz que o Município deve promover ações isoladamente.
 - (C) diz que o Município deve promover apenas a preservação, mas não a recuperação e melhoria do meio-ambiente.
 - (D) diz que o Município, em cooperação com o Estado e a União, promoverá a preservação, conservação, defesa, recuperação e melhoria do meio ambiente.
 - (E) diz que o Município, em cooperação com o Estado, a União e a iniciativa privada, promoverá a preservação, recuperação e melhoria do meio ambiente.
34. Ao município compete organizar, promover, controlar e fiscalizar o
- (A) serviço de táxis e lotações, fixando a respectiva tarifa.
 - (B) transporte fretado, exceto escolares.
 - (C) serviço de transporte de cargas dentro do seu território, apenas quando houver periculosidade considerável.
 - (D) serviço de transporte de cargas dentro do seu território, ainda que não regule questões como descarga.
 - (E) trânsito no âmbito do seu território, ficando a imposição de penalidades, exclusivamente, a cargo do Estado.
35. As disposições da Lei Complementar n.º 101, de 4 maio de 2000, obrigam
- (A) a União, Estados e Distrito Federal, mas não os municípios.
 - (B) o Poder Executivo, o Poder Legislativo, neste abrangidos os Tribunais de Contas, o Poder Judiciário e o Ministério Público.
 - (C) as autarquias, fundações, mas não empresas estatais.
 - (D) as empresas privadas que forneçam bens ou serviços a governos, sejam estes municipais, estaduais ou o governo federal.
 - (E) as embaixadas e consulados estabelecidos em território nacional.
36. A despesa total de pessoal, no caso de Estados e Municípios, não poderá exceder
- (A) 50% da receita corrente líquida.
 - (B) 60% da receita corrente líquida.
 - (C) 40% da receita corrente bruta.
 - (D) 50% da receita corrente bruta.
 - (E) 70% do orçamento previsto para o próximo período.
37. Se a despesa total com pessoal exceder a 95% (noventa e cinco por cento) do limite, são vedados ao Poder ou órgão que houver incorrido no excesso:
- (A) concessão de vantagem, aumento, reajuste ou adequação de remuneração a qualquer título, mesmo os derivados de sentença judicial.
 - (B) criação de cargo ou emprego, ficando limitado apenas à criação de função.
 - (C) alteração de estrutura de carreira que implique aumento de despesa.
 - (D) provimento de cargo público, admissão ou contratação de pessoal a qualquer título, mesmo a reposição decorrente de aposentadoria ou falecimento, em qualquer área da administração pública.
 - (E) contratação de hora extra, em qualquer hipótese.

38. Se a dívida consolidada de um ente da Federação ultrapassar o respectivo limite ao final de um quadrimestre, deverá ser a ele reconduzida até o término dos três subsequentes, reduzindo o excedente em pelo menos 25% (vinte e cinco por cento) no primeiro. Enquanto perdurar o excesso, o ente que nele houver incorrido

- I. estará proibido de realizar operação de crédito interna ou externa, inclusive por antecipação de receita, ressalvado o refinanciamento do principal atualizado da dívida mobiliária.
- II. obterá resultado primário necessário à recondução da dívida ao limite, promovendo, entre outras medidas, limitação de empenho.
- III. assim que o limite for ultrapassado, o ente ficará também impedido de receber transferências voluntárias da União ou do Estado.

Está correto o que se afirma apenas em

- (A) I.
- (B) II.
- (C) III.
- (D) I e II.
- (E) I, e III.

39. Um empréstimo no valor de R\$ 1.000,00 foi pago seis meses depois, utilizando-se capitalização composta, com uma quantia de R\$ 1.600,00. A taxa mensal de juros utilizada foi, aproximadamente, de

- (A) 8% ao mês.
- (B) 10% ao mês.
- (C) 11% ao mês.
- (D) 12% ao mês.
- (E) 20% ao mês.

40. Um investidor pretende aplicar, num fundo que rende 10% ao mês, R\$ 100,00, hoje, R\$ 200,00, daqui a 30 dias e novamente R\$ 100,00, em 60 dias. Ao final de 90 dias, o saldo de sua aplicação será de

- (A) R\$ 400,00.
- (B) R\$ 423,33.
- (C) R\$ 435,10.
- (D) R\$ 441,00.
- (E) R\$ 485,10.

Leia o problema para responder às questões de números 41 e 42.

Um consumidor adquire um bem durável no valor de R\$ 6.000,00, a ser pago em 12 prestações pelo sistema de amortização constante, a uma taxa de 5% ao mês, sendo a primeira 30 dias após aquisição do bem.

41. A primeira prestação será de

- (A) R\$ 525,00.
- (B) R\$ 600,00.
- (C) R\$ 725,00.
- (D) R\$ 800,00.
- (E) R\$ 825,00.

42. A última prestação será de

- (A) R\$ 525,00.
- (B) R\$ 600,00.
- (C) R\$ 725,00.
- (D) R\$ 800,00.
- (E) R\$ 825,00.

43. Um investimento realizado com capitalização composta com taxa de $i\%$ ao mês, terá um rendimento total, ao final de um ano de

- (A) $12i\%$.
- (B) $(1+i)^{12}\%$.
- (C) $\left[\left(1 + \frac{i}{100}\right)^{12} - 1 \right] \times 100\%$.

- (D) $\left[\left(1 + \frac{i}{100}\right)^{12} \right] \times 100\%$.

- (E) $e^{12i\%}$.

44. Um investimento realizado com capitalização contínua, com taxa de 0,5% ao mês, terá um rendimento total, ao final de um ano de aproximadamente

- (A) 6%.
- (B) 12%.
- (C) 60%.
- (D) 114%.
- (E) 172%.

45. Se uma empresa, ao majorar o preço do bem que produz, percebe uma queda na receita, isso deve significar que o bem produzido
- é inferior.
 - tem demanda inelástica.
 - tem demanda elástica.
 - possui bens complementares.
 - é, na verdade, um mal.
46. O ponto em que o custo médio de curto prazo é igual ao custo marginal de curto prazo, corresponde ao
- ponto em que a receita marginal é igual ao custo marginal.
 - ponto em que o lucro econômico é zero.
 - lucro máximo de curto prazo.
 - custo médio de curto prazo mínimo, apenas se o mercado for competitivo.
 - custo médio de curto prazo mínimo.
47. A demanda individual de uma empresa competitiva é
- negativamente inclinada.
 - horizontal.
 - positivamente inclinada.
 - totalmente inelástica.
 - de elasticidade unitária.
48. Num mercado competitivo atuam 100 empresas idênticas, cujo custo total é dado por $CT = q^2$, onde q é a quantidade produzida por cada empresa. Se a demanda de mercado é dada por $Q = 120 - 10p$, onde Q é a quantidade demandada pelo mercado e p o preço praticado, o preço de equilíbrio desse mercado, é
- R\$ 0,50.
 - R\$ 0,60.
 - R\$ 1,00.
 - R\$ 1,20.
 - R\$ 2,00.
49. Visando obter maior lucro, um teatro resolve cobrar preços diferenciados para diferentes setores. Essa estratégia dará certo se
- a procura de ingressos for muito maior do que a capacidade do teatro.
 - o teatro conhecer o preço de reserva dos seus frequentadores.
 - a elasticidade preço da demanda for diferenciada entre os frequentadores.
 - houver a possibilidade de que um espectador mude de setor durante o espetáculo.
 - houver meia-entrada para estudantes.
50. Uma empresa de ônibus faz o transporte de passageiros entre duas cidades. Ao perceber que o espaço reservado às bagagens nunca era totalmente utilizado, passou a oferecer também o serviço de envio de encomendas entre essas cidades. Isto é um exemplo de
- custo marginal decrescente.
 - deseconomias de escala.
 - economias de escala.
 - economias de escopo.
 - demanda elástica.
51. A existência de empresas que, em seu processo produtivo, poluem o ar, é um tipo de falha de mercado conhecido como
- monopólio natural.
 - externalidade.
 - bem público.
 - mercado incompleto.
 - poder de mercado.
52. Associe os bens na coluna da esquerda com as definições à direita:
- | | | | |
|------|--|----|---|
| I. | Energia elétrica residencial | 1. | Bem privado: rival e excludente |
| II. | Estrada sem pedágio e sem congestionamento | 2. | Bem público: não rival e não excludente |
| III. | Filme exibido em sala de cinema | 3. | Bem rival e não excludente |
| IV. | Frutas em árvores numa área pública | 4. | Bem não rival e excludente |
- Assinale a alternativa que qualifica, corretamente, as assertivas apresentadas, na ordem em que aparecem.
- I-1, II-2, III-4 e IV-3.
 - I-1, II-2, III-3 e IV-4.
 - I-2, II-1, III-4 e IV-3.
 - I-4, II-3, III-2 e IV-1.
 - I-3, II-4, III-1 e IV-2.
53. A cobrança de alíquotas, diferenciadas, de imposto de renda é relacionada à função
- alocativa do governo.
 - estabilizadora do governo.
 - moderadora do governo.
 - distributiva do governo.
 - legislativa do governo.

54. A curva de Laffer, que relaciona a arrecadação do governo com as alíquotas de tributação, é
- (A) sempre crescente.
 - (B) uma reta horizontal.
 - (C) decrescente até atingir um ponto de mínimo, passando a partir daí a ser crescente.
 - (D) crescente até atingir um ponto de máximo, passando a partir daí a ser horizontal.
 - (E) crescente até atingir um ponto de máximo, passando a partir daí a ser decrescente.
55. O conceito que diz que o sistema tributário não deve provocar uma distorção da alocação de recursos, prejudicando, desta forma, a eficiência do sistema, é o conceito da
- (A) simplicidade.
 - (B) capacidade de pagamento.
 - (C) neutralidade.
 - (D) progressividade.
 - (E) reversibilidade.
56. Se o governo em determinado ano arrecada com impostos R\$ 1 bilhão, tem despesas não financeiras de R\$ 800 milhões, mas tem uma dívida de R\$ 10 bilhões, pela qual paga juros de 5% ao ano, sendo que neste ano a inflação foi de 2%, o resultado operacional do governo é
- (A) superávit de R\$ 200 milhões.
 - (B) equilíbrio nas contas.
 - (C) déficit de R\$ 100 milhões.
 - (D) déficit de R\$ 300 milhões.
 - (E) déficit de R\$ 500 milhões.
57. Uma empresa tem custos operacionais fixos de R\$ 3.000,00, seu preço de venda é R\$ 5,00 por unidade e o custo operacional variável é de R\$ 2,00 por unidade. O ponto de equilíbrio dessa empresa é
- (A) 1 000 unidades.
 - (B) 1 200 unidades.
 - (C) 1 500 unidades.
 - (D) 2 000 unidades.
 - (E) 3 000 unidades.
58. É uma origem de fluxos de caixa
- (A) o aumento em qualquer ativo.
 - (B) os dividendos pagos.
 - (C) a recompra de ações.
 - (D) a diminuição em qualquer passivo.
 - (E) o lucro líquido após o imposto de renda.
59. O processo que consiste em avaliar e selecionar investimentos a longo prazo, que sejam coerentes com o objetivo da empresa em maximizar a riqueza de seus proprietários, é denominado (a)
- (A) análise de balanço.
 - (B) demonstrativo de resultados.
 - (C) análise de fluxos de caixa.
 - (D) orçamento de capital.
 - (E) orçamento plurianual.
60. Para a ação de uma determinada empresa, o coeficiente beta do modelo CAPM é 1,5. O retorno do ativo sem risco é 5% ao ano e o retorno sobre a carteira de ativos do mercado é 8% ao ano. O retorno exigido para a ação dessa empresa é de
- (A) 8% ao ano.
 - (B) 9,5% ao ano.
 - (C) 10% ao ano.
 - (D) 12% ao ano.
 - (E) 17% ao ano.

