

AUXILIAR DE ALMOXARIFADO

LEIA ATENTAMENTE AS INSTRUÇÕES ABAIXO.

01 - Você recebeu do fiscal o seguinte material:

a) este caderno, com o enunciado das 50 (cinquenta) questões objetivas, sem repetição ou falha, com a seguinte distribuição:

Conhecimentos Básicos						Conhecimentos Específicos	
Língua Portuguesa II		Matemática II		Raciocínio Lógico II		Questões	Pontuação
Questões	Pontuação	Questões	Pontuação	Questões	Pontuação		
1 a 10	1,5 cada	11 a 20	1,5 cada	21 a 25	2,0 cada	26 a 50	2,4 cada
Total: 40, 0 pontos						Total: 60, 0 pontos	
Total: 100, 0 pontos							

b) **CARTÃO-RESPOSTA** destinado à marcação das respostas das questões objetivas formuladas nas provas.

02 - Verifique se este material está em ordem e se o seu nome e número de inscrição conferem com os que aparecem no **CARTÃO-RESPOSTA**. Caso contrário, notifique o fato **IMEDIATAMENTE** ao fiscal.

03 - Após a conferência, o candidato deverá assinar, no espaço próprio do **CARTÃO-RESPOSTA**, a caneta esferográfica transparente de tinta na cor preta.

04 - No **CARTÃO-RESPOSTA**, a marcação das letras correspondentes às respostas certas deve ser feita cobrindo a letra e preenchendo todo o espaço compreendido pelos círculos, a **caneta esferográfica transparente de tinta na cor preta**, de forma contínua e densa. A LEITORA ÓTICA é sensível a marcas escuras, portanto, preencha os campos de marcação completamente, sem deixar claros.

Exemplo: (A) ● (C) (D) (E)

05 - Tenha muito cuidado com o **CARTÃO-RESPOSTA**, para não o **DOBRAR, AMASSAR ou MANCHAR**. O **CARTÃO-RESPOSTA SOMENTE** poderá ser substituído se, no ato da entrega ao candidato, já estiver danificado.

06 - Para cada uma das questões objetivas, são apresentadas 5 alternativas classificadas com as letras (A), (B), (C), (D) e (E); só uma responde adequadamente ao quesito proposto. Você só deve assinalar **UMA RESPOSTA**: a marcação em mais de uma alternativa anula a questão, **MESMO QUE UMA DAS RESPOSTAS ESTEJA CORRETA**.

07 - As questões objetivas são identificadas pelo número que se situa acima de seu enunciado.

08 - **SERÁ ELIMINADO** do Processo Seletivo Público o candidato que:

a) se utilizar, durante a realização das provas, de máquinas e/ou relógios de calcular, bem como de rádios gravadores, *headphones*, telefones celulares ou fontes de consulta de qualquer espécie;

b) se ausentar da sala em que se realizam as provas levando consigo o **CADERNO DE QUESTÕES** e/ou o **CARTÃO-RESPOSTA**.

Obs.: O candidato só poderá se ausentar do recinto das provas após **1 (uma) hora** contada a partir do efetivo início das mesmas. Por motivos de segurança, o candidato **NÃO PODERÁ LEVAR O CADERNO DE QUESTÕES**, a qualquer momento.

09 - Reserve os 30 (trinta) minutos finais para marcar seu **CARTÃO-RESPOSTA**. Os rascunhos e as marcações assinaladas no **CADERNO DE QUESTÕES NÃO SERÃO LEVADOS EM CONTA**.

10 - Quando terminar, entregue ao fiscal o **CADERNO DE QUESTÕES**, o **CARTÃO-RESPOSTA** e **ASSINE** a **LISTA DE PRESENÇA**.

11 - **O TEMPO DISPONÍVEL PARA ESTAS PROVAS DE QUESTÕES OBJETIVAS É DE 3 (TRÊS) HORAS E 30 (TRINTA) MINUTOS**, incluído o tempo para a marcação do seu **CARTÃO-RESPOSTA**.

12 - As questões e os gabaritos das Provas Objetivas serão divulgados no primeiro dia útil após a realização das mesmas, no endereço eletrônico da **FUNDAÇÃO CESGRANRIO** (<http://www.cesgranrio.org.br>).



CONHECIMENTOS BÁSICOS LÍNGUA PORTUGUESA II

TEXTO I

De volta ao mercado de trabalho

RIO – A busca do emprego é difícil para todos, mas pode ser ainda mais desafiadora para quem esteve afastado do mercado de trabalho. São muitos os casos de pessoas que, mesmo qualificadas, encontram dificuldade para encontrar um novo trabalho. São aposentados que precisam retornar para complementar a renda familiar, mulheres que voltam a trabalhar após a separação ou depois de os filhos crescerem e chegar à idade escolar ou funcionários que, depois de trabalhar anos na mesma empresa, sem se preocupar com reciclagem profissional, foram demitidos.

Celso Georgief, *headhunter** da Agnis Recursos Humanos, destaca que o profissional que ficou afastado certamente não perdeu suas habilidades, conhecimentos e, principalmente, a vontade de trabalhar. Mas é claro que ele vai precisar entender novamente o mercado e, principalmente, o momento em que se encontra para poder encarar os desafios.

Superintendente de RH da Personal Service, Marcus Gaspar ressalta que, num mercado carente de profissionais qualificados, as empresas definitivamente passam a considerar aqueles que por algum motivo estavam afastados do mercado. Isso não significa um processo em que as organizações estejam reduzindo suas exigências:

— Este realmente é um bom momento para voltar a se integrar no mercado de trabalho e disputar as oportunidades crescentes deste novo Brasil. Mas, para isso, é fundamental estar sempre se atualizando e aprimorando competências exigidas.

Para os consultores de RH, é importante ser humilde e esquecer um pouco do cargo que tinha antes, principalmente se ocupava uma posição de alto grau hierárquico, para não perder boas oportunidades. Afinal, o profissional está recomeçando:

— Um pouco de humildade é importante, pois, no início, o profissional poderá ter que "dar um passo para trás" para poder recomeçar em bases sólidas — ressalta Georgief.

Os especialistas afirmam que vontade, disciplina e comprometimento são os pilares dessa nova etapa, em que o profissional terá que percorrer um caminho que tende a não ser tão tranquilo assim:

— A concorrência é grande e quem está no mercado via de regra está atualizado. Ou seja, um passo à frente de quem está tentando retomar uma carreira, completa Georgief.

Gaspar ressalta que as competências comportamentais referentes à forma como fazemos as coisas são hoje muito avaliadas e valorizadas pelas empresas:

— Capacidade de análise, liderança, relacionamento interpessoal e tudo aquilo que interfere em nosso modelo mental é fundamental para se permitir ousar. São essas as competências que fazem a diferença e podem empolgar o futuro empregador.

* *Headhunter* (caça-talentos): é uma pessoa ou um grupo de pessoas ou empresas especializadas na procura de profissionais talentosos.

Disponível em: <<http://www.oglobo.globo.com/economia/boachance/mat/2011/06/22/de-volta-ao-mercado-de-trabalho-924744208.asp#ixzz1XGwNPjxZ>>. Acesso em: 07 set. 2011. Adaptado.

1

Segundo o Texto I, a busca pelo emprego pode ser

- (A) fácil para quem acabou de se formar.
- (B) mais complicada para quem se afastou do mercado.
- (C) mais complicada para recém-formados.
- (D) igualmente desafiadora para todos.
- (E) difícil apenas para profissionais sem alta qualificação.

2

O trecho abaixo foi extraído do 1º parágrafo do Texto I.

“São aposentados que precisam retornar para complementar a renda familiar, mulheres que voltam a trabalhar após a separação ou depois de os filhos crescerem e chegar à idade escolar ou funcionários que, depois de trabalhar anos na mesma empresa, sem se preocupar com reciclagem profissional, foram demitidos.” (ℓ. 5-11)

No contexto em que se encontra, o trecho apresenta a função de

- (A) causalidade
- (B) conclusão
- (C) proporção
- (D) caracterização
- (E) contradição

3

No 2º parágrafo do Texto I, o *headhunter* Celso Georgief afirma que o profissional que ficou afastado do mercado de trabalho precisará entender o novo momento para poder enfrentar os novos desafios.

A palavra que intensifica essa informação, com a sua correta classificação formal, é a seguinte:

- (A) desafios – adjetivo
- (B) novamente – adjetivo
- (C) principalmente – advérbio
- (D) poder – verbo
- (E) encontra – substantivo

4

No Texto I, o uso da vírgula em “Superintendente de RH da Personal Service, Marcus Gaspar ressalta [...]” (ℓ. 19-20) se justifica pelo fato de o termo **Superintendente de RH da Personal Service**

- (A) concordar verbalmente com **Marcus Gaspar**.
- (B) caracterizar quem é **Marcus Gaspar**.
- (C) marcar a circunstância ressaltada por **Marcus Gaspar**.
- (D) introduzir, sem intenção semântica, **Marcus Gaspar**.
- (E) problematizar o que diz **Marcus Gaspar**.



5

Observe a seguinte frase, extraída do 9º parágrafo do Texto I: “[...] competências comportamentais referentes à forma [...]” (l. 48-49).

O emprego do acento indicativo de crase está também corretamente feito em:

- (A) Os empregados mostraram-se resistentes à mudanças na empresa.
- (B) Muitos gostariam de ter um tempo maior à fim de se qualificar.
- (C) O mercado oferece menos chances à quem está afastado.
- (D) O bom profissional está atento à todas as transformações do mercado.
- (E) Quem quer voltar ao mercado deve atender às necessidades de hoje.

6

No 3º parágrafo do Texto I, afirma-se: “**Isso** não significa um processo em que as organizações estejam reduzindo suas exigências:” (l. 23-25).

A qual das informações abaixo se refere a palavra em destaque?

- (A) O mercado está carente de bons profissionais.
- (B) O mercado considera os profissionais afastados em razão de motivos específicos.
- (C) O mercado prefere os profissionais afastados àqueles qualificados.
- (D) O mercado já considera quem estava afastado.
- (E) O mercado considera apenas os profissionais qualificados, não os afastados.

TEXTO II

O trabalho

Tal como a chuva caída
Fecunda a terra, no estio,
Para fecundar a vida

O trabalho se inventou.

- 5 Feliz quem pode, orgulhoso,
Dizer: “Nunca fui vadio;
E, se hoje sou venturoso,

Devo ao trabalho o que sou!”
É preciso, desde a infância,

- 10 Ir preparando o futuro;
Para chegar à abundância,
É preciso trabalhar.

Não nasce a planta perfeita,
Não nasce o fruto maduro;

- 15 E, para ter a colheita,
É preciso semear...

Vocabulário:

- Fecundar: fertilizar, desenvolver, conceber.
- Estio: verão.
- Semear: lançar sementes, tornar fértil.
- Venturoso: feliz.

BILAC, Olavo. **Poesias Infantis**. Rio de Janeiro: Francisco Alves, 1929.

7

No Texto II, a partir da comparação entre a chuva e o trabalho, na primeira estrofe, o eu lírico apresenta o trabalho como algo

- (A) natural
- (B) estéril
- (C) desnecessário
- (D) abundante
- (E) produtivo

8

Observa-se, no Texto II, o uso recorrente da preposição **para**.

No contexto, ela introduz uma ideia de

- (A) indefinição
- (B) concessão
- (C) finalidade
- (D) inversão
- (E) inconclusão

9

No Texto II, caso se substituísse, mantendo-se a norma-padrão, o complemento verbal em destaque em “**Devo ao trabalho** o que sou!” (l. 8) por um pronome oblíquo, respeitaria a regência do verbo **devo** e a pessoa gramatical do termo substituído o seguinte emprego:

- (A) Devo-lhe o que sou.
- (B) Devo-te o que sou.
- (C) Devo-o o que sou.
- (D) Devo-nos o que sou.
- (E) Devo-se o que sou.

10

Estão grafadas corretamente todas as palavras do seguinte período:

- (A) É preciso compreenssão com os trabalhadores afastados do mercado.
- (B) Não é possível advinhar os bons frutos que o trabalho pode trazer.
- (C) É necessário investirmos na qualificação dos trabalhadores.
- (D) Trabalhadores sem estímulo produzem pouquícimo.
- (E) O trabalho é um elemento enobresedor na vida do homem.

MATEMÁTICA II

11

José quer comprar um fogão que custa R\$ 299,00. O vendedor da loja disse que pode dar 10% de desconto se o pagamento for à vista.

Qual será, em reais, o valor pago pelo fogão se José puder comprá-lo à vista?

- (A) 269,10
- (B) 270,10
- (C) 270,90
- (D) 272,10
- (E) 289,00

12

25/Agosto/2011

Estados Unidos vão construir torre de 790 m para a geração de energia solar.

Ar aquecido por efeito estufa deverá propulsionar 32 turbinas, o suficiente para abastecer 100 mil residências [...].

Disponível em: <<http://www.piniweb.com.br/construcao/tecnologia-materiais/estados-unidos-vai-construir-torre-de-790-m-para-a-227702-1.asp>>. Acesso em: 27 ago. 2011.

Considerando os dados citados acima e que o número de residências que podem ser abastecidas é proporcional ao número de turbinas, quantas turbinas seriam necessárias para abastecer 250 mil residências?

- (A) 48
- (B) 64
- (C) 72
- (D) 80
- (E) 96

13

Uma empresa pretende construir um campo de futebol de grama sintética para seus funcionários. O campo, retangular, terá 38 m de comprimento por 18 m de largura. O metro quadrado de grama sintética custa R\$ 60,00.

Para revestir todo esse campo, o gasto com grama sintética

- (A) será inferior a R\$ 10.000,00
- (B) ficará entre R\$ 10.000,00 e R\$ 20.000,00
- (C) ficará entre R\$ 20.000,00 e R\$ 30.000,00
- (D) ficará entre R\$ 30.000,00 e R\$ 40.000,00
- (E) será superior a R\$ 40.000,00

14

O supervisor de uma fábrica anotou o tempo de utilização de uma máquina durante 5 dias. Os dados estão na tabela abaixo.

Dia	Tempo de utilização
1	6 h
2	7 h 30 min
3	5 h 30 min
4	8 h
5	8 h

Em média, quantas horas diárias essa máquina foi utilizada nesses 5 dias?

- (A) 5
- (B) 6
- (C) 7
- (D) 8
- (E) 9

15

Paulo comprou um pacote de biscoito, pagou com uma nota de R\$ 5,00 e recebeu R\$ 2,80 de troco. João comprou dois pacotes desse mesmo biscoito.

Quantos reais João gastou?

- (A) 2,40
- (B) 3,60
- (C) 4,40
- (D) 4,80
- (E) 5,60

16

A reciclabilidade é um dos atributos mais importantes do alumínio. [...]. A cada quilo de alumínio reciclado, cinco quilos de bauxita (minério de onde se produz o alumínio) são poupados. [...]

Disponível em: <http://www.fazfacil.com.br/materiais/reciclagem_metal.html>. Acesso em: 28 ago. 2011. Adaptado.

Uma latinha de alumínio tem cerca de 14 g. Lembrando-se que 1 kg = 1.000 g, quantas latinhas de alumínio devem ser recicladas para que sejam poupados 140 kg de bauxita?

- (A) 1.400
- (B) 2.000
- (C) 3.500
- (D) 7.000
- (E) 10.000

17

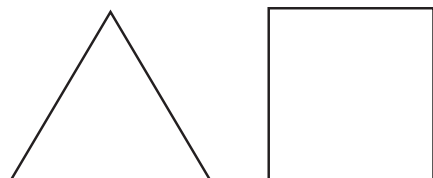
Para pintar um muro com 24 m², é necessário um galão inteiro de tinta.

Quantos galões serão gastos para pintar um muro retangular de 2 m de altura e 48 m de comprimento?

- (A) 3
- (B) 4
- (C) 5
- (D) 6
- (E) 7

18

O triângulo equilátero e o quadrado abaixo têm perímetros iguais.



Se cada lado do triângulo mede 24 cm, qual é, em cm, a medida de cada lado do quadrado?

- (A) 32
- (B) 24
- (C) 20
- (D) 18
- (E) 12



19

Certo concurso oferece vagas para dois cargos: supervisor de produção e operador têxtil. Ao todo, são 18 vagas. Se o número de vagas para o cargo de supervisor supera em 4 o número de vagas para operador, quantas vagas para operador são oferecidas nesse concurso?

- (A) 7
- (B) 8
- (C) 9
- (D) 10
- (E) 11

20

Maria e João são casados, e os dois trabalham. Mensalmente, eles ganham juntos R\$ 2.050,00. Se apenas João receber um aumento de 10%, a renda dos dois passará a ser de R\$ 2.170,00.

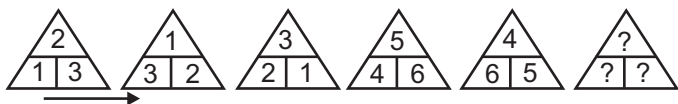
Qual é, em reais, o salário de Maria?

- (A) 850,00
- (B) 976,00
- (C) 1.040,00
- (D) 1.127,00
- (E) 1.200,00

RACIOCÍNIO LÓGICO II

21

A figura mostra uma sequência de triângulos numerados. Percorrendo esta sequência, da esquerda para a direita, é possível notar um padrão circular na evolução da distribuição dos números, no sentido horário, dentro dos triângulos.



Se o padrão apresentado for mantido, qual será o sexto triângulo desta sequência?

- (A)
- (B)
- (C)
- (D)
- (E)

22

Se ontem tivesse chovido e também tivesse sido um dia muito frio, Maria teria cancelado o churrasco de hoje. Mas, como ela não cancelou o churrasco, então, certamente, ontem

- (A) fez calor e não choveu.
- (B) foi um dia de céu azul.
- (C) não choveu e não fez muito frio.
- (D) não choveu ou não fez muito frio.
- (E) não choveu e fez pouco frio.

23

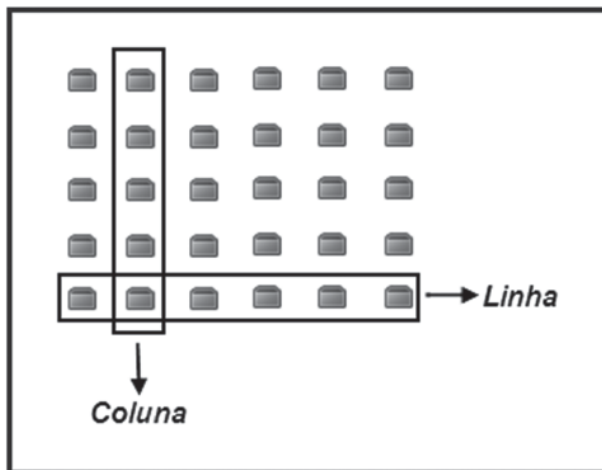
Em uma empresa têxtil, há 5 máquinas idênticas: cada uma delas é capaz de produzir uma peça de roupa em um minuto.

Dessa forma, as 5 máquinas produzem, trabalhando ao mesmo tempo, 5 peças de roupa em

- (A) doze segundos
- (B) vinte segundos
- (C) um minuto
- (D) cinco minutos
- (E) dez minutos

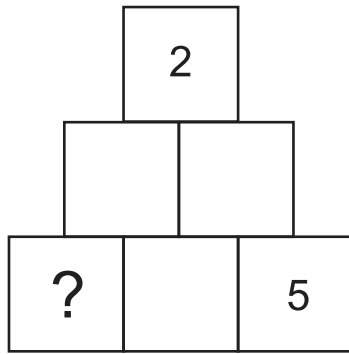
24

Em uma sala, há 30 cadeiras dispostas em 6 colunas e 5 linhas, como ilustrado na figura.



Se 24 pessoas estiverem sentadas em cadeiras dessa sala, então,

- (A) todas as linhas deverão ter alguma cadeira ocupada.
- (B) todas as colunas deverão ter alguma cadeira ocupada.
- (C) pelo menos uma das linhas estará completamente ocupada.
- (D) pelo menos uma das colunas estará completamente ocupada.
- (E) no máximo, uma coluna estará completamente desocupada.



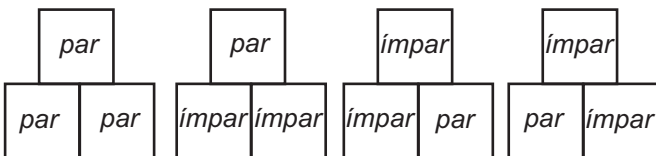
A figura acima mostra uma pirâmide formada por 6 quadrados que deverão ser numerados com os números 1, 2, 3, 4, 5 e 6, sem repetições.

A numeração dos quadrados deverá seguir as seguintes regras:

- Se dois quadrados vizinhos (lado a lado) contiverem dois números pares ou dois números ímpares, o quadrado que estiver imediatamente acima dos dois deverá conter um número par.

- Se dois quadrados vizinhos (lado a lado) contiverem um número par e um número ímpar, ou vice-versa, o quadrado que estiver acima dos dois deverá conter um número ímpar.

As figuras abaixo ilustram todas as maneiras de numerar os quadrados de acordo com as duas regras.



Seguindo-se as regras fornecidas para a numeração dos quadrados da pirâmide, quais números poderão ocupar o quadrado em destaque, quadrado com interrogação, na figura maior?

- (A) 1 ou 3
- (B) 1 ou 4
- (C) 1 ou 6
- (D) 3 ou 4
- (E) 4 ou 6

CONHECIMENTOS ESPECÍFICOS

26

A finalidade de um sistema de almoxarifado é

- (A) estabelecer um conjunto de diretrizes e políticas a serem adotadas para geração de estoques, obedecendo ao catálogo de fornecedores e de materiais existentes, sem perder de vista as condições de pagamento e de entrega.
- (B) estabelecer um conjunto de diretrizes e políticas a serem adotadas a fim de minimizar os custos e potencializar as receitas.
- (C) gerir as atividades de compras para geração de estoques obedecendo ao catálogo de fornecedores e de materiais existentes, sem perder de vista as condições de pagamento e de entrega.
- (D) auxiliar no estabelecimento de gestão necessária para a definição de políticas, diretrizes e cultura organizacional necessária, para atender a comunidade interna em seus interesses individuais.
- (E) auxiliar na administração de estoques de produção de uso contínuo e comum, bem como atender a comunidade interna, mediante cadastro, na solicitação de materiais mantidos em estoques.

27

Para melhor compreensão e funcionamento contínuo do recebimento de materiais em uma empresa, quais etapas devem ser adotadas nesse processo?

- (A) Pedido de compras, inspeção visual, controle, armazenamento e estocagem
- (B) Entrada de materiais, conferência quantitativa, conferência qualitativa, relatórios, registros e estocagem
- (C) Recebimento do material no local de sua estocagem, registro, controle e inventário
- (D) Análise qualitativa, identificação e catalogação
- (E) Separação para distribuição e informação da localização física de guarda ao controle

28

O que é modal de transporte?

- (A) O modo avariado ou não de chegada dos materiais dependendo do transporte
- (B) O tipo de acondicionamento do material transportado
- (C) A maneira de recebimento dos materiais
- (D) A forma da disposição dos materiais para transporte
- (E) A identificação dos estágios de transporte de materiais

29

Qual é a forma mais comum de armazenagem de materiais?

- (A) Paletes
- (B) Caixa de madeira
- (C) Prateleira de vidro
- (D) Estantes de madeira
- (E) Armários com divisão

**30**

São aspectos relacionados à conferência qualitativa dos materiais recebidos por um almoxarifado mediante a ordem de fornecimento e a nota fiscal de fornecimento:

- (A) as dimensões do material, a especificação detalhada do material, a identificação da ausência de especificação adequada ao material
- (B) a quantidade, o formato, as características qualitativas e o tempo de existência do produto no mercado
- (C) o volume, o peso, a altura, a quantidade e o preço médio do mercado
- (D) o prazo de entrega, o local de armazenagem e o manual do produto
- (E) o tamanho, o peso, o volume, a altura e a forma de estocagem

31

Alguns dos documentos nos quais o órgão competente se baseia para a execução de inspeções são:

- (A) carteira de trabalho dos funcionários, codificação do material, controle de estocagem, ficha de devolução e registro de irregularidade
- (B) relatório técnico de venda, certificado de garantia, identificação de compra e venda, pedido de fornecimento e requisição de material
- (C) cópias das ordens de compra, especificações do material, normas técnicas, procedimento de inspeção e de ensaios e documentos para registros das ocorrências de inspeção
- (D) guia de recolhimento de FGTS dos funcionários, controle de estoque, requisição de material, relatório técnico de qualidade e registro de contabilidade e controle
- (E) alvará de funcionamento, catálogo, certificado de qualidade e pedido de compra e venda

32

Um dos objetivos da função aquisição é manter

- (A) um fluxo contínuo de material que atenda às necessidades operacionais de uma empresa.
- (B) a manutenção dos materiais mediante requisições autorizadas dos funcionários da empresa.
- (C) a atualização dos documentos, quando necessário, para guarda e proteção dos materiais adquiridos.
- (D) a identificação de material conforme catálogo de compras.
- (E) os materiais adquiridos em segurança e organizados.

33

Destaca-se como vantagem da organização de um almoxarifado o(a)

- (A) aproveitamento das vias de trânsito para estocagem
- (B) empilhamento de material de acordo com a quantidade existente indiscriminadamente
- (C) possibilidade reduzida de movimentação entre a localização dos materiais e a porta de saída do almoxarifado
- (D) eliminação de causas de acidentes e incêndios
- (E) manutenção do nível de estoque mais amplo possível

34

A armazenagem é uma das principais funções de um almoxarifado.

As etapas da função armazenagem são:

- (A) recebimento, separação, descarga e conferência
- (B) guarda, conferência, programação e descarga
- (C) guarda, preservação, separação e liberação para entrega
- (D) descarga, transferência, programação e separação
- (E) descarga, conferência, regularização e separação

35

O que é estoque?

- (A) É a quantidade de pedido de compra para ser armazenado.
- (B) É a quantidade de capacidade de armazenamento dentro de um almoxarifado.
- (C) É a quantidade de materiais que está armazenada no almoxarifado de uma determinada unidade.
- (D) É o material físico e ideal para atender à demanda previsível e imprevisível para a qual é definido o parâmetro de ressurgimento.
- (E) É o material sem uso, que fica estocado, de caráter permanente, que espera pela etiquetagem.

36

Almoxarifado é o espaço físico onde

- (A) é definida a política de estoques, é o setor responsável pelo estoque, armazenamento e pela distribuição de materiais de consumo, utilizando técnicas adequadas e controles específicos.
- (B) estão depositados os estoques, é o setor responsável pelo fornecimento, pela compra e distribuição de materiais de consumo, utilizando técnicas adequadas e controles específicos.
- (C) estão depositados os estoques, é o setor responsável pelo recebimento, pela estocagem, pagamento das notas fiscais e pela distribuição de produtos de compra, utilizando técnicas adequadas e controles específicos.
- (D) estão depositados os equipamentos, é o setor responsável pela compra, pelo recebimento, fornecimento, pagamento e pela distribuição de materiais de consumo, utilizando técnicas adequadas e controles específicos.
- (E) estão depositados os materiais, é o setor responsável pelo recebimento, armazenamento e pela distribuição de materiais de consumo, utilizando técnicas adequadas e controles específicos.

37

O que é estoque mínimo ou estoque de segurança?

- (A) É a quantidade mínima que o almoxarifado deve ter em estoque de um determinado material, para cobrir eventuais atrasos no ressurgimento.
- (B) É a quantidade mínima de material que gera custo pelo gasto excessivo do material.
- (C) São materiais que devem existir em estoque e se justificam com base no que o dono da empresa determina.
- (D) São materiais que geram custos desnecessários ao dono da empresa.
- (E) São materiais que devem existir em estoque independente de qualquer coisa.

**38**

Layout é o(a)

- (A) estudo dos fornecedores e verificação de sua capacidade técnica, relacionando-os para consulta.
- (B) subida e descida de preço ao longo da elaboração do pedido de compra.
- (C) demanda por parte dos fornecedores por materiais.
- (D) distribuição física dos equipamentos de armazenamento na área definida para este fim.
- (E) segurança contra riscos de produção do mercado fornecedor.

39

Que tipo de informação deve ser enviada ao almoxarifado pelo departamento de compras ao fazer um pedido?

- (A) Nome do vendedor, endereço e telefone, contato com o fornecedor, condições de pagamento, nota fiscal e número do processo de licitação
- (B) Nome do vendedor, endereço e telefone, quantidade de produto, número do processo de compra, nota fiscal do pedido e relatório de fornecimento
- (C) Nome do fornecedor, endereço e telefone, marca, forma e tamanho do produto, número do processo de compra e recibo de pagamento
- (D) Nome do fornecedor, endereço e telefone, contato com o vendedor, prazo de entrega, preço e condições de pagamento e informação sobre a que se destina o produto
- (E) Nome do fornecedor, endereço e telefone, contato com o vendedor, marca do produto, prazo de entrega e nota fiscal

40

O agente requisitante utiliza nas requisições de material de consumo mantido em estoque físico em almoxarifado central, o(a)

- (A) nota fiscal
- (B) inventário físico
- (C) pedido de fornecimento
- (D) relatório de devolução
- (E) baixa de material

41

O recebimento dos materiais no almoxarifado depende de transporte. Tal recebimento é possível pelo uso de equipamentos, tais como

- (A) carrinho de mão, patins mecânicos e macacos eletromecânicos
- (B) tratores, pá carregadeira e esteira rolante
- (C) guindaste, automóveis e caixas
- (D) empilhadeira, ponte rolante e elevadores
- (E) triciclo, talhas e *moto-scrapers*

42

Dentre as inúmeras aplicações dos serviços de processamento de dados na administração de estoques, destaca-se o(a)

- (A) ajuste dos estoques de segurança
- (B) codificação dos materiais de estoque especial
- (C) conferência do tipo de armazenamento
- (D) emissão dos pedidos de relatórios de clientes
- (E) localização da posição física de um item no almoxarifado

43

O tipo de estrutura para armazenagem, fabricada em madeira ou com perfis metálicos, destinada a peças maiores ou ao apoio de gavetas, em que se utiliza madeira, por ser mais mole, visando a não danificar os produtos estocados por impactos eventuais, é o(a)

- (A) *rack*
- (B) palete
- (C) caixa
- (D) prateleira
- (E) empilhadeira

44

Dentro do almoxarifado, são empregados símbolos representativos das diversas atividades realizadas.

Que tipo de atividade é representada por um quadrado?

- (A) Operação
- (B) Inspeção
- (C) Transporte
- (D) Estocagem
- (E) Atraso

45

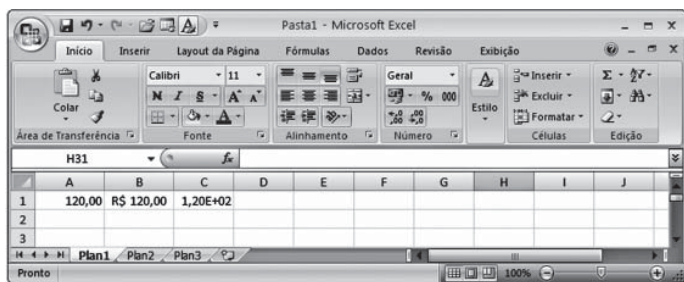
Os principais tipos de estoque encontrados em uma empresa industrial são:

- (A) matéria-prima, produtos em processo, produtos acabados e peças de manutenção
- (B) produtos em processo, produtos acabados, produtos especiais e produtos perecíveis
- (C) produtos em processo, produtos químicos, produtos tóxicos, produtos inflamáveis, produtos acabados e peças de manutenção
- (D) produtos especiais, produtos perecíveis, produtos químicos, produtos em processo, produtos tóxicos, produtos inflamáveis, produtos acabados e peças de manutenção
- (E) produtos inacabados, produtos inflamáveis e produtos tóxicos, produtos acabados e peças de manutenção



46

Observe a figura de uma planilha do Microsoft Excel 2007 a seguir.



As células A1, B1 e C1, após terem seus conteúdos digitados no formato padrão Geral, foram formatadas, respectivamente, com as categorias de formatação

- (A) número, contábil e científico
- (B) número, texto e fração
- (C) moeda, número e fração
- (D) moeda, contábil e fração
- (E) texto, moeda e científico

47

Sobre tecnologias, ferramentas e aplicativos de internet, considere as afirmativas a seguir.

- I - A versão 2007 da suíte Microsoft Office pode ser instalada em computadores cujo sistema operacional é o Windows XP.
- II - Todas as edições (Starter, Home Basic, Home Premium, Professional, Enterprise e Ultimate) do Windows 7 reconhecem até 2 processadores físicos instalados no PC.
- III - Para executar o Windows 7 Professional, a Microsoft recomenda que o PC tenha um processador de 1GHz ou superior de 32 bits (x86) ou de 64 bits (x64).

É correto o que se afirma em

- (A) I, apenas.
- (B) II, apenas.
- (C) I e III, apenas.
- (D) II e III, apenas.
- (E) I, II e III.

48

Os extintores portáteis de incêndio são utilizados para o combate ao fogo no seu início.

Em fiação elétrica energizada, o extintor de incêndio que deve ser utilizado é de

- (A) água
- (B) limalha de ferro
- (C) espuma mecânica
- (D) dióxido de carbono
- (E) pó de grafite

49

As empresas privadas, públicas, sociedades de economia mista, dentre outras que admitam trabalhadores como empregados, devem constituir a Comissão Interna de Prevenção de Acidentes (CIPA). Essa comissão tem por objetivo elaborar medidas de segurança e saúde para a proteção dos trabalhadores. Ela é composta por representantes dos empregados e do empregador.

O presidente dessa comissão deverá ser

- (A) escolhido entre os representantes eleitos do empregador.
- (B) escolhido entre os representantes eleitos dos trabalhadores.
- (C) designado pelo empregador entre os seus representantes.
- (D) designado pelo empregador entre os empregados eleitos pelos trabalhadores.
- (E) o empregado que obteve o maior número de votos na eleição da CIPA.

50

Nas situações de trabalho em que ocorram risco à saúde do trabalhador ou que impliquem o desencadeamento ou o agravamento de doença ocupacional, é obrigatória, por parte do empregador, a realização de exames médicos.

O exame médico que deve ser realizado com intervalo mínimo de tempo é chamado de

- (A) periódico
- (B) eventual
- (C) alternativo
- (D) ocasional
- (E) permanente

RASCUNHO