

ALMOXARIFE

LEIA ATENTAMENTE AS INSTRUÇÕES ABAIXO.

01 - Você recebeu do fiscal o seguinte material:

a) este caderno, com o enunciado das 50 (cinquenta) questões objetivas, sem repetição ou falha, com a seguinte distribuição:

Conhecimentos Básicos						Conhecimentos Específicos	
Língua Portuguesa II		Matemática II		Raciocínio Lógico II		Questões	Pontuação
Questões	Pontuação	Questões	Pontuação	Questões	Pontuação		
1 a 10	1,5 cada	11 a 20	1,5 cada	21 a 25	2,0 cada	26 a 50	2,4 cada
Total: 40, 0 pontos						Total: 60, 0 pontos	
Total: 100, 0 pontos							

b) **CARTÃO-RESPOSTA** destinado à marcação das respostas das questões objetivas formuladas nas provas.

02 - Verifique se este material está em ordem e se o seu nome e número de inscrição conferem com os que aparecem no **CARTÃO-RESPOSTA**. Caso contrário, notifique o fato **IMEDIATAMENTE** ao fiscal.

03 - Após a conferência, o candidato deverá assinar, no espaço próprio do **CARTÃO-RESPOSTA**, a caneta esferográfica transparente de tinta na cor preta.

04 - No **CARTÃO-RESPOSTA**, a marcação das letras correspondentes às respostas certas deve ser feita cobrindo a letra e preenchendo todo o espaço compreendido pelos círculos, a **caneta esferográfica transparente de tinta na cor preta**, de forma contínua e densa. A LEITORA ÓTICA é sensível a marcas escuras, portanto, preencha os campos de marcação completamente, sem deixar claros.

Exemplo: (A) ● (C) (D) (E)

05 - Tenha muito cuidado com o **CARTÃO-RESPOSTA**, para não o **DOBRAR, AMASSAR ou MANCHAR**. O **CARTÃO-RESPOSTA SOMENTE** poderá ser substituído se, no ato da entrega ao candidato, já estiver danificado.

06 - Para cada uma das questões objetivas, são apresentadas 5 alternativas classificadas com as letras (A), (B), (C), (D) e (E); só uma responde adequadamente ao quesito proposto. Você só deve assinalar **UMA RESPOSTA**: a marcação em mais de uma alternativa anula a questão, **MESMO QUE UMA DAS RESPOSTAS ESTEJA CORRETA**.

07 - As questões objetivas são identificadas pelo número que se situa acima de seu enunciado.

08 - **SERÁ ELIMINADO** do Processo Seletivo Público o candidato que:

a) se utilizar, durante a realização das provas, de máquinas e/ou relógios de calcular, bem como de rádios gravadores, *headphones*, telefones celulares ou fontes de consulta de qualquer espécie;

b) se ausentar da sala em que se realizam as provas levando consigo o **CADERNO DE QUESTÕES** e/ou o **CARTÃO-RESPOSTA**.

Obs.: O candidato só poderá se ausentar do recinto das provas após **1 (uma) hora** contada a partir do efetivo início das mesmas. Por motivos de segurança, o candidato **NÃO PODERÁ LEVAR O CADERNO DE QUESTÕES**, a qualquer momento.

09 - Reserve os 30 (trinta) minutos finais para marcar seu **CARTÃO-RESPOSTA**. Os rascunhos e as marcações assinaladas no **CADERNO DE QUESTÕES NÃO SERÃO LEVADOS EM CONTA**.

10 - Quando terminar, entregue ao fiscal o **CADERNO DE QUESTÕES**, o **CARTÃO-RESPOSTA** e **ASSINE** a **LISTA DE PRESENÇA**.

11 - **O TEMPO DISPONÍVEL PARA ESTAS PROVAS DE QUESTÕES OBJETIVAS É DE 3 (TRÊS) HORAS E 30 (TRINTA) MINUTOS**, incluído o tempo para a marcação do seu **CARTÃO-RESPOSTA**.

12 - As questões e os gabaritos das Provas Objetivas serão divulgados no primeiro dia útil após a realização das mesmas, no endereço eletrônico da **FUNDAÇÃO CESGRANRIO** (<http://www.cesgranrio.org.br>).



CONHECIMENTOS BÁSICOS LÍNGUA PORTUGUESA II

TEXTO I

De volta ao mercado de trabalho

RIO – A busca do emprego é difícil para todos, mas pode ser ainda mais desafiadora para quem esteve afastado do mercado de trabalho. São muitos os casos de pessoas que, mesmo qualificadas, encontram dificuldade para encontrar um novo trabalho. São aposentados que precisam retornar para complementar a renda familiar, mulheres que voltam a trabalhar após a separação ou depois de os filhos crescerem e chegar à idade escolar ou funcionários que, depois de trabalhar anos na mesma empresa, sem se preocupar com reciclagem profissional, foram demitidos.

Celso Georgief, *headhunter** da Agnis Recursos Humanos, destaca que o profissional que ficou afastado certamente não perdeu suas habilidades, conhecimentos e, principalmente, a vontade de trabalhar. Mas é claro que ele vai precisar entender novamente o mercado e, principalmente, o momento em que se encontra para poder encarar os desafios.

Superintendente de RH da Personal Service, Marcus Gaspar ressalta que, num mercado carente de profissionais qualificados, as empresas definitivamente passam a considerar aqueles que por algum motivo estavam afastados do mercado. Isso não significa um processo em que as organizações estejam reduzindo suas exigências:

— Este realmente é um bom momento para voltar a se integrar no mercado de trabalho e disputar as oportunidades crescentes deste novo Brasil. Mas, para isso, é fundamental estar sempre se atualizando e aprimorando competências exigidas.

Para os consultores de RH, é importante ser humilde e esquecer um pouco do cargo que tinha antes, principalmente se ocupava uma posição de alto grau hierárquico, para não perder boas oportunidades. Afinal, o profissional está recomeçando:

— Um pouco de humildade é importante, pois, no início, o profissional poderá ter que "dar um passo para trás" para poder recomeçar em bases sólidas — ressalta Georgief.

Os especialistas afirmam que vontade, disciplina e comprometimento são os pilares dessa nova etapa, em que o profissional terá que percorrer um caminho que tende a não ser tão tranquilo assim:

— A concorrência é grande e quem está no mercado via de regra está atualizado. Ou seja, um passo à frente de quem está tentando retomar uma carreira, completa Georgief.

Gaspar ressalta que as competências comportamentais referentes à forma como fazemos as coisas são hoje muito avaliadas e valorizadas pelas empresas:

— Capacidade de análise, liderança, relacionamento interpessoal e tudo aquilo que interfere em nosso modelo mental é fundamental para se permitir ousar. São essas as competências que fazem a diferença e podem empolgar o futuro empregador.

* *Headhunter* (caça-talentos): é uma pessoa ou um grupo de pessoas ou empresas especializadas na procura de profissionais talentosos.

Disponível em: <<http://www.oglobo.globo.com/economia/boachance/mat/2011/06/22/de-volta-ao-mercado-de-trabalho-924744208.asp#ixzz1XGwNPjxZ>>. Acesso em: 07 set. 2011. Adaptado.

1

Segundo o Texto I, a busca pelo emprego pode ser

- (A) fácil para quem acabou de se formar.
- (B) mais complicada para quem se afastou do mercado.
- (C) mais complicada para recém-formados.
- (D) igualmente desafiadora para todos.
- (E) difícil apenas para profissionais sem alta qualificação.

2

O trecho abaixo foi extraído do 1º parágrafo do Texto I.

“São aposentados que precisam retornar para complementar a renda familiar, mulheres que voltam a trabalhar após a separação ou depois de os filhos crescerem e chegar à idade escolar ou funcionários que, depois de trabalhar anos na mesma empresa, sem se preocupar com reciclagem profissional, foram demitidos.” (ℓ. 5-11)

No contexto em que se encontra, o trecho apresenta a função de

- (A) causalidade
- (B) conclusão
- (C) proporção
- (D) caracterização
- (E) contradição

3

No 2º parágrafo do Texto I, o *headhunter* Celso Georgief afirma que o profissional que ficou afastado do mercado de trabalho precisará entender o novo momento para poder enfrentar os novos desafios.

A palavra que intensifica essa informação, com a sua correta classificação formal, é a seguinte:

- (A) desafios – adjetivo
- (B) novamente – adjetivo
- (C) principalmente – advérbio
- (D) poder – verbo
- (E) encontra – substantivo

4

No Texto I, o uso da vírgula em “Superintendente de RH da Personal Service, Marcus Gaspar ressalta [...]” (ℓ. 19-20) se justifica pelo fato de o termo **Superintendente de RH da Personal Service**

- (A) concordar verbalmente com **Marcus Gaspar**.
- (B) caracterizar quem é **Marcus Gaspar**.
- (C) marcar a circunstância ressaltada por **Marcus Gaspar**.
- (D) introduzir, sem intenção semântica, **Marcus Gaspar**.
- (E) problematizar o que diz **Marcus Gaspar**.



5

Observe a seguinte frase, extraída do 9º parágrafo do Texto I: “[...] competências comportamentais referentes à forma [...]” (l. 48-49).

O emprego do acento indicativo de crase está também corretamente feito em:

- (A) Os empregados mostraram-se resistentes à mudanças na empresa.
- (B) Muitos gostariam de ter um tempo maior à fim de se qualificar.
- (C) O mercado oferece menos chances à quem está afastado.
- (D) O bom profissional está atento à todas as transformações do mercado.
- (E) Quem quer voltar ao mercado deve atender às necessidades de hoje.

6

No 3º parágrafo do Texto I, afirma-se: “**Isso** não significa um processo em que as organizações estejam reduzindo suas exigências:” (l. 23-25).

A qual das informações abaixo se refere a palavra em destaque?

- (A) O mercado está carente de bons profissionais.
- (B) O mercado considera os profissionais afastados em razão de motivos específicos.
- (C) O mercado prefere os profissionais afastados àqueles qualificados.
- (D) O mercado já considera quem estava afastado.
- (E) O mercado considera apenas os profissionais qualificados, não os afastados.

TEXTO II

O trabalho

Tal como a chuva caída
Fecunda a terra, no estio,
Para fecundar a vida

O trabalho se inventou.

- 5 Feliz quem pode, orgulhoso,
Dizer: “Nunca fui vadio;
E, se hoje sou venturoso,

Devo ao trabalho o que sou!”
É preciso, desde a infância,

- 10 Ir preparando o futuro;
Para chegar à abundância,
É preciso trabalhar.

Não nasce a planta perfeita,
Não nasce o fruto maduro;

- 15 E, para ter a colheita,
É preciso semear...

Vocabulário:

- Fecundar: fertilizar, desenvolver, conceber.
- Estio: verão.
- Semear: lançar sementes, tornar fértil.
- Venturoso: feliz.

BILAC, Olavo. **Poesias Infantis**. Rio de Janeiro: Francisco Alves, 1929.

7

No Texto II, a partir da comparação entre a chuva e o trabalho, na primeira estrofe, o eu lírico apresenta o trabalho como algo

- (A) natural
- (B) estéril
- (C) desnecessário
- (D) abundante
- (E) produtivo

8

Observa-se, no Texto II, o uso recorrente da preposição **para**.

No contexto, ela introduz uma ideia de

- (A) indefinição
- (B) concessão
- (C) finalidade
- (D) inversão
- (E) inconclusão

9

No Texto II, caso se substituísse, mantendo-se a norma-padrão, o complemento verbal em destaque em “**Devo ao trabalho** o que sou!” (l. 8) por um pronome oblíquo, respeitaria a regência do verbo **devo** e a pessoa gramatical do termo substituído o seguinte emprego:

- (A) Devo-lhe o que sou.
- (B) Devo-te o que sou.
- (C) Devo-o o que sou.
- (D) Devo-nos o que sou.
- (E) Devo-se o que sou.

10

Estão grafadas corretamente todas as palavras do seguinte período:

- (A) É preciso compreenssão com os trabalhadores afastados do mercado.
- (B) Não é possível advinhar os bons frutos que o trabalho pode trazer.
- (C) É necessário investirmos na qualificação dos trabalhadores.
- (D) Trabalhadores sem estímulo produzem pouquícimo.
- (E) O trabalho é um elemento enobresedor na vida do homem.

MATEMÁTICA II

11

José quer comprar um fogão que custa R\$ 299,00. O vendedor da loja disse que pode dar 10% de desconto se o pagamento for à vista.

Qual será, em reais, o valor pago pelo fogão se José puder comprá-lo à vista?

- (A) 269,10
- (B) 270,10
- (C) 270,90
- (D) 272,10
- (E) 289,00



12

25/Agosto/2011

Estados Unidos vão construir torre de 790 m para a geração de energia solar.

Ar aquecido por efeito estufa deverá propulsionar 32 turbinas, o suficiente para abastecer 100 mil residências [...].

Disponível em: <<http://www.piniweb.com.br/construcao/tecnologia-materiais/estados-unidos-vai-construir-torre-de-790-m-para-a-227702-1.asp>>. Acesso em: 27 ago. 2011.

Considerando os dados citados acima e que o número de residências que podem ser abastecidas é proporcional ao número de turbinas, quantas turbinas seriam necessárias para abastecer 250 mil residências?

- (A) 48
- (B) 64
- (C) 72
- (D) 80
- (E) 96

13

Uma empresa pretende construir um campo de futebol de grama sintética para seus funcionários. O campo, retangular, terá 38 m de comprimento por 18 m de largura. O metro quadrado de grama sintética custa R\$ 60,00.

Para revestir todo esse campo, o gasto com grama sintética

- (A) será inferior a R\$ 10.000,00
- (B) ficará entre R\$ 10.000,00 e R\$ 20.000,00
- (C) ficará entre R\$ 20.000,00 e R\$ 30.000,00
- (D) ficará entre R\$ 30.000,00 e R\$ 40.000,00
- (E) será superior a R\$ 40.000,00

14

O supervisor de uma fábrica anotou o tempo de utilização de uma máquina durante 5 dias. Os dados estão na tabela abaixo.

Dia	Tempo de utilização
1	6 h
2	7 h 30 min
3	5 h 30 min
4	8 h
5	8 h

Em média, quantas horas diárias essa máquina foi utilizada nesses 5 dias?

- (A) 5
- (B) 6
- (C) 7
- (D) 8
- (E) 9

15

Paulo comprou um pacote de biscoito, pagou com uma nota de R\$ 5,00 e recebeu R\$ 2,80 de troco. João comprou dois pacotes desse mesmo biscoito.

Quantos reais João gastou?

- (A) 2,40
- (B) 3,60
- (C) 4,40
- (D) 4,80
- (E) 5,60

16

A reciclabilidade é um dos atributos mais importantes do alumínio. [...]. A cada quilo de alumínio reciclado, cinco quilos de bauxita (minério de onde se produz o alumínio) são poupados. [...]

Disponível em: <http://www.fazfacil.com.br/materiais/reciclagem_metal.html>. Acesso em: 28 ago. 2011. Adaptado.

Uma latinha de alumínio tem cerca de 14 g. Lembrando-se que 1 kg = 1.000 g, quantas latinhas de alumínio devem ser recicladas para que sejam poupados 140 kg de bauxita?

- (A) 1.400
- (B) 2.000
- (C) 3.500
- (D) 7.000
- (E) 10.000

17

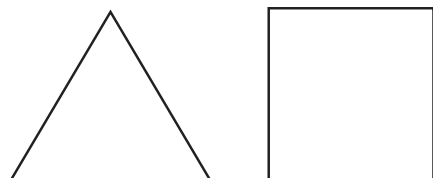
Para pintar um muro com 24 m², é necessário um galão inteiro de tinta.

Quantos galões serão gastos para pintar um muro retangular de 2 m de altura e 48 m de comprimento?

- (A) 3
- (B) 4
- (C) 5
- (D) 6
- (E) 7

18

O triângulo equilátero e o quadrado abaixo têm perímetros iguais.



Se cada lado do triângulo mede 24 cm, qual é, em cm, a medida de cada lado do quadrado?

- (A) 32
- (B) 24
- (C) 20
- (D) 18
- (E) 12



19

Certo concurso oferece vagas para dois cargos: supervisor de produção e operador têxtil. Ao todo, são 18 vagas. Se o número de vagas para o cargo de supervisor supera em 4 o número de vagas para operador, quantas vagas para operador são oferecidas nesse concurso?

- (A) 7
(B) 8
(C) 9
(D) 10
(E) 11

20

Maria e João são casados, e os dois trabalham. Mensalmente, eles ganham juntos R\$ 2.050,00. Se apenas João receber um aumento de 10%, a renda dos dois passará a ser de R\$ 2.170,00.

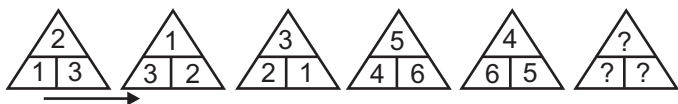
Qual é, em reais, o salário de Maria?

- (A) 850,00
(B) 976,00
(C) 1.040,00
(D) 1.127,00
(E) 1.200,00

RACIOCÍNIO LÓGICO II

21

A figura mostra uma sequência de triângulos numerados. Percorrendo esta sequência, da esquerda para a direita, é possível notar um padrão circular na evolução da distribuição dos números, no sentido horário, dentro dos triângulos.



Se o padrão apresentado for mantido, qual será o sexto triângulo desta sequência?

- (A)
- (B)
- (C)
- (D)
- (E)

22

Se ontem tivesse chovido e também tivesse sido um dia muito frio, Maria teria cancelado o churrasco de hoje. Mas, como ela não cancelou o churrasco, então, certamente, ontem

- (A) fez calor e não choveu.
(B) foi um dia de céu azul.
(C) não choveu e não fez muito frio.
(D) não choveu ou não fez muito frio.
(E) não choveu e fez pouco frio.

23

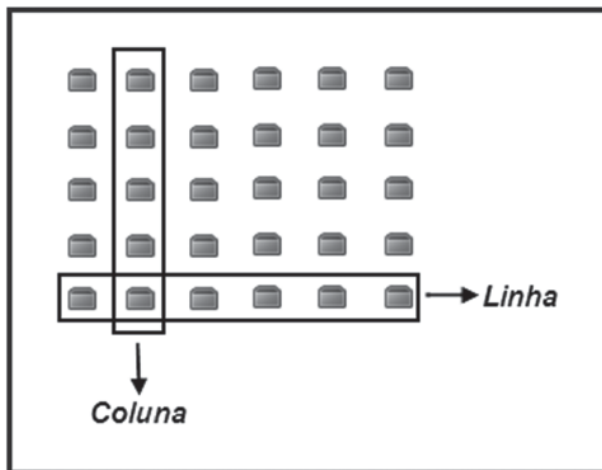
Em uma empresa têxtil, há 5 máquinas idênticas: cada uma delas é capaz de produzir uma peça de roupa em um minuto.

Dessa forma, as 5 máquinas produzem, trabalhando ao mesmo tempo, 5 peças de roupa em

- (A) doze segundos
(B) vinte segundos
(C) um minuto
(D) cinco minutos
(E) dez minutos

24

Em uma sala, há 30 cadeiras dispostas em 6 colunas e 5 linhas, como ilustrado na figura.

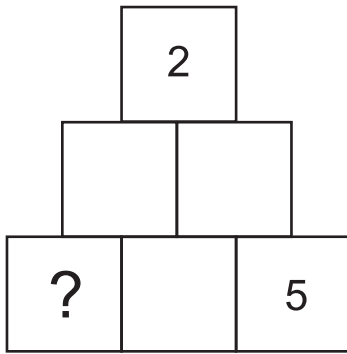


Se 24 pessoas estiverem sentadas em cadeiras dessa sala, então,

- (A) todas as linhas deverão ter alguma cadeira ocupada.
(B) todas as colunas deverão ter alguma cadeira ocupada.
(C) pelo menos uma das linhas estará completamente ocupada.
(D) pelo menos uma das colunas estará completamente ocupada.
(E) no máximo, uma coluna estará completamente desocupada.



25



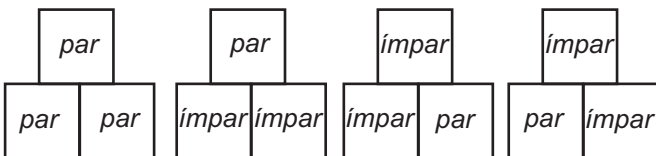
A figura acima mostra uma pirâmide formada por 6 quadrados que deverão ser numerados com os números 1, 2, 3, 4, 5 e 6, sem repetições.

A numeração dos quadrados deverá seguir as seguintes regras:

- Se dois quadrados vizinhos (lado a lado) contiverem dois números pares ou dois números ímpares, o quadrado que estiver imediatamente acima dos dois deverá conter um número par.

- Se dois quadrados vizinhos (lado a lado) contiverem um número par e um número ímpar, ou vice-versa, o quadrado que estiver acima dos dois deverá conter um número ímpar.

As figuras abaixo ilustram todas as maneiras de numerar os quadrados de acordo com as duas regras.



Seguindo-se as regras fornecidas para a numeração dos quadrados da pirâmide, quais números poderão ocupar o quadrado em destaque, quadrado com interrogação, na figura maior?

- (A) 1 ou 3
- (B) 1 ou 4
- (C) 1 ou 6
- (D) 3 ou 4
- (E) 4 ou 6

CONHECIMENTOS ESPECÍFICOS

26

Para descrever qualitativamente o aceite ou a recusa de um material recebido por intermédio de compra a um fornecedor, deve-se adotar que tipo de documento formal?

- (A) Ficha de controle de estoque
- (B) Ficha de localização
- (C) Memorando com mapa de riscos
- (D) Relatório técnico de inspeção
- (E) Formulário para requisição de material

27

A nota fiscal é um dos documentos envolvidos no procedimento de

- (A) regularização do material
- (B) segurança do almoxarifado
- (C) saída de material
- (D) devolução ao almoxarifado
- (E) devolução ao fornecedor

28

A taxa de ocupação volumétrica de um almoxarifado ou armazém é auferida considerando-se

- (A) um pequeno volume de material *versus* um grande volume de material para um único espaço.
- (B) a ocupação do material dependendo do seu volume e seu local de armazenagem.
- (C) o espaço ocupado por material de grande volume *versus* a área do almoxarifado.
- (D) o espaço ocupado por material de pequeno volume *versus* a área do almoxarifado.
- (E) o espaço disponível no almoxarifado *versus* o espaço ocupado

29

Como é denominada a parte de um armazém ou galpão que compreende plataformas, rampas, escadas e locais de conferência, recebimento e despacho?

- (A) Área de administração
- (B) Área de serviço
- (C) Área de estocagem
- (D) Área de armazenagem
- (E) Área de inspeção

30

De posse da ordem de compra o almoxarife deve verificar se as informações constantes na nota fiscal estão de acordo com o que foi pedido.

Que informações são essas?

- (A) Dimensão e aspectos qualitativos
- (B) Volume e forma de armazenamento
- (C) Condições de estocagem
- (D) Preço, quantidade e condições de pagamento
- (E) Data de validade, dimensão e aspectos qualitativos do material

**31**

Dentro da estrutura organizacional do almoxarifado, qual a importância do controle?

- (A) Estabelecer o sistema de instalações e do layout mais adequado, propiciando condições físicas que preservem a qualidade dos materiais, com vistas à ocupação plena do espaço físico e à ordenação da arrumação.
- (B) Entregar os materiais, mediante requisições autorizadas, aos usuários da empresa a qualquer tempo, necessidade e momento.
- (C) Receber para guardar e proteger os materiais adquiridos pela empresa, zelando pelo uso racional daqueles que demandam os materiais.
- (D) Recolher os materiais inservíveis mediante programação de pleno conhecimento entre as partes envolvidas, criticando o uso indevido ou inadequado.
- (E) Estar apto a disponibilizar quantitativos reais de materiais recebidos e aceitos, que se encontram à disposição ou que se encontram em processo de recebimento, bem como as quantidades devolvidas ao fornecedor.

32

Qual o objetivo da classificação de um material?

- (A) Identificá-lo, segundo sua eficiência, cor, textura e quantidade, visando a estabelecer diferencial competitivo com relação aos concorrentes.
- (B) Definir-lo, segundo seu preço, qualidade e desempenho, sem, contudo, desprezar o custo de produção.
- (C) Ordená-lo, segundo critérios adotados, agrupando-o de acordo com a semelhança, sem, contudo, causar confusão ou dispersão no espaço e alteração na qualidade.
- (D) Codificá-lo, segundo um critério de localização, sem, contudo, personificá-lo ou impedir que outro material receba seu código por semelhança.
- (E) Numerá-lo, segundo a ordem de recebimento.

33

A organização de dados de identificação e codificação de materiais é feita através de publicação específica. Tal publicação é denominada

- (A) simplificação
- (B) especificação
- (C) catalogação
- (D) normalização
- (E) padronização

34

Ao receber mercadorias, o almoxarife deve atentar para a conferência do pedido e a(s)

- (A) inspeção visual
- (B) estocagem
- (C) condições de armazenamento
- (D) condições de manuseio
- (E) condições de pagamento

35

A movimentação física de materiais dentro da fábrica ou armazém deve ser

- (A) reduzida ao mínimo possível, tanto em relação à quantidade transportada quanto às distâncias percorridas.
- (B) definida de acordo com o nível de ressurgimento, mas independente da armazenagem, do ambiente disponível e da disponibilidade de equipamentos de transportes.
- (C) coordenada com o intervalo de ressurgimento das cargas de grande porte e das diferentes maneiras de empilhamento.
- (D) majorada para o fornecimento das cargas com tempo de ressurgimento alto, acima de 6 meses, em que a contagem do material seja requerida.
- (E) determinada pelos equipamentos disponíveis ao transporte e pelos usuários dos materiais.

36

São parâmetros de ressurgimento:

- (A) equipamento de estocagem, risco de falta, comprometimento do nível de serviços
- (B) equipamento de estocagem, inspeção técnica, restrições de especificação, comprometimento do nível de serviços
- (C) restrições de especificação, risco de falta, comprometimento do nível de serviços
- (D) restrições de especificação, inspeção técnica, conferências qualitativas, equipamento de estocagem, risco de falta
- (E) consumo médio mensal, estoque mínimo, ponto de pedido, tempo de reposição, estoque máximo

37

Qual o objetivo da codificação dos materiais?

- (A) Permitir o recebimento do material via *on-line* e o despacho para outros setores da empresa.
- (B) Propiciar benefícios obtidos em função das variações dos custos unitários.
- (C) Ocasionalmente a ocorrência de demandas constantes no tempo, ou seja, um comportamento regular de consumo.
- (D) Permitir que os materiais em estoque possam ser facilmente identificados, controlados e fornecidos com o menor risco de erro.
- (E) Encontrar material associado a determinada localização no almoxarifado, pois todo item de estoque deve ter endereço certo.

38

Qual é o nome da etapa realizada quando o fornecedor chega para entregar o produto e o almoxarife localiza o processo, licitatório ou não, que gerou aquela compra?

- (A) Distribuição do produto
- (B) Conferência do produto
- (C) Armazenagem do produto
- (D) Devolução do produto
- (E) Ressurgimento do produto

**39**

O que é ponto de ressurgimento?

- (A) É a quantidade de produtos que, ao ser atingida pelo consumo operacional, determina o momento de emissão de um novo pedido de compra.
- (B) É o encerramento do processo após recebimento do material, controle da qualidade e da quantidade.
- (C) É a capacidade de localizar itens de estoque que pode provocar a necessidade de compra ou produção do item.
- (D) É a determinação do que, de quanto e de quando comprar e quando receber.
- (E) É o recebimento dos documentos e a montagem do processo de compra.

40

NÃO constitui responsabilidade de um almoxarife

- (A) manter controles dos estoques, através de registros apropriados, anotando todas as entradas e saídas, visando a facilitar a reposição e a elaboração dos inventários.
- (B) separar materiais para devolução, encaminhando a documentação para os procedimentos necessários.
- (C) atender às solicitações dos usuários, fornecendo, em tempo hábil, os materiais e peças solicitadas.
- (D) controlar os níveis de estoques, realizando a compra dos materiais para reposição, conforme procedimentos estabelecidos pelos clientes.
- (E) elaborar inventário mensal, visando à comparação com os dados dos registros.

41

Os principais tópicos considerados na escolha dos fornecedores podem ser resumidos em

- (A) durabilidade dos produtos, benefícios com quantidades extras de materiais ofertadas pelo fornecedor, melhor desempenho na entrega e confiança no fornecedor.
- (B) agilidade, durabilidade do fornecedor, melhor desempenho do produto e rapidez na entrega.
- (C) preço baixo, rapidez na entrega, diferentes formas de pagamento e confiabilidade na entrega.
- (D) flexibilidade de pagamento, confiabilidade na entrega, rapidez no fornecimento e preço baixo.
- (E) confiabilidade na entrega, preço competitivo, flexibilidade do fornecedor e qualidade do material a ser entregue.

42

Quando o almoxarife recebe um pedido de um material que não se encontra no estoque, qual(is) o(s) procedimento(s) que ele deve adotar?

- (A) Informar ao cliente que o item não pode ser adquirido e mover ações para promover a reposição do estoque.
- (B) Emitir uma nova requisição de compras para o material solicitado.
- (C) Justificar, perante o cliente, que o item não está disponível e mandar retornar em outra ocasião.
- (D) Realizar de imediato a compra do item e se desculpar com o cliente.
- (E) Prever todos os itens que imagina possíveis de serem utilizados e prover o estoque.

43

A diferença entre pedido de compra e ordem de compra é que o

- (A) pedido de compra é um documento interno feito pelo almoxarife para o setor de compra da empresa, enquanto a ordem de compra é uma solicitação enviada para o fornecedor.
- (B) pedido de compra é um documento enviado para o almoxarife, enquanto a ordem de compra é uma solicitação para o setor de fornecimento da empresa.
- (C) pedido de compra é um documento a ser enviado para o fornecedor, enquanto a ordem de compra é uma solicitação interna para o setor de compras da empresa.
- (D) pedido de compra é uma solicitação interna da empresa para o almoxarife, enquanto a ordem de compra é um documento enviado para o fornecedor.
- (E) pedido de compra é uma solicitação a ser enviada para o fornecedor, enquanto a ordem de compra é um documento enviado ao almoxarife.

44

O inventário é uma preocupação pessoal e constante do almoxarife.

Qual a definição de inventário?

- (A) É a distribuição de materiais, pois é a partir dele que se geram os custos pertinentes ao setor solicitante.
- (B) É uma forma de identificar as quantidades de produtos ou materiais disponíveis nas dependências da empresa.
- (C) É o tempo que leva o fornecedor para fabricar os produtos, separá-los e deixá-los em condição de serem transportados.
- (D) É o tempo que leva o pedido de compra desde a emissão até a chegada ao fornecedor.
- (E) É o tempo que leva da saída do fornecedor até o recebimento pela empresa dos materiais encomendados.

45

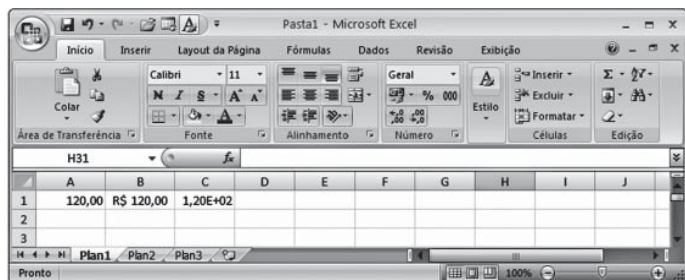
O computador no almoxarifado permite uma gestão mais abrangente em função de reduzir ao máximo o prazo de execução, exclusivamente, das operações de

- (A) armazenamento, tais como: registro de embalagem, inspeção manual, aspectos qualitativos, aspectos quantitativos, etc.
- (B) fornecimento, tais como: registro de compra, nota fiscal, inspeção visual, controle de recebimento, etc.
- (C) gestão, tais como: registro de estoque, reposição, acompanhamento, decisões, controle de resultados, etc.
- (D) controle, tais como: registro de fornecimento, regulamentação, devoluções, reclamação dos clientes, etc.
- (E) licitação, tais como: registro de relatório técnico, guia de fornecimento, controle de recebimento, etc.



46

Observe a figura de uma planilha do Microsoft Excel 2007 a seguir.



As células A1, B1 e C1, após terem seus conteúdos digitados no formato padrão Geral, foram formatadas, respectivamente, com as categorias de formatação

- (A) número, contábil e científico
- (B) número, texto e fração
- (C) moeda, número e fração
- (D) moeda, contábil e fração
- (E) texto, moeda e científico

47

Sobre tecnologias, ferramentas e aplicativos de internet, considere as afirmativas a seguir.

- I - A versão 2007 da suíte Microsoft Office pode ser instalada em computadores cujo sistema operacional é o Windows XP.
- II - Todas as edições (Starter, Home Basic, Home Premium, Professional, Enterprise e Ultimate) do Windows 7 reconhecem até 2 processadores físicos instalados no PC.
- III - Para executar o Windows 7 Professional, a Microsoft recomenda que o PC tenha um processador de 1GHz ou superior de 32 bits (x86) ou de 64 bits (x64).

É correto o que se afirma em

- (A) I, apenas.
- (B) II, apenas.
- (C) I e III, apenas.
- (D) II e III, apenas.
- (E) I, II e III.

48

Os extintores portáteis de incêndio são utilizados para o combate ao fogo no seu início.

Em fiação elétrica energizada, o extintor de incêndio que deve ser utilizado é de

- (A) água
- (B) limalha de ferro
- (C) espuma mecânica
- (D) dióxido de carbono
- (E) pó de grafite

49

As empresas privadas, públicas, sociedades de economia mista, dentre outras que admitam trabalhadores como empregados, devem constituir a Comissão Interna de Prevenção de Acidentes (CIPA). Essa comissão tem por objetivo elaborar medidas de segurança e saúde para a proteção dos trabalhadores. Ela é composta por representantes dos empregados e do empregador.

O presidente dessa comissão deverá ser

- (A) escolhido entre os representantes eleitos do empregador.
- (B) escolhido entre os representantes eleitos dos trabalhadores.
- (C) designado pelo empregador entre os seus representantes.
- (D) designado pelo empregador entre os empregados eleitos pelos trabalhadores.
- (E) o empregado que obteve o maior número de votos na eleição da CIPA.

50

Nas situações de trabalho em que ocorram risco à saúde do trabalhador ou que impliquem o desencadeamento ou o agravamento de doença ocupacional, é obrigatória, por parte do empregador, a realização de exames médicos.

O exame médico que deve ser realizado com intervalo mínimo de tempo é chamado de

- (A) periódico
- (B) eventual
- (C) alternativo
- (D) ocasional
- (E) permanente