

MINISTÉRIO DA JUSTIÇA – MJ
DEPARTAMENTO DE POLÍCIA FEDERAL – DPF
ACADEMIA NACIONAL DE POLÍCIA – ANP
DIVISÃO DE RECRUTAMENTO E SELEÇÃO – DRS

Processo de Seleção
Editais de n.ºs 5, 7 e 10/2000 – PPF



CARGO:
PAPILOSCOPISTA
POLICIAL FEDERAL

CADERNO DE PROVAS

LEIA COM ATENÇÃO AS INSTRUÇÕES NO VERSO.



MINISTÉRIO DA JUSTIÇA – MJ
DEPARTAMENTO DE POLÍCIA FEDERAL – DPF
ACADEMIA NACIONAL DE POLÍCIA – ANP
DIVISÃO DE RECRUTAMENTO E SELEÇÃO – DRS
Processo de Seleção – Editais de n.ºs 5, 7 e 10/2000 – PPF
CARGO: PAPIOSCOPISTA POLICIAL FEDERAL

INSTRUÇÕES

- 1 Este CADERNO consta de **cinquenta** questões objetivas, assim distribuídas: **cinco** questões de **Conhecimentos de Informática**; **onze** questões de **Noções de Administração, de Contabilidade e de Economia**; **doze** questões de **Noções de Direito**; **onze** questões de **Conhecimentos Gerais**; e **onze** questões de **Língua Portuguesa**. Nele, também consta a prova de **Redação em Língua Portuguesa**, acompanhada de **duas** folhas para rascunho (de uso opcional).
- 2 Caso este CADERNO esteja incompleto ou tenha qualquer defeito, o(a) candidato(a) deverá solicitar ao fiscal de sala mais próximo que o substitua.
- 3 Recomenda-se não marcar ao acaso: cada item cuja resposta divirja do gabarito oficial definitivo acarretará a perda de 0,20 ponto, conforme consta no Edital n.º 5/2000 – PPF, de 31/7/2000.
- 4 Não é permitida a consulta a livros, dicionários, apontamentos, apostilas, régua, calculadoras ou qualquer outro material.
- 5 Durante as provas, o(a) candidato(a) não deve levantar-se nem comunicar-se com outros(as) candidatos(as).
- 6 A duração das provas é de **cinco horas e trinta minutos**, já incluído o tempo destinado à identificação (que será feita no decorrer das provas e incluirá a coleta de impressão digital, conforme consta no Edital n.º 5/2000 – PPF, de 31/7/2000), ao preenchimento da Folha de Respostas e à transcrição do texto definitivo para o respectivo caderno.
- 7 A desobediência a qualquer uma das recomendações constantes nas presentes Instruções, nas Folhas de Rascunho e de Respostas ou no Caderno de Texto Definitivo poderá implicar a anulação das provas do(a) candidato(a).

AGENDA

- I **10/10/2000** – Divulgação do gabarito oficial preliminar das provas objetivas nos quadros de avisos do CESPE/UnB, em Brasília; nas Superintendências Regionais da Polícia Federal das cidades de aplicação das provas; na Academia Nacional de Polícia; e na Internet, no endereço eletrônico **www.cespe.unb.br**.
- II **11 e 13/10/2000** – Recebimento de recursos das provas objetivas exclusivamente nos locais que serão informados na divulgação do gabarito oficial preliminar das provas objetivas.
- III **27/10/2000** – Data provável da divulgação (após a apreciação de eventuais recursos), no Diário Oficial e nos locais mencionados no item I, dos resultados final das provas objetivas e provisório da prova discursiva.

Observações:

- C Não serão objeto de conhecimento recursos em desacordo com o estabelecido no título **11 DOS RECURSOS** do Edital n.º 5/2000 – PPF, de 31/7/2000.
- C Em nenhuma hipótese o CESPE e o DPF prestarão, por telefone, informações relativas à posição do(a) candidato(a) no processo seletivo.
- C É **proibida** a reprodução total ou parcial deste material, por qualquer meio ou processo, sem autorização expressa do CESPE/UnB.



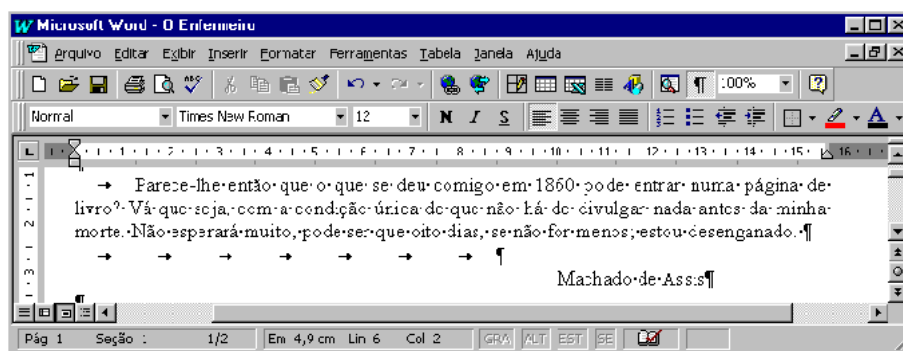
MINISTÉRIO DA JUSTIÇA – MJ
DEPARTAMENTO DE POLÍCIA FEDERAL – DPF
ACADEMIA NACIONAL DE POLÍCIA – ANP
DIVISÃO DE RECRUTAMENTO E SELEÇÃO – DRS
Processo de Seleção – Editais de n.ºs 5, 7 e 10/2000 – PPF
CARGO: PAPILOSCOPISTA POLICIAL FEDERAL

- Nas questões de 1 a 50, marque, de acordo com o comando de cada uma delas: itens **CERTOS** na coluna C; itens **ERRADOS** na coluna E.
- Use a Folha de Rascunho para as devidas marcações e, posteriormente, a **Folha de Respostas**.

CONHECIMENTOS DE INFORMÁTICA



Nas questões de 1 a 5, considere que todos os programas mencionados estão em configuração-padrão, em português, e que o *mouse* está configurado para pessoas destros. Assim, a menos que seja explicitamente informado o contrário, expressões como clicar, clique simples e clique duplo referem-se a cliques com o botão esquerdo do *mouse*. Considere também que não há restrições de proteção em relação aos programas, arquivos e diretórios utilizados.

Figura CI-I – Tela de trabalho do Word 97 – questões 1 e 2






QUESTÃO 1

Com relação à figura CI-I e ao Word 97, julgue os itens a seguir.

- ⊖ O fato de os símbolos “¶”, “!” e “*” estarem exibidos na tela de trabalho é consequência de um vírus muito conhecido, que ataca o programa Word 97, causando-lhe uma anomalia que o faz exibir indevidamente esses caracteres dentro do corpo do texto.
- ⊖ O ato de selecionar a palavra “comigo”, que aparece na primeira linha do texto mostrado na tela, e clicar em  fará que essa palavra seja removida do documento e colocada na área de transferência.
- ⊖ No Word 97, as páginas de um documento podem ser configuradas como retrato ou paisagem. Na primeira, a largura da página é maior que a sua altura; na segunda, a altura é maior que a largura.
- ⊖ O ato de clicar em  fará que apareça na tela a caixa de diálogo Imprimir, que permite definir as páginas do documento a serem impressas, enquanto o ato de clicar no menu Arquivo e, em seguida, em Imprimir... fará que todo o documento seja impresso sem que se possa definir quais páginas devem ser impressas.
- ⊖ A seguinte seqüência de ações irá posicionar o ponto de inserção imediatamente à esquerda da palavra “numa”, localizada na primeira linha do texto mostrado na tela: clicar imediatamente à esquerda da palavra “pode”; pressionar a tecla ¶ e, mantendo-a pressionada, acionar duas vezes a tecla ¶ .

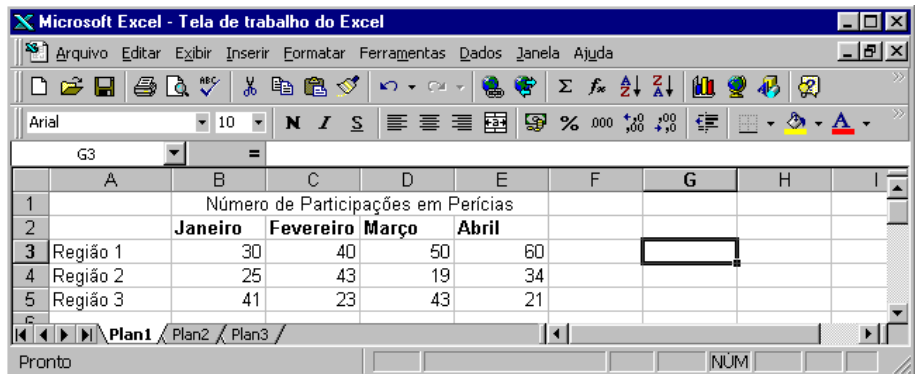
QUESTÃO 2

Ainda quanto à figura CI-I, ao Word 97 e ao Excel 97, julgue os itens seguintes.



- ⊖ Um clique em  próximo do canto inferior direito da tela de trabalho, fará que o ponto de inserção seja deslocado uma página para baixo, e um clique em  também próximo do canto inferior direito, fará que o ponto de inserção seja deslocado para o final do arquivo.
- ⊖ Quando se clica no menu Arquivo, aparece uma lista de opções. Nessa lista de opções, aparece uma lista com os nomes dos arquivos mais frequentemente utilizados em um determinado período, que pode ser configurado pelo usuário. Um clique no nome de um desses arquivos irá abri-lo.
- ⊖ O menu Inserir contém a opção Data e hora..., que pode ser usada em uma seqüência de ações para inserir data e horário a partir do ponto de inserção.
- ⊖ Para mover a palavra “entrar” para a posição imediatamente à direita da palavra “Assis”, na última linha, é correto executar o seguinte procedimento: selecionar a palavra a ser movida; posicionar o ponteiro do *mouse* sobre a palavra selecionada de forma que o *mouse* detecte a seleção; pressionar o botão esquerdo do *mouse* e, mantendo-o pressionado, arrastar o *mouse*, de forma que o seu ponteiro se posicione no local em que se deseja inserir a palavra; liberar o botão esquerdo do *mouse*.
- ⊖ Para passar da tela de trabalho mostrada na figura CI-I para uma tela de trabalho do Excel 97 já aberta, é suficiente clicar em . O mesmo efeito poderia ser obtido pressionando-se simultaneamente as teclas ¶ e | .

QUESTÃO 3

Um papiloscopista resolveu fazer um levantamento do número de perícias de que ele participou nos primeiros 4 meses de 1999, em três regiões da cidade onde trabalha. Para tanto, ele consultou seus arquivos e preparou uma versão preliminar desse levantamento em uma planilha do Excel 97, que é mostrada na figura ao lado. Com respeito à figura e ao Excel 97, julgue os itens abaixo.



| | A | B | C | D | E | F | G | H | I |
|---|----------|-------------------------------------|-----------|-------|-------|---|---|---|---|
| 1 | | Número de Participações em Perícias | | | | | | | |
| 2 | | Janeiro | Fevereiro | Março | Abril | | | | |
| 3 | Região 1 | 30 | 40 | 50 | 60 | | | | |
| 4 | Região 2 | 25 | 43 | 19 | 34 | | | | |
| 5 | Região 3 | 41 | 23 | 43 | 21 | | | | |






- Ⓐ Para centralizar o conteúdo de todas as células da coluna A, seria correto o papiloscopista executar o seguinte procedimento: clicar em qualquer das células contidas nessa coluna e, em seguida, clicar em .
- Ⓑ O ato de o papiloscopista clicar em **4** – cabeçalho da linha 4 da planilha – fará que essa linha inteira seja selecionada.
- Ⓒ Para determinar a soma do número de participações em perícias na região 1 acrescida da soma do número de participações em perícias na região 3, nos 4 meses mostrados, e colocar o resultado na célula G4, seria correto o papiloscopista executar o seguinte procedimento: clicar na célula G4, digitar =soma(B3:E3;B5:E5) e teclar <.
- Ⓓ Se a célula B2 estiver formatada como negrito, o seguinte procedimento do papiloscopista irá formatar o conteúdo da célula A3 também como negrito: clicar na célula B2; clicar em , e, em seguida, clicar na célula A3.
- Ⓔ No Excel 97, ao se criar uma fórmula, as referências a células ou intervalos geralmente baseiam-se em sua posição relativa à célula que contém a fórmula. Nesse software, além de poder ser usado como caracter de texto, o símbolo \$ é usado em fórmulas para indicar referência relativa. Quando esse símbolo não é utilizado, a referência na fórmula é absoluta.

QUESTÃO 4

Um papiloscopista policial federal, na tentativa de obter informações atualizadas acerca de sua profissão, acessa constantemente a *World Wide Web* (WWW) por meio do navegador Internet Explorer 5, cuja tela de trabalho está ilustrada na figura ao lado. O sucesso das pesquisas do papiloscopista depende da sua familiaridade com o software de navegação, de forma a poder otimizar suas buscas e encontrar os serviços desejados, além de outros detalhes, tais como a definição de níveis de segurança do seu software e do seu computador e, de forma geral, a personalização do software de acordo com suas preferências.

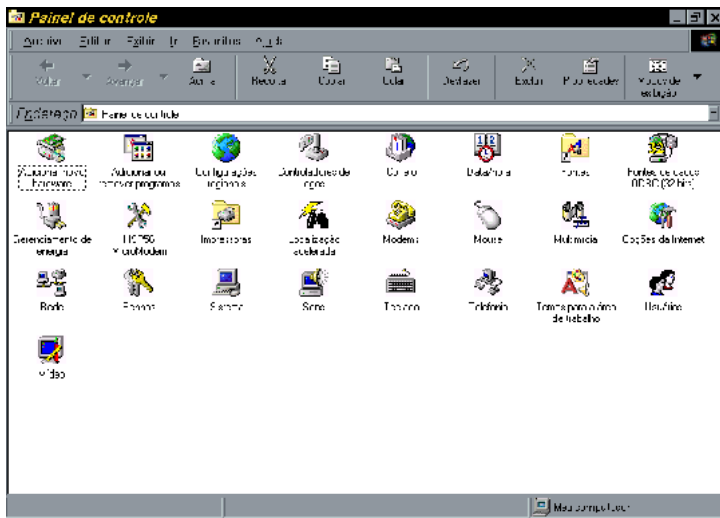
Acerca das funcionalidades do Internet Explorer 5 e da figura ao lado, julgue os itens que se seguem.








- Ⓐ Além dos recursos de navegação na WWW, o Internet Explorer 5 permite que o usuário crie, altere ou edite uma página no formato html (*hypertext markup language*). Dessa forma, para poder editar uma página da WWW que esteja sendo visualizada, como no caso da figura acima, o usuário deverá acessar o *menu* Arquivo e, em seguida, clicar em Editar Página da Web.
- Ⓑ O Internet Explorer 5 permite que o usuário possa salvar no disco rígido de seu computador o conteúdo de uma página da WWW. De fato, mesmo que uma página da WWW possua arquivos de som e vídeo, a opção Salvar como..., no *menu* Arquivo, permite que todo o conteúdo dessa página, inclusive os arquivos de som e vídeo, seja armazenado no disco rígido, onde o usuário desejar. Porém, para executar os arquivos de som e vídeo obtidos no processo de *download*, o usuário deverá possuir softwares específicos, instalados no seu computador.
- Ⓒ Após algum tempo *navegando* pela WWW, o usuário poderá acessar novamente páginas já visitadas, utilizando apropriadamente os botões ,  e . Para esse fim, o usuário poderá utilizar também o *menu* de endereços, no qual o Internet Explorer 5 constrói uma lista dos *sites* visitados regularmente, ou, ainda, acionando a opção Ir para, do *menu* Exibir.
- Ⓓ O Internet Explorer 5 possui um assistente de pesquisa que permite localizar *sites*, empresas, endereços de correio eletrônico e outras informações. O botão  possibilita o acesso a esse assistente de pesquisa, além de permitir personalizar as configurações do assistente, tais como adicionar e excluir modos e *sites* de busca.
- Ⓔ Um dos recursos importantes do Internet Explorer 5 é o painel de favoritos, que pode ser acessado pelo botão , em que o usuário pode guardar listas de endereços de Internet. Porém, no Internet Explorer 5, não é possível mover ou renomear pastas previamente criadas, o que dificulta a organização do painel de favoritos.

QUESTÃO 5

O Painel de controle do Windows 98, ilustrado na figura abaixo, é extremamente útil em muitas tarefas do dia-a-dia de um usuário de computadores. Enquanto muitos dos ajustes disponíveis a partir desse painel só devem ser efetuados por usuários experientes, pois afetam a configuração básica do computador, outros podem ser feitos por um usuário iniciante, pois desses ajustes depende o uso básico da máquina.



Acerca do Windows 98, do Painel de controle do Windows 98 e da figura acima, julgue os itens que se seguem.

- Ⓐ Uma das inovações do Windows 98, em comparação com versões anteriores, é o fato de ele não poder ser inicializado pelo DOS, ou seja, ao acionar a opção Desligar, obtida a partir do botão , da Barra de ferramentas, o usuário não encontra a opção Reiniciar o computador em modo MS-DOS.
- Ⓑ O ícone  permite adicionar programas à máquina do usuário. No Windows 98, existe um recurso denominado Proteção do Sistema, que pode ser ativado pelo usuário toda vez que um programa é instalado, e cujo objetivo é impedir que arquivos importantes do sistema sejam substituídos por versões inadequadas durante a instalação de aplicativos.
- Ⓒ Utilizando-se o ícone , pode-se acionar o assistente do Windows 98, que permite a instalação do *software* necessário para o funcionamento de algum novo dispositivo de *hardware* instalado no computador.
- Ⓓ O ícone  possibilita ao usuário o acesso à janela Opções da Internet, do Internet Explorer 5, permitindo-lhe alterar configurações padronizadas do Internet Explorer 5.
- Ⓔ A partir do ícone , o Windows permite que o computador seja configurado para ser usado por mais de um usuário. A partir desse assistente do Windows, uma senha de acesso ao computador pode ser atribuída a cada usuário, que também poderá definir as configurações da sua própria área de trabalho.

NOÇÕES DE ADMINISTRAÇÃO, DE CONTABILIDADE E DE ECONOMIA

QUESTÃO 6

As características do ambiente da gestão governamental contemporânea incluem

- Ⓐ excesso de demandas, cada vez mais específicas e organizadas.
- Ⓑ unidade de perspectivas, visões e pensamentos nas equipes de trabalho.
- Ⓒ pluralidade de interesses, muitos dos quais divergentes.
- Ⓓ métodos paradoxais e soluções ambíguas para abordar determinados problemas.
- Ⓔ estabilidade quanto aos fatores econômicos e políticos em nível global.

QUESTÃO 7

Acerca das estruturas organizacionais, julgue os seguintes itens.

- Ⓐ A definição das competências das unidades organizacionais é, normalmente, objeto do regimento interno.
- Ⓑ Estruturas em rede são mais permeáveis à comunicação e à recepção de realimentações (*feedbacks*).
- Ⓒ A concepção do melhor desenho organizacional deve levar em conta o grau de complexidade do contexto.
- Ⓓ A eventual existência de um padrão único de organização governamental vai ao encontro do princípio da **variedade de requisito**.
- Ⓔ Estruturas matriciais são disfuncionais porque geram conflitos de competências.

QUESTÃO 8

A respeito da gestão do conhecimento, julgue os itens a seguir.

- Ⓐ A inovação aplica-se a produtos, processos e gestão.
- Ⓑ A conversão de conhecimento tácito em conhecimento explícito passa predominantemente pela educação formal.
- Ⓒ A valorização do capital intelectual está exclusivamente relacionada com o valor econômico de marcas e patentes.
- Ⓓ Organizações intensivas de tecnologia tornam-se competitivas graças à geração de conhecimento.
- Ⓔ Informação e conhecimento são conceitos análogos.

Quadro NC-I – questões 9 e 10

| Balço patrimonial em 31/12/99 (em R\$ mil) da Companhia Comercial de Alimentos S.A. (CCA) | | | |
|---|---------------|-------------------------------|---------------|
| Ativo | | Passivo | |
| Disponibilidades | 2.600 | Circulante | 13.100 |
| Caixa | (150) | Fornecedores | 5.000 |
| Bancos conta movimento | 250 | Empréstimos bancários | 3.600 |
| Aplicações com liquidez | 2.500 | Tributos | 2.500 |
| Circulante | 21.350 | Salários e encargos | 2.000 |
| Contas a receber | 5.000 | Exigível a longo prazo | 8.200 |
| Estoques | 13.500 | Empréstimos bancários | 8.200 |
| Despesas do período seguinte | 250 | Patrimônio líquido | 10.050 |
| Capital a integralizar | 2.600 | Capital social | 5.000 |
| Permanente | 7.400 | Reservas de capital | 2.000 |
| Investimentos | 1.200 | Reservas de lucros | 2.500 |
| Imobilizado | 6.000 | Lucros acumulados | 550 |
| Diferido | 200 | | |
| Total | 31.350 | Total | 31.350 |

QUESTÃO 9

Com base no balanço patrimonial apresentado no quadro NC-I, julgue os itens que se seguem.

- ⌚ A existência de um valor de caixa negativo é uma situação normal, já que é comum, nas empresas em geral, a conta caixa apresentar saldo **virado**.
- ⌚ A CCA deverá registrar despesas financeiras nas suas contas de resultado para o ano de 2000.
- ⌚ O saldo, em 31 de dezembro de 1999, de contas a receber pela CCA corresponde ao montante de vendas recebido no mês de dezembro desse ano.
- ⌚ Considerando que a empresa possui um ciclo operacional normal, é correto concluir que a CCA pode ter dívida com vencimento após 31 de dezembro de 2000.
- ⌚ É possível existir no ativo imobilizado um saldo residual de terreno igual a zero, ou seja, totalmente depreciado.

QUESTÃO 10

Acerca do quadro NC-I, julgue os itens abaixo.

- ⌚ De acordo com a Lei n.º 6.404/76, na rubrica imobilizado devem estar registrados os direitos que tenham por objeto bens destinados à manutenção das atividades da companhia, ou exercidos com essa finalidade, inclusive os de propriedade industrial ou comercial.
- ⌚ A avaliação dos investimentos registrados no balanço patrimonial mostrado, elaborado segundo a Lei n.º 6.404/76, seria certamente superior a R\$ 1,2 milhão, caso fosse feita pelo método de equivalência patrimonial, em vez de pelo método de custo adotado, por não se tratar de investimento relevante ou influente.
- ⌚ Devem estar registradas na rubrica diferido, segundo a Lei n.º 6.404/76, as aplicações de recursos em despesas que contribuirão para a formação do resultado de mais de um exercício social, inclusive os juros pagos ou creditados aos acionistas durante o período que anteceder o início das operações sociais.
- ⌚ Dos R\$ 5 milhões do capital social inteiramente subscrito, a empresa possui R\$ 2,6 milhões registrados como capital social a integralizar no ativo circulante, apresentação feita em consonância com o que dispõe a Lei n.º 6.404/76.
- ⌚ A empresa possui R\$ 2,5 milhões de reservas de lucros, que devem ser destinados integralmente para pagamento de dividendos, conforme dispõe a Lei n.º 6.404/76.

Quadro NC-II – questões 11 e 12

| Demonstração do resultado do exercício social da Companhia Comercial de Alimentos S.A. (CCA) encerrado em 31/12/99 (em R\$ mil) | |
|---|----------|
| Receita bruta de vendas | 60.000 |
| Impostos | (10.200) |
| Receita líquida | 49.800 |
| CMV (custo das mercadorias vendidas) | (35.000) |
| Lucro bruto | 14.800 |
| Despesas comerciais | (8.000) |
| Despesas gerais e administrativas | (3.500) |
| Despesas financeiras | (1.000) |
| Depreciação e amortização | (600) |
| Outras despesas | (500) |
| Lucro operacional | 1.200 |
| Resultado não-operacional | (100) |
| Lucro antes do IR (imposto de renda) e das CSLL | 1.100 |
| IR e CSLL (Contribuição social sobre lucro líquido) | (374) |
| Lucro líquido | 726 |

QUESTÃO 11

Tendo em vista as informações apresentadas no quadro NC-II, julgue os itens seguintes.

- ⌚ As receitas devem ter sido registradas de acordo com o regime de caixa, conforme estabelece a Lei n.º 6.404/76.
- ⌚ As despesas de depreciação e amortização não afetam diretamente o caixa da empresa, apesar de reduzirem o seu lucro.
- ⌚ As despesas de comissões de vendedores devem estar registradas como despesas gerais e administrativas.
- ⌚ O resultado não-operacional pode compreender prejuízo na venda de bens do ativo imobilizado.
- ⌚ Os impostos prediais e territoriais urbanos incidentes sobre o valor da sede social da empresa devem ser considerados como despesas gerais e administrativas ou como despesas comerciais, e não como impostos em dedução da receita bruta, antes da receita líquida.

QUESTÃO 12

Com relação ao quadro NC-II, julgue os itens a seguir.

- ⌚ Caso a CCA não tivesse registrado despesas financeiras no exercício social apresentado, o lucro líquido teria ficado entre R\$ 1.300.000 e R\$ 1.400.000, considerando os efeitos do imposto de renda e da contribuição social sobre o lucro, à alíquota geral de 34% sobre o lucro antes dos impostos.
- ⌚ Caso a CCA, no exercício social encerrado em 31/12/99, tivesse registrado as despesas financeiras mostradas no quadro NC-II, além de despesas não-dedutíveis para fins de imposto de renda e contribuição social sobre o lucro, em condições permanentes, de R\$ 100.000, então o seu lucro líquido teria sido superior a R\$ 690.000 e inferior a R\$ 700.000.
- ⌚ O lucro líquido acrescido das despesas não-monetárias operacionais explicitadas na demonstração totalizaram R\$ 1.326.000 no exercício social apresentado.
- ⌚ Segundo a Lei n.º 6.404/76, a despesa de provisão para devedores duvidosos estaria corretamente registrada como resultado não-operacional.
- ⌚ No CMV, deve estar registrado o ICMS incluído nas notas de compras de mercadorias para revenda, no caso de a CCA ser uma empresa atacadista.

QUESTÃO 13

O uso sistemático de impressões digitais para identificar indivíduos tem pouco mais de 100 anos. No final do século XIX, existia um método de identificação concebido pelo Dr. Bertillon, que consistia na medição de 11 parâmetros de um determinado indivíduo, sendo que a chance de dois indivíduos possuírem essas mesmas medidas era de 1 em 300 milhões. Em 1892, Sir Francis Galton, um antropólogo britânico, em sua obra intitulada **Fingerprints**, estabeleceu a individualidade e a perenidade das impressões digitais, e mostrou cientificamente que a chance de dois indivíduos possuírem as mesmas impressões digitais era de 1 em 60 bilhões. Atualmente, muito se fala no exame de DNA, mais precisamente, na comparação de amostras de DNA como método extremamente preciso de identificação de um indivíduo.

Com base nessas informações e supondo que no Brasil uma coleta de impressão digital custa R\$ 0,25, enquanto um exame de DNA custa R\$ 2.000,00, julgue os seguintes itens.

- Ⓐ De acordo com o estabelecido por Francis Galton, a chance de dois indivíduos possuírem as mesmas impressões digitais é igual a 0,5% da chance de dois indivíduos possuírem as mesmas medições feitas no método do Dr. Bertillon.
- Ⓑ No Brasil, o custo de uma coleta de impressão digital é inferior a 0,01% do custo de um exame de DNA.
- Ⓒ Se, em uma região do Brasil, para cada 5.000 coletas de impressão digital feitas anualmente, é realizado 1 exame de DNA, e se, nessa mesma região, em um ano, tiverem sido gastos R\$ 60.000,00 com exames de DNA, é correto concluir que, naquele ano, terão sido gastos mais de R\$ 35.000,00 com a coleta de impressões digitais.
- Ⓓ Considere que, para proceder à coleta de impressões digitais de uma população de 300 mil garimpeiros, sejam contratados os serviços de uma empresa que executará essa tarefa ao preço de R\$ 0,25 por coleta e a uma taxa de 100 mil coletas por mês. Se o pagamento a essa empresa deve ser feito ao término do terceiro mês, quando terão sido feitas todas as coletas, e ao valor correspondente ao pagamento das coletas efetuadas a cada mês deve ser aplicada uma taxa mensal de juros compostos de 1%, computados sobre os dois primeiros meses, é correto afirmar que o total a ser pago à empresa será superior a R\$ 77 mil.
- Ⓔ Suponha que, em um laboratório norte-americano, o custo de um exame de DNA é de 1.200 dólares, sendo que, por questões de segurança, os exames devem ser solicitados um de cada vez, e que, para cada novo exame solicitado por uma mesma instituição, é dado um desconto correspondente a 10% do preço do exame anterior. Considerando o dólar cotado a R\$ 1,80 e desprezando despesas de remessa e devolução dos materiais a serem examinados, é correto concluir que seriam necessários pelo menos cinco exames para que fosse financeiramente mais vantajoso para uma instituição utilizar os serviços do laboratório norte-americano em vez de pagar o preço de R\$ 2.000,00 por exame, no Brasil.

RASCUNHO**QUESTÃO 14**

Na fase atual de globalização do espaço econômico e de surgimento de blocos econômicos, o entendimento das instituições que regem as relações econômicas entre países é crucial para uma inserção adequada no cenário mundial. Nesse contexto, julgue os itens a seguir.

- Ⓐ O Banco Internacional para a Reconstrução e o Desenvolvimento Econômico (BIRD) tem por objetivo conceder empréstimos de longo prazo destinados ao financiamento do crescimento econômico dos países-membros menos desenvolvidos.
- Ⓑ O MERCOSUL constitui um exemplo de união aduaneira porque permite a livre circulação de bens, serviços e fatores, fixa uma tarifa externa comum e inclui, também, a harmonização das políticas econômicas, monetárias, fiscais e sociais dos seus países-membros.
- Ⓒ A formação de blocos econômicos vincula-se à necessidade de ampliar mercados e criar economias de escala, tornando os países-membros mais competitivos nos mercados internacionais.
- Ⓓ A participação do México no *North American Free Trade Agreement* (NAFTA) trará prejuízos aos trabalhadores americanos porque a concorrência da mão-de-obra barata mexicana contribuirá para reduzir os níveis de bem-estar da economia norte-americana.
- Ⓔ De acordo com os princípios que nortearam sua criação, o Fundo Monetário Internacional (FMI) deveria servir como um substituto parcial para o sistema do padrão ouro, contribuindo para estabilizar as taxas de câmbio.

QUESTÃO 15

A análise microeconômica estuda o comportamento individual dos agentes econômicos e, por essa razão, constitui um sólido fundamento à análise dos agregados econômicos. A esse respeito, julgue os itens seguintes.

- Ⓐ Para dois bens quaisquer, quando a curva de renda-consumo é positivamente inclinada em toda sua extensão, é correto afirmar que esses produtos são bens normais.
- Ⓑ No Brasil, o crescimento da violência aumentou a procura por sistemas de vigilância eletrônica, provocando um deslocamento ao longo da curva de demanda por esses produtos.
- Ⓒ O progresso tecnológico verificado na área da microeletrônica reduziu os preços dos computadores, deslocando a curva de oferta desses produtos para baixo e para a direita.
- Ⓓ A dificuldade em impedir altas dos preços dos medicamentos, que constitui o cerne do embate recente entre o governo e os laboratórios farmacêuticos, explica-se, parcialmente, pelas baixas elasticidades preço da demanda que caracterizam esses produtos.
- Ⓔ Os riscos, em termos de saúde, ocasionados pela febre aftosa em parte do rebanho brasileiro, além de desencorajarem o consumo de carne bovina, contribuem, também, para reduzir a demanda por outras fontes de proteínas, como frango e peixe.

QUESTÃO 16

Temas como a mensuração da produção agregada, o desenho de políticas macroeconômicas, a análise dos desequilíbrios externos e o desenvolvimento econômico podem ser mais bem compreendidos com a ajuda da moderna teoria econômica. Utilizando os conceitos essenciais dessa teoria, julgue os itens abaixo.

- Ⓐ Quando um investidor brasileiro compra um lote de ações de empresa estrangeira no mercado acionário norte-americano, em termos das contas nacionais, isso representa um aumento do investimento nacional.
- Ⓑ O impacto de políticas macroeconômicas de estabilização depende das expectativas dos agentes econômicos em relação às ações governamentais porque, a curto prazo, a curva de oferta agregada da economia baseia-se nas expectativas de preços.
- Ⓒ Em regime de taxas de câmbio flutuantes, uma expansão da demanda por dólares norte-americanos no Brasil aumentará a oferta de reais, provocando, assim, uma apreciação da moeda nacional.
- Ⓓ Entre 1968 e 1973, o Brasil cresceu rapidamente e sem pressões inflacionárias, impulsionado por programas de investimentos públicos e pela expansão econômica mundial. Por essa razão, esse período é conhecido como o período do “milagre brasileiro”.
- Ⓔ Um excesso de demanda por um determinado bem, ao preço internacional, indica que o país possui vantagens comparativas na produção dessa mercadoria.

NOÇÕES DE DIREITO**QUESTÃO 17**

Acerca do direito constitucional, julgue os itens que se seguem.

- Ⓐ Considerando que a Constituição da República Federativa do Brasil, promulgada em 5 de outubro de 1988, já sofreu mais de trinta emendas constitucionais em apenas pouco mais de doze anos de vigência, é juridicamente correto afirmar que a Constituição brasileira é semi-rígida.
- Ⓑ O conceito sociológico de Constituição considera-a como a norma fundamental de um Estado, destinada a regular a produção de outras normas jurídicas, que regerão a sociedade.
- Ⓒ A circunstância de uma determinada mudança formal do texto constitucional ter maior ou menor amplitude, vale dizer, de atingir maior ou menor quantidade de artigos constitucionais, é juridicamente irrelevante para caracterizá-la como reforma ou revisão constitucional.
- Ⓓ Juridicamente, a doutrina admite de maneira pacífica a possibilidade de o legislador constituinte derivado alterar os requisitos para a mudança da Constituição, com o fito de simplificá-los, seja quanto às limitações temporais, seja quanto às circunstanciais, seja quanto às materiais.
- Ⓔ O controle de constitucionalidade é um dos principais mecanismos jurídicos de defesa das constituições; no entanto, a doutrina considera que ele não tem cabimento nos países cuja Constituição seja flexível.

QUESTÃO 18

Acerca do controle de constitucionalidade e dos direitos e garantias fundamentais, julgue os seguintes itens.

- Ⓐ No Brasil, embora o controle de constitucionalidade seja eminentemente judicial, o Poder Executivo tem a possibilidade de interferir no processo legislativo, até de modo preventivo, isto é, impedindo que normas inconstitucionais sejam postas em vigor.
- Ⓑ Quando a inconstitucionalidade de uma norma é argüida por meio de ação, qualquer órgão judicial pode examiná-la, até nas ações ajuizadas perante órgãos jurisdicionais de primeiro grau, desde que obedecido o devido processo legal.
- Ⓒ No sistema brasileiro de controle de constitucionalidade, o Supremo Tribunal Federal, mesmo julgando que uma norma infraconstitucional é inconstitucional, pode, em certos casos, preservar alguns efeitos dela, dando caráter não-retroativo, ou seja, *ex nunc*, à sua decisão.
- Ⓓ Os direitos e garantias fundamentais, devido à importância que têm para a realização dos valores jurídicos mais relevantes em uma dada sociedade e em um determinado momento histórico, possuem caráter absoluto, de modo que não admitem limitação de nenhuma espécie na legislação infraconstitucional nem, muito menos, por parte dos órgãos administrativos.
- Ⓔ Os direitos fundamentais, em sua concepção moderna, têm como uma de suas características não se destinarem apenas à limitação da ação estatal, pois também exigem prestações positivas do poder público.

QUESTÃO 19

Em relação ao direito constitucional, julgue os itens a seguir.

- Ⓐ Na proteção à liberdade, a Constituição da República estatui expressamente o princípio do devido processo legal como garantia do cidadão; uma das conseqüências desse princípio é o duplo grau de jurisdição, que, não obstante, admite a existência de instâncias únicas de julgamento e decisões judiciais irrecorríveis.
- Ⓑ Indivíduos nascidos no exterior poderão, em certos casos, exercer vários dos direitos atribuídos aos brasileiros; não poderão, no entanto, ser considerados brasileiros natos.
- Ⓒ Se um cidadão for interdito por juiz competente, não poderá ser eleito, mas manterá o direito de votar.
- Ⓓ Se um indivíduo sofrer constrangimento ilegal à sua liberdade de locomoção no curso de um inquérito policial ou de uma ação penal, poderá valer-se da ação de *habeas corpus* para pôr fim à lesão a seu direito, desde que constitua, por meio de procuração por instrumento público ou particular, advogado regularmente inscrito na Ordem dos Advogados do Brasil.
- Ⓔ A Constituição da República atribui à Polícia Federal a função de polícia judiciária da União, razão pela qual a Polícia Rodoviária Federal não pode investigar crimes em detrimento do patrimônio, do serviço ou dos bens da União, ainda que perpetrados nas rodovias federais.

QUESTÃO 20

Quando chegava em sua residência no Lago Sul, em Brasília – DF, HH teve o seu veículo interceptado por dois indivíduos armados (AA e BB), que lhe ordenaram que se dirigisse até o município de Formosa – GO, onde ficou retido em um casebre na periferia. No dia seguinte, AA entrou em contato com a família de HH e exigiu a importância de R\$ 500.000,00 para colocá-lo em liberdade. Nesse ínterim, em razão de discriminação religiosa, BB infligiu a HH intenso sofrimento físico, colocando-o em um pau-de-arara e aplicando-lhe choques elétricos em várias regiões do corpo. A família de HH resolveu pagar o resgate a AA, que recebeu o dinheiro na cidade-satélite de Planaltina – DF, local onde prestou, por telefone, à autoridade policial informações necessárias para a libertação do seqüestrado e a prisão de BB. A polícia judiciária, informada do local do cativo, libertou HH e prendeu BB, conduzindo-o até a cidade de Alto Paraíso – GO, onde foi lavrado o auto de prisão em flagrante. AA, que conseguiu fugir, visando dissimular a natureza e a origem do dinheiro recebido com o resgate, abriu uma empresa de transporte de cargas e adquiriu vários imóveis na cidade de Goiânia – GO.

Diante dessa situação hipotética, julgue os itens seguintes.

- Ⓐ Por ser a extorsão mediante seqüestro tipificada como crime contra o patrimônio, a sua consumação ocorreu no lugar onde foi pago o resgate, ou seja, em Planaltina – DF. Então, para a consumação desse tipo de crime, é imprescindível que o agente consiga a vantagem econômica desejada.
- Ⓑ BB responderia pelo crime de tortura, com o aumento da pena em razão de ter sido cometido mediante seqüestro.
- Ⓒ AA responderia pela extorsão mediante seqüestro em concurso com o crime de *lavagem de dinheiro*.
- Ⓓ AA teria a pena do crime de extorsão mediante seqüestro diminuída, em face da delação.
- Ⓔ O flagrante de BB é nulo, ante a incompetência, em razão do local, da autoridade policial que lavrou o auto.

QUESTÃO 21

Julgue os itens a seguir.

- Ⓐ Considerando que, no âmbito penal, a Constituição da República abarcou o princípio da legalidade – “não há crime sem lei anterior que o defina, nem pena sem prévia cominação legal” e que a Lei das Contravenções Penais foi elaborada sob a forma de decreto-lei, então é correto afirmar que esta lei encontra-se revogada por força do princípio constitucional da reserva legal.
- Ⓑ Se o agente praticar um ato tipificado como crime na vigência da lei X, e, no transcorrer da ação penal, surgir uma lei Y, mais gravosa que a lei X, o caso deverá ainda ser apreciado e julgado sob a eficácia da lei mais antiga.
- Ⓒ Ao crime cometido em águas territoriais do Brasil, a bordo de navio mercante de outra nacionalidade, que perturbe a tranquilidade da nação, aplica-se a lei penal brasileira.
- Ⓓ Considerando que uma autoridade policial tenha representado acerca da prisão preventiva de um indivíduo que praticou os crimes de estupro e latrocínio, mas encontrava-se foragido na fase pré-processual, o magistrado deve indeferir o pleito, já que a medida pretendida pela autoridade policial somente é possível na fase da instrução criminal.
- Ⓔ Considere a seguinte situação hipotética.

Para não lavrar auto de infração, um fiscal de uma prefeitura exigiu de um comerciante a importância de R\$ 10.000,00. Dois dias após o evento, a autoridade policial tomou conhecimento do fato e pediu que o comerciante entrasse em contato com o fiscal e marcasse a entrega da importância. Munidos de aparelhos portáteis de comunicação, o delegado e um agente prenderam o fiscal no momento em que este recebia a importância exigida dias antes.

Nesse caso, a prisão do fiscal caracterizaria flagrante próprio.

QUESTÃO 22

RM, menor de 21 anos de idade, arrombou a janela de um estabelecimento comercial e adentrou no seu interior. Abriu o caixa e retirou dele uma expressiva quantia em dinheiro, quando foi surpreendido com o acionamento de um dispositivo antifurto (alarme sonoro). Nesse momento, RM chegou a colocar o dinheiro em uma sacola, mas, com a chegada de pedestres, saiu correndo, deixando o dinheiro cair no chão. A perícia técnica realizou exame do local e colheu vários rastros papilares deixados na janela e no caixa. Após a comparação de datilogramas, o perito oficial que elaborou o laudo concluiu que as impressões digitais encontradas pertenciam a RM. Ao tomar ciência da conclusão do laudo, a autoridade policial presidiu uma busca e apreensão na residência de RM, nada sendo encontrado. Posteriormente, RM foi indiciado e interrogado, ocasião em que o delegado exigiu a sua identificação datiloscópica, apesar da apresentação da cédula de identidade. Diante da recusa de RM a submeter-se à identificação datiloscópica, a autoridade policial o autuou em flagrante por desobediência.

Com relação à situação hipotética apresentada e à legislação pertinente, julgue os itens abaixo.

- Ⓐ Nesse caso, estaria configurado, em tese, furto tentado mediante rompimento de obstáculo, apesar da existência do dispositivo antifurto.
- Ⓑ Segundo a orientação jurisprudencial, o reconhecimento da qualificadora do rompimento de obstáculo depende de regular exame pericial.
- Ⓒ De acordo com a norma processual penal, a perícia datiloscópica realizada pelo perito oficial seria válida.
- Ⓓ Somente a autoridade judiciária poderia ter determinado a busca domiciliar.
- Ⓔ A recusa de RM a submeter-se à identificação datiloscópica não configuraria crime de desobediência, pelo fato de a ordem da autoridade policial não ser legal.

QUESTÃO 23

Ao passar nas adjacências de uma boate, João, agindo com vontade de matar, derramou gasolina e ateou fogo nas vestes de um rapaz que dormia alcoolizado na sarjeta e que, em decorrência das queimaduras sofridas, veio a falecer, ficando com o rosto completamente desfigurado. João foi preso em flagrante, tendo a autoridade policial lavrado o auto e comunicado tal fato ao juiz dois dias após. A vítima não portava documento de identidade e não foi reconhecida por parentes ou amigos, o que levou a autoridade policial a solicitar a perícia do Instituto de Criminalística para tentar identificá-la. Para acompanhar a perícia, o advogado de João indicou dois assistentes técnicos. Ao ser apresentado o laudo datiloscópico, a autoridade policial constatou que havia divergência entre os pareceres e as conclusões dos peritos oficiais que o subscreveram. Ficou comprovado, posteriormente, que o parecer de um dos peritos oficiais estava eivado de falsidade, tendo este deliberadamente afirmado inverdades acerca de dados objetivos colhidos, com a intenção de favorecer o indiciado. Antes da conclusão do inquérito, o perito cujo parecer estava eivado de falsidade retratou-se e declarou a verdade.

Com relação a essa situação hipotética e à legislação pertinente, julgue os itens que se seguem.

- Ⓐ João praticou um homicídio duplamente qualificado – com o emprego de fogo e mediante recurso que dificultou ou tornou impossível a defesa do ofendido –, caracterizando-se um crime hediondo.
- Ⓑ Para a realização da perícia datiloscópica, a autoridade policial poderia receber a indicação dos assistentes técnicos da defesa, mas teria de dar ciência ao Ministério Público, na qualidade de titular da ação penal.
- Ⓒ O perito cujo parecer estava eivado de falsidade teria praticado o crime tentado de falsa perícia, por ter-se retratado antes da conclusão do inquérito policial.
- Ⓓ Nas situações em que há divergências entre pareceres e conclusões de dois peritos oficiais em laudos datiloscópicos, a autoridade policial competente deve nomear um terceiro perito para desempate.
- Ⓔ O auto de prisão em flagrante seria nulo, pelo fato de a autoridade policial não ter comunicado imediatamente a segregação de João à autoridade judicial.

QUESTÃO 24

LG, ML e WL, sócios-gerentes da empresa LMW Com. e Representações Ltda., deixaram de pagar tributos estadual e federal nos exercícios de 1987 a 1999, fraudando as administrações fazendárias estadual e federal por omissão de operações tributáveis em seus livros e documentos fiscais. A empresa foi autuada e notificada administrativamente, ofertando defesa regularmente. O Ministério Público estadual tomou ciência dos fatos por meio de peças informativas e, antes do término dos procedimentos administrativos-fiscais, ofertou denúncia contra LG, ML e WL por sonegação fiscal e *lavagem de dinheiro*, este último crime pelo fato de os denunciados, nos exercícios de 1998 e 1999, terem adquirido vários imóveis com o dinheiro que deixaram de recolher aos erários estadual e federal. A empresa LMW impetrou *habeas corpus* em favor dos seus representantes legais (sócios), visando ao trancamento da ação penal.

Diante dessa situação hipotética, julgue os itens abaixo.

- Ⓐ Apesar de as fraudes fiscais envolverem impostos federal e estadual, a competência para processar e julgar os crimes de sonegação fiscal seria da justiça comum, em face da conexão.
- Ⓑ Os crimes de sonegação fiscal são de ação pública incondicionada. Por isso, o término dos procedimentos administrativos-fiscais não constituiria condição de procedibilidade para o Ministério Público iniciar a persecução penal em juízo.
- Ⓒ O Ministério Público estadual teria agido corretamente ao considerar que os sócios, quando adquiriram imóveis com o objetivo de ocultar ou dissimular a origem dos recursos provenientes do crime de sonegação fiscal, incorreram no crime de *lavagem de dinheiro*.
- Ⓓ Sabendo que a lei fiscal em vigor em 1987 era a Lei n.º 4.729/65 (derrogada) e que, a partir de 1990, foi instituída nova lei (Lei n.º 8.137/90), então, como as condutas ilícitas – sonegações fiscais – ocorreram nos exercícios fiscais de 1987 a 1999, em continuidade delitiva, a elas seria aplicada a Lei n.º 8.137/90, em lugar da Lei n.º 4.729/65.
- Ⓔ O *habeas corpus* impetrado pela empresa deveria ser considerado improcedente, pois a pessoa jurídica não tem legitimidade ativa para impetrá-lo.

QUESTÃO 25

Acerca dos crimes contra a administração pública, julgue os itens seguintes.

- Ⓐ Se, para emitir parecer em um laudo de exame de local (arrombamento), XB, perito do Instituto de Criminalística, exigir do proprietário da residência furtada, para si e seu colega, a importância de R\$ 3.000,00, com tal conduta, XB praticará o crime de corrupção passiva.
- Ⓑ Se, com o objetivo de receber um cheque dado em garantia de dívida, apresentado no banco sacado e devolvido por insuficiência de fundos, um delegado de polícia determinar a expedição de um mandado de intimação a um indivíduo que se recuse a cumpri-lo, então, ao desobedecer a ordem da autoridade, o indivíduo praticará o crime de desobediência.
- Ⓒ Considere a seguinte situação hipotética.
OB, indiciado em procedimento investigatório pelo crime de furto, dirigiu-se até a delegacia de polícia com a intenção de tirar satisfações com um dos peritos subscritores do laudo que o incriminava. Por não ter encontrado o perito no recinto, OB passou a ofendê-lo publicamente, proferindo improperios contra a sua conduta.
Nesse caso, pelo fato de o perito oficial não se encontrar presente, o crime de desacato não restaria configurado.
- Ⓓ O funcionário público que se apropria de dinheiro público de que tem a posse em razão do cargo e aplica-o no mercado financeiro com a intenção de restituir o principal, ficando com os juros, pratica, em tese, peculato.
- Ⓔ Os peritos judiciais são considerados funcionários públicos para os efeitos penais.

QUESTÃO 26

Julgue os seguintes itens.

- Ⓐ Nos crimes ambientais, além da pessoa física, a pessoa jurídica também pode figurar como sujeito ativo das infrações.
- Ⓑ Comete o crime de violar direitos de autor de programa de computador o agente que, tendo a licença de uso de um *software*, o reproduz, em um só exemplar, para fins de armazenamento eletrônico.
- Ⓒ A simples declaração do acusado de tráfico de entorpecentes de que é viciado em drogas obriga o magistrado, sob pena de nulidade, a submetê-lo a exame de dependência toxicológica para fins de imputabilidade penal.
- Ⓓ O condenado em crime de latrocínio, por fato ocorrido em 1991, para preencher o requisito objetivo temporal do livramento condicional, terá de cumprir mais de dois terços da reprimenda e não poderá ser reincidente específico em crimes hediondos ou equiparados.
- Ⓔ O sujeito que, encontrando-se no interior de sua residência, de madrugada, efetua disparo de arma de fogo em direção à rua, pratica o crime de disparo de arma de fogo.

QUESTÃO 27

No que se refere ao direito administrativo, julgue os itens abaixo.

- Ⓐ O direito administrativo disciplina integralmente todos os aspectos jurídicos da prestação de serviços ao Estado dos agentes públicos em geral.
- Ⓑ No exercício do poder hierárquico, o superior, em certas circunstâncias, pode tanto avocar a prática de determinado ato quanto, ele próprio, aplicar sanções punitivas a seus subordinados.
- Ⓒ Se um servidor do Departamento de Polícia Federal, no exercício da função, cometer ato que, simultaneamente, cause dano patrimonial a um cidadão, constitua crime e esteja previsto na Lei da Improbidade Administrativa, a União poderá ser processada para indenizar o lesado, cabendo ação regressiva contra o servidor; este poderá, ainda, sofrer a pena aplicada em virtude de processo-crime decorrente do ato e poderá vir a ser condenado em ação específica, ajuizada para punir a improbidade administrativa, com reflexos até em seus direitos políticos.
- Ⓓ O presidente da República pode, ao regulamentar uma lei, estatuir todos os direitos e deveres necessários ao cumprimento da lei regulamentada, ainda que nela não tenham sido expressamente previstos.
- Ⓔ Nas concessões de serviço público, o descumprimento dos deveres do concessionário, regularmente apurado, pode ensejar a retomada do serviço por parte do poder concedente, por meio da encampação até dos bens e da maquinaria empregados no serviço.

QUESTÃO 28

Em relação ao direito administrativo, julgue os itens que se seguem.

- Ⓐ Quando a lei admite que a autoridade administrativa pratique ato administrativo com base no poder discricionário, a autoridade poderá estabelecer a competência para a prática do ato.
- Ⓑ Se o Tribunal de Contas da União constatar o cometimento de ato ilegal por parte de órgão federal, poderá determinar-lhe a imediata revogação do ato, sem prejuízo da responsabilização daqueles que lhe deram causa; nesses casos de ilegalidade, o Ministério Público também pode ajuizar ação para a supressão do ato.
- Ⓒ Se um cidadão não-integrante da administração pública auferir benefício em razão de ato de improbidade perpetrado por dirigente de autarquia, aquele poderá figurar no pólo passivo do processo derivado da improbidade, mesmo em face da condição sua de particular.
- Ⓓ O agente público somente poderá ser responsabilizado judicialmente por ato de improbidade se houver completa tipificação do ato no Código Penal e na legislação penal especial.
- Ⓔ Não pode a lei instituidora de uma empresa pública autorizar, também, a criação de uma subsidiária dela.

CONHECIMENTOS GERAIS

QUESTÃO 29

A última década deste século assinala sensíveis transformações nas relações internacionais, produzindo um cenário novo que, embora não aponte com clareza indiscutível o rumo que estará tomando, certamente se distingue daquele modelo com o qual o mundo conviveu a partir do término da Segunda Guerra. No que se refere ao cenário internacional da atualidade, julgue os itens seguintes.

- Ⓐ O colapso da União das Repúblicas Socialistas Soviéticas (URSS), acompanhado pelo desmantelamento do chamado socialismo real do Leste europeu, pôs fim ao caráter bipolar das relações internacionais que o imediato pós-Segunda Guerra Mundial havia engendrado.
- Ⓑ A Guerra Fria, fortemente contingenciada pelo confronto ideológico entre capitalismo e socialismo e pela disputa por áreas de influência entre a URSS e os Estados Unidos da América (EUA), perdeu sentido a partir do momento em que uma crise profunda interrompeu a experiência soviética, deixando o campo livre à atuação norte-americana.
- Ⓒ Fundamentalismos religiosos, questões étnicas e manifestações diversas de nacionalismos, muitas vezes assumindo formas perigosas de racismo e de xenofobia, despontam neste fim de século como forças de expressão que influem na configuração do mapa geopolítico e das relações internacionais.
- Ⓓ O tradicional isolacionismo que caracteriza a política externa dos EUA desde o século XIX adquire intensidade ainda maior na atualidade, quer pela ausência de adversários de peso, quer pelo desinteresse das empresas norte-americanas em ampliarem seus mercados externos.
- Ⓔ A mudança dos paradigmas da política internacional, verificada nesses últimos anos, trouxe outra conseqüência notável, sobretudo pelo que representa em termos de distensão e de valorização do ideal de um mundo sem confrontos bélicos: o fim das atividades militares da Organização do Tratado do Atlântico Norte (OTAN).

QUESTÃO 30

Quando se analisa o contexto latino-americano dos dias atuais, verifica-se a existência de um quadro político e econômico bem diferente daquele prevalecente nas décadas de 60 e 70. A respeito dessa América Latina contemporânea, julgue os itens que se seguem.

- Ⓐ Após um período em que predominaram regimes militares autoritários, a América Latina convive, de uma forma geral, a partir dos anos oitenta, com a normalidade institucional e o respeito às normas próprias da democracia representativa.
- Ⓑ Sob o ponto de vista político, Peru, Venezuela e Cuba são bastante semelhantes: nos três casos, as eleições presidenciais diretas, embora resguardando todo o rito formal das democracias, sofreram contestações internas e internacionais.
- Ⓒ A intensa propagação do narcotráfico, a ação de guerrilhas e a crise econômica, gerando permanente e explosiva tensão social, fazem da Bolívia, hoje, o país latino-americano em piores condições institucionais e o que mais preocupação gera em seus vizinhos.
- Ⓓ A Argentina de Carlos Menem, o Peru de Alberto Fujimori e o Brasil de Fernando Henrique Cardoso mostraram-se identificados quanto à adoção do princípio da reeleição presidencial, decisão que modificou uma tradição política da região.
- Ⓔ Sob o ponto de vista econômico, os países latino-americanos, sobretudo pela ação resoluta do México, do Chile, da Argentina e do Brasil, têm resistido à adoção das políticas neoliberais, argumentando ser impossível conviver com seu elevado custo social.

QUESTÃO 31

No cenário mundial contemporâneo, estudiosos, estrategistas e especialistas buscam aprofundar seus conhecimentos sobre a República Popular da China, um gigante em termos de extensão territorial, cultura, capacidade militar e peso demográfico, que deverá exercer papel de extrema importância no mundo do século XXI. A esse respeito, julgue os itens a seguir.

- Ⓐ Com uma população em torno de um bilhão e trezentos milhões de habitantes, a China apresenta-se, pelo menos em tese, como excelente mercado consumidor a ser conquistado.
- Ⓑ A recusa chinesa em pleitear seu ingresso na Organização Mundial do Comércio, além da posição da União Européia de impedir que esse ingresso se concretize, dificulta a inserção do país no mercado internacional.
- Ⓒ Seguindo o exemplo da extinta URSS, a China apega-se cada vez mais ao tradicional modelo econômico socialista, o que afasta qualquer possibilidade de aproximação dos investidores estrangeiros.
- Ⓓ Em aparente contradição com o que é feito na economia, a China fomenta veloz processo de abertura política, promovendo eleições gerais e reduzindo, drasticamente, o poder do Partido Comunista.
- Ⓔ Em decisão histórica, ocorrida em setembro de 2000, que sepultou o que ainda poderia existir de resquício da Guerra Fria, o Senado norte-americano autorizou a normalização das relações comerciais entre os EUA e a China.

QUESTÃO 32

Não se pode classificar de vitoriosa a participação brasileira nas Olimpíadas de 2000, realizadas em Sydney. Analisados os resultados, é provável que nenhuma derrota tenha chocado mais do que aquela protagonizada pelo futebol masculino, melancolicamente eliminado na segunda etapa da competição. Relativamente ao desempenho do Brasil nesses derradeiros Jogos Olímpicos do século XX, julgue os itens seguintes.

- ⌚ Tão profissionais quanto os jogadores da seleção masculina, auferindo salários cujos valores em muito se aproximam dos que são pagos aos homens, as atletas da seleção feminina de futebol tiveram um desempenho praticamente idêntico ao do time dirigido por Wanderley Luxemburgo.
- ⌚ A fraca participação brasileira pode ser também explicada pelo fato de que, com a promulgação da Lei Pelé e com o fechamento dos bingos em todo o país, cessaram as fontes de financiamento para o chamado esporte olímpico.
- ⌚ A derrota da seleção olímpica brasileira de futebol ocorreu em um momento difícil para alguns dirigentes desse esporte profissional no Brasil: recentemente, o Senado aprovou a constituição de uma Comissão Parlamentar de Inquérito com a incumbência de examinar, entre outros fatos, o contrato de patrocínio celebrado entre a Confederação Brasileira de Futebol e uma multinacional fabricante de artigos esportivos.
- ⌚ É provável que a má campanha do Brasil leve até à mudança da Constituição de 1988 que, de forma inovadora, vedou a transferência de recursos públicos para o esporte, incluindo a proibição de patrocínio por parte das empresas estatais.
- ⌚ Para além do desempenho e da emoção dos atletas, também ficou evidenciada a íntima vinculação, na atualidade, entre os esportes e os interesses empresariais.

QUESTÃO 33

Ao anunciar um cronograma que antecipa sua saída do governo, Alberto Fujimori mais uma vez colocou seu país – o Peru – nas manchetes dos jornais, além de obrigar seus vizinhos latino-americanos a se debruçarem sobre a delicada questão política que, direta ou indiretamente, repercute em toda a região. Quanto ao período Fujimori, julgue os itens a seguir.

- ⌚ No cômputo geral de seu longo período de governo, Fujimori – conhecido em seu país como *El Chino* – vangloria-se de ter imposto pesada derrota à guerrilha do *Sendero Luminoso*, que, por muitos anos, espalhou sua ação pelo Peru.
- ⌚ Para os analistas da cena peruana, Fujimori colocou em prática uma forma de governar em que se misturam populismo, autoritarismo e liberalismo econômico, o que explica as parcelas significativas de apoio que foi amealhando.
- ⌚ Ao anunciar sua saída futura do governo, no calor de uma crise em que denúncias de corrupção atingiram gente muito próxima a ele, Fujimori demonstrou que a ausência de apoio militar – o Exército peruano nunca esteve com ele – agora lhe foi fatal.
- ⌚ A hipótese de uma ruptura institucional, seja pela clássica via de golpe militar ou por qualquer outro meio, tanto no Peru quanto em qualquer outro país sul-americano, foi prevista na recente Cúpula dos Presidentes da América do Sul, que, reunida em Brasília, admitiu, em determinadas circunstâncias, o apoio a esse tipo de ação política.
- ⌚ A estabilidade econômica do Peru, sob Fujimori, foi possível graças à enorme produção petrolífera do país, que lhe garante uma balança comercial superavitária, e ao rígido controle dos gastos públicos, o que permitiu elevação de salários e ampliação do nível de emprego.

QUESTÃO 34

O Movimento dos Trabalhadores Rurais Sem Terra (MST) é presença marcante na cena política brasileira atual. Suas ações encontram defensores e opositores e, quase sempre, são noticiadas pelos meios de comunicação. Em relação ao MST e à sua grande evidência no Brasil atual, julgue os itens que se seguem.

- ⌚ O MST luta pela reforma agrária, o que compreende a redefinição da propriedade fundiária no país e a adoção de mecanismos que viabilizem a fixação do homem no campo.
- ⌚ Embora sua atuação ocorra de modo muito abrangente, envolvendo praticamente todas as regiões brasileiras, o MST não existe, a rigor, nos três estados do Sul, o que pode ser explicado pela ausência da grande propriedade, de terras improdutivas e de tensão social no campo nessa região.
- ⌚ O episódio de Eldorado de Carajás, no qual morreram quase vinte trabalhadores rurais, pode ser entendido como um fato isolado, já que, nos últimos anos, o número de choques e de mortes no campo tem apresentado acentuado declínio.
- ⌚ Ao abandonar a tática de ocupação de prédios públicos, decisão que tomou há dois anos, o MST credenciou-se a aumentar sua base de apoio social e a promover rodadas de negociações com o governo federal, o que tem feito amiúde e com bons resultados.
- ⌚ Para manter a integridade de sua luta, o MST proíbe que suas lideranças se candidatem a qualquer cargo eletivo, da mesma forma que se afasta, conscientemente, de qualquer possibilidade de vinculação de sua imagem à de qualquer partido político.

QUESTÃO 35

Os episódios envolvendo o general Augusto Pinochet, nesses últimos tempos, não apenas chamam a atenção para o processo de transição política – do autoritarismo à democracia – vivido pelo Chile, mas também suscitam outro tipo de discussão, como é o caso da universalidade dos direitos humanos. A respeito desses acontecimentos, julgue os seguintes itens.

- ⌚ Estando na Grã-Bretanha, Pinochet foi detido pelas autoridades britânicas, atendendo a uma solicitação feita pela justiça espanhola; ao fim do processo, negada a extradição, o ex-chefe de Estado chileno pôde retornar a seu país.
- ⌚ Com o país assistindo a manifestações de apoio e de repúdio ao antigo chefe do regime autoritário, a Corte Suprema chilena suspendeu as imunidades que Pinochet se autoconcedeu, nomeando-se senador vitalício, o que permite a continuidade de seu julgamento.
- ⌚ A argumentação utilizada pela justiça espanhola contra Pinochet sustenta-se no caráter universal dos direitos humanos, os quais teriam sido sistematicamente desrespeitados pelo regime militar chileno, pela prática de prisões arbitrárias, torturas e mortes.
- ⌚ Documentos revelados recentemente dão conta de que os regimes militares que se abateram sobre o Cone Sul, e que tiveram no Chile de Pinochet um de seus maiores expoentes, concertaram ações coordenadas para o combate aos seus inimigos, como o que teria ocorrido com a chamada Operação Condor.
- ⌚ A transição chilena do regime autoritário para a democracia deu-se da maneira como, tradicionalmente, ocorre na América Latina: uma solução negociada, em que a ruptura radical é evitada a todo custo.

QUESTÃO 36

É inegável o papel de destaque que, nas últimas décadas deste século, o Papa João Paulo II tem desempenhado. Essa importância decorre não apenas de sua atuação como líder espiritual de uma das maiores religiões do mundo, mas também de sua influência política e do peso de suas opiniões no campo do comportamento humano. A propósito desse assunto, julgue os itens seguintes.

- Ⓐ Sob o ponto de vista doutrinário, João Paulo II é profundamente inovador, chegando a ser visto mesmo como revolucionário: com naturalidade, aceita as inovações que alteram substantivamente a doutrina católica, chancelando-as e estimulando sua adoção.
- Ⓑ Em nenhum outro pontificado deste século foi tão flagrante o apoio oficial da Igreja Católica aos movimentos sociais e à chamada Teologia da Libertação, bastante identificada com o esforço de unir a fé às transformações da sociedade.
- Ⓒ Para alguns analistas, a eleição de um papa polonês (João Paulo II) e sua atuação nos primeiros anos que se seguiram à sua escolha tiveram repercussão expressiva no processo de desmonte dos Estados socialistas do Leste europeu.
- Ⓓ Sob João Paulo II, a Igreja Católica tem-se esforçado por rever atos do passado e, em muitas situações, pediu perdão por erros ou equívocos cometidos, do que são representativos os casos dos judeus e dos indígenas.
- Ⓔ Ao beatificar o papa João XXIII, João Paulo II fez lembrar um período que, malgrado sua reduzida dimensão temporal, marcou definitivamente a história da Igreja que, renovando-se, estimulava o ecumenismo e a denúncia das injustiças sociais.

QUESTÃO 37

O mundo contemporâneo volta-se para as questões ambientais como em nenhuma outra época da História. Isso deve-se, entre outras razões, à crescente consciência de que o progresso a qualquer custo pode significar um preço alto demais e inviabilizar a própria vida no planeta. Sob a óptica do desenvolvimento sustentável, que ganha crescente importância na atualidade, julgue os itens abaixo.

- Ⓐ Parece existir uma tendência a identificar no modelo de desenvolvimento embasado na industrialização intensiva um claro esgotamento, a começar por sua repercussão direta na destruição da natureza, em que se destacam as mais diversas formas de poluição ambiental.
- Ⓑ Encontros internacionais que se multiplicam, envolvendo especialistas, organizações não-governamentais e representantes dos Estados e do sistema produtivo, têm debatido a questão ambiental e, apesar de posições bastante divergentes, resultam em sugestões que podem alterar o quadro hoje existente.
- Ⓒ Chama a atenção a ausência da Organização das Nações Unidas (ONU), por seus órgãos especializados, nesse tipo de discussão que se vem alastrando pelo mundo. Essa omissão pode ser explicada pelo fato de a ONU sempre estar voltada para as questões políticas e de segurança internacional.
- Ⓓ Por desenvolvimento sustentável entende-se a preocupação de, garantindo-se a continuidade do processo produtivo, de resto indispensável à própria vida, zelar para que isso se dê de maneira equilibrada, favorecendo a interação não-predatória entre o homem e a natureza.
- Ⓔ Resultante de estudos e encontros internacionais, a Agenda 21 corresponde a um documento-síntese, assinado por todos os Estados soberanos existentes no mundo, que é um autêntico compromisso moral: eliminar, até o ano 2021, todas as formas de produção que degradem o ambiente.

QUESTÃO 38

A elevação do preço do petróleo nos mercados internacionais, neste segundo semestre de 2000, trouxe insegurança e medo de uma crise generalizada em amplos setores da economia mundial. Afinal, vivos estão os efeitos da grande crise do petróleo, em 1973, que, no caso brasileiro, atingiu em cheio o “milagre econômico” que então se produzia. A respeito dos acontecimentos recentes, relativos ao mercado petrolífero e da sua comparação com a crise de 1973, julgue os itens que se seguem.

- Ⓐ Se comparada à situação de 1973, a posição do Brasil hoje é menos vulnerável às oscilações de preço do petróleo no mercado internacional, entre outras razões, porque, ao longo dos últimos anos, o país ampliou consideravelmente sua produção do óleo.
- Ⓑ Sob o ponto de vista da capacidade técnica, um dos setores em que a PETROBRAS mais se destaca, em âmbito mundial, é o da prospecção de petróleo em águas profundas, de que é bom exemplo o trabalho que realiza na bacia de Campos, no estado do Rio de Janeiro.
- Ⓒ O fim da Organização dos Países Exportadores de Petróleo (OPEP), determinado pelas múltiplas dissensões entre seus integrantes, acabou minimizando, para os países importadores de petróleo, os efeitos de uma eventual nova crise mundial.
- Ⓓ A recente alta de preços do petróleo deveu-se, sobretudo, à intransigência dos produtores árabes que, com a Arábia Saudita à frente, recusaram-se a atender aos apelos vindos de todas as partes do mundo para que aumentassem sua produção e, assim, forçassem a queda nos preços.
- Ⓔ Dessa vez, Saddam Hussein não pôde ser o bode expiatório de mais uma crise internacional: por causa do embargo que lhe foi imposto pela ONU, o Iraque não extrai petróleo desde o fim da Guerra do Golfo, exatamente porque não tem a quem vender.

QUESTÃO 39

As eleições de 2000 envolveram todos os municípios brasileiros, mobilizando expressivo contingente eleitoral na escolha de prefeitos, vice-prefeitos e vereadores. Acerca desse processo eleitoral, julgue os itens a seguir.

- Ⓐ A introdução de uma eletrônica nas eleições municipais excluiu apenas os pequenos municípios criados a partir da promulgação da Constituição da República, sendo que todos os demais municípios tiveram acesso à novidade.
- Ⓑ Retomando antiga prática eleitoral brasileira, que existiu até o advento do regime militar, em 1964, nas atuais eleições os candidatos a prefeito e a vice-prefeito foram votados separadamente, admitindo-se mesmo o surgimento de candidatos avulsos, isto é, não-vinculados a uma chapa.
- Ⓒ Apesar de algumas celeumas, ocorridas em pontos isolados do país, a justiça eleitoral cumpriu o que determina a Constituição da República, permitindo ao analfabeto votar e ser votado.
- Ⓓ O segundo turno nas eleições para o Poder Executivo municipal só existe nas capitais dos estados.
- Ⓔ Nestas eleições municipais, foi possível ao ocupante do cargo de prefeito pleitear sua reeleição, o que até então lhe era vedado.

LÍNGUA PORTUGUESA

Texto LP-I – questões de 40 a 43

Estava no Brasil

1 A cooperação foi similar à da Operação Condor, só que
estritamente dentro da lei e a favor da democracia. No último
fim de semana, a Polícia Federal deteve em Foz do Iguaçu, no
4 Paraná, o general paraguaio Lino Oviedo, havia meses foragido,
e cuja prisão preventiva com fins de extradição tinha sido
pedida pelo Paraguai. No apartamento no qual se escondia,
7 foram encontrados um revólver calibre 38, dez telefones
celulares e uma peruca. Oviedo, que já comandou uma tentativa
de golpe em 1996, é acusado de tramar o assassinato do vice-
10 presidente de seu país, Luis María Argaña, no ano passado.
Preso, ele poderá ser extraditado para o Paraguai, onde goza de
grande simpatia popular e nenhuma do governo. Com sua fama
13 de golpista, Oviedo é o principal suspeito de ter planejado a
última quartelada para derrubar o governo do presidente Luis
González Macchi, há um mês. É um abacaxi para os paraguaios.
16 Se livre e clandestino, é um incômodo para o governo; dentro de
uma prisão no Paraguai, Oviedo é um perigo ainda maior, pois
estará mais próximo e à vista de seus seguidores. O governo
19 brasileiro não podia deixar de prender o general paraguaio. Um
dos compromissos dos países-membros do MERCOSUL é a
adesão ao regime democrático. Dar cobertura a golpistas, como
22 Oviedo, não é um alento à democracia. O destino do general no
Brasil está nas mãos do Supremo Tribunal Federal, responsável
por julgar o pedido de extradição.

Veja, 21/6/2000 (com adaptações).

QUESTÃO 40

Com relação às idéias e às informações do texto LP-I, julgue os itens abaixo.

- Ⓐ Infere-se do texto que a Operação Condor foi ilegal.
- Ⓑ O governo paraguaio solicitou à Polícia Federal do Brasil a prisão do general Lino Oviedo por não ter corporação suficientemente equipada para fazê-lo.
- Ⓒ Não há acusações suficientes e fundamentadas que sustentem a prisão do general. Para o povo, ele é apenas um perseguido político.
- Ⓓ A prisão do general, segundo o texto, não constitui alívio para o governo paraguaio, embora atenda aos anseios do governo desse país.
- Ⓔ A ação da Polícia Federal está de acordo com os compromissos assumidos pelos países-membros do MERCOSUL, entre os quais o Brasil e o Paraguai se inserem.

QUESTÃO 41

Com relação à pontuação do texto LP-I, julgue os itens que se seguem.

- Ⓐ A justificativa para a vírgula imediatamente posterior a “No último fim de semana” (R2-3) é a mesma que corresponde àquela posterior a “Preso” (R11).
- Ⓑ Se uma vírgula fosse inserida imediatamente após “apartamento” (R6), as relações semânticas e sintáticas do período do texto seriam mantidas inalteradas.
- Ⓒ Na linha 8, a vírgula após “Oviedo” não tem justificativa gramatical, já que a oração posterior introduz uma informação explicativa.
- Ⓓ Na linha 15, seria correto suprimir a vírgula.
- Ⓔ O último período do texto poderia ser corretamente reescrito com a locução adverbial “no Brasil” entre vírgulas.

QUESTÃO 42

Considerando a tipologia do texto LP-I, julgue os seguintes itens.

- Ⓐ O texto não está estrategicamente bem definido, já que o fato de conter um único parágrafo não permite que haja uma introdução e uma conclusão do assunto.
- Ⓑ Apesar de o texto ser informativo, há uma tomada de posição do autor desfavorável à ação da Polícia Federal brasileira e em solidariedade ao governo paraguaio.
- Ⓒ O texto tem uma linguagem metafórica que, por vezes, compromete a informação dada.
- Ⓓ No texto, predomina a linguagem conotativa.
- Ⓔ Os três últimos períodos do texto não mantêm uma seqüência lógica com o restante do parágrafo.

QUESTÃO 43

Em cada um dos itens seguintes, foi feita a reescritura de um período do texto LP-I. Julgue-os quanto à manutenção do sentido original e à correção gramatical.

- Ⓐ Segundo período: **Foi detido, na semana passada, em Foz do Iguaçu, no Paraná, o general Lino Oviedo, que tinha sua prisão preventiva decretada pelo governo paraguaio.**
- Ⓑ Terceiro período: **Encontraram-se, no apartamento em que se escondia, um revólver calibre 38, dez telefones celulares e uma peruca.**
- Ⓒ Quarto período: **Acusa-se Oviedo, que, em 1996, já comandou uma tentativa de golpe, de tramar, no ano passado, o assassinato do vice-presidente de seu país, Luis María Argaña.**
- Ⓓ Quinto período: **Ele poderá ser extraditado e, preso, levado para o Paraguai, lugar onde goza de grande simpatia popular e nenhuma do governo.**
- Ⓔ Último período: **O destino do general no Brasil, que é responsável por julgar o pedido de extradição, está nas mãos do Supremo Tribunal Federal.**

Operação Paraguai

1 O comissário Adelio Gray e o oficial Miguel
 2 Deguizamón desembarcaram, quarta-feira, 1.º, de um helicóptero
 3 de combate em uma fazenda perto do município paraguaio de
 4 Capitán Bado, a poucos quilômetros da fronteira brasileira,
 5 prontos para uma guerra. Usando uniformes de camuflagem,
 6 armados com fuzis M-16 e pistolas 9 mm, eles comandam 30
 7 homens da elite da polícia paraguaia que vasculham os 120
 8 quilômetros que vão das cidades paraguaias de Pedro Juan
 9 Caballero a Capitán Bado. Gray é o diretor nacional de
 10 narcóticos, ligado diretamente à Presidência da República do
 11 Paraguai. Os policiais do serviço antidrogas, alguns treinados
 12 nos Estados Unidos da América (EUA), foram mandados de
 13 Assunção para ajudar a Polícia Federal (PF) brasileira em uma
 14 faxina inédita na fronteira entre os dois países. Procuram em
 15 particular um foragido brasileiro, o traficante carioca Luiz
 16 Fernando da Costa, o Fernandinho Beira-Mar, ligado à quadrilha
 17 do ex-deputado Hildebrando Pascoal. Figurinha carimbada em
 18 festas e eventos em Capitán Bado, Fernandinho andava pela
 19 região em uma Blazer e uma Toyota Ranger cercado de
 20 pistoleiros armados com metralhadoras Uzi. Até a semana
 21 passada, ele vinha-se escondendo em uma casa em Capitán
 22 Bado, cidade de dez mil habitantes separada apenas por uma rua
 23 de Coronel Sapucaia – MS. No *bunker*, a polícia só encontrou
 24 dezenas de cartuchos de fuzil e antenas de rádio.

25 A poucos metros da sede da polícia de Capitán Bado,
 26 Fernandinho comandava a distribuição de cerca de 200 quilos de
 27 cocaína a cada 15 dias. Suspeita-se de que se tenha mudado para
 28 a Bolívia ou a Colômbia. Enviados pelo diretor-geral da PF,
 29 Agílio Monteiro, 60 agentes cercam a área que vai de Bela Vista
 30 a Salto do Guairá. Dos dois lados, fazendas com pistas de pouso
 31 clandestinas tornam-se o esconderijo de armas e drogas. Nos
 32 últimos dias, brasileiros e paraguaios, com o apoio da Justiça,
 33 entraram em fazendas de empresários apontados como amigos de
 34 Fernandinho.

35 Na segunda-feira, 29, a polícia paraguaia prendeu na
 36 cidade, por envolvimento com narcotráfico, um dos membros da
 37 família Morél, Israel, irmão de João e tio de Ramon, sócio de
 38 Fernandinho. A família Morél circula livremente entre Capitán
 39 Bado e Coronel Sapucaia. Ramon é presidente da Federação de
 40 Futebol de Salão de Capitán Bado, ligada à Confederação de
 41 Futebol da cidade, presidida pelo vereador paraguaio José
 42 Lescano. Proprietário de uma firma caseira de sofás, Lescano
 43 nega qualquer envolvimento com o narcotráfico e se diz surpreso
 44 com as acusações: “A gente ouviu falar disso tudo, mas a polícia
 45 é que deve investigar, não eu. Eu confio na polícia”.

Istoé, 8/12/99 (com adaptações).

QUESTÃO 44

A partir da leitura do texto LP-II, julgue os itens que se seguem.

- Ⓐ Trinta homens da Polícia Federal paraguaia, treinados nos EUA, juntaram-se a uma equipe da Polícia Federal brasileira para combater o narcotráfico no município de Capitán Bado, no Paraguai.
- Ⓑ A ação conjunta Paraguai/Brasil é inédita e tem como foco a prisão de um bandido brasileiro conhecido como Fernandinho Beira-Mar.
- Ⓒ Fernandinho Beira-Mar é visto constantemente em eventos públicos em Pedro Juan Caballero, no Paraguai, por isso o governo brasileiro solicitou a colaboração da polícia paraguaia na captura do narcotraficante.
- Ⓓ Há quinze dias, Fernandinho teria mudado para a Bolívia ou a Colômbia, já que a sede de suas ações com o tráfico de entorpecentes foi descoberta pela polícia de Capitán Bado.
- Ⓔ Depois do início da ação conjunta das polícias paraguaia e brasileira, várias fazendas já foram investigadas, mas Fernandinho Beira-Mar ainda não foi localizado.

QUESTÃO 45

Ainda com relação às informações do texto LP-II e às inferências que podem ser obtidas a partir de sua leitura, julgue os itens abaixo.

- Ⓐ Até bem pouco tempo antes da reportagem, Fernandinho Beira-Mar circulava livremente pelo município de Capitán Bado.
- Ⓑ Mesmo foragido, Fernandinho aparentava gozar de boas condições financeiras.
- Ⓒ A região escolhida por Fernandinho para a distribuição de drogas apresentava condições favoráveis a esse tipo de atividade.
- Ⓓ Há suspeitas de que Fernandinho não agia sozinho, mas com o apoio de pessoas socialmente conhecidas na região e, até então, de comportamento ilícito.
- Ⓔ O volume médio de tráfico mensal comandado por Fernandinho em Capitán Bado era de cerca de 400 quilos de cocaína.

QUESTÃO 46

Com relação aos aspectos morfosintáticos do texto LP-II, julgue os itens que se seguem.

- Ⓐ O texto começa a ser contado no pretérito perfeito, passando, em seguida, a ter como referência o presente, o que configura um equívoco do escritor.
- Ⓑ Para que a ação que se refere aos policiais paraguaios e a seus comandantes estivesse no pretérito imperfeito, no segundo período, ele deveria ser reescrito da seguinte forma: **Usando uniformes de camuflagem, armados com fuzis M-16 e pistolas 9 mm, eles comandavam 30 homens da elite da polícia paraguaia que vasculhavam os 120 quilômetros que vão das cidades paraguaias de Pedro Juan Caballero a Capitán Bado.**
- Ⓒ O termo “alguns” (R12) tem como referente Adelio Gray e Miguel Deguizamón, respectivamente, o “diretor nacional de narcóticos” (R9-10) e o “oficial” (R1) da polícia paraguaia.
- Ⓓ A forma verbal “Procuram” (R15) concorda com o sujeito do período anterior.
- Ⓔ Em “Suspeita-se de que se tenha mudado para a Bolívia ou a Colômbia” (R28-29), o termo sublinhado tem como referente Fernandinho Beira-Mar.

QUESTÃO 47

Com relação ao valor semântico das palavras e expressões empregadas no texto LP-II, julgue os itens a seguir.

- Ⓐ Na linha 10, o termo “ligado” poderia, sem prejuízo semântico, ser substituído por **pertencente**.
- Ⓑ O termo “foragido” (R15) poderia, sem prejuízo da informação, ser substituído por **procurado**.
- Ⓒ A expressão “Figurinha carimbada” (R18) poderia ser substituída por **Sempre presente**, sem prejuízo semântico.
- Ⓓ O termo “clandestinas” (R32), no texto, é o mesmo que **ilegais**.
- Ⓔ O termo “apontados” (R34) poderia ser substituído por **conhecidos**, sem prejuízo semântico.

QUESTÃO 48

Considerando a tipologia do texto LP-II, julgue os itens abaixo.

- Ⓐ O texto tem características de uma dissertação argumentativa.
- Ⓑ O primeiro parágrafo introduz a tese de que o Paraguai e o Brasil precisam trabalhar juntos para que se resolvam problemas em relação ao tráfico de drogas nos dois países.
- Ⓒ O segundo parágrafo desenvolve a argumentação, com linguagem conotativa, de que é possível viver bem, mesmo foragido, na fronteira paraguaia, já que não há coibição por parte da polícia de lá.
- Ⓓ O terceiro parágrafo constitui-se da conclusão do texto, com referências à ação da polícia e com a possível inferência de que Fernandinho Beira-Mar será brevemente localizado.
- Ⓔ O texto tem linguagem contemporânea e direta.

O texto abaixo foi modificado intencionalmente, mediante a retirada de vírgulas e a introdução de erros de grafia, de regência e de concordância.

Texto LP-III – questões 49 e 50

As notas frias de Caxias

Uma pratica tão ilegal quanto comum nas prefeituras do interior do país chamou à atenção da Polícia Federal no Maranhão. No município de Caxias a 350 quilômetros de São Luís o que poderia ser um crime administrativo banal vem ganhando indissios de uma verdadeira farra orçamentaria. O atual prefeito da cidade Hélio Queiroz (PSDB) recolheu centenas de notas fiscais que garante serem frias e que teriam permitido a seu antecessor Paulo Marinho (PFL) desviar mais de R\$ 1 milhão do caixa municipal. Boa parte desses documentos foram emitidos pela Sercil Engenharia uma pequena firma de propriedade do engenheiro José Ribamar Costa Serra que admitiu o crime. O esquema que serviria para enriquecer-lhe só comprometeu ainda mas suas finanças. Paulo Marinho hoje deputado federal defende-se das acusações. O inquérito da Polícia Federal vai dizer quem está falando a verdade.

Istoé, 27/10/1999 (com adaptações).

QUESTÃO 49

Julgue os itens a seguir com relação ao texto LP-III.

- Ⓐ No primeiro período do texto, há apenas erros de acentuação gráfica, nas palavras “pratica” e “país”.
- Ⓑ Para que o segundo período estivesse correto, deveria ter sido escrito como se segue: **No município de Caxias, a 350 quilômetros de São Luís o que poderia ser um crime administrativo banal, vem ganhando indícios de uma verdadeira farra orçamentária.**
- Ⓒ No terceiro período, há um erro gráfico na palavra “antecessor”.
- Ⓓ Para que o quarto período estivesse gramaticalmente correto, seria admissível a seguinte reescritura: **Boa parte desses documentos foi emitida pela Sercil Engenharia, uma pequena firma de propriedade do engenheiro José Ribamar Costa Serra, que admitiu o crime.**
- Ⓔ No quinto período, há um erro de regência verbal e um de grafia, respectivamente em “enriquecer-lhe” e em “mas”.

QUESTÃO 50

Quanto às idéias do texto LP-III, julgue os itens seguintes.

- Ⓐ A Polícia Federal identificou em Caxias, no Maranhão, um novo tipo de fraude ao fisco.
- Ⓑ Desde a chegada do novo prefeito, notas frias vêm reiteradamente sendo emitidas com o intuito de camuflar o orçamento da prefeitura.
- Ⓒ Paulo Marinho, do PFL, é acusado de ter desviado mais de R\$ 1.000.000,00 do caixa da prefeitura.
- Ⓓ A firma Sercil Engenharia está envolvida na emissão de notas frias, já que seu proprietário, José Ribamar, admitiu o crime.
- Ⓔ O prefeito Hélio Queiroz, além dos crimes fiscais, está sendo acusado de crimes políticos.

PROVA DISCURSIVA

Na prova a seguir, que vale **cinco** pontos, faça o que se pede, usando as folhas para rascunho do presente caderno. Em seguida, transcreva o texto para o CADERNO DE TEXTO DEFINITIVO DA PROVA DISCURSIVA, no local apropriado, pois **não serão avaliadas provas com texto escrito em local indevido**. Utilize, no mínimo, **trinta** e, no máximo, **sessenta** linhas. Qualquer prova com extensão aquém da mínima de **trinta** linhas **efetivamente escritas** será apenada e qualquer fragmento de texto além da extensão máxima de **sessenta** linhas será desconsiderado.

ATENÇÃO! No CADERNO DE TEXTO DEFINITIVO, identifique-se apenas na capa, pois **não serão avaliadas** as provas que tenham qualquer marca identificadora fora do local apropriado.

Leia os seguintes fragmentos de textos.

Sob forte proteção, o presidente dos EUA, Bill Clinton, visitou ontem Cartagena, na Colômbia, onde pediu o respaldo de toda a América Latina para o combate ao narcotráfico no país.

Folha de S. Paulo, 31/8/2000.

Não emprestaremos nossas bases da fronteira para ações militares americanas ou colombianas.

Luiz Felipe Lampreia, ministro de Estado de Relações Exteriores do Brasil.

O governo brasileiro teme que guerrilheiros colombianos, narcotraficantes e também os militares que eventualmente os perseguirão entrem no Brasil através da selva. A idéia é instalar um paredão militar que impeça o transbordamento do conflito colombiano para o território brasileiro.

Veja, 6/9/2000.

O momento é estratégico. Os líderes da América do Sul precisam ter a sensibilidade de perceber que a união de suas forças trará mais vantagens para todos do que desvantagens para cada país, individualmente.

Gilberto Dupas, coordenador de assuntos internacionais do Instituto de Estudos Avançados da USP.

Precisamos nos aproximar dos parceiros latino-americanos.

Al Gore, candidato à presidência dos EUA.

Considerando que as idéias apresentadas nos textos da prova objetiva de Língua Portuguesa e nos fragmentos acima têm caráter unicamente motivador, redija um texto dissertativo, posicionando-se a respeito do tema a seguir.

Cooperação internacional: uma maneira de atuação contra o crime organizado.

FOLHA PARA RASCUNHO

1 / 2

| | |
|----|--|
| 1 | |
| 2 | |
| 3 | |
| 4 | |
| 5 | |
| 6 | |
| 7 | |
| 8 | |
| 9 | |
| 10 | |
| 11 | |
| 12 | |
| 13 | |
| 14 | |
| 15 | |
| 16 | |
| 17 | |
| 18 | |
| 19 | |
| 20 | |
| 21 | |
| 22 | |
| 23 | |
| 24 | |
| 25 | |
| 26 | |
| 27 | |
| 28 | |
| 29 | |
| 30 | |

| | |
|----|--|
| 31 | |
| 32 | |
| 33 | |
| 34 | |
| 35 | |
| 36 | |
| 37 | |
| 38 | |
| 39 | |
| 40 | |
| 41 | |
| 42 | |
| 43 | |
| 44 | |
| 45 | |
| 46 | |
| 47 | |
| 48 | |
| 49 | |
| 50 | |
| 51 | |
| 52 | |
| 53 | |
| 54 | |
| 55 | |
| 56 | |
| 57 | |
| 58 | |
| 59 | |
| 60 | |