

GEOGRAFIA

2ª Etapa

SÓ ABRA QUANDO AUTORIZADO.

Leia atentamente as instruções que se seguem.

- 1 - Este Caderno de Prova contém **cinco** questões, constituídas de itens e subitens, abrangendo um total de **oito** páginas, numeradas de 3 a 10.
Antes de começar a resolver as questões, verifique se seu Caderno está **completo**.
Caso haja algum problema, solicite a **substituição** deste Caderno.
- 2 - Esta prova vale **100** pontos, assim distribuídos:
 - Questão 01: **19** pontos.
 - Questão 02: **21** pontos.
 - Questões 03, 04 e 05: **20** pontos cada uma.
- 3 - **NÃO escreva seu nome nem assine nas folhas deste Caderno de Prova.**
- 4 - Leia cuidadosamente cada questão proposta e escreva a resposta, **A LÁPIS**, nos espaços correspondentes.
Só será corrigido o que estiver dentro desses espaços.
NÃO há, porém, obrigatoriedade de preenchimento **total** desses espaços.
- 5 - Não escreva nos espaços reservados à correção.
- 6 - **Ao terminar a prova**, chame a atenção do Aplicador, **levantando o braço**. Ele, então, irá até você para **recolher** seu **CADERNO DE PROVA**.


ATENÇÃO: Os Aplicadores **NÃO** estão autorizados a dar quaisquer explicações **sobre questões** de provas. **NÃO INSISTA**, pois, em pedir-lhes ajuda.

FAÇA LETRA LEGÍVEL.

Duração desta prova: TRÊS HORAS.

ATENÇÃO: Terminada a prova, recolha seus objetos, deixe a sala e, em seguida, o prédio. A partir do momento em que sair da sala e até estar fora do prédio, continuam válidas as proibições ao uso de aparelhos eletrônicos e celulares, bem como não lhe é mais permitido o uso dos sanitários.

Impressão digital do
polegar direito



COLE AQUI A ETIQUETA



QUESTÃO 01

Analise este trecho:

A Bacia Hidrográfica do Rio São Francisco é uma das maiores do País, tanto em área quanto em número de população que a habita, mas não em quantidade de água. [...] O que dá ao Rio São Francisco um caráter singular, para o sertanejo, é o fato de parcela considerável dos demais rios da região, a partir da Bahia, ser basicamente intermitente – só existe na estação chuvosa. E o Velho Chico permanece com vastos volumes de água, nunca menos de 600m³/s, mesmo nos anos e nos meses mais secos.

Retrato do Brasil, n. 10, p. 49, maio 2008. (Adaptado)


A partir dessa análise e considerando outros conhecimentos sobre o assunto,

1. **CITE uma** bacia hidrográfica brasileira que possui volume de água **maior** que o da Bacia do São Francisco e **APRESENTE** o **principal** fator responsável pelo volume de água maior na bacia hidrográfica citada.

Bacia Hidrográfica: _____

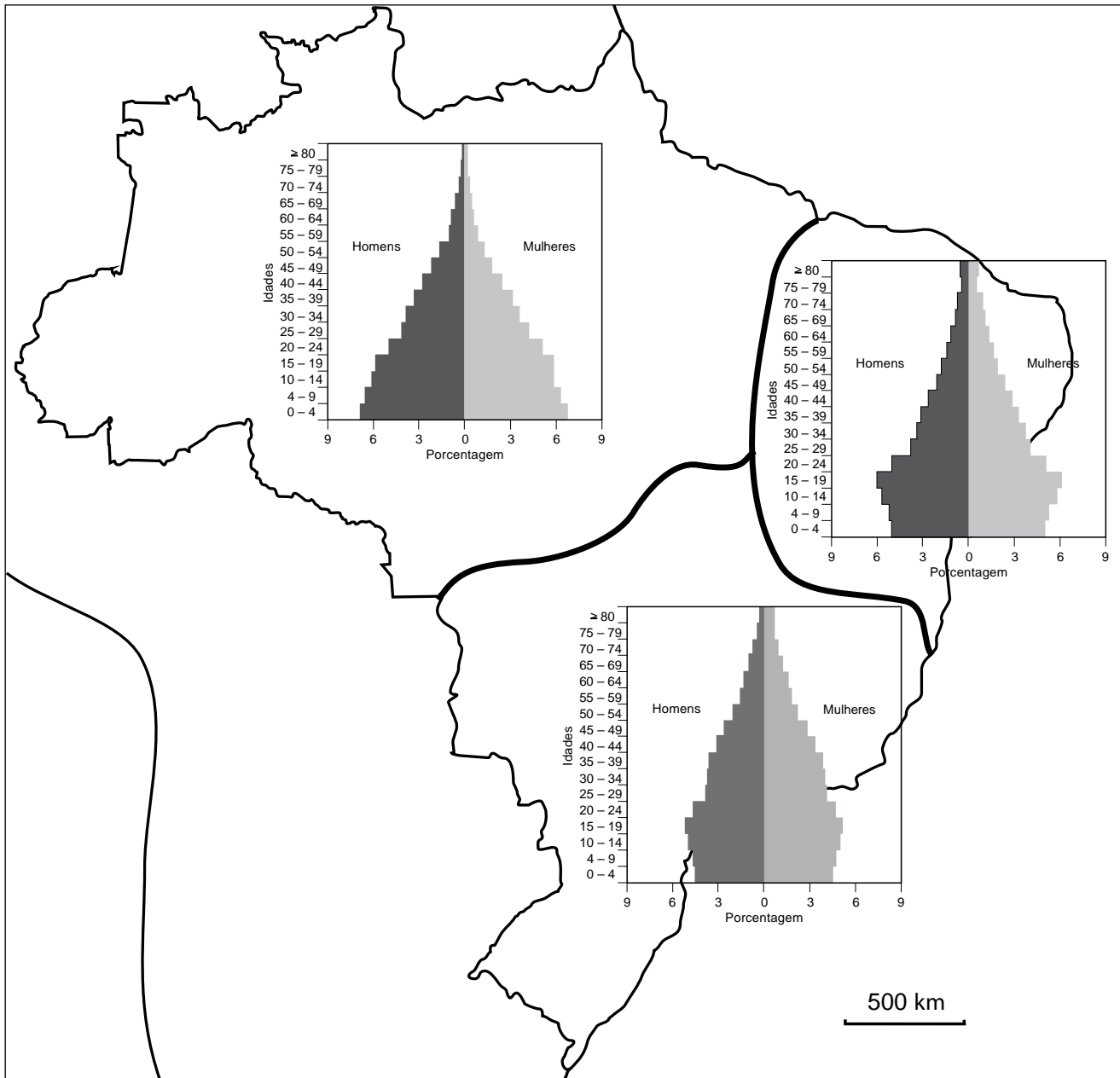
Fator: _____

2. **EXPLIQUE** por que o Rio São Francisco permanece **perene**, “com vastos volumes de água, [...] mesmo nos anos e nos meses mais secos”.



QUESTÃO 02

Analise, neste mapa, as pirâmides que representam as estruturas etária e de gênero da população das três regiões geoeconômicas brasileiras em 2000:



SILVA, B.C.N.; SILVA, S.B. de M.; COELHO, A.S.; SILVA, M.P. Estruturas etárias da população do Brasil e dos estados brasileiros. In: *RDE – Revista de Desenvolvimento Econômico*, ano IX, n. 16, p.93-97, dez., 2007. (Adaptado)

A partir dessa análise e considerando outros conhecimentos sobre o assunto, **IDENTIFIQUE** uma característica marcante da configuração da pirâmide populacional de **cada uma** das três regiões geoeconômicas brasileiras e **APRESENTE** uma razão que justifica a característica identificada em **cada uma** delas.

• **Amazônia**

Característica: _____

Razão: _____

• **Centro-Sul**


Característica: _____

Razão: _____

• **Nordeste**

Característica: _____

Razão: _____



QUESTÃO 03

A **5ª Cúpula das Américas**, evento continental que reuniu 34 líderes das Américas, em abril de 2009, em Trinidad e Tobago, reacendeu e levou para a mídia a temática dos organismos de integração e desenvolvimento regionais que atuam nesse Continente.

Um jornal, à época, relacionou os seguintes órgãos: **Comunidade do Caribe** (Caricom); **Sistema de Integração Centro-Americano** (SICA); **Alternativa Bolivariana para as Américas** (ALBA); **Organização dos Estados da América Latina e Caribe** (Oealc), também chamada, não sem uma dose de ironia, de OEA do B; **União das Nações Sul-Americanas** (Unasul); **Organização dos Estados Americanos** (OEA). E pode-se, ainda, citar alguns outros – por exemplo, **Tratado Norte-Americano de Livre Comércio** (Nafta) e **Mercado Comum do Sul** (Mercosul).

Considerando essas informações, analise esta afirmativa:

Avalia-se que a proliferação de tantos organismos de cooperação, integração e desenvolvimento regionais é desfavorável ao desenvolvimento sustentável do Continente.

Você **CONCORDA** com essa afirmativa?

Sim.

Não.

JUSTIFIQUE sua resposta.

QUESTÃO 04

Analise este mapa de uma região considerada uma das mais populosas do mundo:




Sem escala

No momento atual, na região mostrada nesse mapa, vivenciam-se duas expectativas no cenário mundial:

- uma, gerada por economias que vêm enfrentando a crise financeira com menos retrocesso, por exemplo, em relação aos países da União Européia, é a de que tais economias podem amenizar efeitos dessa crise em nível global; e
- a outra é a de que o crescente poderio bélico-nuclear de alguns países pode, enfim, ameaçar a segurança e a paz mundiais.

Nas duas situações – **melhor desempenho econômico** e **corrida armamentista** –, há países tanto capitalistas quanto socialistas e, nesses dois grupos, em maior ou menor medida, políticas de Estado são adotadas em detrimento de direitos sociais e políticos básicos das populações, o que chega, inclusive, a extremos de desrespeito a direitos humanos.



Considerando essas informações,

- A) **CITE um** país dessa região que se enquadra, **mais especificamente**, em **cada uma** das **duas** situações caracterizadas;
e, **para cada país citado**,
- B) **IDENTIFIQUE** o sistema econômico nele adotado;
- C) **APRESENTE um** procedimento do Estado, nele ocorrido, que evidencia desrespeito a direitos humanos.

1. A) País cujo desempenho da economia pode amenizar os efeitos da crise financeira global:

B) Sistema econômico adotado nesse país: _____

C) Procedimento do Estado que desrespeita a população nacional: _____

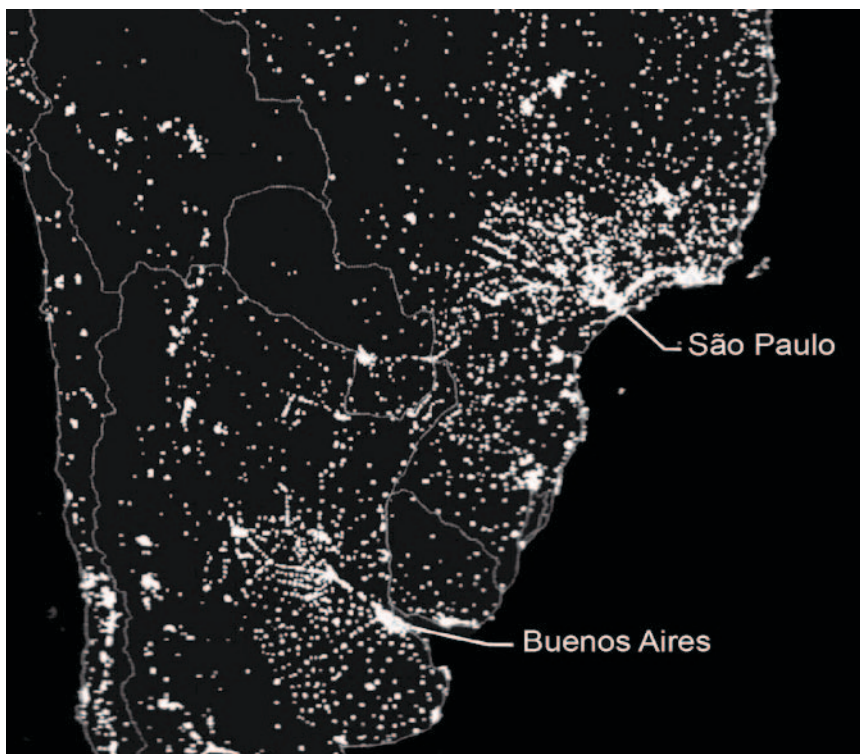
2. A) País que tem aumentado seu poderio nuclear: _____

B) Sistema econômico adotado nesse país: _____

C) Procedimento do Estado que desrespeita a população nacional: _____

QUESTÃO 05

Analise esta imagem noturna, em que está retratada parte do Continente Sul-Americano:



Csaba Deák. Globalização ou crise global? *Anais do Encontro Nacional da ANPUR*, 2001. Rio de Janeiro. Imagem publicada no Suplemento da *National Geographic*, out. 1998. (Adaptado)

A partir da análise dessa imagem e considerando outros conhecimentos sobre o assunto,

1. A) **IDENTIFIQUE um** fator de **ordem física** que justifica a distribuição espacial das regiões continentais escuras – ou seja, sem registro de luminosidade noturna – da área emersa retratada;

Fator: _____


- B) **CITE uma** região geográfica, entre as mostradas na imagem acima, em que está presente o fator identificado.

Região geográfica: _____



2. **EXPLIQUE** por que ocorre **maior** concentração de luminosidade noturna em Buenos Aires e em São Paulo, bem como nas imediações de ambas as cidades.

EM BRANCO



Vestibular
UFMG **2010** **no ritmo**
das suas
ideias

Questões desta prova podem ser reproduzidas para uso pedagógico, sem fins lucrativos, desde que seja mencionada a fonte: **Vestibular 2010 UFMG**. Reproduções de outra natureza devem ser previamente autorizadas pela Copeve/UFMG.