

# UFRN VESTIBULAR 2011

3º DIA  
HUMANÍSTICA II

## INSTRUÇÕES

- 1 Confira se os dados contidos na parte inferior desta capa estão corretos e, em seguida, assine no espaço reservado para isso.  
Se, em qualquer outro local deste Caderno, você assinar, rubricar etc., será automaticamente eliminado do Vestibular.

Verifique se este Caderno contém 12 questões discursivas, distribuídas de acordo com o quadro a seguir:

2	Francês	1 a 4
	História	5 a 8
	Geografia	9 a 12

- 3 Se o Caderno estiver incompleto ou contiver imperfeição gráfica que prejudique a leitura, peça imediatamente ao Fiscal que o substitua.

- 4 Será avaliado apenas o que estiver escrito no espaço reservado para cada resposta, razão por que os rascunhos não serão considerados.

- 5 Escreva de modo legível, pois dúvida gerada por grafia, sinal ou rasura implicará redução de pontos.

- 6 Interpretar as questões faz parte da avaliação; portanto, não adianta pedir esclarecimentos aos Fiscais.

- 7 Use exclusivamente a Caneta que o Fiscal lhe entregou. Em nenhuma hipótese se avaliará resposta escrita com grafite.

- 8 Utilize, para rascunhos, qualquer espaço em branco deste Caderno (exceto os reservados para as respostas) e não destaque nenhuma folha.

- 9 Você dispõe de, no máximo, quatro horas e meia para responder, em caráter definitivo, a todas as questões.

- 10 Antes de retirar-se definitivamente da sala, devolva ao Fiscal este Caderno.

Assinatura do Candidato: \_\_\_\_\_

O texto abaixo será referência para as questões de 1 a 4.

### Equateur. Le dilemme de l'or noir

Le président Rafael Correa propose de ne pas exploiter le pétrole du sous-sol de la plus grande réserve mondiale. En échange, il demande une compensation financière internationale, explique Le Temps.

C'est l'un des projets écologiques les plus novateurs jamais proposé par un pays producteur de pétrole : l'initiative Yasuni ITT (Ishpingo-Tambococha-Tiputini). Au nom de la préservation de l'environnement, le président de l'Equateur, Rafael Correa, est prêt à renoncer à l'exploitation d'un gisement d'or noir découvert dans une des dernières parcelles sauvages du parc national du Yasuni, situé en pleine jungle amazonienne. Un éden tropical qui pourrait offrir jusqu'à 850 millions de barils par an, soit 20% des réserves en hydrocarbures du pays. Mais, aussi, un poumon vert pour la planète : 100 000 hectares classés par l'UNESCO comme la plus grande réserve mondiale de la biosphère, car ils abritent 2.274 espèces d'arbres, 567 d'oiseaux, 80 de chauves-souris, 10 de primates, 105 d'amphibiens et plus de 100 000 espèces d'insectes à l'hectare ! C'est aussi le refuge de deux peuples indigènes qui vivent en isolement volontaire – les Tagaeri et les Taromenane – et de plusieurs milliers d'indiens Huaorani.

Mais la conservation du parc Yasuni n'est pas gratuite : l'Equateur demande à la communauté internationale une contrepartie financière équivalente à la moitié de ce que l'exploitation pétrolière lui aurait rapporté. Une enveloppe estimée à près de 6 milliards d'euros, selon les experts. « *Ce ne sont pas des aides ou de subventions que l'on demande aux pays riches* », précise Tarcisio Granizo, sous-secrétaire d'État au ministère du Patrimoine équatorien. « *On fait appel à la responsabilité partagée. Les pays développés doivent leur expansion en partie à la destruction des ressources naturelles. Aujourd'hui, nous les invitons à participer à la préservation de la planète.* » Sans parler du fait que la non-exploitation du gisement de Yasuni permettrait d'éviter l'émission de 410 millions de tonnes de CO<sub>2</sub> dans l'atmosphère. Le principe défendu par le président Correa est simple : les pays riches sont invités à alimenter un compte bloqué à hauteur de 275 millions d'euros sur dix ans. L'Equateur utiliserait les intérêts produits par ce compte pour investir dans quatre domaines : les énergies renouvelables, la conservation des zones protégées, la réforestation et le développement social durable en Amazonie.

L'idée a déjà séduit l'Allemagne, la Belgique et l'Espagne. La Suisse et la France sont intéressées par le projet. D'autres pays, comme la Turquie ou même l'Iran feraient aussi un geste. « *C'est le projet le plus novateur et le plus concret actuellement pour lutter contre le réchauffement climatique* », affirme Alberto Acosta, ex-ministre des Énergies et des Mines.

Car si l'Equateur opte finalement pour le plan B – l'exploitation du gisement –, les conséquences financières pour la communauté internationale ne seront pas anodines. Rien que pour neutraliser les émissions de carbone émises par la combustion de ce pétrole lourd, il faudrait dépenser près de 7 milliards d'euros, selon le gouvernement de Quito. Sans parler des impacts en termes de perte de biodiversité, de déforestation, de pollution des eaux et de l'air ou encore de maladies.

### **Questão 1**

Explique em que consiste a iniciativa Yasuni ITT, apresentada pelo Governo do Equador, e qual a importância dela?

..... Espaço destinado à Resposta .....

..... Fim do espaço destinado à Resposta .....

### **Questão 2**

Para concretizar o Projeto Yasuni ITT, o Governo Equatoriano pede à Comunidade Internacional uma contrapartida.

**A)** Qual é a exigência do referido Governo?

**B)** Qual o principal motivo alegado, por esse mesmo Governo, para tal exigência?

..... Espaço destinado à Resposta .....

..... Fim do espaço destinado à Resposta .....

### Questão 3

Com a concretização do Projeto Yasuni, explique:

- A) Como o Governo Equatoriano planeja administrar os recursos financeiros destinados a esse Projeto?
- B) Em que frentes de ação esses recursos serão aplicados?

..... Espaço destinado à Resposta .....

..... Fim do espaço destinado à Resposta .....

### Questão 4

- A) Como tem sido a recepção ao Projeto do Governo Equatoriano pelos países que já se manifestaram sobre ele?
- B) Como o referido Governo justifica essa recepção?


..... Espaço destinado à Resposta .....

..... Fim do espaço destinado à Resposta .....

### Questão 5

Entre as primeiras Civilizações Orientais, a Civilização Egípcia sobressaiu-se como uma das mais grandiosas e a mais duradoura. As necessidades de desenvolvimento da agricultura irrigada nas margens do rio Nilo exigiam uma direção centralizada. Nessas circunstâncias, a Civilização do Egito Antigo organizou-se em torno de uma Monarquia.

Entre as imagens mais populares ligadas ao Egito Antigo, estão as pirâmides. As mais conhecidas são as de Gizé, construídas no primeiro período da história política do Estado Egípcio, entre 3200 e 2300 a.C., conhecido como “Antigo Império”, retratadas na Figura abaixo.



Disponível em: <[www.suapesquisa.com/monumentos/piramides\\_gize.htm](http://www.suapesquisa.com/monumentos/piramides_gize.htm)>. Acesso em: 12 ago. 2010.

**A)** Mencione e comente duas características do Governo no Egito Antigo.

**B)** Explique o significado das pirâmides, relacionando-as ao poder no Egito Antigo.

-----  
Espaço destinado à Resposta  
-----

----- Fim do espaço destinado à Resposta -----

### Questão 6

Frequentemente o conhecimento histórico sobre a Segunda Guerra Mundial vem acompanhado de perplexidade, quando nos deparamos com os crimes cometidos por lideranças políticas da Alemanha, inspiradas no nazismo, amplamente divulgado entre o povo alemão. À medida que os campos de concentração foram denunciados, todo um espetáculo de barbárie veio à superfície, revelando os horrores que esses campos ocultavam.

**A)** Explique duas características da doutrina político-ideológica nazista.

**B)** Mencione e comente duas influências dessa doutrina no Brasil.


..... Espaço destinado à Resposta .....

..... Fim do espaço destinado à Resposta .....

### Questão 7

Analise o fragmento textual e a imagem abaixo.

“A História do Brasil, nos três primeiros séculos, está intimamente ligada à da expansão comercial e colonial europeia na época moderna. Parte integrante do império ultramarino português, o Brasil-colônia refletiu, em todo o largo período da sua formação colonial, os problemas e os mecanismos de conjunto que agitaram a política imperial lusitana. Por outro lado, a história da expansão ultramarina e da exploração colonial portuguesa se desenrola no amplo quadro da competição entre as várias potências, em busca do equilíbrio europeu [...]. A pressão das demais potências europeias cresceu a partir da união dinástica de Portugal e Espanha”.



Fortaleza dos Reis Magos – Monumento histórico do Rio Grande do Norte. Disponível em: <[www.fja.rn.gov.br](http://www.fja.rn.gov.br)>. Acesso em: 13 jul. 2010.

NOVAIS, Fernando A. O Brasil nos quadros do antigo sistema colonial. In: MOTA, Carlos Guilherme (Org.). **Brasil em perspectiva**. 15. ed. São Paulo: DIFEL, 1985. p. 47-54.

A partir da análise do fragmento textual e da imagem,

**A)** mencione e explique três fatores que impulsionaram a expansão marítimo-comercial europeia.

**B)** cite e comente duas razões que levaram, nesse contexto, à construção da Fortaleza dos Reis Magos.

..... Espaço destinado à Resposta .....

..... Fim do espaço destinado à Resposta .....

### Questão 8

O sistema capitalista teve suas origens com a expansão comercial europeia e consolidou-se com a denominada “Revolução Industrial”. No Brasil, as atividades capitalistas industriais desenvolveram-se no período compreendido entre as últimas décadas do século XIX e a “Era Vargas”, provocando significativas mudanças socioeconômicas.

Mencione e explique três mudanças socioeconômicas vinculadas ao processo de industrialização que se estruturou no País, do final do século XIX até a “Era Vargas”.

----- Espaço destinado à Resposta -----

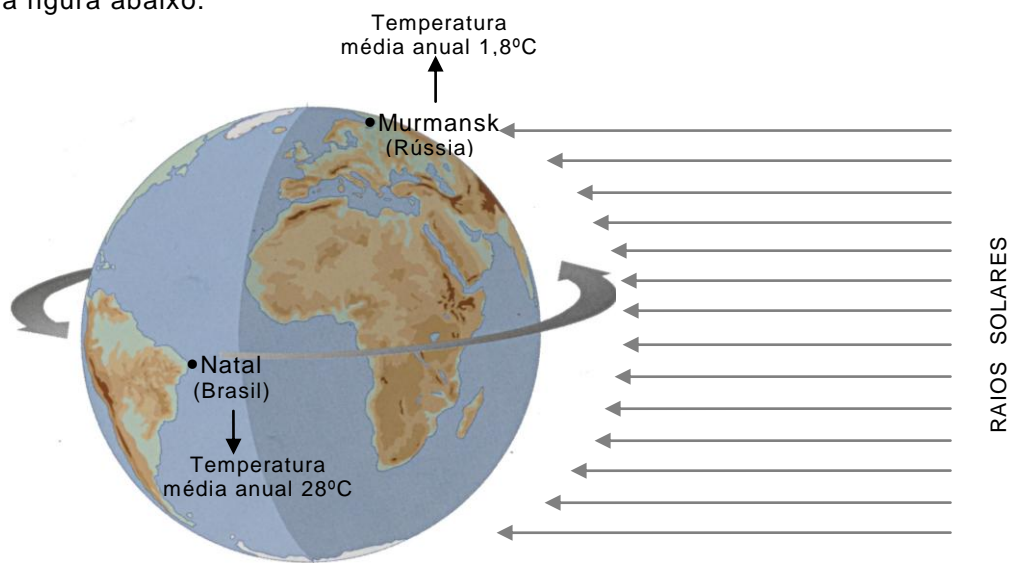
----- Fim do espaço destinado à Resposta -----



### Questão 9

Parte considerável da energia que atinge a Terra é proveniente do Sol. A distribuição da insolação na superfície é condicionada, dentre outros fatores, pelo grau de inclinação da Terra em relação ao Sol.

Observe a figura abaixo.



IBEP. Atlas geográfico escolar. São Paulo, 2008, p. 16. [Adaptado].

Considerando as informações da Figura e os fatores “**incidência da radiação solar**” e “**latitude**”:

**A)** justifique por que ocorrem diferenças de temperatura entre Natal e Murmansk.

**B)** apresente um exemplo de uma atividade econômica na Cidade de Natal que é diretamente favorecida pela incidência de radiação solar. Justifique.

..... Espaço destinado à Resposta .....

..... Fim do espaço destinado à Resposta .....

### Questão 10

O ano de 2008 foi marcado por uma crise econômica que se abateu sobre os Estados Unidos. Nesse País, os efeitos da crise puderam ser observados por meio do fechamento de bancos, da queda de ações em Bolsas de Valores, da falência no Setor Imobiliário, do aumento do desemprego. As informações sobre a referida crise circularam, simultaneamente, em diferentes partes do Mundo.

- A)** Justifique por que as informações sobre a crise dos EUA puderam ser acompanhadas, simultaneamente, em diferentes partes do Mundo.
- B)** Levando em consideração a globalização econômica, explique por que a crise que atingiu os Estados Unidos em 2008 afetou a Economia Mundial.

..... Espaço destinado à Resposta .....

..... Fim do espaço destinado à Resposta .....

### Questão 11

A biodiversidade do Planeta vem sendo ameaçada por problemas que afetam o funcionamento da Sociedade, da Natureza e da Economia. Nesse contexto, o aproveitamento da Amazônia passou a ser discutido, levando-se em consideração diferentes perspectivas de exploração.

Considerando a perspectiva econômica, por que a exploração sustentável do ecossistema florestal da Amazônia é considerada mais competitiva do que a exploração pela agropecuária?

..... Espaço destinado à Resposta .....

..... Fim do espaço destinado à Resposta .....

*Não Responda neste espaço.*

### Questão 12

O Rio Grande do Norte, nos últimos anos, apresentou um comportamento populacional variável, verificando-se que alguns Municípios tiveram crescimento demográfico, enquanto outros registraram redução ou estabilidade populacional.

Observe a Tabela a seguir, que mostra dados sobre a população do Município de Mossoró, nos anos de 1991 e 2000.

População do Município de Mossoró – 1991 e 2000

População	1991	2000	Varição relativa do crescimento (%)
Urbana	177.331	199.081	12,26
Rural	14.936	14.760	-1,17
Total	192.267	213.841	11,22

Disponível em: <<http://www.ibge.gov.br>>. Acesso em: 22 jul. 2010.

- A)** Qual o comportamento demográfico do Município de Mossoró, em termos de população total, urbana e rural, nos anos de 1991 e 2000?
- B)** Explique esse padrão de comportamento demográfico, relacionando-o à dinâmica socioeconômica regional.

----- Espaço destinado à Resposta -----

----- Fim do espaço destinado à Resposta -----