

**PROVA DE CONHECIMENTOS
GERAIS**

10,000 pontos distribuídos em 40 itens

1ª QUESTÃO

LÍNGUA PORTUGUESA

Leia o texto I, para solucionar os itens 01 a 04.

TEXTO I

Meu povo, meu poema

1. Meu povo e meu poema crescem juntos
2. como cresce no fruto
3. a árvore nova
4. No povo meu poema vai nascendo
5. como no canavial
6. nasce verde o açúcar
7. No povo meu poema está maduro
8. como o sol
9. na garganta do futuro
10. Meu povo em meu poema
11. se reflete
12. como a espiga se funde em terra fértil
13. Ao povo seu poema aqui devolvo
14. menos como quem canta
15. do que planta

(GULLAR, Ferreira. In. *Toda poesia*. 2.ed. Rio de Janeiro: Civilização, 1980.)

1. O discurso ganhou maior força argumentativa através da utilização:
 - (A) das reiteraões.
 - (B) das comparações.
 - (C) da gradação.
 - (D) do paralelismo.
 - (E) das antíteses.
2. A expressão conotativa “na garganta do futuro” (verso 9) pode ser classificada como um(a):
 - (A) metonímia.
 - (B) eufemismo.
 - (C) prosopopeia ou personificação.
 - (D) ironia.
 - (E) metáfora.
3. Sobre o texto é correto afirmar que está presente em todos os versos:
 - (A) a preocupação do poeta com a natureza.
 - (B) a dependência do poeta em relação ao povo.
 - (C) a semelhança da ação do poeta com a ação do povo.
 - (D) o hermetismo do poeta em relação à simplicidade do povo.
 - (E) a dependência da situação comunicativa do povo com o poeta.
4. Em “No povo meu poema **vai nascendo**” (verso 4), a expressão em negrito sugere uma ação durativa:
 - (A) em que predomina ideia de intensidade.
 - (B) para exprimir o momento de angústia vivido pelo eu-lírico.
 - (C) realizada imediatamente antes da indicada na oração principal.
 - (D) progressiva e acabada, mais acentuada porque está sendo reiterada.
 - (E) que se realiza gradualmente em direção à época ou ao lugar em que o eu-lírico se encontra.

(E) Todas as afirmativas estão corretas.

10. Analise as frases abaixo quanto à regência de alguns verbos e/ou nomes e, em seguida, assinale a alternativa correta.

- I. Pedi-lhe que viesse logo.
 - II. Entrei e saí das salas confuso e desorientado.
 - III. O que não se justifica, é o sentimento de desprezo por alguém.
 - IV. Ele era avesso a que mentissem para o professor.
 - V. Digne-se em aceitar meu pedido de demissão.
- (A) Somente I, III e IV estão corretas.
(B) Somente II e III estão corretas.
(C) Somente II e V estão corretas.
(D) Somente III e IV estão corretas.
(E) Somente IV e V estão corretas.

HISTÓRIA DO BRASIL

11. Quanto à presença holandesa no nordeste brasileiro, analise as afirmativas abaixo e, a seguir, assinale a alternativa correta.

- I. A primeira tentativa de conquista holandesa no Brasil ocorreu em 1624. O alvo era Salvador, a capital da colônia.
 - II. Em 1630 os holandeses chegaram a Pernambuco, dominando, sem maiores problemas, Recife e Olinda, apesar dos preparativos de defesa efetuados pelos pernambucanos.
 - III. No governo de Maurício de Nassau não houve a menor preocupação com a reorganização da produção açucareira, sendo esse administrador holandês um forte aliado dos senhores de engenho de Pernambuco.
 - IV. Depois da saída de Maurício de Nassau do Brasil, a administração holandesa tornou-se dura e violenta.
- (A) Somente I, II e III estão corretas.
(B) Somente I, II e IV estão corretas.
(C) Somente I e III estão corretas.
(D) Somente II e III estão corretas.

12. Em relação às mobilizações e greves operárias ocorridas no Brasil durante a Primeira República, analise as afirmativas abaixo e, a seguir, assinale a alternativa correta.

- I. Reivindicavam melhores condições de trabalho e melhorias salariais, mas não apresentavam, ainda, um caráter organizado que resultasse em efeitos significativos para a massa trabalhadora.
 - II. Muitas inspiravam-se nas ideias anarquistas mas, até 1919, a maior parte das mobilizações era organizada e liderada pelos representantes do Partido Comunista do Brasil, inspirados na Revolução Russa de 1917.
 - III. Por conta das grandes agitações lideradas por operários imigrantes, o governo promulgou uma lei, em 1907, que expulsava do país o estrangeiro que ameaçasse a segurança nacional ou a ordem pública.
- (A) Somente I e II estão corretas.
(B) Somente II está correta.
(C) Somente II e III estão corretas.
(D) Somente III está correta.
(E) Todas as afirmativas estão corretas.

13. Analise as afirmativas sobre alguns acontecimentos do Governo Provisório de Getúlio Vargas e, a seguir, assinale a alternativa correta.

- I. Foi promulgado o Código dos Interventores, documento que legalizava a substituição dos governadores de estados por aliados civis indicados por Getúlio Vargas.
 - II. Suspensão da Constituição Republicana de 1891 com o fechamento dos órgãos legislativos e a indicação de interventores militares para os estados.
 - III. Ocorreu uma grave crise econômica por conta da desvalorização do café no mercado interno, que só foi superada após um acordo comercial com os Estados Unidos, maiores importadores do café brasileiro.
- (A) Somente I está correta.
(B) Somente I e III estão corretas.
(C) Somente II está correta.
(D) Somente II e III estão corretas.

(E) Somente III está correta.

(E) Conjuração Baiana.

Diretor de Ensino

14. Analise as afirmativas abaixo que se referem à Guerra do Paraguai, colocando entre parênteses a letra “V”, quando se tratar de afirmativa verdadeira, e a letra “F” quando se tratar de afirmativa falsa. A seguir, assinale a alternativa que apresenta a sequência correta.

- () A proibição da navegação brasileira em águas paraguaias e a invasão do território do Mato Grosso pelas tropas de Solano López foram o estopim deflagrador do conflito.
- () A assinatura do Tratado da Tríplice Aliança, em 1865, representou uma derrota diplomática para o Paraguai, que contava com a neutralidade do governo argentino e com o apoio da população de Corrientes, província invadida naquele mesmo ano.
- () O recrutamento de combatentes para a guerra contava, entre outros meios, com a arregimentação de escravos que buscavam a alforria prometida pelo governo do Brasil, como recompensa pela luta nos campos de batalha.
- () A derrota paraguaia no conflito deveu-se, principalmente, ao despreparo do exército paraguaio e à deficiência da economia daquele país, altamente dependente do capital estrangeiro, sobretudo, da Inglaterra.
- () No que se refere ao Brasil, a vitória da Tríplice Aliança fortaleceu o Exército e o sentimento de identidade nacional e, conseqüentemente, a figura do imperador D. Pedro II e da política imperial.

- (A) V – V – F – F – V
- (B) F – V – V – F – V
- (C) F – F – V – V – F
- (D) V – V – V – F – F
- (E) V – F – V – F – F

15. Um clima de tensão e revolta tomou conta das camadas mais altas da sociedade quando o governador da capitania, o Visconde de Barbacena, anunciou que haveria uma nova derrama. Ou seja, haveria uma nova cobrança forçada de impostos atrasados. Os fatos do enunciado acima se aplicam ao movimento que atingiu o Brasil durante o século XVIII e que se denominou:

- (A) Revolta de Vila Rica.
- (B) Guerra dos Emboabas.
- (C) Guerra da Cisplatina.
- (D) Inconfidência Mineira.

16. Analise as afirmativas abaixo sobre alguns acontecimentos do governo de Eurico Gaspar Dutra, colocando entre parênteses a letra “V”, quando se tratar de afirmativa verdadeira, e a letra “F” quando se tratar de afirmativa falsa. A seguir, assinale a alternativa que apresenta a sequência correta.

- () Foi promulgada a Constituição de 1946 que estabelecia eleições diretas para os cargos executivos e legislativos municipais, estaduais e federais.
- () Houve o rompimento de relações com a União Soviética e o Partido Comunista do Brasil foi colocado na ilegalidade.
- () Foram priorizados os aspectos políticos aos econômicos e continuou assegurando as vantagens às elites agrárias em detrimento de um projeto modernizador.
- () Foi implantado um plano de metas, o Plano Salte, com ênfase na produção de energia e na industrialização priorizando aspectos como saúde, alimentação, transporte e energia.

- (A) V – V – F – V
- (B) V – F – F – V
- (C) V – V – F – F
- (D) F – V – F – F
- (E) F – V – V – V

17. Analise as afirmativas sobre o nacional desenvolvimentismo do governo de Juscelino Kubitschek e, a seguir, assinale a alternativa correta.

- I. O Estado reafirmou o seu papel de promotor das melhorias de infraestrutura tendo como parceiros o capital privado nacional e o estrangeiro.
- II. Teve no Plano de Metas o seu principal projeto de desenvolvimento com a pretensão de realizar mudanças estruturais na economia e estimular o crescimento industrial.
- III. Criou a SUDENE no intuito de resolver problemas de ordem econômica e social da região Nordeste.
- IV. Apesar do caráter modernizador na economia, politicamente o governo de Juscelino refletia a continuidade dos mecanismos eleitoreiros e da instabilidade política.

- (A) Somente I, II e III estão corretas.
- (B) Somente I e II estão corretas.

- (C) Somente I, III e IV estão corretas.
(D) Somente II, III e IV estão corretas.
(E) Somente II e IV estão corretas.

18. Relacione a coluna da direita com a da esquerda, identificando situações e fatos que se referem aos presidentes em destaque e seus respectivos governos e, a seguir, assinale a alternativa que apresenta a sequência correta.

PRESIDENTES

1. José Sarney
2. Fernando Collor de Mello
3. Itamar Franco
4. Fernando Henrique Cardoso

SITUAÇÕES/FATOS

- () O Brasil reatou as relações diplomáticas com Cuba rompidas desde 1964.
- () Concentração de medidas relacionadas à estabilização econômica e uma acentuada política de privatizações.
- () Foi lançado o Plano Bresser, pacote econômico que congelava preços, aumentava tarifas públicas e impostos e extinguiu o abono salarial.
- () Foi implantado o Plano Real que criava uma nova moeda e a URV (Unidade Real de Valor), que funcionava como um indexador para realizar a transição entre o Cruzeiro e o Real.
- () Ocorreu a abertura do mercado brasileiro às importações que pressionou a modernização da indústria nacional para concorrer com os produtos estrangeiros.

- (A) 1 – 4 – 1 – 2 – 3
(B) 2 – 1 – 4 – 3 – 2
(C) 1 – 4 – 1 – 3 – 2
(D) 3 – 4 – 2 – 1 – 1
(E) 4 – 4 – 1 – 3 – 2

19. A trajetória política do Brasil Republicano foi constantemente marcada por acirradas disputas eleitorais e partidárias. Analise as afirmativas abaixo em relação aos aspectos políticos da nossa história nesse período e, a seguir, assinale a alternativa correta.

- I. O viés personalista da política nacional, desde a Primeira República, tem se constituído como um entrave à plena representação política por se caracterizar, em algumas situações, como um mecanismo eleitoreiro e de defesa de interesses pessoais.
- II. A pluralidade de partidos no Brasil representa o resultado de uma trajetória de consolidação dos ideais democráticos e representativos à medida que permite a configuração de um quadro partidário bastante amplo e diversificado.
- III. A homogeneização ideológica dos partidos políticos no Brasil está diretamente relacionada à consolidação das vertentes neoliberais que têm se destacado, sobretudo, desde o final da década de 1980.
- IV. O sistema eleitoral no Brasil é considerado como um dos mais modernos do mundo, tendo no rígido sistema de filiação política um dos elementos que lhe garante essa condição, desde que obedecidos os prazos em relação às eleições e autorizada pelo TSE.
- V. A prática de troca de partidos entre os políticos brasileiros foi alvo de muitos protestos ao longo da história republicana, o que gerou inúmeras propostas de reforma política com ênfase na fidelidade partidária.

- (A) Somente I e II estão corretas.
(B) Somente I, II e V estão corretas.
(C) Somente II, III e V estão corretas.
(D) Somente II, IV e V estão corretas.
(E) Todas as afirmativas estão corretas.

Leia o trecho abaixo para responder o item 20.

“Não menos de seis mil casas de comércio a retalho se acham em Pernambuco, e todas elas de estrangeiros: assim – lojistas, quitandeiros, taberneiros, armazeneiros, trapicheiros, açucareiros, padeiros, casas de roupa feita, de calçado, funileiros, tanoeiros e tudo é estrangeiro.”

CASTRO, Therezinha. História documental do Brasil.

20. A citação acima se refere ao acontecimento ocorrido no ano de 1848, em Pernambuco, conhecido como “Revolução Praieira”. Depreende-se da análise do texto e do contexto histórico ao qual se refere que as principais causas daquele movimento foram:

- (A) A lusofobia fortalecida pelas ideias socialistas dos praieiros e o repúdio a qualquer tipo de relação comercial com estrangeiros como forma de combate ao liberalismo econômico da época.
- (B) O combate ao domínio oligárquico dos senhores de engenho e a presença portuguesa no Brasil com a radicalização das ideias liberais pregadas pelas lideranças do movimento que, entre outras coisas, reivindicavam a abolição da escravidão no Brasil.
- (C) A destituição do governo conservador da presidência da província, após ataque dos praieiros à cidade de Recife e a implantação de um governo liberal, apoiado pelos comerciantes portugueses e contestado pelos senhores de engenho da região.
- (D) A crise da produção açucareira e o fortalecimento político dos setores liberais – senhores de engenhos menores, profissionais liberais, artesãos, etc. – que monopolizavam o grande comércio local em detrimento do pequeno comércio exercido por estrangeiros, principalmente, pelos portugueses.
- (E) A insatisfação com a centralização política e o favorecimento do Centro-Sul; o combate ao domínio oligárquico dos grandes senhores de engenho e ao monopólio do comércio pelos portugueses.

GEOGRAFIA DO BRASIL

21. Assinale a alternativa que representa uma das situações adversas que afetaram o funcionamento do Mercosul.
- (A) Os alinhamentos políticos de cada país com a União Europeia.
 - (B) A crise econômica e política que abalou a Argentina no início desta década.
 - (C) Os acordos bilaterais da Argentina com os Estados Unidos.
 - (D) A crise do gás entre o Brasil e a Bolívia.
 - (E) As aproximações entre a Venezuela e o Uruguai.
22. Sobre as consequências da descentralização industrial ocorrida no Brasil a partir da década de 1970, pode-se afirmar que:
- (A) o Sudeste apresentou um aumento expressivo de indústrias com certificação ecológica.
 - (B) o Centro-Oeste foi a região que apresentou os maiores ganhos locais.
 - (C) o Norte aparece como destaque na abertura de postos de trabalho.
 - (D) o Sul apresentou o melhor desempenho relativo na geração de empregos.
 - (E) o Nordeste foi a região que mais se beneficiou deste processo.
23. A partir da década de 1980, a cidade de São Paulo, passou por um processo de perda relativa da sua participação industrial para outras regiões do Estado de São Paulo e do Brasil. Pode ser associado a esta afirmativa a(s):
- (A) sua transição para cidade informacional.
 - (B) crise tecnológica do final da década de 1980.
 - (C) ascensão de centros que rivalizaram o seu poder.
 - (D) constantes greves de trabalhadores do setor industrial.
 - (E) homogeneização do desenvolvimento nacional.

Diretor de Ensino

(E) a Serra dos Carajás no Amazonas e o Maciço de Urucum em Tocantins, representam as mais importantes áreas de exploração de minerais não metálicos do Brasil.

24. O desenvolvimento capitalista brasileiro criou condições para tornar a cidade de São Paulo uma metrópole com grande poder de centralização, devido a característica de:

- (A) ter se conurbado com a cidade do Rio de Janeiro, passando à condição de megalópole.
- (B) ser a única cidade brasileira integrada a uma rede mundial de cidades.
- (C) ser uma metrópole econômica e ter a contiguidade moderna.
- (D) ter uma grande representação parlamentar e ser a Região Metropolitana com o maior número de municípios.
- (E) ter uma população acima de 10 milhões de habitantes, em crescimento acelerado, e abrigar mais da metade dos estabelecimentos agroindustriais do país.

25. Sobre a questão regional brasileira, é correto afirmar que:

- (A) a desintegração entre todas as regiões se dá de forma homogênea.
- (B) o desenvolvimento do turismo no Nordeste aproximou esta região do Sudeste.
- (C) o Norte do Brasil pode ser equiparado, em desenvolvimento econômico, ao Centro-Oeste.
- (D) o Sul vem passando por um persistente processo de desintegração.
- (E) Sul e Sudeste passam a ter um processo de integração muito expressivo.

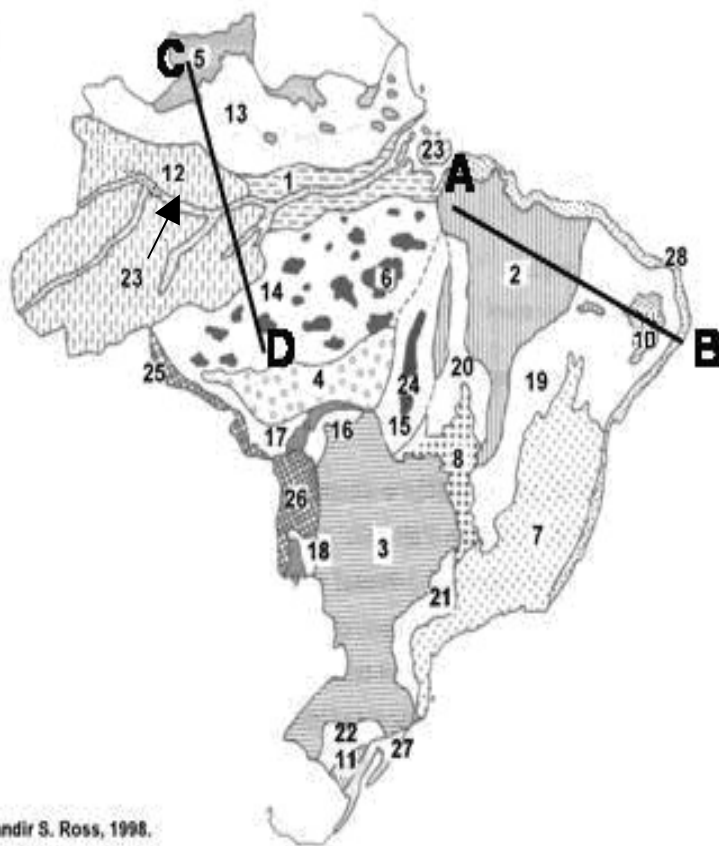
26. Sobre a questão dos recursos minerais no Brasil, é correto afirmar que:

- (A) a criação das estruturas estatais como a Companhia Siderúrgica Nacional e Petrobrás foi importante para o crescimento do setor, apoiada em uma forte participação do capital privado.
- (B) o primeiro Código de Minas no Brasil fez importante ressalva à exploração de bens minerais, reservando somente aos brasileiros sua exploração, aspecto ainda hoje mantido.
- (C) o setor mineral no Brasil apresenta três importantes segmentos: a metalurgia, a química e a indústria de cimento.
- (D) dos vários tipos de recursos minerais, os combustíveis fósseis são os mais explorados no Brasil, respondendo a um percentual em torno dos 48% do valor da extração.

Considere o mapa abaixo para responder os itens 27 e 28.

Jurandir Ross propôs uma classificação do relevo brasileiro baseada em um conceito genético utilizando a terminologia: Planície, Planalto e Depressão. O mapa mostra estes vários compartimentos.

MAPA DAS UNIDADES DE RELEVO BRASILEIRO



Fonte: Jurandir S. Ross, 1998.

27. O corte A-B representado no mapa define a passagem pelas seguintes unidades do relevo.

- (A)** Planaltos e Chapadas da Bacia do Parnaíba (2) – Bacia do Rio São Francisco (19) – Altiplano da Borborema (10) – Planícies e Tabuleiros Cambrianos (28)
- (B)** Planaltos e Chapadas da Bacia do Paraná (2) – Bacia do Rio São Francisco (19) – Planalto Nordestino (10) – Tabuleiros Orogênicos (28)
- (C)** Planaltos do Meio-Norte Nordestino (2) – Bacias Dobradas do Paraíba (19) – Depressão da Borborema (10) – Planícies e Tabuleiros Marinhos (28)
- (D)** Planaltos e Chapadas da Bacia do Parnaíba (2) – Bacias Sedimentares do Apodi e Araguaia (19) – Serra da Borborema (10) – Depressões Periféricas do Litoral (28)
- (E)** Planaltos e Chapadas da Bacia do Parnaíba (2) – Depressão Sertaneja e do São Francisco (19) – Planalto da Borborema (10) – Planícies e Tabuleiros Litorâneos (28)

28. O corte C-D mostra a passagem por cinco unidades do relevo brasileiro. São elas:

- (A)** Planaltos Residuais do Sudoeste Amazônico (5) – Depressão Planáltica Norte-Amazônica (13) – Depressão Meridional Ocidental (12) – Planície do Rio Amazonas (23) – Depressão Marginal de Sudeste (14)
- (B)** Planaltos Residuais Norte-Amazônico (5) – Depressão Marginal Norte-Amazônica (13) – Depressão da Amazônia Ocidental (12) – Depressão Marginal Sul-Amazônica (23) – Tabuleiros Orogênicos (14)
- (C)** Planaltos Residuais Norte-Amazônico (5) – Depressão Marginal Norte-Amazônica (13) – Depressão da Amazônia Ocidental (12) – Planície do Rio Amazonas (23) – Depressão Marginal Sul-Amazônica (14)
- (D)** Planaltos e Chapadas da Bacia do Parnaíba (5) – Planaltos Residuais Norte-Amazônico (13) – Depressão Marginal Norte-Amazônica (12) – Planície do Rio Amazonas (23) – Depressão Marginal do Pantanal (14)
- (E)** Planaltos Amazônicos (5) – Tabuleiros Marginais (13) – Depressão da Amazônia Ocidental (12) – Planície do Rio Amazonas (23) – Depressão Marginal Sul-Amazônica (14)

29. Relacione as diferentes massas de ar com as suas respectivas características e, a seguir, assinale a alternativa que apresenta a sequência correta.

MASSAS DE AR

- .1 Tropical Continental
- .2 Equatorial Continental
- .3 Equatorial Atlântica
- .4 Tropical Atlântica
- .5 Polar Atlântica

CARACTERÍSTICAS

- () É quente e úmida e vem do Atlântico Norte. Forma os ventos alíseos de nordeste. Sua principal atuação é no litoral das Regiões Norte e Nordeste.
- () É fria, úmida e originária do Atlântico Sul. Durante o inverno encontra-se bastante fortalecida.
- () É quente e úmida e vem do Atlântico Sul. Forma os ventos alíseos de sudeste. Atua principalmente na faixa atlântica leste do Brasil.
- () É quente e seca, surge na Depressão do Chaco. Sua área de influência é parte da Região Sul e Sudeste, e a Região Centro-Oeste.

- (A) 5 – 4 – 1 – 3
- (B) 3 – 5 – 4 – 1
- (C) 3 – 5 – 2 – 1
- (D) 5 – 3 – 4 – 1
- (E) 3 – 2 – 4 – 5

30. Quais são as três grandes macroestruturas geológicas que desempenham importante papel na configuração do relevo brasileiro?

- (A) Áreas cratônicas, áreas de dobramentos antigos e bacias interioranas.
- (B) Zonas granitoides, zonas de dobramentos modernos e bacias sedimentares.
- (C) Bacias modernas, dobramentos cratônicos e planícies sedimentares.
- (D) Bacias sedimentares, áreas cratônicas e dobramentos antigos.
- (E) Planícies orogênicas, dobramentos antigos e depressões cratônicas.

2ª QUESTÃO

ATENÇÃO

O candidato deve responder, somente, os itens referentes ao idioma estrangeiro pelo qual fez opção no seu requerimento de inscrição, devendo marcar suas respostas no cartão de respostas.

INGLÊS

Answer questions 31 and 32 according to the text below.

TEXT I

AMERICAN INDIANS

1. The ancestors of today's Indians once had the whole of North America
2. for their hunting grounds. They were descendants of migrants who crossed
3. over from Asia at least before the last ice age ended, about eleven thousand
4. years ago. A land bridge probably existed where Bering Strait is now. The
5. Indians who stayed north of Mexico roamed the continent's green forests and
6. swift rivers at will. Then came the white man. Slowly, irrevocably, the Indian
7. was driven from his land. Long, painful years of adjustment followed, during
8. which attempts were made to pay the Indian for his losses, and some Indians
9. tried to fit into the white man's society.
- 10.- Both the American and Canadian governments set aside for the Indians
11. tracts of land called reservation or reserves. There the Indians could pursue
12. their traditional pattern of living without interference. At the same time the
13. governments provided the reservations with roads, schools, doctors, hospital
14. service, often farming advisers and social workers. Funds were also available
15. to help some Indians obtain a college education.

(Lands and Peoples –the world in color, New York: Grolier Incorporated, 1970, vol 6, p.17)

31. According to the text, the Indians:

- (A) were migrants.
- (B) pursued the white man.
- (C) crossed over from Asia.
- (D) drove to Mexico to escape.
- (E) were paid for their losses.

32. On line 11, the word "pursue" means:

- (A) to convince someone of something.
 (B) to continue doing something.
 (C) to promise.
 (D) to ask.
 (E) to chase or follow someone.

33. Choose the answer that appropriately completes the sentence:

“Maria wants to talk to me but I don’t want to talk to ____.”

- (A) she
 (B) he
 (C) her
 (D) hers
 (E) him

34. Which alternative best completes the dialogue below:

- A. _____ do you do?
 B. I am a student.
 A. _____ do you go to school?
 B. I am studying law _____ UFRJ.
 A. _____ do you like it?
 B. I like it very much, it is a great course.

- (A) What – Where – at – How
 (B) How – When – in – What
 (C) When – Where – on – Which
 (D) What – When – in – What
 (E) How – What – at – When

35. What is the superlative form of the following adjectives “hot – young – bad – easy”?

- (A) The hottest – the more young – the worse – the more easy
 (B) The hottest – the youngest – the worst – the easiest
 (C) The more hot – the youngest – the worst – the easiest
 (D) The more hot – the more young – the worst – the more easy
 (E) The hottest – the youngest – the worse – the easiest

36. Choose the best alternative to complete the question below:

There _____ seventeen different types of penguins. They can be _____ forty centimeters to more than one meter tall. They all _____ in the south part of the world. In winter, they swim _____ long way to find warm weather.

- (A) are – from – live – a
 (B) be – by – lived – the
 (C) was – between – will live – a
 (D) were – at – live – an
 (E) are – from – lived – an

37. Choose the alternative that best completes the dialogue below.

- A. _____ different types of penguins inhabit the South Pole?
 B. I don’t know. Ten, maybe.
 A. No, fifteen. And _____ tall can they grow?
 B. I have no idea. One meter?
 A. That’s right. _____ do they leave the South Pole?
 B. Probably in winter.
 A. Excellent.
 B. _____ are you asking me all these questions?
 A. Because I want to see if you did your homework!

- (A) How much – who – When – How
 (B) How many – how – Where – Which
 (C) How much – when – Who – Why
 (D) How many – who – When – How
 (E) How many – how – When – Why

38. Choose the answer with the verbs that appropriately completes the text below :

“My flight to São Paulo _____ at 10 pm. I bought tickets for the theater. I _____ a musical, and after I _____ with my friends.”

Diretor de Ensino

A partir del texto I, responda a los ítemes 31 a 36.

- (A) leaves – go to – am going to
- (B) is going to leave – am going to – am going to
- (C) will leave – am going to – am having
- (D) is leaving – will watch – will have
- (E) leaves – am going to – am having.

39. Write “T” if the sentence is grammatically correct, and “F” if it is grammatically incorrect. Then choose the alternative with the correct sequence.

- () Many animals are disappearing because of the greenhouse effect.
- () Most of the animals in the zoo are sick.
- () There are only a little monkeys in the zoo.
- () Birds need few water to live.
- () Lions eat a lot of meat.

- (A) T – F – F – T – F
- (B) F – T – T – F – T
- (C) T – T – F – F – T
- (D) F – F – F – F – T
- (E) T – T – T – T – F

40. Choose the best alternative to complete the question below:

Which animal do you like _____, tigers or lions?

- (A) most
- (B) the most
- (C) many
- (D) more
- (E) much

TEXTO I

1. El gran tema de Don Quijote de La Mancha es la ficción, su razón de
2. ser, y la manera como ella, al infiltrarse en la vida, la va modelando,
3. transformando. Así, lo que parece a muchos lectores modernos el tema
4. “borgiano” por antonomasia es, en verdad, un tema cervantino que, siglos
5. después, Borges resucitó, imprimiéndole un sello personal.
6. La ficción es un asunto central de la novela, porque el hidalgo
7. manchego que es su protagonista ha sido “desquiciado” – también en su
8. locura hay que ver una alegoría o un símbolo antes que un diagnóstico
9. clínico – por las fantasías de los libros de caballerías, y, creyendo que el
- 10.-mundo es como lo describen las novelas de Amadises y Palmerines, se lanza
- 11..a él en unas aventuras que vivirá de manera paródica, provocando y
- 12..padeciendo pequeñas catástrofes.
- 13..(.....)
- 14.. La literatura caballescica que hace perder los sesos al Quijote – esta
- 15..es una expresión que hay que tomar en un sentido metafórico más que literal
- 16..– no es “realista”, porque las delirantes proezas de sus paladines no reflejan
- 17..una realidad vivida. Pero ella es una respuesta genuina, fantasiosa, cargada
- 18..de ilusiones y anhelos, y, sobretudo, de rechazo a un mundo real en el que
- 19..ocurría exactamente lo opuesto a ese quehacer ceremonioso y elegante, a esa
- 20..representación en la que siempre triunfaba la justicia, y el delito y el mal
- 21..merecían castigo y sanciones, en el que vivían, sumidos en la zozobra y la
- 22..desesperación, quienes leían (o escuchaban leer en las tabernas y en las
- 23..plazas) ávidamente las novelas de caballerías.

(Cervantes, Miguel de. Don Quijote de La Mancha. Prólogo por Mario Vargas Llosa. “Una Novela para el Siglo XXI”. Real Academia Española, 2004, Alfaguara. Edición Única)

31. Los términos “desquiciado” (raya 7) y “zozobra” (raya 21) se refieren, respectivamente, a:

- (A) perder el juicio – tener tristeza e inseguridad.
- (B) equilibrar el desorden – cometer locuras.
- (C) cerrarse de la mente – abrirse de pensamiento.
- (D) conservar la lucidez – conservar la calma.
- (E) reírse demasiado – desordenar las cosas.

32. Cuando se habla de “paladines” (raya 16) en este prólogo, se habla de:

- (A) detractores del mal.
- (B) protagonistas de la historia.
- (C) luchadores incansables.
- (D) grupo de pobres y desprotegidos.
- (E) caballeros valientes y nobles.

33. Según el último párrafo del prólogo, los siguientes sustantivos son consecuencia uno del otro:

- (A) sesos – proezas.
- (B) justicia – mal.
- (C) delito – castigo.
- (D) quehacer – representación.
- (E) tabernas – plazas.

34. Con respecto a los pronombres personales átonos, en: “imprimiéndole” (raya 5), “le” se refiere a:

- (A) tema “borgiano”.
- (B) tema cervantino.
- (C) Borges.
- (D) Don Quijote de la Mancha.
- (E) muchos lectores.

35. El término “paródica” (raya 11) se relaciona con:

- (A) pantomimas de la vida cervantina.
- (B) semejanzas entre una prosa y otra.
- (C) imitación ridícula con bromas y burlas.
- (D) un éxtasis en el hablar de las novelas de caballerías.
- (E) una idea sintáctica y lúdica.

36. Las palabras “ilusiones y anhelos” (raya 18) tienen el mismo significado que:

- (A) alegrías y bromas.
- (B) esperanzas y deseos.
- (C) gratitudes y alabanzas.
- (D) imágenes y fantasías.
- (E) glorias y honras.

A partir del texto II, responda a los ítemes 37 y 38.

TEXTO II

TIRA DE MAFALDA



37. La partícula “Lo” del recuadro está empleado:

- (A) como un pronombre definido.
- (B) como un pronombre indefinido.
- (C) incorrectamente por Mafalda.
- (D) como un artículo neutro delante del adjetivo.
- (E) como un adverbio neutro.

38. Respecto al verbo “quieren”, se puede afirmar que el verbo “querer” está conjugado en:

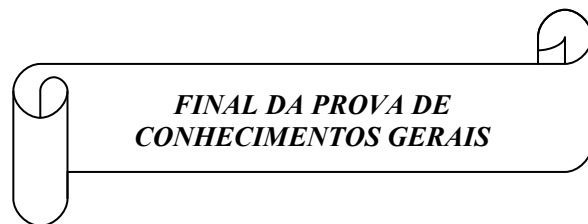
- (A) condicional.
- (B) pretérito perfecto.
- (C) pretérito indefinido.
- (D) presente de indicativo.
- (E) presente de subjuntivo.

39. Es correcto afirmar que la función sintáctica de la expresión subrayada en: “El hombre desde sus comienzos extrae la materia”, es:

- (A) predicado verbal.
- (B) núcleo del sujeto.
- (C) complemento directo.
- (D) complemento indirecto.
- (E) complemento adverbial.

40. La función sintáctica de la expresión subrayada en: “Así se sucedieron las diferentes edades en que se clasifica su historia”, es:

- (A) complemento directo.
- (B) sujeto compuesto.
- (C) adjunto adnominal.
- (D) sujeto simples.
- (E) complemento indirecto.



PROVA DE CONHECIMENTOS
ESPECÍFICOS

INFORMÁTICA

QUESTÃO ÚNICA

10,000 pontos distribuídos em 40 itens

41. Para encontrar a descrição completa do funcionamento de um comando do sistema operacional Linux, qual dos comandos abaixo deve ser utilizado em uma tela de terminal?
- (A) *apropos* comando
 - (B) *man* comando
 - (C) *whatis* comando
 - (D) *less* comando
 - (E) *help* comando
42. No Linux, qual dos comandos abaixo permitirá que a interface de rede *eth0* receba todos os pacotes que trafegam pela rede?
- (A) *ifconfig eth0 all*
 - (B) *ifconfig eth0 -promisc*
 - (C) *ifconfig eth0 promisc*
 - (D) *ifconfig eth0 tunnel*
 - (E) *ifconfig eth0 -tunnel*
43. Qual dos conjuntos de cadeias abaixo está pré-configurado na tabela NAT do comando *iptables* do Linux?
- (A) INPUT, FORWARD e OUTPUT
 - (B) INPUT, NAT e OUTPUT
 - (C) INPUT, ROUTING e OUTPUT
 - (D) PREROUTING, FORWARD e POSTROUTING
 - (E) PREROUTING, OUTPUT e POSTROUTING

44. Qual dos comandos abaixo deve ser usado para melhorar o desempenho de uma biblioteca estática no Linux?
- (A) *ranlib*
 - (B) *ldd*
 - (C) *nm*
 - (D) *ldconfig*
 - (E) *ll*
45. Em relação à suíte de aplicativos para escritórios OPENOFFICE e sua versão brasileira BrOffice 2.0, o acionamento da tecla de atalho CTRL+SHIFT+P no aplicativo Writer tem qual resultado em um texto selecionado?
- (A) Justifica
 - (B) Sublinhado duplo
 - (C) Sobrescrito
 - (D) Alinhado à esquerda
 - (E) Centralizado
46. Considere o trecho de código abaixo em linguagem C:
- ```
#include <stdio.h>
int main(int argc, char* argv[]) {
 int v= 17, j= 1 << 7, i;
 for(i= 0; i < 8; i++) {
 putchar(v & j ? '1' : '0');
 v <<= 1;
 }
}
```
- Pode-se afirmar que:
- (A) imprimirá na tela a sequência 0010001
  - (B) imprimirá na tela a sequência 00010001
  - (C) imprimirá na tela a sequência 010001
  - (D) imprimirá na tela a sequência 10001
  - (E) compilará com erros

47. Considere a seguinte função recursiva em linguagem C:

```
int serie(int num)
{
 if(num==1 || num==2)
 return 2;
 else
 return serie(num-1) * serie(num-2);
}
```

A execução do trecho de código abaixo resultará em qual sequência de números?

```
for(i=0; i<5; i++)
 printf("%d ", serie(i+1));
```

- (A) 0, 1, 1, 2, 3
- (B) 1, 2, 3, 4, 5
- (C) 2, 2, 4, 8, 32
- (D) 1, 2, 2, 4, 8
- (E) 0, 1, 0, 0, 0

48. A “condição de inanição” de um processo pode ser definida como uma condição em que o processo:

- (A) conclui antes do tempo necessário.
- (B) está em *deadlock*.
- (C) está travado pelo semáforo de outro processo.
- (D) não precisa de qualquer recurso do sistema para seguir executando.
- (E) nunca tem acesso ao recurso necessário.

49. A fragmentação externa de memória causada pelo gerenciamento de memória em um sistema é originada por:

- (A) mapeamento da memória em blocos com tamanho fixo.
- (B) mapeamento da memória em blocos com tamanho variável.
- (C) utilização de tabelas de página multinível.
- (D) uso de uma máquina com apenas um espaço de endereçamento.
- (E) uso de paginação de memória.

50. Em relação aos conceitos de multiprogramação e multitarefa podemos afirmar que:

- (A) ambos dependem apenas do hardware do sistema.
- (B) ambos dependem apenas do sistema operacional.
- (C) multiprogramação depende apenas do sistema operacional enquanto a multitarefa depende do sistema operacional e do hardware do sistema.
- (D) multitarefa depende apenas do sistema operacional enquanto a multiprogramação depende do sistema operacional e do hardware do sistema.
- (E) ambos dependem igualmente do sistema operacional e do hardware.

51. Considere a classe *Exame03* em linguagem Java abaixo:

```
public class Exame03 {
 public static void main(String[] args) {
 int F=0,R=0;
 float I=1,J=-1;
 String S= new String();

 S= String.format("F+R= %B I+J= %4.2f", F+R, I+J);
 System.out.println(S);
 }
}
```

Pode-se afirmar que ela imprimirá a mensagem:

- (A) F+R= true I+J= 00,00
- (B) F+R= TRUE I+J= 0,00
- (C) F+R= FALSE I+J= 0,00
- (D) F+R= false I+J= 0,00
- (E) F+R= true I+J= 0,00

52. Considere a classe *Exame05* em linguagem Java abaixo:

```
public class Exame05 {
 public static void main (String args[]) {
 int i;

 for (i= 0 ; i < 10 ; ++i){
 System.out.printf("%d",i);
 if(i < 7) continue;
 else break;
 }
 }
}
```

Pode-se afirmar que ela imprimirá a mensagem:

- (A) 012345678910
- (B) 0123456789
- (C) 012345678
- (D) 01234567
- (E) 0123456

53. Para ajustar o comprimento do campo de exibição da função *cout* em C++ qual dos métodos abaixo deve ser usado?

- (A) *cout.width()*
- (B) *cout.setw()*
- (C) *cout.setprecision()*
- (D) *cout.setf()*
- (E) *cout.setwidth()*

54. Convertendo o número 1000,0101b para decimal (em que b indica que o número está em binário), obteremos:

- (A) 4,3125
- (B) 4,5
- (C) 8,25
- (D) 8,3125
- (E) 8,5

55. Considere um computador com data 21/01/2008 e hora 21:03:08, com base na classe *Exame08* em linguagem Java:

```
import java.util.Calendar;
public class Exame08
{
 public static void main(String args[])
 {
 System.out.printf("%tT\n", Calendar.getInstance());
 }
}
```

Pode-se afirmar que esta classe:

- (A) imprimirá a mensagem 21:03:08
- (B) imprimirá a mensagem 9:03:08 PM
- (C) imprimirá a mensagem 9:03:08
- (D) não imprimirá qualquer mensagem
- (E) compilará com erro

56. A operação aritmética  $7F31h - 555Eh$  (em que h indica que o número está em hexadecimal) resultará:

- (A) 19D3h
- (B) 29D3h
- (C) 29D2h
- (D) 19D2h
- (E) 29E3h

57. Qual alternativa abaixo demonstra uma equação matemática que resulta no número  $(45)_{10}$ , considerando a representação de números na notação  $(nnnnnn)_b$ , onde b = base de numeração?

- (A)  $(FF)_{16} \text{ XOR } (15)_8$
- (B)  $(1B)_{16} \text{ XOR } (12)_8$
- (C)  $(EF)_{16} \text{ XOR } (120)_8$
- (D)  $(41)_{16} \text{ XOR } (154)_8$
- (E)  $(AB)_{16} \text{ XOR } (110)_8$



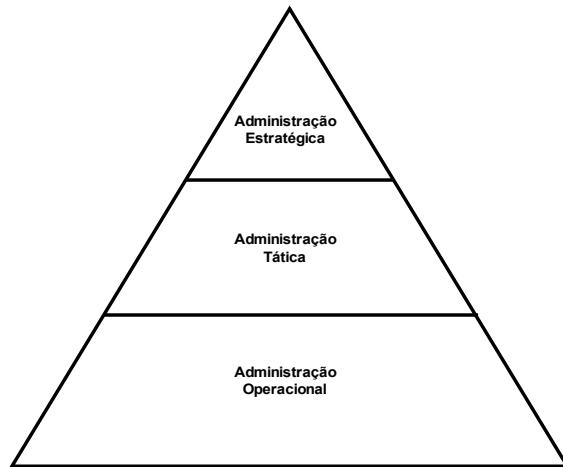
58. Quanto à teoria sobre o conceito de Conjunto Redundante de Discos Independentes, também conhecida com a sigla RAID, qual o nível de RAID que implementa o espelhamento de disco, também conhecido como *mirror*?
- (A) RAID 0
  - (B) RAID 1
  - (C) RAID 2
  - (D) RAID 4
  - (E) RAID 5
59. A arquitetura MIMD refere-se a:
- (A) Multicomputadores e Multiprocessadores.
  - (B) Multiprocessadores.
  - (C) Multicomputadores.
  - (D) Processadores Matriciais e Vetoriais.
  - (E) Processadores Matriciais.
60. O padrão MPI (*Message-Passing Interface*) estabelece um conjunto de procedimentos que permitem o desenvolvimento de programas para:
- (A) multiprocessadores com *pipeline* dinâmico.
  - (B) multicomputadores interconectados em rede.
  - (C) multiprocessadores com memória compartilhada.
  - (D) multicomputadores com memória compartilhada.
  - (E) multiprocessadores conectados em rede.
61. Em relação ao sistema operacional Windows Server 2003, o comando que permite ao administrador exibir uma lista de *drivers* de dispositivos instalados é:
- (A) DRIVERLIST
  - (B) DRIVERCAT
  - (C) DRIVERPRINT
  - (D) LIST DRIVERS
  - (E) DRIVERQUERY
62. Em relação às diferentes topologias de redes, as frases abaixo dizem respeito a alguns tipos:
- Topologia da Rede A:** “Os dados são transmitidos unidirecionalmente de nó em nó até atingir o seu destino. Uma mensagem enviada por uma estação passa por outras estações, através das retransmissões, até ser retirada pela estação destino ou pela estação fonte”.
- Topologia da Rede B:** “Toda informação enviada de um nó para outro deverá obrigatoriamente passar pelo ponto central, ou concentrador, tornando o processo muito mais eficaz, já que os dados não irão passar por todas as estações”.
- Considerando o exposto, é possível afirmar que:
- (A) as redes A e B pertencem a uma topologia em barramento.
  - (B) as redes A e B pertencem a uma topologia em anel.
  - (C) as redes A e B pertencem a uma topologia em estrela.
  - (D) a rede A pertence a uma topologia de anel e a rede B pertence a uma topologia em estrela.
  - (E) a rede A pertence a uma topologia de barramento e a rede B pertence a uma topologia em anel.
63. Considerando uma rede local que possui um número máximo de 524.286 *hosts*, qual das seguintes opções representaria o respectivo número de rede e máscara de sub-rede?
- (A) Rede 192.168.192.0 e Máscara de Sub-Rede 255.255.192.0
  - (B) Rede 192.168.0.0 e Máscara de Sub-Rede 255.255.192.0
  - (C) Rede 192.80.0.0 e Máscara de Sub-Rede 255.248.0.0
  - (D) Rede 192.128.0.0 e Máscara de Sub-Rede 255.192.0.0
  - (E) Rede 192.128.0.0 e Máscara de Sub-Rede 255.128.0.0
64. Em uma rede TCP/IP os pacotes de informação denominados “quadro”, “segmento”, “datagrama” e “mensagem” possuem respectivamente as seguintes camadas responsáveis por sua manipulação:
- (A) enlace, transporte, rede e aplicação.
  - (B) aplicação, transporte, rede e enlace.
  - (C) enlace, física, rede e transporte.
  - (D) física, transporte, rede e enlace.
  - (E) transporte, física, rede e aplicação.

65. Qual a máscara de rede para uma máquina com endereço IP 40.132.20.20 que pertence à rede classe A 40.128.0.0?
- (A) 255.132.0.0
  - (B) 255.0.0.0
  - (C) 255.64.0.0
  - (D) 255.255.0.0
  - (E) 255.128.0.0
66. A *QoS (Quality of Service)* que um fluxo de dados requer é definida pelos seguintes parâmetros primários:
- (A) atraso (*delay*), confiabilidade (*reliability*), limite de tempo (*timeout*) e largura de banda (*bandwidth*).
  - (B) confiabilidade (*reliability*), flutuação do atraso (*jitter*), limite de tempo (*timeout*) e largura de banda (*bandwidth*).
  - (C) confiabilidade (*reliability*), atraso (*delay*), flutuação do atraso (*jitter*) e limite de tempo (*timeout*).
  - (D) atraso (*delay*), flutuação do atraso (*jitter*), limite de tempo (*timeout*) e largura de banda (*bandwidth*).
  - (E) confiabilidade (*reliability*), atraso (*delay*), flutuação do atraso (*jitter*) e largura de banda (*bandwidth*).
67. Em relação à biblioteca de boas práticas na oferta de serviços de tecnologia da informação, denominada ITIL (*Information Technology Infrastructure Library*), qual dos processos abaixo permite a uma equipe de TI controlar efetivamente os componentes de infraestrutura de TI (hardware, software, manuais técnicos) sob sua responsabilidade, registrando-os em forma de itens dentro de um banco de dados?
- (A) Gerenciamento Financeiro
  - (B) Gerenciamento de Liberação
  - (C) Gerenciamento de Continuidade
  - (D) Gerenciamento de Problema
  - (E) Gerenciamento de Configuração
68. Em relação à biblioteca de boas práticas na oferta de serviços de tecnologia da informação, denominada ITIL, qual processo analisa possíveis ameaças e suas posteriores consequências para os serviços de TI como estratégia de implementar ações para evitá-las:
- (A) Gerenciamento de Incidente
  - (B) Gerenciamento de Disponibilidade
  - (C) Gerenciamento de Continuidade
  - (D) Gerenciamento de Configuração
  - (E) Gerenciamento de Problema
69. O conjunto de protocolos definidos para estabelecer segurança na Internet é designado por:
- (A) TCPsec
  - (B) IPsec
  - (C) TCP/IPsec
  - (D) TCP/IPS
  - (E) IPS
70. Considere as seguintes redes abaixo com a representação *network/mask*, onde *network* representa o número de rede e *mask* a quantidade de bits da máscara de rede:
- Rede A:** 192.168.192.0/18
- Rede B:** 192.168.208.0/20
- Rede C:** 192.168.128.0/17
- É possível afirmar que o IP 192.168.224.4 pertence apenas à(s) rede(s):
- (A) A
  - (B) B
  - (C) C
  - (D) A e C

(E) B e C

Diretor de Ensino

71. Com relação à teoria sobre Sistemas de Informação, a figura abaixo representa os diferentes níveis de tomada de decisão estruturados em uma pirâmide gerencial:



Sobre a pirâmide gerencial é correto afirmar que:

- (A) a administração operacional monitora o desempenho estratégico de uma organização e envolve um público composto em sua maioria por conselhos de diretores e principais executivos.
- (B) as decisões tomadas no nível de administração operacional tendem a ser mais estruturadas.
- (C) o nível de administração tática envolve um público formado, em sua grande maioria, por gerentes de operações que desenvolvem planos em longo prazo.
- (D) a administração estratégica tende a trabalhar com informações mais estruturadas. O programa denominado “controle de estoque” é um tipo de aplicativo bastante comum ao público deste tipo de administração.
- (E) os tomadores de decisão do nível operacional exigem relatórios resumidos, *ad hoc* e não programados, previsões e informações externas para apoiar seu planejamento.

72. Segundo a classificação do *Gang of Four* (GoF), os padrões de projeto *decorator*, *memento* e *singleton* possuem respectivamente os seguintes propósitos:

- (A) criação, comportamental e estrutural.
- (B) criação, criação e comportamental.
- (C) comportamental, criação e estrutural.
- (D) estrutural, comportamental e criação.
- (E) estrutural, comportamental e comportamental.

73. Em relação à linguagem UML (Unified Modeling Language) para elaboração da estrutura de projetos de software, é correto afirmar que:

- (A) um diagrama de objetos mostra a configuração de nós de processamento em tempo de execução e os componentes neles existentes.
- (B) um diagrama de componente é um tipo especial de gráfico de estado, exibindo um fluxo de uma atividade para outra.
- (C) os diagramas de gráfico de estados são importantes para a modelagem de comportamentos de uma interface, classe ou colaboração.
- (D) um diagrama de sequência exhibe as organizações e as dependências existentes em um conjunto de componentes.
- (E) um diagrama de implantação exhibe conjunto de classes, interfaces e colaborações, bem como seus relacionamentos.

74. Em relação aos níveis de isolamento de transações realizadas em bancos de dados, é correto afirmar quanto ao conceito de READ UNCOMMITTED que:

- (A) não permite qualquer tipo de leitura sobre tabelas bloqueadas.
- (B) não permite a execução de comandos UPDATE e SELECT na transação.
- (C) permite o controle de tempo na transação.
- (D) permite a ocorrência de *dirty reads* ou leituras sujas.
- (E) permite desligar o *log* de execução da transação.

75. Em relação à linguagem UML (Unified Modeling Language) para elaboração da estrutura de projetos de software, sobre os diagramas de colaboração pode-se afirmar que:

- (A) são equivalentes aos diagramas de caso de uso.
- (B) um de seus componentes, o foco de controle, é amplamente utilizado para mostrar o período durante o qual um objeto está desempenhando uma ação.
- (C) a linha de vida do objeto, um dos componentes deste tipo de diagrama, representa a existência de um objeto em um período de tempo.
- (D) utilizam um número de sequência para indicar a ordem temporal de uma mensagem.
- (E) o diagrama de colaboração pode ser convertido em um diagrama de sequência, apesar de não serem diagramas semanticamente equivalentes ou de mesma categoria.

76. Em relação ao modelo CMMI de Qualidade de Software, qual das opções abaixo representa o significado e nível de maturidade da área de processo cuja abreviação é DAR?

- (A) *Decision Analysis and Resolution* e nível de maturidade 3 (*Defined*)
- (B) *Data Analysis and Results* e nível de maturidade 2 (*Managed*)
- (C) *Diary Analysis and Resolution* e nível de maturidade 2 (*Managed*)
- (D) *Data Analysis and Results* e nível de maturidade 3 (*Defined*)
- (E) *Decision Analysis and Resolution* e nível de maturidade 1 (*Initial*)

77. Em relação ao modelo CMMI de Qualidade de Software, qual das opções abaixo sinaliza o nível de maturidade caracterizado pela ausência de controle dos processos e atividades de planejamento, porém com um foco central em atividades corretivas que por ventura surjam?

- (A) Nível Inicial.
- (B) Nível Gerenciado.
- (C) Nível Definido.
- (D) Nível Quantitativamente Gerenciado.
- (E) Nível Em Otimização.

78. Com relação aos sistemas gerenciadores de banco de dados “multidimensionais”, os dados são armazenados em tabelas de “fatos” e tabelas de “dimensões” que se relacionam em um esquema denominado:

- (A) Pilha.

- (B) Fila.
- (C) Anel.
- (D) Deque.
- (E) Estrela.

79. Em relação à análise por ponto de função, técnica ou métrica pela qual é possível medir o tamanho de um software a partir de suas funcionalidades e levando em consideração o ponto de vista do usuário, qual das alternativas abaixo indica a quantidade de pontos de função em um sistema cuja quantidade de pontos de função não-ajustados é 1000 e a soma de seu nível de influência é 28?

- (A) 870
- (B) 930
- (C) 990
- (D) 1100
- (E) 1214

80. Considere as tabelas A e B abaixo e a consulta em linguagem SQL:

```
SELECT SUM (B.VALOR) AS QTDE
FROM A LEFT JOIN B
ON A.CODIGO = B.CODIGO
WHERE A.CODIGO BETWEEN 1 AND 3
GROUP BY A.CODIGO
```

A

| CODIGO | VALOR |
|--------|-------|
| 1      | 2     |
| 1      | 4     |
| 2      | 6     |
| 3      | 8     |
| 3      | 10    |
| 4      | 12    |
| 4      | 14    |
| 4      | 16    |

B

| CODIGO | VALOR |
|--------|-------|
| 1      | 2     |
| 4      | 4     |

O resultado da consulta em linguagem SQL será:

- (A) 0
- (B) 4
- (C) 8
- (D) 12
- (E) 16

