



TRIBUNAL REGIONAL FEDERAL DA 1ª REGIÃO

Concurso Público para provimento de cargos de Técnico Judiciário - Área Serviços Gerais Especialidade Segurança e Transporte

Caderno de Prova, Cargo TS, Tipo 001
000000000000000000
00001-0001-001

Nº de Inscrição
MODELO

P R O V A
Conhecimentos Gerais Conhecimentos Específicos

INSTRUÇÕES

- Verifique se este caderno:
 - corresponde a sua opção de cargo.
 - contém 55 questões, numeradas de 1 a 55.Caso contrário, reclame ao fiscal da sala um outro caderno.
Não serão aceitas reclamações posteriores.
- Para cada questão objetiva existe apenas UMA resposta certa.
- Você deve ler cuidadosamente cada uma das questões e escolher a resposta certa.
- Essa resposta deve ser marcada na FOLHA DE RESPOSTAS que você recebeu.

VOCÊ DEVE:

- procurar, na FOLHA DE RESPOSTAS, o número da questão que você está respondendo.
- verificar no caderno de prova qual a letra (A,B,C,D,E) da resposta que você escolheu.
- marcar essa letra na FOLHA DE RESPOSTAS, conforme o exemplo: (A) ● (C) (D) (E)

ATENÇÃO

- Marque as respostas das questões objetivas primeiro a lápis e depois cubra com caneta esferográfica de tinta preta.
- Marque apenas uma letra para cada questão, mais de uma letra assinalada implicará anulação dessa questão.
- Responda a todas as questões.
- Não será permitida qualquer espécie de consulta, nem o uso de máquina calculadora.
- Você terá o total de 3 horas para responder a todas as questões e preencher a Folha de Respostas.
- Ao término da prova devolva este caderno de prova ao aplicador, juntamente com sua Folha de Respostas.
- Proibida a divulgação ou impressão parcial ou total da presente prova. Direitos Reservados.

CONHECIMENTOS GERAIS

Atenção: As questões de números 1 a 15 referem-se ao texto seguinte.

A força da fé

Não importa quais são os rituais, nem mesmo a quem são dirigidas as orações. Embora não haja consenso científico sobre o assunto, vários estudos revelam que a prática religiosa ajuda as pessoas a atingirem níveis mais altos de tranqüilidade. Provavelmente, há outros mecanismos a serem levados em conta, além da fé. Mas, em si mesmo, o exercício da espiritualidade traz atitudes e posturas benéficas, como mostram depoimentos de líderes religiosos. Todos eles recomendam meios de chegar ao equilíbrio. Um dos principais recursos é a meditação.

Recentemente, o Centro de Espiritualidade e da Mente da Universidade da Pensilvânia divulgou uma pesquisa que comparou a atividade cerebral durante a meditação de budistas tibetanos e monges franciscanos. Nos dois grupos, intensificou-se a ação dos neurotransmissores que proporcionam a sensação de bem-estar e disposição de ânimo. O Centro inclui a meditação no tratamento de pacientes com doenças graves e dores crônicas.

Além de levar as pessoas ao exercício da meditação, a fé estimula-as a se envolverem em projetos comunitários, reforça a auto-estima, induz ao relaxamento, ajuda a refrear excessos. São, todos esses, fatores que podem remover montanhas de remédios antidepressivos.

(Adaptado de Suzane Frutuoso. Revista **Época**, 15/03/2007)

1. A força da fé, tal como o texto a aborda, refere-se precisamente

- (A) ao poder que os dogmas religiosos exercem sobre quem os acolhe.
- (B) aos efeitos benéficos da meditação exercitada nas práticas religiosas.
- (C) à possibilidade de conversão religiosa daquele que medita.
- (D) ao reforço que a meditação representa para a eficácia dos antidepressivos.
- (E) à elevação espiritual de quem confia nos poderes divinos.

2. Atente para as seguintes afirmações:

- I. Os cientistas não admitem que a força da fé produza qualquer efeito sobre quem se dedique a práticas religiosas.
- II. O texto afirma que a prática da meditação não tem efeito sobre as pessoas que não sejam religiosas.
- III. Ao reforçar laços comunitários, a fé religiosa pode evitar a ação de fatores que causam depressão.

Em relação ao texto, está correto SOMENTE o que se afirma em

- (A) I.
- (B) II.
- (C) III.
- (D) I e II.
- (E) II e III.

3. Na abertura do terceiro parágrafo, a expressão *além de* está empregada com sentido equivalente ao que assume a expressão sublinhada na seguinte frase:

- (A) Ele chegou a um nível de competição acima do qual não vê adversário.
- (B) Este é um momento a partir do qual a conversa se torna impossível.
- (C) Nas preces, ela parece se transportar para longe de todas as vicissitudes.
- (D) Em que pese o fato de ser poderoso, ele se comporta com humildade.
- (E) Ela não apenas se dedica à família como também se preocupa consigo.

4. Representam **causa e conseqüência**, respectivamente, os seguintes segmentos:

- (A) O centro divulgou uma pesquisa / feita com budistas tibetanos e monges franciscanos.
- (B) As pessoas sentem-se mais relaxadas, / tão logo se entregam à meditação.
- (C) A meditação é incluída como atividade / em tratamentos de doenças graves.
- (D) Ao se praticar a meditação, / intensifica-se a ação de neurotransmissores.
- (E) Os riscos dos remédios antidepressivos / podem ser evitados pela prática da meditação.

5. As normas de concordância verbal estão plenamente respeitadas na frase:

- (A) Não devem importar a ninguém as diferenças entre as religiões; importante é a prática da meditação a que induzem.
- (B) A pesquisa que envolveu budistas e franciscanos, durante meditações, acusaram um mesmo efeito da ação destas sobre os neurotransmissores.
- (C) Incluem-se, entre os bons efeitos das práticas de meditação, o efetivo envolvimento das pessoas em projetos comunitários.
- (D) Há de concorrer, certamente, além da fé, outros fatores que proporcionam estabilidade emocional às pessoas que se dedicam à meditação.
- (E) Evita-se os distúrbios orgânicos causados pelos antidepressivos desenvolvendo-se práticas espirituais, que a ninguém podem prejudicar.

6. A construção que admite transposição para a voz passiva é:

- (A) *Embora não haja consenso científico.*
- (B) *Não importam os rituais.*
- (C) *a fé estimula-as.*
- (D) *Um dos principais recursos é a meditação.*
- (E) *chegar ao equilíbrio.*

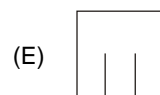
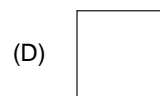
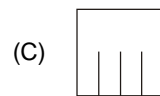
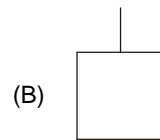
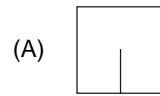
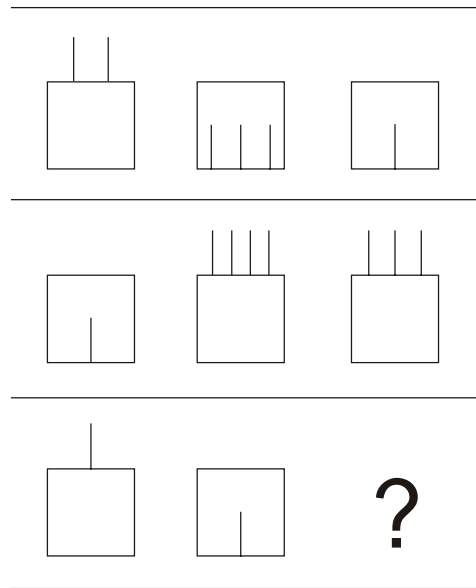
<p>7. Está plenamente adequada a correlação entre os tempos e os modos verbais na frase:</p> <p>(A) Fossem quais fossem os rituais religiosos, importará sempre a atitude de meditação que propiciasse a paz interior.</p> <p>(B) O Centro de Espiritualidade fez uma pesquisa na qual se comprovara o mesmo efeito que a meditação tivesse sobre budistas e franciscanos.</p> <p>(C) Se a fé não estimular a meditação, maior dificuldade teriam encontrado os crentes para atingirem um equilíbrio espiritual.</p> <p>(D) A fé não apenas levaria as pessoas a meditar, mas também haveria de as estimular a que participassem de projetos comunitários.</p> <p>(E) É possível que muitos remédios antidepressivos poderiam ser evitados à medida que mais pessoas se dispunham a meditar.</p>	<p>11. Está clara, coerente e correta a redação da seguinte frase:</p> <p>(A) Muitos outros mecanismos além dos ritos religiosos costumam de trazer benefícios desde que se promova, inclusive, as práticas de meditação.</p> <p>(B) Apesar dos ritos religiosos trazerem benefícios, há outras práticas que fazem o mesmo, haja visto o que ocorre com a meditação.</p> <p>(C) Não apenas nos ritos religiosos, mas em qualquer outra circunstância, a prática da meditação revela-se altamente benéfica.</p> <p>(D) Se fosse apenas um benefício religioso, as meditações nada importariam para os ateus que nelas se ocupassem, uma vez que não tendo fé.</p> <p>(E) Não obstante as pessoas de fé praticam a meditação, as que não a têm também costumam se beneficiar dela.</p>
<p>8. Todas as religiões têm rituais, e os fiéis que <u>seguem esses rituais</u> beneficiam-se não propriamente das práticas que <u>constituem os rituais</u>, mas da meditação <u>implicada nesses rituais</u>.</p> <p>Evitam-se as viciosas repetições da frase acima substituindo-se os segmentos sublinhados, respectivamente, por:</p> <p>(A) lhes seguem – lhes constituem – neles implicada</p> <p>(B) os seguem – os constituem – neles implicada</p> <p>(C) os seguem – os constituem – lhes implicada</p> <p>(D) os seguem – lhes constituem – implicada nos mesmos</p> <p>(E) seguem-nos – constituem-nos – a eles implicada</p>	<p>12. O verbo indicado entre parênteses deverá flexionar-se numa forma do singular para preencher corretamente a lacuna da frase:</p> <p>(A) Qualquer prática religiosa a que se (dedicar) os fiéis costuma inspirar a necessidade de meditação.</p> <p>(B) É justo que se (atribuir) às práticas religiosas o benefício do estreitamento dos laços comunitários.</p> <p>(C) Não se deve deduzir que (beneficiar) apenas a quem tem fé os momentos devotados à meditação.</p> <p>(D) A qualquer um (trazer) prejuízo as altas dosagens de remédios antidepressivos.</p> <p>(E) Mesmo que não (cultivar) determinada fé religiosa, os que se entregam à prática da meditação elevam-se espiritualmente.</p>
<p>9. Está correto o emprego do elemento sublinhado em:</p> <p>(A) O ganho real da meditação é uma hipótese <u>à qual</u> vêm-se ocupando alguns pesquisadores.</p> <p>(B) São vários os meios <u>com que</u> dispomos para chegar ao desejado equilíbrio espiritual.</p> <p>(C) A meditação <u>a cuja</u> se entregaram budistas e franciscanos surtiu o mesmo efeito sobre os dois grupos.</p> <p>(D) O estreitamento dos laços comunitários é um dos efeitos <u>de que</u> se pode atribuir às práticas da fé religiosa.</p> <p>(E) O reforço da auto-estima seria um benefício <u>do qual</u> todos os crentes poderiam usufruir.</p>	<p>13. Há equivoco no uso do sinal de crase em:</p> <p>(A) Muita gente se mantém à margem da religião, mas não da meditação.</p> <p>(B) O valor atribuído à meditação é, para alguns, indiscutível.</p> <p>(C) Não cabe à ninguém desprezar os benefícios da espiritualidade.</p> <p>(D) Quem assiste às manifestações de fé costuma sair impressionado.</p> <p>(E) Deve-se à prática da meditação o efeito de um maior equilíbrio.</p>
<p>10. É preciso suprimir a vírgula da seguinte frase:</p> <p>(A) Ainda que não haja consenso, muitos acreditam que a prática da meditação traz efeitos altamente positivos.</p> <p>(B) Normalmente, os rituais religiosos acabam induzindo os crentes à prática da meditação.</p> <p>(C) Não importa qual seja a crença, todas as práticas religiosas estimulam a meditação.</p> <p>(D) Todo aquele que se entrega à prática da meditação, acaba atingindo um patamar de maior serenidade espiritual.</p> <p>(E) Segundo já se observou, as práticas religiosas estimulam o bom convívio entre as pessoas.</p>	<p>14. O Centro inclui a meditação no tratamento de pacientes com doenças graves e dores crônicas.</p> <p>Iniciando-se uma nova redação da frase acima por A meditação é o tratamento, pode-se complementá-la, de modo correto e coerente, com:</p> <p>(A) de que se vale o Centro para o caso de pacientes com doenças graves e dores crônicas.</p> <p>(B) para pacientes com doenças graves e dores crônicas que o Centro tem-se valido.</p> <p>(C) para com pacientes de doenças graves e dores crônicas que o Centro lhes fornece.</p> <p>(D) de que o Centro inclui no caso de pacientes com doenças graves e dores crônicas.</p> <p>(E) ao qual se recorre no Centro quando visa os pacientes com doenças graves e dores crônicas.</p> <p>15. O segmento <i>Embora não haja</i> (1º parágrafo) pode ser substituído, sem prejuízo para o sentido da frase a que pertence, por</p> <p>(A) Não obstante falte.</p> <p>(B) Desde que não haja.</p> <p>(C) Ainda que houvesse.</p> <p>(D) A menos que não haja.</p> <p>(E) Conquanto não falte.</p>

MATEMÁTICA

16. Um técnico judiciário foi incumbido da montagem de um manual referente aos Princípios Fundamentais da Constituição Federal. Sabendo que, excluídas a capa e a contra-capas, a numeração das páginas foi feita a partir do número 1 e, ao concluí-la, constatou-se que foram usados 225 algarismos, o total de páginas que foram numeradas é
- (A) 97
 (B) 99
 (C) 111
 (D) 117
 (E) 126
-
17. Certo dia, Veridiana saiu às compras com uma certa quantia em dinheiro e foi a apenas três lojas. Em cada loja ela gastou a quarta parte da quantia que possuía na carteira e, em seguida, usou R\$ 5,00 para pagar o estacionamento onde deixou seu carro. Se após todas essas atividades ainda lhe restaram R\$ 49,00, a quantia que Veridiana tinha inicialmente na carteira estava compreendida entre
- (A) R\$ 20,00 e R\$ 50,00.
 (B) R\$ 50,00 e R\$ 80,00.
 (C) R\$ 80,00 e R\$ 110,00.
 (D) R\$ 110,00 e R\$ 140,00.
 (E) R\$ 140,00 e R\$ 170,00.
-
18. Às 10 horas do dia 18 de maio de 2007, um tanque continha 9 050 litros de água. Entretanto, um furo em sua base fez com que a água escoasse em vazão constante e, então, às 18 horas do mesmo dia restavam apenas 8 850 litros de água em seu interior. Considerando que o furo não foi consertado e não foi colocada água dentro do tanque, ele ficou totalmente vazio às
- (A) 11 horas de 02/06/2007.
 (B) 12 horas de 02/06/2007.
 (C) 12 horas de 03/06/2007.
 (D) 13 horas de 03/06/2007.
 (E) 13 horas de 04/06/2007.
-
19. Do total de processos que recebeu certo dia, sabe-se que um técnico judiciário arquivou 8% no período da manhã e 8% do número restante à tarde. Relativamente ao total de processos que recebeu, o número daqueles que deixaram de ser arquivados corresponde a
- (A) 84,64%
 (B) 85,68%
 (C) 86,76%
 (D) 87,98%
 (E) 89,84%
-
20. Em fevereiro de 2007, Cesário gastou R\$ 54,00 na compra de alguns rolos de fita adesiva, todos de um mesmo tipo. No mês seguinte, o preço unitário desse rolo aumentou em R\$ 1,50 e, então, dispondo daquela mesma quantia, ele pôde comprar três rolos a menos do que havia comprado no mês anterior. Nessas condições, em março de 2007, o preço unitário de tal tipo de rolo de fita adesiva era
- (A) R\$ 4,00
 (B) R\$ 4,50
 (C) R\$ 5,00
 (D) R\$ 5,50
 (E) R\$ 6,00

RACIOCÍNIO LÓGICO-QUANTITATIVO

21. Assinale a alternativa, entre as cinco relacionadas, que preenche a vaga assinalada pela interrogação.

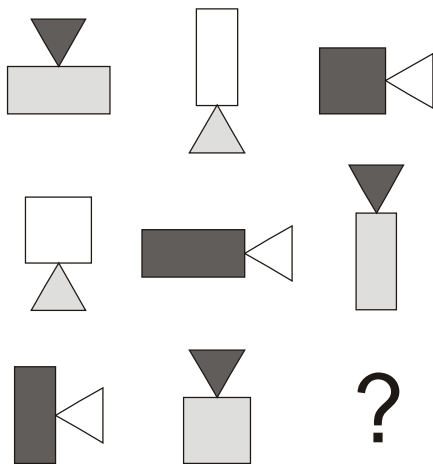


22. Todos os macerontes são torminodoros. Alguns macerontes são momorrengos.

Logo,

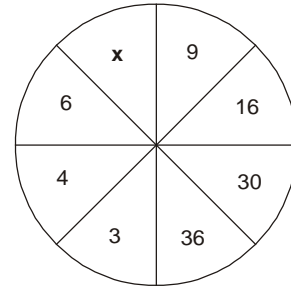
- (A) todos os momorrengos são torminodoros.
- (B) alguns torminodoros são momorrengos.
- (C) todos os torminodoros são macerontes.
- (D) alguns momorrengos são pássaros.
- (E) todos os momorrengos são macerontes.

23. Considerando as relações horizontais e verticais entre as figuras, assinale a alternativa que substitui a interrogação.



- (A)
- (B)
- (C)
- (D)
- (E)

24. Assinale a alternativa que substitui a letra x.



- (A) 29
- (B) 7
- (C) 6
- (D) 5
- (E) 3

25. Partindo das premissas:

- (1) Todo advogado é sagaz.
- (2) Todo advogado é formado em Direito.
- (3) Roberval é sagaz.
- (4) Sulamita é juíza.

Pode-se concluir que

- (A) há pessoas formadas em Direito que são sagazes.
- (B) Roberval é advogado.
- (C) Sulamita é sagaz.
- (D) Roberval é promotor.
- (E) Sulamita e Roberval são casados.

CONHECIMENTOS ESPECÍFICOS

NOÇÕES DE SEGURANÇA E VIGILÂNCIA

26. Uma grande solenidade será realizada em local fechado, onde estarão reunidas autoridades judiciárias e convidados. Como medida de segurança, é necessário
- (A) fazer levantamento prévio do local.
 - (B) verificar os antecedentes criminais dos convidados.
 - (C) posicionar atiradores de elite em locais externos.
 - (D) fechar todas as saídas e deixar apenas um acesso ao local.
 - (E) isolar a área num raio mínimo de duzentos metros do acesso.

27. Dois agentes de segurança estão protegendo uma importante autoridade que caminha pela via pública quando, repentinamente, uma pessoa se aproxima rapidamente da autoridade com um objeto na mão. Nesse caso, os seguranças NÃO
- (A) podem abordar a pessoa, interpondo-se entre ela e a autoridade.
 - (B) podem imobilizar a pessoa e revistá-la, verificando o que ela tem na mão.
 - (C) devem apontar sua arma para esta pessoa para intimidá-la.
 - (D) devem atuar com firmeza, observando cada pequeno gesto da pessoa e determinar que ela se mantenha a uma distância considerada segura.
 - (E) devem tomar o objeto da mão da pessoa, com uso da força, se necessário, mas sem causar lesões.

28. Quando a ocasião exigir máxima discrição dos agentes de segurança, é recomendável, para o reconhecimento mútuo e a troca de breves informações entre si, a utilização de
- (A) fardas com distintivos especiais.
 - (B) senhas previamente combinadas.
 - (C) mensageiros de confiança.
 - (D) rádio-comunicação.
 - (E) celulares.

29. Correu um boato de que o Desembargador J.C. Silva seria vítima de um atentado. Carlos, responsável pela segurança, recebeu uma correspondência, sem identificação de remetente, de cunho "confidencial", dirigida ao Desembargador. Por medida de segurança, ele a abriu e verificou tratar-se de uma carta da esposa do Desembargador J.C. Silva. Carlos
- (A) deveria ter destruído a correspondência antes de abri-la, por motivos de segurança.
 - (B) agiu com zelo e presteza, preservando a segurança do Desembargador.
 - (C) não poderia ter agido de outra forma, pois sua função é proteger as autoridades judiciárias.
 - (D) agiu em legítima defesa de terceiros.
 - (E) não poderia ter tomado esta atitude, pois isto configura um crime de violação de sigilo de correspondência.

30. Uma mulher adentra em um recinto do Tribunal legalmente, ou seja, foi identificada e recebeu a autorização. No entanto, o segurança Antonio a reconheceu como uma traficante de entorpecentes procurada pela polícia. Ele a detém e, logo após, a exhibe à imprensa contra a vontade dela. Nesse caso, Antonio
- (A) não pode ser punido, pois a Lei de Imprensa garante a liberdade de informação.
 - (B) exerceu seu dever de alertar a população sobre a prisão de pessoa perigosa.
 - (C) pode ser condenado ao pagamento de indenização por danos materiais ou morais decorrente da violação da imagem da pessoa.
 - (D) está isento de qualquer penalidade, pois a Constituição Federal garante a liberdade de expressão.
 - (E) será condenado por crime de responsabilidade, pois a traficante deveria ser considerada inocente até prova em contrário.

LEGISLAÇÃO DE TRÂNSITO

31. À esquerda estão descritas algumas infrações de trânsito previstas no Código de Trânsito Brasileiro – C.T.B. À direita estão relacionadas as suas naturezas.


Infração de Trânsito	Natureza
I. Utilizar a via para depósito de mercadorias, materiais ou equipamentos, sem autorização do órgão ou entidade de trânsito com circunscrição sobre a via.	1. Leve
II. Fazer uso do fecho de luz alta dos faróis em vias providas de iluminação pública.	2. Média
III. Deixar de sinalizar qualquer obstáculo à livre circulação, à segurança de veículo e pedestres, tanto no leito de via terrestre como na calçada, ou obstaculizar a via indevidamente.	3. Grave
IV. Deixar de manter acesas, à noite, luzes de posição, quando o veículo estiver parado, para fins de embarque ou desembarque de passageiros e carga ou descarga de mercadorias.	4. Gravíssima

A correlação correta é:

- (A) I - 1, II - 2, III - 3, IV - 4
- (B) I - 2, II - 1, III - 3, IV - 4
- (C) I - 2, II - 4, III - 1, IV - 3
- (D) I - 3, II - 1, III - 4, IV - 2
- (E) I - 4, II - 3, III - 2, IV - 1

32. Quando o agente da autoridade de trânsito estiver com os braços estendidos horizontalmente, com a palma da mão para a frente, está indicando para os condutores ordem
- (A) de parada obrigatória para todos os veículos. Quando executada em interseções, os veículos que já se encontrem nela não são obrigados a parar.
 - (B) de parada para todos os veículos que venham de direções que cortem ortogonalmente a direção indicada pelos braços estendidos, qualquer que seja o sentido de seu deslocamento.
 - (C) para permanecer na própria faixa de tráfego em que está circulando.
 - (D) para diminuir a velocidade.
 - (E) para seguir.

33. Um dos itens que compõem a sinalização horizontal são as marcas de canalização. Estas
- (A) melhoram a percepção do condutor quanto às condições de operação da via, permitindo-lhe tomar a decisão adequada, no tempo apropriado, para as situações que se lhe apresentarem.
 - (B) ordenam os deslocamentos frontais dos veículos e os harmonizam com os deslocamentos de outros veículos e dos pedestres, assim como informam os condutores sobre a necessidade de reduzir a velocidade.
 - (C) orientam os fluxos de tráfego em uma via, direcionando a circulação de veículos. Regulamentam as áreas de pavimento não utilizáveis.
 - (D) advertem acerca de condições particulares de operação da via e complementam os sinais de regulamentação e advertência.
 - (E) separam e ordenam as correntes de tráfego, definindo a parte da pista destinada normalmente à circulação de veículos, a sua divisão em faixas e a separação de fluxos opostos.

34. A placa de regulamentação  indica que é proibido
- (A) virar à esquerda.
 - (B) ultrapassar.
 - (C) virar à direita.
 - (D) trânsito de motocicletas, motonetas e ciclomotores.
 - (E) mudar de faixa ou pista de trânsito da esquerda para direita.

35. Considere as afirmativas abaixo.
- I. Compete aos Conselhos Estaduais de Trânsito – CETRAN e ao Conselho de Trânsito do Distrito Federal – CONTRANDIFE, aprovarem, complementarem ou alterarem os dispositivos de sinalização e os dispositivos e equipamentos de trânsito.
 - II. Compete ao Conselho Nacional de Trânsito – CONTRAN estabelecer as diretrizes do regimento das Juntas Administrativas de Recursos de Infrações – JARIS.
 - III. Compete ao órgão máximo executivo de trânsito da União organizar e manter o Registro Nacional de Veículos Automotores – RENAAM.
- Está correto o que consta em
- (A) I, somente.
 - (B) III, somente.
 - (C) I e II, somente.
 - (D) II e III, somente.
 - (E) I, II e III.

36. Os sinais de trânsito classificam-se em: verticais, horizontais, sonoros, dispositivos de sinalização auxiliar, luminosos e
- (A) gestos do agente de trânsito e do condutor.
 - (B) dispositivos de proteção contínua.
 - (C) inscrições no pavimento.
 - (D) marcadores de perigo.
 - (E) barreiras e tapumes.

37. À esquerda está indicado o tipo de via urbana. À direita está indicada a velocidade máxima nela permitida para automóveis, nos casos em que não existir a sinalização regulamentadora de velocidade máxima.

Tipo de via urbana	Velocidade máxima permitida para automóveis
I . Via de trânsito rápido	1. 60 km/h
II . Via arterial	2. 40 km/h
III . Via coletora	3. 80 km/h

A correlação correta é

- (A) I - 1, II - 2, III - 3
- (B) I - 1, II - 3, III - 2
- (C) I - 2, II - 1, III - 3
- (D) I - 3, II - 1, III - 2
- (E) I - 3, II - 2, III - 1

38. O condutor deverá manter acesos os faróis do veículo utilizando luz alta quando
- (A) em circulação nas vias não iluminadas, exceto ao cruzar com outro veículo ou ao segui-lo.
 - (B) em circulação durante a noite e durante o dia nos túneis providos de iluminação pública.
 - (C) o veículo estiver parado à noite, para fins de embarque ou desembarque de passageiros.
 - (D) o veículo estiver parado à noite, para fins de carga ou descarga de mercadorias.
 - (E) em imobilizações ou situações de emergência.

DIREÇÃO DEFENSIVA

39. No caso de chuva de granizo (chuva de pedra) numa rodovia, o melhor que o condutor pode fazer, para não comprometer a segurança, é
- (A) acionar o pisca-alerta do veículo, reduzir a velocidade e aumentar a distância do veículo à sua frente.
 - (B) acionar a luz alta dos faróis do veículo, evitar pisar no freio de maneira brusca para não travar as rodas e reduzir a velocidade até sentir conforto e segurança.
 - (C) acionar as luzes de posição do veículo, redobrar a atenção e reduzir a velocidade.
 - (D) redobrar a atenção, acionar as luzes baixas dos faróis do veículo e reduzir a velocidade.
 - (E) parar o veículo em local seguro e aguardar o fim da chuva.
40. Em condições de neblina ou cerração, com a conseqüente diminuição da visibilidade, recomenda-se ao condutor de um veículo automotor acender imediatamente a luz
- (A) alta dos faróis e parar o veículo no acostamento.
 - (B) do pisca-alerta e trafegar em velocidade reduzida.
 - (C) baixa dos faróis, trafegar em velocidade reduzida e aumentar a distância do veículo à sua frente.
 - (D) do pisca-alerta e parar o veículo no acostamento, qualquer que seja a condição da visibilidade.
 - (E) alta dos faróis, trafegar em velocidade reduzida e aumentar a distância do veículo à sua frente.

41. Com relação às regras de segurança na condução de ciclomotores é
- (A) opcional o uso de óculos de proteção.
 - (B) proibida a circulação nas vias de trânsito rápido.
 - (C) permitida a circulação sobre as calçadas das vias urbanas.
 - (D) opcional o uso de capacete de segurança para o passageiro em vias urbanas.
 - (E) obrigatório manter o farol aceso, quando em circulação, durante a noite e opcional durante o dia.

PRIMEIROS SOCORROS

42. Após colidir o carro com a árvore, o motorista apresenta-se consciente, ansioso, com sangramento de pequena intensidade nos ombros e queixa-se de dor no pescoço. Uma das formas para controlar a situação é
- (A) massagear o pescoço da vítima, intercalando com movimentos vagarosos da cabeça.
 - (B) retirar do carro a vítima na posição sentada, e após, deitá-la no chão.
 - (C) evitar que a vítima adormeça, sacudindo-a, vigorosamente, se necessário.
 - (D) oferecer alimentos com sal ou bebidas quentes à vítima.
 - (E) identificar os riscos antes de definir as ações.

43. Uma pessoa precisava contar 40 passos longos para sinalizar o local de um acidente. Quando estava na contagem de 20 passos longos, ela encontrou uma curva. Nessa situação, ela deve
- (A) parar a contagem, caminhar até o final da curva e recomeçar a contagem a partir dos 20 passos longos.
 - (B) acrescentar mais 10 passos longos, totalizando 50 passos longos.
 - (C) acrescentar mais 5 passos longos, totalizando 45 passos longos.
 - (D) iniciar novamente a contagem a partir do final da curva.
 - (E) continuar normalmente a contagem dos passos longos.

44. A técnica que produz melhor resultado para apagar o incêndio de um carro é quando os motoristas
- (A) posicionam os extintores horizontalmente.
 - (B) realizam movimentos com os extintores em forma de leque.
 - (C) usam extintores com o jato sendo dirigido para o meio do fogo.
 - (D) jogam o conteúdo de cada extintor aos poucos e de forma intercalada.
 - (E) usam extintores com o ponteiro do medidor de pressão na área vermelha.

<p>45. Ao atender as vítimas de uma colisão entre dois carros, a pessoa que socorre deverá soltar o cinto de segurança, sem movimentar o corpo delas, se</p> <p>I. o cinto de segurança estiver dificultando a respiração.</p> <p>II. as vítimas queixarem-se de dor no corpo todo.</p> <p>III. o cinto de segurança estiver dificultando a movimentação.</p> <p>IV. as vítimas queixarem-se de formigamento nos braços e pernas.</p> <p>Está correto o que se afirma em</p> <p>(A) I, somente.</p> <p>(B) I e II, somente.</p> <p>(C) I e IV, somente.</p> <p>(D) II e III, somente.</p> <p>(E) I, II, III e IV.</p>	<p>49. O reservatório de expansão do sistema de arrefecimento apresenta borbulhamento e vazamentos durante o funcionamento do motor. Isto indica um provável problema de</p> <p>(A) colméia do radiador obstruída.</p> <p>(B) junta de cabeçote queimada.</p> <p>(C) válvula termostática engripada aberta.</p> <p>(D) junta da bomba d'água danificada.</p> <p>(E) rotor da bomba de água desgastado.</p>
<p align="center">CONHECIMENTOS ELEMENTARES DE MECÂNICA DE AUTOMÓVEIS</p> <p>46. O provável defeito que faz com que a rotação de marcha lenta de um veículo equipado com injeção eletrônica se altere quando o pedal de freio é acionado é</p> <p>(A) entrada de ar pela junta de vedação do coletor de escapamento.</p> <p>(B) entrada de ar pela junta de vedação do coletor de admissão.</p> <p>(C) a base do corpo de borboleta trincada.</p> <p>(D) falta de vedação no servofreio.</p> <p>(E) o eixo de borboleta empenado.</p>	<p>50. Na embalagem de determinado lubrificante de motor aparece a norma API-SJ, que representa a classificação quanto</p> <p>(A) à quilometragem de troca.</p> <p>(B) à temperatura de trabalho.</p> <p>(C) ao tempo de troca.</p> <p>(D) à viscosidade.</p> <p>(E) à aditivização.</p>
<p>47. Um veículo que tem seu catalisador parcialmente obstruído poderá apresentar</p> <p>(A) consumo excessivo de óleo lubrificante.</p> <p>(B) dificuldade de mudanças de marchas.</p> <p>(C) baixo rendimento do motor.</p> <p>(D) batidas internas do motor.</p> <p>(E) baixo consumo de combustível.</p>	<p align="center">LEI Nº 8.112 DE 11/12/1990</p> <p>51. Perseu, servidor público, submetido a processo administrativo sofreu penalidade que seria considerada inadequada. Além disso, Perseu sendo portador de doença mental teve declarada sua incapacidade mental. Nesse caso, a revisão do processo administrativo</p> <p>(A) é cabível, e deve ser requerida pelo respectivo curador.</p> <p>(B) não tem cabimento porque ela é restrita para provar a inocência.</p> <p>(C) é cabível, e pode ser requerida por qualquer pessoa da família.</p> <p>(D) não tem cabimento em razão da incapacidade mental.</p> <p>(E) deve ser suspensa até que ocorra a prescrição da pena.</p>
<p>48. Um veículo de cinco marchas com motor dianteiro longitudinal e tração traseira apresenta ruídos de batidas internas na caixa do diferencial, ao sair e quando troca de marcha em movimento. O provável problema é</p> <p>(A) folga excessiva no pino das satélites.</p> <p>(B) desgaste no vedador do pinhão.</p> <p>(C) árvore de transmissão empenada.</p> <p>(D) árvore de transmissão quebrada.</p> <p>(E) empenamento da coroa.</p>	<p>52. A responsabilidade administrativa do servidor público</p> <p>(A) será afastada também no caso de absolvição criminal por insuficiência de provas.</p> <p>(B) não será afastada no caso de absolvição criminal que negue a existência de sua autoria.</p> <p>(C) será afastada também no caso de absolvição criminal que negue a existência do fato.</p> <p>(D) não será afastada em nenhuma hipótese, face a inexistência de relação com a absolvição criminal.</p> <p>(E) será sempre afastada no caso de absolvição criminal por qualquer fundamento ou motivo.</p>

53. Em matéria de acumulação remunerada de cargos públicos, é certo que o servidor público federal

- (A) não poderá, em qualquer hipótese exercer mais de um cargo em comissão, todavia tem o direito de ser remunerado pela participação em órgão de deliberação coletiva.
- (B) sempre pode exercer mais de um cargo em comissão, tendo em vista a natureza e peculiaridade das funções, assim como por ser de livre nomeação e exoneração.
- (C) não pode acumular cargos e funções públicas, porém essa vedação não se estende aos empregos em autarquias e fundações públicas com sede no Distrito Federal.
- (D) vinculado ao regime jurídico destes servidores, que acumular lícitamente dois cargos efetivos, quando investido em cargo de comissão, será obrigado, em qualquer situação, a afastar-se de ambos os cargos efetivos.
- (E) não poderá exercer mais de um cargo em comissão, salvo se nomeado para ter exercício, interinamente, em outro cargo de confiança, sem prejuízo das atribuições do que atualmente ocupa, devendo optar pela remuneração de um deles durante o período da interinidade.

54. No que se refere ao processo administrativo, analise:

- I. O prazo para conclusão da sindicância não excederá 30 (trinta) dias, podendo ser prorrogado por igual período, a critério da autoridade superior.
- II. Ainda que o fato narrado não configure evidente infração disciplinar ou ilícito penal, a denúncia não pode ser arquivada tendo em vista a supremacia do interesse público sobre o particular.
- III. As denúncias sobre irregularidades serão objeto de apuração, desde que contenham a identificação e o endereço do denunciante e sejam formuladas por escrito, confirmada a autenticidade.
- IV. Em razão da independência dos procedimentos e do rito processual específico, a sindicância não poderá resultar na instauração de processo disciplinar.

Nesses casos, é correto SOMENTE o que se afirma em

- (A) I e II.
- (B) I e III.
- (C) II e IV.
- (D) I, III e IV.
- (E) II, III e IV.

55. No que diz respeito às penas disciplinares, considere a prescrição da ação disciplinar, quanto: **I.** à advertência; **II.** à suspensão; e **III.** à infração punível com cassação de aposentadoria. Nesses casos, a prescrição da ação disciplinar ocorrerá, respectivamente, em

- (A) 120 (cento e vinte) dias, 2 (dois) anos e 3 (três) anos.
- (B) 120 (cento e vinte) dias, 3 (três) anos e 5 (cinco) anos.
- (C) 180 (cento e oitenta) dias, 1 (um) ano e 3 (três) anos.
- (D) 180 (cento e oitenta) dias, 2 (dois) anos e 5 (cinco) anos.
- (E) 240 (duzentos e quarenta) dias, 4 (quatro) anos e 8 (oito) anos.