



PODER JUDICIÁRIO TRIBUNAL SUPERIOR ELEITORAL (TSE)

CONCURSO PÚBLICO
NÍVEL MÉDIO

Aplicação: 14/1/2007



CARGO 19: TÉCNICO JUDICIÁRIO ÁREA ADMINISTRATIVA (TSE)

Caderno,

19-ÉPSILON

TARDE

LEIA COM ATENÇÃO AS INSTRUÇÕES ABAIXO.

- 1 Ao receber este caderno, confira atentamente se o tipo de caderno — Caderno 19-ÉPSILON — coincide com o que está registrado em sua folha de respostas. Em seguida, verifique se ele contém oitenta questões, correspondentes às provas objetivas, corretamente ordenadas de 1 a 80.
- 2 Quando autorizado pelo chefe de sala, no momento da identificação, escreva, no espaço apropriado da sua folha de respostas, com a sua caligrafia usual, a seguinte frase de Goethe:
Faça o que for justo. O resto virá por si só.
- 3 Caso o caderno esteja incompleto ou tenha qualquer defeito, solicite ao fiscal de sala mais próximo que tome as providências cabíveis.
- 4 Não utilize lápis, lapiseira, borracha e(ou) qualquer material de consulta que não seja fornecido pelo CESPE/UnB.
- 5 Não se comunique com outros candidatos nem se levante sem autorização do chefe de sala.
- 6 A duração das provas é de **quatro horas**, já incluído o tempo destinado à identificação — que será feita no decorrer das provas — e ao preenchimento da folha de respostas.
- 7 Você deverá permanecer obrigatoriamente em sala por, no mínimo, uma hora após o início das provas e poderá levar o seu caderno de provas somente no decurso dos últimos **quinze minutos** anteriores ao horário determinado para o término das provas.
- 8 Ao terminar as provas, chame o fiscal de sala mais próximo, devolva-lhe a sua folha de respostas e deixe o local de provas.
- 9 A desobediência a qualquer uma das determinações constantes no presente caderno ou na folha de respostas poderá implicar a anulação das suas provas.

AGENDA (DATAS PROVÁVEIS)

- I 16/1/2007, após as 9 h (horário de Brasília) – Gabaritos oficiais preliminares das provas objetivas: Internet — www.cespe.unb.br/concursos/tse2006.
- II 16 a 18/1/2007 – Recursos (provas objetivas): exclusivamente no Sistema Eletrônico de Interposição de Recurso, Internet — www.cespe.unb.br/concursos/tse2006 —, mediante instruções e formulários que estarão disponíveis nesse endereço.
- III 30/1/2007 – Resultados finais das provas objetivas e do concurso: Diário Oficial da União e Internet — www.cespe.unb.br/concursos/tse2006.

OBSERVAÇÕES

- Não serão objeto de conhecimento recursos em desacordo com o item 12 do Edital n.º 1/2006 – TSE, de 13/11/2006.
- Informações adicionais: telefone 0(XX) 61 3448-0100; Internet — www.cespe.unb.br/concursos/tse2006.
- É permitida a reprodução deste material apenas para fins didáticos, desde que citada a fonte.

- Nas questões de **1 a 80**, marque, em cada uma, a única opção correta, de acordo com o respectivo comando. Para as devidas marcações, use a **folha de respostas**, único documento válido para a correção das suas provas.
- Nas questões que avaliam **Noções de Informática**, a menos que seja explicitamente informado o contrário, considere que todos os programas mencionados estão em configuração-padrão em português, que o *mouse* está configurado para pessoas destras e que expressões como clicar, clique simples e clique duplo referem-se a cliques com o botão esquerdo do *mouse*. Considere também que não há restrições de proteção, de funcionamento e de uso em relação aos programas, arquivos, diretórios e equipamentos mencionados.

CONHECIMENTOS BÁSICOS

Texto para as questões 1 e 2

1 Geralmente, as oposições não gostam dos governos. Partido vencido contesta a eleição do vencedor, e partido vencedor é simultaneamente vencido, e vice-versa. Tentam-se
4 acordos, dividindo os deputados; mas ninguém aceita minorias. No antigo regímen iniciou-se uma representação de minorias, para dar nas câmaras um recanto ao partido que
7 estava de baixo. Não pegou bem — ou porque a porcentagem era pequena — ou porque a planta não tinha força bastante. Continuou praticamente o sistema da lavra única.

10 (...) Sócrates aconselhava ao legislador que quando houvesse de legislar tivesse em vista a terra e os homens. Ora, os homens aqui amam o governo e a tribuna, gostam de
13 propor, votar, discutir, atacar, defender e os demais verbos, e o partido que não folheia a gramática política acha naturalmente que já não há sintaxe; ao contrário, o que tem a
16 gramática na mão julga a linguagem alheia obsoleta e corrupta. O que estamos vendo é a impressão em dous exemplares da mesma gramática.

Machado de Assis. *A Semana. Obra completa*, v. III. Rio de Janeiro: Aguilar, 1973, p. 652-3.

QUESTÃO 1

Em relação ao texto, assinale a opção correta.

- Ⓐ A substituição de “Tentam-se” (ℓ.3) por **São tentados** prejudica a correção gramatical do período.
- Ⓑ Se os travessões das linhas 7 e 8 forem substituídos por vírgulas, o período fica incorreto.
- Ⓒ As palavras “planta” (ℓ.8) e “lavra” (ℓ.9) constituem um jogo metafórico de idéias.
- Ⓓ O emprego do subjuntivo em “quando houvesse” (ℓ.10-11) justifica-se por compor uma afirmativa sobre uma ação já decorrida.

QUESTÃO 2

Com referência ao texto, assinale a opção correta.

- Ⓐ Na linha 13, o emprego de vírgulas após “propor”, “votar”, “discutir” e “atacar” justifica-se por isolar expressões de natureza positiva.
- Ⓑ As expressões “folheia a gramática política” (ℓ.14) e “tem a gramática na mão” (ℓ.15-16) estão sendo empregadas em sentido denotativo.
- Ⓒ Pelos sentidos do texto, partidos de oposição e de situação têm estratégias completamente diferentes de ação.
- Ⓓ O emprego da primeira pessoa do plural em “estamos vendo” (ℓ.17) inclui o leitor nas afirmações do período.

QUESTÃO 3

1 A função da oposição em uma sociedade democrática consiste em denunciar a corrupção, acompanhar as investigações e avaliar os projetos e iniciativas
4 governamentais, propondo alternativas. A crítica, e não a adesão, é sua tarefa primordial. Se uma sociedade cessa de ter uma verdadeira oposição, ela caminha para uma solução
7 autoritária. A governabilidade só existe verdadeiramente com uma oposição atuante, que sinalize os problemas existentes e discuta os seus encaminhamentos.

Denis Lerrer Rosenfield. *O Globo*, 27/11/2006, p. 7 (com adaptações).

Em relação ao texto acima, assinale a opção correta.

- Ⓐ O autor do texto defende uma oposição atuante em relação às posições do governo.
- Ⓑ Na linha 6, o pronome “ela” refere-se a “verdadeira oposição”.
- Ⓒ Entre os dois últimos períodos do texto, subentende-se uma relação sintática que pode ser expressa por **Entretanto**.
- Ⓓ O emprego do subjuntivo em “sinalize” (ℓ.8) e “discuta” (ℓ.9) justifica-se por compor um período de natureza explicativa.

QUESTÃO 4

1 Uma sociedade democrática vive de suas clivagens,
que têm como fundamento o respeito ao pluralismo político.
Cada partido tem o direito de fazer suas próprias propostas,
4 procurando mostrar para a opinião pública a sua viabilidade,
a sua pertinência e a sua importância. Ela se alimenta,
também, dos consensos que consegue estabelecer sobre
7 algumas grandes questões nacionais, as que possibilitam
precisamente que o país adote uma rota de crescimento
econômico, desenvolvimento social e pleno respeito à
10 liberdade.

Idem, ibidem.

Em relação ao texto acima, assinale a opção **incorreta**.

- A A forma verbal “têm” (ℓ.2) refere-se a “clivagens” (ℓ.1).
- B A palavra “clivagens” (ℓ.1) está sendo empregada com o sentido de **convergências, uniões**.
- C O pronome “Ela” (ℓ.5) refere-se a “sociedade democrática” (ℓ.1).
- D O emprego de vírgula após “econômico” (ℓ.9) justifica-se por separar elementos de mesma função gramatical componentes de uma enumeração.

QUESTÃO 5

1 Como seus antecessores Adam Smith, Karl Marx e
John Maynard Keynes, o norte-americano Milton Friedman
foi um dos mais influentes economistas de todos os tempos.
4 Recebeu a John Bates Clark Medal (1951) e o Prêmio Nobel
de Economia (1976), as duas mais importantes condecorações
acadêmicas concedidas por significativa contribuição ao
7 conhecimento científico.

Em seu clássico **A Metodologia da Ciência
Econômica** (1953), tornou clara a diferença entre ciência
10 econômica e economia política. A primeira seria formada por
hipóteses empiricamente refutáveis, enquanto a segunda, por
prescrições baseadas em juízos de valor.

Paulo Guedes. *O Globo*, 27/11/2006, p. 7 (com adaptações).

Em relação ao texto acima, julgue os itens subsequentes.

- I Pelos sentidos do texto, Adam Smith, Karl Marx e John Maynard Keynes foram contemporâneos de Milton Friedman.
- II O texto informa que Keynes recebeu o Prêmio Nobel de Economia em 1976.
- III Friedman esclareceu a diferença entre ciência econômica e economia política.
- IV O emprego da vírgula após “segunda” (ℓ.11) justifica-se pela elipse da repetição da expressão “seria formada” (ℓ.10).

A quantidade de itens certos é igual a

- A 1.
- B 2.
- C 3.
- D 4.

QUESTÃO 6

1 Distraídos com a discussão sobre os índices de
crescimento, deixamos de perceber que desenvolvimento é o
processo contínuo pelo qual uma sociedade aprende a
4 administrar realidades cada vez mais complexas.

Quando dizemos que os suíços ou suecos são
desenvolvidos, o que temos em mente não é apenas que eles
7 são mais ricos que nós. O que está subentendido é que
também sabem gerir melhor os trens e as escolas primárias, as
florestas e os hospitais, as universidades e as penitenciárias,
10 os museus e os tribunais. Em outras palavras, ser
desenvolvido é uma totalidade.

No Brasil temos ilhas de excelência: o Departamento
13 do Tesouro, a EMBRAPA, o Itamaraty, entre outras. Mas
estão afogadas em oceano de incompetência, em certos pontos
com profundidades abissais. As demandas de exigência
16 crescente de uma sociedade dinâmica são atendidas pelas
ilhas de eficiência, mas logo se atolam nos gargalos da
inépcia.

Rubens Ricupero. *Folha de S.Paulo*, 26/11/2006, p. B2 (com adaptações).

Em relação ao texto acima, julgue os itens que se seguem.

- I O emprego da primeira pessoa do plural em “deixamos” (ℓ.2), “dizemos” (ℓ.5), “nós” (ℓ.7) e “temos” (ℓ.12) indica a inclusão do autor e do leitor na informação.
- II A substituição de “pelo qual” (ℓ.3) por **cuja** mantém a correção gramatical do período.
- III A expressão “Em outras palavras” (ℓ.10) pode, sem prejuízo para a informação do texto, ser substituída por qualquer uma das seguintes: Isto é, Ou seja, Ou melhor, Com efeito.
- IV A expressão “se atolam” (ℓ.17) refere-se a “demandas de exigência crescente de uma sociedade dinâmica” (ℓ.15-16).

A quantidade de itens certos é igual a

- A 1.
- B 2.
- C 3.
- D 4.

QUESTÃO 7

1 Olhando em retrospectiva os últimos 20 anos, temos
 uma realidade nada alentadora. Em média, o Brasil cresceu
 cerca de 2,4% ao ano. Diante desse cenário, o que precisa ser
 4 feito para que atinjamos os tão propalados 5% de crescimento
 sustentado?

Quando se trata de crescimento sustentado, a teoria
 7 econômica indica que o resultado positivo é fruto de dois
 tipos de ação: aumento da produtividade ou acumulação de
 capital (físico e humano).

10 A elevação significativa da produtividade dos fatores
 de produção só será obtida com reformas institucionais
 profundas. Já o acúmulo de capital humano requer
 13 investimento em educação, cuja maturação é longa.

Luiz Guilherme Schymura. *Folha de S.Paulo*, 1.º/12/2006 (com adaptações).

Assinale a opção **incorreta** acerca do texto acima.

- Ⓐ No primeiro parágrafo, a substituição de “o que precisa” (ℓ.3) por **há muito a**, acompanhada dos devidos ajustes de pontuação, permitiria a transformação da interrogação em uma afirmação.
- Ⓑ O emprego da vírgula após “sustentado” (ℓ.6) justifica-se por isolar oração subordinada anteposta à principal.
- Ⓒ A substituição de “Já” (ℓ.12) pela expressão **Por outro lado**, seguida de vírgula, mantém a informação original do período.
- Ⓓ A substituição de “cuja” (ℓ.13) por **a qual** mantém a correção gramatical do período.

QUESTÃO 8

Assinale a opção que apresenta **erro** gramatical.

- Ⓐ Em fevereiro de 1938, o Departamento Municipal de Cultura de São Paulo, sob a gestão de Mário de Andrade, despachou uma equipe de pesquisadores para registrar a música brasileira tradicional, que, sufocada pela modernidade, corria o risco de se extinguir.
- Ⓑ Na equipe, iam o arquiteto Luís Saia, o maestro Martin Braunwieser, o técnico de som Benedicto Pacheco e o assistente Antonio Ladeira, munidos de gravador Presto, câmara fotográfica, filmadora, discos e muitas fichas e cadernetas para anotação.
- Ⓒ Partiram do porto de Santos com o objetivo de percorrer o país. Começaram pelo Norte e Nordeste, porque Mário considerava que ali a cultura brasileira era mais genuína.
- Ⓓ A Missão chegou ao fim antes do previsto. Com o Estado Novo, por questões políticas, Mário foi afastado da direção do Departamento. Mas Oneida Alvarenga, diretora da Discoteca Pública Municipal de São Paulo, e ex-aluna de Mário, coletaram e organizaram todo o material.

Opções adaptadas de Mariana Albanese. *Brasil — Almanaque de Cultura Popular*, n.º 91, nov./2006, p. 18-9.

QUESTÃO 9

1 Mário de Andrade assim justificou a necessidade de
 aprofundar o estudo etnológico: “Nós não precisamos de
 teóricos (...) Precisamos de moços pesquisadores que vão à
 4 casa recolher com seriedade e de maneira completa o que esse
 povo guarda, e rapidamente esquece, desnorteado pelo
 progresso invasor (...)” A Missão de Pesquisa folclórica foi
 7 a última ação de Mário de Andrade como diretor do
 Departamento de Cultura. A implantação do Estado Novo
 significou o fim da Missão. Em maio de 1938, Mário foi
 10 substituído, e em julho seguiu para o Rio de Janeiro. O
 homem que se dizia completamente feliz antes da vida pública
 passou a beber demais, a ter períodos de depressão. Voltou
 13 para São Paulo em 1941. Morreu quatro anos depois, de
 enfarte, aos 51 anos.

Mariana Albanese. *Op. cit.*, p. 19 e 23.

Em relação ao texto acima, assinale a opção **incorreta**.

- Ⓐ A substituição de “assim justificou” (ℓ.1) por **justificou da seguinte maneira** prejudica a correção gramatical do período.
- Ⓑ O emprego de aspas justifica-se por isolar uma citação.
- Ⓒ A palavra “significou” (ℓ.9) está sendo empregada com o sentido de **provocou**.
- Ⓓ A expressão “O homem” (ℓ.10-11) retoma o antecedente “Mário” (ℓ.9).

QUESTÃO 10

Assinale a opção que apresenta **erro** de concordância.

- Ⓐ Mário havia viajado pelo Brasil no final da década de 20, o que foi uma experiência fundamental, recriada em **O Turista Aprendiz** e na rapsódia **Macunaíma, o Herói sem Nenhum Caráter**.
- Ⓑ Músico de formação, sentia a necessidade de registrar em fonogramas a música cantada pelos brasileiros. Justificavam que a anotação manual não era tão eficiente quanto a gravação.
- Ⓒ Conseguiu viabilizar o projeto no final de 1937, e então começou os preparativos para a Missão. Mário foi exigente na seleção da equipe.
- Ⓓ Embasado nos estudos etnográficos, defendia que os pesquisadores estivessem preparados para agir de forma profissional.

Opções adaptadas de Mariana Albanese. *Op. cit.*



Texto para as questões 11 e 12



A figura acima ilustra a janela Meu computador, do Windows XP.







QUESTÃO 11

Com relação à janela do Windows XP mostrada na figura acima e ao Windows XP, assinale a opção correta.

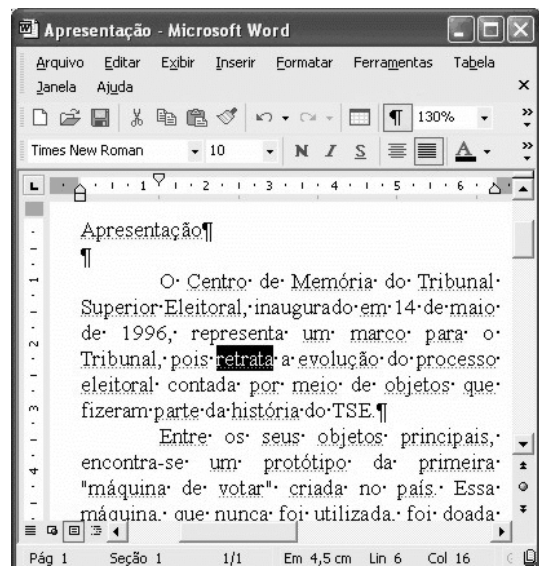
- A É possível abrir a janela Meus documentos a partir de funcionalidades da janela Meu computador, que podem ser acionadas por meio de operações com o mouse.
- B Essa janela é aberta imediatamente após a aplicação de um clique simples no botão Iniciar do Windows XP.
- C Um clique duplo em qualquer local da barra de título dessa janela faz que a janela seja minimizada e que um botão correspondente a ela seja exibido na barra de tarefas do Windows XP.
- D Para se iniciar um programa de detecção da presença de vírus em algum arquivo contido em um disquete de 3½" que esteja inserido na unidade A:, é suficiente clicar o ícone  e, em seguida, clicar .

QUESTÃO 12

Ainda com relação à janela do Windows XP mostrada na figura e ao Windows XP, assinale a opção correta.

- A Ao se clicar o ícone  Unidade de DVD (E:) e, em seguida, clicar três vezes consecutivas o botão , será aberta a janela  Disco local (C:).
- B Ao se clicar o botão , todas as janelas que estiverem abertas na área de trabalho do Windows serão minimizadas, de forma que toda essa área será exibida no monitor de vídeo.
- C Ao se clicar o ícone  Administrador - documentos e, em seguida, se clicar a ferramenta Nome, é aberta uma caixa de diálogo denominada Renomear, que permite que o usuário altere o nome da pasta correspondente ao ícone clicado.
- D Ao se clicar o ícone  Disco local (C:) com o botão direito do mouse, é exibida uma lista de opções, entre as quais a opção Abrir, que permite abrir a pasta associada ao referido ícone.




Texto para as questões de 13 a 15



A figura acima ilustra uma janela do Word 2002 que está sendo executada em um computador com o sistema operacional Windows XP.



QUESTÃO 13

Com relação à janela mostrada na figura e ao Word 2002, assinale a opção correta.

- A A fonte usada na palavra “retrata”, em destaque no texto em edição, é Arial.
- B Ao se clicar imediatamente antes do símbolo ¶, no final do primeiro parágrafo, e, em seguida, se clicar o botão , será inserida uma nova linha, em branco, sendo que essa linha irá conter apenas o símbolo ¶.
- C Ao se aplicar um clique duplo entre as letras “p” e “a” da palavra “país”, essa palavra será selecionada.
- D Para se centralizar o título do texto — “Apresentação” —, é suficiente selecioná-lo e, em seguida, pressionar simultaneamente as teclas  e .







QUESTÃO 14

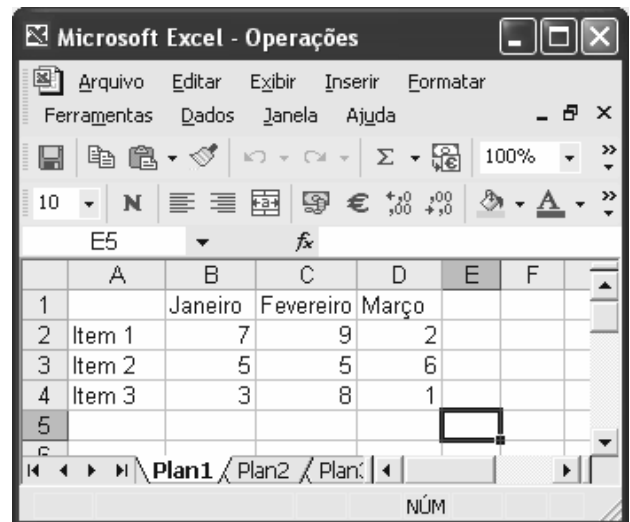
Ainda com relação à janela mostrada na figura e ao Word 2002, assinale a opção correta.

- A** Para sublinhar a palavra “Apresentação”, no título do texto em edição, é suficiente clicar em qualquer ponto dessa palavra e, em seguida, clicar o botão . Se esse botão for clicado novamente, será também aplicada a formatação negrito a essa mesma palavra.
- B** Ao se clicar o botão , será exibida, por inteiro, a página 1 do documento em edição, e o conteúdo dessa página será exibido com tamanho reduzido de forma proporcional ao tamanho da página exibida.
- C** Funcionalidades associadas à caixa permitem definir o tamanho da fonte de trechos de texto que estejam selecionados.
- D** O nome com o qual o arquivo está salvo na unidade de disco é Times New Roman.

QUESTÃO 15

Ainda com relação à janela mostrada na figura, assinale a opção que indica uma forma correta de copiar o título — “Apresentação” — para o final do parágrafo terminado em “do TSE.”, sem apagar o título original (ou seja, fazer uma operação de copiar, e, não, de recortar). Para isso, considere que a palavra “Apresentação” esteja selecionada.





- A** Pressionar e manter pressionada a tecla ; teclar ; liberar a tecla ; clicar o local correto de destino da cópia; clicar o botão .
- B** Pressionar e manter pressionada a tecla e teclar ; clicar o local correto de destino da cópia; clicar o botão .
- C** Clicar o botão ; clicar o local correto de destino da cópia; clicar o botão .
- D** Clicar o botão ; clicar o local correto de destino da cópia; clicar o botão .

Texto para as questões 16 e 17



A figura acima ilustra uma janela do Excel 2002 que está sendo executada em um computador com o sistema operacional Windows XP.

QUESTÃO 16

Com relação à janela mostrada na figura acima e ao Excel 2002, assinale a opção correta.

- A** O trecho a seguir descreve corretamente uma forma de alterar para a cor amarela a fonte usada nos conteúdos das células A2, A3 e A4: selecionar as referidas células; clicar , fazendo que seja exibida uma caixa com diversas opções de cores; selecionar a cor amarela.
- B** Para inserir uma nova linha, em branco, entre as linhas 3 e 4, movendo-se a linha 4 uma posição abaixo, é suficiente selecionar a linha 3 e, em seguida, clicar .
- C** Ao se clicar o botão , será criada uma nova planilha com conteúdo exatamente igual ao da planilha Operações, cujo nome será Operações2.
- D** Após selecionar as células D2, D3 e D4 e clicar , o número 9 será exibido na célula D5.






QUESTÃO 17

Ainda com relação à janela do Excel mostrada no texto, considere a seguinte seqüência de ações: clicar a célula F4; digitar $=\$C3+D\4 e teclar ; clicar novamente a célula F4; clicar ; clicar a célula E3; clicar . Após essa seqüência de ações, os conteúdos das células E3 e F4 serão, respectivamente,

- A** 17 e 6.
B 12 e 6.
C 13 e 6.
D 6 e 6.

QUESTÃO 18

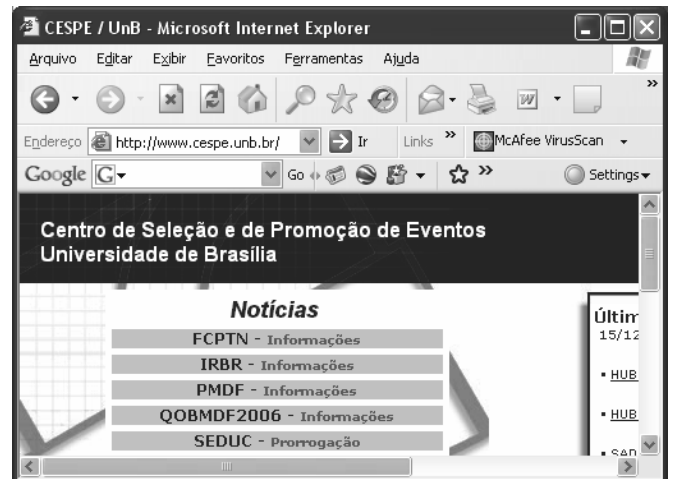
A figura acima mostra um *slide* de uma apresentação em uma janela do PowerPoint 2002. Com relação a essa figura e ao PowerPoint 2002, assinale a opção correta.

- A Para diminuir o recuo do tópico que contém a palavra “Pesquisa”, afastando-a mais para a esquerda, é suficiente clicar essa palavra e, em seguida, clicar o botão .
- B Os botões  e  permitem aumentar e diminuir o tamanho da fonte de um texto selecionado.
- C Para maximizar a janela mostrada, de forma que ela ocupe toda a tela do monitor de vídeo, é suficiente alterar para 100 o número 28, na caixa .
- D O botão  permite exibir ou ocultar linhas de grade que se superpõem ao conteúdo do *slide* e que são impressas quando o *slide* é impresso.




QUESTÃO 19

Com respeito a conceitos relacionados à Internet e a correio eletrônico, assinale a opção correta.

- A A seguinte seqüência de caracteres possui uma estrutura típica de URL de páginas da Web brasileiras: www.com.empresa.bra.
- B A estrutura típica de um endereço de *e-mail* de uma pessoa que trabalha em empresa localizada nos Estados Unidos da América é: empresa#pessoa.com.usa.
- C A World Wide Web (www) tem-se tornado uma fonte de informações e de conhecimentos para cidadãos de vários países.
- D Todas as mensagens da Internet que são enviadas do Brasil para o exterior passam, necessariamente, por um roteador central, controlado pelo governo federal e localizado em Brasília, para serem, então, enviadas aos destinatários, quando passam, necessariamente, por esse mesmo mecanismo, controlado pelo governo do país de destino.

QUESTÃO 20

Com relação à figura acima, que mostra uma janela do Internet Explorer 6 (IE6), e às funcionalidades desse *software*, assinale a opção correta.

- A Ao se clicar o botão , é aberto um editor de html, que tem por função permitir a criação de páginas da Web por meio dessa linguagem.
- B O menu **Exibir** apresenta comandos com funcionalidades que permitem, entre outras coisas, exibir ou esconder algumas barras de ferramentas do IE6.
- C Ao se clicar o botão , é aberto o Outlook Express, que é um programa que permite o envio e o recebimento de mensagens de *e-mail*.
- D Pela observação da figura, é possível afirmar que o IE6 está em um modo de edição de páginas em html. Nessa situação, a função do botão  é permitir que o usuário insira um *hyperlink* na página em edição.

QUESTÃO 21

Julgue os itens abaixo, relativos a documentos públicos.

- I São considerados documentos públicos os conjuntos de documentos produzidos e recebidos por instituições de caráter público e por entidades privadas encarregadas da gestão de serviços públicos no exercício de suas atividades.
- II A eliminação de documentos produzidos por instituições públicas e de caráter público será realizada mediante autorização da instituição arquivística pública, na sua específica esfera de competência.
- III A gestão e o recolhimento dos documentos públicos produzidos e recebidos pelo Poder Judiciário federal é de responsabilidade do Conselho Nacional de Arquivos.

Assinale a opção correta.

- A Nenhum item está certo.
- B Apenas os itens I e II estão certos.
- C Apenas os itens I e III estão certos.
- D Todos os itens estão certos.

QUESTÃO 22

O arquivo intermediário é uma das fases do ciclo de vida dos documentos de arquivo. Constitui objetivo do arquivo intermediário

- A evitar a manutenção de documentos por um longo período nos escassos espaços dos setores de trabalho.
- B guardar os documentos históricos.
- C diminuir os custos com a duplicação de documentos.
- D manter os documentos de maneira descentralizada.

QUESTÃO 23

É possível estabelecer uma série de diferenças entre arquivo e biblioteca. Acerca dessas diferenças, assinale a opção correta.

- A Os documentos de arquivo são produzidos e conservados com objetivos funcionais e os de biblioteca, com objetivos culturais.
- B Os documentos de arquivo são colecionados de fontes diversas e os de biblioteca, por atividades organizacionais.
- C Os documentos de arquivo são classificados a partir de métodos predeterminados e os de biblioteca, pelas particularidades das atividades geradoras.
- D Os documentos de arquivo devem existir em numerosos exemplares e os de biblioteca, em um único exemplar ou em limitado número de cópias.

QUESTÃO 24

Julgue os itens a seguir, acerca da fase corrente do ciclo de vida dos documentos.

- I Uma boa organização dos arquivos correntes permite aumentar a eliminação dos documentos na fonte, diminuindo o volume documental total.
- II Prevalece, nessa fase, o valor secundário dos documentos, pela importância administrativa que eles têm.
- III A ausência de normas que guiam a organização dos arquivos correntes pode provocar a má utilização do espaço e do equipamento.

Assinale a opção correta.

- A Nenhum item está certo.
- B Apenas os itens I e II estão certos.
- C Apenas os itens I e III estão certos.
- D Todos os itens estão certos.

QUESTÃO 25

As atividades típicas do protocolo **não** incluem o(a)

- A recebimento de correspondência.
- B abertura de processo.
- C distribuição de documentos.
- D preparação de instrumento de descrição.

QUESTÃO 26

O instrumento de destinação que determina prazos e condições de guarda é o(a)

- A plano de classificação.
- B listagem de eliminação.
- C tabela de temporalidade.
- D plano de preservação.

QUESTÃO 27

A ordenação alfabética de documentos ou de dossiês é uma das possibilidades para a disposição de documentos em um arquivo. Nesse sentido, julgue as propostas de ordenação alfabética apresentadas nos itens abaixo.

I Campos, Milton de Sousa
Ferreira, André
Muller, Paul
Sousa, Antônio José

II Almeida, Pedro de
Almeida Filho, João Almeida
São Paulo, Carlos
Braga Sobrinho, Antônio

III I Conferência de Gestão de Documentos
Quarto Workshop sobre Avaliação
Segundo Congresso Nacional de Arquivologia
Terceiro Seminário sobre Preservação de Documentos

Assinale a opção correta.

- A Apenas um item está certo.
- B Apenas os itens I e II estão certos.
- C Apenas os itens I e III estão certos.
- D Todos os itens estão certos.

QUESTÃO 28

Os suportes dos documentos de arquivo incluem

- A papel, papel fotográfico, película videográfica.
- B plantas, mapas, fotografias.
- C mídia eletrônica, película filmográfica, iconográfico.
- D negativo fotográfico, diapositivo, audiovisual.

QUESTÃO 29

A conservação compreende os cuidados prestados aos documentos e ao seu local de armazenamento. As principais operações de conservação são

- A higienização, exatidão, congelamento e preservação.
- B umidificação, limpeza, calafetação, restauração.
- C laminação, refrigeração, evaporação e encapsulamento.
- D desinfestação, limpeza, alisamento e restauração.

QUESTÃO 30

Uma das espécies documentais mais utilizadas nos órgãos do Poder Judiciário é o processo. É comum a juntada de processos, que pode ocorrer por anexação ou por apensação. A juntada por anexação significa

- A a união provisória de um ou mais processos a um processo mais antigo, destinada ao estudo e à uniformidade de tratamento em matérias semelhantes, com o mesmo interessado ou não.
- B a união definitiva de um ou mais processos a um outro processo (considerado principal), desde que pertencentes a um mesmo interessado e que contenham o mesmo assunto.
- C a união provisória de um ou mais processos a um outro processo, desde que pertencentes à atividade-meio.
- D a união, por até um ano, de processos que envolvam questões recursais relativas a um mesmo interessado.

CONHECIMENTOS ESPECÍFICOS

QUESTÃO 31

O Tribunal Regional Eleitoral do Estado do Acre (TRE-AC) integra a administração

- A direta do estado do Acre.
- B indireta do estado do Acre.
- C direta federal.
- D indireta federal.

QUESTÃO 32

A PETROBRAS S.A. é uma sociedade anônima em que particulares podem ter ações, mas cuja acionista majoritária é a União. Nessa situação, a PETROBRAS S.A.

- A não integra a administração pública.
- B integra a administração pública na qualidade de parceria público-privada.
- C integra a administração pública na qualidade de sociedade de economia mista.
- D integra a administração pública na qualidade de empresa pública.

QUESTÃO 33

De acordo com o princípio administrativo da autotutela,

- A os atos administrativos são auto-executórios.
- B é sempre possível pedir reconsideração de decisões que deneguem direitos.
- C a administração pública deve tutelar os direitos individuais e coletivos.
- D a administração pública pode anular, de ofício, seus próprios atos, quando ilegais.

QUESTÃO 34

Considere que uma pessoa tenha afirmado que “os deputados federais são agentes políticos considerados servidores públicos de natureza especial”. Essa frase é

- A verdadeira.
- B falsa, pois os deputados são agentes públicos.
- C falsa, porque os deputados não são servidores públicos.
- D falsa, pois os deputados não são agentes políticos.

QUESTÃO 35

Um indivíduo, ao integrar uma junta eleitoral na qualidade de cidadão de notória idoneidade,

- A ocupa cargo público de natureza especial.
- B ocupa cargo público temporário.
- C ocupa cargo público honorífico.
- D não ocupa cargo público.

QUESTÃO 36

Caracteriza exercício de poder de polícia administrativa

- A a aplicação de uma penalidade de suspensão a servidor que infringiu reiteradamente deveres funcionais.
- B a realização de uma sindicância para apurar a culpa de um servidor, acerca de dano causado ao patrimônio da repartição em que ele trabalha.
- C a aplicação de uma multa a restaurante que infringiu normas ligadas à proteção da saúde pública.
- D a apreciação de um recurso contra decisão que indeferiu pedido de concessão de licença para tratar de interesses particulares.

QUESTÃO 37

Um servidor do Tribunal Superior Eleitoral (TSE) determinou a seus subordinados que eles deveriam tomar mais cuidado com o horário e que atrasos superiores a dez minutos não seriam tolerados. Tal determinação constitui exercício de

- A poder disciplinar.
- B poder hierárquico.
- C poder de polícia.
- D poder regulamentar.

QUESTÃO 38

Um indivíduo afirmou que “se o TSE contratasse uma empresa para desenvolver um novo modelo de urna eletrônica, esse contrato configuraria uma delegação de serviço público a particulares mediante contrato administrativo de concessão”. Essa frase é

- A falsa, pois trata-se de contrato de autorização de serviço público.
- B falsa, pois o serviço contratado não constitui serviço público.
- C falsa, pois a concessão se realiza mediante ato administrativo, e não mediante contrato.
- D verdadeira.

QUESTÃO 39

Considere que a Constituição da República atribui ao Tribunal de Contas da União competência para apreciar, para fins de registro, a legalidade dos atos de admissão de pessoal do TSE. Essa competência relaciona-se ao controle

- A administrativo da administração pública.
- B judicial da administração pública.
- C legislativo da administração pública.
- D interno do Poder Judiciário.

QUESTÃO 40

Um jornal noticiou que “a Constituição da República determina que é objetiva a responsabilidade civil tanto do Estado quanto dos seus agentes, no exercício de funções públicas”. Essa afirmação é

- A verdadeira.
- B falsa, pois a responsabilidade dos agentes públicos é subjetiva.
- C falsa, porque, entre os agentes do Estado, somente respondem objetivamente os servidores públicos.
- D falsa, porque a caracterização da responsabilidade civil do Estado depende da existência de culpa administrativa.

QUESTÃO 41

Um estudante afirmou que o presidente da República atua como chefe de governo quando veta uma lei e atua como chefe de Estado quando nomeia um ministro do TSE ou decreta intervenção federal em um estado. Essa afirmação é

- A verdadeira.
- B falsa, pois o veto a leis federais é um ato de chefia de Estado.
- C falsa, pois a nomeação de membros do Poder Judiciário é um ato de governo.
- D falsa, pois a decretação da intervenção federal não compete ao presidente da República.

QUESTÃO 42

David é um brasileiro nato condenado pela justiça espanhola a pena de quinze anos de prisão, por ter participado de ato terrorista com o objetivo de fomentar a independência do país Basco, atualmente, uma das regiões da Espanha. Nessa situação hipotética, considerando que David se encontra no Brasil e que o governo espanhol solicitou sua extradição para fins de cumprimento da pena, assinale a opção correta.

- A David não pode ser extraditado, por ser um criminoso político.
- B A condição de brasileiro nato obsta a extradição de David para a Espanha.
- C David pode ser extraditado, em virtude de ter praticado crime hediondo.
- D David pode ser extraditado, em virtude de ter praticado crime inafiançável.

QUESTÃO 43

Uma senadora da República **não** pode ser

- A presa em flagrante pelo crime de tráfico de drogas.
- B penalmente processada em virtude de crime comum ocorrido após a diplomação.
- C civilmente processada, senão após prévia autorização dada pela Câmara dos Deputados.
- D obrigada a testemunhar sobre informações recebidas em razão do exercício do mandato.

QUESTÃO 44

Um jornal noticiou que, “em virtude da ausência simultânea do presidente e do vice-presidente da República, deveria assumir a presidência o presidente da Câmara dos Deputados; porém, como o atual presidente da Câmara é casado com uma cidadã norte-americana, a Constituição Federal proíbe que ele assuma a presidência da República, de tal forma que a República deverá ser temporariamente presidida pelo presidente do Senado Federal.” Nessa situação hipotética, a notícia está equivocada porque

- A a presidência da República não pode ser ocupada por membros do Poder Legislativo, em virtude do princípio da separação dos poderes.
- B o fato de ser casado com uma cidadã estrangeira não impediria o presidente da Câmara de ocupar a presidência da República.
- C o presidente da Câmara somente assume a presidência da República nos casos em que o presidente do Senado esteja ausente ou impedido de exercer essa função.
- D não há previsão constitucional de que o presidente do Senado ocupe a presidência da República.

QUESTÃO 45

O presidente da República **não** pode

- A ausentar-se do país por mais de quinze dias, sob pena de perda do cargo.
- B ausentar-se do país sem prévia autorização do Congresso Nacional.
- C extinguir órgãos públicos mediante decreto.
- D extinguir, mediante decreto, cargos públicos vagos.

QUESTÃO 46

No caso de crime de responsabilidade, o presidente da República é julgado perante o(a)

- A Senado Federal.
- B Câmara dos Deputados.
- C TSE.
- D Supremo Tribunal Federal (STF).

QUESTÃO 47

O caráter contributivo é uma característica do regime

- A da seguridade social.
- B da previdência social.
- C da assistência social.
- D das atividades do Sistema Único de Saúde (SUS).

QUESTÃO 48

No tocante à educação, a Constituição da República

- A** garante a gratuidade do ensino público, exceto do universitário.
- B** determina a gestão democrática do ensino público.
- C** estabelece a obrigatoriedade e a universalidade do ensino médio.
- D** veda o ensino religioso em escolas públicas.

QUESTÃO 49

Considerando que Werner é um estrangeiro que reside no Brasil há cinco anos, a Constituição da República veda que ele seja proprietário de

- A** escola de ensino fundamental.
- B** universidade.
- C** empresa jornalística.
- D** produtora de cinema.

QUESTÃO 50

A Constituição da República veda

- A** que a união estável entre homossexuais seja considerada família, para fins de proteção do Estado.
- B** a adoção de crianças por homens solteiros.
- C** a adoção de crianças brasileiras por pais estrangeiros.
- D** o trabalho de adolescentes de 12 a 14 anos, inclusive na condição de aprendizes.

QUESTÃO 51

A exoneração de um servidor público estável

- A** somente pode ocorrer a pedido.
- B** somente pode ser determinada por decisão judicial transitada em julgado.
- C** é uma penalidade administrativa.
- D** é vedada por lei.

QUESTÃO 52

Considere que o TRE-AC tenha fixado em um ano o prazo de validade para concurso público de provas e títulos, em edital que foi silente quanto à possibilidade de prorrogação. Nessa situação,

- A** essa fixação seria ilegal, pois a legislação brasileira fixa em dois anos o prazo de validade dos concursos públicos.
- B** esse prazo poderia ser prorrogado uma única vez, por mais um ano.
- C** esse prazo poderia ser prorrogado até três vezes por igual período, pois o prazo máximo de validade dos concursos públicos, incluindo prorrogações, é de quatro anos.
- D** esse prazo seria improrrogável, pois a possibilidade de prorrogação depende de expressa previsão no edital.

QUESTÃO 53

Ana, servidora federal, tem remuneração de R\$ 1.500,00 mensais, compostos por um vencimento básico de R\$ 1.000,00 e uma gratificação de atividade judiciária de 50%. Nessa situação, se Ana vier a receber um abono de R\$ 500,00 e, posteriormente, uma gratificação por tempo de serviço de 20% sobre o vencimento, sua remuneração deverá ser de

- A** R\$ 2.100,00, pois as gratificações são inacumuláveis e não incidem sobre o abono.
- B** R\$ 2.720,00, pois as gratificações são acumuláveis e o abono integra o vencimento.
- C** R\$ 2.200,00, pois as gratificações incidem sobre o vencimento e não sobre o abono.
- D** R\$ 2.520,00, pois apenas a gratificação posterior incide sobre o abono.

QUESTÃO 54

Considerando que Aderbal desempenhe licitamente função de confiança no TRE-BA, é correto afirmar que ele

- A** ocupa cargo comissionado.
- B** ocupa cargo de provimento efetivo.
- C** não está investido em cargo público.
- D** ocupa emprego público.

QUESTÃO 55

Diferentemente dos servidores ocupantes exclusivamente de cargos comissionados, os servidores ocupantes de cargo público de provimento efetivo têm direito a

- A** gratificação por encargo de curso ou concurso.
- B** adicional de férias.
- C** adicional por tempo de serviço.
- D** licença remunerada para atividade política.

QUESTÃO 56

A cada quinquênio de efetivo exercício, o servidor público ocupante de cargo de provimento efetivo

- A** poderá, no interesse da administração, obter licença remunerada para capacitação, de até três meses.
- B** terá direito a obter licença não-remunerada de capacitação, de até um ano.
- C** poderá obter um mês de licença remunerada para tratar de interesses particulares, desde que autorizado pelo seu superior imediato.
- D** terá direito a obter licença remunerada de dois meses, desde que, durante o quinquênio, ele não conte com faltas injustificadas ao serviço.

QUESTÃO 57

Considere que, em virtude da extinção de determinado órgão da administração direta federal, os seus servidores foram postos em disponibilidade, inclusive os ocupantes de cargos comissionados, e permanecem nessa situação há quatro meses, recebendo remuneração calculada com base em 50% do vencimento dos seus cargos. Nessa situação, ocorre ilegalidade, pois

- A servidores públicos estáveis não podem ser colocados em disponibilidade, devendo ser imediatamente reaproveitados em outros órgãos.
- B a lei veda a colocação em disponibilidade de servidores em virtude da extinção do órgão em que eram lotados.
- C os servidores em disponibilidade devem receber remuneração calculada com base no seu vencimento completo.
- D a lei veda disponibilidade mais longa que três meses.

QUESTÃO 58

Laura, que atualmente reside em Petrópolis – RJ, foi nomeada para cargo público de provimento efetivo de técnico judiciário no TRE-RJ, sediado no município do Rio de Janeiro. Nessa situação, Laura

- A tem direito a receber ajuda de custo para mudar-se para o município do Rio de Janeiro, correspondente a quantia equivalente à primeira remuneração a que faria jus.
- B somente teria direito a receber ajuda de custo caso residisse fora do estado do Rio de Janeiro, pois não há direito a ajuda de custo para mudança de domicílio dentro do mesmo estado.
- C somente teria direito a ajuda de custo se, na data da nomeação, ela fosse servidora pública estável.
- D não tem direito a ajuda de custo.

QUESTÃO 59

Na semana passada, Fábio, que ocupava cargo em comissão no TRE-RJ, tomou posse em cargo comissionado no TSE, motivo pelo qual ele se mudou para Brasília, onde aluga um apartamento juntamente com sua companheira e um amigo que é servidor federal. Nessa situação, **não** obstará o direito de Fábio a obter auxílio-moradia o fato de

- A o amigo que reside com ele receber auxílio-moradia.
- B a companheira de Fábio ser proprietária de imóvel residencial em Brasília.
- C ele ter recebido auxílio-moradia durante os dois anos em que ocupou cargo em comissão no TRE-RJ.
- D ele recusar-se a residir em imóvel funcional posto à sua disposição, por considerar preferível habitar um apartamento mais próximo ao local de trabalho.

QUESTÃO 60

Úrsula, que ocupa cargo comissionado no TRE-AM e foi escolhida candidata a cargo eletivo em uma convenção partidária regularmente realizada, solicitou licença remunerada para atividade política. Porém, esse pedido foi negado administrativamente, sob o argumento de que “tal licença é exclusiva de servidores ocupantes de cargo efetivo e, ademais, trata-se de licença não remunerada até que seja efetivamente registrada a candidatura do servidor”. Nessa situação, a resposta da administração é

- A correta.
- B incorreta, pois servidores de cargo em comissão têm direito à referida licença.
- C incorreta, porque a referida licença é exclusiva de servidores previamente aprovados no estágio probatório.
- D incorreta, porque a referida licença é sempre remunerada.

QUESTÃO 61

Assinale a opção correta quanto às normas atinentes ao título eleitoral disciplinadas na Resolução do TSE n.º 21.538/2003.

- A O título eleitoral deve ter as dimensões de 10 cm x 5 cm e ser impresso nas cores preto, verde e azul, em frente e verso.
- B O título eleitoral pode ser emitido por computador ou por qualquer outro meio eletrônico, desde que conste o nome do eleitor, sua data de nascimento e a seção eleitoral onde vota.
- C O servidor da justiça eleitoral pode entregar o título eleitoral diretamente ao eleitor ou a qualquer parente consanguíneo ou afim até o segundo grau.
- D Até a data de sua emissão, o título eleitoral faz prova de quitação do eleitor para com a justiça eleitoral.

Texto para as questões 62 e 63

Após a realização de batimento — cruzamento de informações constantes do cadastro eleitoral — levado a efeito pelo TSE, em âmbito nacional, verificou-se que a inscrição de Eleonor encontrava-se agrupada em duplicidade.

QUESTÃO 62

Tomando como parâmetro inicial a situação apresentada e com fulcro na disciplina normativa da Resolução do TSE n.º 21.538/2003, assinale a opção **incorreta**.

- A Um dos objetivos do batimento levado a efeito pela justiça eleitoral é expurgar possíveis duplicidades ou pluralidades de inscrições eleitorais.
- B A inscrição de Eleonor deverá ser submetida a apreciação e decisão de autoridade judiciária.
- C Caso seja requerido por Eleonor, a autoridade judiciária deverá deferir pedido de segunda via de título eleitoral.
- D Verificada a inscrição em duplicidade, Eleonor deverá ser notificada para regularizar sua situação eleitoral.

QUESTÃO 63

Ainda tomando como parâmetro inicial a situação apresentada e com fulcro na disciplina normativa da Resolução do TSE n.º 21.538/2003, assinale a opção correta.

- A Decisão quanto à duplicidade da inscrição de Eleonor, na esfera administrativa, deverá ser proferida pelo TRE.
- B Sendo de sua competência, o corregedor-geral poderá se pronunciar quanto ao caso de duplicidade envolvendo a inscrição de Eleonor.
- C Na esfera penal, caberá ao delegado de polícia competente decidir sobre questões relativas a duplicidades.
- D As decisões relativas às duplicidades detectadas deverão ser proferidas no prazo máximo de 180 dias, contados da data da realização do respectivo batimento.

QUESTÃO 64

Proferida decisão acerca de pluralidade de inscrição eleitoral, verificou-se que duas inscrições foram atribuídas a Fernando, eleitor do estado de Goiás.

Com base na situação apresentada e nas normas da Resolução do TSE n.º 21.538/2003, assinale a opção **incorreta**.

- A Se o Ministério Público considerar que houve indício de ilícito penal eleitoral, por parte de Fernando, deverá remeter os autos à Polícia Civil do Estado de Goiás.
- B Não sendo apurada a ocorrência de ilícito penal eleitoral, os autos deverão ser arquivados na zona eleitoral onde Fernando encontra-se regularmente inscrito.
- C O servidor da justiça eleitoral envolvido em caso de inscrição irregular será, juntamente com o eleitor, responsabilizado civil, penal e administrativamente, conforme o caso.
- D Tendo tomado conhecimento de alistamento eleitoral irregular, qualquer eleitor poderá dirigir-se formalmente ao juiz eleitoral competente, noticiar o fato e indicar as provas.

QUESTÃO 65

Por trabalhar em empresa multinacional, Neide foi convocada para desempenhar suas funções e residir em Portugal. Em razão disso, o Estado português outorgou a ela o gozo de direitos políticos naquele país.

Tendo como motivação inicial a situação apresentada, assinale a opção correta acerca das normas da Resolução do TSE n.º 21.538/2003.

- A A outorga a Neide de gozo de direitos políticos em Portugal implica a perda de seus direitos políticos no Brasil.
- B A autoridade judiciária eleitoral que tomar conhecimento da outorga de direitos políticos a Neide em Portugal deverá requerer a imediata instauração de processo administrativo contra esta, para apurar eventual irregularidade.
- C O TSE deverá ser comunicado da outorga dos direitos políticos a Neide em Portugal.
- D Para que Neide possa regularizar sua situação eleitoral no Brasil, quando decidir restabelecer seu domicílio neste país, deverá comprovar a cessação do impedimento, mediante ação judicial proposta para esse fim específico.

QUESTÃO 66

Tenório requereu, em janeiro de 2006, a transferência de seu domicílio eleitoral de Brasília – DF para João Pessoa – PB. Em 28 de novembro de 2006, requereu novamente a transferência de seu domicílio eleitoral, agora para Florianópolis – SC, município onde reside desde setembro de 2006.

Com referência à Resolução do TSE n.º 21.538/03 e à situação hipotética descrita acima, assinale a opção **incorreta**.

- A A transferência do domicílio de Tenório para Florianópolis – SC não será deferida, em virtude de ter transcorrido menos de 1 ano da última transferência.
- B Tenório não terá êxito na transferência de seu domicílio eleitoral se solicitá-la dentro dos 150 dias anteriores à data da eleição.
- C É requisito para qualquer pedido de transferência de domicílio eleitoral prova de quitação com a justiça eleitoral.
- D Os requisitos para transferência de domicílio eleitoral são os mesmos para todo cidadão brasileiro.

Texto para as questões 67 e 68

O TRE-GO ordenou a realização de correição, em decorrência de denúncia fundamentada de servidor da justiça eleitoral de que haveria fraude no alistamento de eleitores de determinada zona eleitoral.

Comprovada a fraude, foi determinada a revisão do respectivo eleitorado, no dia 5 de maio de 2006.

QUESTÃO 67

Acerca da revisão de eleitorado disciplinada pela Resolução do TSE n.º 21.538/2003 e considerando a situação hipotética apresentada no texto, assinale a opção correta.

- A O TSE não pode determinar revisão de eleitorado de ofício.
- B Em regra, as revisões de eleitorado não devem ocorrer em ano eleitoral.
- C Os postos de revisão criados pelos juízes eleitorais funcionam pelo período máximo de duas horas diárias.
- D A revisão de eleitorado é presidida por escrutinador nomeado pelo juiz eleitoral da zona submetida à revisão.

QUESTÃO 68

Ainda acerca da revisão de eleitorado disciplinada pela Resolução do TSE n.º 21.538/2003 e considerando a situação hipotética apresentada no texto, assinale a opção **incorreta**.

- A Na hipótese em apreço, os procedimentos de revisão do eleitorado devem ser iniciados no prazo máximo de 60 dias a contar de 5 de maio, data de aprovação da revisão.
- B Convocados, os eleitores deverão fazer prova de suas identidades pessoalmente.
- C Os partidos políticos deverão ser informados do procedimento de revisão, sendo-lhes facultado o acompanhamento e a fiscalização desse procedimento.
- D A fim de levar a efeito os trabalhos de revisão, o juiz eleitoral competente poderá requisitar a utilização de instalações de prédios públicos.

QUESTÃO 69

Assinale a opção correta no tocante à disciplina normativa relativa aos juízes eleitorais.

- A Os juízes eleitorais são designados pelo TSE para presidir as zonas eleitorais.
- B Todos os mandados de segurança em matéria eleitoral devem ser processados e julgados pelos juízes eleitorais de primeira instância.
- C Os juízes de direito não podem atuar como juízes eleitorais por período superior a dois biênios consecutivos.
- D Os juízes eleitorais despacharão quinzenalmente nas zonas eleitorais que jurisdicionam.

QUESTÃO 70

Assinale a opção **incorreta** em relação aos órgãos da justiça eleitoral.

- A São órgãos da justiça eleitoral as juntas eleitorais.
- B O TSE será composto por sete ministros, dos quais três serão do STF e dois, do Superior Tribunal de Justiça (STJ).
- C Os TREs elegerão seus presidentes entre os seus desembargadores.
- D Compete ao TSE processar e julgar originariamente os conflitos de jurisdição entre juízes eleitorais do mesmo estado.

QUESTÃO 71**RASCUNHO**

Três amigos — Ari, Beto e Carlos — se encontram todos os fins-de-semana na feira de carros antigos. Um deles tem um gordini, outro tem um sinca e o terceiro, um fusca. Os três moram em bairros diferentes (Buritis, Praia Grande e Cruzeiro) e têm idades diferentes (45, 50 e 55 anos). Além disso, sabe-se que:

- I Ari não tem um gordini e mora em Buritis;
- II Beto não mora na Praia Grande e é 5 anos mais novo que o dono do fusca;
- III O dono do gordini não mora no Cruzeiro e é o mais velho do grupo.

A partir das informações acima, é correto afirmar que

- A Ari mora em Buritis, tem 45 anos de idade e é proprietário do sinca.
- B Beto mora no Cruzeiro, tem 50 anos de idade e é proprietário do gordini.
- C Carlos mora na Praia Grande, tem 50 anos de idade e é proprietário do gordini.
- D Ari mora em Buritis, tem 50 anos de idade e é proprietário do fusca.

QUESTÃO 72

Os 36 alunos da 4.^a série de uma escola farão um passeio para uma cidade vizinha. Os alunos serão transportados em um vagão de um trem que dispõe de 36 lugares numerados, dispostos em uma fileira com 18 assentos duplos. O responsável pelo passeio designou previamente o número do assento de cada aluno, de maneira aleatória, mas com a seguinte restrição: as alunas Maria e Ana e as alunas Júlia e Sílvia deveriam sentar juntas, em dois dos assentos duplos. Nessa situação, assinale a opção que apresenta o número de possíveis designações distintas dos assentos para esses alunos no vagão do trem.

- A $\binom{36}{4} \times \binom{36}{32}$
- B $\binom{32}{4} \times \binom{18}{22} \times 4!$
- C $\binom{18}{2} \times 4 \times 32!$
- D $(2! \times 4! \times 18!)$

QUESTÃO 73

Na análise de um argumento, pode-se evitar considerações subjetivas, por meio da reescrita das proposições envolvidas na linguagem da lógica formal. Considere que P, Q, R e S sejam proposições e que “ \wedge ”, “ \vee ”, “ \neg ” e “ \rightarrow ” sejam os conectores lógicos que representam, respectivamente, “e”, “ou”, “negação” e o “conector condicional”. Considere também a proposição a seguir.

Quando Paulo vai ao trabalho de ônibus ou de metrô, ele sempre leva um guarda-chuva e também dinheiro trocado.

Assinale a opção que expressa corretamente a proposição acima em linguagem da lógica formal, assumindo que

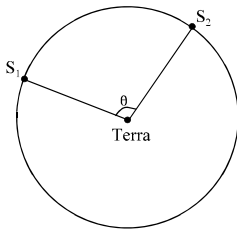
- P = “Quando Paulo vai ao trabalho de ônibus”,
- Q = “Quando Paulo vai ao trabalho de metrô”,
- R = “ele sempre leva um guarda-chuva” e
- S = “ele sempre leva dinheiro trocado”.

- A $P \rightarrow (Q \vee R)$.
- B $(P \rightarrow Q) \vee R$.
- C $(P \vee Q) \rightarrow (R \wedge S)$.
- D $P \vee (Q \rightarrow (R \wedge S))$.

QUESTÃO 74

Assinale a opção que apresenta um argumento válido.

- A Quando chove, as árvores ficam verdinhas. As árvores estão verdinhas, logo choveu.
- B Se estudo, obtenho boas notas. Se me alimento bem, me sinto disposto. Ontem estudei e não me senti disposto, logo obterei boas notas mas não me alimentei bem.
- C Se ontem choveu e estamos em junho, então hoje fará frio. Ontem choveu e hoje fez frio. Logo estamos em junho.
- D Choveu ontem ou segunda-feira é feriado. Como não choveu ontem, logo segunda-feira não será feriado.

QUESTÃO 75

Dois satélites — S_1 e S_2 — estão em uma mesma órbita circular em volta da Terra, a uma distância de 21.000 km da superfície terrestre, conforme ilustra a figura acima. Considere que os dois satélites estejam a uma mesma velocidade constante em relação à Terra, que $\text{sen}(\theta) = \frac{\sqrt{3}}{2}$

e que $\text{cos}(\theta) = -\frac{1}{2}$. Nesse caso, desprezando-se o raio da

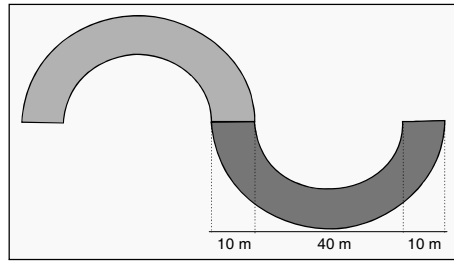
Terra e tomando 3,1 como valor aproximado para π , conclui-se que a distância entre os dois satélites sobre a circunferência que descreve as suas órbitas é igual a

- A 32.550 km.
- B 43.400 km.
- C 49.230 km.
- D 54.250 km.

QUESTÃO 76

Suponha que, em 2006, em um estado brasileiro, o número de candidatos à Câmara Federal foi igual a doze vezes o número de candidatos ao Senado Federal, e o número de candidatos à Câmara Estadual foi igual ao triplo do número de candidatos à Câmara Federal. Sabendo-se que, nesse estado, o número de candidatos à Câmara Federal adicionado ao número de candidatos ao Senado Federal era igual a 65, é correto concluir que, nesse estado, o número de candidatos à Câmara Estadual em 2006 foi

- A inferior a 150.
- B superior a 150 e inferior a 160.
- C superior a 160 e inferior a 170.
- D superior a 170.

QUESTÃO 77

Um novo prédio de 40 m de altura está sendo planejado para um tribunal regional eleitoral. A figura acima ilustra a planta baixa da base desse novo prédio, composta de duas partes iguais, onde cada parte é formada por semicírculos concêntricos de diâmetros 40 m e 60 m, respectivamente. Tomando-se 3,1 como valor aproximado para π , é correto concluir que a área da base desse novo prédio é

- A inferior a 1.600 m².
- B superior a 1.600 m² e inferior a 2.000 m².
- C superior a 2.000 m² e inferior a 2.400 m².
- D superior a 2.400 m².

RASCUNHO

QUESTÃO 78**RASCUNHO**

Para se ter uma idéia do perfil dos candidatos ao cargo de Técnico Judiciário, 300 estudantes que iriam prestar o concurso foram selecionados ao acaso e entrevistados, sendo que, entre esses, 130 eram homens. Como resultado da pesquisa, descobriu-se que 70 desses homens e 50 das mulheres entrevistadas estavam cursando o ensino superior. Se uma dessas 300 fichas for selecionada ao acaso, a probabilidade de que ela seja de uma mulher que, no momento da entrevista, não estava cursando o ensino superior é igual a

- A** 0,40. **E** 0,42. **C** 0,44. **D** 0,46.

QUESTÃO 79

P	Q		$(P \rightarrow Q) \wedge (P \vee Q)$
V	V		
V	F		
F	V		
F	F		

Um dos instrumentos mais importantes na avaliação da validade ou não de um argumento é a tabela-verdade. Considere que P e Q sejam proposições e que “ \wedge ”, “ \vee ” e “ \rightarrow ” sejam os conectores lógicos que representam, respectivamente, “e”, “ou” e o “conector condicional”. Então, o preenchimento correto da última coluna da tabela-verdade acima é

- A**

V
V
F
F

C

V
F
V
F
- B**

V
F
F
V

D

F
V
F
V

QUESTÃO 80

Para aumentar a segurança no interior do prédio do TSE, foram distribuídas senhas secretas para todos os funcionários, que deverão ser digitadas na portaria para se obter acesso ao prédio. As senhas são compostas por uma seqüência de três letras (retiradas do alfabeto com 26 letras), seguida de uma seqüência de três algarismos (escolhidos entre 0 e 9). O número de senhas distintas que podem ser formadas sem que seja admitida a repetição de letras, mas admitindo-se a repetição de algarismos, é igual a

- A** $26^3 \times 10 \times 9 \times 8$.
B $26^3 \times 10^3$.
C $26 \times 25 \times 24 \times 10 \times 9 \times 8$.
D $26 \times 25 \times 24 \times 10^3$.