

CONCURSO PÚBLICO

13. PROVA OBJETIVA

ANALISTA DE PESSOAL

- ♦ VOCÊ RECEBEU SUA FOLHA DE RESPOSTAS E ESTE CADERNO CONTENDO **50** QUESTÕES OBJETIVAS.
- ♦ CONFIRA SEU NOME E NÚMERO DE INSCRIÇÃO IMPRESSOS NA CAPA DESTE CADERNO.
- ♦ LEIA CUIDADOSAMENTE AS QUESTÕES E ESCOLHA A RESPOSTA QUE VOCÊ CONSIDERA CORRETA.
- ♦ RESPONDA A TODAS AS QUESTÕES.
- ♦ MARQUE, NA FOLHA INTERMEDIÁRIA DE RESPOSTAS, LOCALIZADA NO VERSO DESTA PÁGINA, A LETRA CORRESPONDENTE À ALTERNATIVA QUE VOCÊ ESCOLHEU.
- ♦ TRANSCREVA PARA A FOLHA DE RESPOSTAS, COM CANETA DE TINTA AZUL OU PRETA, TODAS AS RESPOSTAS ANOTADAS NA FOLHA INTERMEDIÁRIA DE RESPOSTAS.
- ♦ A DURAÇÃO DA PROVA É DE **3** HORAS.
- ♦ A SAÍDA DO CANDIDATO DA SALA SERÁ PERMITIDA APÓS TRANSCORRIDA A METADE DO TEMPO DE DURAÇÃO DA PROVA.
- ♦ AO SAIR, VOCÊ ENTREGARÁ AO FISCAL A FOLHA DE RESPOSTAS E ESTE CADERNO DE QUESTÕES, PODENDO DESTACAR ESTA CAPA PARA FUTURA CONFERÊNCIA COM O GABARITO A SER DIVULGADO.

AGUARDE A ORDEM DO FISCAL PARA ABRIR ESTE CADERNO DE QUESTÕES.

FOLHA INTERMEDIÁRIA DE RESPOSTAS

QUESTÃO	RESPOSTA				
01	<input type="checkbox"/> A	<input type="checkbox"/> B	<input type="checkbox"/> C	<input type="checkbox"/> D	<input type="checkbox"/> E
02	<input type="checkbox"/> A	<input type="checkbox"/> B	<input type="checkbox"/> C	<input type="checkbox"/> D	<input type="checkbox"/> E
03	<input type="checkbox"/> A	<input type="checkbox"/> B	<input type="checkbox"/> C	<input type="checkbox"/> D	<input type="checkbox"/> E
04	<input type="checkbox"/> A	<input type="checkbox"/> B	<input type="checkbox"/> C	<input type="checkbox"/> D	<input type="checkbox"/> E
05	<input type="checkbox"/> A	<input type="checkbox"/> B	<input type="checkbox"/> C	<input type="checkbox"/> D	<input type="checkbox"/> E

06	<input type="checkbox"/> A	<input type="checkbox"/> B	<input type="checkbox"/> C	<input type="checkbox"/> D	<input type="checkbox"/> E
07	<input type="checkbox"/> A	<input type="checkbox"/> B	<input type="checkbox"/> C	<input type="checkbox"/> D	<input type="checkbox"/> E
08	<input type="checkbox"/> A	<input type="checkbox"/> B	<input type="checkbox"/> C	<input type="checkbox"/> D	<input type="checkbox"/> E
09	<input type="checkbox"/> A	<input type="checkbox"/> B	<input type="checkbox"/> C	<input type="checkbox"/> D	<input type="checkbox"/> E
10	<input type="checkbox"/> A	<input type="checkbox"/> B	<input type="checkbox"/> C	<input type="checkbox"/> D	<input type="checkbox"/> E

11	<input type="checkbox"/> A	<input type="checkbox"/> B	<input type="checkbox"/> C	<input type="checkbox"/> D	<input type="checkbox"/> E
12	<input type="checkbox"/> A	<input type="checkbox"/> B	<input type="checkbox"/> C	<input type="checkbox"/> D	<input type="checkbox"/> E
13	<input type="checkbox"/> A	<input type="checkbox"/> B	<input type="checkbox"/> C	<input type="checkbox"/> D	<input type="checkbox"/> E
14	<input type="checkbox"/> A	<input type="checkbox"/> B	<input type="checkbox"/> C	<input type="checkbox"/> D	<input type="checkbox"/> E
15	<input type="checkbox"/> A	<input type="checkbox"/> B	<input type="checkbox"/> C	<input type="checkbox"/> D	<input type="checkbox"/> E

16	<input type="checkbox"/> A	<input type="checkbox"/> B	<input type="checkbox"/> C	<input type="checkbox"/> D	<input type="checkbox"/> E
17	<input type="checkbox"/> A	<input type="checkbox"/> B	<input type="checkbox"/> C	<input type="checkbox"/> D	<input type="checkbox"/> E
18	<input type="checkbox"/> A	<input type="checkbox"/> B	<input type="checkbox"/> C	<input type="checkbox"/> D	<input type="checkbox"/> E
19	<input type="checkbox"/> A	<input type="checkbox"/> B	<input type="checkbox"/> C	<input type="checkbox"/> D	<input type="checkbox"/> E
20	<input type="checkbox"/> A	<input type="checkbox"/> B	<input type="checkbox"/> C	<input type="checkbox"/> D	<input type="checkbox"/> E

21	<input type="checkbox"/> A	<input type="checkbox"/> B	<input type="checkbox"/> C	<input type="checkbox"/> D	<input type="checkbox"/> E
22	<input type="checkbox"/> A	<input type="checkbox"/> B	<input type="checkbox"/> C	<input type="checkbox"/> D	<input type="checkbox"/> E
23	<input type="checkbox"/> A	<input type="checkbox"/> B	<input type="checkbox"/> C	<input type="checkbox"/> D	<input type="checkbox"/> E
24	<input type="checkbox"/> A	<input type="checkbox"/> B	<input type="checkbox"/> C	<input type="checkbox"/> D	<input type="checkbox"/> E
25	<input type="checkbox"/> A	<input type="checkbox"/> B	<input type="checkbox"/> C	<input type="checkbox"/> D	<input type="checkbox"/> E

QUESTÃO	RESPOSTA				
26	<input type="checkbox"/> A	<input type="checkbox"/> B	<input type="checkbox"/> C	<input type="checkbox"/> D	<input type="checkbox"/> E
27	<input type="checkbox"/> A	<input type="checkbox"/> B	<input type="checkbox"/> C	<input type="checkbox"/> D	<input type="checkbox"/> E
28	<input type="checkbox"/> A	<input type="checkbox"/> B	<input type="checkbox"/> C	<input type="checkbox"/> D	<input type="checkbox"/> E
29	<input type="checkbox"/> A	<input type="checkbox"/> B	<input type="checkbox"/> C	<input type="checkbox"/> D	<input type="checkbox"/> E
30	<input type="checkbox"/> A	<input type="checkbox"/> B	<input type="checkbox"/> C	<input type="checkbox"/> D	<input type="checkbox"/> E

31	<input type="checkbox"/> A	<input type="checkbox"/> B	<input type="checkbox"/> C	<input type="checkbox"/> D	<input type="checkbox"/> E
32	<input type="checkbox"/> A	<input type="checkbox"/> B	<input type="checkbox"/> C	<input type="checkbox"/> D	<input type="checkbox"/> E
33	<input type="checkbox"/> A	<input type="checkbox"/> B	<input type="checkbox"/> C	<input type="checkbox"/> D	<input type="checkbox"/> E
34	<input type="checkbox"/> A	<input type="checkbox"/> B	<input type="checkbox"/> C	<input type="checkbox"/> D	<input type="checkbox"/> E
35	<input type="checkbox"/> A	<input type="checkbox"/> B	<input type="checkbox"/> C	<input type="checkbox"/> D	<input type="checkbox"/> E

36	<input type="checkbox"/> A	<input type="checkbox"/> B	<input type="checkbox"/> C	<input type="checkbox"/> D	<input type="checkbox"/> E
37	<input type="checkbox"/> A	<input type="checkbox"/> B	<input type="checkbox"/> C	<input type="checkbox"/> D	<input type="checkbox"/> E
38	<input type="checkbox"/> A	<input type="checkbox"/> B	<input type="checkbox"/> C	<input type="checkbox"/> D	<input type="checkbox"/> E
39	<input type="checkbox"/> A	<input type="checkbox"/> B	<input type="checkbox"/> C	<input type="checkbox"/> D	<input type="checkbox"/> E
40	<input type="checkbox"/> A	<input type="checkbox"/> B	<input type="checkbox"/> C	<input type="checkbox"/> D	<input type="checkbox"/> E

41	<input type="checkbox"/> A	<input type="checkbox"/> B	<input type="checkbox"/> C	<input type="checkbox"/> D	<input type="checkbox"/> E
42	<input type="checkbox"/> A	<input type="checkbox"/> B	<input type="checkbox"/> C	<input type="checkbox"/> D	<input type="checkbox"/> E
43	<input type="checkbox"/> A	<input type="checkbox"/> B	<input type="checkbox"/> C	<input type="checkbox"/> D	<input type="checkbox"/> E
44	<input type="checkbox"/> A	<input type="checkbox"/> B	<input type="checkbox"/> C	<input type="checkbox"/> D	<input type="checkbox"/> E
45	<input type="checkbox"/> A	<input type="checkbox"/> B	<input type="checkbox"/> C	<input type="checkbox"/> D	<input type="checkbox"/> E

46	<input type="checkbox"/> A	<input type="checkbox"/> B	<input type="checkbox"/> C	<input type="checkbox"/> D	<input type="checkbox"/> E
47	<input type="checkbox"/> A	<input type="checkbox"/> B	<input type="checkbox"/> C	<input type="checkbox"/> D	<input type="checkbox"/> E
48	<input type="checkbox"/> A	<input type="checkbox"/> B	<input type="checkbox"/> C	<input type="checkbox"/> D	<input type="checkbox"/> E
49	<input type="checkbox"/> A	<input type="checkbox"/> B	<input type="checkbox"/> C	<input type="checkbox"/> D	<input type="checkbox"/> E
50	<input type="checkbox"/> A	<input type="checkbox"/> B	<input type="checkbox"/> C	<input type="checkbox"/> D	<input type="checkbox"/> E

Leia o texto para responder à questão de número 01.

A mulher então experimentou o camelo. O camelo em trapos, corcunda, mastigando a si próprio, entregue ao processo de conhecer a comida. Ela se sentiu fraca e cansada, há dois dias mal comia. Os grandes cílios empoeirados do camelo sobre os olhos que se tinham dedicado à paciência de um artesanato interno. (...) Aproximou-se das barras do cercado, aspirou o pó daquele tapete velho onde sangue cinzento circulava, procurou a tepidez impura, o prazer percorreu suas costas até o mal-estar, mas não ainda o mal-estar que ela viera buscar.

(Clarice Lispector, *Laços de família*)

01. A expressão extraída do fragmento de Clarice Lispector que está sendo empregada em sentido figurado é

- (A) “cílios empoeirados”.
- (B) “mal-estar”.
- (C) “tapete velho”.
- (D) “tepidez impura”.
- (E) “barras do cercado”.

Leia a tirinha para responder às questões de números 02 e 03.



(<http://www.google.com.br/images?q=tiras+do+charlie+brown>)

02. A articulação dos modos e das formas nominais dos verbos, nos quadrinhos, permite apreender, por exemplo, características relevantes quanto

- (A) à ideia de início do processo verbal, pelo emprego do participípio.
- (B) ao aspecto inacabado do processo verbal, pelo uso do infinitivo.
- (C) ao encerramento do processo verbal, pela utilização do imperativo.
- (D) ao aspecto momentâneo do processo verbal, pelo uso do participípio.
- (E) ao aspecto durativo do processo verbal, pelo emprego do gerúndio.

03. No segundo quadrinho, observa-se o emprego correto do pronome, quanto à sua colocação na frase. Assinale a alternativa que nomeia essa espécie de colocação e por que ela é obrigatória, nesse contexto.

- (A) Próclise, pelo uso de palavra negativa.
- (B) Mesóclise, pela utilização do imperativo.
- (C) Próclise, pela utilização do gerúndio.
- (D) Ênclise, pelo uso de expressão negativa.
- (E) Mesóclise, pela presença de perífrase.

Leia o texto para responder às questões de números 04 a 06.

Em cartaz com *Olhe para Trás com Raiva*, peça que carrega todo o desencanto do pós-guerra na década de 1950, Karen [Coelho] paira como uma estranha no ninho da cena teatral contemporânea. (...) Devota dos densos dramas do teatro realista do século 20, [a atriz Karen Coelho] discorre com desenvoltura sobre a psicologia das personagens, tece elucubrações sobre as intenções do texto e passa ao largo das discussões sobre o teatro pós-dramático ou os novos paradigmas da dramaturgia. (...) Neste ano, quando Karen estreou *Olhe para Trás com Raiva*, lá estava Nydia Licia de novo. Na única vez em que o texto foi montado no Brasil, coube justamente à atriz do TBC encarnar a submissa Alisson, protagonista do drama de John Osborne. “Desde então, tenho muito vontade de encontrá-la. Mas não sabia onde ela estava...”

(*O Estado de S.Paulo*, 6 de agosto de 2010, p. D6)

04. Os termos cujo sentido mais se aproxima da significação das palavras “elucubrações” e “paradigmas”, que aparecem no fragmento, são, respectivamente,

- (A) delírios e espetáculos.
- (B) reflexões e espetáculos.
- (C) espetáculos e delírios.
- (D) pesadelos e modelos.
- (E) reflexões e modelos.

05. A palavra “coube” é uma forma irregular do verbo “caber”. Assinale a alternativa em que um dos verbos da série, extraída do fragmento, apresenta o mesmo tipo de irregularidade, quando flexionado no mesmo tempo e modo.

- (A) Carregar – tecer – montar – encontrar.
- (B) Passar – encarnar – tecer – discorrer.
- (C) Montar – saber – discorrer – carregar.
- (D) Encontrar – pairar – encarnar – tecer.
- (E) Tecer – carregar – montar – discorrer.

06. Levando em consideração o contexto, é possível afirmar que a atriz Karen Coelho
- domina amplamente as discussões sobre o teatro pós-dramático ou os novos paradigmas da dramaturgia.
 - não se envolve nas discussões sobre o teatro pós-dramático ou os novos paradigmas da dramaturgia.
 - faz largo uso das discussões sobre o teatro pós-dramático ou os novos paradigmas da dramaturgia.
 - abomina demais as discussões sobre o teatro pós-dramático ou os novos paradigmas da dramaturgia.
 - se identifica com as discussões sobre o teatro pós-dramático ou os novos paradigmas da dramaturgia.

Leia os textos seguintes para responder às questões de números 07 e 08.

- (a) Uma pesquisa com 600 crianças e adolescentes mostra que a publicidade tem função pedagógica – e prova que a garotada vê comerciais com um inteligente ceticismo.

(Veja, 18 de agosto de 2010, p. 117)

- (b) Morador de Bruxelas, morto em junho, teria contraído bactéria resistente a antibióticos no país asiático após o acidente e a hospitalização.

(Folha de S.Paulo, 16 de agosto de 2010, on line)

07. Assinale as seguintes afirmações sobre os textos.

- No trecho “a garotada vê comerciais com um inteligente ceticismo”, do texto (a), existe uma ambiguidade, porque tanto se pode pensar em “com um inteligente ceticismo” como atributo dos comerciais, quanto como uma maneira de se ver os comerciais.
- No texto (b) há também uma ambiguidade, porque não se sabe com certeza se o morador de Bruxelas contraiu a bactéria “no país asiático” ou se a bactéria é resistente a antibióticos “no país asiático”.
- Se o trecho “com um inteligente ceticismo”, do texto (a), for deslocado para antes da palavra “comerciais”, desaparece a ambiguidade.

Está correto o que se afirma em

- I, II e III.
 - I e II, apenas.
 - III, apenas.
 - II e III, apenas.
 - I, apenas.
08. Assinale a alternativa que preenche, respectivamente, as lacunas desta versão do texto (b).
- Morador de Bruxelas, morto em junho, teria contraído _____ bactéria resistente _____ vacina aplicada, no país asiático, após o acidente e _____ hospitalização.

- a ... à ... à
- à ... a ... à
- à ... a ... a
- a ... à ... a
- à ... à ... a

Leia a tirinha e o texto para responder às questões de números 09 e 10.



(<http://osimplicaveis.wordpress.com/2009/06/page/2>)

Atiçador de incêndios, voz dos moinhos, remo de veleiros algumas vezes quebrado pelas calmarias, caminho sem princípio nem margem de todos os bichos voantes – morcegos, mariposas, aves de pequena ou grande envergadura. (...) Zagal de mastodontes, de dinossauros, de renas gigantescas, guiados em bandos sobre pastagens azuis e cujos ossos, cujo couro e chifres se convertem em chuva, em arco-íris. (...) Nosso pai gostava de animais. Ensinou um galo-de-campina a montar no dorso de uma cabra chamada Gedáblia, esporeando-a com silvos breves.

(Osman Lins, *Novena, novena*)

09. Na tirinha, explora-se uma fictícia concordância nominal de gênero (febre amarele, febre amarela), para um termo, como “febre”, que não tem a forma masculina. Considerando essa informação, assinale a alternativa que contém duas palavras cuja forma seja única para os dois gêneros.

- Animais – atiçador – voz – guiados.
- Renas – cabra – azuis – moinhos.
- Veleiros – dorso – quebrado – voz.
- Chuva – azuis – breves – atiçador.
- Moinhos – voantes – renas – cabra.

10. Tendo em vista a flexão nominal de número, assinale a alternativa em que a palavra destacada do texto tem a mesma forma, no singular e no plural.

- Galo-de-campina.
- Zagal.
- Arco-íris.
- Envergadura.
- Dorso.

NOÇÕES DE INFORMÁTICA

11. Usando o Windows Explorer do MS-Windows XP, em sua configuração original, ao selecionar um documento do MS-Word 2003 com o botão secundário do mouse, serão apresentadas as seguintes ações para o usuário, dentre outras:

- (A) Imprimir, Colar.
- (B) Abrir, Renomear.
- (C) Editar, Mostrar.
- (D) Recortar, Colar.
- (E) Excluir, Explorar.

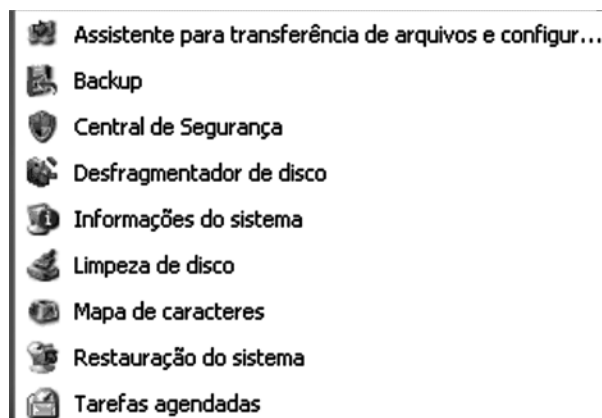
12. No MS-Windows XP, na sua configuração padrão, depois de iniciar um programa do MS-Office 2003, um botão representando esse programa será exibido

- (A) no Painel de controle.
- (B) no Meu computador.
- (C) na Barra de tarefas.
- (D) na Barra de ferramentas.
- (E) no menu Programas.

13. Por padrão, o MS-Windows XP não transfere para Lixeira os arquivos e pastas que foram excluídos

- (A) da pasta Meus documentos.
- (B) do Disco local (C:).
- (C) do Desktop.
- (D) do Pen drive.
- (E) da pasta Windows.

14. No MS-Windows XP, em sua configuração original, as opções expostas na figura são encontradas no menu



- (A) Ferramentas do sistema.
- (B) Inicializar.
- (C) Adicionar ou remover hardware.
- (D) Microsoft Office.
- (E) Prompt de comando.

15. Se dois ou mais documentos do MS-Word 2007 estiverem abertos, pode-se exibi-los lado a lado com rolagem sincronizada. Essas opções estão disponíveis no menu Exibição, botão

- (A) Layout de Impressão.
- (B) Leitura em Tela Inteira.
- (C) Rascunho.
- (D) Mostrar/Ocultar.
- (E) Janela.

16. Os recursos apresentados na figura encontram-se no seguinte menu do MS-Excel 2007, na sua configuração padrão:



- (A) Início.
- (B) Imprimir.
- (C) Layout da Página.
- (D) Dados.
- (E) Exibição.

17. Observe a fórmula do MS-Excel 2007:

$=SE(ANO(D5)<2010;E5/10*(9-MÊS(D5));E5*5-2)$






Assinale a alternativa que traz o resultado a ser apresentado na célula F3 na seguinte situação:

Célula D5 = maio-09 (formato Data)

Célula E5 = 200

- (A) 80.
(B) 200.
(C) 600.
(D) 998.
(E) 1000.
18. Assinale a alternativa que contém o menu em que são encontrados os botões de ação a serem utilizados numa apresentação do MS-PowerPoint 2007, na sua configuração padrão.
- (A) Inserir.
(B) Início.
(C) Design.
(D) Animações.
(E) Exibição.
19. Utilizando o MS-Outlook 2007, em sua configuração original, assinale a alternativa com os possíveis anexos utilizando as opções a seguir numa mensagem de correio eletrônico:
- I. Anexar Arquivo
II. Anexar Item
- (A) I. Documento do MS-Word 2007.
II. Banco de dados MS-Access 2007.
(B) I. Tarefa.
II. Planilha do MS-Excel 2007.
(C) I. Compromisso do calendário.
II. Banco de dados MS-Access 2007.
(D) I. Apresentação do MS-PowerPoint 2007.
II. E-mail da Caixa de Entrada.
(E) I. Documento do Acrobat Reader.
II. Documento do MS-Word 2007.

20. No Internet Explorer 7, o histórico de navegação é acessado clicando-se no botão:

- (A) .
(B)  Ferramentas.
(C)  Página.
(D) .
(E) .

MATEMÁTICA

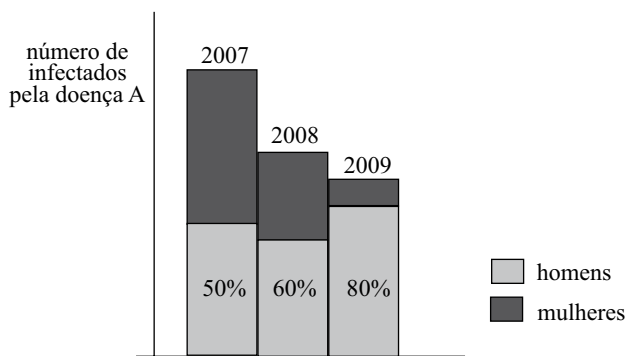
21. A cotação das ações de uma empresa no dia 2 de agosto, em reais, era igual a x . No dia 3 de agosto, as ações valorizaram $y\%$, e no dia 4 de agosto desvalorizaram $y\%$. Nessas condições, é correto afirmar que, no final do dia 4 de agosto, a cotação das ações dessa empresa, em reais, era igual a
- (A) x .
(B) $x(1 - 0,01y^2)$.
(C) $x(1 - 0,01^2y)$.
(D) $x(1 - 0,01^2y^2)$.
(E) $x - 0,01^2y$.
22. O marcador de velocidade de um helicóptero indica que ele está descendo 6 pés a cada segundo. Sabendo que 1 pé é aproximadamente 0,3 metro, a velocidade de descida desse helicóptero, em quilômetros por hora, é aproximadamente igual a
- (A) 5,6.
(B) 6.
(C) 6,5.
(D) 10,8.
(E) 18.
23. Em uma planilha de cálculo, um contabilista registrou números nos campos A1, A2 e A3, e as seguintes fórmulas nos campos A4 e A5:
- $$A4 = \frac{A1}{A3 - A2} \text{ e } A5 = \frac{1}{(A4)^2}.$$
- Se os números registrados nos campos A1 e A2 foram 3 e -2 respectivamente, e o resultado apresentado no campo A5 foi 4, então a soma dos dois únicos possíveis números digitados no campo A3 é igual a
- (A) 3.
(B) 2.
(C) -2 .
(D) -3 .
(E) -4 .
24. Uma academia de natação cobra R\$ 12,00 por dia de uso da piscina, mais R\$ 4,80 pelo uso do vestiário. Como alternativa ao plano diário de pagamento, o cliente pode fazer o plano anual de R\$ 1.632,00, sendo permitido o uso livre da piscina e do vestiário.
- Descartando-se a possibilidade de aplicação financeira do dinheiro a juro, um cliente que pretende utilizar a piscina 3 vezes por semana e o vestiário 1 vez por semana beneficia-se do plano anual de pagamento apenas se frequentar a academia um número de semanas anuais igual ou superior a
- (A) 35.
(B) 38.
(C) 41.
(D) 43.
(E) 45.

25. Um triângulo ABC é isósceles, com $AB=BC=10$ cm e $AC=18$ cm. A área desse triângulo, em cm^2 , é aproximadamente igual a
- (A) 30.
 (B) 35.
 (C) 39.
 (D) 45.
 (E) 50.

26. Um emprego (A) de vendedor oferece remuneração anual de R\$ 30.000,00 mais 1% do total das vendas realizadas pelo funcionário. Um segundo emprego (B) oferece remuneração anual de R\$ 24.000,00, mais 2% das vendas realizadas pelo funcionário. O emprego B sempre será mais vantajoso do que o A para o vendedor se ele realizar vendas anuais, em reais, superiores a
- (A) 200.000,00.
 (B) 300.000,00.
 (C) 400.000,00.
 (D) 500.000,00.
 (E) 600.000,00.

27. Um professor dá duas provas em seu curso, sendo a primeira com peso 1 e a segunda com peso 2. Por engano, ele trocou os pesos das provas feitas por um aluno e sua média, que deveria ser 6, subiu para 6,5. A média aritmética simples das duas notas de provas desse aluno é
- (A) 6,15.
 (B) 6,25.
 (C) 6,35.
 (D) 6,45.
 (E) 6,75.

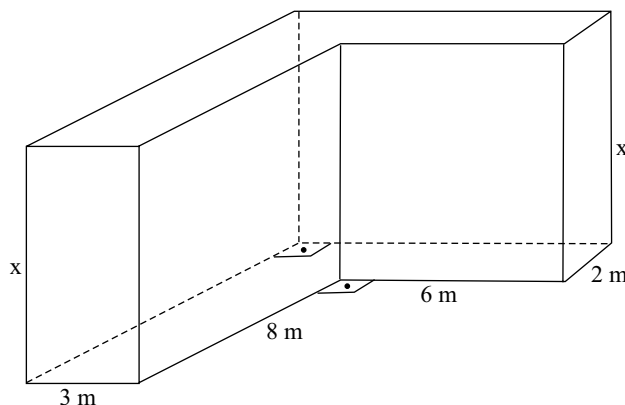
28. O gráfico a seguir mostra a incidência da doença A em um estabelecimento de saúde.



Analisando as informações disponíveis no gráfico, a respeito desse estabelecimento de saúde é correto afirmar que

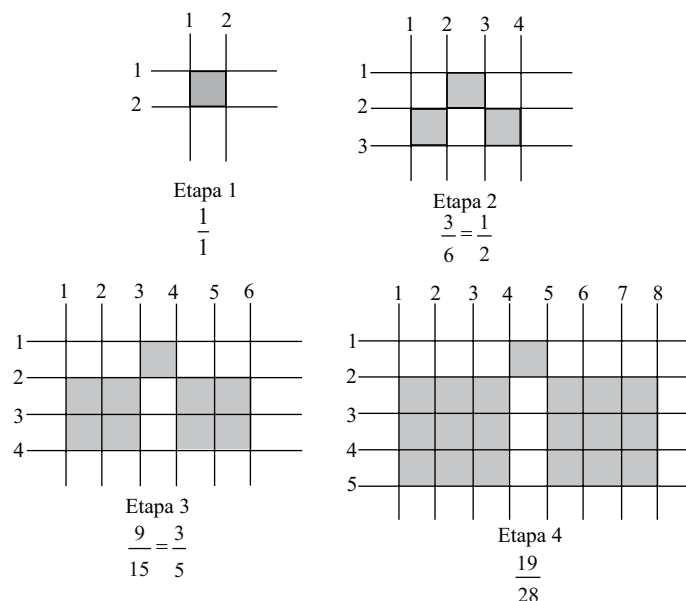
- (A) sempre houve mais homens do que mulheres infectados pela doença A.
 (B) houve redução no total de homens infectados pela doença A de 2007 para 2008.
 (C) o total de homens infectados pela doença A só aumentou de 2007 até 2009.
 (D) o total de mulheres infectadas caiu pela metade de 2008 para 2009.
 (E) a porcentagem de mulheres infectadas aumentou de 2007 para 2008.

29. O sólido indicado na figura é formado por paralelepípedos reto-retângulos de altura x metros.



Sabendo que o volume do sólido é 252 m^3 , x é igual a

- (A) 6.
 (B) 6,5.
 (C) 7.
 (D) 7,5.
 (E) 8.
30. Observe o padrão a seguir com a indicação da fração de quadrados escuros em relação ao total de quadrados.



Mantido o mesmo padrão, na etapa 12, a fração irredutível que indique os quadrados escuros em relação ao total de quadrados será

- (A) $\frac{81}{92}$.
 (B) $\frac{121}{138}$.
 (C) $\frac{241}{276}$.
 (D) $\frac{20}{23}$.
 (E) $\frac{239}{276}$.

CONHECIMENTOS ESPECÍFICOS

31. Assinale a alternativa que está em conformidade com a Consolidação das Leis do Trabalho.
- (A) Considera-se como de serviço efetivo o período em que o empregado esteja à disposição do empregador, aguardando ou executando ordens, salvo disposição especial expressamente consignada.
 - (B) Para os efeitos exclusivos da relação de emprego, os profissionais liberais, as instituições de beneficência, as associações recreativas ou outras instituições sem fins lucrativos, que admitirem trabalhadores como empregados, não se equiparam, nos termos da lei, ao empregador.
 - (C) Considera-se empregado toda pessoa física que prestar serviços de natureza não eventual a empregador, sob dependência deste e mediante salário, impondo-se, tão somente, distinções relativas à espécie de emprego e à condição de trabalhador, bem como entre o trabalho intelectual, técnico e manual.
 - (D) A Carteira de Trabalho e Previdência Social é obrigatória para o exercício de qualquer emprego, salvo de natureza rural e para o exercício por conta própria de atividade profissional remunerada.
 - (E) Nas localidades onde não for emitida a Carteira de Trabalho e Previdência Social poderá ser admitido, até sessenta dias, o exercício de emprego ou atividade remunerada por quem não a possua, ficando a empresa obrigada a permitir o comparecimento do empregado ao posto de emissão mais próximo.
32. Ressalvados os contratos de experiência e de trabalho para obra certa, para o qual o Supremo Tribunal Federal admite a determinação de 4 anos, nos exatos termos da Consolidação das Leis do Trabalho, o contrato de trabalho por prazo determinado não poderá ser estipulado por mais de
- (A) 90 dias.
 - (B) 120 dias.
 - (C) 180 dias.
 - (D) 1 ano.
 - (E) 2 anos.
33. Todo empregado terá direito anualmente ao gozo de um período de férias, sem prejuízo da remuneração. Nesse sentido é correto afirmar que
- (A) do pagamento da remuneração das férias, que será efetuado até um dia antes do respectivo período, o empregado dará quitação com indicação do início e do termo.
 - (B) é facultado ao empregado, exceto o que trabalhe em regime parcial, converter 1/3 do período de férias a que tiver direito em abono pecuniário, no valor da remuneração que lhe seria devida nos dias correspondentes.
 - (C) é permitido ao empregador descontar do período de férias, as faltas do empregado ao serviço.
 - (D) não perderá o direito a férias o empregado que permanecer em gozo de licença, com percepção de salários, por mais de trinta dias.
 - (E) a época da concessão das férias será a que melhor consulte os interesses do empregado.
34. Na modalidade do regime de tempo parcial, após cada período de doze meses de vigência do contrato de trabalho, o empregado terá direito a férias na proporção determinada em lei. Considerando-se, nesse regime, a duração do trabalho semanal superior a vinte horas até o limite de vinte e duas horas, nos termos estabelecidos pela Consolidação das Leis do Trabalho (CLT), o empregado terá direito a férias na proporção de
- (A) 18 dias.
 - (B) 16 dias.
 - (C) 14 dias.
 - (D) 12 dias.
 - (E) 10 dias.
35. Assinale a alternativa correta no que respeita à remuneração do empregado.
- (A) Incluem-se nos salários as ajudas de custo, assim como as diárias para viagem que não excedam de 50% do salário percebido pelo empregado.
 - (B) Considera-se gorjeta a importância espontaneamente dada pelo cliente ao empregado, salvo a que for cobrada pela empresa ao cliente, como adicional nas contas, a qualquer título, e destinada à distribuição aos empregados.
 - (C) Além do pagamento em dinheiro, compreendem-se no salário, para todos os efeitos legais, a alimentação, habitação, vestuário ou outras prestações *in natura* que a empresa, por força do contrato ou do costume, fornecer habitualmente ao empregado, sendo vedada sua promoção com bebidas alcoólicas ou drogas nocivas.
 - (D) Concedida pelo empregador, considera-se salário a assistência médica, hospitalar e odontológica, prestada diretamente ou mediante seguro-saúde.
 - (E) A educação, em estabelecimento próprio ou de terceiros, compreendendo os valores relativos à matrícula, mensalidade, anuidade, livros e material didáticos, quando concedida pelo empregador, considera-se salário.

36. A duração normal do trabalho, para os empregados em qualquer atividade privada, não excederá de 8 horas diárias, desde que não seja fixado expressamente outro limite. De acordo com a Constituição Federal e a Consolidação das Leis Trabalhistas, no que se refere à matéria, é correto afirmar que
- (A) considera trabalho em regime de tempo parcial aquele cuja duração não exceda vinte e duas horas semanais.
 - (B) aos empregados sob regime de tempo parcial são devidas horas extras, não podendo o tempo suplementar exceder o limite de uma hora diária.
 - (C) a duração normal do trabalho poderá ser acrescida de horas suplementares, em número não excedente de duas, mediante acordo escrito entre empregador e empregado, ou mediante convenção ou acordo coletivo de trabalho, não podendo os empregados sob o regime de tempo parcial prestar horas extras.
 - (D) a importância da remuneração da hora suplementar será, no máximo, 50% superior à da hora normal e deverá constar do acordo firmado entre empregador e empregado ou do acordo coletivo de trabalho.
 - (E) não poderá ser dispensado o acréscimo de salário se, por força de acordo ou convenção coletiva de trabalho, o excesso de horas em um dia for compensado pela correspondente diminuição em outro dia, de modo que não exceda, no período máximo de um ano, à soma das jornadas semanais de trabalho previstas, nem seja ultrapassado o limite máximo de dez horas diárias.
37. Assinale a alternativa correta no que se refere ao aviso prévio.
- (A) A falta de aviso prévio por parte do empregado dá ao empregador o direito de descontar os salários correspondentes ao prazo respectivo.
 - (B) O valor das horas extraordinárias habituais não integra o aviso prévio indenizado.
 - (C) O reajustamento salarial coletivo, determinado no curso do aviso prévio, não beneficia o empregado pré-avisado da despedida, quando tenha recebido antecipadamente os salários correspondentes ao período do aviso, que integra seu tempo de serviço para todos os efeitos legais.
 - (D) O horário normal de trabalho de empregado durante o prazo do aviso, se a rescisão tiver sido promovida pelo empregador, será reduzido de três horas diárias, sem prejuízo do salário integral.
 - (E) Não é devido o aviso prévio quando se tratar de despedida indireta.
38. A empresa que receber Carteira de Trabalho e Previdência Social para anotar e a reter por prazo superior ao estabelecido ficará sujeita à multa prevista em lei. Referida penalidade será aplicável caso a empresa reter o mencionado documento por mais de
- (A) 3 dias.
 - (B) 5 dias.
 - (C) 24 horas.
 - (D) 48 horas.
 - (E) 72 horas.
39. Determina a Consolidação das Leis do Trabalho que entre duas jornadas de trabalho haverá um período mínimo de horas consecutivas para descanso. Assinale a alternativa que apresenta corretamente o referido número de horas.
- (A) 6.
 - (B) 8.
 - (C) 9.
 - (D) 11.
 - (E) 12.
40. A Constituição Federal assegura aos trabalhadores urbanos e rurais uma série de direitos, além de outros que visem à melhoria de sua condição social. Dentre os enumerados pelo texto constitucional, está previsto o direito contido na alternativa que, por estar correta, deve ser assinalada.
- (A) Licença à gestante, sem prejuízo do emprego e do salário, com duração de quatro meses.
 - (B) Remuneração do serviço extraordinário superior, no mínimo, em vinte por cento à do normal.
 - (C) Assistência gratuita aos filhos e dependentes desde o nascimento até cinco anos de idade em creches e pré-escolas.
 - (D) Jornada de oito horas para o trabalho realizado em turnos ininterruptos de revezamento, salvo negociação coletiva.
 - (E) Salário-família pago em razão do dependente de todos os trabalhadores proporcional à respectiva renda.
41. Assinale a alternativa correta no que respeita à Administração Pública.
- (A) Todos os cargos, empregos e funções públicas são acessíveis apenas aos brasileiros natos ou naturalizados que preencham os requisitos estabelecidos em lei.
 - (B) As funções de confiança, exercidas exclusivamente por servidores ocupantes de cargo efetivo, e os cargos em comissão, a serem preenchidos por servidores de carreira nos casos e percentuais mínimos previstos em lei, destinam-se apenas às atribuições de direção, chefia e assessoramento.
 - (C) É permitida a vinculação ou equiparação de quaisquer espécies remuneratórias para o efeito de remuneração de pessoal do serviço público.
 - (D) É vedada a acumulação remunerada de cargos públicos, ainda que haja compatibilidade de horário, quando se tratar de dois cargos ou empregos privativos de profissionais da saúde, com profissões regulamentadas.
 - (E) A investidura em cargo ou emprego público depende de aprovação prévia em concurso público cujo prazo de validade será de até dois anos, prorrogável uma vez, por mais um ano.

42. De acordo com o que dispõe a lei atinente aos planos de benefícios da Previdência Social, uma empresa que possua 220 empregados está obrigada a preencher seus quadros com beneficiários reabilitados ou pessoas portadoras de deficiência na proporção de
- (A) 2%.
 - (B) 3%.
 - (C) 4%.
 - (D) 5%.
 - (E) 10%.
43. Nos exatos termos da legislação que rege a matéria, considera-se deficiência permanente
- (A) aquela que ocorreu ou se estabilizou durante um período de tempo suficiente para não permitir recuperação ou ter probabilidade de que se altere, apesar de novos tratamentos.
 - (B) uma redução efetiva e acentuada da capacidade de integração social, com necessidade de equipamentos, adaptações, meios ou recursos especiais para que a pessoa portadora de deficiência possa receber ou transmitir informações necessárias ao seu bem-estar pessoal e ao desempenho de função ou atividade a ser exercida.
 - (C) toda perda ou anormalidade de uma estrutura ou função psicológica ou fisiológica que gere incapacidade para o desempenho de atividade, dentro do padrão considerado normal para o ser humano.
 - (D) toda perda ou anormalidade de uma estrutura ou função fisiológica ou anatômica que gere incapacidade para o desempenho de atividade, dentro do padrão considerado normal para o ser humano.
 - (E) a redução total ou parcial da capacidade de integração social, com ou sem necessidade de meios ou recursos especiais, ou a perda de uma estrutura ou função psicológica, fisiológica ou anatômica.
44. A Política Nacional para a Integração de Pessoa Portadora de Deficiência, em consonância com o Programa Nacional de Direitos Humanos, é regida por princípios próprios dentre os quais se inclui(em):
- (A) estabelecer mecanismos que acelerem e favoreçam a inclusão social da pessoa portadora de deficiência.
 - (B) viabilizar a participação de pessoa portadora de deficiência em todas as fases de implementação da Política Nacional de Integração, por intermédio de suas entidades representativas.
 - (C) o desenvolvimento de ação conjunta do Estado e da sociedade civil, de modo a assegurar a plena integração da pessoa portadora de deficiência no contexto socioeconômico e cultural.
 - (D) o acesso, o ingresso e a permanência da pessoa portadora de deficiência em todos os serviços oferecidos à comunidade.
 - (E) a formação de recursos humanos para atendimento da pessoa portadora de deficiência.
45. Na execução da legislação pertinente, a Administração Pública Federal direta e indireta atuará de modo integrado e ordenado, seguindo planos e programas, com prazos e objetivos determinados, aprovados pelo Conselho Nacional dos Direitos de Pessoa Portadora de Deficiência – CONADE. Dentre outras atribuições, compete ao referido Conselho
- (A) exercer a coordenação superior dos assuntos, das ações governamentais e das medidas referentes à pessoa portadora de deficiência.
 - (B) elaborar os planos, programas e projetos da Política Nacional para Integração da Pessoa Portadora de Deficiência, bem como propor as providências necessárias à sua completa implantação e ao seu adequado desenvolvimento, inclusive as pertinentes a recursos financeiros e as de caráter legislativo.
 - (C) propor a elaboração de estudos e pesquisas que objetivem a melhoria da qualidade de vida da pessoa portadora de deficiência.
 - (D) manifestar-se sobre a Política Nacional para a Integração da Pessoa Portadora de Deficiência, dos projetos federais a ela conexos, antes da liberação dos recursos respectivos.
 - (E) manter com os Estados, o Distrito Federal, os Municípios e o Ministério Público, estreito relacionamento, objetivando a concorrência de ações destinadas à integração das pessoas portadoras de deficiência.
46. A Comissão Interna de Prevenção de Acidentes – CIPA – tem como objetivo a prevenção de acidentes e doenças decorrentes do trabalho, de modo a tornar compatível permanentemente o trabalho com a preservação da vida e a promoção da saúde do trabalhador. Assinale a assertiva correta acerca do processo eleitoral da CIPA.
- (A) Compete ao empregador convocar eleições para escolha dos representantes dos empregados na CIPA, no prazo mínimo de noventa dias antes do término do mandato em curso.
 - (B) O Presidente e o Vice-Presidente da CIPA constituirão dentre seus membros, no prazo mínimo de cinquenta e cinco dias antes do término do mandato em curso, a Comissão Eleitoral – CE, que será responsável pela organização e acompanhamento do processo eleitoral.
 - (C) Nos estabelecimentos onde não houver CIPA, a Comissão Eleitoral será constituída pelos empregados.
 - (D) Relativamente ao processo eleitoral da CIPA, incumbe ao empregador a guarda de todos os documentos relativos à eleição, por um período máximo de cinco anos.
 - (E) Em caso de empate, verificado no processo eleitoral, assumirá o candidato mais idoso.

47. A Norma Regulamentadora n.º 7 estabelece a obrigatoriedade de elaboração e implementação por parte de todos os empregadores e instituições que admitam trabalhadores como empregados, do Programa de Controle Médico de Saúde Ocupacional – PCMSO, com o objetivo de promoção e preservação da saúde do conjunto dos seus trabalhadores. Assinale a alternativa que está em consonância com as disposições da referida Norma.
- (A) O PCMSO deverá ter caráter de prevenção, rastreamento e diagnóstico precoce dos agravos à saúde relacionados ao trabalho, inclusive de natureza subclínica, além da constatação da existência de casos de doenças profissionais ou danos irreversíveis à saúde dos trabalhadores.
 - (B) Compete ao empregador indicar, dentre os médicos dos Serviços Especializados em Engenharia de Segurança do Trabalho da empresa, um coordenador responsável pela execução do PCMSO que, em nenhuma hipótese, poderá ser de outra especialidade.
 - (C) As questões incidentes sobre o indivíduo e a coletividade de trabalhadores, privilegiando o instrumental clínico-epidemiológico na abordagem da relação entre sua saúde e o trabalho, não se incluem entre as diretrizes que regem o PCMSO.
 - (D) A empresa contratante de mão-de-obra prestadora de serviços fica desobrigada de informar os riscos existentes nos locais de trabalho onde os serviços serão prestados, posto tratar-se de encargo cabente à empresa contratada.
 - (E) Os parâmetros mínimos e as diretrizes gerais estabelecidos pela Norma, a serem observados na execução do PCMSO, não podem ser ampliados ainda que mediante negociação coletiva de trabalho.
48. Assinale a alternativa que está em consonância com o Programa de Prevenção de Riscos Ambientais – PPRA, conforme disciplinado pela Norma Regulamentar específica.
- (A) Consideram-se riscos ambientais os agentes físicos, químicos e biológicos existentes nos ambientes de trabalho que, em função de sua natureza, concentração ou intensidade e tempo de exposição, são capazes de causar danos à saúde do trabalhador.
 - (B) Consideram-se agentes químicos as bactérias, fungos, bacilos, parasitas, protozoários, vírus, entre outros.
 - (C) A análise de projetos de novas instalações, métodos ou processos de trabalho, ou de modificação dos já existentes, visando a identificar os riscos potenciais e introduzir medidas de proteção para sua redução ou eliminação, deverá ser promovida na etapa do desenvolvimento do PPRA denominada estabelecimento de prioridades e metas de avaliação e controle.
 - (D) O estudo do desenvolvimento e implantação de medidas de proteção coletiva será efetivado, independentemente de hierarquia ou ordem entre medidas que eliminam ou reduzem a utilização ou a formação de agentes prejudiciais à saúde e medidas que reduzam os níveis ou a concentração desses agentes no ambiente de trabalho.
 - (E) Sempre que vários empregadores realizarem, simultaneamente, atividades no mesmo local de trabalho, terão o dever de executar ações integradas para aplicar as medidas previstas no PPRA, limitada sua atuação, contudo, à proteção de seus respectivos trabalhadores expostos aos riscos ambientais.
49. Nos termos da Norma que regulamenta a ergonomia é correto afirmar que
- (A) seu objetivo é estabelecer parâmetros que permitam a adaptação das condições de trabalho às características psicofisiológicas dos trabalhadores, de modo a proporcionar um mínimo de conforto, segurança e desempenho eficiente.
 - (B) todo trabalhador designado para o transporte manual regular de cargas, inclusive as leves, deve receber treinamento ou instruções satisfatórias quanto aos métodos de trabalho que deverá utilizar, com vistas a salvaguardar sua saúde e prevenir acidentes.
 - (C) para os efeitos que dispõe, transporte manual de cargas designa todo transporte no qual o peso da carga é suportado inteiramente por um só trabalhador, compreendendo o levantamento e a deposição da carga.
 - (D) quando mulheres e trabalhadores jovens forem designados para o transporte manual de cargas, o peso máximo destas cargas deverá ser igual àquele admitido para os homens, para não comprometer a sua saúde ou a sua segurança.
 - (E) os níveis mínimos de iluminação a serem observados nos locais de trabalho são os valores de iluminâncias estabelecidos por norma específica e que devem ser medidos no campo de trabalho que não podendo ser definido será considerado como um plano horizontal a noventa centímetros do piso.
50. Considerada a data em que ocorrer o acidente do trabalho e ressalvada a hipótese de morte, a empresa deverá fazer a comunicação à Previdência Social
- (A) de imediato.
 - (B) até o primeiro dia útil subsequente.
 - (C) até o primeiro dia corrido.
 - (D) em dois dias úteis.
 - (E) em cinco dias corridos.

