



**Concurso Público para provimento de cargos de
Analista Superior III
Engenheiro Civil - Pavimentação**

Nome do Candidato

Caderno de Prova '29', Tipo 004

Nº de Inscrição

MODELO

Nº do Caderno

MODELO1

Nº do Documento

0000000000000000

ASSINATURA DO CANDIDATO

00001-0001-001

P R O V A

**Conhecimentos Básicos
Conhecimentos Específicos
Redação**

INSTRUÇÕES

- Verifique se este caderno:
 - corresponde à sua opção de cargo.
 - contém 60 questões, numeradas de 1 a 60.
 - contém a proposta e o espaço para rascunho da redação.Caso contrário, reclame ao fiscal da sala um outro caderno.
Não serão aceitas reclamações posteriores.
- Para cada questão existe apenas UMA resposta certa.
- Você deve ler cuidadosamente cada uma das questões e escolher a resposta certa.
- Essa resposta deve ser marcada na FOLHA DE RESPOSTAS que você recebeu.

VOCÊ DEVE

- Procurar, na FOLHA DE RESPOSTAS, o número da questão que você está respondendo.
- Verificar no caderno de prova qual a letra (A,B,C,D,E) da resposta que você escolheu.
- Marcar essa letra na FOLHA DE RESPOSTAS, conforme o exemplo: (A) ● (C) (D) (E)
- Ler o que se pede na Prova de Redação e utilizar, se necessário, o espaço para rascunho.

ATENÇÃO

- Marque as respostas primeiro a lápis e depois cubra com caneta esferográfica de tinta preta.
- Marque apenas uma letra para cada questão, mais de uma letra assinalada implicará anulação dessa questão.
- Responda a todas as questões.
- Não será permitida qualquer espécie de consulta, nem o uso de máquina calculadora.
- Você deverá transcrever a redação, a tinta, na folha apropriada. Os rascunhos não serão considerados em nenhuma hipótese.
- Você terá o total de 4 horas para responder a todas as questões, preencher a Folha de Respostas e fazer a Prova de Redação (rascunho e transcrição).
- Ao término da prova devolva este caderno de prova ao aplicador, juntamente com sua Folha de Respostas e a folha de transcrição da Prova de Redação.
- Proibida a divulgação ou impressão parcial ou total da presente prova. Direitos Reservados.



CONHECIMENTOS BÁSICOS

Português

Atenção: Para responder às questões de números 01 a 10, considere o texto abaixo.

O primeiro voo

Mais do que um marinheiro de primeira viagem, o passageiro de primeiro voo leva consigo os instintos e os medos primitivos de uma espécie criada para andar sobre a terra. As águas podem ser vistas como extensão horizontal de caminhos, que se exploram pouco a pouco: aprende-se a nadar e a navegar a partir da segurança de uma borda, arrostando-se gradualmente os perigos. Mas um voo é coisa mais séria: há o desafio radical da subida, do completo desligamento da superfície do planeta, e há o momento crucial do retorno, da reconciliação com o solo. Se a rotina das viagens aéreas banalizou essas operações, nem por isso o passageiro de primeira viagem deixa de experimentar as emoções de um heróico pioneiro.

Tudo começa pelo aprendizado dos procedimentos iniciais. O novato pode confundir bilhete com cartão de embarque, ignora as siglas das placas e monitores do aeroporto, atordoa-se com os avisos e as chamadas da locutora invisível. Já de frente para a escada do avião, estima, incrédulo, quantas toneladas de aço deverão flutuar a quilômetros de altura – com ele dentro. Localizada a poltrona, afivelado o cinto com mãos trêmulas, acompanha com extrema atenção as estudadas instruções da bela comissária, até perceber que ele é a única testemunha da apresentação: os demais passageiros (mal-educados!) leem jornal ou conversam. Quando enfim os motores, já na cabeceira da pista, aceleram para subir e arrancam a plena potência, ele se segura nos braços da poltrona e seu corpo se retesa na posição seja-o-que-Deus-quiser.

Atravessadas as nuvens, encanta-se com o firmamento azul e não tira os olhos da janela – até perceber que é um embevecido solitário. Alguns buscam cochilo, outros conversam animadamente, todos ignoram o milagre. Pouco a pouco, nosso pioneiro vai assimilando a rotina do voo, degusta o lanche com o prazer de um menino diante da merenda, depois prepara-se para o pouso na mesma posição que assumira na decolagem. Tudo consumado, resta-lhe descer a escada, bater os pés no chão da pista e convencer-se de que o homem é um bicho estranho, destinado a imaginar o irrealizável só pelo gosto de vir a realizá-lo. Nos voos seguintes, lerá jornal, cochilará e pouco olhará pela janela, que dá para o firmamento azul.

(Firmino Alves, inédito)

1. Ao detalhar e comentar as experiências de um passageiro imaginário, o autor do texto vai qualificando a evolução de suas reações, deixando clara a tese de que, ao fim e ao cabo,
 - (A) a consumação de um ato heróico inspira novas ousadias.
 - (B) a reiteração de um feito transmuda o encantamento em indiferença.
 - (C) o espírito heróico do pioneirismo dá lugar ao sentimentalismo piegas.
 - (D) o fascínio de uma aventura coletiva se converte em aflição individual.
 - (E) a expectativa dos grandes desafios leva a uma inesperada frustração.
2. No contexto do primeiro parágrafo, entre as expressões *marinheiro de primeira viagem* e *passageiro de primeiro voo* estabelece-se uma relação de
 - (A) sucessivas alternâncias, pois ora se está caracterizando uma, ora se está caracterizando a outra.
 - (B) antagonismo de sentido, uma vez que o imobilismo de uma situação se opõe ao dinamismo da outra.
 - (C) analogia de sentido, em que se ressalta, todavia, uma diferença marcante entre as situações a que se referem.
 - (D) subordinação de sentido, uma vez que o entendimento da primeira expressão depende da compreensão da segunda.
 - (E) semelhança meramente formal, pois o sentido da primeira em nada lembra o sentido da segunda.
3. Na frase *a rotina das viagens aéreas banalizou* essas operações, o sentido do verbo **banalizar** é equivalente ao sentido que assume o verbo sublinhado em:
 - (A) O progresso trivializou experiências que eram vistas como temerárias.
 - (B) A nova diretoria restringiu algumas das iniciativas programadas.
 - (C) A agência de turismo fez de tudo para popularizar seus planos de viagem.
 - (D) O comandante vulgarizou-se ao se dirigir daquele modo à tripulação.
 - (E) A companhia apequenou seus novos projetos diante da crise.
4. Atente para as seguintes afirmações:
 - I. No 1º parágrafo, o segmento *arrostando-se gradualmente os perigos* tem o sentido de **prevenindo-se passo a passo contra os riscos**.
 - II. No 2º parágrafo, o segmento *estima, incrédulo* tem o sentido de **aprecia, duvidoso**.
 - III. No 3º parágrafo, o segmento *é um embevecido solitário* tem o sentido de **é o único enlevado**.Em relação ao texto, está correto o que se afirma SOMENTE em
 - (A) I.
 - (B) II.
 - (C) III.
 - (D) I e II.
 - (E) II e III.



<p>5. Está clara e correta a redação do seguinte comentário sobre o texto:</p> <p>(A) Entre a decolagem e a aterrissagem, operações que o deixam tenso, ele se atém a contemplar o firmamento azul, cuja beleza parece hipnotizá-lo.</p> <p>(B) Parece não haver, para os homens, desejos que não possam realizar-se, mormente quando sua dificuldade os tornam ainda mais inexequíveis.</p> <p>(C) Uma vez embarcado e vencido a preocupação, a tensão e o temor iniciais, o novato se entretia com o espetáculo cujo desenrolar assiste na janela.</p> <p>(D) A indiferença dos passageiros que leem jornal ou conversam, parece, aos olhos do passageiro de primeira viagem, um descazo para a vista aérea.</p> <p>(E) Tão logo o avião arranca na pista, em face de seu temor primitivo, esses passageiros retesam o corpo, na medida em que está prestes a decolagem.</p>	<p>8. Está adequada a correlação entre os tempos e os modos verbais na seguinte frase:</p> <p>(A) Seria mesmo possível que alguém tome o bilhete como cartão de embarque, ou não reconhecesse as mensagens dos monitores?</p> <p>(B) A quantos não terá ocorrido confundir o bilhete com o cartão de embarque, ou se embaralhando com as mensagens dos monitores?</p> <p>(C) É possível que um novato venha a confundir o bilhete com o cartão de embarque, ou que ignorasse as siglas que desfilam nos monitores.</p> <p>(D) Não estranha que um novato confunda o bilhete com o cartão de embarque, ou demonstre ignorar as siglas que desfilam nos monitores.</p> <p>(E) Não deveria estranhar que um novato confundira o bilhete com o cartão de embarque, ou que ignora as siglas que desfilam nos monitores.</p>
<p>6. Considerando-se o sentido do contexto, nas expressões <u>localizada</u> a poltrona e <u>afivelado</u> o cinto, as formas sublinhadas poderiam ser precedidas por</p> <p>I. conquanto.</p> <p>II. uma vez.</p> <p>III. tão logo.</p> <p>IV. ao estar sendo.</p> <p>Complementa corretamente o enunciado da questão o que está SOMENTE em</p> <p>(A) I e II.</p> <p>(B) II e IV.</p> <p>(C) II e III.</p> <p>(D) I e III.</p> <p>(E) I e IV.</p>	<p>9. Está correto o emprego do elemento sublinhado na frase:</p> <p>(A) A expressão <u>menino diante da merenda</u> atesta <u>de que</u> há um prazer algo ingênuo e infantil no passageiro de primeiro voo.</p> <p>(B) Diante do avião, <u>em cujo</u> avulta a gigantesca estrutura de aço, o passageiro demonstra sua preocupação e incredulidade.</p> <p>(C) Ao se valer da expressão <u>Tudo consumado</u>, <u>em cujo</u> grave sentido se manifesta na Bíblia, o autor reveste de solenidade o final do voo.</p> <p>(D) O passageiro novato, na aterrissagem, assumiu a mesma posição defensiva <u>a que</u> recorrera na decolagem.</p> <p>(E) O homem é um bicho <u>de quem</u> a natureza imprimiu uma obsessiva necessidade de sonhar alto.</p>
<p>7. As normas de concordância verbal estão plenamente respeitadas em:</p> <p>(A) Julgam os novatos que não deveriam assistir aos passageiros o direito de permanecerem indiferentes ao espetáculo que se vê pela janela.</p> <p>(B) A expectativa dos novos espetáculos que sucederão nas alturas faz com que esses passageiros não tirem os olhos da janela.</p> <p>(C) A começarem pelos procedimentos básicos iniciais, toda operação representa um grande desafio para um passageiro de primeiro voo.</p> <p>(D) O que logo atemorizam os passageiros de primeiro voo, num aeroporto, são as pequenas providências para o embarque.</p> <p>(E) As nuvens, o firmamento azul, tudo se lhe afiguram espetáculos novos, momentos palpantes, emoções inesquecíveis.</p>	<p>10. Ao utilizar pela primeira vez um aeroporto, o novato <u>percorre o aeroporto</u> como se estivesse num labirinto, <u>buscando tornar o aeroporto</u> familiar aos seus olhos, <u>aplicando seus olhos</u> na identificação das rampas, escadas e corredores em que se sente perdido.</p> <p>Evitam-se as viciosas repetições do texto acima substituindo-se os elementos sublinhados, na ordem dada, por:</p> <p>(A) percorre-lhe - tornar-lhe - os aplicando</p> <p>(B) o percorre - o tornar - aplicando-lhes</p> <p>(C) percorre-o - tornar-lhe - aplicando-os</p> <p>(D) o percorre - torná-lo - aplicando-lhes</p> <p>(E) percorre-o - torná-lo - aplicando-os</p>



Atenção: Para responder às questões de números 11 a 15, considere o texto abaixo.

Reorganização da INFRAERO

O presidente da INFRAERO assegurou que não haverá privatização da estatal. O comunicado foi feito durante entrevista sobre a contratação de empresa para estudar a reestruturação da INFRAERO, cuja gestão essa providência permitirá aperfeiçoar. Caberá ao BNDES coordenar os trabalhos dos consultores contratados e submetê-los à apreciação dos conselheiros.

“Tudo o que pode ser feito para melhorar a empresa, viabilizando sua entrada no mercado de capitais, já foi aprovado no conselho de administração da INFRAERO”, explicou o presidente. E acrescentou: “O trabalho do BNDES vai ajudá-la a se preparar ainda mais para avançar nos mercados nacional e internacional”.

O presidente do BNDES também se pronunciou: “O que nós queremos é fortalecer a capacidade de investimento e de desenvolvimento do sistema aeroportuário brasileiro.” Segundo ele, isso só poderá ser feito de maneira articulada com a principal empresa de infraestrutura portuária.

A contratação da consultoria está prevista em um termo de cooperação técnica firmado entre o Ministério da Defesa e o BNDES. Será concedido, aos licitantes vencedores, o prazo de nove meses para a conclusão dos estudos.

(Adaptado de matéria divulgada em março/2009 no site www.infraero.gov.br)

11. Atente para as seguintes afirmações:

- I. Caberá ao BNDES submeter aos consultores contratados o processo de aperfeiçoamento de gestão promovido pela INFRAERO.
- II. As medidas necessárias para o ingresso da INFRAERO no mercado de capitais foram respaldadas pelo conselho de administração.
- III. Sendo a principal empresa brasileira do setor, a INFRAERO contará com o apoio do BNDES para o fortalecimento do sistema aeroportuário.

Em relação ao texto, está correto o que se afirma SOMENTE em

- (A) I.
- (B) II.
- (C) III.
- (D) I e II.
- (E) II e III.

12. A entrevista concedida pelo presidente da INFRAERO centra-se, fundamentalmente,

- (A) no anúncio de que o BNDES oferecerá seus serviços de consultoria para o aperfeiçoamento de gestão da estatal.
- (B) na divulgação de medidas jurídicas que possibilitarão a entrada da empresa no mercado de capitais.
- (C) no desmentido de insistentes rumores acerca da possível privatização daquela estatal.
- (D) no detalhamento das condições de uma licitação para contratar os serviços de empresa de consultoria.
- (E) no informe acerca da contratação de consultoria especializada em reestruturação e gestão empresarial.

13. É preciso **corrigir**, em nível estrutural, a redação da seguinte frase:

- (A) Prevê-se o auxílio de uma empresa de consultoria num termo de cooperação técnica, firmado entre o BNDES e o Ministério da Defesa.
- (B) Coube à direção da INFRAERO, em vista dos rumores sobre a privatização da empresa, esclarecer também que a mesma será reestruturada.
- (C) Em sua tarefa de coordenação, caberá ao BNDES viabilizar o ingresso da INFRAERO no mercado de capitais e aprimorar nosso sistema aeroportuário.
- (D) A par de desmentir rumores sobre a privatização da INFRAERO, seu presidente anunciou a contratação de uma empresa de consultoria.
- (E) Durante a entrevista, foram desmentidos boatos sobre a privatização da INFRAERO e anunciou-se o trâmite de contratação de empresa de consultoria.

14. O verbo indicado entre parênteses deverá flexionar-se numa forma do **singular** para preencher de modo correto a lacuna da frase:

- (A) Quanto às normas de contratação da consultoria, (**dispor-se**) de acordo com um termo de cooperação técnica já firmado.
- (B) (**impor-se**), para o ingresso da empresa no mercado de capitais, reformulações de ordem técnica e administrativa.
- (C) (**convergir**) para o ingresso da INFRAERO no mercado de capitais as recentes providências para a contratação de um serviço de consultoria.
- (D) (**caber**) aos licitantes vencedores valer-se dos nove meses que têm de prazo para concluir os estudos.
- (E) A orientação é a de que se (**submeter**) ao BNDES, na condição de órgão coordenador, os trabalhos dos consultores contratados.

15. Atente para as seguintes frases:

- I. Se o que se deseja, é o ingresso, da INFRAERO no mercado de capitais, será preciso contar com o auxílio de uma consultoria especializada, para promover a reestruturação da empresa bem como a melhoria de sua gestão.
- II. A reestruturação da empresa, assim como o aperfeiçoamento de sua gestão, é tarefa de que se ocupará uma consultoria especializada, a ser contratada proximamente, por meio de licitação pública já prevista em um termo de cooperação técnica.
- III. Aproveitando a oportunidade da entrevista concedida, em que se pronunciou acerca da contratação de consultoria especializada, o presidente da INFRAERO asseverou, para dirimir dúvidas, que não se cogita de privatizar a INFRAERO.

Está plenamente adequada a pontuação do que está enunciado em

- (A) II e III, somente.
- (B) II, somente.
- (C) I, II e III.
- (D) I e II, somente.
- (E) I e III, somente.



Legislação

16. Dentre as atribuições da Agência Nacional de Aviação Civil, é de sua competência representar o País junto aos organismos internacionais nos assuntos relativos
- (A) ao Conselho de Aviação Civil internacional, à infraestrutura aeronáutica e aeroportuária internacional.
- (B) à Aviação Civil, exceto nos atinentes ao sistema de controle do espaço aéreo e ao sistema de investigação de acidentes aeronáuticos.
- (C) ao sistema de controle de tráfego aéreo e à investigação de acidentes aeronáuticos internacionais, em quaisquer hipóteses.
- (D) à Aviação Civil, todos os atinentes ao sistema de controle do espaço aéreo e ao sistema de investigação de acidente aeronáutico, em todas as hipóteses.
- (E) à infraestrutura aeronáutica e aeroportuária internacional.
-
17. A responsabilidade de designar um representante da União nos atos constitutivos da INFRAERO é do
- (A) Presidente da República.
- (B) Sistema de Aviação Civil.
- (C) Conselho de Aviação Civil.
- (D) Comando da Aeronáutica.
- (E) Comando da Defesa.
-
18. A formação, o treinamento e o aperfeiçoamento de pessoal especializado, que são programas necessários para o exercício da atividade na INFRAERO, é atribuição
- (A) da Agência Nacional de Aviação Civil.
- (B) do Ministério da Defesa.
- (C) da própria INFRAERO.
- (D) do Ministério da Aeronáutica.
- (E) do Comando da Aeronáutica.
-
19. De acordo com a legislação específica, os relatórios anuais das atividades da Agência Nacional de Aviação Civil devem ser encaminhados ao
- (A) Ministério da Defesa e, por intermédio do Congresso Nacional, para a Presidência da República.
- (B) Comando da Aeronáutica e, por intermédio do Ministério da Defesa, ao Conselho de Aviação Civil.
- (C) Comando da Aeronáutica e, por intermédio do Congresso Nacional, para a Presidência da República.
- (D) Ministério da Defesa e, por intermédio da Presidência da República, ao Congresso Nacional.
- (E) Congresso Nacional e, por intermédio do Ministério da Defesa, para o Comando da Aeronáutica.
-
20. Em conformidade com a lei, no que concerne aos aeródromos públicos que forem sede de Unidade Aérea Militar, as esferas de competência das autoridades civis e militares, quanto à respectiva administração, serão definidas
- (A) por ato do Secretário de Estado da Segurança Pública.
- (B) em regulamentação especial.
- (C) pela Força Nacional de Segurança Pública.
- (D) por atos contratuais.
- (E) a critério do Comandante da sede militar.
-
21. A Agência Nacional de Aviação Civil é constituída de uma Diretoria, contando também com
- (A) um representante da Aeronáutica, um do Conselho de Aviação Civil e uma Procuradoria.
- (B) um Conselho Consultivo de Aviação Civil, além das unidades especiais e uma Procuradoria.
- (C) uma Corregedoria, uma Procuradoria e um representante do Comando da Aeronáutica.
- (D) uma Procuradoria, uma Corregedoria, um Conselho Consultivo e uma Ouvidoria, além das unidades especializadas.
- (E) uma Ouvidoria, uma Procuradoria, um representante do Conselho de Aviação Civil e unidades especializadas.
-
22. A Comissão Nacional de Segurança da Aviação Civil NÃO tem como objetivo promover a coordenação entre
- (A) o policiamento.
- (B) os serviços de controle de passageiros.
- (C) o controle de tráfego aéreo.
- (D) a administração aeroportuária.
- (E) as empresas de transporte aéreo.
-
23. Tendo o Sr. Fulano de Tal adquirido uma passagem aérea na Empresa "ADS Linhas Aéreas", esta terá, a partir da data de sua emissão, validade de até
- (A) 14 (catorze) meses.
- (B) 20 (vinte) meses.
- (C) 18 (dezoito) meses.
- (D) 16 (dezesseis) meses.
- (E) 1 (um) ano.



24. A Superintendência de Manutenção – DOMN da INFRAERO, em decorrência do elevado custo de manutenção dos veículos que compõem a frota de várias unidades dessa empresa em Brasília, submeteu à consideração da Superintendência de Licitações e Contratos – DALC, a aquisição de novos veículos, mediante a prévia alienação daqueles considerados inservíveis, em face das condições antes citadas. Diante dessa situação fática, os veículos considerados inservíveis serão alienados, mediante as condições estabelecidas no edital, observado o procedimento licitatório correspondente à modalidade de
- (A) convite, mediante a participação de interessados devidamente cadastrados até a data do evento.
 - (B) concorrência do tipo menor preço, observada a prévia qualificação dos interessados.
 - (C) leilão, a quem oferecer o maior lance, igual ou superior ao valor da avaliação.
 - (D) concurso, devendo os interessados apresentarem as propostas de preços acompanhadas das correspondentes caucões.
 - (E) tomada de preços, desde que os interessados estejam devidamente cadastrados, pelo menos nos 15 dias anteriores à data do evento.
25. Ocorrendo infração aos preceitos do Código Brasileiro de Aeronáutica, e/ou legislação complementar, a autoridade aeronáutica poderá proceder a providências administrativas, como a suspensão de certificados, licenças, concessões ou autorizações, devendo a pena ser aplicada para período NÃO superior a
- (A) 180 (cento e oitenta) dias, podendo ser prorrogada uma vez por igual período.
 - (B) 180 (cento e oitenta) dias, podendo ser prorrogada duas vezes, por igual período.
 - (C) um ano, em caráter improrrogável.
 - (D) 180 (cento e oitenta) dias, em caráter improrrogável.
 - (E) um ano, podendo ser prorrogada por 180 (cento e oitenta) dias.
26. Durante o voo 4528 da empresa “XYZ Linhas Aéreas”, ocorreu o óbito do Sr. Beltrano de Tal e, no voo 4529 da mesma companhia, o nascimento de Ciclana de Tal. Os Comandantes de ambos os voos deverão anotar e extrair cópia, para os fins de direito, no
- (A) Comprovante de Passageiros Embarcados.
 - (B) Relatório de Passageiros Desembarcados.
 - (C) Diário de Voo.
 - (D) Diário de Bordo.
 - (E) Relatório de Voo.
27. No que diz respeito à documentação do direito de funcionamento e autorização de empresas estrangeiras de transporte aéreo para atuarem no Brasil, é obrigatória a apresentação, dentre outros documentos, do
- (A) registro da frota total de aeronaves existente na empresa estrangeira.
 - (B) regulamento das atividades aéreas da empresa estrangeira em todos os espaços aéreos em que atua.
 - (C) certificado de habilitação internacional de todos os comandantes da Cia. Aérea.
 - (D) atestado comprobatório da permanência de 25% da frota de aeronaves no País.
 - (E) último balanço mercantil legalmente publicado no país de origem.
28. Em conformidade com o decreto que aprovou o Código de Ética Profissional do Servidor Público Civil do Poder Executivo Federal, a pena aplicável e imposta pela Comissão de Ética a um empregado público da INFRAERO deve ser a de
- (A) censura, e sua fundamentação constará do respectivo parecer, assinado por todos os seus integrantes, com ciência do faltoso.
 - (B) multa correspondente a 10% dos vencimentos líquidos desse empregado na data do evento faltoso, a ser descontada em até 5 parcelas.
 - (C) suspensão pelo prazo de até 60 dias, e será anotada no prontuário do faltoso, após sua ciência formal ou de seu representante legal.
 - (D) declaração de inidoneidade, devendo ser registrada na própria decisão, assinada pela maioria absoluta de seus integrantes ou suplentes, com ciência do faltoso.
 - (E) suspensão pelo prazo de até 30 dias, cuja decisão deverá ficar registrada nos respectivos autos, para posterior ciência do faltoso.
29. Dentre outras hipóteses, ao ser realizada determinada licitação na modalidade de concorrência, do tipo “técnica e preço”, o prazo mínimo até o recebimento das propostas ou da realização do evento será de
- (A) quinze dias, contados a partir da data em que ocorrer a efetiva disponibilidade do edital.
 - (B) acordo com os requisitos estabelecidos, conforme critério da autoridade competente no respectivo edital.
 - (C) cinco dias úteis, contados a partir da data da entrega, aos interessados, do edital na íntegra.
 - (D) trinta dias, contados a partir da data da publicação do ato que autorizar a realização do certame.
 - (E) quarenta e cinco dias, contados a partir da última publicação do edital resumido.
30. Nos processos administrativos, em que são interessados *Santos Eletrônica Ltda. e Vilma Metais Ltda.*, que tramitam junto à INFRAERO, surgiram fatos novos e circunstâncias relevantes suscetíveis de justificar a inadequação da sanção aplicada a essas pessoas jurídicas. Nesses casos, é certo que referidos processos
- (A) poderão ser revogados mediante ato a ser praticado pela Administração Pública ou pelo Poder Judiciário.
 - (B) dependem do uso do poder discricionário da autoridade competente para serem revistos.
 - (C) poderão ser revistos, a qualquer tempo, a pedido ou de ofício.
 - (D) não poderão ser revistos administrativamente, por não terem sido declarados definitivamente findos.
 - (E) dependem, para revisão, de provocação por parte da mais alta autoridade do respectivo órgão ou Pasta.



CONHECIMENTOS ESPECÍFICOS

Instruções: Para responder às questões de números 31 a 35, considere os dados abaixo:

A Diretoria de um certo órgão público determinou a execução das tarefas:

Item	Tarefa																																	
I	Disponibilizar as tabelas de vôos e horários por companhia aérea em um servidor intranet do órgão para que todos os que tenham acesso possam utilizá-las e "baixá-las" em seus computadores pessoais. Para tanto, é preciso realizar a operação "X" de levar essas tabelas do computador pessoal de quem as produz (desde que autorizado) para o servidor central da intranet.																																	
II	Analisar as informações recebidas via correio eletrônico porque muitas delas podem ser boatos. Também, quando estiver em uma página internet e "clique" em <i>links</i> para endereços da rede, deve haver cautela, pois nessa operação é possível que sejam instalados códigos nos computadores capazes até mesmo de modificar a página inicial do navegador.																																	
III	Utilizar, quando possível, a tecnologia que faz com que o computador reconheça e configure automaticamente qualquer dispositivo que seja instalado, facilitando a expansão segura dos computadores e eliminando a configuração manual.																																	
IV	a. Copiar formatos de caractere e parágrafo entre textos, sempre que possível, para tornar o trabalho mais produtivo (editor de textos <i>Microsoft</i>). b. Utilizar textos colunados com linhas de separação entre colunas, nas produções de mini jornais ou panfletos a serem distribuídos ou afixados nos aeroportos (editor de textos <i>Microsoft</i>).																																	
V	Elaborar uma tabela como segue (planilha <i>Microsoft</i>): <table border="1" style="margin-left: 40px;"> <thead> <tr> <th colspan="3">Cia Aérea Vale do Silício</th> </tr> <tr> <th>Linhas</th> <th>Nº do vôo (Coluna C)</th> <th>Duração do vôo (Coluna D)</th> </tr> </thead> <tbody> <tr><td>9</td><td>33</td><td>1:30</td></tr> <tr><td>10</td><td>45</td><td>2:40</td></tr> <tr><td>11</td><td>83</td><td>4:45</td></tr> <tr><td>12</td><td>42</td><td>2:59</td></tr> <tr><td>13</td><td>36</td><td>13:16</td></tr> <tr><td>14</td><td>40</td><td>2:25</td></tr> <tr><td>15</td><td>25</td><td>5:00</td></tr> <tr><td colspan="2">Maior duração</td><td>13:16</td></tr> <tr><td colspan="2">Menor duração</td><td>1:30</td></tr> </tbody> </table>	Cia Aérea Vale do Silício			Linhas	Nº do vôo (Coluna C)	Duração do vôo (Coluna D)	9	33	1:30	10	45	2:40	11	83	4:45	12	42	2:59	13	36	13:16	14	40	2:25	15	25	5:00	Maior duração		13:16	Menor duração		1:30
Cia Aérea Vale do Silício																																		
Linhas	Nº do vôo (Coluna C)	Duração do vôo (Coluna D)																																
9	33	1:30																																
10	45	2:40																																
11	83	4:45																																
12	42	2:59																																
13	36	13:16																																
14	40	2:25																																
15	25	5:00																																
Maior duração		13:16																																
Menor duração		1:30																																

31. As recomendações **a** e **b** da tarefa IV são possibilitadas
- (A) pela cópia e por operação iniciada no menu Exibir.
(B) pela cópia e por operação iniciada no menu Formatar.
(C) pela cópia e por operação iniciada no menu Editar.
(D) pelo pincel e por operação iniciada no menu Inserir.
(E) pelo pincel e por operação iniciada no menu Formatar.
32. A tecnologia referida na tarefa III é
- (A) *free connection*.
(B) *free slot*.
(C) *serial port*.
(D) *plug and play*.
(E) *on board*.
33. No que concerne à tarefa V, as durações maior e menor são obtidas, respectivamente, pelas fórmulas
- (A) =MAIORVALOR(D9:D15) e =MENORVALOR(D9:D15)
(B) =MAIORVALOR(D9+D15) e =MENORVALOR(D9-D15)
(C) =MAIORVALOR(D9;D15) e =MENORVALOR(D9;D15)
(D) =MÁXIMO(D9;D15) e =MÍNIMO(D9;D15)
(E) =MÁXIMO(D9:D15) e =MÍNIMO(D9:D15)
34. A operação "X" mencionada na tarefa I é
- (A) uma anexação em e-mail.
(B) uma remessa na forma oculta.
(C) um *upload*.
(D) uma cópia especial.
(E) um *download*.
35. Quanto à tarefa II, a preocupação da direção é principalmente com fatores potencialmente maliciosos do tipo
- (A) cavalo de tróia e *firewall*.
(B) *hoax* e *spyware*.
(C) *home* e *ad-aware*.
(D) *ad-aware* e cavalo de tróia.
(E) *spyware* e *host*.



36. A organização de manutenção em sistemas de operação contínua (H24) pode apresentar resumidamente, em linhas gerais, uma classificação de falhas.

Considere as falhas:

- I. provenientes dos registros e controles técnicos.
- II. decorrentes de desvios de qualidades e custos.
- III. decorrentes de falhas do plano e programa.
- IV. oriundas dos procedimentos e insumos.

A correlação entre as falhas de manutenção e as etapas de projeto, em sistema de operação contínua (H24), está apresentada corretamente em:

	Planejamento	Operação	Execução	Gerenciamento
A	II	IV	I	III
B	III	IV	I	II
C	I	III	II	IV
D	III	I	IV	II
E	II	I	III	IV

37. A manutenção preditiva

- I. é a atuação realizada com base em modificação de parâmetro de condição ou desempenho, cujo acompanhamento obedece a uma sistemática.
- II. tem como função a operação segura e contínua do equipamento, sistema ou instalação pelo maior tempo possível.
- III. prediz as condições dos equipamentos e sistemas, ou seja, esta manutenção privilegia a disponibilidade na medida em que não promove a intervenção nos sistemas, pois as medições e verificações são efetuadas com os sistemas operando.

Está correto o que se afirma em

- (A) I e III, apenas.
- (B) I, II e III.
- (C) I, apenas.
- (D) II, apenas.
- (E) I e II, apenas.

38. A gestão dos serviços de manutenção compreende a estabilização de dois processos, a saber, gerenciamento

- (A) organizacional e implantação de plano de atribuições.
- (B) de pessoal e implantação de estrutura organizacional matricial.
- (C) de rotina e implantação de melhorias.
- (D) de problemas crônicos e implantação de plano de ação.
- (E) de pessoal e implantação de plano de ação.

39. Com base na Lei nº 8.666/93 e alterações posteriores, considere:

- I. Licitação entre interessados devidamente cadastrados ou que atenderem a todas as condições exigidas para cadastramento até o terceiro dia anterior à data do recebimento das propostas, observada a necessária qualificação, refere-se à modalidade Tomada de Preços.
- II. Licitação entre quaisquer interessados que, na fase inicial de habilitação preliminar, comprovem possuir os requisitos mínimos de qualificação exigidos no edital para execução de seu objeto, refere-se à modalidade Concurso.
- III. Licitação entre quaisquer interessados para escolha de trabalho técnico, científico ou artístico, mediante a instituição de prêmios e/ou remuneração aos vencedores, conforme critérios constantes de edital publicado na imprensa oficial com antecedência mínima de 45 (quarenta e cinco dias), refere-se à modalidade Concorrência.
- IV. Para obras e serviços de engenharia, a legislação vigente estabelece que a Tomada de Preços tem o valor estimado de contratação até R\$ 1.500.000,00 (hum milhão e quinhentos mil reais).
- V. Ao conjunto de elementos necessários e suficientes, com nível de precisão adequado, para caracterizar a obra ou serviço, ou complexo de obras ou serviços objeto da licitação, elaborado com base nas indicações dos estudos técnicos preliminares, que assegurem a viabilidade técnica e o adequado tratamento do impacto ambiental do empreendimento, e que possibilite a avaliação do custo da obra e a definição dos métodos e do prazo de execução, denominamos Projeto Básico.

Está correto o que se afirma APENAS em

- (A) II e III.
- (B) III, IV e V.
- (C) I e II.
- (D) I, III e V.
- (E) I, IV e V.

40. Os andaimes devem ser construídos ou montados sempre que houver necessidade de executar trabalhos em lugares elevados, que não possam ser realizados com segurança, a partir do chão, e cujo tempo de duração ou tipo de atividade não justifique o uso de escadas com o mesmo objetivo.

Nesses casos, quanto à segurança:

- I. os andaimes e seus componentes devem ser capazes de sustentar pelo menos duas vezes a carga máxima de trabalho.
- II. as plataformas de trabalho devem possuir guarda-corpos de 0,90 m a 1,20 m de altura.
- III. as plataformas de trabalho devem ter, no mínimo, 1,00 m de largura.
- IV. as torres de andaimes móveis não devem exceder em altura a quatro vezes a menor dimensão da base.

Está correto o que se afirma APENAS em

- (A) II e IV.
- (B) III e IV.
- (C) I e II.
- (D) I e III.
- (E) II e III.



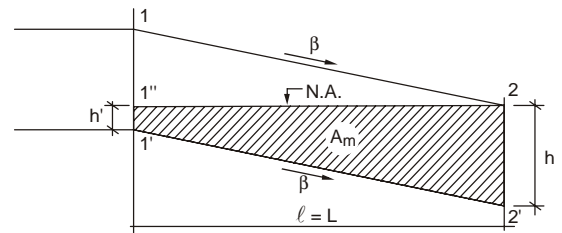
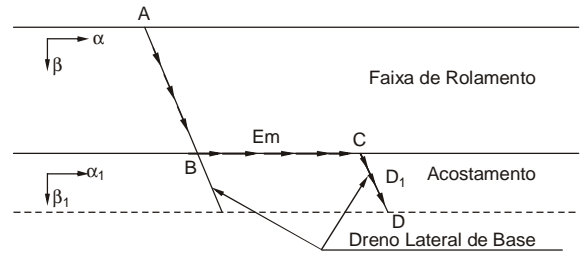
41. Com relação à drenagem dos pavimentos, considere:
- I. A adoção nos acostamentos da mesma estrutura da pista de rolamento tem efeitos benéficos e simplifica os problemas de drenagem.
 - II. A camada porosa de atrito (CPA) é uma camada de macrotextura aberta com elevada capacidade de drenagem por meio de uma estrutura de alto índice de vazios.
 - III. A camada porosa de atrito reduz os riscos de aquaplanagem e as distâncias de frenagem sob chuva, além de diminuir a cortina de água.
 - IV. Para o correto dimensionamento de pavimentos, supõe-se, sempre, que há uma drenagem superficial adequada e que o lençol d'água subterrâneo foi rebaixado pelo menos 1,60 m em relação ao greide de regularização.
- Está correto o que se afirma em
- (A) II, III e IV, apenas.
 - (B) I, II, III e IV.
 - (C) I e II, apenas.
 - (D) I, III e IV, apenas.
 - (E) I, II e III, apenas.

42. Com relação a cronogramas físico-financeiros, orçamentos, prazos e custos em obras de construção civil é correto afirmar:
- (A) Na contratação por preço unitário, deve constar no projeto do serviço a produtividade da equipe que o executará.
 - (B) A composição do custo direto de um serviço dá-se pela soma de cinco componentes: mão de obra, encargos sociais, benefícios de mão de obra, materiais de consumo e despesas operacionais com veículos.
 - (C) O orçamento de obra é a estimativa de preço da obra elaborada pelo prestador de serviço em sua proposta de custo. Consiste da apresentação dos seguintes formulários: descrição dos serviços do orçamento, unidade, quantidade, preço unitário e preço do serviço.
 - (D) A data base é a data a que se referem os preços utilizados na elaboração de um orçamento detalhado, integrante do projeto básico ou da proposta da contratante. Conforme dispõe a Lei nº 8.666/93, o edital de licitação definirá a data base como a data do orçamento.
 - (E) Planilha de Quantidades e Preços Unitários é o formulário que contempla as seguintes variáveis: salários e encargos, levantamento de quantidades e pesquisa de mercado de preços de materiais e equipamentos.

43. Para garantir boa qualidade na execução de pavimentos com sub-base ou base de solo-cimento é necessário que sejam verificados o teor de umidade antes da compactação e o grau de compactação do material. Essas verificações devem ser feitas em trechos de estrada, respectivamente, a cada
- (A) 20 m e 10 m
 - (B) 40 m e 20 m
 - (C) 60 m e 30 m
 - (D) 80 m e 40 m
 - (E) 100 m e 50 m

44. Considere as figuras a seguir.

Comportamento da água drenada nos pavimentos.



1'.1". 2.2' - representam a seção de vazão da água infiltrada, percolando longitudinalmente, sem pressão de baixo para cima, com largura igual à da faixa de contribuição da infiltração

Sabendo-se que a largura de uma pista é $L = 1800 \text{ m}$, β é a declividade transversal da pista de rolamento, $h' = 350 \text{ m}$ e $h = 800 \text{ m}$, a área de vazão máxima (A_m) é

- (A) 720.000 m^2
 - (B) 1.035.000 m^2
 - (C) 5.760.000 m^2
 - (D) 41.400.000 m^2
 - (E) 31.010.000 m^2
45. Em projetos de assentamento de tubulação de drenagem em valas localizadas no leito carroçável de uma pista, deve-se observar a distância mínima de 1 m entre as tubulações de água e de esgoto e a tubulação de água deve localizar-se, em relação às tubulações de esgoto, no mínimo,
- (A) 0,50 m abaixo.
 - (B) 0,50 m acima.
 - (C) 0,20 m acima.
 - (D) 0,70 m acima.
 - (E) 0,40 m abaixo.
46. Para drenar uma área de 20.000 m^2 com uma intensidade média de chuva de 150 mm/h , sabendo-se que o coeficiente de distribuição é igual a 0,80 e o coeficiente de deflúvio é igual a 0,60, a descarga, em litros por segundo (l/s), é
- (A) 100
 - (B) 190
 - (C) 400
 - (D) 550
 - (E) 644



47. Em relação aos custos de construção, considere:

- I. O custo unitário da construção é o quociente da multiplicação do custo global da construção pela área equivalente em área de custo padrão total.
- II. O cronograma de obras é o documento em que se registram, pela ordem de sucessão em que são executados, os serviços necessários à realização da construção e os respectivos prazos, previstos em função dos recursos e facilidades que se supõem serem disponíveis.
- III. A estimativa de custo prevista pode ser representada pela seguinte expressão: $E_c = D_e - D_r$ onde:
 E_c é igual à estimativa de custo atualizada;
 D_e é igual às despesas já efetuadas;
 D_r é igual às despesas a realizar.

Está correto o que se afirma APENAS em

- (A) I e II.
- (B) II e III.
- (C) I.
- (D) II.
- (E) III.

48. Considere as afirmativas.

- I. A revegetação dos acostamentos de pistas garante a estabilização dos taludes e impede o surgimento de processos erosivos pela ação de águas pluviais.
- II. A hidrossemeadura é um processo de plantio que impede o surgimento de processos erosivos pela ação de águas pluviais.
- III. O plantio de espécies botânicas gramíneas fixadas em placas de solo, encontradas em variadas dimensões, sendo comuns placas com 40 cm^2 , com o objetivo de revestir superficialmente áreas com solos expostos e susceptíveis ao surgimento de processos erosivos é chamado de revestimento com grama em placas.

Está correto o que se afirma em

- (A) II e III, apenas.
- (B) I, II e III.
- (C) I, apenas.
- (D) II, apenas.
- (E) III, apenas.

49. Com relação ao controle tecnológico da execução de aterros, além da realização de ensaios geotécnicos, devem ser controlados no local os seguintes aspectos:

- I. preparação adequada do terreno para receber o aterro, especialmente retirada da vegetação ou restos de demolições eventualmente existentes.
- II. emprego de materiais selecionados para os aterros, não podendo ser utilizadas turfas, argilas orgânicas, nem solos com matéria orgânica micácea ou ditomácea, devendo ainda ser evitado o emprego de solos expansivos.
- III. as operações de lançamento, homogeneização, umedecimento ou areação e compactação do material de forma que a espessura da camada compactada seja de no máximo $0,20 \text{ m}$.

Está correto o que se afirma em

- (A) I e II, apenas.
- (B) I, II e III.
- (C) I, apenas.
- (D) II, apenas.
- (E) III, apenas.

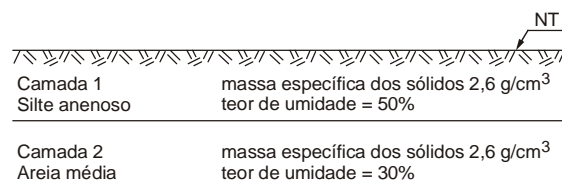
50. Os siltes são solos que apresentam baixa ou nenhuma plasticidade e que exibem baixa resistência quando seco ao ar. Os siltes são formados por partículas com diâmetros compreendidos entre

- (A) $0,002 \text{ mm}$ e $0,06 \text{ mm}$.
- (B) $0,06 \text{ mm}$ e 2 mm .
- (C) 2 mm e 6 mm .
- (D) 6 mm e 20 mm .
- (E) 20 mm e 60 mm .

51. Acerca do rateio de custo da construção para o critério de proporcionalidade das áreas equivalentes, em uma obra de pavimentação de uma área dentro de um aeroporto, adotou-se A_{Eql} (área equivalente em área de custo padrão) igual a x e A_{EqG} (área equivalente em área de custo padrão) igual a y . A relação entre a cota de construção (C_c) e a pavimentação é igual a

- (A) $x - y$
- (B) $\frac{x}{\frac{y^2}{2}}$
- (C) $\frac{x}{y}$
- (D) $\frac{x^2}{y}$
- (E) $x + y$

Instruções: Para responder às questões de números 52 e 53 considere a figura a seguir, que representa o perfil do subsolo sob o qual será construída uma estrada de pavimento flexível.



52. Da camada 2 retirou-se um corpo de prova de solo com massa de $270,4 \text{ g}$. Após secagem em estufa, verificou-se que a amostra possuía $62,4 \text{ g}$ de água. Se a massa específica dos sólidos é $2,6 \text{ g/cm}^3$, então, o volume dos sólidos é

- (A) 80 cm^3
- (B) 100 cm^3
- (C) 120 cm^3
- (D) 200 cm^3
- (E) 280 cm^3

53. Da camada 1 foi retirada uma amostra de solo com 234 g de massa e volume de 200 cm^3 . Após secagem em estufa, a amostra apresentou massa de 156 g . Se a massa específica dos sólidos é $2,6 \text{ g/cm}^3$, então, a sua porosidade é

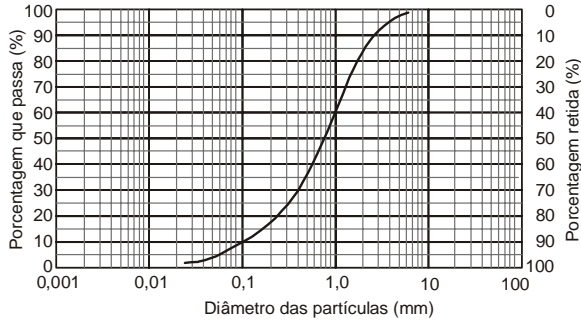
- (A) 40%
- (B) 50%
- (C) 60%
- (D) 70%
- (E) 80%



54. O dimensionamento tradicional dos pavimentos depende do valor mínimo do ensaio de CBR, Índice de Suporte Califórnia, de cada camada que o compõe. O ensaio de capacidade de suporte CBR é composto de três etapas: compactação do corpo-de-prova, obtenção da curva de expansão e determinação

- (A) do limite de plasticidade.
- (B) do grau de saturação.
- (C) da resistência ao cisalhamento.
- (D) da resistência à penetração.
- (E) do limite de liquidez.

55. A análise do solo de um trecho de estrada a ser construído resultou na curva granulométrica da figura a seguir.



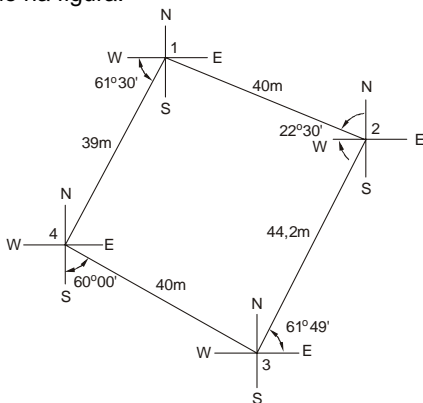
É desejável que o solo do local onde se constroem estradas seja bem graduado. O parâmetro que indica a distribuição das partículas do solo é o coeficiente de uniformidade, e o parâmetro que indica a simetria da curva granulométrica é o coeficiente de curvatura. O coeficiente de uniformidade e o coeficiente de curvatura da análise granulométrica do solo indicado são, respectivamente,

- (A) 0,1 e 0,016
- (B) 1 e 0,16
- (C) 10 e 1,6
- (D) 100 e 16
- (E) 1.000 e 160

56. A linha CD de um levantamento planimétrico possui rumo vante de N36°15'E, então, o azimute à direita da linha CD é

- (A) 323°45'
- (B) 233°40'
- (C) 143°45'
- (D) 53°45'
- (E) 36°15'

57. Considere o levantamento planimétrico do terreno representado na figura.



O rumo da linha 1-2 é

- (A) S67°30'E
- (B) W22°30'N
- (C) N67°30'W
- (D) N67°30'E
- (E) S22°30'E

58. Sabe-se que o estoque diário médio de sacos de cimento de um canteiro de obra para o período é dado pela fórmula:

$$V_m(I) = \frac{1}{T} \int_0^T I(t) dt$$

Uma empresa distribuidora de material de construção recebe um carregamento de 1.200 sacos de cimento a cada 30 dias e os vende para uma obra de construção civil a uma taxa fixa, e, t dias depois que um carregamento chega, seu estoque de cimento disponível é $I(t) = 1.200 - 40t$, $0 \leq t \leq 30$

O estoque de sacos de cimento é suficiente para 30 dias e o custo diário de estocagem de cada saco de cimento é R\$ 0,03. O estoque e seu custo são, respectivamente,

- (A) 580 e R\$ 12,00.
- (B) 600 e R\$ 18,00.
- (C) 630 e R\$ 34,30.
- (D) 650 e R\$ 50,50.
- (E) 700 e R\$ 72,00.

59. O cimento asfáltico de petróleo, utilizado no revestimento asfáltico de pavimentos flexíveis, deve ter as seguintes características:

- I. termoplasticidade, possibilitando manuseio a quente e, após o resfriamento, retornar à condição de viscoelasticidade.
- II. permeabilidade, permitindo a penetração de água da chuva na estrutura do pavimento.
- III. viscoelasticidade, combinando o comportamento elástico, sob aplicação de carga de curta duração, e o viscoso, sob longo tempo de aplicação de carga.
- IV. muita reatividade química; apenas o contato com o ar propicia oxidação rápida, mas que pode ser acelerado pelo aumento da temperatura.

Esta correto o que se afirma APENAS em

- (A) II e IV.
- (B) III e IV.
- (C) I, II e III.
- (D) I e II.
- (E) I e III.

60. Sobre as condições de segurança na estocagem de materiais de construção, considere:

- I. Em pisos elevados não podem ser empilhados materiais em distância menor que 2 m das bordas do piso, a não ser que existam paredes ou elementos de suporte.
- II. Se a madeira estocada for movimentada à mão, a pilha não deve ter mais de 5 m de altura.
- III. Nos casos em que for utilizado equipamento mecânico no empilhamento e na remoção de materiais, 6 m é a altura máxima admitida para uma pilha de madeira suficientemente segura, com escoras laterais que mantenham sua estabilidade.

Está correto o que se afirma em

- (A) II, apenas.
- (B) II e III, apenas.
- (C) I, apenas.
- (D) I e II, apenas.
- (E) I, II e III.

