



**CONCURSO PÚBLICO PARA PROVIMENTO DE CARGOS EFETIVOS
DA CARREIRA DE TÉCNICO ADMINISTRATIVO EM EDUCAÇÃO**
(EDITAL N.º 006/PROAD/SGP/2009)

Cargo:

Técnico em Agropecuária

CADERNO DE PROVA OBJETIVA

Nome do Candidato

Número de Inscrição

							-	
--	--	--	--	--	--	--	---	--

Assinatura do Candidato

--

INSTRUÇÕES

LEIA COM ATENÇÃO

1. Este Caderno de Prova, com páginas numeradas de 1 a 11 é constituído de **40 (quarenta)** questões objetivas, cada uma com cinco alternativas, assim distribuídas:

01 a 10 – Língua Portuguesa

11 a 20 – Noções de Informática

21 a 40 – Conhecimentos Específicos

2. Caso o Caderno de Prova esteja incompleto ou tenha qualquer defeito de impressão, solicite ao fiscal que o substitua.

3. Sobre a Marcação da Folha de Respostas

As respostas deverão ser, obrigatoriamente, transcritas com caneta esferográfica de tinta preta não porosa para a Folha de Respostas, que será o único documento válido para correção. Não haverá substituição da Folha de Respostas por erro do candidato.

- 3.1. Para cada questão existe apenas uma alternativa que a responde acertadamente. Para a marcação da alternativa escolhida na **FOLHA DE RESPOSTAS**, pinte completamente o campo correspondente.

*Exemplo: Suponha que para determinada questão a alternativa **C** seja a escolhida.*

N.º da Questão
<input type="radio"/> A
<input type="radio"/> B
<input checked="" type="radio"/> C
<input type="radio"/> D
<input type="radio"/> E

- 3.2. Será invalidada a questão em que houver mais de uma marcação, marcação rasurada ou emendada, ou não houver marcação.

3.3. Não rasure nem amasse a **FOLHA DE RESPOSTAS**.

4. A duração da prova é de **quatro** horas, já incluído o tempo destinado ao preenchimento da **FOLHA DE RESPOSTAS** e à **coleta de impressão digital**.
5. Todos os espaços em branco, neste caderno, podem ser utilizados para rascunho.
6. Será permitida a saída de candidatos da sala de prova **somente** após decorridas **duas horas e trinta minutos** do início da prova. Nesse caso, o candidato deverá entregar, **obrigatoriamente**, ao fiscal o Caderno de Prova e a Folha de Respostas.
7. O candidato que insistir em sair da sala de prova antes de transcorridas **duas horas e trinta minutos** do início da prova deverá assinar **Termo de Ocorrência** declarando **desistência** do Concurso.
8. Será permitida a saída de candidatos levando o Caderno de Prova **somente após três horas e trinta minutos** do início da prova.
9. É vedado ao candidato copiar as marcações feitas na Folha de Respostas.
10. Terminada a prova, o candidato deverá, **obrigatoriamente**, entregar ao fiscal a **FOLHA DE RESPOSTAS**.

LÍNGUA PORTUGUESA

Instrução: Leia atentamente o texto abaixo e responda às questões de 01 a 07.

Carta versus e-mail: o que mudou?

“O correio já chegou, nenhuma carta de você, todo dia a mesma coisa e eu desesperado sem saber por que...” samba de Ary Barroso, cantado por Francisco Alves nos anos 30. Da mesma época, a marchinha cantada por Carlos Galhardo: “A cartinha que ontem achei, na janela do meu bangalô, era tua, logo adivinhei, pois o meu coração palpitou...”

Em tempos de internet, o correio eletrônico não precisa chegar, está a nossa disposição, dia e noite. Não depende de carteiros nem fica dando sopa na varanda das casas. Vem direto para nós, com rapidez e segredo.

Balzac namorou uma nobre russa durante anos, as cartas entre os dois demoravam anos para chegar. Conheço uma desquitada que numa semana descolou um amigo íntimo com a troca de três mensagens, uma delas com foto.

Nos primeiros correios sentimentais que as revistas femininas publicavam, havia sempre uma carta que assim terminava: “Troco fotos.” Era um trabalho geralmente desonesto, mandava-se a foto de outra pessoa mais adequada para o namoro postal.

Além de rápido, sem necessidade de papel, envelope, selo, carteiro e endereço correto, o e-mail vai diretamente ao alvo. Um cara que passasse vinte dias escrevendo um bilhete à amada, “eu te amo”, terminaria chateando a destinatária. No computador, quem recebe a mesma mensagem, sucinta, bastante telegráfica, fará tudo para identificar o remetente – depois será o que Deus quiser.

Vantagem do velho correio: com o tempo, obtém-se o maço de cartas preso por fita vermelha e guardado na gaveta mais secreta. De lá, elas só sairão para a releitura saudosa ou para serem queimadas. Outra vantagem: para os românticos, elas podem vir perfumadas, trazendo uma pétala de rosa. Para os afobados, uma camisinha, que os tempos aconselham.

(CONY, Carlos Heitor. In Gloss, nº 05, fevereiro de 2008.)

Questão 01

Sobre as ideias do texto, assinale a afirmativa **INCORRETA**.

- A) A visão de mundo e algumas escolhas lexicais sugerem que a faixa etária do produtor do texto está acima de cinquenta anos.
- B) A intencionalidade perpassada no texto é apresentar nuances de dois tipos de comunicação individual.
- C) Há presença de certo saudosismo do autor, no último parágrafo, em relação ao “velho correio”.
- D) Uma das mudanças apontadas pelo produtor do texto refere-se à menor possibilidade de segredo do correio eletrônico.
- E) O envio de fotos de outra pessoa como se fosse sua foi abordado como desonesto somente em relação aos correios sentimentais de antigamente.

Questão 02

A leitura da crônica mostra aspectos da sua organização textual. Sobre esses aspectos, marque V para as afirmativas verdadeiras e F para as falsas.

- () Características positivas e negativas da carta e do e-mail compõem a temática do texto.
- () No quinto parágrafo, é explorada a interação entre remetente e destinatário tanto da carta quanto do e-mail.
- () No terceiro parágrafo, é dado um ponto positivo do e-mail e um negativo da carta.
- () Nos trechos *está a nossa disposição* e *vem direto para nós*, o uso da primeira pessoa do plural pretende incluir o leitor no mundo textual.

Assinale a sequência correta.

- A) F, F, V, V
- B) V, V, F, F
- C) V, F, V, F
- D) V, V, F, V
- E) F, V, V, V

Questão 03

Em relação aos dois meios com os quais Cony trabalha no texto, são destacadas vantagens para o e-mail nos parágrafos

- A) dois e cinco.
- B) dois e três.
- C) três e quatro.
- D) três e cinco.
- E) quatro e seis.

Questão 04

Sobre a linguagem do texto, analise as afirmativas.

- I - Termos como *bangalô* e *correios sentimentais* são exemplos de variedade histórica, ou seja, estão em desuso.
- II - A coloquialidade da linguagem do texto é percebida pelo uso de expressões informais como *dando sopa* e *descolou um amigo*.
- III - O trecho *nenhuma carta de você*, se re-escrito em linguagem formal (nenhuma carta sua), perde a poeticidade intencional do samba.

Está correto o que se afirma em

- A) I e II, apenas.
- B) I, II e III.
- C) II e III, apenas.
- D) III, apenas.
- E) II, apenas.

Questão 05

Em relação ao uso de tempos e modos verbais, assinale a afirmativa **INCORRETA**.

- A) O uso do pretérito perfeito nos trechos das letras de música citadas no texto se justifica por se tratar de ações já concluídas.
- B) No trecho *depois será o que Deus quiser*, há um jogo entre positivo e hipotético concretizado pelos modos indicativo e subjuntivo respectivamente.
- C) Se os verbos do quarto parágrafo estivessem no pretérito perfeito ao invés do imperfeito, o sentido permaneceria o mesmo.
- D) A correlação entre os tempos dos verbos passar e terminar, no quinto parágrafo, é um exemplo de registro formal da língua escrita.
- E) O uso do presente do indicativo, no segundo parágrafo, indica simultaneidade entre o fato expresso e o momento da produção do texto.

Questão 06

Assinale a alternativa em que há relação correta entre a palavra grifada e o sentido dado.

- A) *numa semana descolou um amigo íntimo* → encontrou
- B) *Era um trabalho geralmente desonesto* → árduo
- C) *logo adivinei, pois o meu coração palpitou* → ansiou
- D) *quem recebe a mesma mensagem, sucinta* → prolixa
- E) *Para os afobados, uma camisinha, que os tempos aconselham.* → nervosos

Questão 07

Em relação aos recursos linguísticos, assinale a afirmativa correta.

- A) No trecho *eu desesperado sem saber por que*, o termo grifado também pode ser escrito na forma porque, sem alterar o sentido.
- B) A palavra *outra*, em *a foto de outra pessoa*, define claramente de quem seria a foto.
- C) No trecho *Vantagem do velho correio*, colocando-se a palavra velho após correio, o sentido permaneceria o mesmo.
- D) A palavra *só*, no último parágrafo, equivale à palavra *sozinho*.
- E) O sentido da palavra *assim*, no quarto parágrafo, é explicitado em *“Troco fotos.”*

Instrução: Leia a tira abaixo e responda às questões 08 e 09.



(ABAURRE, M. R. M. et alii. **Português**: contexto, interlocução e sentido. São Paulo: Moderna, 2008, p.423.)

Questão 08

Sobre os recursos linguísticos e textuais, analise as afirmativas.

- I - As expressões verbais *vão dizer* e *havam dito* expressam, respectivamente, idéia de futuro e passado.
- II - O pronome *eles* refere-se a telejornais, constituindo um recurso de retomada de sentido.
- III - Por ser uma conversa informal, o emprego do verbo *haver* foge à norma padrão da língua portuguesa.
- IV - A expressão verbal usada em *Não vou dizer de novo.*, não pode ser substituída por direi, em uma situação formal.

Estão corretas as afirmativas

- A) I e II, apenas.
- B) II e III, apenas.
- C) II, III e IV, apenas.
- D) I, III e IV, apenas.
- E) I, II, III e IV.

Questão 09

Em relação ao texto, marque V para as afirmativas verdadeiras e F para as falsas.

- () Pode-se perceber na tira uma crítica ao modo de construção dos telejornais.
- () No segundo quadrinho, o Recruta Zero explica o que havia falado no primeiro.
- () A interjeição *Hã?* revela discordância do Sargento ao comentário do Recruta Zero.
- () A fala do Recruta Zero, no terceiro quadrinho, está coerente com seu comentário sobre os telejornais.

Assinale a sequência correta.

- A) V, F, F, V
- B) F, V, V, F
- C) F, V, F, V
- D) V, V, F, V
- E) V, F, V, V

Questão 10

A coluna da esquerda apresenta regras de concordância verbal da escrita padrão e a da direita, contextos de uso. Numere a coluna da direita de acordo com a da esquerda.

- | | | |
|--|-----|--|
| 1 - O verbo concorda com o sujeito em número e pessoa. | () | Jogos, espetáculos, viagens, diversões, nada pôde satisfazer os turistas. |
| 2 - O verbo concorda com o pronome que resume o sujeito composto. | () | Tanto a Secretaria de Turismo como a de Esporte estavam empenhadas em trazer a Copa de 2014 para Cuiabá. |
| 3 - O verbo vai para o plural quando os elementos do sujeito composto estão ligados por expressão correlativa. | () | No período das chuvas, aconteceram inúmeras mortes decorrentes da dengue. |
| | () | Nós, produtores culturais, divulgaremos a agenda de espetáculos no mês de julho. |

Assinale a sequência correta.

- A) 2, 1, 3, 2
B) 2, 3, 1, 1
C) 3, 2, 1, 1
D) 3, 3, 2, 1
E) 1, 2, 2, 3

NOÇÕES DE INFORMÁTICA

Questão 11

NÃO é dispositivo onde se pode gravar dados (arquivos) pessoais de usuário para futura recuperação:

- A) *pen drive*.
B) CD-ROM.
C) *scanner*.
D) disquete.
E) *hard disk*.

Questão 12

Qual periférico é ligado por meio de cabo adequado à porta VGA de um computador?

- A) Impressora
B) *Scanner*
C) *Fac-simile*
D) Teclado sem fio
E) Monitor de vídeo

Questão 13

Qual o resultado obtido clicando uma vez com o botão esquerdo do *mouse* (em sua configuração original) no botão *Iniciar* do Windows XP?

- A) Inicia o Windows Explorer.
B) Abre o programa que estiver definido como padrão.
C) Inicia o Internet Explorer.
D) Abre a caixa de diálogo para o *login* do usuário.
E) Abre o menu Iniciar.

Questão 14

Sobre o uso do Windows XP, assinale a afirmativa correta.

- A) O *Windows Update* é um *site* com notícias recentes sobre o Brasil e o mundo, mantido pela Microsoft.
B) É possível copiar arquivos de uma pasta para outra utilizando as teclas de atalho Control-C e Control-V.
C) No *Painel de Controle* estão localizados os ícones para abrir os programas de escritório Word e Excel.
D) *Área de Trabalho* é o nome dado ao local onde o relógio do Windows aparece juntamente com outros ícones.
E) Para um usuário excluir uma pasta, ele deve, antes, excluir todos os arquivos que nela se encontram.

Questão 15

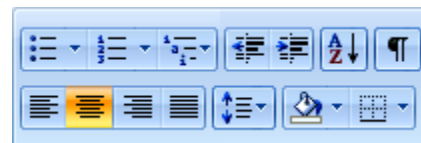
Para imprimir as páginas 25, 26, 27, 28 e 29 de um documento de 93 páginas, aberto no Word,

- A) é necessário abrir a caixa de diálogo de impressão uma vez para cada página, pois não é possível imprimi-las em uma única operação.
- B) é necessário gravar um novo documento contendo apenas as páginas desejadas, pois o Word só permite imprimir o documento inteiro.
- C) deve-se abrir a caixa de diálogo **Layout de impressão** e selecionar as páginas que se deseja imprimir na caixa **Páginas a imprimir**.
- D) deve ser aberta a caixa de diálogo **Imprimir** e preencher 25-29 em **Páginas**, que encontra-se em **Intervalo de páginas**.
- E) devem ser selecionadas as páginas a serem impressas em **Páginas** da guia **Impressão** da caixa de diálogo **Opções**.

Questão 16

O conjunto de ícones ao lado, pertencente à interface do Word, refere-se a

- A) Tabelas.
- B) Fonte.
- C) Configurar Página.
- D) Parágrafo.
- E) Notas de Rodapé



Questão 17

Analise a planilha Excel abaixo.

	A	B	C	D	E	F
1		PegPag	Merkadu	Basicão	Sacolão	Média
2	Açúcar cristal	2,49	2,39	2,15	2,25	
3	Óleo de soja	3,90	4,20	3,99	3,95	
4	Farinha de trigo	1,20	1,25	1,10	1,10	
5	Arroz tipo 1	8,99	10,52	9,90	9,99	
6	Total					

As fórmulas a serem digitadas nas células **F2** e **B6** para fornecer, respectivamente, a média e o total são

- A) $= (B2+C2+D2+E2) / 4$ e $=SOMA (B2 : B5)$
- B) $=MÉDIA (B2 . . . E2)$ e $=B2+B3+B4+B5$
- C) $=MÉDIA (B2 -- E2)$ e $=SOMA (B2 -- E5)$
- D) $=MÉDIA (B2 ; E2)$ e $=B2+B3+B4+B5$
- E) $=SOMA (B2 : E2) / 4$ e $=SOMA (B2 ; E5)$

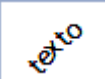
Questão 18


O *Bloqueador de Pop-ups* do navegador Internet Explorer 7, encontrado no menu **Ferramentas**, impede que

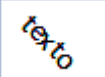
- A) sejam gravados pequenos arquivos no computador com informações do usuário.
- B) essa categoria de vírus seja gravada na raiz do disco rígido do computador.
- C) uma segunda janela seja aberta automaticamente quando uma primeira é aberta.
- D) uma lista de *sites* pré-definida por país de uma criança, por exemplo, possa ser acessada.
- E) a lista dos *sites* por onde recentemente se navegou seja registrada no *Histórico*.

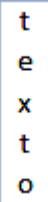
Questão 19


Assinale a alternativa que apresenta texto, numa célula de planilha do Excel, cuja formatação de alinhamento **NÃO** pode ser obtida.

A) 

B) 

C) 

D) 

E) 

Questão 20

Um usuário, no Internet Explorer 7, observa que a URL, na barra de *status*, começa com *mailto:* quando passa a seta do *mouse* sobre um *link*. Ao dar um clique sobre tal *link*,

- A) o programa padrão de *e-mail* será aberto.
- B) o endereço será salvo nos *Favoritos* do navegador.
- C) uma nova guia do navegador será aberta.
- D) a página atual será enviada para a impressora.
- E) aparecerá uma mensagem de *e-mail* do autor do *site*.

CONHECIMENTOS ESPECÍFICOS

Questão 21

Em relação ao uso e manejo do solo, analise as seguintes afirmativas.

- I - O manejo do solo consiste num conjunto de operações realizadas com objetivos de propiciar condições favoráveis à semeadura, ao desenvolvimento e à produção das plantas cultivadas, por um curto período de tempo.
- II - A rotação de culturas, devido à diversificação do cultivo de espécies vegetais, intensifica os problemas fitossanitários nas espécies destinadas à produção de grãos.
- III - O “Sistema Plantio Direto” é um sistema de produção conservacionista, que se contrapõe ao convencional de manejo, envolvendo técnicas de produção que preservam a qualidade ambiental.
- IV - As áreas de solos de textura arenosa são preferenciais para cultivo de espécies de ciclo anual devido apresentarem baixa capacidade de troca de cátions.
- V - Em áreas de cultivo de espécies perenes, recomenda-se que a coleta de amostras de solo para fins de análise seja realizada logo após a colheita.

Estão corretas as afirmativas

- A) I, II, III, IV e V.
- B) III e V, apenas.
- C) I, III e V, apenas.
- D) II e IV, apenas.
- E) I e IV, apenas.

Questão 22

São leguminosas indicadas para adubação verde:

- A) Crotalária, milho, feijão de porco e mamona.
- B) Crotalária, feijão de porco, mucuna preta e guandu.
- C) Mucuna preta, feijão lab-lab, sorgo e aveia preta.
- D) Feijão de porco, mamona, aveia preta e crotalária.
- E) Guandu, mucuna preta, nabo forrageiro e milho.

Questão 23

A adubação em cobertura com nitrogênio na cultura do milho, no caso de uma única aplicação, deve ser realizada quando as plantas estiverem em que fase de desenvolvimento?

- A) Entre os estádios R1 e R2.
- B) Entre os estádios V4 e V6.
- C) Entre os estádios R4 e R6.
- D) Entre os estádios VE e V1.
- E) Entre os estádios V10 e V12.

Questão 24

Entre os elementos minerais essenciais para uma planta são considerados macronutrientes e micronutrientes, respectivamente:

- A) N, Ca, Mn e P, Mo, Fe
- B) P, K, Fe e Ca, Mg, B
- C) P, Ca, Mg e B, Cu, Zn
- D) Mo, P, Mg e Cu, N, Fe
- E) N, P, B e Mn, Mo, S

Questão 25

São culturas cujas lavouras comerciais são implantadas por propagação vegetativa:

- A) Cana de açúcar, mandioca, batata e banana.
- B) Cana de açúcar, feijão, cacau e mandioca.
- C) Mandioca, soja, cana de açúcar e batata.
- D) Mandioca, cana de açúcar, milho e batata.
- E) Mandioca, banana, cana de açúcar e algodão.

Questão 26

A coluna da esquerda apresenta culturas e a da direita, doenças a elas relacionadas. Numere a coluna da direita de acordo com a da esquerda.

- | | |
|-------------|---|
| 1 – Milho | () Brusone (<i>Magnaporthe oryzae</i>) |
| 2 – Arroz | () Ferrugem (<i>Phakopsora pachyrhizi</i>) |
| 3 – Algodão | () Helminthosporiose (<i>Exserohilum turcicum</i>) |
| 4 – Feijão | () Ramularia (<i>Ramularia areola</i>) |
| 5 – Soja | () Antracnose (<i>Colletotrichum lindemuthianum</i>) |

Assinale a sequência correta.

- A) 2, 5, 3, 1, 4
- B) 5, 3, 2, 4, 1
- C) 5, 4, 3, 2, 1
- D) 3, 2, 4, 1, 5
- E) 2, 5, 1, 3, 4

Questão 27

A coluna da esquerda apresenta culturas e a da direita, pragas a elas relacionadas. Numere a coluna da direita de acordo com a da esquerda.

- | | | |
|--------------|-----|---|
| 1 – Feijão | () | Mandarová (<i>Erinnyis ello</i>) |
| 2 – Arroz | () | Curuquerê (<i>Alabama argilaceae</i>) |
| 3 – Mandioca | () | Lagarta das folhas (<i>Anticarsia gemmatalis</i>) |
| 4 – Soja | () | Percevejo (<i>Tibraca limbativentris</i>) |
| 5 – Algodão | () | Mosca minadora (<i>Liriomezza</i> spp.) |

Assinale a sequência correta.

- A) 3, 5, 2, 1, 4
- B) 5, 2, 4, 2, 1
- C) 4, 3, 2, 1, 5
- D) 3, 5, 4, 2, 1
- E) 1, 2, 3, 4, 5

Questão 28

Entre as cultivares de arroz, algodão e feijão para cultivo em Mato Grosso são indicadas:

- A) Arroz – Primavera e Rudá
Algodão – Pioneer 3021 e ITA 90
Feijão – BRS Pérola e Cambará
- B) Arroz – Carioca e Cambará
Algodão – ITA 90 e BRS Pérola
Feijão – Cirad 141 e ITA 92
- C) Arroz – Primavera e Cambará
Algodão – FMT 701 e FiberMax 993
Feijão – BRS Requite e Diamante Negro
- D) Arroz – Primavera e BRS Requite
Algodão – Cirad 141 e FiberMax 993
Feijão – Carioca e FMT 701
- E) Arroz – Cirad 141 e Diamante Negro
Algodão – Rudá e ITA 91
Feijão – Conquista e BRS Pérola

Questão 29

Os rótulos dos produtos fitossanitários trazem uma faixa que indica a classificação toxicológica de cada formulação. Assinale a alternativa que apresenta correta correlação entre classe, cor da faixa e classificação toxicológica.

- A) Classe II – Faixa amarela – altamente tóxico
Classe IV – Faixa verde – pouco tóxico
- B) Classe I – Faixa vermelha – extremamente tóxico
Classe II – Faixa azul – pouco tóxico
- C) Classe II – Faixa verde – mediamente tóxico
Classe III – Faixa amarela – pouco tóxico
- D) Classe I – Faixa azul – altamente tóxico
Classe III – Faixa amarela – extremamente tóxico
- E) Classe III – Faixa azul – mediamente tóxico
Classe IV – Faixa vermelha – altamente tóxico

Questão 30

Sobre a operação de colheita de soja, é correto afirmar:

- A) O teor de umidade de grãos entre 18 e 20% é o adequado para reduzir problemas de danos mecânicos e perdas na colheita de soja.
- B) Para reduzir perdas durante a colheita de soja, a velocidade de deslocamento da colhedora deve ser de 8 a 10 km/hora.
- C) A perda tolerável que pode ocorrer durante a colheita de soja é de três sacas de 60kg/ha.
- D) O teor de umidade de grãos entre 20 e 22% é o adequado para reduzir problemas de danos mecânicos e perdas na colheita de soja.
- E) Para reduzir perdas durante a colheita de soja, a velocidade de deslocamento da colhedora deve ser de 4 a 6km/hora.

Questão 31

A coluna da esquerda refere-se às matrizes e a da direita, à duração média da gestação em dias. Numere a coluna da direita de acordo com a da esquerda.

- | | |
|------------|--------------|
| 1 – Vaca | () 280 dias |
| 2 – Porca | () 150 dias |
| 3 – Cabra | () 114 dias |
| 4 – Coelha | () 30 dias |

Marque a sequência correta.

- A) 2, 1, 4, 3
- B) 1, 2, 3, 4
- C) 3, 1, 2, 4
- D) 1, 2, 4, 3
- E) 1, 3, 2, 4

Questão 32

Sobre exigências nutricionais dos leitões de 5 a 90kg de peso vivo, assinale a alternativa que apresenta a faixa de peso em que ocorre maior exigência em proteína bruta.

- A) 30 a 60kg
- B) 60 a 90kg
- C) 5 a 15kg
- D) 15 a 30kg
- E) 30 a 90kg

Questão 33

Sobre as raças de bovinos, assinale a alternativa que apresenta unicamente raças zebuínas.

- A) Gir, Guzerá, Nelore.
- B) Simental, Brahman, Gir.
- C) Nelore, Caracu, Guzerá.
- D) Red Angus, Brahman, Nelore.
- E) Simental, Red Angus, Caracu.

Questão 34

São alimentos concentrados proteicos:

- A) Farelo de soja, farelo de algodão, farelo de girassol.
- B) Farelo de arroz, farelo de mamona, farelo de soja.
- C) Farelo de amendoim, farelo de trigo, farelo de algodão.
- D) Farelo de linhaça, farelo de girassol, farelo de mandioca.
- E) Farelo de mamona, milho desintegrado com palha e sabugo, farelo de amendoim.

Questão 35

A coluna da esquerda apresenta raças de ovinos e a da direita, sua função zootécnica. Numere a coluna da direita de acordo com a da esquerda.

- | | | |
|------------------------|-----|-------|
| 1 – Lacaune | () | Lã |
| 2 – Suffolk | () | Carne |
| 3 – Merino Australiano | () | Leite |

Marque a sequência correta.

- A) 3, 1, 2
- B) 3, 2, 1
- C) 1, 2, 3
- D) 1, 3, 2
- E) 2, 3, 1

Questão 36

Assinale a alternativa que apresenta unicamente doenças de bovinos causadas por bactérias.

- A) Febre aftosa, brucelose, carbúnculo sintomático.
- B) Paratifo, botulismo, raiva.
- C) Brucelose, carbúnculo sintomático, botulismo.
- D) Leptospirose, febre aftosa, tuberculose.
- E) Mastite, babesiose, raiva.

Questão 37

Sobre o manejo de leitões imediatamente após o parto, analise as afirmativas.

- I - Fornecer ração concentrada aos leitões.
- II - Colocar os leitões para mamar o colostro.
- III - Cortar os dentes dos leitões.
- IV - Castrar os leitões machos.

Estão corretas as afirmativas

- A) I e III, apenas.
- B) II e IV, apenas.
- C) I, II, III e IV.
- D) II e III, apenas.
- E) II, III e IV, apenas.

Questão 38

Sobre o aparelho digestivo das aves, marque V para as afirmativas verdadeiras e F para as falsas.

- () No proventrículo ou estômago verdadeiro são segregados os sucos digestivos: pepsina e ácido clorídrico.
- () O papo é uma dilatação do esôfago.
- () Através de contrações e expansões, a moela transforma qualquer partícula de alimento em uma pasta semi-líquida.

Assinale a sequência correta.

- A) V, V, F
- B) V, F, V
- C) F, V, F
- D) V, V, V
- E) F, F, V

Questão 39

Sobre gramíneas forrageiras, assinale a alternativa que apresenta unicamente cultivares do gênero *Brachiaria*.

- A) Tanzânia e Xaraés
- B) Piatã e Mombaça
- C) Marandu e Massai
- D) Tanzânia e Tobiata
- E) Marandu e Xaraés

Questão 40

Assinale a alternativa que apresenta unicamente ruminantes.

- A) Bovinos e suínos
- B) Coelhos e ovinos
- C) Bovinos e coelhos
- D) Ovinos e caprinos
- E) Caprinos e suínos