

Entre os mitos do amor – não provados porém muito acreditados – encontra-se o da beleza.

Diz-se que a paixão pede a beleza para crescer e nosso querido poeta Vinícius de Moraes chegou ao extremo de afirmar: “*As feias que me perdoem, mas beleza é fundamental*”. Já na descrição homérica da guerra de Tróia, atribuía-se o conflito à beleza de Helena, reforçando a crença no poder da estética e em sua importância para florescimento do amor.

No entanto, as coisas não se passam bem assim na realidade. Se a beleza fosse imprescindível para o amor, onde ficariam todos os feios e as feias que conhecemos, provavelmente a maior parte da população? Eles precisariam perguntar ao poeta para que seria a beleza fundamental. Como a beleza é menos freqüente do que a feiúra, podemos presumir que a maioria formada pelos feios dê valor à qualidade que lhes é ausente e, por essa razão, haveria uma ponderável parcela de pessoas valorizando, até excessivamente, a beleza como qualidade importante na busca de um parceiro. Para confirmar essa hipótese, podemos tomar o exemplo do próprio Vinícius de Moraes, que certamente já não primava pela beleza na época em que criou a famosa frase.

Freqüentemente, vemos casais que nos chamam a atenção exatamente por serem singularmente díspares, pois, enquanto um é muito bonito, o outro é bem o contrário. É provável que isso se deva a um fenômeno bastante comum – a atração dos opostos. Tanto quanto uma pessoa feia pode valorizar a beleza como qualidade que busca em seu parceiro, a pessoa bonita pode se desinteressar por uma qualidade que, para ela, não passa de um dom natural, em geral escassamente apreciado por não ser fruto de um especial esforço, por não ser uma conquista, mas algo recebido, por assim dizer, de mão beijada.

Na verdade, se pensarmos friamente, a beleza – como característica desejada no parceiro que buscamos – deve vir numa posição não muito destacada, visto que existem muitas outras qualidades que são de fato mais fundamentais quando procuramos nosso companheiro de viagem pela vida. Honestidade, inteligência, capacidade de amar, diligência, generosidade, bondade, disciplina pessoal e saúde são algumas das qualidades que valorizam uma pessoa mais que simplesmente sua formosura. Daí a sabedoria popular afirmar que “*beleza não põe mesa*”.

Não resta a menor dúvida de que a beleza abre portas, facilita um primeiro contato, cria uma impressão favorável e uma predisposição positiva nas pessoas. Até porque ela tende a ser vista como a expressão externa de algo interno, ou seja, mostra-se como uma prévia de qualidades a serem percebidas posteriormente. Tendemos a acreditar que uma pessoa é boa e inteligente simplesmente porque é bela. Isso, porém, pode se tornar uma faca de dois gumes na medida em que se passa a esperar um melhor desempenho e um maior leque de qualidades em uma pessoa, apenas pelo fato de ela ser bonita.

É muito comum encontrarmos entre as mulheres – como corolário do mito da beleza fundamental – um outro mito: o da capa de revista. Muitas mulheres tendem a ficar inseguras quando disputam um namorado com outra que consideram mais bonita ou quando percebem seu homem manifestar interesse por uma mulher do tipo “*capa de revista*”. Na imaginação, acolhem a idéia de que os homens tenderiam a procurar mulheres especialmente bonitas para serem suas parceiras, o que viria a se encaixar com a idéia de que a beleza seria mesmo a qualidade mais valorizada por eles. Podem até existir aqueles que colocam a beleza em primeiro lugar, mas é muito provável que sejam minoria. A maior parte dos homens está em busca de mulheres com outras qualidades consideradas mais fundamentais.

A qualidade de fato mais importante está na capacidade de cada indivíduo tirar partido dos aspectos positivos de sua aparência. Com isso, cada um de nós mostra que, mais fundamental do que ser bonito, é revelar uma atitude de amor, carinho e cuidado consigo mesmo. Isso pode ser percebido por sinais exteriores que, por serem realmente mais valiosos do que a beleza natural, acabam se confundindo com ela. O que acontece, muitas vezes, é que uma pessoa se torna atraente e nos parece bonita devido somente às suas outras qualidades.

(Luiz Alberto Py. Caras, 2/3/1995)

01) De acordo com o texto, qual ponto-de-vista o autor procura defender?

- A) A beleza não é valorizada socialmente como deveria ser.
- B) A beleza física não existe; ela é relativa e depende das outras qualidades que temos.
- C) A beleza física não é o mais importante para a felicidade amorosa, apesar de ser muito valorizada socialmente.
- D) Além da beleza física, outros valores devem ter menor importância do que têm recebido socialmente.
- E) Há uma predisposição negativa por parte das pessoas para com os que são bonitos.

02) Assinale a alternativa correspondente ao tema em torno do qual se organiza o discurso apresentado no texto:

- A) Beleza é fundamental.
- B) Os bonitos são os amantes mais bem sucedidos.
- C) O amor é vedado aos feios.
- D) Beleza não se põe na mesa.
- E) A atração dos opostos.

03) De acordo com o texto “A beleza não é um atributo fundamental” é INCORRETO afirmar que o autor:

- A) Desenvolve seu ponto-de-vista com certo distanciamento.
- B) Procura convencer o leitor com exemplos e situações mais ou menos conhecidos de todos.
- C) Evita dar opiniões puramente pessoais ou fazer julgamentos explícitos.
- D) O autor assume uma posição sobre os valores que julga superiores ou inferiores.
- E) Apresenta dados científicos para comprovar seu ponto-de-vista.

04) Observando-se o tipo de composição do texto, conclui-se que é:

- A) Dissertativo, com elementos narrativos e descritivos.
- B) Narrativo, com elementos descritivos e dissertativos.
- C) Descritivo, com exclusão de argumentos.
- D) Narrativo, com exclusão de descrições.
- E) Dissertativo, com inclusão de argumentos.

CONCURSO PÚBLICO – CESAN/COMPANHIA ESPÍRITO SANTENSE DE SANEAMENTO

- 05) “Na imaginação, acolhem a idéia de que os homens tenderiam a procurar mulheres especialmente bonitas para serem suas parceiras...”. Qual a justificativa para o uso da vírgula nesta frase?
- A) Designar um elemento intercalado. D) Dar destaque ao personagem.
B) Sublinhar uma opinião. E) Separar o elemento antecipado.
C) Indicar a existência de um aposto.
- 06) Qual o valor semântico do elemento “no entanto”, que estabelece ligação do segundo parágrafo em relação ao primeiro?
- A) Concessão. B) Condição. C) Exclusão. D) Oposição. E) Afirmção.
- 07) “Já na descrição homérica da Guerra de Tróia, atribuía-se o conflito à beleza de Helena”. Em que item a seguir conserva-se, de forma adequada, o mesmo significado da frase anterior?
- A) Já na descrição homérica da Guerra de Tróia, o conflito era atribuído à beleza de Helena.
B) Já na descrição homérica da Guerra de Tróia, o conflito vai ser atribuído à beleza de Helena.
C) Já na descrição homérica da Guerra de Tróia, o conflito foi atribuído à beleza de Helena.
D) Já na descrição homérica da Guerra de Tróia, o conflito será atribuído à beleza de Helena.
E) Já na descrição homérica da Guerra de Tróia, o conflito seria atribuído à beleza de Helena.
- 08) Em “... podemos presumir que a maioria formada pelos feios dê valor à qualidade que lhes é ausente...” o acento indicador da crase foi usado de forma correta. Assinale a alternativa em que o mesmo NÃO ocorre:
- A) Ela encontra-se à beira do abismo. D) Foram à casa de César mais tarde.
B) Saíram às 14 horas. E) Conversavam à portas fechadas.
C) Pediu à senhora que se retirasse do ambiente.
- 09) O terceiro parágrafo do texto é introduzido pelo segmento “Freqüentemente, vemos casais que nos chamam a atenção exatamente...”. Tal segmento indica:
- A) Uma indicação de tempo. D) Uma conseqüência do primeiro parágrafo.
B) Uma oposição de local e tempo. E) Uma indicação de lugar.
C) Uma indicação de causa dos fatos relatados.
- 10) Em “Na verdade, se pensarmos friamente, a beleza...” o pronome se é:
- A) Pronome apassivador. D) Conjunção condicional.
B) Pronome reflexivo. E) Conjunção subordinativa.
C) Partícula apassivadora.
- 11) “Já na descrição homérica da Guerra de Tróia...”. Qual o processo de formação da palavra sublinhada anteriormente?
- A) Derivação prefixal. D) Derivação parassintética.
B) Composição por justaposição. E) Derivação regressiva.
C) Composição por aglutinação.
- 12) Em “Entre os mitos do amor – não provados porém muito acreditados – encontra-se o da beleza.”, beleza é uma palavra escrita com Z. Qual dos itens a seguir apresenta ERRO ortográfico devido à confusão entre Z e S?
- A) Insensatez. B) Franceza. C) Quiser. D) Dengoso. E) Maisena.
- 13) Em “A maior parte dos homens está em busca de mulheres...”, a palavra sublinhada anteriormente é masculina. Assinale o vocábulo feminino entre os relacionados abaixo:
- A) Eclipse. B) Formicida. C) Apendicite. D) Dó. E) Atributo.
- 14) De acordo com redação de correspondências oficiais, sobre o memorando, é INCORRETO afirmar que:
- A) Se destina a fazer comunicações e solicitações ligeiras.
B) Complementa uma correspondência anterior.
C) É uma participação por escrito.
D) Destina-se a expedir comunicações internas referentes ao serviço.
E) É um impresso comercial, de formato menor.
- 15) “Como a beleza é menos freqüente do que a feiúra...”, a palavra “feiúra” leva acento porque:
- A) É proparoxítona. D) Apresenta ditongo aberto.
B) É paroxítona com hiato. E) É paroxítona terminada em a.
C) O i é tônico como segunda vogal de hiato.

MATEMÁTICA

- 16) Renata tem uma jarra que, vazia, pesa 530 gramas. Se ela colocar dois copos de água nessa jarra, o peso sobe para 810 gramas. Quantos copos de água Renata deve colocar nessa jarra para que o peso da jarra com a água fique com 1.650 gramas?
- A) 4 B) 5 C) 7 D) 8 E) 10
- 17) Uma indústria de fósforos produz caixas com 40 palitos. Sabe-se que a produção diária é de 64.256 palitos. Quantas caixas serão preenchidas em 5 dias?
- A) 166 B) 832 C) 1.606 D) 4.820 E) 8.032
- 18) Se Marcelo joga futebol nos dias ímpares e pratica natação em todos os dias múltiplos de 7, em quantos dias do mês de abril ele pratica os dois esportes?
- A) 1 B) 2 C) 3 D) 4 E) 5

CONCURSO PÚBLICO – CESAN/COMPANHIA ESPÍRITO SANTENSE DE SANEAMENTO

19) Para chegar a uma determinada cidade, existem dois caminhos diferentes: pela serra ou pelo litoral. Os ônibus que fazem o percurso pela serra partem de 20 em 20 minutos e os que fazem o percurso pelo litoral partem de 90 em 90 minutos. Se às 10 horas eles partiram simultaneamente, a que horas ocorrerão novamente partidas simultâneas dessas duas linhas de ônibus?

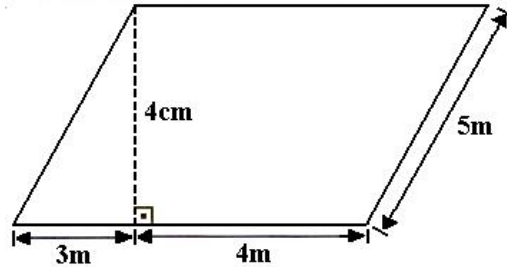
- A) 3 horas. B) 11 horas. C) 13 horas. D) 18 horas. E) 20 horas.

20) Quantas páginas têm o livro que Letícia está lendo, sabendo-se que ela leu $\frac{1}{4}$ do livro anteontem, $\frac{1}{3}$ ontem, e ainda, faltam 35 páginas a serem lidas?

- A) 60 B) 74 C) 84 D) 96 E) 115

21) Calcule a área da figura ao lado:

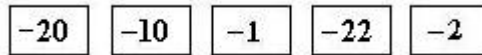
- A) 20cm^2
B) 140m^2
C) 35m^2
D) 28m^2
E) 12m^2



22) Uma piscina tem 20m de comprimento, 10m de largura e 3m de profundidade. Quantos litros de água são necessários para encher totalmente essa piscina?

- A) 600 litros. B) 6.000 litros. C) 60.000 litros. D) 600.000 litros. E) 6.000.000 litros.

23) Observe os números abaixo:



Somando o menor número com o oposto do maior obtém-se:

- A) 20 B) 21 C) 24 D) -21 E) -44

24) Um navio foi abastecido com comida suficiente para alimentar 18 pessoas durante 35 dias. Se numa viagem embarcaram 15 pessoas, para quantos dias, no máximo, as reservas de alimentos serão suficientes?

- A) 17 B) 23 C) 32 D) 42 E) 45

25) Sérgio fez um empréstimo de R\$ 4.000,00 há 2 anos, em um banco, à taxa de 12% ao ano. Hoje, ele está devolvendo o dinheiro mais o juros cobrado. Qual é o valor que Sérgio está devolvendo ao banco?

- A) R\$480,00 B) R\$960,00 C) R\$3.040,00 D) R\$4.960,00 E) R\$6.490,00

26) As idades de Ana e Júlia são números consecutivos cujo produto deles é 30. Se Ana é a mais nova, qual é a idade de Júlia?

- A) 4 anos. B) 5 anos. C) 6 anos. D) 7 anos. E) 8 anos.

27) A diferença entre a maior e a menor das raízes da equação $x^2 + 4x + 3 = 0$ é igual a:

- A) 2 B) -2 C) 4 D) -4 E) -5

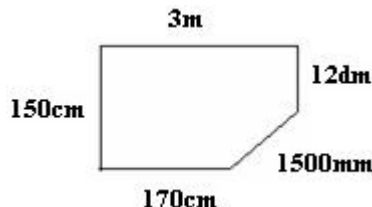
28) Simplificando a expressão: $\frac{x^2 - 1}{x^2 + 2x + 1}$ obtemos:

- A) $\frac{x-1}{x+1}$ B) $\frac{x+1}{x-1}$ C) $x-1$ D) $\frac{1}{2x}$ E) $\frac{1}{2x+1}$

29) A área de um triângulo isósceles é 48cm^2 e seu perímetro é 34cm. Sabendo que sua altura é 12cm, quanto mede cada lado congruente?

- A) 2cm B) 13cm C) 8cm D) 19cm E) 18cm

30) Pedro quer fazer uma cerca para colocar suas galinhas. A área do terreno que ele tem disponível possui a forma de um polígono com as seguintes medidas:



Quantos metros terá a cerca que Pedro pretende executar?

- A) 0,89m B) 8,9m C) 18,35m D) 1.835m E) 7.820m

CONHECIMENTOS GERAIS

31) Nos últimos meses, o Brasil vem sendo surpreendido por um fenômeno natural pouco comum em seu território: os terremotos. Sobre esse tema NÃO é correto afirmar que:

- A) Com epicentro no Oceano Atlântico a 270 km do litoral, o terremoto sentido em várias cidades em final de abril, teria provocado estragos maiores se tivesse ocorrido mais próximo da costa.

CONCURSO PÚBLICO – CESAN/COMPANHIA ESPÍRITO SANTENSE DE SANEAMENTO

- B) O terremoto ocorrido em abril foi sentido em cidades de quatro estados: São Paulo, Rio de Janeiro, Paraná e Santa Catarina.
- C) No norte de Minas, na comunidade rural de Caraibas o terremoto mais forte já registrado no Brasil, provocou várias mortes principalmente de crianças e idosos.
- D) O terremoto oceânico ocorrido em abril no litoral brasileiro foi considerado moderado atingindo pouco mais de cinco graus na escala Richter.
- E) O epicentro do terremoto registrado no final de 2007, em Minas Gerais, ocorreu na cidade de Itacarambi, norte do estado.
- 32) Apesar das chuvas torrenciais e das avenidas e rodovias intransitáveis, os soldados chineses se esforçam para localizar sobreviventes entre os edifícios reduzidos a escombros e reabrir estradas que levam ao epicentro e salvar moradores de zonas isoladas. Qual foi o grande desastre ocorrido na China (Sichuan, região mais afetada), em 12/05/2008?**
- A) Chuva torrencial. D) Furacão.
B) Terremoto. E) Tornado.
C) Ventos.
- 33) Ronaldo Luiz Nazário de Lima (Ronaldo Fenômeno) grande jogador brasileiro, foi capa de jornais italianos, espanhóis e brasileiros, no mês de abril passado, após se envolver em uma confusão com travestis em um motel na Barra da Tijuca/Rio de Janeiro. A repercussão do caso teve repercussão internacional porque atualmente Ronaldo joga no:**
- A) Barcelona da Espanha. D) Inter de Milão da Itália.
B) Milan da Itália. E) Lyon da França.
C) Real Madri da Espanha.
- 34) Um conflito pela posse da terra no Norte do Brasil vem envolvendo não só os interessados diretos – índios e produtores de arroz – mas governador de estado, polícia federal, judiciário, entre muitos outros. Trata-se de uma reserva indígena, localizada em Roraima e que atende pelo nome de:**
- A) Parque Nacional do Xingu. D) Terras de Kaxicó.
B) Recanto Guarani. E) Parque Nacional do Divisor.
C) Raposa Serra do Sol.
- 35) No dia 29 de setembro de 1908, o Brasil perdeu um dos mais expressivos nomes da literatura brasileira de todos os tempos. Com romances memoráveis, como “Dom Casmurro”, “Esaú e Jacó”, Memórias Póstumas de Brás Cubas”, entre outros, Joaquim Maria Machado de Assis, também foi cronista, contista, dramaturgo, jornalista, poeta, novelista, crítico e ensaísta. Sobre esse grande escritor é correto afirmar que, EXCETO:**
- A) Como poeta, publicou seu primeiro livro de poesias sob o título de “Crisálidas”.
B) Seu livro “Memórias Póstumas de Brás Cubas” foi considerado, juntamente com “O Mulato” de Aluísio de Azevedo, o marco do realismo na literatura brasileira.
C) Embora não tenha sido membro desta, em sua homenagem, a Academia Brasileira de Letras é chamada hoje de “Casa de Machado de Assis”, devido sua grande importância para a literatura brasileira.
D) Embora tenha contraído núpcias com Carolina Augusta Xavier de Novaes não teve filhos, portanto, não deixou descendentes.
E) Faleceu no Rio de Janeiro, já reconhecido como grande escritor e teve sua oração fúnebre proferida por Rui Barbosa.
- 36) Geograficamente, um dos maiores países do mundo, a China, possui a maior população do planeta que se distribui por suas províncias, regiões autônomas, municípios e regiões administrativas especiais. Tratam-se de regiões autônomas da China:**
- A) Tibete e Mongólia. D) Hong Kong e Macau.
B) Guam e Taiwan. E) N.R.A.
C) Nepal e Indochina.
- 37) Segundo o relatório do Instituto de Pesquisas Econômicas Aplicadas (Ipea), 80 mil crianças e adolescentes vivem em abrigos no Brasil e cerca de 8 mil delas (10%) estão aptas para adoção. Sobre esse procedimento em nosso país, NÃO é correto afirmar que:**
- A) Podem adotar adultos com mais de 21 anos, independentemente do estado civil podendo ser solteiro, casado, divorciado, ou viver em concubinato.
B) Uma pessoa que seja pelo menos 16 anos mais velha que a criança a quem se pretende adotar a princípio, encontra-se apta a participar deste procedimento.
C) O processo de adoção é padronizado no Brasil por isso, os homossexuais de acordo com o novo Código Civil, já podem adotar crianças menores de 18 anos.
D) Avós ou irmãos fazem pedido de guarda ou tutela e não de adoção.
E) Um casal para adotar uma criança deverá apresentar, ambos, o interesse na adoção.
- 38) A tradicional respiração boca-a-boca feita durante os primeiros socorros de uma parada cardíaca não é mais aconselhada, segundo novos estudos publicados em dois, dos mais renomados periódicos de cardiologia internacional (“Circulation” e “Resuscitation”). As novas orientações foram repassadas aos cardiologistas brasileiros durante o congresso da SOCESP (Sociedade de Cardiologia do Estado de São Paulo) pelo médico Sérgio**

CONCURSO PÚBLICO – CESAN/COMPANHIA ESPÍRITO SANTENSE DE SANEAMENTO

Timerman, diretor-científico do comitê de emergência da Fundação Interamericana do Coração e divulgada nos mais importantes veículos de comunicação do Brasil. Portanto, a ação mais recomendada segundo esses estudos, é:

- A) Compressões torácicas ritmadas, de forma ininterrupta, por até oito minutos.
- B) Imobilização e transporte ágil da vítima ao centro médico mais próximo.
- C) Massagens abdominais circulares da cintura ao tórax.
- D) Bolsas de gelo na região torácica e na testa, a fim de diminuir a circulação arterial.
- E) N.R.A.

39) Após o cancelamento de cursos de direitos em várias organizações de ensino superior, o MEC (Ministério da Educação), deu início à avaliação de cursos de medicina que alcançaram má avaliação no Enade (Exame Nacional de Desempenho dos Estudantes) e no IDD (Indicador de Diferença entre os Desempenhos Observado e Esperado). Das dezessete instituições supervisionadas, quatro são federais com nomes dos respectivos estados localizados nas regiões:

- A) Sudeste e Norte.
- B) Nordeste e Sul.
- C) Centro-Oeste e Norte.
- D) Centro-Oeste e Nordeste.
- E) Norte e Nordeste.

40) A revista norte-americana “Times” lançou com grande projeção internacional no primeiro semestre deste ano, uma lista com as cem personalidades mais influentes do mundo, na qual pode-se encontrar, EXCETO:

- A) Papa Bento XVI.
- B) Dalai-lama.
- C) Barack Obama.
- D) Hilary Clinton.
- E) John McCain.