



CONCURSO PÚBLICO

INSTITUTO DE PREVIDÊNCIA DOS SERVIDORES PÚBLICOS DO MUNICÍPIO DE RESENDE/RJ – RESENPREVI

EDITAL DE CONCURSO PÚBLICO Nº. 001/2010

INSTRUÇÕES

01 - Material a ser utilizado: caneta esferográfica azul ou preta. Os objetos restantes devem ser colocados em local indicado pelo fiscal da sala, inclusive aparelho celular desligado e devidamente identificado com etiqueta.

02 - Não é permitido consulta, utilização de livros, códigos, dicionários, apontamentos, apostilas, calculadoras e etc. Não é permitido ao candidato ingressar na sala de provas sem a respectiva identificação e o devido recolhimento de telefone celular, bip e outros aparelhos eletrônicos.

03 - Durante a prova, o candidato não deve levantar-se, comunicar-se com outros candidatos e nem fumar.

04 - A duração da prova é de 03 (três) horas, já incluindo o tempo destinado à entrega do Caderno de Provas e à identificação – que será feita no decorrer da prova – e ao preenchimento da Folha de Respostas (Gabarito).

05 - Somente em caso de urgência pedir ao fiscal para ir ao sanitário, devendo no percurso permanecer absolutamente calado, podendo antes e depois da entrada sofrer revista através de detector de metais. Ao sair da sala no término da prova, o candidato não poderá utilizar o sanitário. Caso ocorra uma emergência, o fiscal deverá ser comunicado.

06 - O Caderno de Provas consta de 40 (quarenta) questões de múltipla escolha. Leia-o atentamente.

07 - As questões das provas objetivas são do tipo múltipla escolha, com 05 (cinco) opções (A a E) e uma única resposta correta.

08 - Ao terminar a conferência do Caderno de Provas, caso o mesmo esteja incompleto ou tenha qualquer imperfeição, o candidato deverá solicitar ao fiscal de sala que o substitua, não cabendo reclamações posteriores neste sentido.

09 - Os fiscais não estão autorizados a emitir opinião e prestar esclarecimentos sobre o conteúdo das provas. Cabe única e exclusivamente ao candidato interpretar e decidir.

10 - O candidato poderá retirar-se do local de realização das provas levando o Caderno de Provas, no decurso dos últimos 30 (trinta) minutos anteriores ao horário previsto para o seu término. O candidato poderá retirar-se do local de provas somente a partir dos 90 (noventa) minutos, após o início de sua realização, contudo não poderá levar consigo o Caderno de Provas.

11 - Os 3 (três) últimos candidatos de cada sala somente poderão sair juntos. Caso o candidato insista em sair do local de aplicação da prova, deverá assinar um termo desistindo do Concurso Público e, caso se negue, deverá ser lavrado o Termo de Ocorrência, testemunhado pelos 2 (dois) outros candidatos, pelo fiscal da sala e pelo coordenador da unidade escolar.

RESULTADOS E RECURSOS

- Os gabaritos oficiais preliminares das provas objetivas serão divulgados na Internet, no site www.consulplan.net, às 16h00min do dia subsequente ao da realização da prova escrita.

- Os recursos deverão ser apresentados, conforme determinado no item 8 do Edital de Concurso Público nº. 001/2010, sendo observados os seguintes aspectos:

a) O candidato que desejar interpor recursos contra os gabaritos oficiais preliminares das provas objetivas disporá de **48 (quarenta e oito) horas ininterruptas, iniciando-se às 16h00min do dia 14 de junho de 2010, encerrando-se às 16h00min do dia 16 de junho de 2010**, a partir da divulgação, em requerimento próprio disponibilizado no link correlato ao Concurso Público no site www.consulplan.net.

b) A interposição de recursos poderá ser feita **somente via Internet**, através do **Sistema Eletrônico de Interposição de Recursos**, com acesso pelo candidato ao fornecer os dados referentes à sua inscrição, apenas no prazo recursal, à **Consulplan**, conforme disposições contidas no site www.consulplan.net, no link correspondente ao Concurso Público.

TEXTO:

Os filhos do lixo

Há quem diga que dou esperança; há quem proteste que sou pessimista. Eu digo que os maiores otimistas são aqueles que, apesar do que vivem ou observam, continuam apostando na vida, trabalhando, cultivando afetos e tendo projetos. Às vezes, porém, escrevo com dor. Como hoje.

Acabo de assistir a uma reportagem sobre crianças do Brasil que vivem do lixo. Digamos que são o lixo deste país, e nós permitimos ou criamos isso. Eu mesma já vi com estes olhos gente morando junto de lixões, e crianças disputando com urubus pedaços de comida estragada para matar a fome.

(...)

Os diálogos foram mais ou menos assim, repito de memória, não gravei. Mas gravei a tristeza, a resignação, a imagem das crianças minúsculas e seminuas, contentes comendo lixo. Sentadas sobre o lixo. Uma cuidando do irmãozinho menor, que escalava a montanha de lixo. Criadas, como suas mães, acreditando que Deus queria isso.

Não sei como é possível alguém dizer que este país vai bem enquanto esses fatos, e outros semelhantes, acontecem. Pois, sendo na nossa pátria, não importa em que canto for, tudo nos diz respeito, como nos dizem respeito a malandragem e a roubalheira, a mentira e a impunidade e o falso ufanismo.

Mas, quem somos, afinal? Que país somos, que gente nos tornamos, se vemos tudo isso e continuamos comendo, bebendo, trabalhando e estudando como se nem fosse conosco? Deve ser o nosso jeito de sobreviver – não comendo lixo concreto, mas engolindo esse lixo moral e fingindo que está tudo bem. Pois, se nos convenceremos de que isso acontece no nosso meio, no nosso país, talvez na nossa cidade, e nos sentirmos parte disso, responsáveis por isso, o que se poderia fazer?

Deus não quer assim. Os deuses não inventaram a indiferença, a crueldade, o mal causado pelo homem.

(Fragmento / Lya Luft)

01) De acordo com o texto “*Os filhos do lixo*”, analise:

- I. A reportagem assistida pela autora trata-se das crianças do Brasil que vivem do lixo.
- II. Os fatos mencionados no texto, comprovam que o país vai bem.
- III. A autora escreveu o texto com pessimismo, protesto, dor e angústia.

Está(ão) correta(s) apenas a(s) afirmativa(s):

- A) II, III B) II C) I, II, III D) I, II E) I

02) O texto “*Os filhos do lixo*” retrata:

- A) Os otimistas que continuam apostando na vida.
- B) Que os deuses inventaram o mal causado pelo homem.
- C) A vida triste de crianças que vivem do lixo.
- D) O falso ufanismo vivido na política brasileira.
- E) A irresponsabilidade das mães que permitem que seus filhos disputem com urubus pedaços de comida estragada para matar a fome.

03) No trecho “*Criadas como suas mães, acreditando que Deus queria isso.*” a palavra destacada denota ideia de:

- A) Tempo. B) Causa. C) Condição. D) Conformidade. E) Finalidade.

04) Em “*Os deuses não inventaram a indiferença, a crueldade, o mal causado pelo homem.*” as vírgulas (,) foram utilizadas para:

- A) Marcar a omissão de uma palavra.
- B) Separar termos coordenados assindéticos.
- C) Marcar intercalações.
- D) Marcar uma interrupção da sequência lógica da frase.
- E) Isolar explicações.

05) Assinale a alternativa que apresenta ERRO no emprego do artigo:

- A) Discutia os assuntos os mais profundos. D) O pai tinha muito amor a ambos os filhos.
- B) Os diálogos foram mais ou menos assim. E) Os diálogos são tristes.
- C) Não quis responder a ambas as perguntas.

06) Assinale a afirmativa que apresenta a forma verbal adequada e correta:

- A) Há de existir sérios problemas. D) Confiam-se em pessoas honestas.
- B) Chegou as mães e o bebê. E) A maioria faltaram à aula.
- C) O responsável sou eu.

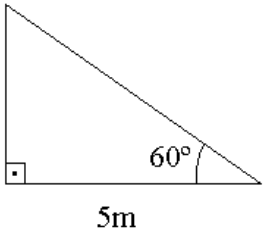
07) Assinale a afirmativa que apresenta ERRO:

- A) Este problema é análogo a outro. D) O pai era liberal aos filhos.
- B) Ela estava descontente com a situação. E) Estamos habituados a resolver os problemas.
- C) O cargo a que aspiramos é disputado por todos.



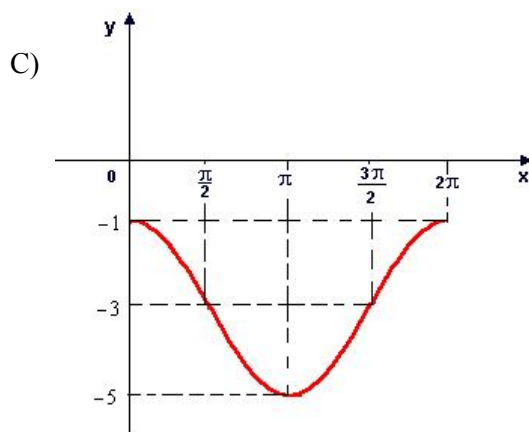
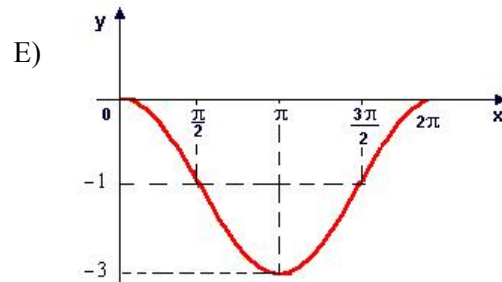
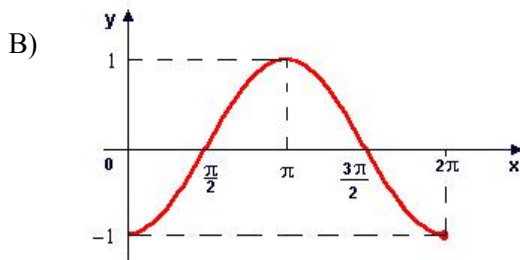
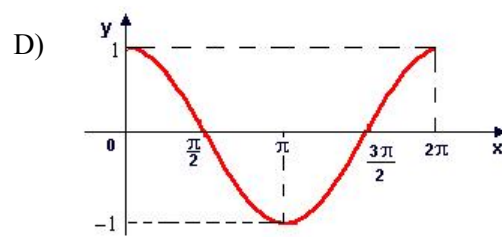
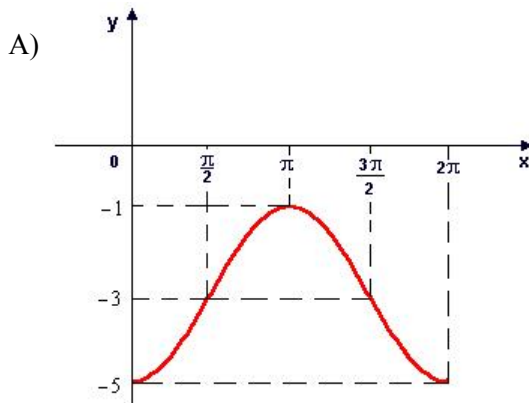
- 08) “Mas gravei a tristeza, a resignação, a imagem das crianças minúsculas e seminuas, contentes comendo lixo.” A palavra destacada no trecho anterior, possui como significado correto:
- A) Insinuação. D) Repentino, subitâneo.
 B) Injustiça. E) Dependência, obediência.
 C) Respeito.
- 09) Assinale a alternativa em que o uso da crase encontra-se INCORRETO:
- A) Não assisto à filme de aventura. D) Deram emprego àquela senhora.
 B) Ela agia às escondidas. E) Assistiam àquela novela.
 C) Vou à Itália.
- 10) Em “Deus não quer assim.” o ponto final (.) foi utilizado para:
- A) Denotar entoação explicativa. D) Indicar que parte de uma citação foi omitida.
 B) Marcar termos deslocados. E) Marcar a mudança de interlocutor nos diálogos.
 C) Indicar maior pausa.

MATEMÁTICA

- 11) Uma função quadrática apresenta vértice, cuja abscissa é igual a 2. Se o gráfico desta função intercepta o eixo $-y$ num ponto de ordenada 3 e sendo uma de suas raízes igual a 1, qual é o valor da outra raiz?
- A) -2 B) 4 C) -3 D) 2 E) 3
- 12) Em uma progressão aritmética, a soma do terceiro e do sétimo termo é igual a 324. Se o décimo primeiro termo é o triplo do quarto termo, assinale a soma dos três primeiros termos desta progressão:
- A) 146 B) 151 C) 175 D) 156 E) 162
- 13) Qual é a medida do perímetro do triângulo retângulo representado abaixo?
- A) $30 + 5\sqrt{3}$
 B) $20 + 3\sqrt{2}$
 C) $35 - 5\sqrt{3}$
 D) $25 + 5\sqrt{3}$
 E) $30 + 2\sqrt{3}$
- 
- 14) O gráfico de uma função $f(x) = ax + b$ passa pelos pontos de coordenadas $(2; -1)$ e $(-1; 2)$. A respeito dessa função, pode-se afirmar que:
- A) É uma função crescente.
 B) Seu gráfico intercepta o eixo $-x$ num ponto de abscissa negativa.
 C) Não apresenta pontos no 3º quadrante.
 D) Seu gráfico intercepta o eixo $-y$ num ponto de ordenada negativa.
 E) Seu gráfico passa pela origem dos sistemas cartesianos.
- 15) Simplificando a expressão $5\log_2 \log_5 \sqrt[4]{5} + \log_6 \log_4 2^{12} + \log_{100} \sqrt{0,1}$ obtém-se:
- A) $-\frac{37}{4}$ B) $-\frac{23}{5}$ C) $-\frac{34}{3}$ D) $-\frac{35}{6}$ E) $-\frac{27}{5}$
- 16) Sejam os conjuntos $M = \{x \in \mathbb{R} / -3 \leq x \leq 2\}$, $N = \{x \in \mathbb{R} / x > 1\}$ e $P = \{x \in \mathbb{R} / -5 \leq x < 4\}$. Então, o conjunto que representa $(P - N) \cap M$ é:
- A) $\{x \in \mathbb{R} / 1 < x < 2\}$ D) $\{x \in \mathbb{R} / -3 \leq x < 4\}$
 B) $\{x \in \mathbb{R} / 1 \leq x < 4\}$ E) $\{x \in \mathbb{R} / -3 \leq x \leq 1\}$
 C) $\{x \in \mathbb{R} / -5 \leq x < -3\}$
- 17) Assinale o maior número inteiro x que satisfaz à inequação: $36 - 2(3x + 6) > 0$:
- A) 2 B) 3 C) 4 D) 5 E) 6
- 18) Sejam as funções $f(x) = 4x - 3$ e $g(x) = x + 2$. Qual é o valor de $g(f(7)) - f(g(2))$?
- A) 10 B) 11 C) 14 D) 16 E) 13
- 19) Quantos elementos possui o conjunto imagem da função $f(x) = x^2 - 2x + 1$, considerando seu domínio $D = \{-2, -1, 0, 1, 2\}$?
- A) 5 B) 3 C) 1 D) 2 E) 4



20) O gráfico que melhor representa a função $f(x) = 2\cos x - 3$ é:



CONHECIMENTOS ESPECÍFICOS

21) O Título IV da Constituição se dedica à organização dos Poderes, atribuindo as competências e atribuições do Legislativo, Judiciário e Executivo. Com base nisso, analise:

- I. Autorizar o Presidente e o Vice-Presidente da República a se ausentarem do País, quando a ausência exceder a quinze dias.
- II. Julgar anualmente as contas prestadas pelo Presidente da República e apreciar os relatórios sobre a execução dos planos de governo.
- III. Dispor, mediante decreto, sobre organização e funcionamento da administração federal, quando não implicar aumento de despesa nem criação ou extinção de órgãos públicos.
- IV. Conceder indulto e comutar penas, com audiência, se necessário, dos órgãos instituídos em lei.
- V. Eleger seus órgãos diretivos e elaborar seus regimentos internos, com observância das normas de processo e das garantias processuais das partes, dispondo sobre a competência e o funcionamento dos respectivos órgãos jurisdicionais e administrativos.

Assinale a alternativa que apresenta, sequencialmente, os Poderes aos quais cabem as atribuições descritas nos itens anteriores:

- A) Legislativo – Legislativo – Executivo – Executivo – Judiciário
- B) Judiciário – Legislativo – Executivo – Executivo – Judiciário
- C) Legislativo – Judiciário – Legislativo – Executivo – Legislativo
- D) Legislativo – Legislativo – Executivo – Legislativo – Judiciário
- E) Judiciário – Legislativo – Legislativo – Executivo – Legislativo



- 22) Em uma determinada cidade, um servidor público efetivo investido no cargo de Procurador do Município, se candidatou ao cargo eletivo de vereador, nas últimas eleições, exercendo atualmente seu mandato. Ao assumir o cargo de vereador, continuou atuando também como Procurador, uma vez que há compatibilidade de horários entre as duas funções. É correto afirmar, quanto ao vencimento do servidor, que este, ao assumir o cargo de vereador:
- A) Poderá perceber as vantagens de seu cargo, sem prejuízo da remuneração do cargo eletivo.
 - B) Poderá perceber a remuneração correspondente ao cargo efetivo ou a remuneração do cargo eletivo, a seu critério.
 - C) Poderá perceber somente a remuneração correspondente ao cargo efetivo.
 - D) Poderá perceber somente a remuneração correspondente ao cargo eletivo.
 - E) Poderá perceber a remuneração correspondente ao cargo efetivo ou a remuneração de seu cargo eletivo, de acordo com a conveniência administrativa.
- 23) Analise as seguintes atribuições do Poder Judiciário:
- I. Aplicar a lei ao caso concreto.
 - II. Concessão de férias aos membros que o integram.
 - III. Elaboração do regimento interno dos órgãos que o compõem.
- Conforme classificação doutrinária, os Poderes têm funções típicas e atípicas, sem que estas últimas representem ingerência na esfera de atuação dos demais Poderes. Indique a alternativa que contém as palavras que, consecutivamente, representam as funções típicas e atípicas que foram indicadas nos itens I, II e III:
- A) Legislativa – Administrativa – Regulamentar
 - B) Jurisdicional – Administrativa – Legislativa
 - C) Administrativa – Legiferante – Regulamentar
 - D) Legislativa – Jurisdicional – Legiferante
 - E) Jurisdicional – Regulamentar – Organizacional
- 24) Cláusulas pétreas são aquelas previstas na Constituição Federal, em que o Poder Constituinte Originário de 1988 julgou necessário um tratamento especial, devido à sua importância para a manutenção do Estado. Assim, definiu que estas normas não podem ser objeto de proposta de alteração tendente a aboli-las. Além da forma federativa de Estado, da separação dos Poderes e do voto direto, secreto, universal e periódico, constitui-se cláusula pétrea de nosso ordenamento jurídico vigente:
- A) Os direitos e garantias individuais.
 - B) O provimento de cargo exclusivamente por meio de concurso público.
 - C) A obrigatoriedade de realização de processo licitatório pela Administração para a contratação de serviços.
 - D) A organização político-administrativa da República.
 - E) O regime jurídico dos servidores públicos.
- 25) Ao conceituarem a Constituição, os doutrinadores brasileiros utilizam critérios vários para a definição de seus elementos, tais como: conteúdo, extensão e forma. O eminente constitucionalista, quanto à alterabilidade da Constituição de 1988, classificou-a como super-rígida. Isso se deve ao fato de que a CRFB/88:
- A) Não admite qualquer alteração.
 - B) Pode ter determinada matéria alterada por meio de lei infraconstitucional.
 - C) Exige, para sua alteração, um processo legislativo mais solene e complexo que o exigido para a edição das outras espécies normativas.
 - D) Em regra, poderá ser alterada por um processo legislativo diferenciado, mas excepcionalmente, em alguns pontos, é imutável.
 - E) Em determinadas matérias, exige um processo de alteração mais dificultoso que o exigido para a alteração das leis infraconstitucionais, enquanto que em outras, não requerem tal formalidade.
- 26) A Emenda Constitucional nº. 47/2005 é fruto da aprovação da denominada “PEC Paralela da Previdência”, elaborada à época da aprovação da Emenda Constitucional nº. 41/2003, com o objetivo de amenizar, melhorando as regras de transição, o seu impacto em relação àqueles que estariam sendo surpreendidos pelas novas disposições constitucionais a respeito do assunto. Sobre as novidades trazidas por tal Emenda, podemos afirmar que, EXCETO:
- A) Estabeleceu não serem computadas, para efeito dos limites remuneratórios, as parcelas de caráter indenizatório previstas em lei.
 - B) Incluiu, como aposentadoria especial, os servidores que exerçam atividades de risco.
 - C) Implementou o sistema especial de inclusão previdenciária ao ampliar a possibilidade de inclusão para os trabalhadores sem renda própria que se dediquem exclusivamente ao trabalho doméstico no âmbito de sua residência, desde que pertencentes a famílias de baixa renda.
 - D) Garantiu a paridade plena com os servidores em atividade, com relação aos servidores inativos.
 - E) Alterou as regras para a concessão de aposentadoria com proventos integrais, para o servidor da União, Estados e dos Municípios, que tenham ingressado no serviço público até 31/12/2003.



27) A Emenda Constitucional nº. 41, de 19 de dezembro de 2003, trouxe uma reforma substancial da previdência social para os servidores públicos. Assinale a afirmativa INCORRETA acerca das previsões constitucionais sobre o assunto:

- A) Os proventos de aposentadoria e as pensões, por ocasião de sua concessão, não poderão exceder a remuneração do respectivo servidor, no cargo efetivo em que se deu a aposentadoria ou que serviu de referência para a concessão da pensão.
- B) É vedada a adoção de requisitos e critérios diferenciados para a concessão de aposentadoria aos abrangidos pelo mencionado regime, ressalvados, entre outros, nos termos definidos em leis complementares, os casos de servidores portadores de deficiência.
- C) A Constituição prevê situação especial em que os requisitos de idade e de tempo de contribuição serão reduzidos em dez anos, para o professor que comprove exclusivamente, tempo de efetivo exercício das funções de magistério na educação infantil e no ensino fundamental e médio.
- D) É assegurado o reajustamento dos benefícios para preservar-lhes, em caráter permanente, o valor real, conforme critérios estabelecidos em lei.
- E) O tempo de contribuição federal, estadual ou municipal será contado para efeito de aposentadoria e o tempo de serviço correspondente para efeito de disponibilidade.

28) São beneficiários do Regime Geral de Previdência Social, instituídos pela Lei Federal nº. 8213, de 24 de julho de 1991, na condição de dependentes do segurado, EXCETO:

- A) O cônjuge e o(a) companheiro(a).
- B) Os pais.
- C) O filho inválido.
- D) O irmão não emancipado, de qualquer condição, menor de vinte e um anos.
- E) O filho, de qualquer condição, menor de vinte e um anos.

29) “O prazo de validade do concurso público será de até _____, prorrogável uma vez, por igual período.” Assinale a alternativa que completa corretamente o Art. 14 § III da Lei Orgânica do município de Resende:

- A) 6 meses
- B) dois anos
- C) quatro anos
- D) dois meses
- E) um ano

30) De acordo com a Lei Orgânica do município de Resende, marque **V** para as afirmativas verdadeiras e **F** para as falsas:

- () Os cargos, empregos e funções públicas são acessíveis aos brasileiros que preencham os requisitos estabelecidos em lei.
- () A lei estabelecerá os casos de contratação por tempo determinado para atender à necessidade temporária de excepcional interesse público.
- () A concessão ou permissão de serviço público deverá obedecer a modalidade licitatória de concorrência pública, independente da natureza e o valor das mesmas.

A sequência está correta em:

- A) V, F, V
- B) V, V, F
- C) F, F, V
- D) F, V, F
- E) V, V, V

CONHECIMENTOS GERAIS

31) Durante um encontro realizado em abril deste ano, os representantes dos países membros do Bric anunciaram a intenção de implementar transações comerciais em moeda local. Isso significa que:

- A) Os países membros pretendem criar uma moeda própria única para realizar suas transações comerciais.
- B) Assim como foi criado o euro na Europa, os países integrantes do Bric pretendem criar uma moeda própria para todos os emergentes.
- C) Brasil, Rússia, Índia e China querem efetuar suas transações comerciais sem a intermediação do dólar ou do euro.
- D) Um novo mercado comum se inicia com a criação de uma organização formada pelas maiores economias do mundo.
- E) Os integrantes do grupo – Brasil, Rússia, Índia e China – vão negociar internacionalmente, tomando como base apenas suas próprias moedas.

32) “A erupção do vulcão na geleira Eyjafjallajokull, na Islândia, ocorrida neste primeiro semestre, causou problemas ao tráfego aéreo na Europa e expectativas quanto a um fenômeno que, em tempos de grande alerta ambiental em relação ao clima, seria positivo. No entanto, cientistas atestaram que esta erupção foi pequena demais, não produzindo enxofre suficiente. Além disso, informaram que sua pluma circundou a uma altitude baixa demais para ter qualquer impacto climático. Bem diferente da erupção ocorrida em 1991, no Monte Pinatubo, nas Filipinas que gerou efeitos significativos quanto ao clima da terra.”

O texto anterior trata do fenômeno de:

- A) Refrigeração do clima da Terra em função da camada de partículas esbranquiçadas de dióxido de enxofre e cinzas vulcânicas que se formam na estratosfera e refletem parte dos raios solares, impedindo que a radiação atinja o solo.



- B) Aquecimento do clima da Terra devido ao lançamento de gases à camada de Ozônio, tais como dióxido de carbono e enxofre, responsáveis por aumento do “buraco de ozônio” já existente na Antártida.
- C) Redução dos processos de desertificação, já que os gases lançados pelas erupções se diluem na troposfera, aumentando a umidade do ar em todo o planeta, gerando maior concentração de água em regiões de altas temperaturas, como os desertos.
- D) Enriquecimento dos solos com a superficialização de nutrientes advindos de lavas vulcânicas oriundas de camadas significativas do interior da Terra.
- E) Poluição atmosférica gerada pela evaporação de gases advindos das explosões vulcânicas responsáveis por equilibrar as temperaturas do planeta, gerando uma filtragem dos raios emitidos pelo Sol à superfície terrestre.

33) Brasília completa 50 anos em meio a uma das mais graves crises políticas enfrentadas pela capital federal, que passou por quatro governadores num prazo inferior a um ano. Sobre a principal cidade brasileira, é possível afirmar que:

- I. Candangos é o nome oficial dado a todas as pessoas que nascem em Brasília em homenagem aos primeiros brasileiros que se fixaram no planalto central, onde hoje se encontra a capital federal.
- II. Rogério Rosso (PMDB), ex-membro do governo de José Roberto Arruda, foi eleito governador do Distrito Federal com o voto da grande maioria dos eleitores de Brasília.
- III. O Distrito Federal enfrenta uma crise política desde que a Polícia Federal deflagrou, em novembro de 2009, a Operação Caixa de Pandora que investiga um suposto esquema de distribuição de propina, envolvendo o primeiro escalão do governo distrital.
- IV. Após a prisão e o afastamento do governador José Roberto Arruda, governaram o Distrito Federal o vice-governador, Paulo Octávio e o presidente da Câmara Legislativa, Wilson Lima.

Estão corretas apenas as afirmativas:

- A) I, II B) III, IV C) I, III D) II, IV E) I, IV

34) Analise a figura e o texto apresentados:



“A obra deve ser iniciada a seco, sem a necessidade de alagamento de áreas. A previsão é instalar cinco canteiros simultâneos de trabalhos perto dos sítios. O custo estimado é em R\$19 bilhões e pode gerar cerca de 18 mil empregos diretos e 80 mil indiretos. Os trabalhadores devem ser acomodados em canteiros que serão construídos nas cidades de Altamira e Vitória do Xingu.”

(Portal G1 <http://g1.globo.com/economia-e-negocios/noticia/2010/04/entenda-polemica-em-torno-da-hidreletrica-de-belo-monte.html>)

Tais informações dizem respeito a:

- A) Hidrelétrica Bela Vista.
- B) Hidrelétrica Pimentel.
- C) Hidrelétrica Belo Monte.
- D) Hidrelétrica Vitória do Xingu.
- E) Hidrelétrica Altamira.

35) Apesar de estarmos longe de um grande conflito internacional generalizado, como aconteceu em dois momentos no século XX, tornando-se conhecidos como 1ª e 2ª guerras mundiais existem hoje, no planeta, diversos conflitos localizados que muito preocupam as autoridades internacionais. Sobre estes conflitos, NÃO se pode afirmar que:

- A) Os separatistas bascos que habitam a região localizada entre a Espanha e a França organizaram o ETA (Pátria Basca e Liberdade), que luta pela independência do país Basco, utilizando ações consideradas terroristas por diversos povos.
- B) Com a dissolução da Iugoslávia – país multiétnico que tem hegemonia dos sérvios –, na década de 90, eclodiram diversos conflitos, lutas por independência e por separação, envolvendo as seis repúblicas e duas regiões autônomas (Kosovo, Voivodina) que compunham esse país.
- C) Considerada a maior etnia sem Estado do mundo, os curdos, que ocupam territórios da Turquia, do Iraque, da Síria, do Irã e da Armênia lutam pela formação do Estado Curdo, o Curdistão.

- D) Na Federação Russa ocorrem diversos conflitos étnicos, como por exemplo, nas repúblicas da Chechênia e do Daguestão, ambas, de maioria muçulmana, que exigem a formação de um Estado islâmico independente.
- E) Confrontos decorrentes do expansionismo e de invasões estrangeiras, como por exemplo, os que têm ocorrido no Oriente Médio, envolvendo Israel, Palestina, Síria, Líbano, Egito e Jordânia ocorrem porque os libaneses lutam pelo reconhecimento e pela demarcação de fronteiras que configurem um Estado independente.

CONHECIMENTOS LOCAIS

36) Sobre o município de Resende, analise:

I. Resende é um importante tecnopolo, abrigando várias indústrias.

II. Em Resende, encontra-se localizada a Academia Militar das Agulhas Negras (AMAN), a única na formação de oficiais combatentes do Exército no país.

III. Localiza-se em uma grande planície às margens do rio Paraíba do Sul.

Está(ão) correta(s) apenas a(s) afirmativa(s):

- A) I, III B) III C) II, III D) II E) I, II, III

37) São municípios limítrofes ao município de Resende, EXCETO:

- A) Itatiaia. B) Quatis. C) Porto Real. D) Casimiro de Abreu. E) Barra Mansa.

38) Sobre a história do município de Resende, marque V para as afirmativas verdadeiras e F para as falsas:

() O município era habitado originalmente por índios Puris, que o chamavam Timburitá.

() O território de Resende era muito mais extenso do que atualmente, ocupando todo o Vale do Paraíba Fluminense.

() O município encontra-se localizado às margens do rio Paraíba do Sul e é atravessado pela rodovia Presidente Dutra.

A sequência está correta em:

- A) V, V, V B) F, V, F C) V, V, F D) V, F, V E) F, F, V

39) O rio Paraíba do Sul, que se encontra localizado no município de Resende, tem como seus principais afluentes, EXCETO:

- A) Córrego Preto. B) Rio Lavapés. C) Rio Iguaçu. D) Rio Sesmaria. E) Rio Alambari.

40) Sobre o município de Resende, assinale a alternativa INCORRETA:

A) A economia do município é baseada na pecuária, agricultura, indústria e turismo.

B) Em Resende, encontra-se localizada a sede da TV Rio Sul, emissora afiliada à Rede Globo.

C) O município abriga importantes unidades fabris de grande porte, com destaque para os setores metal-mecânico e químico-farmacêutico.

D) O município é conhecido internacionalmente pelas esculturas em pedra-sabão.

E) O Centro Histórico de Resende possui diversos casarões, praças, pontes e igrejas do século XIX.

