

CONCURSO PÚBLICO

CÓDIGO P23	PROVA V	ATENÇÃO: VERIFIQUE SE CÓDIGO E PROVA DESTE CADERNO DE QUESTÕES CONFEREM COM O SEU CARTÃO DE RESPOSTAS
TARDE		



DER - DEPARTAMENTO DE ESTRADAS
DE RODAGEM E TRANSPORTES

CARGO: TÉCNICO EM INFORMÁTICA

FRASE PARA EXAME GRAFOLÓGICO (TRANSCREVA NO QUADRO DE SEU CARTÃO DE RESPOSTAS)

*“Olhe nos olhos da pessoa com que está falando, pois isso significa:
Eu realmente me interesso por você.”*

Mary Jones Adams

A T E N Ç Ã O

- O **Caderno de Questões** contém questões de múltipla-escolha, cada uma com 5 opções A, B, C, D e E.
- Ao receber o material, verifique no **Cartão de Respostas** seu nome, número de inscrição, data de nascimento, cargo e prova. Qualquer irregularidade comunique imediatamente ao fiscal de sala. Não serão aceitas reclamações posteriores.
- Leia atentamente cada questão e assinale no **Cartão de Respostas** a opção que responde corretamente a cada uma delas. O **Cartão de Respostas** será o único documento válido para a correção eletrônica. O preenchimento do **Cartão de Respostas** e a respectiva assinatura serão de inteira responsabilidade do candidato. Não haverá substituição do **Cartão de Respostas**, por erro do candidato.
- Observe as seguintes recomendações relativas ao **Cartão de Respostas**:
 - A maneira correta de marcação das respostas é cobrir, fortemente, com esferográfica de tinta azul ou preta, o espaço correspondente à letra a ser assinalada.
 - Outras formas de marcação diferentes implicarão a rejeição do **Cartão de Respostas**.
 - Será atribuída nota zero às questões não assinaladas ou com falta de nitidez, ou com marcação de mais de uma opção, e as emendadas ou rasuradas.
- O fiscal de sala não está autorizado a alterar qualquer destas instruções. Em caso de dúvida, solicite a presença do coordenador local.
- Você só poderá retirar-se definitivamente do recinto de realização da prova após 1 hora contada do seu efetivo início, **sem levar o Caderno de Questões**.
- Você só poderá levar o próprio **Caderno de Questões** caso permaneça na sala até 1 hora antes do término da prova.
- Por motivo de segurança, só é permitido fazer anotação durante a prova no **Caderno de Questões** e no **Cartão de Respostas**. Qualquer outro tipo de anotação será motivo de eliminação automática do candidato.
- Após identificado e instalado na sala, você não poderá consultar qualquer material, enquanto aguarda o horário de início da prova.
- Os três últimos candidatos deverão permanecer na sala até que o último candidato entregue o **Cartão de Respostas**.
- Ao terminar a prova, é de sua responsabilidade entregar ao fiscal o **Cartão de Respostas**. Não esqueça seus pertences.
- O **Gabarito Oficial da Prova Objetiva** será disponibilizado no site www.funcab.org, conforme estabelecido no Cronograma.

Realização:



BOA PROVA

CONHECIMENTOS GERAIS:

- Língua Portuguesa

Leia o texto abaixo e responda às questões propostas.

A pressão social pelo uso de “risco de morte”, expressão emergente, como se houvesse algo errado no consagrado “risco de vida” que herdamos de nossos tataravós, é uma questão com que se defronta qualquer pessoa menos distraída no Brasil de hoje. É também o maior exemplo de vitória do besteirol sabichão que temos na língua.

A questão tem cerca de dez anos, talvez quinze. O certo é que quando Cazuza cantou, em 1988, “o meu prazer agora é risco de vida” (na canção *Ideologia*), ainda não passava pela cabeça de ninguém corrigi-lo. Mais tarde, professores de português que exerciam o cargo de consultores em redações conseguiram convencer os chefes de determinados jornais e TVs de sua tese tolinha: “Como alguém pode correr o risco de viver?”, riam eles.

Era um equívoco. Julgavam ter descoberto uma agressão à lógica embutida no idioma, mas ficaram na superfície do problema, incapazes de fazer uma análise linguística mais sofisticada e compreender que risco *de* vida é risco *para* a vida, ou seja, risco de (perder a) vida. O que, convenhamos, nem teria sido tão difícil.

Muita gente engoliu desde então o risco de morte. De tanto ser martelada em certos meios de comunicação, inclusive na TV Globo, a nova forma vai sendo adotada por multidões de falantes desavisados. O que era previsível, mas não deixa de ser meio constrangedor.

Não se trata de dizer que risco de morte seja, como alegam seus defensores a respeito de risco de vida, uma expressão “errada”. Não é. De gabinete, sim, mas não errada. Pode-se usá-la sem risco para a adequada comunicação de uma mensagem. Se seus adeptos se contentassem em fazer tal escolha de forma discreta, sem apontar agressivamente o dedo para quem não concorda com ela, a convivência das duas formas poderia ser pacífica.

Se não é pacífica é porque o risco de morte, mais do que um caso linguístico, apresenta-se como um problema cultural, criação artificial de gente que mal ouviu o galo cantar e saiu por aí exercitando o prazer de declarar ignorante quem, mergulhado no instinto da linguagem de que fala Steven Pinker, já nasceu sabendo mais do que eles. (RODRIGUES, Sérgio. In: <http://veja.abril.com.br/blog/sobre-palavras/>)

1. No texto, como estratégia orientada para a defesa de seu ponto de vista, o autor se vale, com certo humor, do seguinte paradoxo:

- A) expressão emergente (parágrafo 1).
- B) besteirol sabichão (parágrafo 1).
- C) tese tolinha (parágrafo 2).
- D) falantes desavisados (parágrafo 4).
- E) criação artificial (parágrafo 6).

2. Na argumentação desenvolvida, o autor recorre algumas vezes à linguagem figurada, como em:

- A) A questão tem cerca de dez anos, talvez quinze. (parágrafo 2)
- B) “Como alguém pode correr o risco de viver?”, riam eles. (parágrafo 2)
- C) Muita gente engoliu desde então o risco de morte. (parágrafo 4)
- D) O que era previsível, mas não deixa de ser meio constrangedor. (parágrafo 4)
- E) Pode-se usá-la sem risco para a adequada comunicação de uma mensagem. (parágrafo 5)

3. O conteúdo do que se encontra expresso em: “a convivência das duas formas poderia ser pacífica” (parágrafo 5) deve ser entendido pelo leitor como:

- A) possível.
- B) certo.
- C) necessário.
- D) obrigatório.
- E) facultativo.

4. O sentido de: “Se seus adeptos se contentassem em fazer tal escolha de forma discreta, sem apontar agressivamente o dedo para quem não concorda com ela, a convivência das duas formas poderia ser pacífica” (parágrafo 5) altera-se visivelmente com a substituição da primeira oração por:

- A) Caso se contentassem seus adeptos.
- B) Desde que seus adeptos se contentassem.
- C) Contentassem-se seus adeptos.
- D) Uma vez contentando-se seus adeptos.
- E) Ao se contentarem seus adeptos.

5. A alternativa em que a palavra “mal” está empregada com o mesmo valor significativo que em “criação artificial de gente que mal ouviu o galo cantar e saiu por aí” (parágrafo 6) é a seguinte

- A) Saiu de casa, mal começou a trabalhar.
- B) Casou-se mal, por isso andava sem ânimo.
- C) Havia feito todos os exames: seu mal era incurável.
- D) Ageada causara um grande mal aos cafezais.
- E) Vivia sempre emburrado, de mal com a vida.

6. O sentido do que se acha enunciado no texto altera-se visivelmente com a substituição da forma nele usada pela forma proposta em:

- A) também (parágrafo 1) / ademais
- B) talvez (parágrafo 2) / quem sabe
- C) ou seja (parágrafo 3) / assim sendo
- D) inclusive (parágrafo 4) / mesmo
- E) a respeito de (parágrafo 5) / acerca de

7. Na transformação da voz passiva em voz ativa, há perfeita correspondência entre a forma verbal empregada em: "a nova forma vai sendo adotada por multidões de falantes desavisados" (parágrafo 4) e aquela que se lê em:

- A) multidões de falantes desavisados adotaram a nova forma.
- B) multidões de falantes desavisados têm adotado a nova forma.
- C) multidões de falantes desavisados foram adotando a nova forma.
- D) multidões de falantes desavisados vão adotando a nova forma.
- E) multidões de falantes desavisados adotam a nova forma.

8. Com a substituição do verbo empregado na oração adjetiva de: "é uma questão com que se defronta qualquer pessoa menos distraída no Brasil de hoje" (parágrafo 1), ocorre ERRO de regência verbal em:

- A) por que se interessa qualquer pessoa menos distraída no Brasil de hoje.
- B) em que acaba esbarrando qualquer pessoa menos distraída no Brasil de hoje.
- C) para que se volta qualquer pessoa menos distraída no Brasil de hoje.
- D) a que atenta qualquer pessoa menos distraída no Brasil de hoje.
- E) de que se depara qualquer pessoa menos distraída no Brasil de hoje.

9. Leia-se a seguinte passagem do texto:

Era um equívoco. Julgavam ter descoberto uma agressão à lógica embutida no idioma, mas ficaram na superfície do problema, incapazes de fazer uma análise linguística mais sofisticada e compreender que risco *de* vida é risco *para* a vida, ou seja, risco de (perder a) vida. O que, convenhamos, nem teria sido tão difícil. (parágrafo 3)

É inaceitável, do ponto de vista das normas em vigor, a mudança de pontuação sugerida em:

- A) substituir o ponto pelo sinal de dois pontos (seguido de minúscula), após "equívoco".
- B) usar ponto e vírgula em vez de vírgula após "idioma", prosseguindo com: "ficaram, porém,".
- C) substituir por vírgula (seguida de minúscula) o ponto usado após "risco de (perder a) vida".
- D) empregar vírgula entre o verbo "compreender" e a oração introduzida pela conjunção "que".
- E) substituir por travessões as vírgulas imediatamente anterior e posterior a "convenhamos".

10. Há erro evidente, segundo as gramáticas da língua, em todas as mudanças de construção propostas a seguir, COM EXCEÇÃO da que se lê na alternativa:

- A) com que se defronta qualquer pessoa (parágrafo 1) / defronta-se
- B) que temos na língua (parágrafo 1) / se tem
- C) que exerciam o cargo de consultores (parágrafo 2) / exercia
- D) ainda não passava pela cabeça de ninguém corrigi-lo (parágrafo 2) / corrigir-lhe
- E) agressão à lógica embutida no idioma (parágrafo 3) / à uma lógica

- Geografia e História de Rondônia

11. A construção da Ferrovia Madeira-Mamoré está fortemente vinculada a questões fronteiriças entre o Brasil e a Bolívia que só foram resolvidos com a assinatura do Tratado de Petrópolis em 1903 e, neste caso, o principal objetivo desta ferrovia era:

- A) dar à Bolívia condições de ter uma saída para o rio Amazonas.
- B) transportar missionários encarregados de catequizar os índios.
- C) promover a integração do Acre e Rondônia às demais regiões.
- D) criar uma opção de transporte alternativo para aquela região.
- E) escoar os grãos produzidos no cerrado aos portos do Pacífico.

12. Em função das condições das quais se originam, os minérios metálicos só se encontram em um tipo de estrutura geológica conhecida como escudo cristalino, em rochas magmáticas ou metamórficas. O Brasil é extremamente rico nesse tipo de minérios, pois os escudos cristalinos afloram em cerca de 36% do seu território. Em Rondônia, as principais reservas desses minerais dão ao estado o direito de explorar riquezas como:

- A) ferro e manganês.
- B) diamante e níquel.
- C) chumbo e cobre.
- D) bário e bauxita.
- E) ouro e estanho.

13. A classificação do relevo brasileiro de Jurandy Ross apresenta quatro variedades de planaltos e a chapada dos Parecis aparece enquadrada como unidade de planalto em intrusão e cobertura residual de plataforma. Tal característica é conferida também aos planaltos residuais norte-amazônicos e planaltos residuais sul-amazônicos. A diferença entre o planalto e chapada dos Parecis e as outras formas residuais de planaltos, está no fato de:

- A) apresentar formas mamelonizadas.
- B) ter a sua litologia datada do Cretáceo.
- C) constituir-se em maciços modernos.
- D) seus níveis altimétricos ultrapassarem 800 m.
- E) ter o seu limite norte definido por frente de cuesta.

14. Durante um longo tempo, acreditava-se que os rios da Bacia Amazônica eram adequados à navegação, mas sem grande utilidade para obtenção de hidroeletricidade. Esse ponto de vista já é considerado superado, inclusive o potencial hidráulico dos rios dessa bacia é considerado o mais elevado do país, superior mesmo ao da Bacia do Paraná. Esses rios apresentam condições de gerar energia porque apresentam características como:

- A) chuvas permanentes que enchem os reservatórios.
- B) relevo plano facilitando a formação dos lagos artificiais.
- C) presença de inúmeras cachoeiras e quedas-d'água.
- D) mata de galeria que assegura o seu volume de água.
- E) inexistência de sinuosidade nas suas trajetórias.

15. As reservas extrativistas são espaços territoriais destinados à exploração autossustentável e conservação dos recursos naturais renováveis por população extrativista. Esses espaços são considerados de interesse ecológico e social. Assim, a criação da Reserva Estadual Extrativista do Rio Cautário teve como principal objetivo:

- A) permitir a sobrevivência dos jacarezeiros da região.
- B) deixar intocável a vegetação que existe junto ao rio.
- C) facilitar o manejo das madeiras que são extraídas.
- D) viabilizar a permanência dos seringueiros na área.
- E) impedir que as fossas contaminassem a água do rio.

16. Nas duas oportunidades em que visitou a cidade, a riqueza deixou Porto Velho pela porta dos fundos, à francesa. Do apogeu da borracha, só sobraram as sucatas da ferrovia Madeira-Mamoré. Da febre do ouro dos anos 1980, restou uma legião de mães solteiras. Agora, no ritmo frenético da conclusão das obras das hidrelétricas de Jirau e Santo Antônio sobram preocupações relacionadas com o crescimento desordenado de Porto Velho, evidenciados, principalmente, por:

- A) baixa oferta de imóveis à população.
- B) ausência de transportes de massa.
- C) precariedade no saneamento básico.
- D) interrupções sistemáticas de energia.
- E) falta de escolas para o público infantil.

17. A Assembleia Legislativa de Rondônia revogou a proteção estadual de quase 1 milhão de hectares de florestas, no final do mês de julho deste ano. As revogações são parte do processo de redefinição das áreas protegidas no estado e de, aproximadamente, 4,4 milhões de hectares que estavam sob proteção estadual em Rondônia; agora, são 3,1 milhões. Após os estados de Mato Grosso e Pará, Rondônia é o estado que mais desmata suas florestas e o fator que mais contribuiu para o desmatamento foi:

- A) agrovilas criadas pelo INCRA.
- B) obra de extensão da BR-364.
- C) ação de madeiras clandestinas.
- D) formação de lagos para usinas.
- E) expansão da fronteira agropecuária.

18. O aumento populacional verificado no estado de Rondônia entre 1970 e 2000 foi espetacular, quando a população saltou de 116 620 habitantes para 1 379 787, de acordo com os Censos do IBGE, e teve como principal justificativa:

- A) instalação de núcleos de povoamento criados pelo governo estadual.
- B) chegada de sulistas à procura de terras disponíveis para a agricultura.
- C) abertura de frentes de trabalho mediante as obras da rodovia BR-364.
- D) nordestinos atraídos pelo garimpo de diamantes ao redor do rio Madeira.
- E) necessidade de mão de obra a ser empregada na construção de hidrelétricas.

19. O ciclo da borracha constituiu uma parte importante da história econômica e social do Brasil, estando relacionado com a extração e comercialização da borracha. Este ciclo teve o seu centro na região amazônica, proporcionando grande expansão na colonização, atraindo riqueza e causando transformações culturais e sociais, além de dar grande impulso à cidade de Manaus. O ciclo da borracha viveu seu auge entre 1879 e 1912, tendo depois experimentado uma sobrevida entre 1942 e 1945. Os fatos históricos relacionados aos dois ciclos da borracha estão apontados corretamente em:

- A) Tratado de Petrópolis e 2ª Guerra Mundial.
- B) Guerra do Paraguai e formação da URSS.
- C) Guerra do Chaco e ascensão do nazismo.
- D) Tratado de Ayacucho e grande depressão.
- E) Guerra da Cisplatina e crise econômica de 1929.

20. As políticas que orientaram a “conquista da Amazônia” geraram um conflito entre dois tipos de ocupação do espaço geográfico. O povoamento tradicional gerado pelo extrativismo, consistia numa ocupação linear e ribeirinha, assentada na circulação fluvial e na rede natural de rios e igarapés. O povoamento moderno consistiu numa ocupação areolar, polarizada pelos núcleos urbanos em formação e pelos projetos florestais, agropecuários e minerais.

De acordo com a situação descrita no trecho acima, a alternativa que apresenta de forma correta os elementos motivadores do povoamento tradicional e do novo povoamento em Rondônia estão apontados, respectivamente, em:

- A) extração da madeira e avanço da pecuária.
- B) garimpo do ouro e expansão do cultivo da soja.
- C) coleta de drogas do sertão e exploração da madeira.
- D) exploração da borracha e extensão do eixo da BR-364.
- E) catequese da população indígena e plantio da cana-de-açúcar.

- Noções de Informática

21. No Microsoft Office Word 2003, CTRL+K é um atalho para:

- A) inserir Hiperlink.
- B) imprimir.
- C) salvar.
- D) localizar.
- E) controlar alterações.

22. São navegadores de internet, os *softwares*:

- A) Windows Internet Explorer, Google e Windows XP.
- B) Windows Internet Explorer, Opera e Mozilla Firefox.
- C) Orkut, Opera e Google.
- D) Mozilla Firefox, Yahoo! e Windows XP.
- E) Google, Altavista e MSN.

23. O ícone do Microsoft Office Excel que tem como finalidade a formatação de bordas é:



24. A fórmula que NÃO é reconhecida pelo Microsoft Office Excel 2003 é:

- A) =G30-SOMA(G31:G36)
- B) =MÁXIMO(G7:G8)
- C) =C1:C5
- D) =0,015*B27
- E) =CONT.NÚM(C1:C5)

25. Na tela "Ir Para" do Microsoft Office Word, a opção que deve ser preenchida para mover o ponto de inserção 5 páginas à frente é:

- A) +5
- B) 5
- C) 1:5
- D) -5
- E) =5

26. A opção de menu "Atualizar" do Windows Internet Explorer:

- A) abre a tela de ajuda do Internet Explorer com as últimas novidades da versão.
- B) informa sobre diversas atualizações, em diversos sites, sem precisar visitá-los um a um.
- C) revê páginas já visitadas.
- D) recarrega a página exibida, naquele momento, no Internet Explorer.
- E) interrompe a exibição de um site.

27. Uma opção recomendada por órgãos especializados em segurança da informação contra a infecção de seu computador por vírus é a utilização de:

- A) cookies.
- B) firewall de computadores.
- C) sistema operacional Windows XP.
- D) spywares.
- E) navegadores de internet Microsoft.

28. A opção "Vídeo" do Painel de Controle do Windows XP permite personalizar uma série de configurações do seu ambiente de trabalho, EXCETO:

- A) plano de fundo, posição e cor.
- B) proteção de tela.
- C) esquema de som.
- D) esquema de cores.
- E) janelas e botões.

29. A extensão de arquivo referente a um arquivo compactado é:

- A) doc
- B) xls
- C) bat
- D) jpg
- E) zip

30. Considerando a configuração padrão do Microsoft Outlook, é correto afirmar que a mensagem destacada em negrito na Caixa de Entrada representa que:

- A) a mensagem é urgente.
- B) a mensagem ainda não foi lida.
- C) a mensagem é confidencial.
- D) o destinatário não é confiável.
- E) a mensagem foi enviada para mais de um destinatário.

CONHECIMENTOS ESPECÍFICOS

31. Considere a planilha abaixo, criada no Microsoft Office Excel. A fórmula que permite vincular a célula B4, da planilha "Principal", à célula C3, da planilha "Base de Cálculo", de forma que o valor da célula C3 reflita automaticamente na célula B4 é:

	A	B	C	D	E
1	ASSISTENTE DE FORMAÇÃO				
2	Custo Total	2.114,00			Venda
3	Hardware	2.114,00			Hardw
4	Software	325,00			Softwa
5	Custo de compra				
6	Hardware				
7	Valor Total:	2.114,00			Valor 1
8					
9	ICMS entrada	17,00%			ISS eni
10	IPI entrada	0,00%			
11	ICMS credito:	359,38			
12	PIS/Cofins:	-			PIS/Cof
13	frete para receber	50,00			frete p
14	Custo sem imposto	1.804,62			Custo p
15	IPI credito	-			

- A) =(Principal.C3)
 B) ='Base de Cálculo'!\$C\$3
 C) ='Base de Cálculo'(C3)
 D) ='Principal'(C3)
 E) ='Base de Cálculo':C3

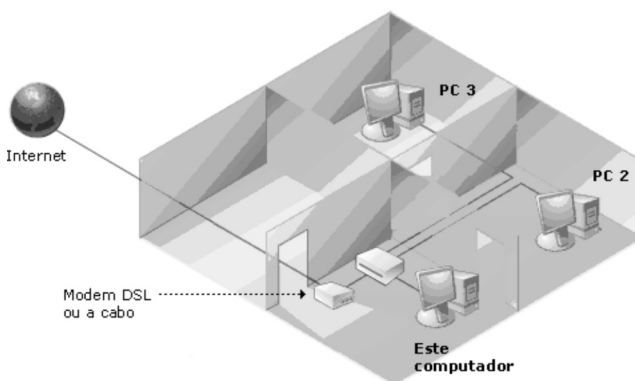
32. Sobre configuração do sistema do Windows XP, a ferramenta de linha de comando usada para controlar conexões de rede em computadores executando Windows é:

- A) IPCONFIG.EXE
 B) NETSH.EXE
 C) TASKMGR.EXE
 D) CMD.EXE
 E) REGEDIT.EXE

33. A ativação do compartilhamento de arquivos e impressoras torna a pasta "Documentos Compartilhados" disponível para todos em sua rede. Ela também fornece a todos o acesso a uma impressora compartilhada, caso exista. Para ativar o compartilhamento de arquivos e impressoras, utilize no Painel de controle a ferramenta:

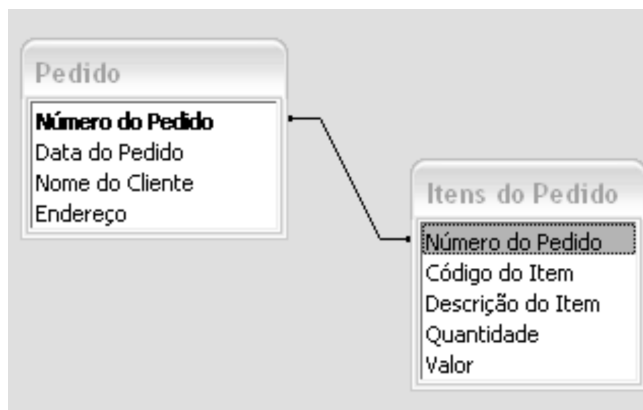
- A) Configuração de Rede sem Fio.
 B) Conexões de Rede.
 C) Firewall do Windows.
 D) Ferramentas Administrativas.
 E) Impressoras e Aparelhos de Fax.

34. Sobre o esquema abaixo, é possível considerar que "Este computador":



- A) pertence a uma rede que não tem conexão com a Internet.
 B) conecta-se à Internet através de um outro computador.
 C) conecta-se diretamente à Internet e os outros computadores se conectam à Internet por meio deste computador.
 D) conecta-se diretamente à Internet.
 E) conecta-se à Internet através de um concentrador de rede assim como os demais (PC 2 e PC 3).

35. Considere que as tabelas exibidas abaixo foram criadas no Microsoft Office Access. Sobre as mesmas, é INCORRETO afirmar que:



- A) a relação entre as tabelas pode ser definida através da opção de menu "Relacionamentos".
 B) "Número do Pedido" em "Itens do Pedido" é chave estrangeira da tabela "Pedido".
 C) para excluir "Número do Pedido" da tabela "Itens do Pedido" é preciso excluir primeiro o relacionamento entre a tabela "Pedido" e a tabela "Itens do Pedido".
 D) ao excluir a tabela "Pedido", a tabela "Itens do Pedido" também será excluída.
 E) os campos relacionados não precisam ter os mesmos nomes. Entretanto, devem ter o mesmo tipo de dados, exceto quando o campo da chave primária for um campo do tipo "AutoNumeração".

36. Considerando uma lista linear, com n elementos, existe uma operação que incorpora um elemento X a uma lista linear de tal forma que:

- o elemento X tem um sucessor e/ou um antecessor.
- a inserção é realizada de tal forma que ao inserir o elemento X na posição i – onde i está no intervalo 1 a $(n+1)$ – esse elemento passa a ser o i -ésimo elemento da lista linear.
- o número de elementos (n) é acrescido de uma unidade.

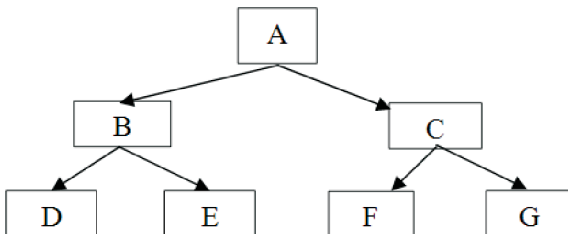
Esta operação denomina-se:

- A) Costura.
- B) FIFO.
- C) LIFO.
- D) Inserção.
- E) Balanceamento.

37. Num fluxograma, o símbolo  representa:

- A) Início.
- B) Armazenamento de Acesso Direto.
- C) Conector.
- D) Decisão.
- E) Processo.

38. Considere a seguinte árvore binária encadeada. Ao aplicar o percurso do tipo “Pré-Ordem”, obtém-se a sequência linear:



- A) ABDECFG.
- B) DBEAFCG.
- C) DEBFGCA.
- D) DEFGBCA.
- E) BCADEFG.

39. Sobre o algoritmo abaixo, podemos afirmar que são variáveis globais:

Início

inteiro: Y, Z;

leia (Y);

Z ← Y ** 2;

início

real: X;

X ← Z + 1;

imprima: (X);

fim;

leia (Z);

Y ← Y * Z;

fim.

- A) X, Y e Z.
- B) X e Y, somente.
- C) Y e Z, somente.
- D) somente X.
- E) X e Z, somente.

40. Considerando o código abaixo, escrito na linguagem de programação PHP, o resultado esperado é:

```
<?php
$i = 'W';
for ($n=0; $n<4; $n++)
    echo ++$i . "\n";
?>
```

- A) W, W, W, W.
- B) X, Y, Z, AA.
- C) W1, W2, W3, W4.
- D) 1, 2, 3, 4.
- E) X, Y, Z, A.

41. O AJAX é o uso sistemático de Javascript e XML para tornar o navegador mais interativo com o usuário, utilizando-se de solicitações assíncronas de informações. Seu uso oferece uma série de benefícios, EXCETO:

- A) *website* mais rápido e dinâmico, pois permite a redução do volume de informações trafegadas na rede.
- B) ferramentas de pesquisa na *web* têm um funcionamento ainda mais eficaz na localização de informações, através de palavras-chaves da área da página carregada dinamicamente.
- C) permite processamento de informações localmente, na estação de trabalho do usuário (cliente).
- D) permite implementar recursos e funcionalidades semelhantes às existentes em aplicações *desktop*.
- E) permite modificar somente parte da página exibida no *browser*, sem a necessidade de recarregar toda a página.

42. Sobre arquitetura de computadores 8086, o registrador de laços de repetição é o registrador:

- A) AX.
- B) BX.
- C) CX.
- D) DX.
- E) IP.

43. Sobre memória de computador, é considerada uma área de armazenamento:

- A) ROM.
- B) Memória Cache.
- C) Discos removíveis.
- D) Disco rígido.
- E) BIOS.

44. Num sistema de computadores, existem diversos dispositivos de Entrada/Saída, EXCETO:

- A) Teclado.
- B) Scanner.
- C) Impressora.
- D) RAM.
- E) Mouse.

45. Sobre questões de desempenho em redes de computadores, a recomendação de especialistas é aplicar algumas regras básicas, EXCETO:

- A) evitar *Timeouts*.
- B) minimizar as mudanças de contexto.
- C) reduzir o número de pacotes a fim de reduzir o *overhead* do *software*.
- D) minimizar o número de cópias de pacote.
- E) investir na velocidade da rede ao invés de investir na velocidade da CPU, pois a passagem de *bits* do *buffer* do usuário para o cabo de fibra com rapidez suficiente garante que a CPU receptora os processe à mesma velocidade.

46. Os modernos servidores *web* fazem mais do que apenas aceitar nomes de arquivos e retornar arquivos. Atualmente, cada módulo de processamento executa uma série de atividades. A primeira etapa a ser cumprida é:

- A) resolver o nome da página *web* solicitada.
- B) executar o controle de acesso no cliente.
- C) determinar o tipo MIME para incluí-lo na resposta.
- D) buscar a página solicitada no disco.
- E) executar o controle de acesso na página *web*.

47. Sobre a utilização de fibras ópticas de acordo com o tipo de topologia de rede, é correto afirmar que:

- A) a desvantagem da rede de estrela passiva é possuir um meio de comunicação unidirecional e passivo.
- B) a vantagem da estrela passiva é impedir perdas de energia no sinal.
- C) na topologia multiponto, deve ser levada em consideração a característica unidirecional da fibra óptica.
- D) na topologia em anel, são utilizadas duas fibras.
- E) na topologia em barra, os elementos de transmissão e recepção são componentes óticos.

48. O *File Transfer Protocol* (FTP) é o sistema de transmissão de arquivos mais usado na Internet. Uma vez conectado a um servidor FTP, você pode usar a maioria dos comandos do GNU/Linux para operá-lo como, por exemplo, o comando **get**, que:

- A) lista arquivos do diretório atual.
- B) copia um arquivo do servidor FTP para o computador local.
- C) envia um arquivo para o diretório atual do servidor FTP.
- D) ativa ou desativa a pergunta para a cópia de arquivo.
- E) entra em um diretório.

49. O objetivo da camada física é transmitir um fluxo bruto de *bits* de uma máquina para outra. Vários meios físicos podem ser usados para realizar a transmissão, sendo subdivididos em meios guiados e meios não guiados. É um meio não guiado:

- A) par trançado.
- B) fibra ótica.
- C) cabo coaxial.
- D) meios magnéticos.
- E) transmissão de rádio.

50. Em Java, uma variável de ponto flutuante é uma variável do tipo:

- A) boolean.
- B) byte.
- C) short.
- D) long.
- E) double.