

CONCURSO PÚBLICO

CÓDIGO A09	PROVA V	ATENÇÃO: VERIFIQUE SE CÓDIGO E PROVA DESTA CADERNO DE QUESTÕES CONFEREM COM O SEU CARTÃO DE RESPOSTAS
MANHÃ		



DER - DEPARTAMENTO DE ESTRADAS
DE RODAGEM E TRANSPORTES

CARGO: ASSISTENTE SOCIAL

FRASE PARA EXAME GRAFOLÓGICO (TRANSCREVA NO QUADRO DE SEU CARTÃO DE RESPOSTAS)

“A alegria é o segredo da beleza. Sem entusiasmo não há beleza que seja atraente.”

Christian Dior

A T E N Ç Ã O

- O **Caderno de Questões** contém questões de múltipla-escolha, cada uma com 5 opções A, B, C, D e E.
- Ao receber o material, verifique no **Cartão de Respostas** seu nome, número de inscrição, data de nascimento, cargo e prova. Qualquer irregularidade comunique imediatamente ao fiscal de sala. Não serão aceitas reclamações posteriores.
- Leia atentamente cada questão e assinale no **Cartão de Respostas** a opção que responde corretamente a cada uma delas. O **Cartão de Respostas** será o único documento válido para a correção eletrônica. O preenchimento do **Cartão de Respostas** e a respectiva assinatura serão de inteira responsabilidade do candidato. Não haverá substituição do **Cartão de Respostas**, por erro do candidato.
- Observe as seguintes recomendações relativas ao **Cartão de Respostas**:
 - A maneira correta de marcação das respostas é cobrir, fortemente, com esferográfica de tinta azul ou preta, o espaço correspondente à letra a ser assinalada.
 - Outras formas de marcação diferentes implicarão a rejeição do **Cartão de Respostas**.
 - Será atribuída nota zero às questões não assinaladas ou com falta de nitidez, ou com marcação de mais de uma opção, e as emendadas ou rasuradas.
- O fiscal de sala não está autorizado a alterar qualquer destas instruções. Em caso de dúvida, solicite a presença do coordenador local.
- Você só poderá retirar-se definitivamente do recinto de realização da prova após 1 hora contada do seu efetivo início, **sem levar o Caderno de Questões**.
- Você só poderá levar o próprio **Caderno de Questões** caso permaneça na sala até 1 hora antes do término da prova.
- Por motivo de segurança, só é permitido fazer anotação durante a prova no **Caderno de Questões** e no **Cartão de Respostas**. Qualquer outro tipo de anotação será motivo de eliminação automática do candidato.
- Após identificado e instalado na sala, você não poderá consultar qualquer material, enquanto aguarda o horário de início da prova.
- Os três últimos candidatos deverão permanecer na sala até que o último candidato entregue o **Cartão de Respostas**.
- Ao terminar a prova, é de sua responsabilidade entregar ao fiscal o **Cartão de Respostas**. Não esqueça seus pertences.
- O **Gabarito Oficial da Prova Objetiva** será disponibilizado no site www.funcab.org, conforme estabelecido no Cronograma.

Realização:



BOA PROVA

CONHECIMENTOS GERAIS:

- Língua Portuguesa

Leia o texto abaixo e responda às questões propostas.

Fora com os carros

Como enfrentar os congestionamentos que se tornaram uma praga do inferno nas centenárias cidades europeias, cujas ruas estreitas não foram planejadas para tanto carro? A prefeitura de Londres anunciou uma medida radical e impopular: vai cobrar pedágio na região central a partir de 2003. Já o prefeito de Paris decidiu ampliar as faixas exclusivas de transporte coletivo. As armas adotadas pelas duas capitais são diferentes, mas o objetivo é o mesmo: convencer os motoristas de que só deixando o carro em casa será possível amenizar o pesadelo dos congestionamentos. Outros países já adotaram medidas duras para restringir o uso do automóvel. Em três cidades da Noruega, incluindo a capital, Oslo, os motoristas também pagam tarifa para circular em certas áreas urbanizadas. Roma, que já limita bastante o acesso de veículos à zona central, está testando um modelo de pedágio eletrônico. Cingapura foi a pioneira na cobrança de tributo em várias regiões movimentadas, a partir de 1975. Bangcoc, capital da Tailândia, seguiu o exemplo, e a Cidade do México instituiu o rodízio dia sim, dia não, de acordo com a placa. O de São Paulo só vale na hora do rush.

O drama dessas cidades é que a frota aumenta a uma velocidade muito maior que a da malha viária. Mesmo com uma excelente rede de metrô, tanto os parisienses, quanto os londrinos não abrem mão do automóvel. “Quem precisar de rapidez terá de usar transporte público. Quem preferir o conforto do carro vai ficar parado nos congestionamentos”, diz o consultor de trânsito Gilberto Lehfeld, ex-presidente da Companhia de Engenharia de Tráfego de São Paulo. Quando as autoridades agem, a gritaria é geral. Os motoristas parisienses ficaram irritados com a redução de espaço em três dos maiores corredores da cidade, em favor de amplas faixas exclusivas para ônibus, táxis, motos e bicicletas. A prefeitura ainda construiu barricadas para impedir que os carros invadam a área restrita ao transporte coletivo. Cerca de 70% das viagens diárias em Paris são feitas de carro. Por enquanto, são 7 quilômetros de faixa exclusiva, e a intenção do prefeito Bertrand Delanoë é estender o corredor para 41 quilômetros e aumentar a velocidade média dos ônibus em 20%. Só que os congestionamentos, nas faixas de carros pioraram e devem agravar o problema da poluição.

O prefeito de Londres, Ken Livingstone, quer pegar os motoristas pelo bolso. Vai custar 5 libras (o equivalente a 18 reais) a autorização para circular por um dia na área central da cidade, das 7 às 19 horas. Livingstone pretende instalar câmaras para vigiar os 50 000 carros que entram por hora na região. Os motoristas poderão pagar o pedágio no dia em vários locais ou, antecipadamente, pela internet, apresentando o número da placa. A multa para quem circular sem pagar é de 100 libras (372 reais), e todo o dinheiro arrecadado será revertido para a melhoria do transporte coletivo. Com o pedágio, a prefeitura espera reduzir o tráfego no centro em 15%. Não deve resolver o problema. “Há o risco de os motoristas irem de carro até o limite da zona central e pegarem o metrô”, adverte o especialista em trânsito Philippe Gold. “Os congestionamentos só vão mudar de lugar.” (Revista Veja, 12/09/2001)

1. De acordo com a leitura do texto, apenas uma das afirmativas abaixo NÃO é verdadeira. Aponte-a.

- A) Embora as medidas relativas ao controle do trânsito difiram de cidade para cidade, todas têm o mesmo objetivo.
- B) Observa-se, em cidades de diferentes países, a preocupação das autoridades em conter o excesso de carros circulando nos grandes centros.
- C) Normalmente, nas cidades de maior movimento, o número de carros aumenta na contramão da disponibilidade de vias.
- D) O incentivo ao uso do transporte coletivo continua sendo um dos maiores recursos dos governantes para a redução dos congestionamentos.
- E) Como a maioria dos motoristas mostra-se insatisfeita com a cobrança de pedágios nos centros das grandes cidades, as autoridades tendem a ser permissivas com os infratores.

2. Assinale a opção em que se identifica um termo utilizado no sentido conotativo.

- A) “A multa para quem circular sem pagar é de 100 libras (372 reais), e todo o dinheiro arrecadado será revertido para a melhoria do transporte coletivo.” (parágrafo 3)
- B) “As armas adotadas pelas duas capitais são diferentes, mas o objetivo é o mesmo: convencer os motoristas de que só deixando o carro em casa será possível amenizar o pesadelo dos congestionamentos.” (parágrafo 1)
- C) “Quem preferir o conforto do carro vai ficar parado nos congestionamentos”, diz o consultor de trânsito Gilberto Lehfeld, ex-presidente da Companhia de Engenharia de Tráfego de São Paulo.” (parágrafo 2)
- D) “Vai custar 5 libras (o equivalente a 18 reais) a autorização para circular por um dia na área central da cidade, das 7 às 19 horas.” (parágrafo 3)
- E) “Os motoristas poderão pagar o pedágio no dia em vários locais ou, antecipadamente, pela internet, apresentando o número da placa.” (parágrafo 3)

3. Pela leitura do texto, NÃO se pode inferir que:

- A) de acordo com os exemplos apresentados, o Brasil se mostra como o país mais permissivo com a movimentação de veículos.
- B) dentre os recursos utilizados no combate aos grandes congestionamentos já se poderá contar com os tecnológicos.
- C) embora as medidas sejam adotadas para melhorar o trânsito das grandes cidades, é possível que muitos motoristas tentem burlar essas normas.
- D) o real objetivo dos governantes ao cobrar pedágio dos motoristas é recolher verba suficiente para a conservação das vias.
- E) apesar de as medidas tomadas em relação ao trânsito serem reconhecidamente necessárias, elas não repercutem bem na população.

4. Assinale a opção em que as palavras grifadas foram, correta e respectivamente, classificadas entre parênteses.

- A) “Como enfrentar os congestionamentos que se tornaram uma praga do inferno nas centenárias cidades europeias, cujas ruas estreitas não foram planejadas para tanto carro?” (conjunção - pronome - preposição)
- B) “Já o prefeito de Paris decidiu ampliar as faixas exclusivas de transporte coletivo.” (preposição - artigo definido - verbo)
- C) “Bangcoc, capital da Tailândia, seguiu o exemplo, e a Cidade do México instituiu o rodízio dia sim, dia não, de acordo com a placa. O de São Paulo só vale na hora do rush.” (artigo - preposição - pronome)
- D) “O drama dessas cidades é que a frota aumenta a uma velocidade muito maior que a da malha viária.” (artigo - preposição - artigo)
- E) “Os motoristas parisienses ficaram irritados com a redução de espaço em três dos maiores corredores da cidade, em favor de amplas faixas exclusivas para ônibus, táxis, motos e bicicletas.” (conjunção - substantivo - preposição)

5. Indique a opção em que, no texto, a mudança de posição do determinante grifado acarreta tanto mudança de sentido quanto de classe gramatical.

- A) “Em três cidades da Noruega, incluindo a capital, Oslo, os motoristas também pagam tarifa para circular em certas áreas urbanizadas.” (parágrafo 1)
- B) “Mesmo com uma excelente rede de metrô, tanto os parisienses, quanto os londrinos não abrem mão do automóvel.” (parágrafo 2)
- C) “Outros países já adotaram medidas duras para restringir o uso do automóvel.” (parágrafo 1)
- D) “Como enfrentar os congestionamentos que se tornaram uma praga do inferno nas centenárias cidades europeias...” (parágrafo 1)
- E) “A prefeitura de Londres anunciou uma medida radical e impopular: vai cobrar pedágio na região central a partir de 2003.” (parágrafo 1)

6. Marque a opção em que, segundo a norma culta da língua, ocorre ERRO quanto à concordância.

- A) Os Estados Unidos, que possui a maior malha rodoviária do planeta, tem apenas 7.150 km contra 9.500 km de rodovias pedagiadas do Brasil.
- B) No Estado de São Paulo, o campeão brasileiro de pedágios, foram concedidos 12 lotes à iniciativa privada, mas nove não saíram do papel, estão bloqueados e poderão representar mais cerca de 100 pontos de cobrança.
- C) No Estado do Rio de Janeiro, quase todos os trechos de pista dupla foram concedidos à iniciativa privada.
- D) O Governo Federal concedeu as rodovias e as concessionárias só puderam cobrar depois de fazerem inúmeras obras e implantarem diversos serviços.
- E) No Estado de São Paulo, as concessionárias assumiram rodovias importantes, onde já havia pedágio e, portanto, começaram com receita imediata.

7. Assinale a ideia expressa pela locução grifada abaixo.

Mesmo que a estrada seja privatizada, ela é uma permissionária ou concessionária do poder público e, como tal, está enquadrada no Código de Proteção e Defesa do Consumidor.

- A) causa.
- B) consequência.
- C) conformidade.
- D) condição.
- E) concessão.

8. Marque a alternativa que completa, correta e respectivamente, os espaços do período abaixo.

O usuário, apesar de compulsoriamente ser obrigado _____ aceitar _____ cobrança de pedágio, já revelou, em quase 60% dos casos, que é _____ favor da concessão, mas rejeita _____ quantia estabelecida.

- A) a - a - à - a.
- B) a - a - à - à.
- C) à - à - a - à.
- D) a - a - a - a.
- E) à - à - a - a.

9. Assinale a opção em que ocorre ERRO quanto à acentuação gráfica.

- A) Nosso século é o da aceleração tecnológica e científica, que se operou e continuará a se operar em ritmos antes inconcebíveis.
- B) O homem ainda é prisioneiro do trânsito, em carros que são celas ambulantes, onde, indubitavelmente, desperdiça precioso tempo de vida.
- C) Vigor e potência do automóvel passam a ser encarados como a própria expressão do poder no mundo contemporâneo.
- D) Pela visão de negócios das seguradoras de automóveis, os fatos negam o histórico preconceito quanto à competência da mulher motorista.
- E) Apesar do rigor da chamada Lei Seca, alguns brasileiros demonstram falta de consciência e, na prática, procuram burlar a legislação.

10. Assinale a opção em que o termo grifado foi INCORRETAMENTE substituído por um pronome oblíquo.

- A) “A prefeitura de Londres anunciou uma medida radical e impopular: vai cobrar pedágio na região central a partir de 2003.”

A prefeitura de Londres anunciou-a: vai cobrar pedágio na região central a partir de 2003.

- B) “... mas o objetivo é o mesmo: convencer os motoristas de que só deixando o carro em casa será possível amenizar o pesadelo dos congestionamentos.”

... mas o objetivo é o mesmo: convencê-los de que só deixando o carro em casa será possível amenizar o pesadelo dos congestionamentos.

- C) “Em três cidades da Noruega, incluindo a capital, Oslo, os motoristas também pagam tarifa para circular em certas áreas urbanizadas.”

Em três cidades da Noruega, incluindo a capital, Oslo, os motoristas também pagam-lhe para circular em certas áreas urbanizadas.

- D) “Livingstone pretende instalar câmaras para vigiar os 50 000 carros que entram por hora na região.” Livingstone pretende instalá-las para vigiar os 50 000 carros que entram por hora na região.

- E) “A prefeitura ainda construiu barricadas para impedir que os carros invadam a área restrita ao transporte coletivo.”

A prefeitura ainda construiu barricadas para impedir que os carros invadam-na.

- Geografia e História de Rondônia

11. A Amazônia faz parte de uma gigantesca planície com domínio de terras baixas florestadas, disposta em anfiteatro, enclausurada entre a grande barreira imposta pelas terras cisandinas e pelas bordas dos planaltos Brasileiro e Guianense. Neste espaço, o relevo de Rondônia localiza-se:

- A) junto à planície, área na qual o processo de erosão se sobrepõe ao de sedimentação, rica em sedimentos.
B) próximo à planície, onde há o predomínio do relevo tabular, intercalando chapadas cristalinas e sedimentares.
C) afastado da planície, com natureza cristalina onde os processos de deposição de materiais superam os de desgaste.
D) na área vizinha à planície, onde aparecem terras baixas e o processo erosivo supera o deposicional.
E) próximo à planície, onde predominam terras baixas numa área cortada de norte a sul entre os rios Ji-Paraná e Guaporé.

12. Na composição do PIB do estado de Rondônia, em 2007, aparece a seguinte distribuição – agropecuária: 20,4%; indústria: 14,6%; serviços: 65,0%. Para um estado cujo crescimento está atrelado à expansão da fronteira agrícola, um percentual tão elevado no setor de serviços pode ser justificado a partir de:

- A) ter atraído somente trabalhadores ligados à construção civil.
B) ser a principal área prestadora de serviços na Amazônia ocidental.
C) ter desenvolvido uma agricultura que utiliza pouca mão de obra.
D) dispor de infraestrutura que estimula o desenvolvimento comercial.
E) incentivar a abertura de empresas vinculadas ao turismo ecológico.

13. O agronegócio inverte o sentido das migrações brasileiras: agora se vai do Sul e do Leste para o Norte. A população de Rondônia aumentou a taxas de 16% ao ano durante a década de 1990. A cidade de Buritis é, entre os 5 560 municípios brasileiros, a que mais recebeu migrantes nos últimos tempos – 90% deles vindos das regiões Sul e Sudeste do país. Os que chegaram na última década do século passado, se diferenciam dos que vieram nos anos 70 e 80 pelo fato de:

- A) mudarem o perfil agropecuário do estado investindo no gado leiteiro.
B) terem sido atraídos por terras de boa qualidade a preços mais baixos.
C) realizarem investimentos em cana-de-açúcar para a produção de etanol.
D) utilizarem mão de obra boliviana, qualificada no cultivo de oleaginosas.
E) associarem-se a estrangeiros no beneficiamento da produção agrícola.

14. Com muito atraso, produtores rurais finalmente apelam para as hidrovias amazônicas para o escoamento da sua produção. A soja chega ao exterior a partir do rio Madeira, com 910 Km de navegabilidade ajustada. Barcaças de 3 200 toneladas são rastreadas por satélites e orientadas por sonares. O calado é de cinco metros. Na secular hidrovia do Mississipi, o calado é de somente três metros e a carga não pode passar de 1 100 toneladas por barcaça.



Um dos fatores que garante a navegabilidade do rio Madeira é:

- A) todos os afluentes à direita do rio Amazonas são navegáveis.
- B) sua profundidade varia somente entre a estação chuvosa e seca.
- C) possuir um grande número de eclusas ao longo do trajeto.
- D) ser ligado por canais artificiais que garantem o volume de água.
- E) não apresentar corredeiras porque não tem pedras no seu leito.

15. No mapa da questão nº 14, aparece um trecho da rodovia BR-364 atravessando o estado de Rondônia e a imagem retrata basicamente um dos objetivos da rodovia: escoamento da produção de grãos do Centro-Oeste. Quanto ao outro propósito desta rodovia, que vai interferir na economia do estado é:

- A) permitir o acesso mais rápido aos portos do Pacífico.
- B) acelerar o intercâmbio comercial com o Peru e a Bolívia.
- C) tornar o estado um elo entre o Brasil e o Pacto Andino.
- D) explorar o potencial turístico existente ao redor da rodovia.
- E) agilizar as operações que envolvem a extração da madeira.

16. É possível detectar algumas fases bem definidas na história da ocupação humana na Amazônia Brasileira. Após um longo período pré-histórico, que se desenvolveu por alguns milênios – envolvendo grupos étnicos e linguísticos vindos por rotas complexas – sucederam-se três modelos históricos de apropriação e utilização dos espaços regionais. Em relação ao estado de Rondônia, a sequência correta é:

- A) extração de madeiras nobres / extração da borracha / garimpos em floramentos cristalinos e extração de diamantes.
- B) exploração do ouro e diamantes / extração de madeiras / implantação de núcleos de povoamento.
- C) exploração de pedras preciosas / extração da borracha / implantação de núcleos de colonização.
- D) coleta de drogas do sertão / exploração de ouro e diamantes / abertura de rodovias de penetração.
- E) exploração do ouro e diamantes / extração da borracha / implantação de agrovilas ao longo das rodovias de penetração.

17. Muitos consideram a Estrada de Ferro Madeira-Mamoré como precursora da rodovia BR-364. O início da sua construção está vinculado ao Tratado de Petrópolis que resolveu as disputas territoriais entre o Brasil e a Bolívia, ficando a construção da ferrovia como contrapartida para concretizar uma aspiração boliviana no que diz respeito ao problema de:

- A) realizar a ligação ao Pacífico.
- B) integração ao Centro-Oeste.
- C) acessibilidade ao rio Amazonas.
- D) escoamento de sua produção mineral.
- E) ocupar a fronteira com o Peru.

18. O início da exploração da borracha amazônica foi próspero, mas a bonança durou pouco. Em 1912, a produção atingia o pico de 42 mil toneladas. A borracha representava 40% de todas as exportações nacionais. Em um segundo momento, entre 1942 e 1945, a borracha teve uma sobrevida que não foi com a mesma pujança do início do século, e logo voltou a perder em expressão no cenário econômico nacional. Nas duas fases mais expressivas da produção, um fator apontado abaixo pode ser considerado como responsável pelo declínio da borracha brasileira:

- A) falta de crédito à extração e ao beneficiamento do látex.
- B) precariedade da mão de obra usada pelos seringueiros.
- C) dificuldade para escoar a produção até o porto de Belém.
- D) concorrência da borracha produzida pelos asiáticos.
- E) população indígena dificultava o acesso aos seringais.


19. Porto Velho nasceu em 1907, como “porto velho dos militares”, referência a uma guarnição que acampara no local em uma das guerras que ocorreram durante a segunda metade do século XIX, entre as nações do continente. Mais tarde, a região passou a ser usada para descarregar material para construção da estrada de ferro Madeira-Mamoré. O conflito continental a que o texto faz referência foi:

- A) Guerra do Pacífico.
- B) Guerra do Paraguai.
- C) Guerra do Chaco.
- D) Guerra da Cisplatina.
- E) Guerra dos Farrapos.

20. Consideradas como as duas maiores obras do governo Lula, as hidrelétricas de Santo Antônio e Jirau devem consumir até R\$ 28 bilhões em investimentos para gerar, a partir de 2013, 6 450 MW de energia e tentar tirar o país da rota de um novo apagão. Apesar de toda euforia provocada pela construção das obras e, os possíveis benefícios que elas irão trazer, a consequência social mais provável que irá afetar parte da população pode ser assinalada em:


- A) desaparecimento por completo da pesca.
- B) fim do garimpo que ainda atrai aventureiros.
- C) remoção de famílias que vivem na beira do rio.
- D) extinção dos pastos que atendem à pecuária.
- E) lagos das usinas vão afetar o setor madeireiro.

- Noções de Informática

21. Sobre a área de Notificação do Windows XP exibida abaixo, ao clicar sobre a imagem :



- A) é acionada a aplicação associada a esta imagem.
- B) é exibida a tela "Propriedades de Data e hora".
- C) é ativado o editor de imagens Paint, da Microsoft.
- D) o computador é desligado.
- E) os ícones ocultos são exibidos.

22. Na barra de ferramentas "Desenho" do Microsoft Office Word 2003, o ícone  insere no documento:

- A) uma imagem.
- B) uma caixa de texto.
- C) um diagrama.
- D) um clip-art.
- E) um fluxograma.

23. No Microsoft Office Word 2003, a combinação de teclas do teclado que centraliza o parágrafo é:

- A) CTRL+E
- B) CTRL+C
- C) CTRL+J
- D) SHIFT+F2
- E) F4

24. O Microsoft Office Excel 2003, ao clicar na função "Limpar Conteúdo", quando uma determinada célula estiver selecionada, limpará na célula selecionada:

- A) a formatação da borda.
- B) a fonte.
- C) a fórmula, caso a célula possua uma associada.
- D) a cor de fundo.
- E) o tamanho da fonte.

25. O ícone do Microsoft Office Excel 2003 que permite criar a aparência abaixo para "Edital Concurso DER-RO 2010" é:

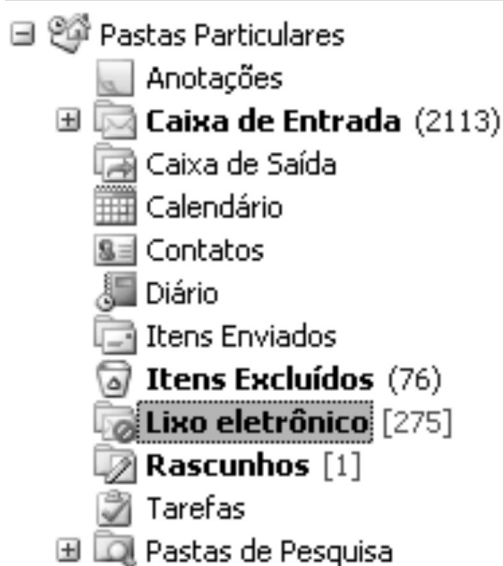
	A	B	C	D
1				
2		Edital Concurso DER-RO 2010		
3				
4				
5				



26. Considere a situação em que um determinado indivíduo deseje receber uma lista de atualizações de sites escolhidos por ele próprio, no momento em que elas ocorram como, por exemplo, sites de notícias, sites de previsão do tempo e informações econômicas e blogs. A tecnologia da internet que atende a essa necessidade chama-se:

- A) RSS.
- B) Pesquisa Avançada, do Google.
- C) Favoritos, do Windows Explorer.
- D) Wi-Fi.
- E) Twitter.

27. Sobre a organização de pastas do Microsoft Outlook exibida abaixo, é correto afirmar que a pasta:



- A) **Lixo eletrônico** possui 275 mensagens não lidas.
- B) **Contatos** contém mensagens enviadas pelos contatos cadastrados no correio eletrônico.
- C) **Caixa de Entrada** possui 2113 emails não lidos.
- D) Tarefas contém a relação de ações que devem ser tomadas para garantir que as mensagens sejam enviadas de forma correta e segura.
- E) **Lixo eletrônico** contém as mensagens que foram excluídas permanentemente do seu correio eletrônico.

28. No Microsoft Outlook, é correto afirmar que a função Excluir:

- A) apaga permanentemente uma mensagem.
- B) permite apagar pastas que contenham mensagens, mas antes de apagá-las, exibe mensagem solicitando confirmação.
- C) tem acesso restrito ao administrador do sistema.
- D) não permite apagar mensagens com arquivo anexado.
- E) não permite apagar mensagens contaminadas por vírus.

29. O endereço de uma página *web* é representado pela sigla:

- A) URL
- B) WWW
- C) HTTP
- D) MSN
- E) *Home Page*

30. Ao selecionar mais de um documento no Windows XP, é possível realizar diversas operações, EXCETO:

- A) criar atalho.
- B) recortar.
- C) copiar.
- D) excluir.
- E) mesclar os documentos selecionados, transformando-os em um único documento.

CONHECIMENTOS ESPECÍFICOS:

- Noções de Direito Administrativo

31. Sobre a responsabilidade civil do Estado, é correto afirmar que:

- A) o Estado não tem qualquer responsabilidade pelos danos que seus agentes, nessa qualidade, causarem ao particular.
- B) para que o lesado possa exercer seu direito à reparação dos prejuízos, é indispensável a comprovação de que o fato danoso se originou do mau funcionamento do serviço.
- C) para que o lesado possa exercer seu direito à reparação dos prejuízos, é indispensável a identificação do agente público causador do dano.
- D) somente as pessoas jurídicas de direito público respondem pelos danos que seus agentes, nessa qualidade, causarem a terceiros.
- E) as pessoas jurídicas de direito público e as de direito privado prestadoras de serviços públicos responderão pelos danos que seus agentes, nessa qualidade causarem a terceiros.

32. O controle administrativo é o poder de fiscalização e correção que a Administração Pública exerce sobre sua própria atuação, sendo correto afirmar sobre o tema que:

- A) o recurso administrativo somente é dotado do efeito devolutivo.
- B) nos recursos administrativos, por expressa determinação constitucional, é assegurada a ampla defesa e o contraditório.
- C) é vedado o pedido de reconsideração no âmbito da Administração Pública.
- D) o controle de legalidade do ato administrativo somente pode ser realizado pela Administração Pública.
- E) os atos praticados pela Administração somente se sujeitam a controle interno, isto é, realizado pela própria Administração.

33. Sobre descentralização e delegação de competência, assinale a alternativa correta.

- A) A delegação de competência é utilizada como instrumento de centralização administrativa.
- B) A delegação de competência deve ser utilizada com o objetivo de assegurar maior rapidez e objetividade às decisões, situando-as na proximidade dos fatos, pessoas ou problemas a atender.
- C) A descentralização implica a realização das atividades administrativas por intermédio dos inúmeros órgãos e agentes que compõem a estrutura funcional da Administração Direta.
- D) O ato de delegação é sempre genérico, e independe de indicação da autoridade delegante, da autoridade delegada e das atribuições objeto de delegação.
- E) Não é permitida a delegação de competência no âmbito da Administração Pública brasileira.

34. A retribuição pecuniária pelo exercício do cargo público é denominada:

- A) indenização.
- B) vencimento.
- C) adicional.
- D) empenho.
- E) gratificação.

35. O poder administrativo representa uma prerrogativa especial de direito público outorgada aos agentes do Estado. Sobre o tema, é correto afirmar que:

- A) é legítima a conduta do agente que se afasta do interesse público.
- B) os poderes administrativos são sempre renunciáveis.
- C) o uso do poder é a utilização normal, pelos agentes públicos, das prerrogativas que a lei lhes confere.
- D) não constitui abuso de poder a conduta do agente público fora dos limites de sua competência.
- E) abuso de poder é a conduta ilegítima, que guarda conformidade com o que dispõe a lei.

- Noções de Direito Constitucional

36. Acerca das regras constitucionais que tratam da Administração Pública é correto afirmar que:

- A) os acréscimos pecuniários percebidos por servidor público serão computados e acumulados para fins de concessão de acréscimos ulteriores.
- B) é vedada a contratação por tempo determinado, ainda que para atender a necessidade temporária de excepcional interesse público.
- C) os vencimentos dos cargos do Poder Legislativo e do Poder Judiciário poderão ser superiores aos pagos pelo Poder Executivo.
- D) é garantido ao servidor público civil o direito à livre associação sindical.
- E) são exercidos exclusivamente por servidores ocupantes de cargo efetivo as funções de confiança e os cargos em comissão.

37. Sobre o Poder Legislativo, assinale a alternativa correta.

- A) A Câmara dos Deputados compõe-se de representantes dos Estados, eleitos pelo sistema proporcional.
- B) O Poder Legislativo é exercido pelo Congresso Nacional, que se compõe da Câmara dos Deputados e do Senado Federal.
- C) O Senado Federal é integrado por representantes do povo, escolhidos de acordo com o sistema proporcional.
- D) Cada Senador será eleito com um suplente.
- E) As deliberações de cada Casa e de suas Comissões somente serão tomadas pela maioria absoluta de votos, presente a unanimidade de seus membros.

38. O Título IV, Capítulo II da Constituição Federal elenca regras sobre o Poder Executivo. Sobre o tema, é correto afirmar que:

- A) será considerado eleito Presidente o candidato que, registrado por partido político, obtiver a maioria absoluta de votos, não computados os em branco e os nulos.
- B) o Presidente e o Vice-Presidente da República tomarão posse em sessão na Câmara dos Deputados, prestando o compromisso de manter, defender e cumprir a Constituição.
- C) compete privativamente ao Presidente da República exercer, com o auxílio dos Deputados e Senadores, a direção superior da administração estadual.
- D) os Ministros de Estado serão escolhidos dentre brasileiros maiores de trinta e cinco anos e no exercício dos direitos políticos.
- E) a eleição do Presidente da República não importará a do Vice-Presidente com ele registrado.

39. O processo legislativo NÃO compreende a elaboração de:

- A) decretos legislativos.
- B) leis complementares.
- C) medidas provisórias.
- D) resoluções.
- E) alvarás.

40. A segurança pública, dever do Estado, direito e responsabilidade de todos, é exercida para a preservação da ordem pública e da incolumidade das pessoas e do patrimônio. Acerca do tema, assinale a alternativa correta.

- A) A polícia federal instituída por lei como órgão permanente, é organizada e mantida pelos Estados.
- B) As polícias militares e corpos de bombeiros militares subordinam-se ao Ministro da Defesa.
- C) Incumbem às polícias civis, ressalvada a competência da União, as funções de polícia judiciária e a apuração de infrações penais, exceto as militares.
- D) A polícia ferroviária federal, órgão permanente, organizado e mantido pela União e estruturado em carreira, destina-se, na forma da lei, ao patrulhamento ostensivo das rodovias federais.
- E) A polícia militar destina-se, dentre outras atribuições, a apurar infrações penais contra a ordem política e social ou em detrimento de bens, serviços e interesses da União ou de suas entidades autárquicas e empresas públicas.

- Conhecimentos na Área de Formação

41. O Serviço Social brasileiro sofreu influências em seus primórdios, na década de 1930, e posteriormente na década de 1940, dos pensamentos:

- A) franco-belga e sociológico conservador norte-americano.
- B) eurocêntrico humanista e liberal inglês.
- C) liberalizante latino-americano e anglosaxônico.
- D) alternativo sul-americano e crítico europeu.
- E) contrarreformista alemão e neoliberal conservador.

42. Pode-se considerar como pano de fundo do processo de institucionalização do Serviço Social como profissão na sociedade, segundo Marilda Iamamoto:

- A) a solidariedade.
- B) a questão social.
- C) a transformação societária.
- D) o voluntariado.
- E) a práxis revolucionária.

43. No processo de institucionalização, a profissão de Serviço Social amplia sua esfera de ação e é incorporada:

- A) aos princípios do voluntariado cristão.
- B) à distribuição da caridade privada.
- C) aos programas que concretizam as políticas sociais.
- D) às demandas advindas da filantropia.
- E) aos movimentos sociais, prioritariamente.

44. A construção de um novo perfil profissional, segundo José Paulo Netto, entrou na agenda do Serviço Social como uma questão para o redimensionamento do ensino com vistas à formação de um profissional capaz de responder, com eficácia e competência:

- A) às suas questões internas e assistenciais.
- B) às exigências privadas e às procuras externas.
- C) aos apelos sociais e às demandas particulares.
- D) às demandas tradicionais e às demandas emergentes na sociedade brasileira.
- E) às perspectivas institucionais e aos anseios profissionais.

45. Numa democracia efetiva, a cidadania pode ser entendida, segundo Marilda Iamamoto, como a capacidade de todos os indivíduos se apropriarem dos bens socialmente produzidos, de atualizarem as potencialidades de realização humana, abertas pela vida social em cada:

- A) segmento político-partidário.
- B) esfera sociopolítica.
- C) demanda institucional.
- D) cenário imposto deterministicamente.
- E) contexto historicamente determinado.

46. O Serviço Social latino-americano está reconstruindo uma face acadêmica, profissional e social renovada, cujas origens remontam ao movimento de reconceitualização, voltado à defesa:

- A) dos direitos de cidadania e dos valores democráticos, na perspectiva da liberdade, da equidade e da justiça social.
- B) dos interesses hegemônicos e da ética particularista, cuja intencionalidade está no resgate da cidadania.
- C) da democracia participativa e dos interesses institucionais.
- D) da promoção social, do ajuste societário e da harmonização das situações disfuncionais.
- E) da funcionalidade social, da melhor adequação e alocação de bens e serviços nos casos prioritários.

47. Considerando, segundo Marilda Iamamoto, a historicidade da profissão de Serviço Social, seu caráter transitório e socialmente condicionado, esta se configura e se recria no âmbito das relações entre o Estado e a sociedade, fruto de determinantes macrossociais que estabelecem limites e possibilidades ao exercício profissional, e está inscrita na:

- A) segmentação societária e nas políticas trabalhistas.
- B) divisão social e técnica do trabalho e apoiada nas relações de propriedade que a sustentam.
- C) divisão territorial da implementação de políticas setoriais e de geração de emprego e renda.
- D) implantação de programas, projetos e intervenções técnicas do trabalho.
- E) departamentalização institucional e na construção de programas e serviços.

48. Na atualidade, a questão social diz respeito ao conjunto multifacetado das expressões das desigualdades sociais engendradas na sociedade capitalista, impensáveis sem a intermediação do Estado. Assim, "questão social" expressa:

- A) distorções sociais e setoriais, conflituadas por interesses antagônicos.
- B) dispersões existenciais, político-partidárias e definições socioeconômicas e de políticas setoriais.
- C) desigualdades econômicas, políticas e culturais das classes sociais, mediadas por disparidades nas relações de gênero, características étnico-raciais e formações regionais.
- D) o jogo contra-hegemônico de interesses distintos e a execução de intervenções que transformem a sociedade.
- E) interesses hegemônicos e uma direção social que atenda às demandas das camadas representativas.

49. O Serviço Social brasileiro, nas últimas décadas, redimensionou-se e renovou-se no âmbito da sua interpretação teórico-metodológica:

- A) na área sociopolítica ética.
- B) nos setores estratégicos, políticos e econômicos.
- C) no âmbito das políticas, da economia e social.
- D) no campo dos valores, da ética e da política.
- E) com o intuito de valorizar as ações interventivas, econômica e social.

50. O projeto profissional expressa uma condensação das dimensões:

- A) teórico-prática e socioassistencial, inclusive com a explicitação do vínculo de classe dos profissionais.
- B) fundamentais para tal exercício, e que se articulem aos interesses hegemônicos societários.
- C) socioeconômicas e político-partidárias, e que insiram as condicionalidades das políticas sociais.
- D) valorativa, socioassistencial e teórico-prático-metodológica, que se entrelacem às políticas sociais.
- E) ético-políticas, teórico-metodológicas e técnico-operativas no Serviço Social, englobando a formação e o exercício profissional.

51. A seguridade social, segundo a Constituição Federal, compreende um conjunto integrado de ações de iniciativa dos poderes públicos e da sociedade, destinadas a assegurar os direitos relativos:

- A) à educação, à saúde e à assistência social.
- B) à economia, à assistência social e às políticas sociais.
- C) à educação, à saúde e à previdência social.
- D) à política social, à saúde e à educação.
- E) à saúde, à previdência social e à assistência social.

52. Assegurar à criança e ao adolescente, com absoluta prioridade, a efetivação dos direitos referentes à vida, à saúde, à alimentação, à educação, ao esporte, ao lazer, à profissionalização, à cultura, à dignidade, ao respeito, à liberdade e à convivência familiar e comunitária, segundo o Estatuto da Criança e do Adolescente, é dever:

- A) do poder público, dos conselhos de direitos, dos conselhos tutelares e das famílias.
- B) da sociedade civil organizada, das famílias e do Estado.
- C) da comunidade, dos conselhos representativos e do poder público.
- D) da família, da comunidade, da sociedade em geral e do poder público.
- E) do Estado, do município e das famílias.

53. Considera-se, para os efeitos do Estatuto da Criança e do Adolescente:

- A) criança, a pessoa até 11 anos e 11 meses de idade; e adolescente, aquela entre 12 e 21 anos de idade.
- B) criança, a pessoa até 12 anos de idade; e adolescente, aquela entre 12 e 21 anos de idade.
- C) criança, a pessoa até 12 anos de idade incompletos; e adolescente, aquela entre 12 e 18 anos de idade.
- D) criança, a pessoa até 11 anos de idade; e adolescente, aquela entre 12 e 16 anos de idade.
- E) criança, a pessoa até 12 anos de idade completos; e adolescente aquela entre 12 e 21 anos de idade.

54. A questão do envelhecimento tem sido discutida nas últimas décadas, e em 1994 o Brasil passou a ter uma Política Nacional do Idoso (Lei nº 8.842). Cinco anos depois, foram criadas a Política Nacional de Saúde do Idoso (Portaria MS 1.395/1999) e a Lei nº 10.741/2003 – Estatuto do Idoso, destinado a:

- A) prestar serviços às pessoas com idade superior a 65 (sessenta e cinco) anos.
- B) assegurar todas as prioridades constitucionais às pessoas com idade superior a 65 (sessenta e cinco) anos.
- C) regular os direitos assegurados às pessoas com idade igual ou superior a 60 (sessenta) anos.
- D) sistematizar os serviços para as mulheres idosas de idade superior a 60 (sessenta) anos e homens idosos com idade superior a 70 (setenta) anos.
- E) organizar os programas e serviços para as mulheres idosas de idade superior a 65 (sessenta e cinco) anos e homens idosos com idade superior a 70 (setenta) anos.

55. De acordo com o Art. 2º da Lei nº 7.853, cabe ao poder público e seus órgãos assegurar às pessoas portadoras de deficiência:

- A) o pleno exercício de seus direitos básicos, inclusive dos direitos à educação, à saúde, ao trabalho, ao lazer, à previdência social, ao amparo à infância e à maternidade, e de outros que, decorrentes da Constituição e das leis, propiciem seu bem-estar pessoal, social e econômico.
- B) com prioridade absoluta, o pronto-atendimento assegurado pelas legislações em vigor nas áreas de educação, saúde e trabalho, inclusive os direitos sociais e políticos.
- C) a ampla participação societária, inclusive direitos à participação social, a políticas setoriais, à aposentadoria, permanência em instituições apropriadas, à previdência social e o amparo, decorrentes da Constituição e das leis, que propiciem seu bem-estar pessoal, social e econômico.
- D) a execução de intervenções básicas, as políticas sociais relativas à previdência social e outras que, decorrentes da Constituição e das leis, propiciem seu bem-estar pessoal, social e econômico.
- E) o desenvolvimento de ações no âmbito das políticas setoriais, a aposentadoria, a permanência em instituições apropriadas, a previdência social, o amparo, decorrentes da Constituição e das leis, que propiciem seu bem-estar pessoal, social e econômico.

56. São consideradas atribuições privativas do assistente social:

- A) implementar políticas, definir os critérios de elegibilidade, prestar informações sistematizadas, participar de reuniões.
- B) fazer visitas domiciliares e interinstitucionais, atender os usuários, participar de estudo em grupo.
- C) fomentar a participação social, discutir temas relevantes, participar de reuniões grupais.
- D) elaborar laudos, participar de entrevistas, dar orientações e encaminhamentos.
- E) realizar vistorias, perícias técnicas, laudos periciais, informações e pareceres sobre a matéria de Serviço Social.

57. Cabe ao poder público, segundo a Política Nacional de Assistência Social, conferir unidade aos esforços sociais, a fim de compor uma rede nacional de forma a:

- A) integrar ações subsidiárias e complementares, com a proposta de garantir a efetivação de políticas setoriais.
- B) romper com a prática das ajudas parciais e fragmentadas, propugnando por direitos a serem assegurados de forma integral, com padrões de qualidade passíveis de avaliação.
- C) articular intervenções de caráter preventivo, socioassistencial, que estejam de acordo com as condicionalidades das políticas a serem implementadas.
- D) implementar, em caráter complementar, as políticas setorializadas e as ações interventivas.
- E) subsidiar as ações desenvolvidas, articular-se com os demais setores e capacitar os atores envolvidos.

58. A Política Pública de Assistência Social marca sua especificidade no campo das políticas sociais, pois:

- A) define a filantropia como pilar da responsabilidade social na transferência de renda aos que necessitem.
- B) garante aos cidadãos liberdade para obter seus direitos fundamentais junto à iniciativa privada.
- C) configura responsabilidades de Estado próprias a serem asseguradas aos cidadãos brasileiros.
- D) reduz a presença do Estado que existia através da Proteção Social, confirmando seu caráter liberalizante.
- E) é baseada em programas de geração de emprego e renda e benefícios não contributivos.

59. Correspondem, respectivamente, a um direito e a um dever do assistente social, segundo o Código de Ética da profissão:

- A) inviolabilidade do local de trabalho e respectivos arquivos e documentação, garantindo o sigilo profissional; participar de programas de socorro à população em situação de calamidade pública, no atendimento e defesa de seus interesses e necessidades.
- B) desagravo público por ofensa que atinja a sua honra profissional; inviolabilidade do local de trabalho e respectivos arquivos e documentação, garantindo o sigilo profissional.
- C) permitir ou exercer a supervisão de aluno de Serviço Social em Instituições Públicas ou Privadas que não tenham em seu quadro assistente social que realize acompanhamento direto ao aluno estagiário; participar de programas de socorro à população em situação de calamidade pública, no atendimento e defesa de seus interesses e necessidades.
- D) acatar determinação institucional que fira os princípios e diretrizes do Código, caso não fazê-lo signifique sua demissão; utilizar seu número de registro no Conselho Regional no exercício da Profissão.
- E) utilizar seu número de registro no Conselho Regional no exercício da Profissão; desagravo público por ofensa que atinja a sua honra profissional.

60. Marque a única alternativa que descreve uma ação que NÃO é vedada ao assistente social pelo Código de Ética Profissional.

- A) Transgredir qualquer preceito do Código, bem como da Lei de Regulamentação da Profissão.
- B) Pleitear para si ou para outrem emprego, cargo ou função que estejam sendo exercidos por colega.
- C) Acatar determinação institucional que fira os princípios e diretrizes do Código.
- D) Desagravo público por ofensa que atinja a sua honra profissional.
- E) Compactuar com o exercício ilegal da Profissão, inclusive nos casos de estagiários que exerçam atribuições específicas, em substituição aos profissionais.