

# TÉCNICO EM CONTABILIDADE

Data: 17/10/2010  
Duração: 4 horas

Leia atentamente as instruções abaixo.

01- Você recebeu do fiscal o seguinte material:

a) Este Caderno, com 40 (quarenta) questões da Prova Objetiva, sem repetição ou falha, conforme distribuição abaixo, e o tema da Prova Discursiva.

Português	Raciocínio Lógico	Conhecimentos Específicos
01 a 10	11 a 20	21 a 40

b) Um **Cartão de Respostas** destinado às respostas das questões objetivas formuladas nas provas.

c) Um **Caderno da Prova Discursiva**.

02- Verifique se este material está em ordem e se o seu nome e número de inscrição conferem com os que aparecem no **Cartão de Respostas**. Caso contrário, notifique **imediatamente** o fiscal.

03- Após a conferência, o candidato deverá assinar no espaço próprio do **Cartão de Respostas**, com caneta esferográfica de tinta na cor **azul** ou **preta**.

04- No **Cartão de Respostas**, a marcação da alternativa correta deve ser feita cobrindo a letra e preenchendo todo o espaço interno do quadrado, com caneta esferográfica de tinta na cor **azul** ou **preta**, de forma contínua e densa.

Exemplo: 

A	B	<input checked="" type="checkbox"/>	D	E
---	---	-------------------------------------	---	---

05- Para cada uma das questões objetivas, são apresentadas 5 (cinco) alternativas classificadas com as letras (A, B, C, D e E), mas só uma responde adequadamente à questão proposta. Você só deve assinalar **uma alternativa**. A marcação em mais de uma alternativa anula a questão, mesmo que uma das respostas esteja correta.

06- Será eliminado do Concurso Público o candidato que:

a) Utilizar, durante a realização das provas, telefone celular, bip, walkman, receptor/transmissor, gravador, agenda telefônica, notebook, calculadora, palmtop, relógio digital com receptor ou qualquer outro meio de comunicação.

b) Ausentar-se da sala, a qualquer tempo, portando o **Cartão de Respostas**.

**Observações:** Por motivo de segurança, o candidato só poderá retirar-se da sala após 1 (uma) hora a partir do início da prova.

O candidato que optar por se retirar sem levar seu Caderno de Questões não poderá copiar sua marcação de respostas, em qualquer hipótese ou meio. O descumprimento dessa determinação será registrado em ata, acarretando a eliminação do candidato.

Somente decorridas 2 horas de prova, o candidato poderá retirar-se levando o seu Caderno de Questões.

07- Reserve os 30 (trinta) minutos finais para marcar seu **Cartão de Respostas**. Os rascunhos e as marcações assinaladas no **Caderno de Questões** não serão levados em conta.

## PORTUGUÊS

Leia o texto a seguir e responda às questões de nº 01 a 10.

## ENVELHECIMENTO HUMANO

Com o aumento da expectativa de vida e a melhora geral da saúde das pessoas, o ritmo de envelhecimento da população está mais lento e o peso dos idosos sobre o restante da sociedade pode não ser tão grande quanto o temido, defende um estudo publicado na última edição da revista "Science".

De acordo com os cientistas, os atuais cálculos levam em conta idades cronológicas fixas, que não servem mais como parâmetros para uma medida acurada do custo dos idosos para a economia.

– A maior parte das informações sobre envelhecimento vem de indicadores publicados pelas Nações Unidas e outras agências de estatísticas – conta o professor Warren Sanderson, um dos autores do levantamento. – Estes indicadores, usados mundialmente, são baseados em idades cronológicas e muitas vezes consideram uma pessoa idosa quando ela atinge 65 anos de idade ou até menos.

Tradicionalmente, a razão de dependência dos idosos, isto é, o número de pessoas com 65 anos ou mais dividido pelo número daqueles em idade economicamente ativa, é usada para calcular o peso do envelhecimento sobre uma sociedade e seus sistemas de pensão.

Mas os autores do estudo dizem que esta medida está defasada, pois as pessoas vivem mais e alguém aos 65 não pode mais ser considerado um idoso. O problema também é observado quando se calcula o peso do envelhecimento sobre os sistemas de saúde, já que seus custos se concentram nos últimos anos de vida, que acontecem cada vez mais tarde.

Os pesquisadores sugerem substituir esta razão por outra, em que se divide o número de adultos incapazes com os demais. Nesta conta, a velocidade do envelhecimento da população cai 80%, o que deverá mudar as políticas públicas.

(Jornal O Globo, 15 de setembro de 2010, com adaptações)

**01.** De acordo com o texto, em relação aos "idosos", um novo cálculo deve considerar:

- A) os recentes estudos e o temor do envelhecimento da população
- B) a maior expectativa de vida e a melhora geral da saúde das pessoas
- C) o tempo de vida dos jovens e o restante da sociedade, isto é, os idosos
- D) o número de pessoas com 65 anos e o número de pessoas em idade economicamente ativa
- E) a idade cronológica e o peso dos idosos sobre o restante da sociedade

**02.** No fragmento "Com o aumento da expectativa de vida..." (l. 1), a preposição em destaque tem valor semântico de:

- A) tempo
- B) finalidade
- C) causa
- D) modo
- E) concessão

**03.** No fragmento "Tradicionalmente, a razão de dependência dos idosos..." (l. 15), a palavra em destaque significa:

- A) julgamento de ideias universais
- B) bom senso
- C) lei moral
- D) ponto de vista
- E) relação entre um valor e outro

**04.** De acordo com a coerência e a coesão do texto, estabelece uma contraposição de ideias ao parágrafo anterior o parágrafo:

- A) 2º
- B) 3º
- C) 4º
- D) 5º
- E) 6º

**05.** Em relação à pontuação, pode-se afirmar que:

- A) Em "...quanto o temido, defende..." (l. 4), a vírgula pode ser deslocada, sem prejuízo gramatical, para depois da palavra "quanto".
- B) A vírgula empregada em "...idades cronológicas fixas, que não servem mais..." (l. 7) poderia ser retirada sem prejuízo semântico ou gramatical.
- C) O travessão empregado em "...agências de estatísticas – conta o professor Warren Sanderson..." (l. 10/11) poderia ser substituído por uma vírgula, sem prejuízo gramatical.
- D) O travessão empregado em "– A maior parte das informações..." (l. 9) poderia ser retirado, porque não introduz o início de uma fala.
- E) Em "Tradicionalmente, a razão" (l. 15), a vírgula pode ser substituída por dois pontos, sem prejuízo gramatical ao texto.

**06.** Dentre as palavras abaixo, aquela que **não** apresenta plural metafônico, isto é, aquela cujo plural **não** determina mudança de timbre da vogal tônica é:

- A) o idoso
- B) o acordo
- C) o despojo
- D) o reforço
- E) o forno

**07.** No segmento "...a razão de dependência dos idosos, isto é, o número de pessoas..." (l. 15/16), a expressão em destaque denota:

- A) adição
- B) afirmação
- C) explicação
- D) conclusão
- E) retificação

**08.** Acerca da concordância, pode-se afirmar que:

- A) Em "A maior parte das informações sobre envelhecimento vem de indicadores..." (l. 9/10), o verbo poderia ser flexionado no plural, de acordo com a norma culta
- B) Em "...idades cronológicas fixas, que não servem mais como parâmetros..." (l. 7), o verbo poderia ser flexionado no singular, pois está inserido em uma oração adjetiva.
- C) Em "...economicamente ativa, é usada para calcular..." (l. 17), poder-se-ia usar "usado" em vez de "usada", para concordar com "peso" (l. 17)
- D) Em "...não pode mais ser considerado um idoso." (l. 20/21), a palavra "considerado" poderia ser substituída por "considerados" para concordar com idosos, sem prejuízo para a correção gramatical do período.
- E) Em "Os pesquisadores sugerem substituir..." (l. 25), o verbo "substituir" pode ser flexionado no plural, desde que se mantenha também no plural a forma "sugerem".

**09.** A palavra "envelhecimento" é formada por:

- A) derivação prefixal
- B) derivação sufixal
- C) derivação prefixal e sufixal
- D) derivação parassintética
- E) composição por aglutinação

**10.** Justifica-se a acentuação da palavra "saúde" pela mesma regra que determina acentuar a palavra:

- A) flúor
- B) cútis
- C) última
- D) número
- E) balaústre


## RACIOCÍNIO LÓGICO

11. Em vários postos de combustíveis o litro da gasolina custa R\$2,80 e, sobre este valor, 40% representa o imposto cobrado pelo governo. Sem o imposto, o litro da gasolina custaria:

- A) R\$1,62  
B) R\$1,68  
C) R\$1,74  
D) R\$1,80  
E) R\$1,86

12. O telescópio espacial Hubble permitiu aos cientistas observar objetos muito distantes, que nunca tinham sido vistos antes.

A foto ao lado mostra a galáxia NCG3982, cujo centro está a cerca de 60 milhões de anos-luz da Terra e cada ano-luz (a distância que a luz percorre em um ano) é igual a 9,5 trilhões de quilômetros.



A nossa distância ao centro dessa galáxia é, em quilômetros, representada pelo número  $5,7 \times 10^n$ , onde  $n$  vale:

- A) 18  
B) 19  
C) 20  
D) 21  
E) 22

13. Os dígitos do número 830 estão em ordem decrescente. Os números 441 e 733 não possuem seus dígitos em ordem decrescente, pois seus dígitos não são distintos.

A quantidade de números entre 100 e 999 que possuem seus dígitos em ordem decrescente é:

- A) 180  
B) 160  
C) 144  
D) 120  
E) 90

14. Em uma pequena rua sem saída há apenas três casas de cada lado, e cada casa tem um número.



Os números pares ficam de um lado, os ímpares do outro, e a média dos números das casas é 24,5. No mês passado, uma das casas foi demolida, e a média dos números das casas restantes passou a ser 22,8.

O número da casa demolida era:

- A) 36  
B) 33  
C) 30  
D) 27  
E) 24

15. Considere as afirmações:

- Todo carro com 10 anos ou mais de uso é velho.
- Todo carro velho dá defeito.

Destas afirmações pode-se concluir que:

- A) Um carro com menos de 10 anos de uso não dá defeito.  
B) Se um carro dá defeito, então é velho.  
C) Se um carro não dá defeito, então tem menos de 10 anos de uso.  
D) Carro novo pode dar defeito.  
E) Carro com 12 anos de uso pode não dar defeito.

16. Em um saco há 24 bolinhas, todas do mesmo tamanho e peso: 7 são verdes, 8 são amarelas e 9 são azuis. Sérgio disse que, no escuro, vai retirar do saco  $n$  bolinhas e terá a certeza de que, entre elas, conseguirá encontrar 2 bolinhas de cada cor. O menor valor possível de  $n$  para que Sérgio tenha essa certeza é:

- A) 9  
B) 12  
C) 17  
D) 18  
E) 19

17. Cada um dos amigos Fábio, Hugo, Lucas e Mário torce por um time diferente; um é tricolor, um é flamenguista, um é vascaíno, e um é botafoguense.

Considere as afirmações:

- I- Fábio é flamenguista ou Hugo é vascaíno.
- II- Se Lucas é tricolor, então Mário não é botafoguense.
- III- Se Hugo é vascaíno, então Mário é botafoguense.

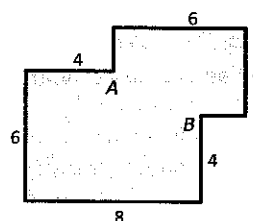
Sabendo que Lucas é tricolor, pode-se concluir que:

- A) Fábio é flamenguista.  
B) Mário é botafoguense.  
C) Hugo é vascaíno.  
D) Hugo é flamenguista.  
E) Fábio é vascaíno.

18. Na gaveta de João há 3 balas de morango, 3 balas de limão e 3 balas de menta, todas com o mesmo tamanho e aparência. João, no escuro, pega duas balas de sua gaveta. A probabilidade de que nenhuma delas seja de menta é, aproximadamente:

- A) 60%  
B) 54%  
C) 48%  
D) 42%  
E) 36%

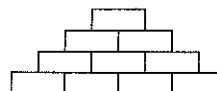
19. A figura a seguir mostra uma sala cujos ângulos são todos retos e cujas medidas estão dadas em metros.



Uma divisória reta será construída ligando os vértices A e B para dividir a sala em duas outras. A razão entre a área da parte maior e a área da parte menor será:

- A) 2,2  
B) 2,4  
C) 2,6  
D) 2,8  
E) 3,0

20. A figura abaixo mostra uma pilha de 10 caixas.



Todas as caixas têm bolinhas dentro, e o número de bolinhas de uma caixa só pode ser 3, 5 ou 8. Sabendo que duas caixas que se tocam possuem números diferentes de bolinhas, o número total de bolinhas dessas 10 caixas é, no mínimo:

- A) 47  
B) 49  
C) 51  
D) 53  
E) 55

## CONHECIMENTOS ESPECÍFICOS

**21.** A venda de um veículo por um valor maior que aquele registrado no ativo é um fato contábil considerado:

- A) permutativo
- B) modificativo-aumentativo
- C) modificativo-diminutivo
- D) misto-aumentativo
- E) misto-diminutivo

**22.** Quando uma empresa fabricante de sucos é proprietária de uma plantação de árvores frutíferas, com valor de R\$ 1.200.000 e vida útil de 40 anos, ela deverá apropriar, por ano, uma:

- A) exaustão de R\$ 30.000
- B) amortização de R\$ 30.000
- C) depreciação de R\$ 30.000
- D) amortização de R\$ 2.500
- E) exaustão de R\$ 2.500

**23.** Na escrituração contábil, quando é realizado um lançamento de 2ª fórmula, significa que houve:

- A) um débito e dois ou mais créditos
- B) um débito e um crédito
- C) dois ou mais débitos e um crédito
- D) um crédito e dois ou mais créditos
- E) dois ou mais créditos e dois ou mais débitos

**24.** De acordo com o enfoque orçamentário, pertencem ao exercício financeiro:

- A) as receitas arrecadadas e as despesas legalmente empenhadas
- B) as receitas estimadas e as despesas liquidadas
- C) as receitas previstas e as despesas fixadas
- D) as receitas recolhidas e as despesas empenhadas
- E) as receitas arrecadadas e as despesas pagas

**25.** As obrigações contraídas de financiamentos obtidos de pessoas físicas, de acordo com a melhor técnica contábil, deverão ser registradas na seguinte conta:

- A) Fornecedores
- B) Títulos a pagar
- C) Duplicatas a pagar
- D) Empréstimos Bancários
- E) Adiantamentos concedidos

**26.** Em 20/10/2008, uma determinada empresa adquiriu um equipamento por R\$ 60.000, pagando no ato 40% e o restante a ser liquidado em 01/02/2009. Na ocasião, contratou uma transportadora pagando frete e seguro no valor de R\$ 2.000. Posteriormente, foram efetuados os seguintes desembolsos: instalação no valor de R\$ 5.000 e adiestramento dos funcionários da empresa para operá-lo por R\$ 10.000. Com relação a esse equipamento, o valor contabilizado foi de:

- A) R\$ 60.000
- B) R\$ 62.000
- C) R\$ 24.000
- D) R\$ 65.000
- E) R\$ 77.000

**27.** Uma empresa revendedora de mercadorias, para reposição do seu estoque, realizou a seguinte operação, conforme informações constantes da nota fiscal:

- Quantidades adquiridas – 10.000 unidades
- Preço unitário – R\$ 60
- ICMS destacado – 15%
- IPI sobre vendas – 10%
- Desconto comercial concedido – 5%

Sabendo-se que a empresa utiliza a conta Estoque de Mercadorias para registrar as entradas e saídas, o valor da aquisição efetuada que foi apropriada na referida conta é de:

- A) R\$ 712.500
- B) R\$ 541.500
- C) R\$ 544.500
- D) R\$ 535.500
- E) R\$ 532.950

**28.** Os recursos financeiros recebidos, provenientes da cobrança da dívida ativa tributária, deverão ser classificados como:

- A) receita de capital
- B) receita tributária
- C) receita de contribuição
- D) receita de serviços
- E) outras receitas correntes

**29.** Em 31 de dezembro, foram levantados os seguintes dados na contabilidade de uma determinada Prefeitura:

Receitas correntes arrecadadas .....	R\$ 400.000
Receitas de capital arrecadadas .....	R\$ 300.000
Despesas correntes executadas .....	R\$ 500.000
Despesas de capital executadas .....	R\$ 150.000
Diversos depósitos recebidos .....	R\$ 60.000
Pagamento de restos a pagar .....	R\$ 150.000

Considerando somente esses dados, o resultado financeiro apurado no exercício correspondeu a:

- A) superávit de R\$ 50.000
- B) superávit de R\$ 40.000
- C) déficit de R\$ 40.000
- D) déficit de R\$ 100.000
- E) déficit de R\$ 90.000

**30.** As Prefeituras, no final do exercício financeiro, deverão informar o resultado patrimonial apurado na gestão, no seguinte demonstrativo:

- A) balanço financeiro
- B) balanço patrimonial
- C) demonstração do resultado do exercício
- D) demonstração de lucros ou prejuízos acumulados
- E) demonstração de variações patrimoniais

**31.** Numere os conceitos da coluna da direita, conforme os estágios da receita e despesa pública, dispostos na coluna da esquerda.

- 1- Liquidação ( ) momento em que o contribuinte liquida suas obrigações para como Estado
- 2- Arrecadação ( ) verificação do direito adquirido pelo credor com base nos títulos e documentos comprobatórios
- 3- Pagamento ( ) momento em que os agente arrecadadores entregam ao Tesouro o produto da arrecadação
- 4- Recolhimento ( ) consiste na entrega de recursos equivalentes à dívida líquida ao credor

A sequência correta é:

- A) 3 – 1 – 2 – 4
- B) 1 – 3 – 2 – 4
- C) 2 – 1 – 4 – 3
- D) 1 – 2 – 3 – 4
- E) 3 – 1 – 4 – 2

**32.** O Relatório Resumido de Execução Orçamentária deverá ser elaborado e publicado por todos os entes da Federação obedecendo à seguinte periodicidade:

- A) anual
- B) semestral
- C) quadrimestral
- D) trimestral
- E) bimestral

**33.** O demonstrativo contábil exigido pela LRF para integrar, obrigatoriamente, o Relatório Resumido da Execução Orçamentária a ser elaborado por cada ente público, é aquele denominado:

- A) balanço patrimonial
- B) balanço financeiro
- C) balanço orçamentário
- D) demonstração do fluxo de caixa
- E) demonstração do resultado econômico

**34.** Constituem dívida pública todos os compromissos assumidos pelo Estado, e são classificadas como dívidas flutuantes e dívidas fundadas. Não integram a dívida flutuante:

- A) restos a pagar
- B) operações de crédito - (LP)
- C) débitos de tesouraria
- D) depósitos de terceiros
- E) salários a pagar

**35.** O balancete em 31/12 da Empresa Comercial Ltda. apresentava as seguintes contas, com seus respectivos saldos (em R\$):

Fornecedores	6.000	Veículos	10.000
Móveis e Utensílios	24.000	Salários	15.000
Duplicatas a Receber	8.000	Capital Social	40.000
Promissórias a Pagar	10.000	Lucros Acumulados	5.000
Receita de Vendas	60.000	Marcas e Patentes	20.000
Caixa	30.000	Duplicatas Descontadas	4.000
Impostos	8.400	Aluguéis	1.600

Com os dados acima, o valor do ativo não circulante no balanço patrimonial foi de:

- A) R\$ 28.000
- B) R\$ 34.000
- C) R\$ 36.000
- D) R\$ 54.000
- E) R\$ 88.000

**36.** O balanço patrimonial da Empresa Alvorada Ltda. em 31/12/2009 era o seguinte:

ATIVO		PASSIVO	
Caixa	15.000	Fornecedores	43.000
Bancos c/Movimento	47.500	Empréstimos	50.000
Estoque	63.000	Impostos a Pagar	18.000
Duplicatas a Receber	12.000	Capital Social	57.000
Móveis e Utensílios	18.000	Reservas	12.500
Veículos	32.000	Lucros Acumulados	7.000
<b>TOTAL</b>	<b>187.500</b>	<b>TOTAL</b>	<b>187.500</b>

O valor dos recursos totais à disposição da empresa era igual a:

- A) R\$ 187.500
- B) R\$ 139.000
- C) R\$ 119.500
- D) R\$ 75.000
- E) R\$ 62.500

**37.** O balanço financeiro de um determinado ente da federação, elaborado em 31/12/2009, tinha a seguinte estrutura:

Receitas	R\$	Despesas	R\$
Orçamentárias		Orçamentárias	
Receitas Correntes	59.480	Despesas Correntes	54.320
Receitas de Capital	14.600	Despesa de Capital	30.000
Extraorçamentárias		Extraorçamentárias	
Restos a Pagar Processados	29.360	Restos a Pagar Processados	6.200
Restos a Pagar Não Processados	16.920	Restos a Pagar Não Processados	15.000
Saldo do Exercício Anterior		Saldo para o Exercício Seguinte	
Bancos	53.440	Bancos	68.280
<b>TOTAL</b>	<b>173.800</b>	<b>TOTAL</b>	<b>173.800</b>

Com base nos dados acima, o montante das despesas pagas no exercício foi de:

- A) R\$ 109.920
- B) R\$ 105.520
- C) R\$ 84.320
- D) R\$ 46.280
- E) R\$ 38.040

**38.** Observe as informações registradas na contabilidade de uma Prefeitura, referentes ao orçamento do exercício financeiro encerrado recentemente:

Categorias Econômicas	Previsão/Fixação (em R\$)	Executados (em R\$)
Receitas Correntes	1.500	1.750
Receitas de Capital	750	450
Despesas Correntes	1.000	950
Despesas de Capital	1.250	1.000

De acordo com os dados apresentados:

- A) O resultado de capital apresentou um déficit de R\$500.
- B) O orçamento apresentou um superávit de R\$300.
- C) A economia orçamentária foi de R\$300.
- D) O resultado corrente apresentou um superávit de R\$500.
- E) O orçamento apresentou um déficit de R\$ 300.

**39.** Em 01/06/2009, o estoque de mercadorias para revenda de uma empresa comercial era de R\$ 50.000. Durante o mês foram realizadas compras de mercadorias no valor total de R\$ 200.000, e vendas, no montante de R\$ 300.000. Sabendo-se que o estoque de mercadorias existentes no final do mês, apurado através de inventário, importou em R\$ 40.000 e que, nas operações com mercadorias, o ICMS incidente era de 15%, pode-se afirmar que:

- A) O lucro bruto apurado no mês foi de R\$ 100.000.
- B) O custo das vendas no período foi de R\$ 210.000.
- C) Foi apurado um prejuízo nas operações de vendas de R\$ 90.000.
- D) O custo das mercadorias vendidas, no período, foi de R\$ 180.000.
- E) O resultado operacional bruto referente ao período foi de R\$ 120.000.

**40.** A Empresa ALFA Ltda. foi constituída em 01/01/2009, com capital inicial de R\$ 60.000, integralizado em dinheiro. Durante o mês, realizou as seguintes operações:

- depósito no Banco do Brasil de R\$ 10.000;
- aquisição de mobiliário a prazo por R\$ 18.000, sendo atribuída uma vida útil de 10 anos;
- aquisição de mercadorias para revenda por R\$ 65.000, sendo 50% a prazo;
- pagamento em dinheiro das seguintes despesas: Energia Elétrica, R\$ 130; Material de Consumo, R\$ 260, e Salários dos Empregados, R\$ 1.800;
- vendeu, à vista, 70% do estoque de mercadorias por R\$ 56.875.

Sabendo-se que a empresa apropria, mensalmente, a quota de depreciação pelo método linear; que o imposto incidente nas operações com mercadorias é de 20% e, levando-se em consideração somente essas informações, o valor do lucro em 31 de janeiro foi de:

- A) R\$ 5.850
- B) R\$ 6.110
- C) R\$ 6.760
- D) R\$ 7.410
- E) R\$ 8.710

### QUESTÃO DISCURSIVA

O financiamento das atividades das empresas é realizado mediante o emprego de diferentes tipos de fundos, obtidos externamente ou gerados no curso normal das suas operações. Uma classificação mais ampla divide esses fundos em duas categorias: capital próprio e capital de terceiros.

Discorra sobre quais seriam essas principais fontes internas e externas de financiamento.

GRADE DE CORREÇÃO	
CONTEÚDO/CRITÉRIO	PONTUAÇÃO
Principais fontes internas de financiamento das atividades	0 a 8
Principais fontes externas de financiamento das atividades	0 a 8
Clareza, coesão e coerência	0 a 2
Correção Gramatical	0 a 2

Escreva o mínimo de (20) vinte linhas e o máximo de (30) trinta linhas para desenvolver o seu trabalho, que deverá atender aos critérios de avaliação conforme a grade.

Utilize o espaço disponível para rascunho neste Caderno de Questões e transcreva o seu texto para o local indicado no Caderno de Prova Discursiva.

5

10

15

20

25

30

RASCUNHO