



TÉCNICO EM CONTABILIDADE

TIPO 1


Atenção!

Você está recebendo um caderno de provas do tipo 1. Portanto, **verifique se sua folha de respostas é, também, do tipo 1**. Caso contrário, notifique imediatamente o fiscal de sala para que sejam tomadas as devidas providências.

Informações gerais

- Você receberá do fiscal de sala o material descrito a seguir:
 - a) uma folha destinada às respostas das questões objetivas formuladas na prova de tipo 1;
 - b) este caderno de prova tipo 1, com o enunciado da redação, das discursivas e das 50 (cinquenta) questões, sem repetição ou falha;
 - c) uma folha destinada à redação e às respostas das discursivas.
- Não será permitida a permanência de candidato em sala de prova portando aparelhos eletrônicos como *pager*, telefone celular, relógio do tipo *data bank*, *walkman*, agenda eletrônica, *notebook*, *palmtop*, receptor, gravador, máquina fotográfica, máquina de calcular e/ou similares. **Tal infração pode acarretar eliminação sumária do candidato.**
- Verifique se o material está em ordem, se seu nome e número de inscrição são os que aparecem nas folhas de respostas.
- Ao receber a folha de respostas, é sua **obrigação**:
 - a) ler atentamente as instruções de preenchimento da folha de respostas;
 - b) assinar a folha de respostas.
- Você deve deixar para destacar a parte que traz sua identificação na folha de redação e das discursivas somente no momento de entregá-la.
- As questões da prova são identificadas pelo número que se situa acima do enunciado.
- Você deverá transcrever as respostas da prova para a folha de respostas, que será o único documento válido para a correção da prova.
- O preenchimento da folha de respostas e da folha de redação e discursivas, de inteira responsabilidade do candidato, dar-se-á mediante utilização de caneta esferográfica de cor preta ou azul.
- Em hipótese alguma haverá substituição das folhas de respostas por erro do candidato.
- O tempo disponível para esta prova será de cinco horas.
- Você somente poderá sair do local de prova 90 (noventa) minutos após o seu início.
- Você somente poderá levar consigo o caderno de questões nos últimos 60 (sessenta) minutos de prova.
- Ao terminar a prova, chame o fiscal de sala mais próximo, entregue as folhas de respostas e deixe o local de prova.

REDAÇÃO



(Quino. Mafalda)

Elabore um texto dissertativo, usando entre 25 e 30 linhas, inspirando-se na tirinha acima e atribuindo-lhe como título:
Em jogo, a vida.

Conforme item 9.7 do edital, as provas de redação serão corrigidas com base no seguinte critério:

(A) ASPECTOS MACROESTRUTURAIS	PONTUAÇÃO
1 – Apresentação, legibilidade, margens e parágrafos	1,0
2 – Adequação ao tema e/ou à tipologia textual	1,0
3 – Estrutura textual (construção pertinente de introdução, desenvolvimento e conclusão)	2,0
4 – Pertinência e riqueza de argumentos/exemplos	2,0
5 – Relação lógica entre as ideias	2,0
6 – Objetividade, ordenação e clareza das ideias	2,0
TOTAL	10,0

(B) ASPECTOS MICROESTRUTURAIS	FÓRMULA DE PONTUAÇÃO
Indicação de um erro por cada ocorrência dos tipos a seguir:	
1 – Ortografia, acentuação e crase	
2 – Inadequação vocabular	
3 – Repetição ou omissão de palavras	
4 – Falha de construção frasal ou falta de paralelismo	
5 – Pontuação	
6 – Emprego de conectores	
7 – Concordância verbal ou nominal	
8 – Regência verbal ou nominal	
9 – Emprego e colocação de pronomes	
10 – Vícios de linguagem, estruturas não recomendadas e emprego de maiúsculas e minúsculas	
	$NF = A - (3B/TL)$ <p style="text-align: center;">onde:</p> <p style="text-align: center;">NF = Nota Final; A = Soma dos aspectos macroestruturais; B = Quantidade de ocorrências dos erros; TL = Total de linhas efetivamente escritas.</p>

Reforce-se que o candidato não pode obter nota ZERO no item 2 dos aspectos macroestruturais (A), sob pena de ter sua redação anulada; a redação deverá ser composta utilizando-se obrigatoriamente entre 25 e 30 linhas; e por linha efetivamente escrita entende-se a linha com no mínimo duas palavras completas, excetuando-se preposições.

ESPAÇO DESTINADO AO RASCUNHO DA REDAÇÃO

01	
02	
03	
04	
05	
06	
07	
08	
09	
10	
11	
12	
13	
14	
15	
16	
17	
18	
19	
20	
21	
22	
23	
24	
25	
26	
27	
28	
29	
30	

Leia com atenção o texto abaixo e responda às questões 1 a 8.

Texto I

A Internet e a Cultura Escrita

Das pequenas tábuas de argila, passando pelo surgimento do papel, ao suporte virtualizado, onde, hoje, nos expressamos, o sistema de símbolos gráficos a que damos o nome de escrita conheceu revoluções que alteraram profundamente a maneira como produzimos e trocamos informações, sentimentos e ideias. Geralmente atrelada aos recursos e condições materiais dos diferentes contextos históricos em que se desenvolveu, a escrita tornou-se protagonista de convulsões sociais, culturais e religiosas numa Europa que ainda não havia compreendido completamente os significados da revolução nas técnicas de impressão iniciada por Gutenberg.

Vira e mexe, a essa democratização sem precedentes da escrita no século XV, comparam-se as mudanças que presenciamos atualmente com a explosão da internet. Estamos no calor do momento. A Wikipedia surgiu anteontem, os blogs ontem e o Twitter, agora há pouco. Apenas os historiadores do futuro terão condições de avaliar, com alguma precisão, o que realmente está nascendo, o que, afinal, está mudando e o que desaparecerá com as constantes revoluções tecnológicas da era digital. Mas, apesar das dificuldades, pensar e indagar o presente nunca deixou de ser fundamental, principalmente se se quiser avaliá-lo criticamente e, mais importante, estabelecer formas de interação positiva com as novidades que se apresentam. Como a cultura escrita está reagindo às diferentes inovações? Como a educação, em parte responsável pelo letramento dos indivíduos, pode enfrentar problemas ou se beneficiar das dádivas digitais?

“É um fenômeno extremamente interessante, as novas variantes linguísticas que vêm sendo criadas na web, por força dos novos gêneros que nela vêm surgindo”, afirma Magda Soares, professora e pesquisadora do Centro de Alfabetização, Leitura e Escrita da Universidade Estadual de Minas Gerais (UFMG). Soares esclarece que fenômenos de comunicação como blogs e Twitter geram novos gêneros de escrita, mas a chamada norma culta ainda tem lugar no ciberespaço, pois “muitas revistas científicas já circulam apenas na web, a maioria dos jornais tem sua versão web, artigos acadêmicos são publicados na web”. Nessas publicações, espera-se a norma culta, “e os leitores desses gêneros de texto são os que controlam a qualidade deles”, completa. Os novos gêneros surgidos na internet, como o e-mail e as salas de bate papo, têm padrões de adequação linguística diferentes da norma culta. O que não quer dizer, segundo Soares, que haverá mutações radicais na linguagem escrita: “As pessoas, em geral, sabem, em parte intuitivamente, em outra parte por efeito da escolarização, que é preciso adequar a variante linguística ao gênero”, explica.

E quanto à informação que a escrita carrega?

55 Estaria a informação no ciberespaço perdendo qualidade na medida em que aumentam a velocidade e a quantidade em que circula? Para Raquel Recuero, pesquisadora do Centro de Ciências Humanas e da Educação da Universidade Católica de Pelotas, não necessariamente: “Os ruídos de comunicação sempre existiram”, afirma. “Quanto mais informação, mais ruídos vão existir. São consequências diretas da crescente quantidade de informação. Já havia ruído nos jornais e na literatura, antes da internet surgir”, continua. Recuero reconhece que “a quantidade e a velocidade de circulação fazem com que as informações sejam, às vezes, publicadas com menos zelo”, mas chama a atenção para o fato de que há “uma grande interatividade na rede, há possibilidade de todos exercerem sua capacidade crítica, e a abundância de espaços de debate faz com que haja um depuramento da informação”.

(...)

(Danilo Albergaria. www.comciência.br)

1

A respeito do texto, analise as afirmativas a seguir:

- I. O texto é do tipo dissertativo.
- II. Por ser um texto científico, não há registro de linguagem informal.
- III. Para comprovar as ideias do texto, um dos recursos usados é a referência a pessoas de credibilidade.

Assinale

- (A) se apenas as afirmativas I e II estiverem corretas.
- (B) se apenas as afirmativas II e III estiverem corretas.
- (C) se todas as afirmativas estiverem corretas.
- (D) se nenhuma afirmativa estiver correta.
- (E) se apenas as afirmativas I e III estiverem corretas.

2

Com a frase “Estamos no calor do momento” (L.17), no texto, é correto entender que

- (A) como estamos envolvidos emocionalmente com o problema, não temos clareza a respeito de como agir.
- (B) a rapidez das transformações nos deixa fora do equilíbrio emocional, levando-nos a atitudes impensadas.
- (C) como se está vivendo a evolução e a rapidez das transformações, ainda é cedo para tecer considerações concretas a esse respeito.
- (D) a evolução chegou ao seu ponto máximo, caminhando para um equilíbrio dentro em breve, quando se poderá analisar o que de fato ocorreu.
- (E) é chegada a hora de enfrentar a dificuldade e começar a impor limites para essa evolução desenfreada.

3

*Estaria a informação no ciberespaço perdendo qualidade **na medida em que** aumentam a velocidade e a quantidade em que circula?* (L.55-57)

A expressão destacada na frase acima poderia ser substituída, sem prejuízo de sentido, por

- (A) à medida que.
- (B) uma vez que.
- (C) ao passo que.
- (D) conquanto que.
- (E) não obstante.

4

*Mas, apesar das dificuldades, pensar e indagar o presente nunca deixou de ser fundamental, principalmente **se se** quiser avaliá-lo criticamente e, mais importante, estabelecer formas de interação positiva com as novidades que se apresentam.* (L.23-27)

As duas ocorrências do SE no período acima classificam-se como

- (A) conjunção e conjunção.
- (B) conjunção e indeterminador do sujeito.
- (C) pronome apassivador e indeterminador do sujeito.
- (D) pronome apassivador e conjunção.
- (E) conjunção e pronome apassivador.

5

Vira e mexe, a essa democratização sem precedentes da escrita no século XV, comparam-se as mudanças que presenciamos atualmente com a explosão da internet. (L.14-17)

Assinale a alternativa em que a frase acima, ao ser reescrita, mantenha o mesmo sentido que o da original e constitua exemplo de clareza e boa discursividade.

- (A) Vira e mexe, comparam-se as mudanças a essa democratização sem precedentes da escrita no século XV que presenciamos atualmente com a explosão da internet.
- (B) Vira e mexe, as mudanças que presenciamos a essa democratização sem precedentes da escrita no século XV, comparam-se atualmente com a explosão da internet.
- (C) Vira e mexe, a essa democratização que presenciamos atualmente com a explosão da internet sem precedentes da escrita no século XV, comparam-se as mudanças.
- (D) Vira e mexe, comparam-se, a essa democratização sem precedentes da escrita no século XV, as mudanças que presenciamos atualmente com a explosão da internet.
- (E) Vira e mexe, comparam-se a essa democratização sem precedentes da escrita que presenciamos atualmente com a explosão da internet no século XV, as mudanças.

6

Assinale a palavra que tenha sofrido processo de formação por composição e derivação.

- (A) virtualizado (L.2)
- (B) interatividade (L. 69)
- (C) ciberespaço (L.41)
- (D) Alfabetização (L.36)
- (E) historiadores (L.19)

7

Quanto mais informação, mais ruídos vão existir. (L.61-62)
Assinale a alternativa em que a transformação do período acima tenha sido feita com respeito às regras ortográfico-gramaticais.

- (A) Quanto menos informação, menos ruídos haverá.
- (B) Quanto menos informação, menos ruídos existirão.
- (C) Quanto menos informação, menos ruídos vai haver.
- (D) Quanto menos informação, menos ruídos vão haver.
- (E) Quanto menos informação, menos ruídos existirá.

8

Como a cultura escrita está reagindo às diferentes inovações? (L.28-29)

Na frase acima, empregou-se corretamente o acento grave indicativo do fenômeno da crase.

Assinale a alternativa em que isso **NÃO** tenha ocorrido.

- (A) Estaremos prontos às 18 horas.
- (B) O curso vai de segunda à sexta.
- (C) Iremos à Natal dos nossos antepassados.
- (D) Ele saiu à francesa.
- (E) Responderemos às suas indagações.

As questões 9 e 10 referem-se ao Manual de Redação da Presidência da República.

9

Com base no Manual de Redação da Presidência da República, analise as afirmativas a seguir:

I. No caso da redação oficial, quem comunica é sempre o Serviço Público (este ou aquele Ministério, Secretaria, Departamento, Divisão, Serviço, Seção); o que se comunica é sempre algum assunto relativo às atribuições do órgão que comunica; o destinatário dessa comunicação ou é o público, o conjunto dos cidadãos, ou outro órgão público, do Executivo ou dos outros Poderes da União.

II. O tratamento impessoal que deve ser dado aos assuntos que constam das comunicações oficiais decorre do caráter impessoal do próprio assunto tratado: se o universo temático das comunicações oficiais se restringe a questões que dizem respeito ao interesse público, é natural que não cabe qualquer tom particular ou pessoal.

III. A concisão, a clareza, a objetividade e a formalidade de que nos valem para elaborar os expedientes oficiais contribuem para que seja alcançada a necessária impessoalidade.

Assinale

- (A) se apenas as afirmativas I e II estiverem corretas.
- (B) se apenas as afirmativas II e III estiverem corretas.
- (C) se todas as afirmativas estiverem corretas.
- (D) se nenhuma afirmativa estiver correta.
- (E) se apenas as afirmativas I e III estiverem corretas.

10

Em relação aos pronomes de tratamento, de acordo com o *Manual de Redação da Presidência da República*, analise as afirmativas a seguir:

I. Os pronomes de tratamento (ou de segunda pessoa indireta) apresentam certas peculiaridades quanto à concordância verbal, nominal e pronominal. Embora se refiram à segunda pessoa gramatical (à pessoa com quem se fala, ou a quem se dirige a comunicação), levam a concordância para a terceira pessoa. É que o verbo concorda com o substantivo que integra a locução como seu núcleo sintático: “Vossa Senhoria nomeará o substituto”; “Vossa Excelência conhece o assunto”.

II. Os pronomes possessivos referidos a pronomes de tratamento são sempre os da segunda pessoa: “Vossa Senhoria nomeará vosso substituto”.

III. Já quanto aos adjetivos referidos a esses pronomes, o gênero gramatical deve coincidir com o sexo da pessoa a que se refere, e não com o substantivo que compõe a locução. Assim, se nosso interlocutor for homem, o correto é “Vossa Excelência está atarefado”, “Vossa Senhoria deve estar satisfeito”; se for mulher, “Vossa Excelência está atarefada”, “Vossa Senhoria deve estar satisfeita”.

Assinale

- (A) se apenas as afirmativas I e III estiverem corretas.
- (B) se apenas as afirmativas I e II estiverem corretas.
- (C) se apenas as afirmativas II e III estiverem corretas.
- (D) se todas as afirmativas estiverem corretas.
- (E) se nenhuma afirmativa estiver correta.

MATEMÁTICA E RACIOCÍNIO LÓGICO

11

Um combustível A é composto por 80% de gasolina e 20% de álcool. Outro combustível (denominado combustível B) é composto por gasolina e álcool na razão de 2 para 1. Misturando-se 400mL do combustível A com 600mL do combustível B, teremos 1 litro de um novo combustível cuja razão de gasolina e álcool é

- (A) 7/18.
- (B) 5/12.
- (C) 9/4.
- (D) 12/5.
- (E) 18/7.

12

Um número foi dividido em 3 partes proporcionais a 2, 3 e 7. A maior das partes é 250 unidades maior do que a menor das partes. Uma dessas partes vale

- (A) 60.
- (B) 120.
- (C) 150.
- (D) 300.
- (E) 250.

13

Considere a sequência numérica (1, 2, 1, 3, 1, 4, 1, 5, 1, 6, 1, 7,...). O número 12 ocupa que posição na sequência?

- (A) 24ª.
- (B) 18ª.
- (C) 22ª.
- (D) 23ª.
- (E) 12ª.

14

$$x^2 - 2x - 8 < 0$$

A soma de todas as soluções inteiras da inequação acima é

- (A) 3.
- (B) 5.
- (C) 9.
- (D) 7.
- (E) 6.

15

Sejam:

$$A = 0,3 \cdot 0,444\dots$$

$$B = 0,5^2$$

Logo, $A \cdot B$ vale

- (A) 3/50.
- (B) 2/15.
- (C) 1/15.
- (D) 1/27.
- (E) 1/30.

16

Duas máquinas copiadoras fazem juntas 300 cópias por minuto. Sabe-se que a máquina A tem o dobro da capacidade de trabalho da máquina B. Quantas cópias a máquina B é capaz de fazer em 12 segundos?

- (A) 60.
- (B) 40.
- (C) 30.
- (D) 20.
- (E) 10.

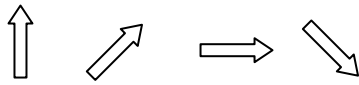
17

Em um grupo de 30 pessoas, há brasileiros e estrangeiros. Há, nesse grupo, 7 mulheres estrangeiras. Considerando-se brasileiros e estrangeiros, há, ao todo, 21 homens no grupo. A quantidade de mulheres brasileiras é


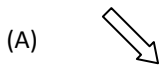
- (A) 2.
- (B) 3.
- (C) 4.
- (D) 5.
- (E) 6.

18

Observe a sequência de figuras. Da 1ª para a 2ª figura, houve um giro no sentido horário. Da 2ª para a 3ª, houve um giro no sentido anti-horário. E assim por diante, alternando um giro horário com um anti-horário.



Para manter o padrão da construção, a próxima figura deve ser



19

Um dado com 6 faces e cujas faces opostas somam 7 é dito um dado comum.

Um dado comum foi lançado sobre uma mesa. Se a face voltada para cima exibe o número 2, o número estampado na face voltada para baixo é

- (A) 1.
- (B) 3.
- (C) 4.
- (D) 5.
- (E) 6.

20

A soma das soluções da equação $2x^2 - 5x + k = 0$ é

- (A) -5.
- (B) -2,5.
- (C) 0.
- (D) 2,5.
- (E) 5.

ATUALIDADES E LEGISLAÇÃO

21

Nesse país, ocorrem em abril de 2010 – em meio a um cenário que opõe o presidente Omar al-Bashir e o líder do sul, Silva Kiir –, as primeiras eleições pluripartidárias em 25 anos. Trata-se do(a)

- (A) Sudão.
- (B) Paquistão.
- (C) Zimbábue.
- (D) Costa do Marfim.
- (E) Egito.

22

Em 12 de abril de 2010, segundo notícia do site do jornal *O Globo*, “por meio de denúncias anônimas, (...) [foi feita] mais uma grande apreensão na tarde do último sábado. Foram recolhidas 76 aves silvestres. Entre elas um papagaio e uma arara vermelha grande, espécie ameaçada de extinção. Os policiais também encontraram dois macacos-pregos e um lagarto tejuassu. Os animais estavam em péssimas condições. Sem água e comida, eles foram encontrados enjaulados em sítios localizados na Praia de Punaú, no município de Rio do Fogo e nos distritos de Riacho da Goiabeira e Sítio Manguabeira em Ceará-Mirim.”

Com base na competência para atuar nessa apreensão, é correto afirmar que ela foi feita pela

- (A) Guarda Florestal.
- (B) Polícia Federal.
- (C) Guarda Municipal.
- (D) Polícia Ambiental.
- (E) Polícia Militar.

23

Com base no artigo 2º da Lei 9.433/97, são objetivos da Política Nacional de Recursos Hídricos:

- I. assegurar à atual e às futuras gerações a necessária disponibilidade de água, em padrões de qualidade adequados aos respectivos usos;
- II. a utilização racional e integrada dos recursos hídricos, incluindo o transporte aquaviário, com vistas ao desenvolvimento sustentável;
- III. a prevenção e a defesa contra eventos hidrológicos críticos de origem natural ou decorrentes do uso inadequado dos recursos naturais.

Analisar os itens acima e assinale

- (A) se apenas os itens II e III estiverem corretos.
- (B) se todos os itens estiverem corretos.
- (C) se apenas os itens I e II estiverem corretos.
- (D) se nenhum item estiver correto.
- (E) se apenas os itens I e III estiverem corretos.

24

Com base no artigo 20 da Lei 9.984, de 17 de julho de 2000, constituem receitas da Agência Nacional de Águas:

- I. os recursos decorrentes da cobrança pelo uso de água de corpos hídricos de domínio da União, respeitando-se as formas e os limites de aplicação previstos no art. 22 da Lei 9.433, de 1997;
- II. os recursos provenientes de convênios, acordos ou contratos celebrados com entidades, organismos ou empresas nacionais ou internacionais;
- III. retribuição por serviços específicos de consultoria prestados a terceiros, desde que resultado de processo licitatório.

Analisar os itens acima e assinale

- (A) se nenhum item estiver correto.
- (B) se todos os itens estiverem corretos.
- (C) se apenas os itens I e II estiverem corretos.
- (D) se apenas os itens II e III estiverem corretos.
- (E) se apenas os itens I e III estiverem corretos.

25

Assinale a afirmativa **INCORRETA** em relação ao que reza a Lei Estadual 8.485, de 20 de fevereiro de 2004.

- (A) O Fundo Estadual de Saneamento Básico (Funesan) tem o objetivo de assegurar meios financeiros para aplicação exclusiva nas ações relativas ao abastecimento de água, esgotamento sanitário e reúso das águas.
- (B) As ações relativas ao abastecimento de água, esgotamento sanitário e reúso das águas darão àquelas constantes do Plano Estadual de Saneamento Básico.
- (C) Os recursos financeiros integrantes do Funesan constarão dos respectivos orçamentos de cada exercício e serão depositados em conta específica, aberta em banco oficial e movimentada conjuntamente pela Secretaria de Estado do Planejamento e das Finanças (Seplan) e pela Caern.
- (D) A Caern é executora imediata dos atos operacionais necessários às ações da Política Estadual de Saneamento Básico.
- (E) Entidades não governamentais, desde que atuantes em matéria de meio ambiente ou saneamento básico, terão papel de entes reguladores mediatos.

NOÇÕES DE INFORMÁTICA

26

A função do Windows Explorer é permitir que o usuário organize seus arquivos em pastas específicas. Com base nessa afirmação e em seus conhecimentos, analise as afirmativas a seguir:

- I. São funções do Windows Explorer: criar, renomear e excluir pastas.
- II. Um arquivo só pode ser renomeado se estiver fechado, ou seja, se não estiver sendo usado por nenhum aplicativo.
- III. Um arquivo só pode ser copiado se estiver aberto, ou seja, se estiver sendo usado por algum aplicativo.
- IV. Em uma mesma pasta, é possível haver dois arquivos com o mesmo nome.
- V. Copiar um objeto é transferi-lo de uma pasta para outra.

Assinale

- (A) se apenas as afirmativas I e II estiverem corretas.
- (B) se apenas as afirmativas I e III estiverem corretas.
- (C) se apenas as afirmativas II e IV estiverem corretas.
- (D) se apenas as afirmativas III e V estiverem corretas.
- (E) se todas as afirmativas estiverem corretas.

27

Observe a figura a seguir, que mostra uma tela do Excel 2003 em português.

	A	B	C	D
1	Lançamento de esgoto por dia (litro/seg)			
2		Data	Lançamento(l/seg)	
3	1	25/04/2010	520	
4	2	26/04/2010	730	
5	3	27/04/2010	350	
6	4	28/04/2010	840	
7	5	29/04/2010	460	
8	6	30/04/2010	570	
9	7	01/05/2010	890	
10				
11				

A planilha mostra o lançamento de esgoto do Condomínio Residencial Mansões, no Estado do Rio Grande do Norte, durante sete dias consecutivos.

Com base na planilha e no Excel 2003 em português, analise as afirmativas a seguir:

- I. O resultado da fórmula =SOMA(C6+C8) é 1510
- II. O resultado da fórmula =B14=C6 é #DIV/0
- III. O resultado da fórmula =ARRED(C8;C5) é 570
- IV. O resultado da fórmula =A4+A8+A9-A5 é 12
- V. O resultado da fórmula =MÍNIMO(B5:B7) é 27/04/2010

Quantas afirmativas estão **ERRADAS**?

- (A) 0.
- (B) 1.
- (C) 2.
- (D) 4.
- (E) 3.

28

Um usuário está preparando uma apresentação no Power Point 2003 em português. Em um dado momento o mouse utilizado por ele deixa de funcionar e ele precisa recorrer às teclas de atalho para efetuar as seguintes ações: verificar a ortografia, salvar e exibir a apresentação.

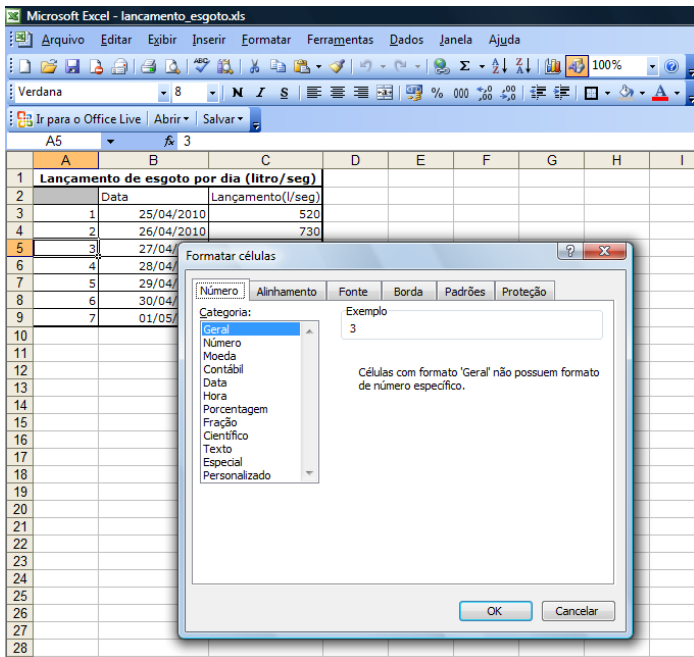
Assinale a alternativa a seguir que corresponde à sequência de teclas de atalho que esse usuário deverá utilizar.

- (A) F5; CTRL+P; ALT+A
- (B) F7; CTRL+B; F5
- (C) CTRL+M; F6; CTRL+P
- (D) F5; CTRL+A; CTRL+V
- (E) F7, CTRL+C; CTRL+P

29

Observe a figura a seguir, que mostra uma tela do Excel 2003 em português.

Após selecionar a célula A5, o usuário seleciona o menu Formatar e a opção Células. O Excel 2003 em português apresentará a seguinte caixa de diálogo:

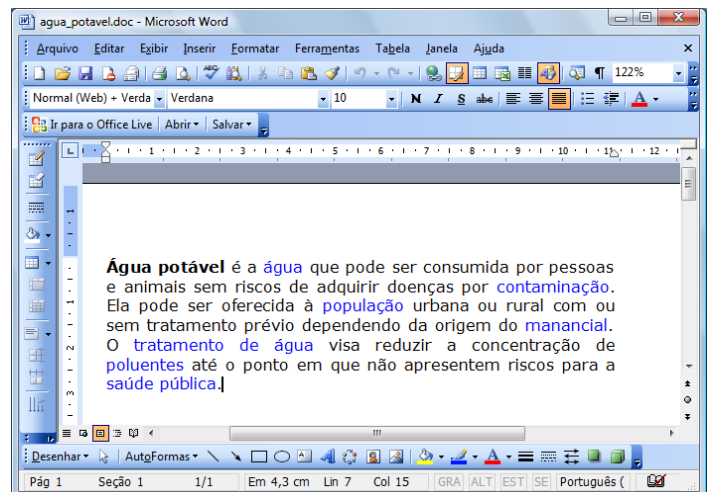


Se o usuário selecionar a categoria 'Moeda' e clicar no botão OK, como a célula A5 será apresentada?

- (A) 3
- (B) 3,00
- (C) 03/04/2010
- (D) R\$ 3,00
- (E) R\$ 3

30

Observe a figura a seguir, que mostra um texto no Word 2003 em português, cujo conteúdo foi extraído do website Wikipédia (http://pt.wikipedia.org/wiki/Água_potável).



Com base nessa figura e em seus conhecimentos, analise as afirmativas a seguir:

- I. O texto está com alinhamento justificado.
- II. O cursor está localizado logo após a palavra "potável", no primeiro parágrafo do texto.
- III. Ao pressionarmos as teclas ALT + A simultaneamente, o menu Ajuda é exibido.
- IV. Para salvarmos o texto da figura acima, basta clicarmos no Menu Editar e logo em seguida selecionarmos a opção "Salvar como".
- V. O nome do arquivo do texto da figura acima é água_potável.doc.

Assinale

- (A) se apenas as afirmativas II, III e V estiverem corretas.
- (B) se apenas as afirmativas I e IV estiverem corretas.
- (C) se nenhuma afirmativa estiver correta.
- (D) se todas as afirmativas estiverem corretas.
- (E) se apenas a afirmativa I estiver correta.

CONHECIMENTOS ESPECÍFICOS

31

Numa determinada data foi feito o seguinte registro contábil (desconsiderando data e histórico):

D: Mercadorias	24.600
D: ICMS a Recuperar	5.400
C: Bancos c/Movimento	10.000
C: Fornecedores	20.000

Com base nas técnicas de escrituração e no método das partidas dobradas, o registro efetuado correspondeu ao lançamento de

- (A) primeira fórmula.
- (B) segunda fórmula.
- (C) terceira fórmula.
- (D) quarta fórmula.
- (E) quinta fórmula.

32

No mês de março ocorreram as seguintes movimentações com mercadorias, na Empresa Comercial Ltda.:

Compras:	
dia 3	500 unidades a R\$ 5 cada
dia 25	500 unidades no total de R\$ 3.000
Vendas:	
dia 10	500 unidades a R\$ 7 cada
dia 31	500 unidades no montante de R\$ 4.000

Sabendo-se que o estoque no início do mês era de 500 unidades a R\$ 4 cada e que a empresa adota o método de avaliação de estoques denominado de preço médio, o valor do estoque em 31 de março era de

- (A) R\$ 3.000.
- (B) R\$ 2.625.
- (C) R\$ 2.250.
- (D) R\$ 2.000.
- (E) R\$ 2.500.

33

Em 31 de dezembro, uma determinada empresa, em função de fatos ocorridos nos quatro últimos exercícios, efetuou a apropriação de uma provisão para créditos de liquidação duvidosa, retificando o saldo da conta duplicatas a receber. A contrapartida, resultando em uma conta de despesa, de acordo com a legislação vigente, deverá ser apresentada na Demonstração do Resultado do Exercício como

- (A) despesas gerais e administrativas.
- (B) despesas não operacionais.
- (C) despesas financeiras.
- (D) perdas eventuais.
- (E) despesas de vendas.

34

A Empresa ABC revendedora de mercadorias realizou a seguinte operação de venda no dia 10/05/2009, com as seguintes informações:

- 100 unidades ao preço unitário de R\$ 1.400;
- foi oferecido um desconto comercial de 6%;
- o ICMS incidente era de 17%;
- foi emitida duplicata contra o cliente para pagamento em 10/7/2009;
- não houve incidência de PIS, Cofins nem quaisquer outras taxas.

Na ocasião da operação foi acordado o oferecimento de desconto financeiro de 5% caso o pagamento fosse antecipado para 10/6/2009. Nessa data, o cliente realizou o pagamento do seu débito e a empresa apropriou uma despesa no seguinte valor

- (A) R\$ 6.580.
- (B) R\$ 7.000.
- (C) R\$ 8.190.
- (D) R\$ 5.810.
- (E) R\$ 5.390.

35

Uma empresa em 20/4/2008 adquiriu à vista um equipamento por R\$ 78.000. Na ocasião a administração estimou sua vida útil em 8 anos, com valor residual de R\$ 6.000. Sabendo-se que sua instalação e início de operação ocorreram somente em 12/6/2008, e que a empresa adota o método linear, o valor total depreciado em 31/12/2009 correspondia a

- (A) R\$ 14.625.
- (B) R\$ 14.250.
- (C) R\$ 13.500.
- (D) R\$ 15.750.
- (E) R\$ 17.062.

36

Em 31/12/2009 o balanço patrimonial da Comercial XYZ Ltda. apresentava as seguintes contas com seus respectivos saldos (valores em reais):

Bancos c/Movimento	20.000
Móveis e Utensílios	100.000
Imposto de Renda a Pagar	7.500
Duplicatas a Receber	100.000
Capital Social	170.000
Mercadorias	120.000
Provisão p/13º Salário	50.000
Duplicatas a Pagar	100.000
Lucros Acumulados	24.000
Depreciação Acumulada	11.000
Investimentos Permanentes	50.000
Duplicatas Descontadas	26.000
Provisão p/Devedores Duvidosos	1.500

O montante das contas retificadoras correspondia a

- (A) R\$ 88.500.
- (B) R\$ 38.500.
- (C) R\$ 12.500.
- (D) R\$ 27.000.
- (E) R\$ 1.500.

37

A Empresa Comercial Alvorada Ltda. foi constituída em 10/10/2009 com um capital de R\$ 20.000, integralizado totalmente em espécie. Durante o restante do exercício realizou as seguintes operações:

- adquiriu mercadorias para revenda no montante de R\$ 16.000, pagando 50% no ato;
- comprou diversos mobiliários por R\$ 12.000 com 25% de entrada e o restante a prazo;
- vendeu 80% das mercadorias em estoque, por R\$ 20.000, recebendo no ato R\$ 14.000 e emitindo duplicatas para vencimento em 120 dias;
- pagou diversas despesas no montante de R\$ 3.600;
- liquidou 75% da dívida junto ao fornecedor de mercadorias; e
- apropriou uma parcela para crédito de liquidação duvidosa de 1,5%.

Sabendo-se que o imposto nas operações com mercadorias era de 20%, o somatório das contas devedoras, no balancete de verificação levantado em 31 de dezembro, foi igual a

- (A) R\$ 55.000.
- (B) R\$ 44.250.
- (C) R\$ 51.000.
- (D) R\$ 51.090.
- (E) R\$ 55.090.

38

Em 31/12/2009 foram obtidos os seguintes dados de uma determinada empresa revendedora de mercadorias:

aquisição de mercadorias	R\$ 60.000
vendas de mercadorias	R\$ 105.000
devolução de vendas efetuadas	R\$ 7.500
inventário realizado de mercadorias	R\$ 22.500

Sabendo-se que o estoque de mercadorias no início do exercício correspondia a 50% do valor líquido das aquisições e que o imposto de circulação de mercadorias era de 15%, o valor do lucro bruto apurado foi igual a

- (A) R\$ 24.375.
- (B) R\$ 28.875.
- (C) R\$ 39.000.
- (D) R\$ 37.500.
- (E) R\$ 30.000.

39

Um investidor aplicou a quantia de R\$ 15.000 no mercado financeiro e após 5 anos recebeu o montante de R\$ 30.000. Sabendo-se que foi utilizado o regime de capitalização simples, a taxa equivalente semestral de juros dessa aplicação foi de

- (A) 20%.
- (B) 10%.
- (C) 15%.
- (D) 30%.
- (E) 18%.

40

Um investidor no início do mês de março realizou uma aplicação de R\$ 10.000 pelo prazo de 5 meses. A taxa de capitalização simples utilizada na aplicação foi de 30% ao ano. Com essas informações, o valor dos juros recebidos no final do período foi igual a

- (A) R\$ 600.
- (B) R\$ 650.
- (C) R\$ 800.
- (D) R\$ 1.000.
- (E) R\$ 1.250.

41

Um determinado capital foi aplicado a uma taxa de juros, em regime de capitalização simples, de 25% ao ano. Sabendo-se que o total de juros recebidos foi equivalente a 5 vezes o capital aplicado, o período de tempo que esse capital esteve aplicado foi de

- (A) 5 anos.
- (B) 4 anos.
- (C) 20 anos.
- (D) 10 anos.
- (E) 12,5 anos.

42

Um determinado cliente propôs ao banco liquidar um título de R\$ 12.600, três meses antes do seu vencimento. Sabendo-se que a taxa de juros correntes foi de 20% ao ano, o valor do desconto obtido pelo cliente foi igual a

- (A) R\$ 650.
- (B) R\$ 800.
- (C) R\$ 630.
- (D) R\$ 600.
- (E) R\$ 500.

43

Com base na legislação vigente do Direito Financeiro, são considerados restos a pagar não processados, no final do exercício financeiro, as despesas orçamentárias

- (A) empenhadas, liquidadas e não pagas em 31/12.
- (B) empenhadas e não pagas em 31/12.
- (C) empenhadas, não liquidadas e não pagas em 31/12.
- (D) empenhadas, não liquidadas e pagas em 31/12.
- (E) empenhadas e pagas no exercício.

44

Em 25 de setembro de 2009 um crédito adicional foi concedido a um ente federativo, com a finalidade de reforçar uma determinada dotação que se tornou insuficiente para atender às despesas necessárias, aprovadas no orçamento; e em 31/12 existia ainda um saldo remanescente. De acordo com os preceitos legais vigentes, esse mecanismo de retificação do orçamento terá vigência

- (A) até o encerramento do exercício financeiro de 2009.
- (B) da data de sua abertura até a final do exercício financeiro subsequente.
- (C) da data de sua concessão até a data de aprovação da lei orçamentária do exercício de 2010.
- (D) até a data da promulgação da lei orçamentária do próximo exercício.
- (E) até a data de conclusão do programa de governo, à qual pertence a despesa.

45

De acordo com a doutrina e a legislação vigente, os recursos arrecadados por um determinado estado da federação, implicando o aumento da sua situação líquida financeira, sem gerar uma obrigação ou restituição a terceiros, são classificados quanto ao aspecto da repercussão patrimonial, como receita pública

- (A) orçamentária.
- (B) derivada.
- (C) efetiva.
- (D) ordinária.
- (E) primária.

46

De acordo com as normas vigentes, o endividamento público consolidado dos Estados está subordinado aos limites estabelecidos pelo seguinte órgão:

- (A) Assembleia Legislativa.
- (B) Tribunal de Contas do Estado.
- (C) Senado Federal.
- (D) Controladoria Geral da União.
- (E) Procuradoria Geral do Estado.

47

O Art. 5º da Lei 4.320/64 preconiza:

“A Lei de Orçamento não consignará dotações globais destinadas a atender indiferentemente a despesa de pessoal, material, serviços de terceiros, transferências ou quaisquer outras, ressalvando o disposto no Art. 20 e seu parágrafo único.”

Com base nas técnicas orçamentárias está implícito no enunciado do referido dispositivo legal o seguinte princípio orçamentário:

- (A) equilíbrio.
- (B) exclusividade.
- (C) orçamento bruto.
- (D) especialização.
- (E) universalidade.

48

O Relatório de Gestão Fiscal a ser emitido pelos titulares de cada Poder e órgãos referidos na lei, para os municípios com população inferior a 50 mil habitantes, conforme preconizado na LRF, poderá ser divulgado obedecendo à seguinte periodicidade:

- (A) anual.
- (B) semestral.
- (C) quadrimestral.
- (D) trimestral.
- (E) bimestral.

49

Se no decorrer de um determinado exercício financeiro o montante apurado da despesa com pessoal do Poder Executivo de um Estado da Federação ultrapassar o limite estabelecido na LRF, além da implantação das medidas para contê-las, o excedente deverá ser eliminado, obrigatoriamente, no seguinte prazo:

- (A) no mês seguinte.
- (B) nos dois bimestres seguintes.
- (C) nos dois quadrimestres seguintes.
- (D) no trimestre seguinte.
- (E) no semestre seguinte.

50

Num determinado estado da federação, além do seu tribunal de contas, existe também o tribunal de contas dos municípios. Para verificação dos limites das despesas totais com pessoal foi apurado em 31 de dezembro o montante da receita corrente líquida importando em R\$ 6.800.000. Para cumprimento dos dispositivos da LRF, o custeio com pessoal do Poder Legislativo, no exercício, não poderia exceder ao seguinte valor:

- (A) R\$ 138.000.
- (B) R\$ 172.500.
- (C) R\$ 207.000.
- (D) R\$ 234.600.
- (E) R\$ 414.000.

CONHECIMENTOS ESPECÍFICOS – DISCURSIVAS

1

De acordo com a doutrina, as normas que orientam o controle e o registro dos fatos que ocorrem no patrimônio de uma entidade são denominados de regimes contábeis. Quais são e por que a legislação determina, obrigatoriamente, a adoção de um deles?

2

Quais são os instrumentos de Gestão Fiscal que trata a Lei de Responsabilidade Fiscal (Lei Complementar 101/2000)? E qual é a sua importância atualmente para a administração pública?

ESPAÇO DESTINADO AO RASCUNHO DAS DISCURSIVAS

QUESTÃO 1

01	
02	
03	
04	
05	
06	
07	
08	
09	
10	

QUESTÃO 2

01	
02	
03	
04	
05	
06	
07	
08	
09	
10	



F U N D A Ç Ã O
GETULIO VARGAS

FGV PROJETOS