

QUESTÃO 01

Acerca do sistema operacional Microsoft Windows, analise as seguintes afirmativas:




1. A ferramenta Windows Explorer, parte integrante do Windows, é utilizada para visualizar o conteúdo de pastas contidas no computador. A partir dela, é possível observar a quantidade de espaço em disco disponível em cada unidade de disco do computador.
2. O sistema de Lixeira é responsável por procurar documentos não mais utilizados no computador e removê-los automaticamente, aumentando, assim, o espaço em disco disponível.
3. Para se conectar um dispositivo USB no computador, como por exemplo, um *pen driver*, é necessário que o computador esteja desligado ou então que o mesmo seja reiniciado.

Assinale a alternativa **correta**:

- A) Apenas uma das afirmativas é falsa.
- B) Apenas as afirmativas 1 e 2 são falsas.
- C) Apenas as afirmativas 1 e 3 são falsas.
- D) Apenas as afirmativas 2 e 3 são falsas.
- E) As afirmativas 1, 2 e 3 são falsas.

QUESTÃO 02

Acerca dos comandos disponibilizados no programa Microsoft Word, analise as seguintes afirmativas:








1. O comando representado por  é utilizado para inserir tabelas no documento.
2. O comando representado por  tem como objetivo inserir um *hiperlink* no documento que, uma vez clicado, pode levar o usuário a uma página HTML na Web.
3. O comando representado por  é utilizado para inserir o número de pi (3,14159), valor da razão entre a circunferência de qualquer círculo e seu diâmetro.

Assinale a alternativa **correta**:

- A) Apenas uma das afirmativas é falsa.
- B) Apenas as afirmativas 1 e 2 são falsas.
- C) Apenas as afirmativas 1 e 3 são falsas.
- D) Apenas as afirmativas 2 e 3 são falsas.
- E) As afirmativas 1, 2 e 3 são falsas.

QUESTÃO 03

Acerca dos comandos disponibilizados no programa Microsoft Word, analise as seguintes afirmativas:

1. Os comandos representados por  e por  são utilizados para aumentar e diminuir o recuo do texto selecionado.
2. O comando representado por  é utilizado para definir o alinhamento do texto selecionado como à esquerda e à direita (justificado).
3. Os comandos representados por  e por  (ou por  e por , no Word 2007) são utilizados para desfazer e para refazer comandos ou entradas digitadas pelo usuário.

Assinale a alternativa **correta**:

- A) Apenas uma das afirmativas é falsa.
- B) Apenas as afirmativas 1 e 2 são falsas.
- C) Apenas as afirmativas 1 e 3 são falsas.
- D) Apenas as afirmativas 2 e 3 são falsas.
- E) As afirmativas 1, 2 e 3 são falsas.

QUESTÃO 04

A figura abaixo mostra uma planilha Excel utilizada para se calcular os gastos com compras de determinados produtos.

	B	C	D	E
2	Produto	Quantidade	Preço Unit.	Quantidade x Preço Unit.
3	Resma de papel	2	RS 15,00	RS 30,00
4	Caneta	7	RS 1,20	RS 8,40
5				RS 0,00
6				RS 0,00
7	Total:			RS 38,40
8				

Baseado nessa planilha, analise as afirmativas a seguir.

1. As células **E3** a **E7** precisam ter sua formatação definida como **Texto** para que seus valores possam ser iniciados pelo símbolo **R\$**.
2. A fórmula correta a ser utilizada na célula **E3** para calcular o total gasto com o produto discriminado na célula **B3** é **C3 x D3**.
3. Está correto utilizar a fórmula **SOMA(E3:E6)** na célula **E7** para calcular o total gasto com os produtos que aparecem na lista.

Assinale a alternativa **correta**:

- A) Apenas uma das afirmativas é verdadeira.
- B) Apenas as afirmativas 1 e 2 são verdadeiras.
- C) Apenas as afirmativas 1 e 3 são verdadeiras.
- D) Apenas as afirmativas 2 e 3 são verdadeiras.
- E) As afirmativas 1, 2 e 3 são verdadeiras.

QUESTÃO 05

Acerca dos tipos de gráficos disponibilizados pelo programa Microsoft Excel, analise as seguintes afirmativas:

1. O gráfico de barras é composto por diversas barras verticais, uma para cada valor de entrada.
2. O gráfico de radar exibe alterações em valores relacionados a um ponto central.
3. O gráfico de cone é similar ao gráfico de superfície.

Assinale a alternativa **correta**:

- A) Apenas uma das afirmativas é falsa.
- B) Apenas as afirmativas 1 e 2 são falsas.
- C) Apenas as afirmativas 1 e 3 são falsas.
- D) Apenas as afirmativas 2 e 3 são falsas.
- E) As afirmativas 1, 2 e 3 são falsas.

QUESTÃO 06

Sobre o processo de decisão de compra, é **incorreto** afirmar:

- A) O problema ou situação percebida pode ser iniciado por meio de estímulos espontâneos (internos) ou provocados (externos) por alguma fonte.
- B) Na busca de informações, o comprador começa, de forma consciente ou inconsciente, a buscar dados que possam ajudá-lo na decisão de compra.
- C) Na etapa de avaliação de alternativas, o comprador acaba sendo exclusivamente emocional, um misto de racional e emocional ou somente racional.
- D) A decisão de compra pode ser influenciada por atitudes de outros compradores, como as que expressam o contentamento ou frustração pela compra anterior de um produto ou serviço semelhante.
- E) A busca de informações pode ser dividida em duas fases: intenção elevada e busca ativa de dados.

QUESTÃO 07

Não é um dos objetivos básicos de um departamento de compras:

- A) Obter um fluxo contínuo de suprimentos a fim de atender aos programas de produção.
- B) Coordenar esse fluxo de maneira que seja aplicado um mínimo de investimento que afete a operacionalidade da empresa.
- C) Comprar materiais e insumos aos menores preços, obedecendo a padrões de quantidade e qualidade definidos.
- D) Medir a qualidade de entrada das matérias-primas, suprimentos e componentes para a organização.
- E) Procurar sempre dentro de uma negociação justa e honrada as melhores condições para a empresa, principalmente em condições de pagamento.

QUESTÃO 08

Quanto à classificação de materiais, é **incorreto** afirmar:

- A) Materiais não de estoque são materiais de demanda eventual onde não são definidos parâmetros para ressurgimento automático.
- B) Quanto ao estado ou condição, Material de Sucata é o item que não apresenta condições de uso e não mais satisfaz às exigências técnicas e sem valor econômico.
- C) Quanto à possibilidade de fazer ou comprar, são os materiais que podem ser reconicionados, fabricados internamente ou comprados.
- D) Os materiais críticos podem ser identificados por problemas de previsão e por razões de segurança.
- E) Quanto ao mercado fornecedor são materiais classificados quanto à sua procedência, ou seja, fabricados no próprio país ou fora do país.

QUESTÃO 09

Assinale a alternativa **incorreta** em relação ao cadastramento de materiais.

- A) Consiste na determinação de especificação geral (descrição ou nomenclatura padronizada, unidade, fator de acondicionamento, nível de serviço, etc.).
- B) Consiste na determinação de sua classificação (reconhecimento de sua natureza em relação aos grupos e subgrupos previamente definidos).
- C) Consiste na determinação de seu código (número identificador do material de acordo com o sistema pré-determinado).
- D) A descrição padronizada de um material obedece ao critério de que a denominação do mesmo deverá ser sempre na Língua Portuguesa e, em princípio, ser sempre no singular.
- E) A denominação de um material deverá prender-se ao material e à sua forma de embalagem, apresentação ou uso.

QUESTÃO 10

Ainda sobre cadastramento de materiais, marque a única alternativa **incorreta**.

- A) A ordem das informações na descrição do material deverá ser denominação principal, referência básica, forma do material, dimensões e outras especificações.
- B) Denominação de material: Papel A4 210mm X 297mm Cor Branca, Gramatura 75 kg/cm² s/timbre.
- C) A codificação decimal simplificada compõe-se de três chaves principais nessa ordem: a primeira chave (aglutinadora), a segunda chave (descritiva) e a terceira e última chave (individualizadora).
- D) Denominação de material: Conector Fêmea Latão DIA 3/4 POL NPT STF ou Equivalente Zincado.
- E) Dentre os sistemas existentes para a codificação de materiais, os principais são o alfabético, o numérico, o alfanumérico, o decimal simplificado ou universal.

QUESTÃO 11

No que concerne aos inventários nas empresas, é **incorreto** afirmar:

- A) Os inventários gerais são efetuados ao final do exercício fiscal e abrangem todos os itens de estoque de uma só vez.
- B) Os inventários rotativos serão realizados em três grupos: no Grupo 1 são enquadrados os itens mais significativos, no Grupo 2 os itens são inventariados três vezes ao ano e, o Grupo 3 será formado pelos demais itens.
- C) O cartão de inventário salvo exceções, será um cartão com partes destacáveis para até três contagens.
- D) *Cut-off* é um dos procedimentos mais importantes do inventário; se a sua organização não for bem feita, corre-se o risco de o inventário não corresponder à realidade.
- E) Todo item do estoque, sujeito ao inventário, será contado necessariamente duas vezes.

QUESTÃO 12

Considerando a avaliação (classificação) de cinco fornecedores pelos critérios de qualidade e preço, conforme os dados abaixo, qual o fornecedor a ser escolhido?

AVALIAÇÃO PELO CRITÉRIO DE QUALIDADE

FORNECEDOR	LOTES RECEBIDOS	LOTES ACEITOS	ÍNDICE DE ACEITAÇÃO	PESO	CLASSIFICAÇÃO
I	150	125	0,83	60	
II	100	95	0,95	60	
III	80	64	0,80	60	
IV	120	90	0,75	60	
V	200	180	0,90	60	

AVALIAÇÃO PELO CRITÉRIO DE PESO

FORNECEDOR	PREÇO LÍQUIDO	PESO	ÍNDICE DE PREÇO	CLASSIFICAÇÃO
I	290	40	1,00	40,00
II	310	40	0,93	37,20
III	300	40	0,96	38,40
IV	320	40	0,90	36,00
V	300	40	0,96	38,40

- A) II
- B) I
- C) III
- D) V
- E) IV

QUESTÃO 13

Considere as afirmativas seguintes:

1. É necessário que os fornecedores apresentem cópia do último balanço e atestado de capacidade e idoneidade financeira.
2. A Administração de Compras tem como objetivos adquirir o estoque a baixo preço e evitar interrupções no processo de produção.
3. Tudo o que for comprado pela unidade de compras deve ser vendável e ter rápida reposição de estoque (rotatividade).
4. Comprar, porém com preconceitos, procurando obter o máximo de valor final pelo dinheiro aplicado.
5. A melhor maneira de avaliar os fornecedores é acompanhar o seu desempenho sobre preço, cumprimento do prazo de entrega, qualidade do produto, condições de pagamento, ética comercial e presteza no atendimento de emergências.

Estão **corretas**:

- A) 1, 2 e 4, apenas.
- B) 1 e 5, apenas.
- C) 3 e 4, apenas.
- D) 1, 2, 3 e 5, apenas.
- E) 1, 2, 3, 4 e 5.

QUESTÃO 14

Podemos incluir como atividades típicas da Seção de Compras:

1. Estudo de mercado, inspeção das fábricas dos fornecedores e desenvolvimento de fontes de materiais alternativos.
2. Estudo dos materiais, negociar contratos e transferências de materiais.
3. Estudo do mercado, análise dos custos e desenvolvimento de fontes de fornecimento.
4. Conferência de requisições, fazer estimativa de custo e dispor de materiais desnecessários, obsoletos ou excedentes.
5. Cuidar das relações comerciais recíprocas, evitar excessos e obsolescência de estoque.

Estão **corretas** apenas

- A) 1 e 5.
- B) 3 e 4.
- C) 1, 2 e 5.
- D) 2 e 3.
- E) 1, 2, 3 e 4.

QUESTÃO 15

Associe cada cargo da função compra a sua respectiva descrição:

1. Chefe de compras.
 2. Acompanhador de compras – *follow-up*.
 3. Comprador de materiais diversos.
 4. Comprador técnico.
 5. Auxiliar de compras
- () Pesquisar arquivo de publicações técnicas.
() Efetuar cancelamentos, modificações e pequenas compras conforme determinação da chefia.
() Elaborar previsões periodicamente de compras.
() Efetuar e acompanhar pequenas compras de materiais sob supervisão da chefia da seção.
() Efetuar compras de materiais especiais de produção mediante a supervisão e a orientação da chefia.

A seqüência **correta** de cima para baixo é

- A) 1, 2, 3, 4, 5.
- B) 3, 4, 5, 2, 1.
- C) 5, 2, 1, 3, 4.
- D) 4, 1, 2, 5, 3.
- E) 5, 3, 4, 1, 2.

QUESTÃO 16

Assinale a única alternativa **incorreta** a respeito das características de um sistema de compras.

- A) Sistema de compras a três cotações tem por finalidade partir de um número mínimo de cotações para encorajar novos competidores.
- B) Sistema de preço objetivo garante ao comprador uma base para as argumentações nas discussões de aumentos de preço e nas negociações de distribuição da porcentagem.
- C) No mínimo três ou mais pessoas estão envolvidas em cada decisão da escolha do fornecedor.
- D) A pré-seleção dos concorrentes qualificados evita o dispêndio de tempo com um grande número de fornecedores.
- E) O sistema de preço objetivo pode ajudar os fornecedores a serem competitivos.

QUESTÃO 17

Considere as afirmativas abaixo:

1. A relação entre o sistema de compras e o departamento de produção deve ser considerada mais do ponto de vista do seu objetivo comum, que é contribuir efetivamente para o benefício da empresa. Essa é uma razão pra que nem um nem o outro predomine em suas funções.
2. A relação existente entre compras e PCP é fundamental e, o efeito desejado é estender a responsabilidade pelos materiais, desde o momento de aquisição até o de entrega e utilização.
3. A relação entre compras e Contabilidade é de vital importância e é iniciada logo após a compra ser realizada.
4. A cooperação entre compras e engenharia concentra-se no projeto, planejamento e especificações preliminares às verdadeiras exigências de produção.
5. Nas empresas industriais o relacionamento entre compras e vendas não está se transferindo para o PCP, já que o mesmo não é responsável por essas informações.

Estão **corretas** apenas

- A) 1, 2 e 3.
- B) 2 e 4.
- C) 3 e 5.
- D) 1, 3 e 4.
- E) 1, 2, 3 e 4.

QUESTÃO 18

Indique a alternativa **incorreta**:

- A) A cotação não deve ter rasuras e deverá conter preço, quantidade e data do recebimento na seção de compras e ainda estar sempre ao alcance de qualquer consulta e análise da auditoria.
- B) Um pagamento inicial efetuado pelo comprador sem o envio do pedido não traduz a concordância tácita do volume do fornecimento, das características técnicas e das condições constantes da proposta.
- C) Os elementos contidos na cotação devem fornecer não somente ao comprador, mas também a qualquer outro, os informes completos do que se está pretendendo comprar.
- D) As propostas mais usuais enviadas pelos fornecedores indicam os preços líquidos para entregas na fábrica.
- E) Em casos de atrasos na entrega das mercadorias sem culpa do fornecedor, as datas dos pagamentos permanecerão as mesmas, como se a entrega tivesse sido feita na data devida.

QUESTÃO 19

Examine as proposições seguintes. A única verdadeira é:

- A) Os prazos de fabricação não são geralmente indicados na proposta dos fornecedores em dias úteis de trabalho.
- B) O prazo de fabricação deverá ser contado a partir da data do recebimento do sinal e da primeira parcela do preço de venda ou da data de confirmação do comprador, por escrito, do pedido de fornecimento, quando tal condição for expressamente aceita pelo comprador.
- C) O prazo de fabricação, inclusive para efeito de cálculo do reajuste de preço, não ficará prorrogado em tantos dias quantos forem os dias da mora no pagamento das prestações ajustadas.
- D) Na impossibilidade da retirada do material, por motivos independentes à vontade do fornecedor, deve o mesmo despachá-lo ao endereço do comprador, por sua conta e risco, não devendo armazená-lo.
- E) O prazo de fabricação, inclusive para efeito de cálculo do reajuste de preço, ficará prorrogado em tantos dias quantos forem os dias da mora no caso de atrasos por motivos de força maior, tais como guerra, revolução, inundações, exceto falhas de fabricação.

QUESTÃO 20

Em relação ao processo de negociação, podemos considerar **incorreto** afirmar:

- A) No processo de negociação, a habilidade técnica tem merecido mais atenção do que a interpessoal, embora elas tenham peso igual no sucesso da negociação.
- B) Na etapa de exploração, precisa-se verificar se a necessidade detectada durante a etapa de preparação é verdadeira, e isso só pode ser obtido por meio de perguntas objetivas, mas jamais ameaçadoras.
- C) Na etapa de abertura se estabelecem os objetivos que devem ser alcançados de forma ideal e os que a realidade permitirá atingir.
- D) Na etapa de apresentação deve ser feito o relacionamento dos objetivos e expectativas iniciais com as necessidades da outra parte.
- E) Na clarificação precisamos considerar as objeções levantadas como oportunidades para fornecer mais informações.

QUESTÃO 21

Em se tratando de avaliação da performance das compras, analise as afirmativas abaixo

1. Um gerente de materiais e/ou um chefe de compras precisaria controlar e analisar colocação do pedido (tempo de compra) e número de coleta de preços.
2. Um gerente de materiais e/ou um chefe de compras precisaria controlar e analisar tempo de compra através da concorrência e controle de poupanças obtidas.
3. Um gerente de materiais e/ou um chefe de compras precisaria controlar e analisar volume de compras a dinheiro e índice de qualidade do fornecedor.
4. Um gerente de materiais e/ou um chefe de compras precisaria controlar e analisar análise geral da eficácia e média de propostas por coleta de preços.
5. Um gerente de materiais e/ou um chefe de compras precisaria controlar e analisar valor total das compras e pedidos de compra em aberto.

Estão corretas:

- A) 1 e 2, apenas.
- B) 3, 4 e 5, apenas.
- C) 1, 3 e 5, apenas.
- D) 2 e 4, apenas.
- E) 1, 2, 3, 4 e 5.

QUESTÃO 22

Analise as alternativas abaixo e assinale a incorreta.

- A) O tempo médio de compras com Coleta de Preços (CP) é obtido da média aritmética simples, considerando-se a data de recebimento das Solicitações de Compras (SC) e data de emissão do Pedido de Compra (PC).
- B) O tempo médio de Compras a Dinheiro (CD) é obtido da média aritmética determinada entre a data de abertura do processo e a data da encomenda (emissão do PC).
- C) O número de compras é obtido pela soma da quantidade de Compras a Dinheiro (CD) e Pedido de Compra (PC) efetuados em períodos diferentes.
- D) O Valor Total das Compras pode ser obtido através da soma dos valores mensais das Compras a Dinheiro (CD), dos Pedido de Compra (PC) e contratos de fornecimento.
- E) O tempo médio de contratação de um fornecedor é obtido pela média ponderada, considerando as Coletas de Preço (CP) realizadas nos últimos seis meses.

QUESTÃO 23

Sobre Logística Empresarial, é incorreto afirmar:

- A) Logística é processo de planejamento, implementação e controle do fluxo eficiente e economicamente eficaz de matérias-primas, estoque, produtos em processo e informações relativas desde o ponto de origem até o ponto de consumo.
- B) A missão da logística é dispor a mercadoria ou o serviço certo, no lugar certo, no tempo certo e nas condições desejadas, ao mesmo tempo em que fornece a maior contribuição para a empresa.
- C) A logística é um conjunto de atividades funcionais que é repetido muitas vezes ao longo do canal de suprimentos através do qual as matérias-primas são convertidas em produtos acabados e o valor é adicionado aos olhos dos consumidores.
- D) Como a fonte de matéria-prima, a fábrica e os pontos de venda não estão localizados no mesmo ponto geográfico e o canal representa a seqüência de fases da manufatura, as atividades logísticas muitas vezes ocorrem antes que um produto chegue ao mercado.
- E) Alguns dos componentes de um sistema logístico típico são: serviços ao cliente, previsão de vendas, comunicação de distribuição, controle de estoque, manuseio de materiais, processamento de pedidos e peças de reposição e serviços de suporte.

QUESTÃO 24

As assertivas abaixo se referem às atividades de um sistema logístico.

1. Como atividades-chave, temos os padrões de serviço ao cliente, transportes, administração de estoques e fluxo de informações e processamento de pedidos.
2. Como atividades de suporte, podemos citar: armazenagem, manuseio de materiais, compras, embalagem protetora, cooperar com a produção/operações e manutenção de informação.
3. Transporte e estoque são atividades logísticas primárias na absorção dos custos. O transporte adiciona valor de lugar aos produtos e serviços, enquanto o estoque adiciona valor de tempo.
4. A atividade de armazenagem é a determinação do espaço, disposição do estoque e desenho das docas, configuração do armazém e localização do estoque.
5. A atividade de colocar a embalagem protetora é uma atividade de suporte da armazenagem e do manuseio de materiais, embora não seja para o estoque.

Estão corretas

- A) 1 e 2, apenas.
- B) 3 e 5, apenas.
- C) 2 e 3, apenas.
- D) 1, 2, 3 e 4, apenas.
- E) 1, 2, 3, 4 e 5.

QUESTÃO 25

Quanto às modalidades de licitação, é incorreto considerar que:

- A) Tomada de preços é a modalidade de licitação entre interessados devidamente cadastrados ou que atenderem a todas as condições exigidas para cadastramento até o terceiro dia anterior à data do recebimento das propostas.
- B) Concorrência Pública é a modalidade de licitação entre quaisquer interessados que, na fase inicial de habilitação preliminar, comprovem possuir requisitos mínimos de qualificação exigidos no edital para execução do seu objeto.
- C) Carta Convite é a modalidade de licitação entre quaisquer interessados, cadastrados ou não, escolhidos e convidados em número mínimo de 3 (três) pela unidade administrativa.
- D) Leilão é a modalidade de licitação entre quaisquer interessados para a venda de bens inservíveis para a administração ou de produtos legalmente apreendidos ou penhorados.
- E) No processo de Aquisição, geralmente a modalidade de licitação escolhida fica entre a Tomada de Preços e a Concorrência Pública.

TEXTO

MENSAGEM DE NATAL

Papai Noel é, na banda ocidental deste resto de mundo que nos resta, o velhinho mais poderoso de que se tem notícia. Um deus. Um deus de poder aterrador.

Eta! Papai Noel chegou! Aí, tudo se agita, tudo efervesce, tudo se transforma. Arrasador, o velhinho! Com a sua vinda, aumenta a produção; aquecem as vendas; aumenta, portanto, a poluição atmosférica, aumenta o buraco na camada de ozônio, aumenta o aquecimento da Terra, aumenta a destruição da Terra.

E aumenta a destruição entre os homens, porque o poder do velhinho convence todos da necessidade de comprar... Quem pode, pode... Quem não pode... Atendendo ao apelo de Papai Noel, e para comprar roupa nova, o marginal conclui que tem direito ao 13°. Aí, rouba. Se necessário, mata.

Eta velhinho poderoso! Pois é! Ele faz acreditar nas mais deslavadas mentiras! O lojista anuncia a promoção: de R\$ 80,00 por apenas R\$ 60,00! Só que o preço da mercadoria, antes da chegada do velhinho (mentiroso!), era R\$ 40,00! Papai Noel faz promoção até em casa de parafusos: *a felicidade está bem perto de você! Um quilo de parafuso de todas as medidas por apenas R\$ 20,00!* Um “grande Papai Noel” está na frente de uma funerária, prometendo felicidade na compra de um ataúde de R\$ 800,00 por R\$ 600,00! E os *ministros* de Papai Noel fazem acreditar em canções *sem-vergonha*... “Como é que Papai Noel não se esquece de ninguém / seja rico seja pobre, o velhinho sempre vem”. Quanto cinismo!

Perde-se, em definitivo, o senso do ridículo: pinheiro é que é nossa árvore, não são mais cajueiros, mangueiras, jambeiros, nossas ricas frutas sazonais deste período! Mais: por aqui, numa temperatura média de 30° C, neva e anda-se de trenó! Ainda: nossos empregados usam gorro cônico (nas cores da coca-cola, perdão nas cores das vestes de Papai Noel, vermelho e branco) e – pasmem! – alguns com pisca-pisca na parte frontal! Em terraços, em parapeitos de edifícios, penduram-se bonecos, ridículos e mal confeccionados *bonecos-papais-Noel-dançarinos-desengonçados*...!

Papai Noel tudo pode! Já está, até, em Bagdá, no Iraque! Lá nas terras do Profeta! Pois é! Inaugurado um *shopping* naquela capital, a *paz americana* ali se instalará! E onde há *shopping*, lá está Papai Noel. Os americanos estão conseguindo empurrar Papai Noel na goela dos iraquianos. Não quiseram engolir Papai Noel por bem, isto é, com coca-cola, então tiveram que engolir, por mal, com bombas, atiradas com alta precisão. Povos com dignidade histórica e cultural não gostam nem de bombas, nem do sabor da coca, menos ainda de Papai Noel. Esses povos..., ora! não têm bom gosto. Bom gosto, sim, temos nós, brasileiros, que chegamos a fazer fila para pôr nossos filhos no colo do velho poderoso! Só vendo a felicidade de Papai Noel...!

Sim, mas onde está um menino cujo Natal se comemorava por estes tempos, menino que, segundo dizem, teria nascido para ensinar aos homens a crença do homem no outro homem, crença cuja denominação mais apropriada é *amor*, e não mercado?!

Lamentável... no lugar de quem – *homem, lenda, mito* ou *Deus* – ensinou a mais humana das lições: **(com)viver**, foi entronizado um ventríloquo do capitalismo, que apenas sabe, mecanicamente, repetir, à exaustão, as palavras: comprar e vender.

(Janilto Andrade)

QUESTÃO 26

Com sua “mensagem”, o autor tem como propósito principal:

- A) convencer as pessoas de que o Natal sem Papai Noel não tem sentido.
- B) denunciar a falta de ética dos comerciantes que fazem publicidade desonesta.
- C) provocar uma reflexão sobre a apropriação de uma tradição religiosa pelo poder do capitalismo americano.
- D) demonstrar que, no Natal, aumenta o número de roubos, porque os marginais acreditam que têm direito ao 13° salário.
- E) mostrar que o povo brasileiro não tem o bom gosto dos povos com “dignidade histórica e cultural”.

QUESTÃO 27

Para apresentar suas idéias, o autor cria:

- A) uma dissertação opinativa;
- B) uma dissertação argumentativa objetiva;
- C) uma narração subjetiva;
- D) uma descrição subjetiva;
- E) um texto injuntivo;

QUESTÃO 28

Em que item o comentário **não** diz respeito à idéia central do parágrafo indicado?

- A) Segundo parágrafo: no Natal, estimula-se um consumo desenfreado, que contribui para esgotar os recursos naturais e acelerar a destruição do planeta.
- B) Terceiro parágrafo: o estímulo ao consumo é um dos motivos da violência.
- C) Quinto parágrafo: em um país onde a temperatura é muito alta e só neva em alguns estados do Sul, é ridículo que se ande de trenó.
- D) Sexto parágrafo: os americanos tiveram que usar armas na invasão do Iraque, porque não conseguiram inculcar naquele povo a ideologia capitalista, como fizeram com o povo brasileiro.
- E) Último parágrafo: a idéia de Papai Noel, como símbolo do consumismo, substitui a idéia de nascimento do Cristo, símbolo da convivência harmônica entre os seres humanos.

QUESTÃO 29

O único item em que não há ironia é:

- A) “Não quiseram engolir Papai Noel por bem, isto é, com coca-cola...”
- B) “... numa temperatura média de 30° C, neva e anda-se de trenó...”
- C) “Inaugurado um *shopping* naquela capital, a *paz americana* ali se instalará...”
- D) “Bom gosto, sim, temos nós, brasileiros, que chegamos a fazer fila para pôr nossos filhos no colo do velho poderoso...”
- E) “Perde-se, em definitivo, o senso do ridículo...”

QUESTÃO 30

Verifique, em cada item, se há correspondência de sentido entre os dois segmentos apresentados.

- I - “Ele faz acreditar nas mais deslavadas mentiras!”
 - Ele faz acreditar nas mais descaradas mentiras!
- II - “... prometendo felicidade na compra de um ataúde...”
 - ... Prometendo felicidade na compra de um caixão fúnebre...
- III - “... nossas ricas frutas sazonais deste período...”
 - Nossas ricas frutas saudáveis deste período...
- IV - “... nossos empregados usam gorro cônico...”
 - ... nossos empregados usam gorro ridículo...”
- V - “... foi entronizado um ventríloquo do capitalismo...”
 - ... foi endeusado um boneco do capitalismo...

Há correspondência de sentido em:

- A) I e III
- B) I e II
- C) I, II e IV
- D) II, III e IV
- E) III, IV e V

QUESTÃO 31

A ocorrência de muitos sinais de exclamação no texto indica:

- A) subjetividade;
- B) hesitação;
- C) explicação;
- D) dúvida;
- E) alegria.

QUESTÃO 32

Em que letra as vírgulas não isolam informação adverbial deslocada?

- A) “Papai Noel é, na banda ocidental deste resto de mundo que nos resta, o velhinho mais poderoso de que se tem notícia.”
- B) “Povos com dignidade histórica e cultural não gostam nem de bombas, nem do sabor da coca, menos ainda de Papai Noel.”
- C) “Perde-se, em definitivo, o senso do ridículo...”
- D) “... apenas sabe, mecanicamente, repetir, à exaustão, as palavras: comprar e vender.”
- E) “Só que o preço da mercadoria, antes da chegada do velhinho (mentiroso!), era R\$ 40,00!”

QUESTÃO 33

A única expressão do texto que referencia Papai Noel é:

- A) “o marginal”
- B) “os *ministros*”
- C) “um ventríloquo do capitalismo”
- D) “um menino cujo Natal se comemorava por estes tempos”
- E) “*homem, lenda, mito ou Deus*”

QUESTÃO 34

Assinale a letra em que o valor semântico indicado não corresponde ao da conjunção empregada.

- A) “... aumenta, portanto, a poluição atmosférica...”
 - conclusão
- B) “... aumenta a destruição entre os homens, porque o poder do velhinho convence a todos da necessidade de comprar...”
 - explicação
- C) “Se necessário, mata.”
 - condição
- D) “... teria nascido para ensinar aos homens a crença do homem no outro homem...”
 - consequência
- E) “... neva e anda-se de trenó...”
 - adição

QUESTÃO 35

Assinale a única opção em que a expressão em destaque não é retomada por um pronome.

- A) “**resto de mundo** que nos resta”
- B) “**velhinho mais poderoso** de que se tem notícia”
- C) “**o marginal** conclui que tem direito ao 13º”
- D) “**um menino** cujo Natal”
- E) “**crença** cuja denominação mais apropriada é *amor*”

QUESTÃO 36

Assinale a única opção em que a alteração do verbo cria um erro de regência:

- A) ...teria nascido para revelar aos homens a crença do homem no outro homem.
- B) ...teria nascido para mostrar aos homens a crença do homem no outro homem.
- C) ...teria nascido para indicar aos homens a crença do homem no outro homem.
- D) ...teria nascido para sugerir aos homens a crença do homem no outro homem.
- E) ...teria nascido para instruir aos homens a crença do homem no outro homem.

QUESTÃO 37

Preencha as lacunas com as preposições necessárias:

- Onde está o menino ____ cujo natal a humanidade já se esqueceu?
- Onde está o menino ____ cujo natal o autor se refere?
- Onde está o menino ____ cujo natal poucos pensam?
- Onde está o menino ____ cujo natal voltam-se as atenções dos cristãos?

De cima para baixo, a seqüência correta é:

- A) de – a – em – para
- B) de – com – para – em
- C) em – de – a – para
- D) em – para – de – para
- E) em – a – em – de

QUESTÃO 38

O verbo deve concordar com o sujeito. O único item em que não se encontra um segmento que comprova essa regra é:

- A) “Perde-se, em definitivo, o senso do ridículo”
- B) “anda-se de tremó”
- C) “penduram-se bonecos”
- D) “cujo Natal se comemorava”
- E) “foi entronizado um ventríloquo do capitalismo”

QUESTÃO 39

Assinale a opção em que a expressão adverbial em negrito não se relaciona com o verbo, também em negrito.

- A) “**Com a sua vinda, aumenta** a produção.”
- B) “**Se necessário, mata.**”
- C) “Um “grande Papai Noel” **está na frente de uma funerária**, prometendo felicidade na compra de um ataúde de R\$ 800,00 por R\$ 600,00!”
- D) “**Já está, até, em Bagdá**, no Iraque!”
- E) “**Chegamos** a fazer fila para pôr nossos filhos **no colo do velho poderoso**”

QUESTÃO 40

Não há um sujeito posposto ao verbo em:

- A) “onde há *shopping*”
- B) “lá está Papai Noel”
- C) “Bom gosto, sim, temos nós, brasileiros”
- D) “E aumenta a destruição entre os homens”
- E) “foi entronizado um ventríloquo do capitalismo”