

TEXTO 1

Numerosos estudos abordam a dificuldade da separação entre traficante e usuário, sombreada pelos efeitos do vício que a droga proporciona. Pesquisas muito caras e de difícil metodologia foram conduzidas nos Estados Unidos e levaram à conclusão de que os homens, mais do que as mulheres, usam drogas ilegais. Homens mais novos (de 18 a 25 anos) usam mais do que os mais velhos; os desempregados, mais do que os empregados; os solteiros e divorciados, mais do que os casados.

Existem igualmente estudos focalizados nas relações familiares, de emprego e de vizinhança que os usuários abusivos de drogas mantêm. As conclusões contestam as idéias de senso comum, que associam tais comportamentos à pobreza, a "lares desfeitos" e a "más companhias". Alguns estudos procuram mostrar que não a pobreza, mas as próprias exigências do funcionamento do tráfico são a origem do comportamento violento associado ao uso de drogas. Outros juntam evidências de que a falta de diálogo aberto entre pais e filhos abre caminho para o consumo das mesmas. Seria, então, a violência doméstica e a ausência dos pais, mais do que a separação deles, as principais razões do uso de drogas.

A curiosidade, a valorização do proibido e do risco, característicos da adolescência, assim como o desejo de se afirmar como alguém capaz de enfrentar a morte, fazem do uso de drogas proibidas uma atração constante para os jovens, só superada pela informação, pelo diálogo e pela preocupação demonstrada pelos adultos.

Texto disponível em: <http://www.antidrogas.com.br>. Acessado em 19/01/2008. Adaptado.

QUESTÃO 01

O Texto 1 aborda, principalmente:

- A) as conseqüências do uso de drogas.
- B) as razões que levam ao uso de drogas.
- C) a posição dos pais quanto ao uso de drogas.
- D) as soluções para o problema das drogas.
- E) as formas de prevenção contra as drogas.

QUESTÃO 02

Segundo o Texto 1, pesquisas têm conseguido comprovar que:

- A) a infância se configura como a fase mais propícia ao uso de drogas.
- B) a violência que se associa ao uso de drogas deve-se exclusivamente à pobreza.
- C) inexistente relação entre o uso de drogas e o estado civil das pessoas.
- D) a atração que as drogas exercem sobre os jovens é impossível de ser superada.
- E) há relação entre uso de drogas e relacionamentos familiares conflituosos.

QUESTÃO 03

São saídas apontadas pelo Texto 1 para evitar o envolvimento dos jovens com as drogas, exceto:

- A) separá-los dos traficantes.
- B) conversar com eles acerca do problema.
- C) permanecer preocupado com eles.
- D) manter com eles constante diálogo.
- E) fornecer-lhes adequadas informações.

QUESTÃO 04

Ao afirmar que "As conclusões contestam as idéias de senso comum..." (2º §), o Texto 1 pretendeu dizer que:

- A) as conclusões vão ao encontro das idéias consensualmente aceitas.
- B) as conclusões ratificam as idéias veiculadas pelo senso comum.
- C) as conclusões complementam os resultados de pesquisas anteriores.
- D) as conclusões são diferentes daquelas idéias aceitas como verdadeiras.
- E) as conclusões avançaram muito pouco, em relação às idéias de senso comum.

QUESTÃO 05

Nos seguintes trechos extraídos do Texto 1, analise a função dos segmentos sublinhados.

1. Pesquisas muito caras e de difícil metodologia foram conduzidas nos Estados Unidos.
2. Existem estudos focalizados nas relações familiares, de emprego e de vizinhança que os usuários abusivos de drogas mantêm.
3. Alguns estudos procuram mostrar a origem do comportamento violento associado ao uso de drogas.
4. A curiosidade, a valorização do proibido e do risco fazem do uso de drogas proibidas uma atração constante para os jovens.

Têm função adjetiva os trechos sublinhados em:

- A) 1 e 2, apenas.
- B) 2 e 3, apenas.
- C) 2, 3 e 4, apenas.
- D) 1, 3 e 4, apenas.
- E) 1, 2, 3 e 4.

QUESTÃO 06

Assinale a alternativa na qual as regras da concordância verbal foram cumpridas.

- A) Não resta dúvidas de que o acesso às drogas é mais fácil, nos tempos atuais.
- B) Não é cientificamente comprovado que, no passado, haviam mais jovens viciados.
- C) Faz muitos anos que os jovens requerem mais abertura em relação às drogas.
- D) De fato, falta informações para que o problema das drogas seja totalmente superado.
- E) Sabe-se, hoje, que o resultado das pesquisas não são totalmente confiáveis.

QUESTÃO 07

“Alguns estudos procuram mostrar que não a pobreza, mas as próprias exigências do funcionamento do tráfico são a origem do comportamento violento associado ao uso de drogas.” – Nesse trecho, o sentido do termo sublinhado ficará mantido se ele for substituído por:

- A) ... não a pobreza, e, sim, as próprias exigências...
- B) ... não a pobreza, aliás as próprias exigências...
- C) ... não a pobreza, ademais as próprias exigências...
- D) ... não a pobreza, mais as próprias exigências...
- E) ... não a pobreza, embora as próprias exigências...

QUESTÃO 08

Assinale a alternativa em que a palavra sublinhada se apresenta corretamente grafada.

- A) Os envolvidos com drogas, sem excessão, necessitam de ajuda para se livrar do vício.
- B) Os estudiosos defendem que é preciso ter corajem e determinação para se libertar do vício.
- C) Nem todos os viciados em drogas têm a mesma condição; é preciso analisar caso a caso.
- D) Tentar libertar-se das drogas sem ajuda tem causado uma enorme frustação nos jovens.
- E) Procurar ajuda para superar o problema das drogas é uma grande prova de umildade.

QUESTÃO 09

Para o termo ‘alguém’, o acento gráfico é requerido pela mesma razão que é requerido em:

- A) Jequié
- B) também
- C) réquiem
- D) dêem
- E) cafés

TEXTO 2

Boa lição de um ex-trafficante

Perguntei a João Guilherme Estrella, ex-viciado e ex-trafficante que inspirou o filme “*Meu nome não é Johnny*”, como ele educaria seu filho contra o abuso de drogas. Sua receita: ficar próximo e, sem discursos moralistas ou histéricos, mostrar os perigos do prazer. A proximidade ajudaria a evitar que o filho, longe da família, veja nos amigos sua única fonte de acolhimento afetivo. “Sou um ótimo contra-exemplo do perigo da droga”, conta. Esse foi um detalhe da minha entrevista com João Guilherme, mais aprofundada em meu site. Mas é um detalhe valioso para os pais e educadores preocupados com o abuso de drogas entre os jovens.

Estabelecer limites gera conflitos e desgastes, mas é uma das grandes responsabilidades dos pais e educadores, não para tolher, mas para assegurar a liberdade. João Guilherme, como mostra o filme, sentia-se um indivíduo totalmente livre, sem limites na família, na escola e na sociedade. Foi descobrir o limite da pior maneira possível. Numa jaula.

O que a história de João Guilherme, amplificada pelo filme, traz à reflexão é que de pouco adianta o discurso terrorista ou moralista contra as drogas. E que os pais e educadores não devem nunca temer o conflito com os jovens para que se estabeleçam os limites, pois é nesse conflituoso aprendizado do limite que o jovem teria mais condições de valorizar a autonomia. Isso implica inclusive estabelecer limites na própria sociedade. Para o aprendizado do limite sem moralismo nem histeria, o filme deveria ser trabalhado nas escolas. Vale mais do que qualquer sermão.

Gilberto Dimenstein. Texto disponível em: <http://www1.folha.uol.com.br>. Acessado em 19/01/2008. Adaptado.

QUESTÃO 10

Os Textos 1 e 2 apresentam pontos em comum. Por exemplo, podemos afirmar que a “receita” apresentada por João Guilherme (1º parágrafo) para educar seu filho contra o abuso de drogas:

- A) é relativamente inútil, pois, de acordo com o Texto 1, essa receita vai de encontro às conclusões apontadas pelas pesquisas mais recentes em relação ao uso de drogas.
- B) é comprovadamente a única solução para evitar que seu filho seja seduzido pelo prazer que as drogas despertam nos jovens, segundo as pesquisas apresentadas no Texto 1.
- C) dificilmente causará o efeito desejado, pois, de acordo com o Texto 1, a curiosidade e a valorização do proibido e do risco fazem das drogas uma atração constante para os jovens.
- D) pode resultar no afastamento de seu filho das drogas, mas, conforme o Texto 1, isso só será alcançado se o ator conseguir manter um relacionamento duradouro com sua esposa.
- E) pode, de fato, afastar seu filho das drogas, já que, segundo o Texto 1, há evidências de que a carência de diálogo aberto entre pais e filhos abre caminho para o consumo de drogas.

QUESTÃO 11

Segundo informações fornecidas pelo Texto 2, no caso do ator João Guilherme, a principal razão para que ele se tenha envolvido com drogas foi:

- A) os constantes conflitos e desgastes familiares por ele enfrentados.
- B) o fato de ele ter ido parar numa prisão ainda muito jovem.
- C) o fato de ele não concordar com o discurso moralista contra as drogas.
- D) a ausência de limites em todas as instâncias de sua vida.
- E) a desvalorização com que seus pais trataram sua educação escolar.

QUESTÃO 12

O autor utiliza a história de vida de um ator para defender, no Texto 2, principalmente:

- A) a necessidade de a escola adotar uma estratégia para educar os jovens contra as drogas.
- B) uma atitude mais firme dos pais, no sentido de estabelecer limites para seus filhos.
- C) a substituição do discurso terrorista contra as drogas por um discurso mais moralista.
- D) o direito à autonomia dos jovens, que deve começar pela liberdade dada a eles pelos pais.
- E) um relacionamento mais estreito entre escola e família, para, juntas, combaterem as drogas.

QUESTÃO 13

*“Para o aprendizado do limite sem moralismo nem histeria, o filme deveria ser trabalhado nas escolas.”* – Nesse enunciado, o trecho destacado indica:

- A) finalidade.
- B) causa.
- C) tempo.
- D) condição.
- E) conseqüência.

QUESTÃO 14

*“Estabelecer limites gera conflitos e desgastes, mas é uma das grandes responsabilidades dos pais e educadores, não para tolher, mas para assegurar a liberdade.”* – O sentido global desse trecho foi alterado em:

- A) Estabelecer limites gera conflitos e desgastes, todavia é uma das grandes responsabilidades dos pais e educadores, não para tolher, mas para assegurar a liberdade.
- B) Apesar de estabelecer limites gerar conflitos e desgastes, é uma das grandes responsabilidades dos pais e educadores, não para tolher, mas para assegurar a liberdade.
- C) Estabelecer limites gera conflitos e desgastes, pois é uma das grandes responsabilidades dos pais e educadores, não para tolher, mas para assegurar a liberdade.
- D) Embora estabelecer limites gere conflitos e desgastes, é uma das grandes responsabilidades dos pais e educadores, não para tolher, mas para assegurar a liberdade.
- E) Estabelecer limites gera conflitos e desgastes, no entanto é uma das grandes responsabilidades dos pais e educadores, não para tolher, mas para assegurar a liberdade.

QUESTÃO 15

O ‘aposto’ é um termo ou um segmento de caráter geralmente explicativo, que tem muita importância para o discurso. Assinale a alternativa na qual o trecho sublinhado está exercendo a função de aposto.

- A) Para o aprendizado do limite sem moralismo nem histeria, o filme deveria ser trabalhado nas escolas.
- B) Sua receita: ficar próximo e, sem discursos moralistas ou históricos, mostrar os perigos do prazer.
- C) João Guilherme, como mostra o filme, sentia-se um indivíduo totalmente livre, sem limites na família, na escola e na sociedade.
- D) Estabelecer limites gera conflitos e desgastes, mas é uma das grandes responsabilidades dos pais e educadores, não para tolher, mas para assegurar a liberdade.
- E) Perguntei a João Guilherme Estrella, ex-viciado e ex-traficante que inspirou o filme “Meu nome não é Johnny”, como ele educaria seu filho contra o abuso de drogas.

QUESTÃO 16

Assinale a alternativa na qual as regras da regência nominal foram obedecidas.

- A) Hoje, sabe-se o quanto as drogas são prejudiciais com a saúde.
- B) Usar drogas não é uma condição inerente do ser humano.
- C) O uso de drogas é incompatível com uma boa condição física.
- D) Os jovens não se sentem capazes em sair do mundo das drogas sozinhos.
- E) Para livrar-se das drogas, é necessário ter aversão delas.

**QUESTÃO 17**

Analise as formas verbais destacadas nos enunciados a seguir.

1. Vários cientistas já proporam medidas que poderiam ser usadas no tratamento contra as drogas.
2. Somente quando os remédios satisfizerem algumas condições, poderão ser utilizados.
3. O governo interveio muito pouco nas pesquisas contra as drogas que estão em andamento.
4. Alguns jovem se entretêm usando drogas, mas o fato é que elas não são uma diversão.

Os verbos estão corretamente conjugados apenas em:

- A) 3.
- B) 4.
- C) 2 e 4.
- D) 1 e 4.
- E) 3 e 4.

**QUESTÃO 18**

A pontuação é, muitas vezes, uma questão de estilo. Observe, por exemplo, a pontuação utilizada no seguinte trecho do Texto 2: “*João Guilherme, como mostra o filme, sentia-se um indivíduo totalmente livre, sem limites na família, na escola e na sociedade. Foi descobrir o limite da pior maneira possível. Numa jaula.*” Para esse trecho, outra possibilidade de pontuação, também correta, é:

- A) João Guilherme como mostra o filme sentia-se um indivíduo totalmente livre. Sem limites na família; na escola e na sociedade. Foi descobrir o limite da pior maneira possível; numa jaula!
- B) João Guilherme, como mostra o filme, sentia-se um indivíduo: totalmente livre, sem limites na família; na escola e na sociedade, foi descobrir o limite da pior maneira possível; numa jaula.
- C) João Guilherme como mostra o filme, sentia-se um indivíduo totalmente livre. Sem limites na família, na escola e na sociedade, foi descobrir o limite da pior maneira possível. Numa jaula.
- D) João Guilherme, como mostra o filme, sentia-se um indivíduo totalmente livre, sem limites na família, na escola e na sociedade. Foi descobrir o limite da pior maneira possível: numa jaula!
- E) João Guilherme como mostra o filme, sentia-se um indivíduo totalmente livre, sem limites na família, na escola e na sociedade; foi descobrir o limite, da pior maneira possível, numa jaula.

**QUESTÃO 19**

Assinale a alternativa em que o termo sublinhado está corretamente grafado.

- A) É preciso investigar o por quê do crescente interesse dos jovens pelas drogas.
- B) A razão por que alguns jovens conseguem superar o vício e outros não ainda é uma incógnita.
- C) Lutar contra as drogas é urgente, porquê cada vez mais jovens se entregam a elas.
- D) Uma pergunta crucial é: Por que o governo não age com mais rigor no combate às drogas?
- E) É compreensível que alguns pais não entendam porque seus filhos usam drogas.

**QUESTÃO 20**

De acordo com as regras de acentuação vigentes, o termo ‘*histérico*’ deve ser acentuado, mas o termo ‘*histeria*’ não deve. Assinale a alternativa correta quanto à acentuação.

- A) Os substantivos ‘*café*’ e ‘*cajú*’ devem, ambos, ser acentuados.
- B) O termo ‘*pôr*’, quer seja preposição, quer seja verbo, deve receber acento.
- C) Os advérbios ‘*alí*’ e ‘*aquí*’ devem, ambos, ser acentuados.
- D) O substantivo ‘*maquinária*’ deve ser acentuado, mas o adjetivo ‘*hilaria*’ não deve.
- E) O substantivo ‘*fábrica*’ deve ser acentuado, mas ‘*rubrica*’ não deve.

**QUESTÃO 21**

O Brasil consome, a cada ano, 7 milhões de toneladas de papel, sendo que a metade é papel reciclado, que utiliza apenas  $2\text{m}^3$  de água por tonelada produzida, enquanto que uma tonelada de papel branco gasta  $50\text{m}^3$  de água na sua fabricação. De acordo com esses dados, quantos metros cúbicos de água são economizados no país, com a reciclagem de papel?

- A)  $100\text{m}^3$  de água.
- B)  $168\text{m}^3$  de água.
- C)  $172\text{m}^3$  de água.
- D)  $175\text{m}^3$  de água.
- E)  $182\text{m}^3$  de água.

**QUESTÃO 22**

No ano passado, para cada projeto de lei enviado ao Congresso, o governo enviou cinco Medidas Provisórias. Sabendo que o governo enviou 72 matérias para o Congresso, quantas Medidas Provisórias foram enviadas?

- A) 12 Medidas Provisórias.
- B) 14 Medidas Provisórias.
- C) 36 Medidas Provisórias.
- D) 45 Medidas Provisórias.
- E) 60 Medidas Provisórias.

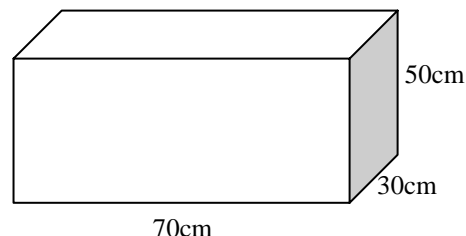
**QUESTÃO 23**

Estima-se que cada pessoa receba, por ano, 50kg de lixo postal, formado por folhetos de propaganda, papel inútil, etc. Esquecemos, muitas vezes, que para produzir uma tonelada de papel é necessário derrubar 30 árvores. Nessas condições, o fim do lixo postal em uma cidade como Recife, com 2 milhões de habitantes, poderia evitar, anualmente, a derrubada de quantas árvores?

- A) 0,6 milhão de árvores.
- B) 1,5 milhão de árvores.
- C) 2 milhões de árvores.
- D) 2,3 milhões de árvores.
- E) 3 milhões de árvores.

**QUESTÃO 24**

Todo o conteúdo do recipiente representado abaixo permite encher completamente latinhas com 350ml de suco. Quantas dessas latinhas se podem encher com todo o conteúdo desse reservatório?



- A) 105 latinhas.
- B) 150 latinhas.
- C) 210 latinhas.
- D) 300 latinhas.
- E) 350 latinhas.

**QUESTÃO 25**

O carro de Lucas está bem regulado, e ele consegue fazer, na estrada, 25 quilômetros com 3 litros de álcool, pagando R\$ 1,50 por litro de combustível. Nessas condições, se Lucas gastou R\$ 108,00 em uma certa viagem, quantos quilômetros ele percorreu?

- A) 240 quilômetros.
- B) 360 quilômetros.
- C) 450 quilômetros.
- D) 600 quilômetros.
- E) 750 quilômetros.

**QUESTÃO 26**

Carlos foi ao armazém para comprar 20m de fio. O vendedor mediu o fio com uma régua que supostamente media um metro, e cobrou 10 reais de Carlos. Ao chegar em casa, Carlos mediu o comprimento do fio comprado e verificou que havia sido lesado em 20 centavos. Quantos centímetros mede a régua desse vendedor?

- A) 99cm.
- B) 98cm.
- C) 97cm.
- D) 96cm.
- E) 95cm.

**QUESTÃO 27**

Segundo recente relatório da ONU, de cada 10 seres humanos do planeta, 5 vivem no campo, 3,5 vivem em áreas não pobres da cidade, e 1,5 vive em favelas. De acordo com esses dados, qual o percentual de habitantes do planeta que vive em favela?

- A) 15%
- B) 25%
- C) 30%
- D) 35%
- E) 40%

**QUESTÃO 28**

Uma cidade possui três hospitais. O menor, tem orçamento de 1 milhão de reais por mês, o segundo de 2 milhões de reais por mês, e o maior deles tem orçamento de 3 milhões de reais por mês. Tendo recebido uma verba suplementar de 110 milhões de reais, a Secretaria da Saúde resolveu distribuí-la de forma inversamente proporcional ao orçamento de cada um dos três hospitais. Dessa forma, quanto recebeu o menor hospital?

- A) 30 milhões de reais.
- B) 36 milhões de reais.
- C) 40 milhões de reais.
- D) 55 milhões de reais.
- E) 60 milhões de reais.

**QUESTÃO 29**

A maior rede de supermercados do nordeste foi vendida para a gigante mundial de supermercados, companhia americana que fatura 351 bilhões de dólares por ano, e tem 1,3 milhão de funcionários diretos. Com base nesses dados, qual o valor médio do faturamento por funcionário direto dessa empresa?

- A) 220 mil dólares.
- B) 250 mil dólares.
- C) 270 mil dólares.
- D) 300 mil dólares.
- E) 340 mil dólares.

**QUESTÃO 30**

Um vendedor tem entre 40 e 50 quilos de queijo e uma fila de compradores. Se cada comprador levar 3 quilos de queijo, o vendedor ficará ainda com 2 quilos. Se cada comprador levar 4 quilos de queijo, o último da fila levará 1 quilo a menos. Nessas condições, quantos quilos, exatamente, o vendedor tem?

- A) 42 quilos.
- B) 44 quilos.
- C) 45 quilos.
- D) 47 quilos.
- E) 49 quilos.

**QUESTÃO 31**

Em um festival de música o primeiro colocado recebe  $\frac{1}{3}$  do total dos prêmios, o segundo colocado recebe  $\frac{1}{4}$ , o terceiro recebe  $\frac{1}{5}$ , o quarto recebe  $\frac{1}{6}$  do prêmio, e o quinto colocado recebe 6 mil reais. Qual o valor do prêmio do segundo colocado?

- A) 40 mil reais.
- B) 30 mil reais.
- C) 24 mil reais.
- D) 20 mil reais.
- E) 12 mil reais.

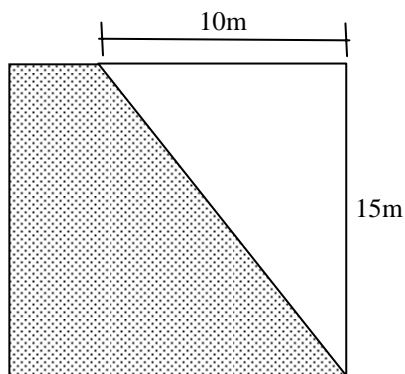
**QUESTÃO 32**

Apesar de apresentar, atualmente, o maior PIB per capita do Estado, o município de Ipojuca tem 60% de seus habitantes classificados como pobres. São 42 mil pessoas nessas condições. De acordo com esses dados, qual a população atual de Ipojuca?

- A) 70 mil habitantes.
- B) 84 mil habitantes.
- C) 102 mil habitantes.
- D) 186 mil habitantes.
- E) 252 mil habitantes.

**QUESTÃO 33**

Um terreno quadrado, com 15m de lado, foi dividido em duas partes, como representado na figura abaixo. Quanto mede a área da parte pintada?



- A)  $75m^2$ .
- B)  $125m^2$ .
- C)  $150m^2$ .
- D)  $175m^2$ .
- E)  $225m^2$ .

**QUESTÃO 34**

Em um certo dia, um camelô vendeu 22 CDs e 15 DVDs, faturando 300 reais. No dia seguinte, ele vendeu 16 CDs e 20 DVDs, pelos mesmos valores do dia anterior, e faturou o mesmo valor. Nessas condições, qual o valor de um CD?

- A) R\$ 7,00
- B) R\$ 7,50
- C) R\$ 8,00
- D) R\$ 8,50
- E) R\$ 9,00

**QUESTÃO 35**

No mês passado, os fornecedores atrasaram o pagamento de Marcelo, e ele usou os 3 mil reais do cheque especial o mês todo. Para piorar, o banco que vinha cobrando 11% de juros ao mês, aumentou a taxa para 12%. De acordo com esses dados, quanto Marcelo teve de pagar a mais, nesse mês, de juros?

- A) R\$ 23,00
- B) R\$ 27,00
- C) R\$ 30,00
- D) R\$ 33,00
- E) R\$ 36,00

**QUESTÃO 36**

O preço de uma corrida de táxi é calculado somando um valor fixo, a bandeirada, com o resultado da multiplicação do número de quilômetros percorridos pelo valor de cada quilômetro. Em uma cidade, a bandeirada custa 6 reais, e o quilômetro percorrido custa 3 reais. Quantos quilômetros, no mínimo, deve ter uma corrida, para que o motorista fature 90 reais, ou mais?

- A) 26 quilômetros.
- B) 27 quilômetros.
- C) 28 quilômetros.
- D) 29 quilômetros.
- E) 30 quilômetros.

**QUESTÃO 37**

Para processar 1kg de carne vermelha são necessários 200 litros de água. Para a implantação de um frigorífico, está prevista a construção de um reservatório de água na forma de paralelepípedo com dimensões inteiras medindo 4m, 6m, e 10m. Mantendo-se essa proporção, quantos quilogramas de carne vermelha poderão ser processados com essa quantidade de água?

- A) 800 quilogramas.
- B) 1000 quilogramas.
- C) 1200 quilogramas.
- D) 1600 quilogramas.
- E) 2000 quilogramas.

**QUESTÃO 38**

O chuveiro elétrico ainda é o grande vilão da conta de luz de uma residência. Em cada 10 reais em conta, 3 são devidos ao chuveiro. A boa notícia é o lançamento próximo de um novo chuveiro, que reduz em 40% o consumo de energia do chuveiro. Assim, em uma conta de energia de 300 reais, de quanto seria a economia com esse novo chuveiro?

- A) 30 reais.
- B) 36 reais.
- C) 40 reais.
- D) 90 reais.
- E) 120 reais.

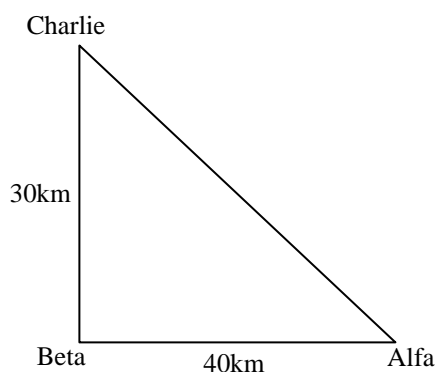
QUESTÃO 39

Em uma cafeteria, a turma da mesa 10 tomou 2 cafés e quatro refrigerantes, pagando R\$ 13,00, enquanto o pessoal da mesa 11 tomou três cafés e dois refrigerantes, pagando R\$ 9,50. De acordo com esses dados, quanto custa um café nessa cafeteria?

- A) R\$ 1,00
- B) R\$ 1,50
- C) R\$ 2,00
- D) R\$ 2,50
- E) R\$ 3,00

QUESTÃO 40

Cláudio mora na cidade Alfa e ia a uma festa na cidade Charlie, mas teve que passar na cidade Beta para pegar a sua sogra. O esquema abaixo mostra a posição das três cidades, e a distância entre elas, sendo a estrada que liga Alfa a Beta perpendicular à estrada que liga Beta a Charlie. Nessas condições, quantos quilômetros Cláudio percorreu a mais do que teria percorrido se fosse direto da Alfa até Charlie?



- A) 20 quilômetros.
- B) 30 quilômetros.
- C) 40 quilômetros.
- D) 50 quilômetros.
- E) 60 quilômetros.

RASCUNHO