




Tribunal Regional do Trabalho

16.^a Região

Concurso Público Nível Superior

Aplicação: 24/7/2005



Analista Judiciário

Área: Administrativa
Especialidade: Contabilidade

Caderno

Aluísio Azevedo

Cargo **2**

MANHÃ

LEIA COM ATENÇÃO AS INSTRUÇÕES ABAIXO.

- 1 Ao receber este caderno, confira atentamente se o tipo de caderno — Aluísio Azevedo — coincide com o nome que está registrado no cabeçalho de sua folha de rascunho, à direita, e se ele contém cento e vinte itens, correspondentes às provas objetivas, corretamente ordenados de 1 a 120.
- 2 Caso o caderno esteja incompleto ou tenha qualquer defeito, solicite ao fiscal de sala mais próximo que tome as providências cabíveis.
- 3 Recomenda-se não marcar ao acaso: em cada item, se a resposta divergir do gabarito oficial definitivo, o candidato receberá pontuação negativa, conforme consta em edital.
- 4 Não utilize material de consulta que não seja fornecido pelo CESPE.
- 5 Durante as provas, não se comunique com outros candidatos nem se levante sem autorização do chefe de sala.
- 6 A duração das provas é de **três horas e trinta minutos**, já incluído o tempo destinado à identificação — que será feita no decorrer das provas — e ao preenchimento da folha de respostas.
- 7 Ao terminar as provas, chame o fiscal de sala mais próximo, devolva-lhe a sua folha de respostas e deixe o local de provas.
- 8 A desobediência a qualquer uma das determinações constantes no presente caderno, na folha de rascunho ou na folha de respostas poderá implicar a anulação das suas provas.

AGENDA

- I **26/7/2005**, a partir das 10 h (horário de Brasília) — Gabaritos oficiais preliminares das provas objetivas: quadros de avisos do CESPE/UnB, em Brasília, e Internet — www.cespe.unb.br/concursos/trt162005.
- II **27 e 28/7/2005** — Recursos (provas objetivas): formulários estarão disponíveis no Sistema Eletrônico de Interposição de Recurso, Internet — www.cespe.unb.br.
- III **26/8/2005** — Resultados finais das provas objetivas e do concurso: Diário Oficial da União e locais mencionados no item I.

OBSERVAÇÕES

- Não serão objeto de conhecimento recursos em desacordo com o item 14 do Edital n.º 1/2005 — TRT/16.ª REGIÃO, de 4/3/2005.
- Informações adicionais: telefone 0((XX) 613 448 0100; Internet — www.cespe.unb.br.
- É permitida a reprodução deste material apenas para fins didáticos, desde que citada a fonte.

CESPE
UNIVERSIDADE DE BRASÍLIA
Criando Oportunidades para Realizar Sonhos

- De acordo com o comando a que cada um dos itens de **1 a 120** se refira, marque, na **folha de respostas**, para cada item: o campo designado com o código **C**, caso julgue o item **CERTO**; ou o campo designado com o código **E**, caso julgue o item **ERRADO**. A ausência de marcação ou a marcação de ambos os campos não serão apenadas, ou seja, não receberão pontuação negativa. Para as devidas marcações, use a folha de rascunho e, posteriormente, a **folha de respostas**, único documento válido para a correção das suas provas.
- Nos itens que avaliam **Noções de Informática**, a menos que seja explicitamente informado o contrário, considere que todos os programas mencionados estão em configuração-padrão, em português, que o *mouse* está configurado para pessoas destros e que expressões como clicar, clique simples e clique duplo referem-se a cliques com o botão esquerdo do *mouse*. Considere também que não há restrições de proteção, de funcionamento e de uso em relação aos programas, arquivos, diretórios e equipamentos mencionados.

CONHECIMENTOS BÁSICOS

Células que dormem

Um dos grandes entraves biológicos à conquista do espaço são as viagens longas demais. Biólogos norte-americanos anunciaram na semana passada os resultados de uma pesquisa que pode resolver esse problema. Eles colocaram ratos em estado de animação suspensa, um tipo de hibernação no qual o organismo passa a funcionar de forma tão lenta que a necessidade de oxigênio das células se reduz drasticamente. A temperatura interna cai e as funções vitais se reduzem a um ritmo mínimo, levando a um estado de sono profundo, semelhante ao coma.

As aplicações dessa técnica em seres humanos prometem revolucionar a medicina em várias frentes. Em tese, seria possível combater o câncer com maior eficiência, fazendo que as células sadias vizinhas dos tumores resistam a doses mais altas de radiação. A hibernação pode também ajudar a evitar os danos causados por infartos e derrames cerebrais e a acelerar a cicatrização das feridas em diabéticos, reduzindo os riscos de amputação. Na exploração do espaço, a animação suspensa facilitaria o envio de missões tripuladas a planetas distantes como Júpiter e Saturno. Em viagens como essas, com duração maior do que sete anos, os astronautas passariam boa parte do tempo dormindo. Eles não precisariam de comida nem de água e não se submeteriam ao enorme *stress* psicológico causado pelo interminável confinamento.

Colocar seres humanos para hibernar não é fantasia do cinema. Há registros de dezenas de pessoas que, devido a acidentes, foram congeladas até o ponto de não mais respirar e sobreviveram. Entender a ligação entre esses casos e a técnica de indução à animação suspensa é um dos desafios de biólogos e cientistas contemporâneos.

Veja, 27/4/2005, p.106 (com adaptações).

Com relação às idéias do texto acima e às estruturas gramaticais nele utilizadas, julgue os itens a seguir.

- 1 O texto trata de uma pesquisa em que o desenvolvimento de uma única técnica inovadora pode servir a dois propósitos distintos: a saúde e as conquistas espaciais.
- 2 O título “**Células que dormem**” é retomado no texto pelas expressões “animação suspensa” (ℓ.5), “hibernação” (ℓ.6) e “ritmo mínimo” (ℓ.9).
- 3 A oração “que a necessidade de oxigênio das células se reduz drasticamente” (ℓ.7-8) expressa uma consequência em relação à oração anterior.

- 4 As expressões verbais “levando” (ℓ.9), “fazendo” (ℓ.14) e “reduzindo” (ℓ.18) podem ser substituídas, respectivamente, pelas estruturas alternativas **o que leva, o que faz e o que reduz**, sem comprometer o sentido das orações em que ocorrem.
- 5 O uso da expressão “Em tese” (ℓ.12-13) indica que a técnica de hibernação ainda se encontra em um nível teórico, sem ter sido testada de fato na cura de doenças crônicas como o câncer.
- 6 Na passagem “resistam a doses mais altas” (ℓ.14-15), a ausência de crase no “a” se deve ao fato de o verbo **resistir** não exigir preposição.
- 7 A palavra “*stress*” (ℓ.24) está destacada, pois trata-se de um estrangeirismo e sua grafia não está registrada de acordo com as normas ortográficas da língua portuguesa.
- 8 Processos de hibernação nunca foram registrados nos seres humanos além dos limites da ficção cinematográfica.

Suponha que um grupo de cientistas deseje enviar os resultados de uma pesquisa para apreciação das instituições patrocinadoras e, para tanto, redija o documento seguinte.

Washington, 23 de abril de 2005.

Do Coordenador do Projeto Hibernação
Ao Sr. Patrocinador

Senhor Patrocinador,

Encaminho a Vossa Senhoria os resultados parciais do Projeto Hibernação desenvolvido por este núcleo de pesquisa para sua devida apreciação.

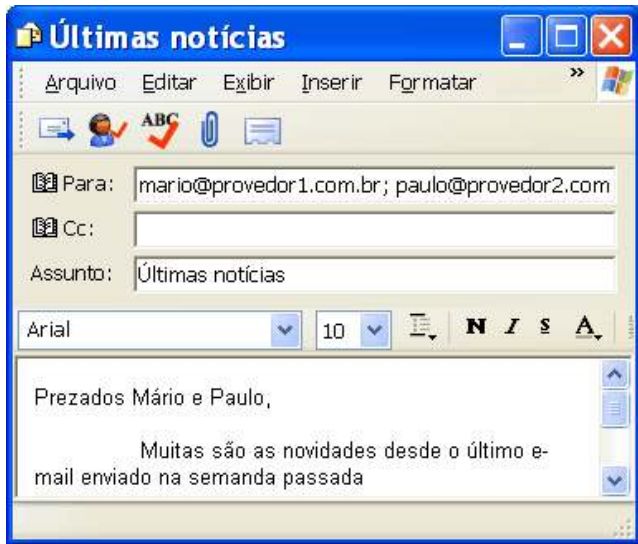
Aguardo manifestação por parte dessa instituição e coloco-me à disposição para os esclarecimentos que se fizerem necessários.

Cordialmente,



Fulano de Tal

Com relação à correspondência oficial acima, julgue os itens que se seguem.

- 9 O texto é um ofício, tipo de comunicação adequada ao encaminhamento de documentos entre instituições.
- 10 O uso da expressão “Cordialmente” está inadequado, pois o contexto exige um fechamento mais formal.

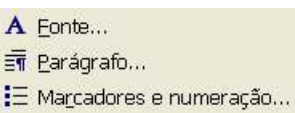


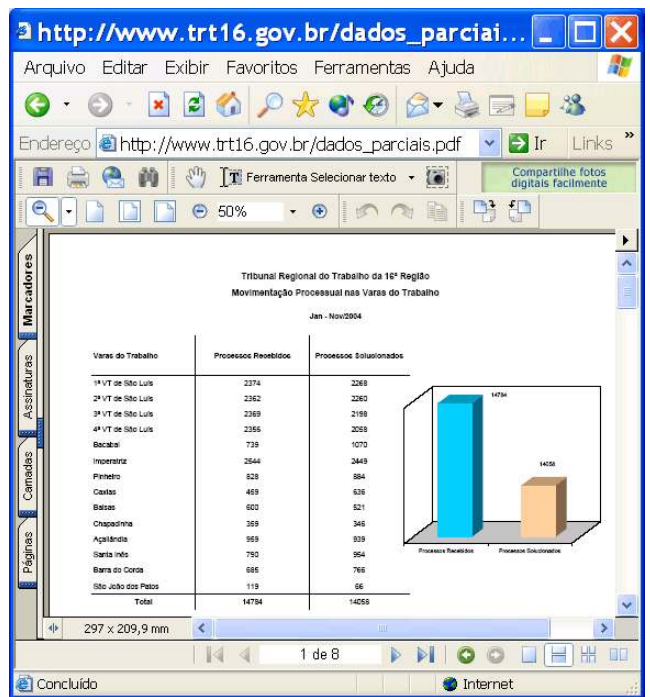
Com relação à janela do Outlook Express 6 (OE6) ilustrada acima, julgue os itens seguintes, considerando que a mensagem de correio eletrônico mostrada na janela esteja em processo de edição, em um computador PC, cujo sistema operacional é o Windows XP Professional.

- 11 Caso o botão  seja clicado, será iniciado processo de envio da mensagem de correio eletrônico que está sendo editada aos destinatários de endereços eletrônicos mario@provedor1.com.br e paulo@provedor2.com.
- 12 O erro de grafia presente em “semamda”, no texto da mensagem de correio eletrônico mostrado, pode ser encontrado com o auxílio do botão .




Julgue os itens a seguir, considerando a figura acima, que mostra parte de uma janela do Word 2000.

- 13 As opções encontradas no menu **Editar** incluem as mostradas a seguir.
- 
- 14 Caso se deseje abrir documento do Word armazenado em disquete ou no disco rígido do computador em uso, é possível fazê-lo por meio de opção encontrada no menu **Arquivo**.
- 15 Por meio de opção encontrada no menu **Ajuda**, é possível pesquisar na Internet páginas *web* relacionadas a determinada palavra selecionada no documento. Para isso, é necessário que o computador em uso tenha uma conexão do tipo ADSL.

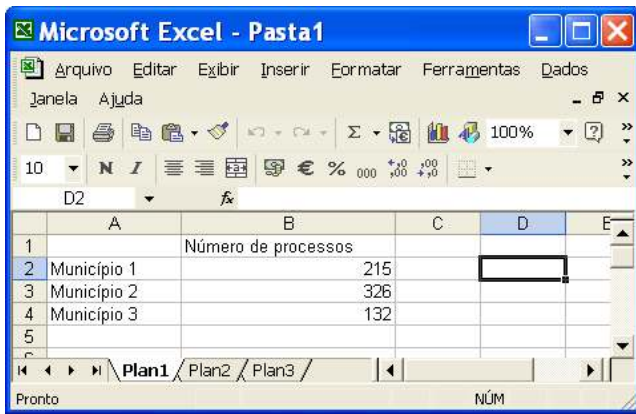


Considere que a janela do Internet Explorer 6 (IE6) ilustrada acima esteja em execução em um computador PC, cujo sistema operacional é o Windows XP Professional. Julgue o próximo item, considerando ainda a página *web* mostrada na janela do IE6.

- 16 Para visualizar o conteúdo da página *web* apresentada que não está sendo mostrado pelo fato de o tamanho da janela do IE6 não estar adequadamente ajustado, o IE6 disponibiliza ao usuário os recursos das barras de rolagem horizontal e vertical e o botão  **Ir**. Caso esse botão seja clicado, será possível ao usuário, ao mover o ponteiro do *mouse* sobre a área de páginas do IE6, posicionar a parte que se deseja visualizar da página *web* que está sendo visitada na região adequada da janela do IE6.

Com relação ao Windows XP Professional, julgue os itens subsequentes.

- 17 Caso haja uma janela do Word 2002, uma do Excel 2002 e uma do PowerPoint 2002 abertas, e a janela do Word esteja em primeiro plano, para se fazer que outra janela passe para o primeiro plano, é suficiente pressionar e manter pressionada a tecla **Ctrl** e, em seguida, pressionar a tecla **Alt**.
- 18 Como atualmente o Microsoft Office XP já é parte integrante do Windows XP Professional, esta versão do Windows não contém o acessório denominado Bloco de notas.



A figura acima mostra uma janela do Excel 2002 contendo uma planilha em processo de edição. Com relação a essa janela e ao Excel 2002, julgue os itens a seguir.

- 19 Para se mover os conteúdos das células A2, A3 e A4 para, respectivamente, as células D3, D4 e D5, é suficiente realizar a seguinte seqüência de ações: posicionar o ponteiro do *mouse* sobre o centro célula A2; pressionar e manter pressionado o botão esquerdo do *mouse*; posicionar o ponteiro do *mouse* no centro da célula A4; liberar o botão esquerdo do *mouse*; pressionar e manter pressionada a tecla **Ctrl**; teclar **X**; liberar a tecla **Ctrl**; clicar a célula D3; clicar
- 20 Sabendo que as células A2 e B1 não estão formatadas como negrito, para se aplicar negrito aos conteúdos dessas células, é suficiente realizar a seguinte seqüência de ações: clicar a célula A2; clicar **N**; clicar ; clicar a célula B1.

Que o Brasil é um país desigual já se sabe. Mas o Instituto Brasileiro de Geografia e Estatística (IBGE) revelou uma nova faceta do problema: em 2002, nove cidades concentravam 25% do Produto Interno Bruto (PIB) brasileiro. Dos 5.600 municípios, 70 respondiam por metade de todos os bens e serviços produzidos no país. Nessas cidades, morava um terço da população brasileira. Em situação inversa, 1.272 cidades contribuía com só 1% do PIB, segundo a inédita publicação **Produto Interno Bruto dos Municípios (1999-2002)**.

As nove cidades com os maiores índices de PIB têm, juntas, apenas 14,7% dos habitantes do país. Segundo especialistas, essa concentração de poder econômico é reflexo direto do nível de industrialização. Os dados mostram que houve pequena desconcentração do PIB municipal. Em 1999, as sete cidades que respondiam por 25% da produção nacional eram capitais. Em 2002, Porto Alegre perdeu posição e cidades como Duque de Caxias – RJ, São José dos Campos – SP e Guarulhos – SP ingressaram no grupo de municípios com maior PIB. Há quem afirme ter ocorrido a “chamada desconcentração concentrada”. Ou seja: as atividades econômicas saem das maiores cidades e migram para locais do interior próximos e com boa rede de infra-estrutura e serviços.

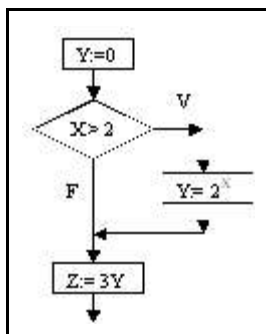
Folha de S. Paulo, 4/5/2005, p. B1 (com adaptações).

Tendo o texto acima como referência inicial e considerando a abrangência do tema que ele focaliza, julgue os itens de 21 a 30.

- 21 De acordo com os dados apresentados no texto, cerca de 1,3% dos municípios brasileiros é responsável por metade dos bens e serviços produzidos pelo país.
- 22 Infere-se do texto que as cidades que apresentam os maiores índices de PIB são as mesmas que, sozinhas, concentram a maior parte da população brasileira.
- 23 A industrialização, tal como mencionado no texto, amplia consideravelmente o potencial econômico dos municípios, entre outras razões, por se tratar de uma atividade que, além de seu próprio peso, agrega inúmeros outros serviços em torno de si.
- 24 Consultorias, instituições financeiras, empresas de segurança e fornecedores de maneira geral são exemplos expressivos e conhecidos de atividades econômicas que costumam fixar-se em áreas onde as fábricas se instalam.
- 25 A partir das informações contidas no texto, é correto afirmar que Manaus, localizada praticamente no coração da floresta amazônica, certamente tem um PIB bastante inferior aos dos centros urbanos industrializados do Centro-Sul do país.
- 26 A ‘desconcentração concentrada’ a que se refere o texto demonstra que a assimetria continua marcando a trajetória do Brasil. As cidades do interior que ingressaram no grupo das mais ricas, citadas no texto, estão localizadas no Sudeste do país, a reiterar as diferenças com outras regiões, como o Norte e o Nordeste.
- 27 Entre as conclusões possíveis que a leitura do texto propicia, uma salta aos olhos: em face da dimensão continental do país, quanto maior o número de municípios existentes no Brasil, maiores as possibilidades de se obter um desenvolvimento equânime, racional e nacionalmente bem distribuído.
- 28 Tendo um baixo índice de urbanização, com uma população majoritariamente rural, o Brasil ainda deverá levar anos para ter a solidez industrial que lhe permita situar-se entre as vinte economias mais poderosas do planeta.
- 29 De maneira geral, a frágil estrutura ferroviária e o sofrível estado de conservação das rodovias brasileiras são considerados entraves ao maior dinamismo da economia nacional, pois dificultam o transporte e majoram o preço final das mercadorias.
- 30 Integralmente construída e em plena operação, a Ferrovia Norte-Sul já desempenha o papel que dela se esperava: aproximar áreas produtoras e consumidoras do país e permitir o escoamento da produção brasileira, sobretudo a de grãos, pelos portos do Centro-Oeste, mais modernos e com menor custo operacional.

Considere a proposição: Se meu cliente fosse culpado, então a arma do crime estaria no carro. Simbolizando por P o trecho meu cliente fosse culpado e simbolizando por Q o trecho a arma estaria no carro, obtém-se uma proposição implicativa, ou simplesmente uma implicação, que é lida: Se P então Q, e simbolizada por $P \rightarrow Q$. Uma tautologia é uma proposição que é sempre V (verdadeira). Uma proposição que tenha a forma $P \rightarrow Q$ é V sempre que P for F (falsa) e sempre que P e Q forem V. Com base nessas informações e na simbolização sugerida, julgue os itens subseqüentes.

- 31 A proposição “Se meu cliente fosse culpado, então a arma do crime estaria no carro. Portanto, se a arma do crime não estava no carro, então meu cliente não é culpado.” é uma tautologia.
- 32 A proposição “Se meu cliente fosse culpado, então a arma do crime estaria no carro. Portanto, ou meu cliente não é culpado ou a arma do crime estaria no carro.” não é uma tautologia.



O diagrama apresentado acima é percorrido de cima para baixo, seguindo-se as setas. As instruções escritas nos retângulos são atribuições, ou seja, o valor calculado na expressão à direita é atribuído à variável da esquerda do símbolo :=. A instrução escrita no losango é uma condição para se prosseguir na direção da seta V (verdadeiro) ou da seta F (falso). Com base nessas informações, julgue os itens a seguir.

- 33 Se $X = 1$, então o valor de Z será igual a 3.
- 34 Se $X = \sqrt{5}$, então $Z = 6\sqrt{5}$.

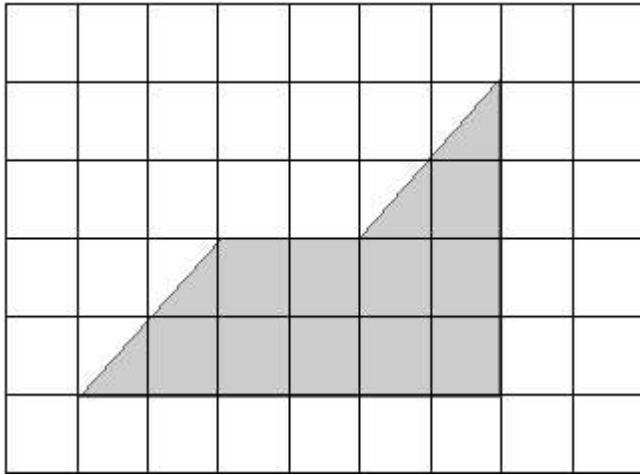
Julgue os itens que se seguem.

- 35 O número de cadeias binárias (que só contêm 0 e 1) de 8 dígitos, e que tenham exatamente 3 zeros, é superior a 50.
- 36 Considere que o gerente de um laboratório de computação vai cadastrar os usuários com senhas de 6 caracteres formadas pelas letras U, V e W e os números 5, 6 e 7. É permitida uma única duplicidade de caractere, se o usuário desejar, caso contrário, todos os caracteres têm de ser distintos. Nessa situação, o número máximo de senhas que o gerente consegue cadastrar é 2.880.

Uma moeda é jogada para o alto 10 vezes. Em cada jogada, pode ocorrer 1 (cara) ou 0 (coroa) e as ocorrências são registradas em uma seqüência de dez dígitos, como, por exemplo, 0110011010. Considerando essas informações, julgue os próximos itens.

- 37 O número de seqüências nas quais é obtida pelo menos uma cara é inferior a 512.
- 38 A probabilidade de serem obtidas seqüências nas quais ocorra coroa nas primeiras 3 jogadas é inferior a $\frac{1}{4}$.

RASCUNHO



Considere que a malha quadriculada acima é formada de células quadradas de lados medindo 0,5 cm. O desenho hachurado corresponde ao projeto de uma bancada de alvenaria, na proporção de 1 cm para 80 cm no modelo original. Com base nessas informações, julgue os itens seguintes.

- 39 O perímetro da bancada é superior a 7 m.
 40 A área da superfície da bancada é superior a 2 m².

Uma vez que o comportamento real dos seres humanos é afetado por considerações éticas, e influenciar a conduta humana é um aspecto central da ética, deve-se admitir que as concepções de bem-estar têm algum impacto sobre o comportamento real e, em consequência, devem ser importantes para a ética da logística moderna.

Amartya Sen. *Sobre ética e economia*. São Paulo: Schwarcz Ltda., 2002 (com adaptações).

Tendo o texto acima por referência inicial e considerando a ética no serviço público, julgue os itens que se seguem.

- 41 O exercício de cargo público deve ser pautado na verdade dos fatos. O servidor público não deve omitir a verdade, a menos que ela seja contrária a interesses da administração pública.
 42 O trabalho executado por servidor público junto à comunidade é entendido como parte integrante de seu próprio bem-estar, visto que, como cidadão, o servidor que apresenta conduta ética terá o êxito do seu trabalho convertido em bem-estar da sociedade da qual faz parte.
 43 A função pública é considerada exercício profissional. Portanto, a vida particular do servidor público e os atos observados em sua conduta do dia-a-dia não devem ser objetos de avaliação do conceito de sua vida funcional.

Em cada um dos itens que se seguem, é apresentada uma situação hipotética acerca do trabalho em equipe e do comportamento profissional, seguida de uma assertiva a ser julgada.

- 44 Ênio, gestor de qualidade de uma organização pública, tem empatia com seus colaboradores no trabalho. Nessa situação, Ênio é capaz de escutar ativamente, reconhecer as opiniões e influenciar o comportamento de seus colaboradores.
 45 Bruno, administrador público, interage com os demais colaboradores de seu setor basicamente para compartilhar informações e tomar decisões que ajudem cada pessoa no seu desempenho funcional, no campo definido como de responsabilidade individual. Nessa situação, essa coletividade funcional com a qual Bruno interage é denominada equipe de trabalho.

- 46 Cleide, servidora pública, é lotada há 3 anos no mesmo setor e tem atitude favorável em relação ao seu trabalho. Nessa situação, é correto afirmar que a atitude de Cleide é resultado do julgamento positivo de seu trabalho com relação aos componentes cognitivo, afetivo e comportamental.
 47 Vítor, diretor administrativo de uma empresa pública, tem 3 gerências sob seu comando direto. Vítor adota uma conduta de congruência entre seus objetivos e os dos gerentes, exercendo uma influência descendente sobre eles. Vítor incentiva seus gerentes a ter relação de independência em relação às decisões setoriais. Nessa situação, a conduta de Vítor, perante os gerentes, caracteriza uma relação de poder.
 48 Alexandre, gerente de atendimento de um órgão do Poder Judiciário, pauta sua gestão nos princípios de confiabilidade e fidedignidade da informação, atenção e cortesia nas relações interpessoais, discrição e objetividade no tratamento das necessidades dos clientes e rapidez no atendimento. Nessa situação, é correto afirmar que os princípios que norteiam a conduta de Alexandre, como gestor, conferem eficiência e eficácia no atendimento ao público.
 49 Pedro, analista judiciário de um tribunal do trabalho, está em exercício há 5 anos. Recentemente, Pedro foi convidado a assumir a gerência de seu setor devido a sua competência técnica e interpessoal. Em situações de conflito, Pedro busca identificar o problema e resolvê-lo por meio de discussão aberta, evitando o enfrentamento dos envolvidos, minimizando as diferenças entre as partes conflitantes, enfatizando os interesses comuns e propondo, quando necessário, a participação em treinamento de relações humanas. Nessa situação, é correto afirmar que Pedro é habilidoso na administração de conflitos interpessoais.
 50 Ricardo, servidor público, tem entre suas atribuições a responsabilidade de fazer contatos internos e externos, ascendentes e descendentes. Nas comunicações ascendentes, Ricardo utiliza a filtragem de informações. Nessa situação, é correto afirmar que, fazendo uso dessa barreira à comunicação, Ricardo está praticando um recurso de redução de tensão ou de ansiedade para o receptor.

RASCUNHO

CONHECIMENTOS ESPECÍFICOS

Com base na legislação das sociedades por ações, julgue os itens a seguir.

- 51 Na liquidação da companhia, respeitados os direitos dos credores preferenciais, o liquidante pagará inicialmente as dívidas vencidas e, posteriormente, as vincendas, com o valor remanescente do ativo.
- 52 Quando ato ou fato relevante, a juízo dos acionistas controladores ou dos administradores, colocar em risco a continuidade das operações da empresa, sua divulgação poderá não ser feita.

Com relação ao plano de contas único da administração federal, julgue os itens subseqüentes.

- 53 As variações patrimoniais independentes da execução orçamentária não são computadas na apuração do resultado do exercício.
- 54 O evento identifica cada tipo de ato ou fato que deva ser registrado contabilmente pelo SIAFI, daí resultando um roteiro contábil, ou seja, vários lançamentos convencionais, que são processados automaticamente.

Tendo como referência as operações típicas das unidades orçamentárias e administrativas, para efeito dos registros contábeis, julgue os itens que se seguem.

- 55 O lançamento
- D – limite de saque com vinculação de pagamento
 - C – sub-repasse recebido
- é efetuado na unidade gestora recebedora dos recursos transferidos com base em provisão, realizada por outra unidade integrante do mesmo órgão.
- 56 O registro da imobilização, no sistema patrimonial, da aquisição de material permanente é representado, corretamente, por meio do lançamento seguinte.
- D – material de consumo
 - C – aquisição de bens móveis

Os dados relativos ao balanço patrimonial de um ente são os seguintes:

- ▶ totais do ativo e do passivo: R\$ 1.000.000,00;
- ▶ o ativo financeiro é a metade do ativo permanente;
- ▶ compensado: R\$ 250.000,00;
- ▶ ativo real líquido: R\$ 200.000,00;
- ▶ *superavit* financeiro: R\$ 50.000,00.

Tomando por base o modelo do balanço patrimonial da Lei n.º 4.320/1964, julgue o item seguinte.

- 57 De acordo com os dados acima, o passivo permanente é igual a R\$ 350.000,00.

Com base na execução orçamentária de um ente, julgue o item abaixo.

- 58 Considere que, no balanço orçamentário, verificou-se uma insuficiência de arrecadação de R\$ 200.000,00 e uma economia de despesa de R\$ 300.000,00. Nesse caso, o *deficit* foi de R\$ 100.000,00.

Com base nas normas e procedimentos aplicáveis à contabilidade comercial, julgue os próximos itens.

- 59 No controle de estoques com base no inventário periódico, o método de custeamento das vendas mais indicado é o UEPS (LIFO), pois as unidades em estoque serão consideradas como as de aquisição mais recente, tornando-se fácil a sua identificação e avaliação.
- 60 Considere que uma empresa efetuou uma aplicação financeira em 1/11/X1, no valor de R\$ 80.000,00, para resgate em 31/3/X2, com rendimento prefixado de R\$ 20.000,00. Nesse caso, em 31/12/X1, à data do balanço, o valor líquido da aplicação, no ativo, estará corretamente registrado por R\$ 92.000,00.

Suponha que as companhias A, controladora, e B, controlada, devam efetuar a consolidação de suas demonstrações financeiras e que A tenha efetuado uma venda de mercadorias a prazo, para B, durante o período, a preço de custo, por R\$ 50.000,00. Essas mercadorias permanecem no estoque de B. A propósito da consolidação das demonstrações contábeis, julgue o item seguinte.

- 61 Para efeito de consolidação, o lançamento de eliminação a ser efetuado na demonstração de resultado será o seguinte.

D – receita de vendas	50.000,00
C – custo das mercadorias vendidas	50.000,00

RASCUNHO

Com referência à análise econômico-financeira, julgue o item a seguir.

62 Ao se adicionar ao denominador do quociente **ativo permanente** o exigível a longo prazo, obtém-se uma **patrimônio líquido** relação que indica o percentual de imobilização dos recursos não-correntes. A lógica dessa relação é a de que também recursos de longo prazo podem financiar as imobilizações, desde que haja compatibilidade com a vida útil desses ativos ou que o prazo seja suficiente para a geração de recursos capazes de resgatar as respectivas dívidas.

Com base na doutrina, na legislação e nas práticas orçamentárias, julgue os itens subseqüentes.

63 As emendas coletivas ao projeto de lei orçamentária anual serão de iniciativa das comissões permanentes do Senado Federal e da Câmara dos Deputados, e das bancadas estaduais e regionais no Congresso Nacional.

64 *Deficit* financeiro é a diferença negativa entre o ativo e o passivo financeiros no balanço patrimonial, e, segundo a legislação orçamentária, deve ser deduzido dos recursos disponíveis para a abertura de créditos suplementares e especiais.

Pretendendo-se abrir um crédito especial, constatou-se que

- havia um excesso de arrecadação, até a metade do exercício financeiro, de R\$ 300.000,00, devendo manter-se a mesma tendência até o final do exercício;
- R\$ 100.000,00 de uma dotação eram passíveis de anulação;
- até o mês anterior, já haviam sido abertos outros créditos especiais, no valor de R\$ 200.000,00, mediante a autorização de novas operações de crédito.

Com base nessas informações, julgue o item que se segue.

65 Seria possível abrir o novo crédito especial, no limite de R\$ 500.000,00.

Com referência a aspectos diversos envolvendo matéria orçamentária, julgue os itens seguintes.

66 O plano plurianual para o período de 2004 a 2007 previu a realização de revisões anuais durante o mandato do atual presidente da República.

67 Os valores acrescidos ao projeto de lei orçamentária anual por reestimativa da receita não poderão ser utilizados para aprovação de emendas à despesa.

68 A inclusão, no orçamento de um órgão, das receitas de seu fundo próprio e dos convênios que firmar, além de outras receitas próprias, está em consonância com o princípio da unidade.

69 A Lei de Diretrizes Orçamentárias (LDO) de 2005 estabeleceu que, enquanto o projeto de lei orçamentária não fosse sancionado pelo presidente da República após 31 de dezembro de 2004, toda a programação dele constante, nos termos de sua aprovação pelo Congresso Nacional, poderia ser normalmente executada.

70 Os órgãos do Poder Executivo enviam suas propostas orçamentárias à Secretaria de Orçamento Federal, enquanto os órgãos dos demais poderes as enviam diretamente à Comissão Mista de Planos, Orçamentos Públicos e Fiscalização, no Congresso Nacional, que consolida as referidas propostas.

71 As disposições da LDO sobre os cronogramas de desembolso dos poderes Legislativo e Judiciário e do Ministério Público no âmbito da União determinam que, com exceção das despesas com pessoal e encargos sociais, precatórios e sentenças judiciais, os repasses devem ser feitos pelo Poder Executivo até o dia 20 de cada mês.

72 Entre os processos orçamentários, no chamado modelo incremental, as decisões com relação às políticas e programas são tomadas tendo como base decisões passadas, alterando-se apenas marginalmente as políticas já existentes. É improvável que ocorram modificações fundamentais no orçamento sem alterações no sistema político, por ser o processo orçamentário uma expressão do sistema político.

73 Os créditos extraordinários são abertos por meio de medida provisória e são compensáveis com o excesso de arrecadação utilizado na abertura de novos créditos adicionais.

RASCUNHO

O projeto de lei orçamentária de um ente contemplava a autorização das seguintes despesas:

- pessoal: R\$ 200.000,00;
- juros: R\$ 300.000,00;
- investimentos: R\$ 150.000,00;
- inversões financeiras: R\$ 80.000,00.

Considerando os dados acima e as limitações constitucionais, julgue o próximo item.

74 O teto para novas operações de crédito, a ser utilizado como fonte de recursos por este ente, é de R\$ 150.000,00.

Julgue o item seguinte, acerca de procedimentos contábeis no âmbito do SIAFI.

75 A conformidade contábil no SIAFI é a conferência efetuada pelas unidades setoriais contábeis da unidade gestora e de órgão, tendo como objetivo assegurar o fiel e tempestivo registro dos dados contábeis registrados pelas unidades gestoras no SIAFI, de acordo com a documentação.

De acordo com a legislação e os critérios adotados em relação à receita e à despesa públicas, julgue os itens a seguir.

76 O reconhecimento contábil, no resultado patrimonial, da receita não arrecadada, por inadimplência do contribuinte, só é efetuado quando o poder público inscreve o devedor em dívida ativa.

77 Na classificação da receita por fonte de recursos, os condicionados são aqueles vinculados a determinados tipos de despesas que, se não forem realizadas no exercício em que foram autorizadas, possibilitarão a utilização dos respectivos recursos em qualquer outra destinação.

78 Do ponto de vista administrativo, empenho é o ato da autoridade competente, que determina a dedução do valor da despesa a ser realizada da dotação consignada no orçamento para atender a essa despesa.

79 A liquidação da despesa é que permite à administração reconhecer a dívida como líquida e certa, nascendo, portanto, a partir dela, a obrigação de pagamento, desde que as cláusulas contratadas tenham sido cumpridas.

80 O regime de adiantamento para a realização de despesa, dada a excepcionalidade do procedimento, possibilita a emissão do empenho por ocasião da prestação de contas correspondente, quando, então, se definirá o valor efetivamente despendido e reconhecido.

81 As despesas pendentes de regularização, assim entendidas aquelas relativas a eventual pagamento efetuado sem cobertura orçamentária, ou além da dotação, desde que o crédito adicional regularizado não seja obtido dentro do próprio exercício, não devem ser inscritas em restos a pagar, e sim levadas a débito de quem as autorizou indevidamente.

82 São enquadradas como despesas de exercícios anteriores aquelas para as quais o crédito próprio, consignado no orçamento, foi insuficiente, daí resultando a inscrição da dívida remanescente em restos a pagar.

83 As situações em que o órgão ou entidade da administração federal está autorizado a movimentar recursos em conta bancária específica, no Banco do Brasil, que não a única, incluem a das unidades gestoras com disponibilidades financeiras em moeda estrangeira, para pagamento de despesas no exterior.

Com relação a tomadas e prestações de contas, julgue os itens seguintes.

84 Segundo o TCU, para efeitos das tomadas e prestações de contas dos administradores e demais responsáveis, o exame da conformidade se relaciona à análise da eficácia, eficiência e efetividade da gestão em relação a padrões administrativos e gerenciais, expressos em metas e resultados negociados com a administração superior ou definidos nas leis orçamentárias, e da capacidade dos controles internos de minimizar riscos e evitar falhas e irregularidades.

85 De acordo com as normas do TCU sobre tomadas e prestações de contas, estão fora de sua jurisdição os responsáveis pelos conselhos regionais de fiscalização do exercício profissional e as pessoas físicas beneficiárias de transferências de recursos federais por meio de convênios.

Com base nos critérios de correção monetária adotados no Brasil, julgue o item abaixo.

86 Na sistemática de correção monetária das demonstrações contábeis, adotada obrigatoriamente até 1996, por injunção da legislação societária, uma das críticas apontadas era a não-correção de certos ativos e passivos não-monetários, em particular dos estoques.

A respeito da contabilização e avaliação de investimentos societários no Brasil, julgue o item a seguir.

87 Ajustes de exercícios anteriores efetuados pela empresa coligada ou controlada se refletirão no investimento que a controladora avaliar com base no método da equivalência patrimonial, sendo registrados também como ajustes de exercícios anteriores na investidora.

A propósito da destinação do resultado, julgue o item seguinte.

88 Considere que o dividendo a ser distribuído relativo a 1.000.000 de ações seja de R\$ 2.000.000,00, que 100.000 ações fazem jus a um dividendo fixo de R\$ 1,00 por ação e outras 100.000 ações fazem jus ao dividendo mínimo do mesmo R\$ 1,00 por ação. Dessa forma, é correto concluir, com os dados disponíveis, que aos titulares de ações com dividendo fixo couberam R\$ 100.000,00, aos titulares de ações com dividendo mínimo, R\$ 100.000,00, e aos titulares das demais 800.000 ações, R\$ 1.800.000,00.

Com base na legislação tributária e nas práticas contábeis, julgue os itens que se seguem.

- 89 Considere que uma empresa faz o recolhimento do IRPJ mensalmente, por estimativa, e que ao final do exercício, após a apuração do lucro real, constatou-se que os pagamentos antecipados coincidiram com o IR devido. Nesse caso, efetuou-se, corretamente, o seguinte lançamento de ajuste.
- D – provisão para imposto de renda (passivo circulante)
- C – imposto de renda recolhido (passivo circulante – conta redutora).
- 90 A adoção de alíquota decrescente de imposto de renda na fonte relativamente às aplicações em fundos de longo prazo, à medida que aumenta o prazo de sua permanência, caracteriza uma modalidade de tributação regressiva no tempo.
- 91 O ICMS, recuperável e destacado na nota fiscal, é contabilizado de forma segregada nas aquisições das mercadorias, pois só pode ser compensado se as vendas correspondentes forem efetuadas no mesmo período.
- 92 A exemplo do LALUR, utilizado para efeito de controle do cálculo do lucro real, no caso da contribuição social sobre o lucro líquido (CSLL), a empresa obrigatoriamente deve manter um livro específico para apuração da CSLL, transcrevendo a demonstração do resultado ajustado e mantendo os registros dos valores que devam influenciar os períodos subsequentes.
- 93 Da receita bruta que constitui a base de cálculo do PIS/PASEP, além da exclusão do IPI, o outro tributo deduzido é o ICMS, desde que destacado na nota fiscal e cobrado pelo substituto tributário.
- 94 Estão sujeitas à incidência da COFINS as receitas dos repasses recebidos pelas sociedades de economia mista e pelas empresas públicas à conta do Orçamento Geral da União, dos estados, do Distrito Federal e dos municípios.

Os dados disponíveis de uma indústria eram os seguintes:

- estoque inicial de produtos em fabricação: R\$ 1.500.000,00;
- custos de produção incorridos no período: R\$ 3.500.000,00;
- estoque final de produtos em fabricação: R\$ 1.800.000,00;
- estoque inicial de produtos acabados: R\$ 2.000.000,00;
- custo dos produtos vendidos: R\$ 3.000.000,00.

Com referência à situação hipotética acima descrita, julgue o item a seguir.

- 95 O estoque final de produtos acabados foi de R\$ 2.200.000,00.

Com base nos conceitos e aplicações sobre custos, julgue os itens subsequentes.

- 96 Os custos fixos podem tornar-se diferenciais para decisões a longo prazo, quando se altera a capacidade produção.
- 97 Ao conceber-se um sistema de custos para fins gerenciais, a necessidade de informação do tomador de decisões deve ditar sua estruturação, que dependerá do objetivo pretendido e estará condicionado aos benefícios que a sua adoção for capaz de oferecer em face dos respectivos custos.
- 98 Considere que, para uma indústria que opere a um determinado nível de utilização de sua capacidade, os custos fixos somem R\$ 500.000,00 e o índice da margem de contribuição corresponda a 20%. Nessa situação, para a indústria obter um lucro de 10% sobre as vendas, estas terão de alcançar R\$ 2.750.000,00.

Com base nas técnicas e aplicações da matemática financeira, julgue os próximos itens.

RASCUNHO

99 Considere que uma equipe de 10 funcionários leva 8 dias para efetuar a coleta de dados relativa a um levantamento, trabalhando 6 horas diárias. Então, se forem disponibilizados mais 2 funcionários, e todos trabalharem mais duas horas diárias e com a mesma eficiência dos outros 10, a coleta será concluída em 6 dias.

100 Aplicando-se uma importância por certo período a uma determinada taxa de juros, à medida que se aumentar o número de capitalizações à mesma taxa nominal, aumentará o seu montante, mas esse crescimento tenderá a um limite.

101 No regime de juros simples, o rendimento de um capital de R\$ 50.000,00 aplicado a 3% ao trimestre, durante 3 anos, produz o mesmo juro que produziria se fosse aplicado, durante o mesmo período, à taxa de 4% ao quadrimestre. Essas taxas não são equivalentes, mas são proporcionais.

102 Considere que um bem foi adquirido em três prestações mensais de R\$ 10.500,00, R\$ 16.537,50 e R\$ 23.152,50, sucessivamente, e que a taxa de juros vigente no mercado é de 5,0% a.m. Isso permite concluir que o valor do bem, à vista, é igual a R\$ 45.000,00.

103 O sistema Price é um caso particular do sistema francês, com algumas características, como, por exemplo: a taxa de juros contratada é a efetiva; as prestações têm período maior que aquele a que se refere a taxa; no cálculo, é utilizada a taxa equivalente.

104 Considere que uma empresa descontou um título de R\$ 20.000,00 no banco, à taxa de 15%, e pagou R\$ 1.000,00 de comissão e outros encargos. Assim sendo, é correto afirmar que o custo efetivo desse financiamento, para a empresa, foi de 20%.

A propósito de investimentos e taxas de retorno, julgue os itens que se seguem.

105 Os benefícios estratégicos de investimentos de capital refletem o maior potencial de lucro derivado de algum atributo do ativo de capital. Um desses benefícios consiste na produção de um bem que, por ter sido desenvolvido por meio de um processo patenteado, não é acessível aos concorrentes.

106 Se a taxa interna de retorno de um projeto é igual a 10%, isso significa que, à taxa de desconto de 10% aplicada sobre os fluxos futuros de caixa gerados pelo projeto, seu valor presente líquido assegura um retorno de 10% sobre o investimento inicial.

Com base na legislação sobre licitações e contratos, julgue os itens subseqüentes.

107 Considere que, em uma licitação, duas empresas foram selecionadas e se encontram em igualdade de condições: a primeira foi caracterizada apenas como empresa brasileira, mas os bens são produzidos no exterior; a segunda produz no Brasil, mas é estrangeira. Nesse caso, a preferência será legalmente assegurada à empresa estrangeira.

108 Na execução de serviços técnicos profissionais especializados, por empresa que relacionou os integrantes de seu corpo técnico como elemento de justificção para a dispensa ou inexigibilidade da licitação, os serviços poderão ser realizados por outros profissionais, mas a responsabilidade ficará por conta de um ou alguns dos integrantes da relação apresentada.

Com base na Lei de Responsabilidade Fiscal, julgue os itens a seguir.

109 Considere que o mandato do dirigente de um dos poderes expira em 31 de dezembro de determinado exercício. Nesse caso, a partir de maio desse mesmo ano, ele só pode contrair obrigação de despesa cujo pagamento esteja previsto para o exercício seguinte se houver saldo de caixa em valor igual ou superior ao da referida obrigação no momento em que o compromisso for assumido.

110 A operação de crédito por antecipação de receita, além de ter de ser obrigatoriamente liquidada até 10 de dezembro de cada ano, não poderá ser utilizada para a execução de novos programas.

Vários servidores públicos da Fundação Nacional de Saúde (FUNASA) foram candidatos a cargos eletivos nas últimas eleições. Alguns deles foram eleitos e outros, não, sendo que um deles, além de perder a eleição, perdeu um irmão em acidente automobilístico dias após as eleições.

Considerando a situação hipotética acima e o fato de que os servidores da FUNASA são regidos pela Lei n.º 8.112/1990, julgue os seguintes itens, relativos aos afastamentos dos servidores.

111 Se um dos servidores tiver sido eleito para o cargo de deputado federal, ele terá de ficar afastado do cargo efetivo durante a vigência de seu mandato eletivo.

112 Se for investido em mandato de prefeito, o servidor da FUNASA será afastado do cargo efetivo e receberá a remuneração do cargo eletivo.

113 O servidor que perdeu o irmão poderá, sem qualquer prejuízo, ausentar-se do serviço por cinco dias consecutivos em razão de falecimento.

Acerca dos tribunais e juízes do trabalho de acordo com o que é previsto na Constituição Federal, julgue os itens subseqüentes.

114 Compete à justiça do trabalho conciliar e julgar dissídios individuais e coletivos entre trabalhadores e empregadores, abrangidos os entes de direito público externo e da administração pública direta e indireta dos municípios, do Distrito Federal, dos estados e da União.

115 O Tribunal Superior do Trabalho é composto de 17 ministros, togados e vitalícios, escolhidos entre brasileiros com mais de 35 anos de idade e menos de 65 anos de idade.

116 Os tribunais regionais do trabalho são compostos de juízes nomeados pelo presidente da República, escolhidos entre juízes do trabalho, advogados e membros do Ministério Público do Trabalho e representantes das classes dos empregados e dos empregadores (classistas).

Acerca da Lei n.º 8.112/1990, que dispõe sobre o regime jurídico dos servidores públicos civis da União, das autarquias e das fundações públicas federais, julgue os itens a seguir.

117 A reversão é o retorno de servidor aposentado à atividade.

118 Recondução é o retorno do servidor estável ao cargo anteriormente ocupado.

119 O servidor que for nomeado, tomar posse e entrar em exercício em 1.º de julho de 2005 terá direito, ao final deste ano, a seis doze avos da remuneração a que fizer jus no mês de dezembro, a título de gratificação natalina.

120 As férias do servidor somente poderão ser interrompidas por motivo de calamidade pública, comoção interna, serviço militar ou eleitoral, por necessidade do serviço declarada pela autoridade máxima do órgão ou entidade, porém, não poderão ser interrompidas por motivo de convocação para fazer parte de júri.