

# CONCURSO PÚBLICO

## PREFEITURA DE NOVA FRIBURGO

DATA: 07/10/2007 - DOMINGO / TARDE

**CARGO:**

**C41 - Motorista II**  
**Motorista de Veículos Pesados**

**GABARITO**

**A**

**ATENÇÃO**

O **Caderno de Questões** contém 30 questões de múltipla-escolha, cada uma com 5 opções (A, B, C, D e E).

**CONFIRA O GABARITO DO SEU CADERNO DE QUESTÕES COM O CARTÃO DE RESPOSTA**

1. Ao receber o material, verifique no **Cartão de Respostas** seu nome, número de inscrição, data de nascimento, cargo e **Gabarito**. Qualquer irregularidade comunique imediatamente ao fiscal de sala. Não serão aceitas reclamações posteriores.
2. A prova objetiva terá duração de 4 horas, incluídos neste tempo o preenchimento do **Cartão de Respostas**.
3. Leia atentamente cada questão e assinale no **Cartão de Respostas** a opção que responde corretamente a cada uma delas. O **Cartão de Respostas** será o único documento válido para a correção eletrônica. O preenchimento do **Cartão de Respostas** e a respectiva assinatura serão de inteira responsabilidade do candidato. Não haverá substituição de **Cartão de Respostas**, por erro do candidato.
4. Observe as seguintes recomendações relativas ao **Cartão de Respostas**:
  - A maneira correta de marcação das respostas é cobrir, fortemente, com esferográfica de tinta azul ou preta, o espaço correspondente à letra a ser assinalada.
  - Outras formas de marcação diferentes implicarão a rejeição do **Cartão de Respostas**.
  - Será atribuída nota zero às questões não assinaladas, com falta de nitidez, com mais de uma opção assinalada e as emendadas, rasuradas ou com marcação incorreta.
5. O fiscal de sala não está autorizado a alterar qualquer destas instruções. Em caso de dúvida solicite a presença do coordenador local.
6. Você só poderá retirar-se definitivamente do recinto de realização da prova após 60 minutos contados do seu efetivo início, **sem levar o Caderno de Questões**.
7. O candidato só poderá levar o próprio **Caderno de Questões** faltando uma hora para o término do horário da prova, conforme Edital do Concurso.
8. Por motivo de segurança, só é permitido fazer anotação durante a prova no **Caderno de Questões**.
9. Após identificado e instalado na sala, você não poderá consultar qualquer material, enquanto aguarda o horário de início da prova.
10. Os três últimos candidatos deverão permanecer na sala até que o último candidato entregue o **Cartão de Respostas**.
11. Ao terminar a prova, entregue ao fiscal o **Cartão de Respostas**. Não esqueça o documento de identidade e seus demais pertences.
12. O **Gabarito Oficial da Prova Objetiva** será afixado no Posto de Atendimento e disponibilizado no site [www.concursofec.uff.br](http://www.concursofec.uff.br), na data estabelecida no Cronograma Previsto.

## LÍNGUA PORTUGUESA

Leia o texto abaixo e responda às questões que seguem.

### A RAPOSA E O BODE

Uma raposa caíra num poço. Não havia como sair. Foi quando apareceu um bode sedento. Ao ver a raposa, perguntou-lhe se a água era boa. Diante de tanta sorte, a raposa começou a elogiar a água: não havia mais saborosa. E convidou o bode a descer também. Sem pensar duas vezes e só pensando em saciar sua sede, o bode desceu. Depois de beber à vontade, era hora de voltar à superfície: “como fazer?”, perguntou à raposa.

- Eu sei - disse ela - de uma boa saída, desde que tenhas vontade de nos tirar desse aperto: põe os teus pés da frente contra a parede e ergue os teus chifres; aí eu dou um pulo e saio. Uma vez lá fora, eu te puxo.

O bode fez o que ela disse. Com a ajuda das pernas, das costas e dos chifres do bode, ela conseguiu, dando alguns pulos, voltar à boca do poço e, assim que se viu salva, foi embora. Como o bode a repreendesse por não ter cumprido o acordo, a raposa lhe disse:

- Ah, meu caro, se tivesses tanta presença de espírito quanto pêlos no queixo, não terias descido sem saber como irias sair.

É preciso antever o final em tudo o que se faz.  
(Fábulas de Esopo.)

1. Pela leitura do texto, pode-se concluir que a raposa e o bode representam, respectivamente:

- A) a bondade e a má fé;
- B) o orgulho e a boa fé;
- C) a prepotência e o egoísmo;
- D) a esperteza e a ingenuidade;
- E) a pureza e a falsidade.

2. A raposa considerou a presença do bode junto ao poço “tanta sorte” porque:

- A) teria companhia para dividir o seu infortúnio;
- B) viu no bode um meio de conseguir voltar à superfície;
- C) iria compartilhar a água saborosa com um amigo;
- D) poderia o bode chamar alguém para içá-la do fundo do poço;
- E) poderiam gritar juntos bem alto até que alguém os ouvisse.

3. Ao ser perguntada sobre a qualidade da água, a raposa se esmerou em elogiá-la porque:

- A) era mesmo muito saborosa;
- B) compartilhava as boas coisas, já que era generosa;
- C) queria dessedentar o bode, ao perceber a sua aflição;
- D) gostava de fazer amizades empregando elogios;
- E) queria atrair o bode para o fundo do poço.

4. A lição moral da fábula, “É preciso antever o final em tudo o que se faz”, traz o ensinamento da:

- A) honestidade;
- B) seriedade;
- C) precaução;
- D) correção;
- E) pontualidade.

5. Para o preenchimento correto das lacunas da frase “\_\_\_\_\_ a raposa caiu no poço, surgiu o bode; \_\_\_\_\_ ela ficou atenta ao \_\_\_\_\_ de sua ida até lá”, têm de ser usadas, respectivamente, as seguintes palavras:

- A) mal / mas / porquê;
- B) mal / mas / por quê;
- C) mal / mais / porquê;
- D) mau / mas / por que;
- E) mau / mais / porquê.

6. Na frase “Eu sei de uma boa SAÍDA”, a palavra em caixa alta é acentuada pela mesma razão que:

- A) espírito;
- B) água;
- C) também;
- D) superfície;
- E) baú.

7. Em “Ao ver a raposa, perguntou-lhe se a água era boa”, a vírgula foi usada para separar:

- A) o vocativo;
- B) o aposto;
- C) o adjunto adverbial anteposto;
- D) expressões explicativas;
- E) o sujeito do predicado.

8. A palavra em caixa alta no trecho “e só pensando em SACIAR sua sede” significa:

- A) diminuir;
- B) extinguir;
- C) aumentar;
- D) reprimir;
- E) moderar.

9. No trecho “voltar à boca do poço”, o acento indicativo da crase foi usado corretamente. Também está correto o acento da crase usado no período:

- A) Começou à sentir vontade de discordar.
- B) O entardecer era belo à beira do lago.
- C) Referiu-se à vários outros assuntos.
- D) Devemos obedecer somente à leis que sejam justas.
- E) Não havia como desistir: às dez horas de prazo estavam encerradas.

10. A conjunção destacada em “ASSIM QUE se viu salva, foi embora” pode ser substituída, sem alteração do sentido, por:

- A) quando;
- B) para que;
- C) portanto;
- D) visto que;
- E) ainda que.

11. No trecho “perguntou-LHE se a água era boa” (1º parágrafo), o pronome em caixa alta refere-se:

- A) ao narrador;
- B) à água;
- C) à sorte;
- D) ao bode;
- E) à raposa.

12. Em “COMO o bode a repreendesse por não ter cumprido o acordo”, a conjunção em caixa alta indica circunstância de:

- A) tempo;
- B) causa;
- C) condição;
- D) concessão;
- E) conformidade.

13. No trecho “se tivesses TANTA presença de espírito QUANTO pêlos no queixo”, as palavras em caixa alta introduzem a idéia de:

- A) desproporção;
- B) superioridade;
- C) inferioridade;
- D) comparação;
- E) diferenciação.

14. Na frase “É preciso ANTEVER o final em tudo que se faz”, o prefixo encontrado na palavra em caixa alta tem o mesmo significado que o prefixo encontrado em:

- A) antiaéreo;
- B) ambidestro;
- C) predizer;
- D) desfazer;
- E) analgésico.

15. Dentre as frases abaixo, a que apresenta concordância verbal INCORRETA é:

- A) Naquela situação de aperto, a raposa ou o bode estavam com a razão;
- B) O bode e a raposa fizeram um acordo para sair do poço;
- C) Cara feia, choro, reclamações, nada fez a raposa voltar para ajudar o bode;
- D) Foste tu que enganaste o pobre bode, dona raposa?
- E) Decidiu-se, na fazenda, que todos apoiariam o bode.

## CONHECIMENTOS ESPECÍFICOS

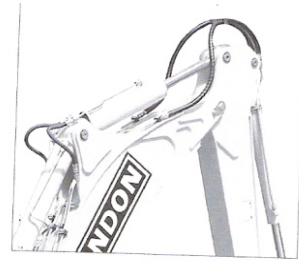
16. Observe a figura do Trator Florestal (RK812H) abaixo:



A sua cabine proporciona conforto e segurança na operação, pois é construída em:

- A) madeira, com estrutura móvel, e com estreita área visual;
- B) ferro, com estrutura móvel, e com ampla área visual;
- C) alumínio, com estrutura em lâ, e com estreita área visual;
- D) aço, com estrutura reforçada, e com ampla área visual;
- E) madeira, com estrutura frágil, e com estreita área visual.


17. Observe a figura:



O sistema de duas alavancas para a retroescavadeira foi desenvolvido para tornar o trabalho do operador mais produtivo e menos cansativo, reduzindo:

- A) a fadiga muscular;
- B) o esgotamento mental;
- C) o calor;
- D) a temperatura ambiente;
- E) a atenção.

18. Observe a figura:



Acerca da situação acima apresentada, pode-se afirmar que a ultrapassagem está:

- A) certa, pois a linha da divisão de faixa de trânsito é seccionada;
- B) certa, pois o veículo que está ultrapassando indicou a intenção da manobra;
- C) certa, pois o veículo da direita reduziu a velocidade para permitir a ultrapassagem;
- D) errada, pois é proibido ultrapassar numa ponte estreita;
- E) errada, pois a faixa à esquerda do condutor é contínua e proíbe a manobra.

19. Para obter prioridade de passagem, uma ambulância deve estar:

- A) em efetivo serviço de urgência, e rádio ligado;
- B) com a iluminação vermelha e alarme sonoro ligado, e na pista da direita;
- C) em efetivo serviço de urgência, e transferindo-se de pista ininterruptamente;
- D) em efetivo serviço de urgência, e com iluminação vermelha e alarme sonoro ligado;
- E) com a iluminação vermelha e o pisca-alerta acionado.

20. São proibições do condutor ao fazer retorno e manobras (art. 206) EXCETO:

- A) nas curvas, aclives, declives, pontes, viadutos e túneis;
- B) dar passagem aos pedestres e aos veículos que tenham preferência;
- C) passando por cima da calçada, passeio, ilhas, ajardinamento ou canteiros de divisões de pista de rolamento;
- D) nas interseções, entrando na contramão de direção da via transversal;
- E) passando por cima de faixas de pedestres e nas faixas de veículos não motorizados.

21. De acordo com o artigo 40. CTB, o condutor deverá manter acesa, durante a noite, em circulação, a luz:

- A) da placa;
- B) de neblina;
- C) da marcha à ré;
- D) de freio;
- E) alta.

22. De acordo com o art. 230-VI (CTB), conduzir o veículo sem placas ou com placas sem condições de legibilidade ou visibilidade constitui infração:

- A) leve, sujeito à multa;
- B) média, sujeito à multa;
- C) grave, sujeito à multa e apreensão do veículo;
- D) gravíssima, sujeito à multa e remoção do veículo;
- E) gravíssima, sujeito à multa, apreensão do veículo e remoção do veículo.

23. A placa abaixo alerta ao condutor que à frente existem áreas em que poderão:



- A) circular tratores e retroescavadeiras;
- B) ocorrer projeção de cascalhos;
- C) ocorrer desmoronamento;
- D) haver animais selvagens cruzando a pista;
- E) cruzamentos eventuais de máquinas agrícolas.

24. A placa abaixo indica:




- A) carga máxima permitida;
- B) uso obrigatório de correntes;
- C) alfândega;
- D) peso máximo permitido por eixo;
- E) proibido trânsito de veículo de tração animal.

25. Alguns condutores, principalmente os de veículos de carga, tomam uma mistura chamada rebite, para se manterem acordados ao volante. Este hábito, com o tempo, faz com que esses profissionais tenham alucinações. Dirigir sob influência de álcool ou de qualquer substância entorpecente, ou que determine dependência física ou psíquica, constitui infração:

- A) grave, sujeito à multa e apreensão do veículo;
- B) grave, sujeito à multa e remoção do veículo;
- C) gravíssima, sujeito à multa (5 vezes) e suspensão do direito de dirigir, recolhimento do documento de habilitação e retenção do veículo;
- D) gravíssima, sujeito à multa (3 vezes) e apreensão do veículo;
- E) gravíssima, sujeito à multa (5 vezes) e remoção do veículo.

26. A suspensão é o conjunto de órgãos que ajusta os pontos de contato do veículo com o solo, compensando as irregularidades do terreno. Observe a figura e numere os parênteses estabelecendo a numeração correta.

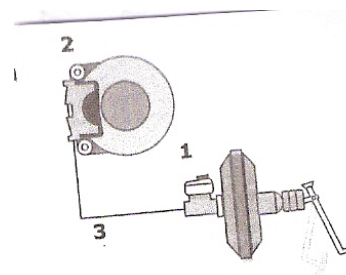


- ( ) amortecedores;
- ( ) braços de suspensão;
- ( ) molas.

A numeração correta, de cima para baixo, é:

- A) 1, 2, 3;
- B) 1, 3, 2;
- C) 2, 3, 1;
- D) 2, 1, 3;
- E) 3, 1, 2.

27. A função do freio é reduzir a velocidade, parar ou manter parado o veículo. Observe a figura de um sistema de freios e numere os parênteses, estabelecendo a relação correta:

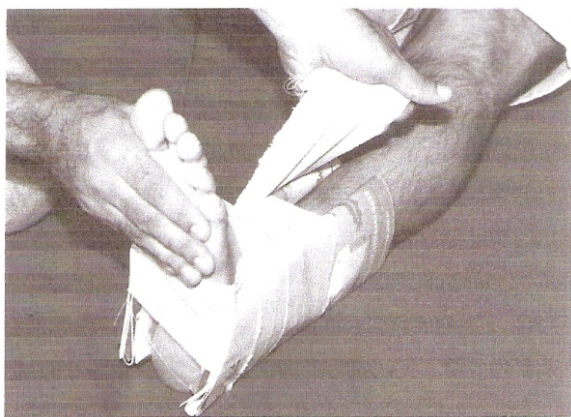


- ( ) tubulações;
- ( ) cilindro mestre;
- ( ) cilindro de roda.

A numeração correta, de cima para baixo, é:

- A) 1, 3, 2;
- B) 2, 3, 1;
- C) 2, 1, 3;
- D) 3, 2, 1;
- E) 3, 1, 2.

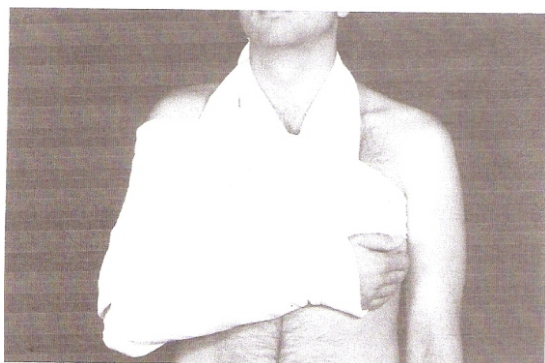
28. A imagem abaixo apresenta uma situação de entorse.



O socorrista imobilizou o local da entorse com:

- A) gesso e algodão apropriado;
- B) madeira e tiras de pano;
- C) tiras de pano e talas feitas com revistas;
- D) gaze e algodão;
- E) madeira, tiras de pano e algodão untado na manteiga.

29. Observe a imobilização de fratura fechada de clavícula:



Usando os números 1, 2 e 3, ordene as etapas que são realizadas para essa imobilização:

- ( ) sustente o braço com um pano triangular ou uma fralda dobrada, presa atrás da nuca;
- ( ) em torno do tórax, amarre duas ataduras (pode ser um pano triangular) para dar maior firmeza;
- ( ) coloque o braço da vítima na frente do peito.

A seqüência correta das ações está na alternativa:

- A) 1, 2, 3;
- B) 2, 3, 1;
- C) 2, 1, 3;
- D) 3, 1, 2;
- E) 3, 2, 1.

30. Nos casos de distúrbios causados pelo calor, o único procedimento ERRADO do socorrista é:

- A) fazer uma avaliação aproximada da extensão da queimadura;
- B) identificar o tipo de queimadura;
- C) lavar com água a parte do corpo afetado e protegê-la com um pano limpo;
- D) usar qualquer tipo de produto nas áreas queimadas;
- E) fazer compressas com água para resfriamento.