



# BANCO DA AMAZÔNIA

**Concurso Público**  
**Nível Superior**

**CARGO 3:**  
**Técnico Científico**  
**Área: Economia**



CADERNO DE PROVAS **ROXO**

**Aplicação: 24/10/2004**

**MANHÃ**



## **LEIA COM ATENÇÃO AS INSTRUÇÕES ABAIXO.**

- 1 Ao receber a sua folha de respostas, marque, imediatamente, no item zero, o tipo de caderno de provas que você recebeu (ROXO ou VERDE), conforme modelo ao lado. Esta marcação é obrigatória e a sua ausência ou a marcação de mais de um campo implicará a anulação das suas provas.
- 2 Ao receber este caderno, confira se ele contém **cento e vinte** itens, correspondentes às provas objetivas, corretamente ordenados de 1 a 120.
- 3 Caso o caderno esteja incompleto ou tenha qualquer defeito, solicite ao fiscal de sala mais próximo que tome as providências cabíveis.
- 4 Nos itens das provas objetivas, recomenda-se não marcar ao acaso: a cada item cuja resposta diverja do gabarito oficial definitivo, além de não marcar ponto, o candidato recebe pontuação negativa, conforme consta em edital.
- 5 Não utilize nenhum material de consulta que não seja fornecido pelo CESPE.
- 6 Durante as provas, não se comunique com outros candidatos nem se levante sem autorização do chefe de sala.
- 7 A duração das provas é de **três horas e trinta minutos**, já incluído o tempo destinado à identificação — que será feita no decorrer das provas — e ao preenchimento da folha de respostas.
- 8 Ao terminar as provas, chame o fiscal de sala mais próximo, devolva-lhe a sua folha de respostas e deixe o local de provas.
- 9 A desobediência a qualquer uma das determinações constantes no presente caderno, na folha de rascunho ou na folha de respostas poderá implicar a anulação das suas provas.

Item	Resposta
0	<input checked="" type="radio"/> ROXO
	<input type="radio"/> VERDE

### **AGENDA**

- I 25/10/2004, a partir das 10 h (horário de Brasília) – Gabaritos oficiais preliminares das provas objetivas: quadros de avisos do CESPE/UnB, em Brasília, e Internet — [www.cespe.unb.br](http://www.cespe.unb.br).
- II 26 e 27/10/2004 – Recursos (provas objetivas): em locais e horários que serão informados na divulgação dos gabaritos.
- III 25/11/2004 – Resultado final das provas objetivas e do concurso: Diário Oficial da União e Internet — [www.cespe.unb.br](http://www.cespe.unb.br).

### **OBSERVAÇÕES**

- Não serão objeto de conhecimento recursos em desacordo com o Item 12 do Edital n.º 1/2004 – BANCO DA AMAZÔNIA, de 29/7/2004.
- Informações adicionais: telefone 0(XX)61 448 0100; Internet — [www.cespe.unb.br](http://www.cespe.unb.br).
- É permitida a reprodução deste material apenas para fins didáticos, desde que citada a fonte.



• De acordo com o comando a que cada um dos itens de 1 a 120 se refira, marque, na **folha de respostas**, para cada item: o campo designado com o código **C**, caso julgue o item **CERTO**; ou o campo designado com o código **E**, caso julgue o item **ERRADO**. A ausência de marcação ou a marcação de ambos os campos não serão apenadas, ou seja, não receberão pontuação negativa. Para as devidas marcações, use a folha de rascunho e, posteriormente, a **folha de respostas**, que é o único documento válido para a correção das suas provas.

• Nos itens que avaliam **Noções de Informática**, a menos que seja explicitamente informado o contrário, considere que todos os programas mencionados estão em configuração-padrão, em português, que o *mouse* está configurado para pessoas destros e que expressões como clicar, clique simples e clique duplo referem-se a cliques com o botão esquerdo do *mouse*. Considere também que não há restrições de proteção, de funcionamento e de uso em relação aos programas, arquivos, diretórios e equipamentos mencionados.

## CONHECIMENTOS BÁSICOS

(...)

1 Ainda quando se punham a legiferar ou a cuidar de organizações e coisas práticas, os nossos homens de idéias eram, em geral, puros homens de palavras e livros; não saíam de si mesmos, de seus sonhos e imaginações. Tudo assim conspirava para a fabricação de uma realidade artificial e livresca, onde nossa vida verdadeira morria asfixiada.

4

7 Comparsas desatentos do mundo que habitávamos, quisemos recriar outro mundo mais dócil aos nossos desejos ou devaneios. Era o modo de não nos rebaixarmos, de não sacrificarmos nossa personalidade no contato de coisas mesquinhas e desprezíveis. Como Plotino de Alexandria, que tinha vergonha do próprio corpo, acabaríamos, assim, por esquecer os fatos prosaicos que fazem a verdadeira trama da existência diária, para nos dedicarmos a motivos mais nobilitantes: à palavra escrita, à retórica, à gramática, ao direito formal.

10

13

16

Sérgio Buarque de Holanda. **Raízes do Brasil**. 26.ª ed. São Paulo: Companhia das Letras, 1994, p. 163 (com adaptações).

A respeito do texto acima, julgue os itens subseqüentes.

- 1 Conclui-se da argumentação do texto que, sem a palavra escrita, sem a retórica, sem a gramática e o direito formal, fabricou-se uma realidade artificial e asfixiou-se a verdadeira vida.
- 2 Na linha 1, preservam-se a coerência, as relações semânticas e a correção gramatical do texto ao se substituir “se punham a” por **começavam a**, tanto na locução verbal explícita quanto na subentendida.
- 3 Depreende-se do desenvolvimento das idéias no texto que “homens” (l.2) são qualificados como “puros” (l.3) quando se mostram bem intencionados no trato com as coisas práticas.
- 4 O emprego do pronome relativo “onde” (l.6) indica que a oração que ele introduz apresenta uma situação associada à expressão “realidade artificial e livresca” (l.5-6).
- 5 O emprego da flexão de plural em “Comparsas” e “desatentos”, ambos na linha 7, indica que esses termos qualificam “desejos ou devaneios” (l.8-9).
- 6 Mantêm-se a coerência textual e o respeito às regras gramaticais se, em lugar do ponto final imediatamente antes de “Era” (l.9), for empregado o sinal de dois-pontos, desde que essa forma verbal seja iniciada por letra minúscula.

7 O texto mostra uma certa visão de mundo em que “coisas mesquinhas e desprezíveis” (l.10-11) estão associadas a “fatos prosaicos” (l.13) da “vida verdadeira” (l.6), em oposição a “realidade artificial e livresca” (l.5-6), composta de “sonhos e imaginações” (l.4).

8 Na linha 15, a retirada do sinal indicativo de crase antes de “palavra escrita”, “retórica” e “gramática” indica que aí se mantém apenas o artigo definido e, para preservar a coerência, deve-se escrever apenas **o** antes de “direito formal” (l.16).

1 Tenho às vezes sonhos de virar ditador. Não um ditadorzinho qualquer, com medo de mandar e com poderes cerceados pelas forças ocultas. Mas um verdadeiro ditador, capaz de penetrar nas entranhas da sociedade e impor minha vontade. Segue uma lista de minhas primeiras providências, para quando se materializasse meu sonho:

4

7 • Em solenidades oficiais, seria cobrada das autoridades uma taxa por minuto de discurso proferido. O tempo gasto nomeando as autoridades presentes seria cobrado em dobro. Só o primeiro minuto seria de graça.

10

13 • Os chefes teriam de entrar em filas de sua repartição pública e ser atendidos por seus funcionários. Ou mandariam mãe e cônjuge em seu lugar. Os que exigem papéis inúteis teriam de ficar ajoelhados em grãos de milho.

16 • As autoridades educacionais teriam de matricular os filhos na escola sob sua responsabilidade. As de saúde teriam de se tratar na instituição que dirigem.

19 (...)

Os exemplos estão no limite entre o sério e a brincadeira. O assunto pode ser visto de forma direta e simples, lembrando o ditado oriental “Olho por olho, dente por dente”. Quem atrapalha merece ser atrapalhado.

22

Cláudio Moura Castro. **Se eu fosse ditador...**  
In: **Veja**, 15/9/2004 (com adaptações).

Considerando a organização das idéias no texto acima, julgue os seguintes itens.

9 Depreende-se da argumentação do texto que o autor opõe “um ditadorzinho qualquer” (l.1-2) a “um verdadeiro ditador” (l.3), atribuindo a cada um, respectivamente, as seguintes características: temeroso de mandar e com frágeis poderes diante de forças ocultas; capaz de alterar, pela força de sua vontade, comportamentos arraigados na sociedade.

- 10 Preservam-se a coerência textual e a correção gramatical e mantém-se a idéia de quantidade associada a “uma lista” (l.5), ao se substituir essa expressão pelo pronome **algumas**.
- 11 A expressão “quando se materializasse meu sonho” (l.6) estabelece uma referência temporal que justifica, textualmente, o emprego do tempo e modo verbais expressos em “seria” (l.7) e “teriam” (l.14, 16 e 18).
- 12 De acordo com os sentidos do texto, o artigo “os” (l.16) corresponde ao possessivo **seus**.
- 13 Respeitam-se as relações semânticas do texto, bem como as regras gramaticais, ao se inserir o pronome **aquelas** imediatamente antes de “dirigem” (l.18).
- 14 A argumentação do texto sugere que o ditado “Olho por olho, dente por dente” (l.22) retrata uma realidade prejudicial à sociedade, que um verdadeiro ditador deve mudar.

1 Desde a década de 30 do século passado, o Brasil se empenhou na construção de um serviço público estatal que fosse capaz de dar suporte a uma moderna sociedade industrial capitalista.

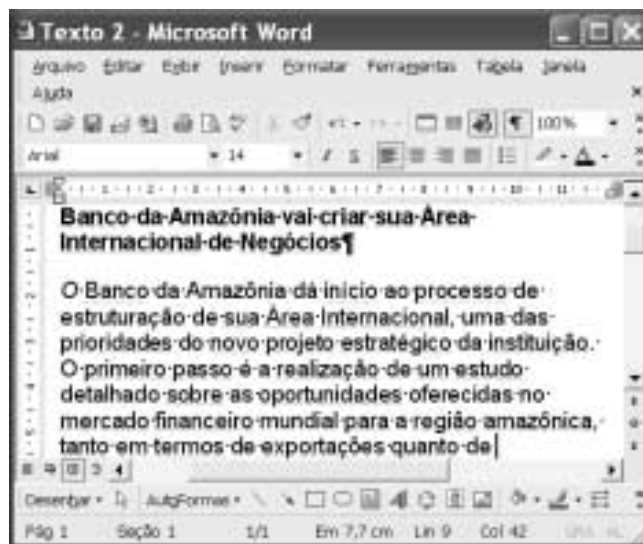
Nessa trilha, foi-se formando uma burocracia estatal multiforme que tinha o objetivo explícito de atenuar e controlar os conflitos sociais, fosse pela repressão desapiadada, fosse pela concessão de assistência ou direitos sociais. Mas um Estado assim conformado não poderia deixar de ser ele mesmo trespassado pelas contradições sociais e políticas existentes na ordem social burguesa em construção. Assim é que vários setores profissionais, entre os quais uma camada de trabalhadores intelectuais estatais conhecidos como servidores ou funcionários públicos, encontraram no Estado o seu patrão. São professores de diversos níveis, cientistas, médicos, engenheiros, juristas, bancários, agrônomos. São também operários qualificados, dotados de um saber específico.

Marcos Del Roio. A parábola do serviço público no Brasil. In: Revista Espaço Acadêmico, n.º 28. Internet: <www.espacoacademico.com.br>. Acesso em 28/9/2003 (com adaptações).





Julgue os seguintes itens, a respeito do texto acima.

- 15 Com a função de conferir coesão ao texto, a expressão “Nessa trilha” (l.5) resume e retoma a idéia do parágrafo anterior: o esforço para criar um serviço público estatal capaz de dar sustentação a uma sociedade industrial, moderna e capitalista.
- 16 Os sentidos do texto e as relações de regência verbal admitem a substituição do artigo antes de “objetivo” (l.6) pela preposição **por**, sem que a correção gramatical do período seja prejudicada.

- 17 A forma verbal “fosse” (l.7 e 8) estabelece relações semânticas e sintáticas entre os termos que liga, as quais correspondem a **quer ... quer** ou a **seja ... seja**.
- 18 Preservam-se a coerência e as relações semânticas do texto ao se retirar “assim” (l.9) e “ele mesmo” (l.10), já que tais termos têm a finalidade apenas de reforçar a argumentação textual.
- 19 De acordo com o desenvolvimento das idéias do texto, as expressões “trabalhadores intelectuais estatais” (l.13), “servidores ou funcionários públicos” (l.14) e “operários qualificados, dotados de um saber específico” (l.17-18) referem-se ao mesmo grupo de pessoas: “professores de diversos níveis, cientistas, médicos, engenheiros, juristas, bancários, agrônomos” (l.15-17).
- 20 A expressão figurada “encontraram no Estado o seu patrão” (l.15) corresponde, textualmente, a **foram ao encontro do Estado na qualidade de patrão**.



A figura acima mostra uma janela do Word 2002 com um texto que está sendo editado. Com relação a essa janela e ao Word 2002, julgue os itens subsequentes.

- 21 Caracteres não-imprimíveis estão sendo exibidos na janela ilustrada porque o botão  está ativado. Para desativar esse botão, o que oculta os referidos caracteres, é suficiente clicar-lo.
- 22 Sabendo que a barra de ferramentas Desenho está sendo exibida na janela, então, para ocultá-la, é suficiente clicar o botão .
- 23 Caso se selecione o parágrafo iniciado em “O Banco da Amazônia” e se clique duas vezes o botão , em , o tamanho da fonte em uso será alterado de 14 para 12.

	A	B	C	D
1				
2	Segunda	637		
3	Terça	523		
4	Quarta	498		
5				

A figura acima mostra uma janela do Excel 2002, com uma planilha que está sendo editada, contendo o número de clientes que foram atendidos em uma agência bancária em três dias de uma semana. Considerando essa figura, julgue os itens seguintes, relativos ao Excel 2002.

- 24 Para se calcular o número total de clientes atendidos nos três dias mostrados e pôr o resultado na célula B5, é suficiente realizar a seguinte seqüência de ações: clicar a célula B5, digitar =soma(B2:B4) e, em seguida, teclar **Enter**.
- 25 Para se aplicar negrito às células de A2 a A4, é suficiente realizar a seguinte seqüência de ações com o *mouse*: posicionar o ponteiro no centro da célula A2; pressionar e manter pressionado o botão esquerdo; posicionar o ponteiro no centro da célula A4, liberar o botão esquerdo; clicar **N**.
- 26 Para se centralizar todos os conteúdos das células da coluna B, é suficiente clicar o cabeçalho dessa coluna e, em seguida, pressionar simultaneamente as teclas **Shift** e **C**.



Considerando a janela do Outlook Express 6 (OE6) ilustrada acima, julgue os itens a seguir.

- 27 Os campos associados a **Para:** e **Cc:** podem ter sido preenchidos, respectivamente, com os conteúdos **Pedro** e **João**, por meio de funcionalidades acessíveis ao se clicar os botões **Para:** e **Cc:**.
- 28 Caso se deseje anexar à mensagem de correio eletrônico ilustrada arquivo criado a partir do uso de aplicativos do Office XP, é possível fazê-lo por meio de funcionalidades acessíveis ao se clicar o botão



Figura I

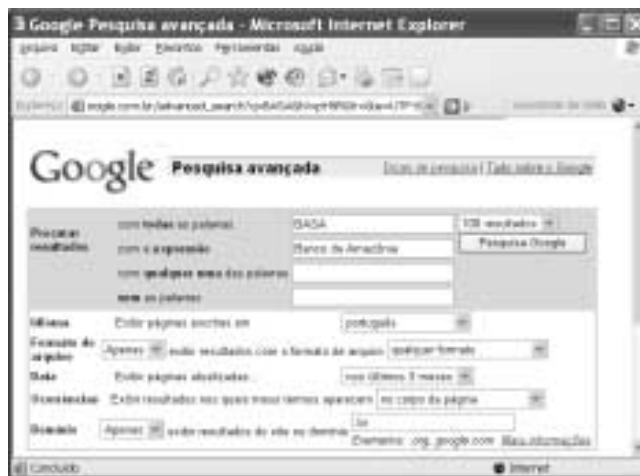


Figura II

A figura I acima ilustra uma janela do Internet Explorer 6 (IE6) contendo uma página do sítio <http://www.google.com.br>, especializado na busca de informações na Internet. O conteúdo dessa página instrui o usuário na realização de pesquisa avançada utilizando as ferramentas disponibilizadas pelo sítio. A figura II, por sua vez, mostra uma página do referido sítio na qual o usuário define parâmetros para uma pesquisa avançada. Considerando essas informações, julgue os itens subseqüentes.

- 29 As informações definidas na página *web* mostrada na figura II estão de acordo com as instruções contidas na página ilustrada na figura I e, por conseqüência, permitirão realizar busca mais estreita, ou menos ampla, conforme denominado na página da figura I.
- 30 A página do sítio <http://www.google.com.br> poderia ser acessada ao se clicar o botão , caso essa página tivesse sido previamente definida como página de pesquisa do IE6. Essa definição pode ser efetivada a partir de recursos disponibilizados por meio do botão **Favoritos**.



Considerando a página *web* mostrada na figura acima, que ilustra uma janela do IE6, julgue os itens seguintes.


- 31 O conteúdo dessa página descreve a tecnologia denominada Intel Centrino. Essa tecnologia permite velocidades de *clock* para um computador superiores a 25 GHz e é dedicada a servidores de redes WLAN no padrão IEEE 802.11. Esses servidores devem ser capazes de oferecer aos usuários tráfego de dados com taxas superiores a 20 Gbps.
- 32 Ao mencionar que “você está pronto para se conectar à Internet ou à rede corporativa, sem fios e sem placa adaptadora graças à capacidade integrada de LAN sem fio 802.11b”, o texto contido na página está indiretamente afirmando que a tecnologia Intel Centrino dispensa o uso dos protocolos TCP/IP na conexão à Internet, desde que o acesso seja feito em uma rede WLAN.



Com relação às funcionalidades disponibilizadas por meio da janela do Windows XP ilustrada na figura acima, julgue os seguintes itens.

- 33 Essa janela pode ser obtida por meio de recursos acessíveis a partir da janela Painel de controle, que, por sua vez, pode ser aberta utilizando-se opção do *menu* Iniciar do Windows XP.

- 34 Ao se clicar o botão **Avançar >**, todos os aplicativos acessórios do Windows XP, tais como o Word, o Excel e o Paint, serão removidos do computador no qual a janela está sendo executada.



Com relação às funcionalidades acessíveis a partir da janela do Windows XP ilustrada na figura acima, julgue o item que se segue.

- 35 Desde que haja configurações adequadamente realizadas, por meio do botão **Windows Update** é possível que a janela do IE6 ilustrada a seguir seja obtida.



O presidente da Rússia, Vladimir Putin, anunciou um pacote de duras medidas para fortalecer a segurança do país e combater o terrorismo — rapidamente interpretadas como novas ações para fortalecer seu poder e enfraquecer os governos regionais e os direitos dos cidadãos. Oposicionistas acusaram Putin de explorar a tragédia da escola de Beslan para fins políticos. Isto porque, apesar de o foco declarado ser a luta antiterror, parte do pacote se refere a mudanças no sistema eleitoral. As medidas prevêem a eliminação da eleição por voto direto dos líderes das 89 instâncias de poder em que se divide a Federação Russa, a supressão da votação de deputados por região, a reinstauração da pena de morte, a ampliação dos controles nas fronteiras, a instituição de um código de cores de alerta antiterror e a formação de uma poderosa agência central antiterror.

O Estado de S. Paulo, 14/9/2004, p. 14 (com adaptações).

Tendo o texto acima como referência inicial e considerando aspectos marcantes da realidade russa e do mundo contemporâneo, julgue os itens seguintes.

- 36** A “tragédia da escola de Beslan”, a que se refere o texto, ganhou as manchetes da mídia mundial pela dimensão do horror que causou: o ataque terrorista terminou com o saldo de mais de trezentas pessoas mortas, crianças em sua grande maioria.
- 37** A forma pela qual as autoridades russas reagiram ao ataque terrorista em Beslan mereceu críticas de alguns países e de instituições internacionais, pois teria contribuído para a ampliação de um quadro que, por si só, já era grave e desumano.
- 38** As medidas anunciadas por Putin, citadas no texto, sob vários aspectos contrastam com a tradição democrática das instituições políticas russas, que vigoraram até mesmo durante a maior parte do período soviético.
- 39** Entre os problemas que a Rússia vem enfrentando nos últimos anos, um dos mais graves é o do separatismo, como é o conhecido caso da Chechênia. Esse fenômeno, desconhecido ao tempo da vigência do modelo soviético, somente se revelou alguns anos após a desintegração da União das Repúblicas Socialistas Soviéticas (URSS).
- 40** Infere-se do texto que algumas das medidas anunciadas por Putin parecem seguir o modelo adotado pela administração George W. Bush, como resposta aos traumáticos atentados de 11 de setembro de 2001 contra os Estados Unidos da América.
- 41** Ao fazer alusão aos episódios que ensangüentaram Beslan, na região da Ossétia, o texto se reporta ao terrorismo, que, sob as mais diversas inspirações e lideranças, adquire posição de destaque no panorama mundial, neste início do século XXI.
- 42** Para os apoiadores de Putin dentro e fora do país as medidas por ele adotadas têm caráter pedagógico, qual seja, o de alertar os terroristas — que pela primeira vez agiram no país — para a inutilidade de atos dessa natureza contra um Estado que não abre mão de sua força nem se dispõe a negociar com criminosos desse tipo.
- 43** Em tese, o caminho adotado por Vladimir Putin parece se opor, filosófica e conceitualmente, àquele assumido por George W. Bush, para quem o combate ao terrorismo internacional requer, em primeiro plano, a via da negociação política e diplomática e, em caso de fracasso desta, a ação militar.
- 44** O fato de a Rússia não mais participar do Conselho de Segurança da Organização das Nações Unidas (ONU), desde que a URSS desapareceu, tornou mais fácil a tarefa norte-americana de amealhar apoios às suas incursões militares pelo mundo afora.
- 45** Caso se concretize a intenção de Putin, cujas propostas estão sintetizadas no texto, a Rússia se transformará no único grande país, entre os quinze mais poderosos do planeta, a admitir em sua legislação a pena de morte.

Depois de quase três horas de avião, partindo de onde o Solimões e o Negro se encontram para formar o Amazonas, o maior rio do planeta, viajando sobre um mundo verde e de esperança quase intocável lá embaixo, a aventura moderna de Urucu se descortina. A maior reserva de petróleo explorada em terra no Brasil (60 mil barris/dia), onde também se encontra um quarto de toda a reserva de gás natural já prospectado pela PETROBRAS — 6 milhões de metros cúbicos/dia e mil toneladas de gás de cozinha —, aparece circunscrita a 60 poços perfurados em plena selva. Emoldurada em verde intenso, a paisagem é industrial. Nenhum de seus 1.368 trabalhadores pode levar família para a reserva. Construir casas, trazer parentes e avançar além, sobre a selva, nem pensar. Muito menos abrir um comércio, uma venda, depois uma primeira estrada, o que provocaria, inevitavelmente, o primeiro desmate. Não é permitido, enfim, realizar nenhuma atividade que induza a miséria social ou qualquer tipo de poluição fora da planta industrial de Urucu.

Hiram Firmino. Urucu: o ouro negro e verde da Amazônia. In: JB Ecológico, *Jornal do Brasil*, ano 3, n.º 31, ago./2004, p. 42 (com adaptações).

A partir do texto acima e considerando os elementos constituintes do conceito e das práticas de desenvolvimento sustentável, julgue os itens subsequentes.

- 46** Subtende-se do texto que, confirmando o caráter profético da incansável pregação de Monteiro Lobato na década de 30, Urucu confirma a verdade somente agora conhecida de que é em terra que o Brasil dispõe de suas maiores reservas de petróleo e de gás natural.
- 47** As precauções existentes em Urucu, algumas das quais mencionadas no texto, apontam para a decisão de se afastar do modelo antigo de ocupação humana, assentado na crença — hoje bastante criticada — de progresso a qualquer custo.
- 48** No modelo de exploração econômica tratado no texto, referenciado pelos princípios do desenvolvimento sustentável, recompor a flora nas áreas desmatadas, realizar estudos ambientais básicos e estimular o diálogo entre seus técnicos e ambientalistas são algumas das atitudes esperadas de seus executores.
- 49** Pelo interesse — científico, particularmente — que a Amazônia suscita em todo o mundo, pode-se supor que a eventual utilização de métodos equivocados na produção ou acidentes ambientais de graves proporções em um projeto como o de Urucu ensejariam protestos em escala planetária e colocariam em xeque a credibilidade do país no trato de sua mais famosa floresta.
- 50** Observadas as peculiaridades da região onde se instalou o projeto Urucu, a utilização de mão-de-obra regional seria uma forma de valorizá-la e não estimular o fluxo de forasteiros. De igual modo, impedir que familiares acompanhem os trabalhadores traduz a preocupação de não estimular a criação de núcleos urbanos no local.

## CONHECIMENTOS ESPECÍFICOS

Utilizando os conceitos básicos da teoria econômica, julgue os itens subseqüentes.

- 51** O custo de oportunidade de determinada atividade, por ser independente dos usos alternativos do tempo necessário para desenvolvê-la, é, usualmente, o mesmo para todas as pessoas nela envolvidas.
- 52** O estabelecimento de regras competitivas mediante a eliminação das fontes de monopólio desloca a curva de possibilidades de produção para cima e para a direita.
- 53** Nas economias mistas, embora as instituições privadas coexistam com as instituições públicas, o controle dos recursos econômicos se faz exclusivamente no âmbito do governo.
- 54** Em uma economia descentralizada, a preocupação maior dos diferentes agentes econômicos é gerenciar o funcionamento do sistema de preços para, assim, garantir o bom desempenho das economias de mercado.

A análise das interações entre vendedores e compradores em uma economia de mercado constitui o cerne do estudo dos fenômenos econômicos. A esse respeito, julgue os itens a seguir.

- 55** A crescente onda de insegurança no Iraque conduz à elevação do preço do barril do petróleo cru no mercado internacional e aumenta o preço da gasolina, provocando, no Brasil, um deslocamento ao longo da curva de oferta desse combustível.
- 56** O aumento da renda dos consumidores, ao contribuir para expandir a demanda por serviços hoteleiros, pode levar ao aumento dos preços e da quantidade demandada desses serviços.
- 57** As elevadas exigências — quanto a qualificação técnica e habilidade — indispensáveis aos bons neurocirurgiões concorrem para reduzir a elasticidade da demanda pelos serviços desses profissionais em relação àquelas que caracterizam a demanda pelos serviços de médicos menos especializados.

A teoria microeconômica estuda o processo de decisão dos agentes econômicos, incluindo-se aí consumidores e produtores. Com relação a esse tema, julgue os itens a seguir.

- 58** A posição e a forma das curvas de indiferença são determinadas tanto pelas preferências do consumidor como por seus níveis de renda e pelos preços dos bens consumidos, que prevalecem no mercado.
- 59** Esquemas de racionamento de energia elétrica, como o que ocorreu no Brasil, levam ao deslocamento paralelo da restrição orçamentária do consumidor, para baixo e para a esquerda.

- 60** Quando as funções de demanda são lineares em relação à renda, a curva de Engel é uma linha reta.
- 61** Em razão da informatização crescente dos serviços bancários, inclusive mediante o uso da Internet, o aumento da taxa de adesão dos provedores de Internet poderá causar aumento também da quantidade de clientes atendidos diretamente nos guichês bancários.
- 62** Os custos fixos são aqueles incorridos mesmo quando o nível de produção é nulo, não variando, portanto, com a escala de produção.
- 63** Quando a tecnologia apresenta retornos decrescentes de escala, para qualquer nível dos preços dos insumos, os custos por unidade se elevam com o aumento da produção.
- 64** Supondo-se que empregadas domésticas e eletrodomésticos, tais como máquinas de lavar roupas e louças, são substitutos imperfeitos na produção de serviços domésticos, é correto afirmar que as isoquantas entre esses fatores produtivos são representadas por uma linha reta.
- 65** Quando a curva de custo médio total está crescendo, o custo marginal é superior ao custo médio.
- 66** Em concorrência perfeita, produtores que maximizam lucros combinam os diferentes insumos de modo a igualar a produtividade marginal de todos os insumos utilizados no processo produtivo.
- 67** As deseconomias de escala na indústria do *fast food*, derivadas das dificuldades de administração e difusão do fluxo de informações, explicam, em parte, o desenvolvimento de franquias nesse setor, como, por exemplo, as lanchonetes norte-americanas.
- 68** Políticas tributárias que levem à redução das alíquotas das contribuições sociais incidentes sobre os salários pagos pelas firmas diminuem o custo marginal das empresas, contribuindo, assim, para elevar a produção e o emprego.
- 69** A imposição de um tributo de R\$ 1,00 por unidade transacionada sobre o produto de um monopolista que atua em um mercado em que a curva de demanda é linear e os custos marginais são constantes conduzirá a um aumento do preço unitário superior a R\$ 1,00.
- 70** Em mercados competitivos, em que a indústria opera com custos decrescentes, a curva de oferta de longo prazo é negativamente inclinada, o que leva à redução do preço do produto.



- 71 No monopólio, a curva de receita marginal situa-se acima da curva de receita média e, portanto, o preço fixado é superior ao custo marginal.
- 72 Lojas de conveniência que ficam abertas 24 horas cobram preços mais elevados por produtos que podem ser adquiridos por preços inferiores nos supermercados, em razão de se defrontarem com uma curva de demanda menos elástica em relação ao preço.
- 73 A formação bem-sucedida de um cartel requer atuação em mercados cuja demanda seja inelástica, além de firmas de tamanho similar e que se disponham a seguir as regras da organização.
- 74 Se uma alocação de recursos é eficiente no sentido de Pareto e situa-se no interior da curva de possibilidades de utilidades, então é possível melhorar simultaneamente a situação de todos os indivíduos.
- 75 Alocações Pareto-eficientes não excluem a possibilidade de que alguns agentes estejam em situação inferior, quanto a de bem-estar, em relação àquela em que estariam, caso a alocação fosse ineficiente.

No que tange ao estudo da contabilidade nacional, que diz respeito à mensuração dos agregados macroeconômicos, julgue os itens que se seguem.

- 76 Quando uma empresa de cosméticos naturais estabelecida na Amazônia compra R\$ 20,00 de plantas medicinais e R\$ 10,00 de lanolina e utiliza esses insumos para produzir um creme facial no valor de R\$ 40,00, sua contribuição para o Produto Interno Bruto (PIB) eleva-se a R\$ 70,00.
- 77 As compras de automóveis efetuadas pelas famílias são contabilizadas no PIB, na conta de investimento, porque esses produtos são considerados bens duráveis.
- 78 Nas estatísticas do PIB e do Produto Nacional Bruto (PNB), quando as residências são ocupadas pelos respectivos proprietários, o valor dos serviços de aluguéis é computado, utilizando-se imputações arbitrárias do valor desses serviços.
- 79 No cômputo da renda nacional, as despesas do governo incluem os gastos com bens e serviços bem como o pagamento dos salários e outras remunerações dos funcionários públicos.
- 80 Embora a totalidade dos lucros auferidos pelas empresas esteja incluída na renda nacional, somente parte desses lucros — correspondente aos pagamentos de dividendos feitos pelas empresas — é contabilizada na renda pessoal disponível.
- 81 Quando uma empresa brasileira utiliza os serviços de uma transportadora norte-americana, o valor pago pelo transporte representa um débito e, portanto, é contabilizado no balanço comercial brasileiro.
- 82 Como os índices de preço ao consumidor trabalham com uma cesta de produtos fixa, por um determinado período, eles tendem a sobreestimar a inflação pelo fato de esses índices não levarem em conta o efeito substituição.

A respeito da análise do consumo, da poupança e do investimento, crucial para o entendimento das questões macroeconômicas, julgue os itens subseqüentes.

- 83 De acordo com a teoria keynesiana do consumo, as propensões média e marginal a consumir diminuem quando a renda se eleva.
- 84 Do ponto de vista da contabilidade nacional, quando as famílias colocam parte de sua renda não-gasta em uma conta de poupança do sistema bancário, elas estão, simultaneamente, poupando e investindo recursos.
- 85 O efeito deslocamento (*crowding out*) refere-se à possibilidade de que uma política fiscal expansionista provoque redução do investimento privado.
- 86 Ao alegar que o consumo é influenciado unicamente pela renda corrente, a hipótese do ciclo de vida implica variação previsível da poupança ao longo da vida.
- 87 Considere uma economia descrita pelas seguintes relações:  $Y = C + I$ ;  $C = 50 + 0,75 Y$ ;  $I = 50$ , em que  $Y$  é a renda nacional,  $C$  é o consumo e  $I$ , o investimento autônomo. Nesse caso, uma redução de 50% dos investimentos autônomos contrai em 25% a renda de equilíbrio e o novo nível de consumo corresponde a 275.
- 88 Além de ser um estabilizador automático, o imposto de renda proporcional reduz o multiplicador keynesiano e torna a produção mais estável.

RASCUNHO

Julgue os itens a seguir, relativos às políticas fiscais e monetárias, que influenciam significativamente o desempenho da economia.

- 89** De acordo com a visão monetarista, o uso de regras fixas de política econômica, como, por exemplo, o crescimento do estoque monetário a uma taxa constante, é preferível à utilização de políticas fiscais e monetárias discricionárias.
- 90** A melhoria do arcabouço institucional, que garante os contratos e reduz o risco das transações, por diminuir o custo das empresas, desloca para baixo e para a direita a curva de oferta agregada da economia, podendo resultar na expansão da produção e da renda.
- 91** Uma expansão monetária conjugada com o aumento das alíquotas do imposto de renda das pessoas físicas reduz o nível de atividade econômica.
- 92** A neutralidade monetária, associada à teoria clássica, implica que uma expansão da oferta de moeda, no longo prazo, não modifica as variáveis reais, mas altera as variáveis nominais e o nível de preços.
- 93** Para determinada economia, maior integração ao mercado internacional de capitais contribui para fortalecer as instituições financeiras nacionais, conduzindo, assim, ao aumento da eficácia das políticas monetárias nacionais.
- 94** Os efeitos da tributação sobre a despesa agregada decorrem do fato de que esses instrumentos fiscais afetam a renda disponível, deixando, porém, inalteradas as taxas de juros.

Tendo como referência os ensinamentos básicos da macroeconomia aberta, julgue os seguintes itens.

- 95** Derivada do aumento do risco de determinado país, uma fuga de capitais eleva a demanda por fundos emprestáveis e a taxa de juros real e, assim, conduz à apreciação da moeda nacional.
- 96** Políticas de contenção dos gastos públicos aumentam a poupança nacional, reduzem as taxas de juros e o investimento do exterior no país, diminuem a oferta de divisas e, portanto, levam à redução das exportações líquidas.
- 97** Como a teoria da paridade do poder de compra implica que a taxa de câmbio real é fixa, então modificações nas taxas de câmbio nominais entre duas moedas quaisquer refletem o diferencial de inflação entre os países considerados.

- 98** Como o balanço de pagamentos encontra-se sempre em equilíbrio e as taxas de câmbio flutuantes corrigem os desequilíbrios que ocorrem no mercado de divisas, é correto inferir que as taxas de câmbio são estáveis.
- 99** Em uma economia globalizada, taxas de juros elevadas em um país, *ceteris paribus*, atraem mais capital estrangeiro e provocam, dessa forma, a apreciação da moeda nacional e a contração das exportações e do PIB.
- 100** Restrições voluntárias às exportações e cotas de importação constituem exemplos de barreiras comerciais que geram perda de eficiência, mas diferem das tarifas pelo fato de o governo não obter receitas, como no caso da proteção tarifária.

O estudo do cálculo financeiro é fundamental para a decisão referente às distintas alternativas de investimento. Acerca desse assunto, julgue os itens subseqüentes.

- 101** Investindo-se R\$ 10.000,00, em 1.º de janeiro de 2005, à taxa de juros compostos de 5% ao mês, em 31 de março de 2005, a parcela de juros será superior a R\$ 550,00.
- 102** A taxa de juros aparente não considera os efeitos da inflação e, por essa razão, em períodos inflacionários, essa taxa é substancialmente inferior à taxa de juros real.
- 103** Embora a prática de mercado privilegie os juros compostos e *postecipados*, existem transações financeiras, denominadas operações de desconto, que utilizam juros antecipados.
- 104** É correto afirmar que, para uma taxa de juros simples de 2% ao mês, por ser linear ao longo do tempo, a taxa anual correspondente é igual a 24%.
- 105** A taxa de juros efetiva correspondente a aplicações em cadernetas de poupança que pagam 0,5% ao mês de juros nominais é igual a 6% ao ano.
- 106** No sistema de amortização constante (SAC), as prestações do financiamento incluem os juros do período calculados sobre o saldo do financiamento com valores variáveis a cada período, e a parcela da prestação relativa à amortização da dívida é decrescente.
- 107** O fator de valor atual para uma série uniforme será tanto maior quanto mais elevada for a taxa de juros de mercado.
- 108** A perpetuidade, que corresponde a uma série uniforme e infinita de fluxos de caixa, tem seu valor reduzido quando as taxas de juros aumentam.
- 109** No sistema de amortização francês, também conhecido como Tabela Price, à medida que os períodos se sucedem, a parcela de cada prestação referente à amortização da dívida cresce em relação àquela relacionada com o pagamento dos juros.

- 110** O índice de inflação interna da empresa, utilizado para atualizar os fluxos de pagamentos e receitas de uma alternativa de investimento, corresponde ao índice de desvalorização do poder aquisitivo dessa empresa.
- 111** Na análise de investimentos, para se levar em conta os impactos da inflação, deve-se atribuir aos valores analisados uma mesma base monetária, mediante a adoção de índices apropriados.
- 112** Para determinada empresa, se uma cesta de insumos que custava R\$ 1.000,00 passa a custar R\$ 1.500,00 em razão do processo inflacionário, então o índice de desvalorização interna dessa empresa, no período considerado, é igual a 50%.
- 113** Quanto maior for o grau de alavancagem operacional de uma empresa, determinado pela relação existente entre as receitas operacionais e o lucro operacional, maior será o grau de incerteza quanto à rentabilidade projetada e, portanto, menor será o retorno esperado.
- 114** Por utilizar o regime de competência, o método do fluxo de caixa registra as entradas e as saídas de recursos efetivamente ocorridas na empresa na data do fato gerador da despesa e da receita.

- 115** Um projeto cuja taxa interna de retorno (TIR) é positiva deve ser aprovado, mesmo que essa taxa seja inferior ao valor do custo de oportunidade do capital do referido projeto.
- 116** O valor atual líquido de determinado investimento corresponde ao valor presente do fluxo de caixa associado a esse investimento, ao qual se adiciona o valor atual do investimento inicial.
- 117** Na análise do valor presente de um projeto com taxa de desconto constante, quanto mais distante no tempo estiver o fluxo de custo ou benefício, menor será o correspondente fator de desconto.
- 118** O método do custo anual uniforme (CAU) distribui, ao longo da vida útil do projeto, todos os valores existentes no fluxo de caixa, transformando-os em uma única série uniforme.
- 119** Mesmo que o custo do alongamento de prazo seja elevado, quando a empresa consegue negociar prazo maior para o pagamento de suas dívidas, adia as saídas de caixa correspondentes e, portanto, melhora seu capital de giro.
- 120** A relação custo/volume/lucro, utilizada para selecionar níveis de lucros e políticas de preços, não faz distinção entre custos fixos e variáveis, e contribui, desse modo, para tratar esse problema de forma simplificada.

RASCUNHO

