

GOVERNO DO ESTADO DO PARÁ

Polícia Civil do Estado do Pará (PCPA)

Concurso Público

Nível Superior

Aplicação: 21/1/2007

Cargo 17 : Técnico em Gestão Pública
Formação: Ciências Econômicas

MANHÃ

CESPE
UNIVERSIDADE DE BRASÍLIA

Caderno Q

LEIA COM ATENÇÃO AS INSTRUÇÕES ABAIXO.

- 1 Ao receber este caderno, confira atentamente se o tipo de caderno — Caderno Q — coincide com o que está registrado em sua folha de respostas. Em seguida, verifique se ele contém QUARENTA questões, correspondentes às provas objetivas, corretamente ordenadas de 1 a 40.
- 2 Caso o caderno esteja incompleto ou tenha qualquer defeito, solicite ao fiscal de sala mais próximo que tome as providências cabíveis.
- 3 Não utilize lápis, lapiseira, borracha e(ou) qualquer material de consulta que não seja fornecido pelo CESPE/UnB.
- 4 Não se comunique com outros candidatos nem se levante sem autorização do chefe de sala.
- 5 A duração das provas é de **três horas e trinta minutos**, já incluído o tempo destinado à identificação — que será feita no decorrer das provas — e ao preenchimento da folha de respostas.
- 6 Você deverá permanecer obrigatoriamente em sala por, no mínimo, uma hora após o início das provas e poderá levar o seu caderno de provas somente no decurso dos últimos **quinze minutos** anteriores ao horário determinado para o término das provas.
- 7 Ao terminar as provas, chame o fiscal de sala mais próximo, devolva-lhe a sua folha de respostas e deixe o local de provas.
- 8 A desobediência a qualquer uma das determinações constantes no presente caderno ou na folha de respostas poderá implicar a anulação das suas provas.

AGENDA (Datas Prováveis)

- I **23/1/2007**, após as 19 h (horário de Brasília) – Gabaritos oficiais preliminares das provas objetivas: Internet — www.cespe.unb.br/concursos/pcpaadm2006.
- II **24 e 25/1/2007** – Recursos (provas objetivas): exclusivamente no Sistema Eletrônico de Interposição de Recurso, Internet — www.cespe.unb.br/concursos/pcpaadm2006, mediante instruções e formulários que estarão disponíveis nesse endereço.
- III **21/2/2007** – Resultado final das provas objetivas e convocação para avaliação de títulos: Diário Oficial do Estado do Pará e Internet — www.cespe.unb.br/concursos/pcpaadm2006.

OBSERVAÇÕES

- Não serão objeto de conhecimento recursos em desacordo com o item 12 do Edital n.º 1/2006 – SEAD/PCPA-ADM, de 30/10/2006.
- Informações adicionais: telefone 0(XX) 61 3448-0100; Internet — www.cespe.unb.br/concursos/pcpaadm2006.
- É permitida a reprodução deste material apenas para fins didáticos, desde que citada a fonte.

- Nas questões de 1 a 40, marque, em cada uma, a única opção correta, de acordo com o respectivo comando. Para as devidas marcações, use a **folha de respostas**, único documento válido para a correção das suas provas.
- Nos itens que avaliam **Noções de Informática**, a menos que seja explicitamente informado o contrário, considere que todos os programas mencionados estão em configuração-padrão, em português, que o *mouse* está configurado para pessoas destros e que expressões como clicar, clique simples e clique duplo referem-se a cliques com o botão esquerdo do *mouse*. Considere também que não há restrições de proteção, de funcionamento e de uso em relação aos programas, arquivos, diretórios e equipamentos mencionados.

CONHECIMENTOS BÁSICOS

QUESTÃO 1

1 O escritor Mário Palmério morreu fascinado pela
 4 Amazônia. Durante muitos anos viveu sobre os rios Negro e
 7 Solimões, atraído pela vida dos caboclos, e realizou pesquisas
 10 sobre a flora e a fauna da região. Dizia que, na confluência do
 espírito europeu com o espírito dos índios da floresta, ocorria
 o que ocorre no encontro das águas do Negro com as do
 Solimões: os dois cursos seguem paralelos e vão, pouco a
 pouco, se juntando, para a espetacular explosão da pororoca
 quando chegam ao Atlântico. Escritores do talento de
 Palmério fazem da mente seu caleidoscópio: as idéias se
 refletem umas sobre as outras, desenhando, nas figuras
 geométricas, hipóteses surpreendentes. Mário disse que
 um dia o Brasil seria como o Amazonas em sua foz: de uma
 só cor. “Nesse dia” — disse, com a profecia no sorriso —
 “o Brasil fecundará o mundo como o Amazonas fecunda o
 16 Atlântico: com os estrondos do choque”.

Mauro Santayana. In: *Jornal do Brasil*, 26/11/2006, p. A2 (com adaptações).

Em relação ao texto acima, julgue os itens seguintes.

- O texto é uma narrativa em primeira pessoa, na qual o autor interfere subjetivamente.
- É possível inferir da expressão “viveu sobre os rios” (l.2) que o escritor vivia em um barco.
- Na expressão “com as do Solimões” (l.6-7), utiliza-se o recurso coesivo denominado elipse, ficando subentendida a palavra **águas**.
- O termo “como”, tanto na linha 13 quanto na linha 15, tem a função de estabelecer, nos períodos, relação de comparação.

A quantidade de itens certos é igual a

- A** 1. **B** 2. **C** 3. **D** 4.

QUESTÃO 2

Cientistas brasileiros e indianos contestaram a tese de que as florestas tropicais seriam o “pulmão do mundo”, exibindo pesquisas nas quais se mostra que um hectare de gramínea absorve mais carbono do que vários hectares das grandes latifoliáceas, e que cabe aos plânctons da superfície marinha a liberação de quase todo o oxigênio que o mundo consome. O efeito estufa nada tem a ver com a cobertura vegetal do solo. É claro que o solo deve estar coberto, mas são as queimadas e o uso de combustíveis fósseis que estão mudando o clima do mundo. Devemos nos preocupar muito mais com os oceanos do que com as florestas.

Idem, ibidem.

Quanto às idéias do texto acima, assinale a opção correta.

- A tese de que as florestas tropicais seriam o “pulmão do mundo” é defendida por cientistas brasileiros e indianos.
- Subentende-se das informações do texto que as florestas ainda são o elemento que mais absorve carbono e libera oxigênio.
- É correto inferir das informações do texto a idéia de que a substituição das florestas por plantações é que provoca o efeito estufa.
- De acordo com o texto, os oceanos devem concentrar nossa atenção porque os plânctons da superfície marinha liberam oxigênio.

QUESTÃO 3

1 Só algumas crianças (as que não vasculham os sítios da
 Internet) acreditam que os países ricos, que nos enviam suas
 ONGs e seus técnicos, estão preocupados com o nosso bem-
 4 estar. Estão preocupados, sim, em preservar áreas virgens
 para seu benefício futuro. Contam com elas, se lhes for
 cortado o suprimento de óleo e gás do Oriente Médio. Hoje,
 7 lhes interessa proclamar que as grandes árvores amazônicas
 são os alvéolos pulmonares do planeta. Amanhã, quando lhes
 convier, seus cientistas concluirão que o caule e as folhas da
 10 cana-de-açúcar são muito mais eficientes para a
 transformação do carbono em oxigênio e energia. Enquanto
 isso, sem que ajamos em defesa de nosso território, eles vão
 13 comprando, a preço de qualquer coisa, vastas áreas da Hiléia.
 Por tudo isso, convém-nos, sem manifestações históricas de
 xenofobia, exercer autoridade soberana sobre nosso espaço
 16 geográfico.

Idem, ibidem (com adaptações).

Com referência ao texto acima, assinale a opção **incorreta**.

- O emprego de primeira pessoa do plural em “nos” (l.2) “nosso” (l.3), “ajamos” (l.12) e “convém-nos” (l.14) indica que o autor incluiu o leitor nas afirmações do texto.
- A expressão “seu benefício” (l.5) refere-se a “ONGs e seus técnicos” (l.3).
- A substituição de “lhes interessa” (l.7) pela expressão **interessa a eles** mantém a correção gramatical e as informações originais do período.
- A palavra “xenofobia” (l.15) está sendo empregada com o sentido de aversão ao estrangeiro.

QUESTÃO 4

1 Na hora da Abolição, o Império do Brasil disfarçou a
 sua derrota atribuindo o fim da escravidão ao gesto
 magnânimo da princesa. Mas os historiadores reconstituíram
 4 a narrativa que se queria ocultar, lançando luz sobre a
 primeira grande luta social de caráter nacional no Brasil.
 Nessa luta, líderes de todas as cores mobilizaram o povo em
 7 torno da exigência de igualdade perante a lei. Os clubes
 abolicionistas, as fugas de escravos, com auxílio dos
 ferroviários, a greve seletiva dos tipógrafos, que não
 10 imprimiam os manifestos escravistas, a recusa dos jangadeiros
 cearenses de transportar cativos derrotaram a escravidão e
 destruíram os alicerces do Império.

Demétrio Magnoli. In: *O Globo*, 30/11/2006.

Com base nas idéias e estruturas lingüísticas do texto acima, assinale a opção **incorreta**.

- Depreende-se da leitura do texto que o movimento a favor da abolição da escravatura foi a primeira grande luta social de caráter nacional no Brasil.
- Subentende-se do texto que o Império queria ocultar a verdadeira história da abolição dos escravos no Brasil.
- Na linha 2, a presença de preposição em “ao gesto” justifica-se pela regência de “derrota”.
- O emprego de vírgula após “abolicionistas” (l.8) justifica-se por separar elementos de mesma função gramatical componentes de uma enumeração.

QUESTÃO 5

1 As enchentes urbanas vêm fazendo parte, com
 2 freqüência, da rotina dos habitantes das grandes cidades,
 3 tendo como principal causa o próprio processo de
 4 urbanização. Nas grandes cidades brasileiras, pode-se
 5 constatar a ocupação desordenada do solo urbano, a
 6 remoção da cobertura vegetal da bacia hidrográfica, com
 7 a conseqüente impermeabilização da superfície, a
 8 ocupação de grandes extensões de várzeas naturalmente
 9 inundáveis, além do aumento na geração de lixo e esgoto
 10 sanitário, coletados e tratados inadequadamente. Todos
 11 esses fatores modificam e causam impactos no sistema de
 12 drenagem natural, que sofre também alterações diretas
 13 pela implantação de canais artificiais. A conseqüência é
 14 o aumento da freqüência, da magnitude, da rapidez e do
 15 tempo de permanência das cheias que têm causado
 16 prejuízos às cidades.

Marcelo Miguez e Flávio César Borba Mascarenhas.
 In: O Globo, 30/11/2006 (com adaptações).

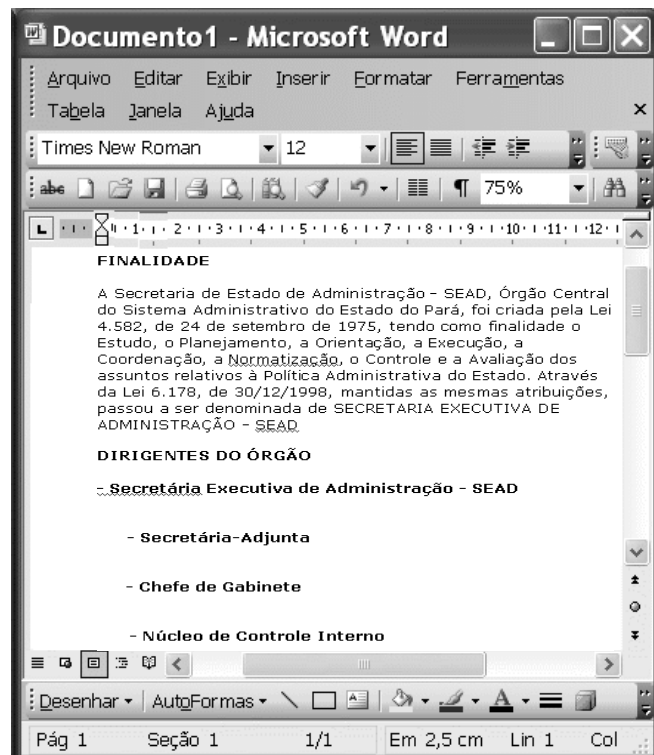
Com base no texto acima, assinale a opção correta.

- A O nível de linguagem e o estilo adotados no texto, pela objetividade e clareza, são adequados para a elaboração de textos de correspondência oficial.
- B Em “pode-se” (l.4), o “se” tem natureza reflexiva.
- C O emprego da vírgula após “natural” (l.12) justifica-se porque a oração subsequente é restritiva.
- D Na linha 16, o emprego de sinal indicativo de crase em “às cidades” justifica-se pela regência de “têm” e pela presença de artigo feminino plural.





QUESTÃO 6

No Windows XP, o Windows Explorer é um

- A *software* que permite a navegação na Internet.
- B *software* que permite a edição de textos e planilhas eletrônicas.
- C recurso que possibilita a organização de sítios favoritos.
- D *software* que permite a visualização de pastas e arquivos de forma organizada.

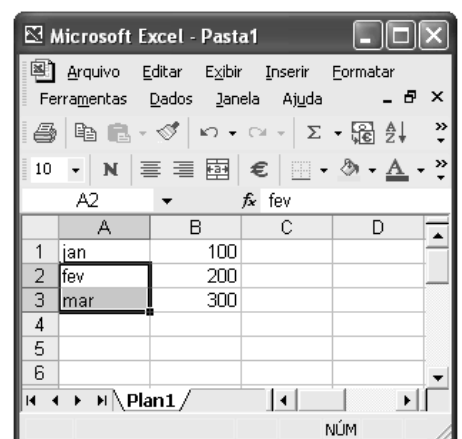
QUESTÃO 7



Considerando a figura acima, que mostra um documento em edição no Word 2003, assinale a opção correta.

- A O recurso  permite aumentar o recuo do subtítulo **Secretária-Adjunta**.
- B Para se justificar o primeiro parágrafo, é suficiente selecioná-lo e clicar .
- C Para se centralizar o título FINALIDADE, é suficiente selecioná-lo e clicar .
- D O recurso  permite corrigir a grafia das palavras do texto.

QUESTÃO 8

A figura ao lado ilustra uma janela minimizada que mostra o início da edição de uma planilha no Excel 2002. Considerando essa planilha, assinale a opção correta.



- A A fórmula para somar os três valores numéricos mostrados na coluna B da planilha é $=+B1*B2*B3$.
- B Ao se selecionar as células A2 e A3 e arrastar a alça de preenchimento até a célula A6, será apresentado: abr, mai e jun.
- C Para se centralizar cada um dos números nas respectivas células, é suficiente selecionar todas as células e clicar .
- D Para se calcular o valor médio dos números apresentados, é suficiente selecioná-los e clicar .

QUESTÃO 9

Com base na figura acima, que ilustra uma página do serviço de atendimento ao cidadão do estado do Pará, e nos conceitos referentes ao Internet Explorer 6 (IE6), assinale a opção correta.

- A No menu **Arquivo**, é possível salvar a página para que possa haver navegação no modo *offline*.
- B Não seria possível salvar a página porque ela ficaria estática.
- C Para que a página seja guardada como favorita, é necessário antes salvá-la.
- D Ao colocar a página como página inicial, ela é salva na pasta Meus documentos.

QUESTÃO 10

Usando-se o Outlook Express, **não** é possível

- A catalogar contatos.
- B enviar arquivos anexos.
- C eliminar qualquer tipo de vírus oculto em mensagens.
- D bloquear mensagens de *e-mail* indesejadas.

QUESTÃO 11

Os princípios da administração pública direta, indireta ou fundacional, definidos no *caput* do artigo 37 da Constituição Federal, são

- A hierarquia, legalidade, impessoalidade, moralidade e eficiência.
- B hierarquia, legalidade, publicidade, universalidade e eficácia.
- C legalidade, impessoalidade, moralidade, publicidade e eficiência.
- D impessoalidade, legalidade, moralidade, efetividade e discricionariedade.

QUESTÃO 12

Acerca dos poderes inerentes à administração pública, assinale a opção correta.

- A O poder regulamentar é caracterizado pela competência da administração pública para apurar infrações e aplicar sanções aos servidores públicos e demais pessoas que possuam vínculo especial com o poder público.
- B Poder hierárquico é o de que dispõe o Poder Executivo para distribuir e escalonar as funções de seus órgãos, além de estabelecer a relação de subordinação entre os servidores do seu quadro de pessoal.
- C O poder disciplinar confere ao chefe do Poder Executivo da União, dos estados e dos municípios competência para editar normas complementares às leis, como forma de garantir a sua fiel execução.
- D A Constituição Federal garante ao Estado, em algumas circunstâncias, que ele faça uso de seu poder disciplinar sem garantir, aos litigantes, o contraditório e a ampla defesa.

QUESTÃO 13

Com referência ao ato administrativo, assinale a opção **incorreta**.

- A** São consideradas atributos do ato administrativo a presunção de legitimidade, a imperatividade e a auto-executoriedade.
- B** Convalidação é um ato produzido pela administração pública com vistas a suprir vícios sanáveis em ato ilegal, com efeitos retroativos ao momento de sua expedição, em decisão em que se evidencie não serem acarretados prejuízos a terceiros ou ao interesse público.
- C** O ato é vinculado quando a lei estabelece que, em determinadas circunstâncias, a administração deve agir de maneira preestabelecida, sem margem de escolha para as autoridades, e é considerado discricionário quando a lei define alguma margem de escolha quanto à sua aplicabilidade, facultando à autoridade constituída, segundo critérios de conveniência e oportunidade, a escolha da melhor alternativa, dados os limites legais para o interesse público.
- D** A revogação, que é a extinção do ato administrativo discricionário, por questão de mérito, feita pela administração pública, produz eficácia retroativa sobre os efeitos produzidos no passado.

QUESTÃO 14

A respeito de desapropriação, assinale a opção **incorreta**.

- A** Compete à União, aos estados, ao Distrito Federal e aos municípios desapropriar, por interesse social para fins de reforma agrária, o imóvel rural que não esteja cumprindo sua função social, mediante prévia e justa indenização.
- B** A desapropriação pode incidir sobre bens móveis ou imóveis.
- C** A Constituição Federal distingue três espécies de desapropriação: a desapropriação ordinária, a desapropriação para reforma urbana e a desapropriação para reforma agrária.
- D** No caso de desapropriação para fins da reforma agrária, a indenização deve ser justa e prévia, devendo o pagamento das terras desapropriadas ser feito em títulos da dívida agrária e o valor das benfeitorias úteis e necessárias, indenizado em dinheiro.

QUESTÃO 15

No tocante à Lei de Licitações (Lei n.º 8.666/1993), assinale a opção correta.

- A** Essa lei não considera o treinamento e aperfeiçoamento de pessoal em serviços técnicos profissionais especializados.
- B** As empresas públicas não estão subordinadas ao regime dessa lei.
- C** Concorrência, tomada de preços, convite, concurso e leilão são modalidades de licitação.
- D** Essa lei define empreitada por preço global como a obra ou serviço por preço certo de unidades determinadas.

QUESTÃO 16

Em 1985, com a eleição indireta de Tancredo Neves e José Sarney, chegou ao fim o regime militar instaurado vinte e um anos antes. De lá para cá, o país consolidou a democracia política e obteve estabilidade econômica, embora apresente baixos índices de crescimento e elevada desigualdade. Relativamente ao cenário político brasileiro contemporâneo, assinale a opção **incorreta**.

- A** A Constituição de 1988, marco jurídico-político da nova ordem democrática, é assinalada pela ênfase dada aos direitos e deveres individuais e coletivos.
- B** O primeiro presidente eleito pelo voto direto, após o período autoritário, Fernando Collor, não completou seu mandato, afastado que foi por *impeachment*.
- C** Emenda constitucional aprovada durante o primeiro mandato de Fernando Henrique Cardoso instituiu a reeleição para o cargo de chefe do Poder Executivo.
- D** Ainda vigora no Brasil o bipartidarismo, herança do regime militar que a redemocratização ainda não conseguiu afastar.

QUESTÃO 17

Fruto de uma longa história, que em muito antecede a colonização européia, o Brasil é um país culturalmente rico e diversificado, que acolhe povos e outras culturas. De um amplo conjunto de elementos e influências, a nação constrói sua identidade. No que concerne às manifestações culturais brasileiras, assinale a opção **incorreta**.

- Ⓐ Independentemente do juízo que se faça de sua programação, a televisão desempenha importante papel como veículo de entretenimento e de informação.
- Ⓑ A arquitetura moderna mundial tem no Brasil uma de suas maiores referências, haja vista a projeção alcançada por profissionais como Oscar Niemeyer.
- Ⓒ O Nobel de Literatura conferido ao poeta Carlos Drummond de Andrade é o reconhecimento mais evidente da pujança literária brasileira.
- Ⓓ O samba é o ritmo característico do Brasil. A bossa nova, sobretudo, tornou mais conhecida internacionalmente a música popular brasileira.

QUESTÃO 18

Entre os elementos que melhor caracterizam a economia internacional contemporânea, certamente se destacam os que se referem ao quadro geral determinado pela globalização. A esse respeito, é correto afirmar que o atual cenário mundial é assinalado pela

- Ⓐ incessante aplicação das inovações tecnológicas no sistema produtivo, o que leva ao aumento da capacidade de produção e de comercialização de bens e mercadorias.
- Ⓑ redução das facilidades de circulação de capitais pelos mercados mundiais como forma de impedir práticas criminosas, como a lavagem de dinheiro.
- Ⓒ expansão do conhecimento e do desenvolvimento científico-tecnológico, simetricamente repartidos pelos diversos continentes.
- Ⓓ formação de blocos econômicos regionais, exceto na velha Europa, marcada por nacionalismos e incompreensões recíprocas entre seus países.

QUESTÃO 19

Historicamente, o Brasil caracterizou-se por ser uma sociedade essencialmente rural. Esse quadro começou a ser alterado rapidamente a partir dos anos 30 do século XX e, sobretudo, do pós-Segunda Guerra Mundial. Industrialização e urbanização conduziram a radical transformação da fisionomia brasileira. No que se refere a esse processo histórico, assinale a opção **incorreta**.

- Ⓐ A moderna urbanização brasileira se fez de forma razoavelmente planejada e contemplou, de forma equânime e simultânea, as diversas regiões do país.
- Ⓑ Foi intenso o movimento interno da população, marcado pelo expressivo êxodo rural em direção aos centros urbanos.
- Ⓒ A construção de Brasília, com a transferência da capital para o planalto central, também se vinculou ao projeto de interiorização do desenvolvimento brasileiro.
- Ⓓ Entre as conquistas do Brasil que se urbanizou está a universalização, praticamente assegurada, do acesso ao ensino fundamental.

QUESTÃO 20

A preocupação com o meio ambiente é um dos traços definidores do mundo contemporâneo. Assim como ocorre no Brasil, em muitos países e regiões do planeta, Estado e sociedade se mobilizam no sentido de adequar o necessário desenvolvimento à manutenção de satisfatórias condições ambientais. Relativamente a esse tema, assinale a opção correta.

- Ⓐ Voltada para as questões de segurança, que colocam em risco a paz mundial, a Organização das Nações Unidas (ONU) ainda não atentou para a necessidade de atuar na delicada área do meio ambiente.
- Ⓑ Uma das maiores críticas que a comunidade internacional faz ao Brasil é a inexistência, na estrutura do Estado brasileiro, de algum órgão voltado especificamente para o trato das questões ambientais.
- Ⓒ As poucas organizações não-governamentais (ONGs) que atuavam em escala mundial na área do meio ambiente foram desativadas recentemente graças às pressões dos Estados nacionais, que se sentiam atingidos em sua soberania.
- Ⓓ O aquecimento global da atmosfera terrestre, conhecido como efeito estufa, tem provocado o aumento de intensidade de fenômenos naturais que acarretam diversos e graves problemas, além de preocupantes variações climáticas.

CONHECIMENTOS ESPECÍFICOS

QUESTÃO 21

A respeito do estudo do comportamento do consumidor, que constitui fundamentação teórica para a análise da demanda de mercado, assinale a opção correta.

- Ⓐ Supondo que biodiesel e gasolina sejam bens substitutos, então, em resposta a uma queda no preço do biodiesel, tanto o efeito renda como o efeito substituição contribuirão para aumentar a demanda de biodiesel, sem alterar a procura de gasolina.
- Ⓑ Se, para determinado consumidor, passagens aéreas e diárias de hotel são bens complementares, então, para esse consumidor, as curvas de indiferença são linhas retas.
- Ⓒ Nos restaurantes que servem refeições por quilo, no equilíbrio, os clientes consomem os alimentos disponíveis até o ponto em que a utilidade marginal é zero, de forma a maximizar sua utilidade total.
- Ⓓ Para determinada restrição orçamentária, quando a utilidade marginal por real gasto, no consumo de dois bens quaisquer, difere, o consumidor poderia aumentar sua satisfação, expandindo o consumo do bem que apresentasse maior utilidade por real gasto e reduzindo o consumo daquele que tivesse menor utilidade marginal por real despendido.

QUESTÃO 22

A análise da oferta e da demanda, que estuda as interações entre vendedores e compradores em uma economia de mercado, constitui o cerne do estudo dos fenômenos econômicos. A esse respeito, assinale a opção correta.

- Ⓐ O uso de técnicas de produção em massa, ao reduzir a quantidade de trabalho necessária à produção de jogos de computador, provoca aumento da quantidade produzida, que se reflete em deslocamento ao longo da curva de oferta desse tipo de *software*.
- Ⓑ Estudos e pesquisas que sugerem que o consumo de nozes reduz as taxas de colesterol contribuem para aumentar a demanda e reduzir o preço desse produto.
- Ⓒ Se, em razão de aumento da renda dos consumidores, a demanda pelos produtos da cesta básica for reduzida, então a elasticidade-renda desses produtos é negativa, caracterizando-os como bens inferiores.
- Ⓓ A crise recente no controle do espaço aéreo brasileiro — o chamado apagão aéreo —, ao aumentar a procura por viagens rodoviárias e reduzir a demanda por passagens aéreas, estabelece uma relação de complementaridade entre esses dois tipos de transporte.

QUESTÃO 23

Em relação à teoria da produção e dos custos, assinale a opção correta.

- Ⓐ No Vale do Silício, na Califórnia, onde se localiza a indústria de tecnologia da informação, o aumento dos salários dos engenheiros e a alta do custo de moradia fazem com que, nessa indústria, a curva de oferta de longo prazo seja positivamente inclinada.
- Ⓑ No curto prazo, enquanto a produção estiver aumentando, o custo médio variável decresce, de modo inequívoco.
- Ⓒ Ao longo de uma isoquanta, as produtividades marginais dos fatores produtivos são constantes, porém, a taxa marginal de substituição técnica entre esses fatores é decrescente.
- Ⓓ A escala mínima eficiente de produção é aquela em que prevalecem as deseconomias de escala.

QUESTÃO 24

Nas economias de mercado, o estudo do ambiente de mercado é fundamental à compreensão da determinação dos preços. Acerca desse assunto, assinale a opção correta.

- Ⓐ Tanto as empresas competitivas, como as firmas que atuam em mercados monopolistas, apresentam lucros econômicos puros, no longo prazo, em virtude de não haver substituto para os produtos transacionados nesses mercados.
- Ⓑ A existência de economias crescentes de escala explica porque os serviços de abastecimento de água e esgotamento sanitário, no Pará, são providos pela Companhia de Saneamento do Estado do Pará (COSANPA), que funciona como um monopólio natural.
- Ⓒ Embora os mercados oligopolistas sejam produtivamente eficientes, já que neles as firmas produzem no ponto mínimo de sua curva de custo médio, eles não apresentam eficiência alocativa porque fixam os preços acima do custo marginal.
- Ⓓ A existência de acordo entre concorrentes, seja para fixar margens de lucro, descontos ou aumentos simultâneos de preços, não define a cartelização do mercado e, portanto, tal conduta não é passível de punição pelos organismos de defesa da concorrência.

QUESTÃO 25

Tendo como referência os conceitos básicos da teoria macroeconômica, que estuda a mensuração bem como o comportamento dos grandes agregados econômicos, assinale a opção correta.

- Ⓐ No produto interno bruto (PIB) brasileiro, contabilizam-se tanto os computadores Dell, fabricados no Brasil, como o *chip* Intel Pentium, que integra esses mesmos computadores.
- Ⓑ Nos modelos macroeconômicos em que os preços são rígidos, o produto é determinado pela capacidade produtiva da economia, e a curva de demanda determina apenas o nível de preços.
- Ⓒ Na visão monetarista, como a velocidade da moeda é constante, um aumento no estoque monetário conduzirá a um aumento permanente do produto real da economia.
- Ⓓ Os economistas clássicos acreditam que o desemprego é provocado pelo excesso de oferta causado pelo preço elevado do fator trabalho.

QUESTÃO 26

Com relação às curvas IS e LM, que permitem analisar diferentes situações macroeconômicas, assinale a opção correta.

- Ⓐ O aumento recente das exportações agroindustriais do Brasil para os países árabes desloca a curva IS para baixo e para a esquerda, expandindo, assim, a demanda agregada da economia brasileira.
- Ⓑ Ao longo da curva LM, as despesas planejadas são iguais às despesas efetivamente realizadas.
- Ⓒ A correção da tabela de descontos do imposto de renda das pessoas físicas para levar em conta a inflação, em 2007, conforme anunciado pelo governo, por aumentar a renda disponível dos contribuintes, desloca a curva IS para cima e para a direita.
- Ⓓ Na interseção das curvas IS e LM, os níveis de produção e de taxas de juros satisfazem a condição de equilíbrio do mercado de bens, porém, nessa interseção, o desequilíbrio no mercado monetário faz com que a oferta real de moeda seja superior à demanda real de moeda.

QUESTÃO 27

Suponha que uma economia possa ser descrita pelas seguintes relações: $C = 170 + 0,6 \times (Y - T)$, em que C representa o consumo, Y é a renda; $I = 250$ representa o investimento; $G = 300$ é o gasto público e $T = 200$ é a tributação. Acerca dessa economia e com base nos dados apresentados, é correto afirmar que

- Ⓐ o multiplicador monetário é igual a 1,6667.
- Ⓑ as despesas autônomas de consumo elevam-se a 780.
- Ⓒ um aumento de 30 nas despesas públicas, via efeito multiplicador, eleva o produto em 50.
- Ⓓ o nível de equilíbrio do produto é 1.500.

QUESTÃO 28

Em relação ao modelo keynesiano, assinale a opção correta.

- Ⓐ A instabilidade macroeconômica é provocada pela volatilidade dos gastos de investimentos, que desloca a curva de oferta agregada.
- Ⓑ Os mais importantes determinantes do consumo são a riqueza do consumidor e a taxa de juros.
- Ⓒ A curva de oferta agregada, no longo prazo, é vertical no nível de produção que garante o pleno emprego.
- Ⓓ *Ceteris paribus*, uma redução das taxas de juros reais resultará em diminuição da produção e do emprego.

RASCUNHO**QUESTÃO 29**

Com referência às políticas fiscais e monetárias, que constituem importante instrumento da ação do governo para a estabilização econômica, assinale a opção correta.

- Ⓐ Os adeptos da teoria das expectativas racionais afirmam que políticas monetárias discricionárias são ineficazes para reduzir a instabilidade macroeconômica e, a exemplo dos monetaristas, advogam o uso de regras para reduzir a intervenção do governo na economia.
- Ⓑ Se uma economia aberta estiver, inicialmente, no seu equilíbrio de longo prazo, uma política fiscal expansionista desloca a curva IS para cima e para a direita e, portanto, aumenta, permanentemente, o nível de produção e de emprego.
- Ⓒ Quando a demanda de moeda é relativamente inelástica em relação à taxa de juros, a curva LM será horizontal e mudanças na política fiscal terão grande impacto sobre a renda real da economia.
- Ⓓ Em uma pequena economia aberta, na qual as taxas de câmbio sejam flutuantes, a política monetária será menos efetiva porque os aumentos nos gastos públicos serão compensados pela queda das exportações líquidas.

QUESTÃO 30

A respeito da análise do papel desempenhado pela moeda e pelos mercados de crédito, crucial para o entendimento da realidade econômica, assinale a opção correta.

- Ⓐ Considerando que as reservas de determinado banco comercial sejam de R\$ 9.000,00, que o passivo desse banco seja de R\$ 30.000,00 e que a taxa de reservas obrigatórias seja igual a 20%, então esse banco possui R\$ 3.000,00 em excessos de reservas.
- Ⓑ Recentemente, a retomada da popularidade da caderneta de poupança, por expandir o agregado monetário M1, contribuiu para aumentar a oferta de moeda e reduzir as taxas de juros.
- Ⓒ A demanda de moeda é negativamente inclinada porque, quanto menor for a taxa de juros, maior será o custo de oportunidade de detenção de moeda e, portanto, mais elevada será a quantidade de moeda demandada pelos agentes econômicos.
- Ⓓ A demanda de moeda para transações — que decorre da necessidade de os agentes econômicos reterem moeda para financiar suas despesas, já que recebimentos e pagamentos não são sincronizados — varia inversamente à variação do PIB.

QUESTÃO 31

A respeito dos processos inflacionários, assinale a opção correta.

- Ⓐ Inflações não-antecipadas prejudicam, particularmente, os agentes econômicos que se endividaram quando os preços eram mais baixos.
- Ⓑ Choques adversos, como, por exemplo, a substancial elevação do preço do petróleo desencadeada pela guerra do Iraque, reduzem a oferta agregada, provocando, assim, aumentos tanto da inflação como do desemprego.
- Ⓒ Aumentos na produção e no emprego contribuem para desencadear a inflação de custos.
- Ⓓ Quando o Banco Central decide reduzir o estoque monetário para combater a inflação, ocorre, simultaneamente, redução das taxas de juros e dos níveis de investimento.

QUESTÃO 32

A respeito do conhecimento do processo de crescimento, fundamental para se entender o funcionamento das economias em desenvolvimento, assinale a opção correta.

- Ⓐ A adoção de políticas antidiscriminatórias na educação e no mercado de trabalho, ao favorecer a mobilidade da mão-de-obra, aumenta a produtividade do trabalho e constitui, assim, uma melhoria da alocação de recursos na economia.
- Ⓑ Investimentos públicos em infra-estrutura, como estradas e portos, constituem uma forma de investimento público que substitui o investimento em bens de capital, do setor privado.
- Ⓒ Uma redução na taxa de esgotamento dos recursos naturais constitui fator de oferta para o crescimento econômico.
- Ⓓ A evidência empírica mostra que, nos últimos 30 anos, os gastos com pesquisa e desenvolvimento declinaram fortemente nos países ricos e aumentaram nos países pobres, reduzindo, assim, o diferencial de renda entre esses países.

QUESTÃO 33

A respeito do comércio entre países, tópico significativo das economias, assinale a opção correta.

- Ⓐ Os ganhos do comércio derivam das vantagens comparativas, que se baseiam na similaridade dos custos de oportunidade, na produção de bens e serviços, nos diferentes países.
- Ⓑ Segundo o modelo de Heckscher-Ohlin, tanto os proprietários do fator de produção escasso como aqueles que detêm o fator de produção abundante, ganham com o comércio internacional.
- Ⓒ O crescimento voltado para as exportações contribui para melhorar os termos de troca do país em detrimento do resto do mundo.
- Ⓓ A redução das taxas de poupança observada nos Estados Unidos da América contribuiu para a persistência do *deficit* comercial nesse país.

QUESTÃO 34

Ainda com relação ao comércio internacional, assinale a opção correta.

- Ⓐ Despesas dos residentes no Brasil, relacionadas com viagens internacionais, aluguel de equipamentos, seguros, *royalties* e licenças são contabilizadas a débito na balança comercial brasileira.
- Ⓑ Entre os argumentos a favor da adoção de taxas de câmbio flutuantes, cita-se o fato de que, mesmo na ausência de uma política monetária ativa, o ajuste mais rápido das taxas de câmbio, determinadas no mercado, ajudaria a equilibrar a demanda agregada, funcionando, pois, como estabilizador automático.
- Ⓒ Políticas protecionistas implementadas por meio de quotas e outras restrições ao comércio direcionam os recursos produtivos para os setores econômicos relativamente mais eficientes e, portanto, expandem a fronteira de possibilidades da economia.
- Ⓓ A imposição de tarifas protege os trabalhadores domésticos porque expande o emprego nos setores que competem com as importações, contribuindo, assim, para aumentar o nível de bem-estar no conjunto da economia.

QUESTÃO 35

A globalização do espaço econômico e o surgimento de blocos econômicos tornam importante o entendimento das instituições que regem as relações econômicas entre países. A esse respeito, assinale a opção correta.

- Ⓐ O Fundo Monetário Internacional (FMI), além de emprestar recursos aos países com problemas no balanço de pagamento, também provê assistência técnica e financiamento temporário à implementação de políticas que visam corrigir os referidos problemas.
- Ⓑ Recentemente, a busca por acordos de livre comércio bilaterais por muitos países deve-se ao rápido avanço das negociações no âmbito da Organização Mundial do Comércio, no intuito de liberalizar o comércio multilateral.
- Ⓒ Nas áreas de livre comércio, além da isenção das tarifas sobre os produtos comercializados entre os países membros, inclui-se também a criação de regras comuns para o comércio com países exteriores ao bloco bem como a unificação das economias e do padrão monetário.
- Ⓓ As elevadas taxas de juros, que prevalecem nos países avançados, estimulam os investidores dos países emergentes a aplicar seus recursos no mercado de capital global, contribuindo, assim, para agravar os problemas de balanço de pagamentos que assolam esses países.

QUESTÃO 36

A respeito das finanças públicas, cuja análise é importante para investigar o desempenho do setor público, assinale a opção correta.

- A As necessidades de financiamento do setor público (NFSP), que representam o montante de recursos que o setor público não-financeiro necessita captar no mercado para financiar seus gastos líquidos — dos quais se descontam as receitas fiscais —, são apuradas apenas para as operações que envolvem o governo federal.
- B De acordo com a teoria da Curva de Laffer “monetária”, quando a expansão monetária é muito elevada, a redução dos saldos reais decorrente dessa expansão é cada vez maior, o que restringe o crescimento da senhoriagem, que pode, inclusive, ser reduzida.
- C Quanto maiores forem a taxa de crescimento da economia e o *superavit* primário, menor será a razão da dívida pública em relação ao PIB e, portanto, menor será a sustentabilidade do endividamento público, no longo prazo.
- D No Brasil, as reformas recentes do setor público, além de redefinirem o papel do Estado na economia, vão no sentido de reduzir o tamanho do governo. Essas reformas excluem tentativas de racionalização, controle financeiro e administrativo do setor público.

QUESTÃO 37

A respeito da economia brasileira contemporânea, cujo estudo é fundamental para o entendimento dos problemas enfrentados pelo país, assinale a opção correta.

- A A mudança do regime cambial, ocorrida no início de 1999, quando se passou de um regime com câmbio fixo para um regime com câmbio flutuante, caracterizado por forte desvalorização do real, contribuiu para aumentar fortemente as exportações brasileiras, gerando grandes *superavits* na balança comercial.
- B A concentração da renda que ocorreu no período do “milagre econômico” explica-se, em parte, pela demanda crescente por mão-de-obra qualificada, de oferta relativamente escassa, fazendo que os ganhos dos profissionais mais qualificados aumentassem em relação àqueles dos trabalhadores não-especializados, de oferta abundante.
- C As reformas introduzidas no âmbito do Plano Collor incluem o maior controle sobre os bancos estaduais, a abertura comercial, bem como a adoção do regime de câmbio fixo.
- D Durante a década passada, observaram-se, simultaneamente, um aumento considerável da pobreza e um aumento significativo das desigualdades, refletido pelo crescimento do índice de Gini, que, nessa época, atingiu seu nível máximo.

QUESTÃO 38

A respeito do orçamento público, peça fundamental para a análise das contas públicas, assinale a opção correta.

- A No que tange à distribuição de competências, a Constituição de 1988 reduziu drasticamente a participação do Poder Legislativo nas discussões sobre matéria orçamentária, limitando essa participação à primeira fase do ciclo orçamentário, em que se definem as prioridades do Plano Plurianual.
- B A Constituição de 1988, ao dispor que o orçamento geral da União passa a integrar o orçamento fiscal, o orçamento da seguridade social e o orçamento de investimento das empresas estatais, reforça o princípio orçamentário da exclusividade.
- C Na classificação funcional da despesa, o fato de as subfunções poderem ser combinadas com funções diferentes daquelas a que estejam vinculadas possibilita a consolidação nacional das despesas públicas.
- D O orçamento por desempenho difere do orçamento-programa, por sua vinculação com o planejamento econômico, atributo ausente no orçamento-programa.

QUESTÃO 39

A ação do Estado tem sido crucial para garantir a produção eficiente e equitativa de bens públicos, bem como dos bens privados ofertados pelo setor público. Por essa razão, é importante estudar a economia do setor público. Acerca desse assunto, assinale a opção correta.

- A A provisão de iluminação pública, por ser um serviço cujo consumo é não-excludente e não-rival, constitui um exemplo de bem público puro.
- B Garantir o fornecimento de bens meritórios, como o uso obrigatório do cinto de segurança e a imposição de nível mínimo de escolaridade, é típico da função distributiva do Estado.
- C No Brasil, o imposto sobre circulação de mercadorias e serviços (ICMS), de competência dos estados e do Distrito Federal, é um imposto de caráter proporcional porque seu ônus fiscal recai uniformemente sobre todos os contribuintes.
- D Segundo a lei de Wagner, a redução observada nos gastos públicos nos países em desenvolvimento deve-se ao aumento da renda desses países, que leva à substituição dos serviços públicos pelos seus equivalentes privados, de maior qualidade.

QUESTÃO 40

Um bom desempenho do município, incluindo-se aí a gestão das finanças públicas, particularmente no que diz respeito ao orçamento, é fundamental para o avanço do processo de descentralização no Brasil. A respeito desse assunto, assinale a opção correta.

- A A participação das transferências na receita bruta total é significativamente mais elevada para as municipalidades maiores, visto que parte substancial dessas transferências aumenta com o tamanho da população.
- B A Lei de Diretrizes Orçamentárias — que estabelece as metas e as prioridades da administração municipal contempladas no Plano Plurianual de Investimentos para o exercício subsequente — contém o orçamento fiscal do poder municipal, incluindo-se aí todos os demonstrativos de receitas e despesas.
- C Os instrumentos de planejamento municipal incluem a Lei Orgânica Municipal, a lei de parcelamento do solo e a lei de zoneamento.
- D O PIB municipal não entra na composição do índice de desenvolvimento urbano municipal (IDH-M) e, por essa razão, esse índice não leva em conta o nível de renda do município.