

GOVERNO DO ESTADO DO PARÁ

Polícia Civil do Estado do Pará (PCPA)

Concurso Público

Nível Superior

Aplicação: 21/1/2007

Cargo 16: Técnico em Gestão Pública
Formação: Ciências Contábeis

MANHÃ

CESPE
UNIVERSIDADE DE BRASÍLIA

Caderno P

LEIA COM ATENÇÃO AS INSTRUÇÕES ABAIXO.

- 1 Ao receber este caderno, confira atentamente se o tipo de caderno — Caderno P — coincide com o que está registrado em sua folha de respostas. Em seguida, verifique se ele contém QUARENTA questões, correspondentes às provas objetivas, corretamente ordenadas de 1 a 40.
- 2 Caso o caderno esteja incompleto ou tenha qualquer defeito, solicite ao fiscal de sala mais próximo que tome as providências cabíveis.
- 3 Não utilize lápis, lapiseira, borracha e(ou) qualquer material de consulta que não seja fornecido pelo CESPE/UnB.
- 4 Não se comunique com outros candidatos nem se levante sem autorização do chefe de sala.
- 5 A duração das provas é de **três horas e trinta minutos**, já incluído o tempo destinado à identificação — que será feita no decorrer das provas — e ao preenchimento da folha de respostas.
- 6 Você deverá permanecer obrigatoriamente em sala por, no mínimo, uma hora após o início das provas e poderá levar o seu caderno de provas somente no decurso dos últimos **quinze minutos** anteriores ao horário determinado para o término das provas.
- 7 Ao terminar as provas, chame o fiscal de sala mais próximo, devolva-lhe a sua folha de respostas e deixe o local de provas.
- 8 A desobediência a qualquer uma das determinações constantes no presente caderno ou na folha de respostas poderá implicar a anulação das suas provas.

AGENDA (Datas Prováveis)

- I **23/1/2007**, após as 19 h (horário de Brasília) – Gabaritos oficiais preliminares das provas objetivas: Internet — www.cespe.unb.br/concursos/pcpaadm2006.
- II **24 e 25/1/2007** – Recursos (provas objetivas): exclusivamente no Sistema Eletrônico de Interposição de Recurso, Internet — www.cespe.unb.br/concursos/pcpaadm2006, mediante instruções e formulários que estarão disponíveis nesse endereço.
- III **21/2/2007** – Resultado final das provas objetivas e convocação para avaliação de títulos: Diário Oficial do Estado do Pará e Internet — www.cespe.unb.br/concursos/pcpaadm2006.

OBSERVAÇÕES

- Não serão objeto de conhecimento recursos em desacordo com o item 12 do Edital n.º 1/2006 – SEAD/PCPA-ADM, de 30/10/2006.
- Informações adicionais: telefone 0(XX) 61 3448-0100; Internet — www.cespe.unb.br/concursos/pcpaadm2006.
- É permitida a reprodução deste material apenas para fins didáticos, desde que citada a fonte.

- Nas questões de 1 a 40, marque, em cada uma, a única opção correta, de acordo com o respectivo comando. Para as devidas marcações, use a **folha de respostas**, único documento válido para a correção das suas provas.
- Nos itens que avaliam **Noções de Informática**, a menos que seja explicitamente informado o contrário, considere que todos os programas mencionados estão em configuração-padrão, em português, que o *mouse* está configurado para pessoas destros e que expressões como clicar, clique simples e clique duplo referem-se a cliques com o botão esquerdo do *mouse*. Considere também que não há restrições de proteção, de funcionamento e de uso em relação aos programas, arquivos, diretórios e equipamentos mencionados.

CONHECIMENTOS BÁSICOS

QUESTÃO 1

1 O escritor Mário Palmério morreu fascinado pela
 4 Amazônia. Durante muitos anos viveu sobre os rios Negro e
 7 Solimões, atraído pela vida dos caboclos, e realizou pesquisas
 10 sobre a flora e a fauna da região. Dizia que, na confluência do
 espírito europeu com o espírito dos índios da floresta, ocorria
 o que ocorre no encontro das águas do Negro com as do
 Solimões: os dois cursos seguem paralelos e vão, pouco a
 pouco, se juntando, para a espetacular explosão da pororoca
 quando chegam ao Atlântico. Escritores do talento de
 Palmério fazem da mente seu caleidoscópio: as idéias se
 refletem umas sobre as outras, desenhando, nas figuras
 geométricas, hipóteses surpreendentes. Mário disse que
 um dia o Brasil seria como o Amazonas em sua foz: de uma
 só cor. “Nesse dia” — disse, com a profecia no sorriso —
 “o Brasil fecundará o mundo como o Amazonas fecunda o
 16 Atlântico: com os estrondos do choque”.

Mauro Santayana. In: *Jornal do Brasil*, 26/11/2006, p. A2 (com adaptações).

Em relação ao texto acima, julgue os itens seguintes.

- O texto é uma narrativa em primeira pessoa, na qual o autor interfere subjetivamente.
- É possível inferir da expressão “viveu sobre os rios” (l.2) que o escritor vivia em um barco.
- Na expressão “com as do Solimões” (l.6-7), utiliza-se o recurso coesivo denominado elipse, ficando subentendida a palavra **águas**.
- O termo “como”, tanto na linha 13 quanto na linha 15, tem a função de estabelecer, nos períodos, relação de comparação.

A quantidade de itens certos é igual a

- A** 1. **B** 2. **C** 3. **D** 4.

QUESTÃO 2

Cientistas brasileiros e indianos contestaram a tese de que as florestas tropicais seriam o “pulmão do mundo”, exibindo pesquisas nas quais se mostra que um hectare de gramínea absorve mais carbono do que vários hectares das grandes latifoliáceas, e que cabe aos plânctons da superfície marinha a liberação de quase todo o oxigênio que o mundo consome. O efeito estufa nada tem a ver com a cobertura vegetal do solo. É claro que o solo deve estar coberto, mas são as queimadas e o uso de combustíveis fósseis que estão mudando o clima do mundo. Devemos nos preocupar muito mais com os oceanos do que com as florestas.

Idem, ibidem.

Quanto às idéias do texto acima, assinale a opção correta.

- A tese de que as florestas tropicais seriam o “pulmão do mundo” é defendida por cientistas brasileiros e indianos.
- Subentende-se das informações do texto que as florestas ainda são o elemento que mais absorve carbono e libera oxigênio.
- É correto inferir das informações do texto a idéia de que a substituição das florestas por plantações é que provoca o efeito estufa.
- De acordo com o texto, os oceanos devem concentrar nossa atenção porque os plânctons da superfície marinha liberam oxigênio.

QUESTÃO 3

1 Só algumas crianças (as que não vasculham os sítios da
 Internet) acreditam que os países ricos, que nos enviam suas
 ONGs e seus técnicos, estão preocupados com o nosso bem-
 4 estar. Estão preocupados, sim, em preservar áreas virgens
 para seu benefício futuro. Contam com elas, se lhes for
 cortado o suprimento de óleo e gás do Oriente Médio. Hoje,
 7 lhes interessa proclamar que as grandes árvores amazônicas
 são os alvéolos pulmonares do planeta. Amanhã, quando lhes
 convier, seus cientistas concluirão que o caule e as folhas da
 10 cana-de-açúcar são muito mais eficientes para a
 transformação do carbono em oxigênio e energia. Enquanto
 isso, sem que ajamos em defesa de nosso território, eles vão
 13 comprando, a preço de qualquer coisa, vastas áreas da Hiléia.
 Por tudo isso, convém-nos, sem manifestações históricas de
 xenofobia, exercer autoridade soberana sobre nosso espaço
 16 geográfico.

Idem, ibidem (com adaptações).

Com referência ao texto acima, assinale a opção **incorreta**.

- O emprego de primeira pessoa do plural em “nos” (l.2) “nosso” (l.3), “ajamos” (l.12) e “convém-nos” (l.14) indica que o autor incluiu o leitor nas afirmações do texto.
- A expressão “seu benefício” (l.5) refere-se a “ONGs e seus técnicos” (l.3).
- A substituição de “lhes interessa” (l.7) pela expressão **interessa a eles** mantém a correção gramatical e as informações originais do período.
- A palavra “xenofobia” (l.15) está sendo empregada com o sentido de aversão ao estrangeiro.

QUESTÃO 4

1 Na hora da Abolição, o Império do Brasil disfarçou a
 sua derrota atribuindo o fim da escravidão ao gesto
 magnânimo da princesa. Mas os historiadores reconstituíram
 4 a narrativa que se queria ocultar, lançando luz sobre a
 primeira grande luta social de caráter nacional no Brasil.
 Nessa luta, líderes de todas as cores mobilizaram o povo em
 7 torno da exigência de igualdade perante a lei. Os clubes
 abolicionistas, as fugas de escravos, com auxílio dos
 ferroviários, a greve seletiva dos tipógrafos, que não
 10 imprimiam os manifestos escravistas, a recusa dos jangadeiros
 cearenses de transportar cativos derrotaram a escravidão e
 destruíram os alicerces do Império.

Demétrio Magnoli. In: *O Globo*, 30/11/2006.

Com base nas idéias e estruturas lingüísticas do texto acima, assinale a opção **incorreta**.

- Depreende-se da leitura do texto que o movimento a favor da abolição da escravatura foi a primeira grande luta social de caráter nacional no Brasil.
- Subentende-se do texto que o Império queria ocultar a verdadeira história da abolição dos escravos no Brasil.
- Na linha 2, a presença de preposição em “ao gesto” justifica-se pela regência de “derrota”.
- O emprego de vírgula após “abolicionistas” (l.8) justifica-se por separar elementos de mesma função gramatical componentes de uma enumeração.

QUESTÃO 5

1 As enchentes urbanas vêm fazendo parte, com
 2 freqüência, da rotina dos habitantes das grandes cidades,
 3 tendo como principal causa o próprio processo de
 4 urbanização. Nas grandes cidades brasileiras, pode-se
 5 constatar a ocupação desordenada do solo urbano, a
 6 remoção da cobertura vegetal da bacia hidrográfica, com
 7 a conseqüente impermeabilização da superfície, a
 8 ocupação de grandes extensões de várzeas naturalmente
 9 inundáveis, além do aumento na geração de lixo e esgoto
 10 sanitário, coletados e tratados inadequadamente. Todos
 11 esses fatores modificam e causam impactos no sistema de
 12 drenagem natural, que sofre também alterações diretas
 13 pela implantação de canais artificiais. A conseqüência é
 14 o aumento da freqüência, da magnitude, da rapidez e do
 15 tempo de permanência das cheias que têm causado
 16 prejuízos às cidades.

Marcelo Miguez e Flávio César Borba Mascarenhas.
 In: O Globo, 30/11/2006 (com adaptações).

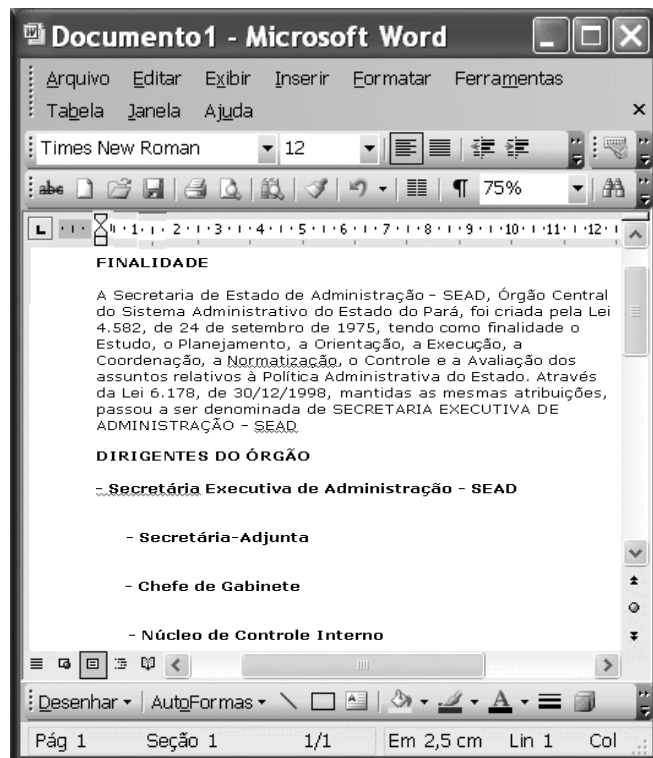
Com base no texto acima, assinale a opção correta.

- A O nível de linguagem e o estilo adotados no texto, pela objetividade e clareza, são adequados para a elaboração de textos de correspondência oficial.
- B Em “pode-se” (l.4), o “se” tem natureza reflexiva.
- C O emprego da vírgula após “natural” (l.12) justifica-se porque a oração subsequente é restritiva.
- D Na linha 16, o emprego de sinal indicativo de crase em “às cidades” justifica-se pela regência de “têm” e pela presença de artigo feminino plural.





QUESTÃO 6

No Windows XP, o Windows Explorer é um

- A software que permite a navegação na Internet.
- B software que permite a edição de textos e planilhas eletrônicas.
- C recurso que possibilita a organização de sítios favoritos.
- D software que permite a visualização de pastas e arquivos de forma organizada.

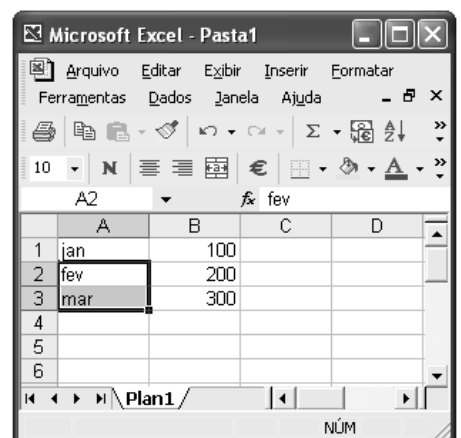
QUESTÃO 7



Considerando a figura acima, que mostra um documento em edição no Word 2003, assinale a opção correta.

- A O recurso  permite aumentar o recuo do subtítulo **Secretária-Adjunta**.
- B Para se justificar o primeiro parágrafo, é suficiente selecioná-lo e clicar .
- C Para se centralizar o título FINALIDADE, é suficiente selecioná-lo e clicar .
- D O recurso  permite corrigir a grafia das palavras do texto.

QUESTÃO 8

A figura ao lado ilustra uma janela minimizada que mostra o início da edição de uma planilha no Excel 2002. Considerando essa planilha, assinale a opção correta.



- A A fórmula para somar os três valores numéricos mostrados na coluna B da planilha é $=+B1*B2*B3$.
- B Ao se selecionar as células A2 e A3 e arrastar a alça de preenchimento até a célula A6, será apresentado: abr, mai e jun.
- C Para se centralizar cada um dos números nas respectivas células, é suficiente selecionar todas as células e clicar .
- D Para se calcular o valor médio dos números apresentados, é suficiente selecioná-los e clicar .

QUESTÃO 9

Com base na figura acima, que ilustra uma página do serviço de atendimento ao cidadão do estado do Pará, e nos conceitos referentes ao Internet Explorer 6 (IE6), assinale a opção correta.

- A No menu **Arquivo**, é possível salvar a página para que possa haver navegação no modo *offline*.
- B Não seria possível salvar a página porque ela ficaria estática.
- C Para que a página seja guardada como favorita, é necessário antes salvá-la.
- D Ao colocar a página como página inicial, ela é salva na pasta Meus documentos.

QUESTÃO 10

Usando-se o Outlook Express, **não** é possível

- A catalogar contatos.
- B enviar arquivos anexos.
- C eliminar qualquer tipo de vírus oculto em mensagens.
- D bloquear mensagens de *e-mail* indesejadas.

QUESTÃO 11

Os princípios da administração pública direta, indireta ou fundacional, definidos no *caput* do artigo 37 da Constituição Federal, são

- A hierarquia, legalidade, impessoalidade, moralidade e eficiência.
- B hierarquia, legalidade, publicidade, universalidade e eficácia.
- C legalidade, impessoalidade, moralidade, publicidade e eficiência.
- D impessoalidade, legalidade, moralidade, efetividade e discricionariedade.

QUESTÃO 12

Acerca dos poderes inerentes à administração pública, assinale a opção correta.

- A O poder regulamentar é caracterizado pela competência da administração pública para apurar infrações e aplicar sanções aos servidores públicos e demais pessoas que possuam vínculo especial com o poder público.
- B Poder hierárquico é o de que dispõe o Poder Executivo para distribuir e escalonar as funções de seus órgãos, além de estabelecer a relação de subordinação entre os servidores do seu quadro de pessoal.
- C O poder disciplinar confere ao chefe do Poder Executivo da União, dos estados e dos municípios competência para editar normas complementares às leis, como forma de garantir a sua fiel execução.
- D A Constituição Federal garante ao Estado, em algumas circunstâncias, que ele faça uso de seu poder disciplinar sem garantir, aos litigantes, o contraditório e a ampla defesa.

QUESTÃO 13

Com referência ao ato administrativo, assinale a opção **incorreta**.

- A** São consideradas atributos do ato administrativo a presunção de legitimidade, a imperatividade e a auto-executoriedade.
- B** Convalidação é um ato produzido pela administração pública com vistas a suprir vícios sanáveis em ato ilegal, com efeitos retroativos ao momento de sua expedição, em decisão em que se evidencie não serem acarretados prejuízos a terceiros ou ao interesse público.
- C** O ato é vinculado quando a lei estabelece que, em determinadas circunstâncias, a administração deve agir de maneira preestabelecida, sem margem de escolha para as autoridades, e é considerado discricionário quando a lei define alguma margem de escolha quanto à sua aplicabilidade, facultando à autoridade constituída, segundo critérios de conveniência e oportunidade, a escolha da melhor alternativa, dados os limites legais para o interesse público.
- D** A revogação, que é a extinção do ato administrativo discricionário, por questão de mérito, feita pela administração pública, produz eficácia retroativa sobre os efeitos produzidos no passado.

QUESTÃO 14

A respeito de desapropriação, assinale a opção **incorreta**.

- A** Compete à União, aos estados, ao Distrito Federal e aos municípios desapropriar, por interesse social para fins de reforma agrária, o imóvel rural que não esteja cumprindo sua função social, mediante prévia e justa indenização.
- B** A desapropriação pode incidir sobre bens móveis ou imóveis.
- C** A Constituição Federal distingue três espécies de desapropriação: a desapropriação ordinária, a desapropriação para reforma urbana e a desapropriação para reforma agrária.
- D** No caso de desapropriação para fins da reforma agrária, a indenização deve ser justa e prévia, devendo o pagamento das terras desapropriadas ser feito em títulos da dívida agrária e o valor das benfeitorias úteis e necessárias, indenizado em dinheiro.

QUESTÃO 15

No tocante à Lei de Licitações (Lei n.º 8.666/1993), assinale a opção correta.

- A** Essa lei não considera o treinamento e aperfeiçoamento de pessoal em serviços técnicos profissionais especializados.
- B** As empresas públicas não estão subordinadas ao regime dessa lei.
- C** Concorrência, tomada de preços, convite, concurso e leilão são modalidades de licitação.
- D** Essa lei define empreitada por preço global como a obra ou serviço por preço certo de unidades determinadas.

QUESTÃO 16

Em 1985, com a eleição indireta de Tancredo Neves e José Sarney, chegou ao fim o regime militar instaurado vinte e um anos antes. De lá para cá, o país consolidou a democracia política e obteve estabilidade econômica, embora apresente baixos índices de crescimento e elevada desigualdade. Relativamente ao cenário político brasileiro contemporâneo, assinale a opção **incorreta**.

- A** A Constituição de 1988, marco jurídico-político da nova ordem democrática, é assinalada pela ênfase dada aos direitos e deveres individuais e coletivos.
- B** O primeiro presidente eleito pelo voto direto, após o período autoritário, Fernando Collor, não completou seu mandato, afastado que foi por *impeachment*.
- C** Emenda constitucional aprovada durante o primeiro mandato de Fernando Henrique Cardoso instituiu a reeleição para o cargo de chefe do Poder Executivo.
- D** Ainda vigora no Brasil o bipartidarismo, herança do regime militar que a redemocratização ainda não conseguiu afastar.

QUESTÃO 17

Fruto de uma longa história, que em muito antecede a colonização européia, o Brasil é um país culturalmente rico e diversificado, que acolhe povos e outras culturas. De um amplo conjunto de elementos e influências, a nação constrói sua identidade. No que concerne às manifestações culturais brasileiras, assinale a opção **incorreta**.

- Ⓐ Independentemente do juízo que se faça de sua programação, a televisão desempenha importante papel como veículo de entretenimento e de informação.
- Ⓑ A arquitetura moderna mundial tem no Brasil uma de suas maiores referências, haja vista a projeção alcançada por profissionais como Oscar Niemeyer.
- Ⓒ O Nobel de Literatura conferido ao poeta Carlos Drummond de Andrade é o reconhecimento mais evidente da pujança literária brasileira.
- Ⓓ O samba é o ritmo característico do Brasil. A bossa nova, sobretudo, tornou mais conhecida internacionalmente a música popular brasileira.

QUESTÃO 18

Entre os elementos que melhor caracterizam a economia internacional contemporânea, certamente se destacam os que se referem ao quadro geral determinado pela globalização. A esse respeito, é correto afirmar que o atual cenário mundial é assinalado pela

- Ⓐ incessante aplicação das inovações tecnológicas no sistema produtivo, o que leva ao aumento da capacidade de produção e de comercialização de bens e mercadorias.
- Ⓑ redução das facilidades de circulação de capitais pelos mercados mundiais como forma de impedir práticas criminosas, como a lavagem de dinheiro.
- Ⓒ expansão do conhecimento e do desenvolvimento científico-tecnológico, simetricamente repartidos pelos diversos continentes.
- Ⓓ formação de blocos econômicos regionais, exceto na velha Europa, marcada por nacionalismos e incompreensões recíprocas entre seus países.

QUESTÃO 19

Historicamente, o Brasil caracterizou-se por ser uma sociedade essencialmente rural. Esse quadro começou a ser alterado rapidamente a partir dos anos 30 do século XX e, sobretudo, do pós-Segunda Guerra Mundial. Industrialização e urbanização conduziram a radical transformação da fisionomia brasileira. No que se refere a esse processo histórico, assinale a opção **incorreta**.

- Ⓐ A moderna urbanização brasileira se fez de forma razoavelmente planejada e contemplou, de forma equânime e simultânea, as diversas regiões do país.
- Ⓑ Foi intenso o movimento interno da população, marcado pelo expressivo êxodo rural em direção aos centros urbanos.
- Ⓒ A construção de Brasília, com a transferência da capital para o planalto central, também se vinculou ao projeto de interiorização do desenvolvimento brasileiro.
- Ⓓ Entre as conquistas do Brasil que se urbanizou está a universalização, praticamente assegurada, do acesso ao ensino fundamental.

QUESTÃO 20

A preocupação com o meio ambiente é um dos traços definidores do mundo contemporâneo. Assim como ocorre no Brasil, em muitos países e regiões do planeta, Estado e sociedade se mobilizam no sentido de adequar o necessário desenvolvimento à manutenção de satisfatórias condições ambientais. Relativamente a esse tema, assinale a opção correta.

- Ⓐ Voltada para as questões de segurança, que colocam em risco a paz mundial, a Organização das Nações Unidas (ONU) ainda não atentou para a necessidade de atuar na delicada área do meio ambiente.
- Ⓑ Uma das maiores críticas que a comunidade internacional faz ao Brasil é a inexistência, na estrutura do Estado brasileiro, de algum órgão voltado especificamente para o trato das questões ambientais.
- Ⓒ As poucas organizações não-governamentais (ONGs) que atuavam em escala mundial na área do meio ambiente foram desativadas recentemente graças às pressões dos Estados nacionais, que se sentiam atingidos em sua soberania.
- Ⓓ O aquecimento global da atmosfera terrestre, conhecido como efeito estufa, tem provocado o aumento de intensidade de fenômenos naturais que acarretam diversos e graves problemas, além de preocupantes variações climáticas.

CONHECIMENTOS ESPECÍFICOS

Balancete de verificação para as questões de 21 a 28

	conta	valor (R\$)
1	serviços de telecomunicações a pagar	140
2	adiantamento de salários	300
3	telefone a pagar	325
4	caixa	410
5	seguros a pagar	410
6	condomínio a pagar	660
7	energia a pagar	780
8	seguros antecipados	800
9	despesa de telecomunicações	900
10	despesa de provisão para perda de estoques	980
11	despesa de seguros	990
12	deságio na emissão de debêntures	1.470
13	televisores	2.100
14	despesa de aluguel	2.100
15	suprimentos para impressoras	2.150
16	fornecedores	2.210
17	provisão para devedores duvidosos	2.340
18	despesa de telefone	2.470
19	despesa de provisão para devedores duvidosos	2.930
20	provisão para perda de estoques	2.980
21	impostos a pagar	3.120
22	despesa de impostos e taxas (IPVA e IPTU)	3.145
23	despesa de condomínio	3.200
24	cheques a receber	3.214
25	material de consumo	3.325
26	empréstimos a pagar	3.350
27	despesa de provisão para contingências	4.120
28	provisão para contingências judiciais	4.120
29	despesa de energia	4.125
30	títulos a receber	4.152
31	despesa financeira	4.158
32	aluguéis antecipados	5.570
33	impostos a recuperar	5.780
34	despesa de combustíveis e lubrificantes	6.520
35	combustíveis a pagar	6.580

	conta	valor (R\$)
36	despesa de amortização	8.523
37	banco	8.750
38	receita antecipada	9.520
39	salários a pagar	9.850
40	receita financeira	9.875
41	investimentos em debêntures	9.985
42	contas a pagar	9.987
43	abatimentos sobre vendas	10.500
44	despesa de depreciação	10.520
45	estoque de mercadorias para revenda	12.980
46	empréstimos a dirigentes da empresa	14.752
47	reservas	20.000
48	despesa de salários	21.400
49	debêntures emitidas/resgate em curto prazo	21.470
50	empréstimos a pagar de longo prazo	24.410
51	investimentos em títulos públicos	32.170
52	investimentos em ações/outras companhias	34.587
53	terrenos	35.200
54	títulos a pagar de longo prazo	35.620
55	amortização acumulada	40.000
56	móveis	41.000
57	provisão para perda de investimentos	45.800
58	gastos pré-operacionais	60.000
59	custo da mercadoria vendida	60.200
60	títulos a receber de longo prazo	65.200
61	veículos	68.000
62	máquinas	70.000
63	duplicatas a receber	98.570
64	capital social	100.000
65	depreciação acumulada	125.000
66	receita de vendas	460.000
67	lucros ou prejuízos acumulados	?????
68	impostos sobre lucro a recolher	?????
69	impostos sobre vendas a recolher	?????

A carga tributária da empresa resume-se a 20% sobre o faturamento bruto e a 24% sobre o lucro apurado. O balancete acima não contempla tais ajustes e também não apresenta o saldo da conta lucros ou prejuízos acumulados.

QUESTÃO 21

Após apurar a demonstração do resultado do exercício (DRE) e apropriar os tributos inerentes, o saldo da conta lucros ou prejuízos acumulados é negativo e igual a

- A R\$ 35.669,56.
- B R\$ 38.039,56.
- C R\$ 45.863,86.
- D R\$ 65.897,65.

QUESTÃO 22

Considere que o índice de liquidez corrente do mercado seja de 1,85. Nesse caso, o índice de liquidez corrente da empresa é

- A superior a 1,98 e inferior a 2,01.
- B superior a 1,56 e inferior a 1,97.
- C superior a 1,25 e inferior a 1,55.
- D superior a 0,60 e inferior a 1,25.

RASCUNHO

QUESTÃO 23

O passivo circulante da empresa, após a apropriação dos tributos, é igual a

- A** R\$ 208.994,56.
- B** R\$ 219.984,56.
- C** R\$ 218.514,56.
- D** R\$ 231.958,00.

QUESTÃO 24

O ativo circulante da empresa é igual a

- A** R\$ 138.085,00.
- B** R\$ 140.681,00.
- C** R\$ 143.021,00.
- D** R\$ 143.661,00.

QUESTÃO 25

O ativo permanente imobilizado é igual a

- A** R\$ 151.300,00.
- B** R\$ 111.300,00.
- C** R\$ 216.300,00.
- D** R\$ 91.300,00.

QUESTÃO 26

O ativo permanente investimentos da empresa é igual a

- A** R\$ 30.942,00.
- B** R\$ 76.742,00.
- C** R\$ 50.942,00.
- D** R\$ 36.742,00.

QUESTÃO 27

O capital circulante líquido da empresa é igual a

- A** R\$ 104.583,56.
- B** R\$ 74.583,56.
- C** R\$ 93.598,65.
- D** R\$ 106.987,65.

QUESTÃO 28

O índice de endividamento da empresa é

- A** inferior a 25%.
- B** superior a 32% e inferior a 63,5%.
- C** superior a 66% e inferior a 79,65%.
- D** superior a 86%.

RASCUNHO

Informações de uma empresa para as questões 29 e 30

gastos	valor (R\$)
salário do pessoal da fábrica	25.800
salário dos diretores da empresa	32.100
salário do supervisor de produção	18.890
salário do assessor do presidente da empresa	6.580
salário dos vigias da fábrica	9.875
salário dos faxineiros / prédio da administração	3.120
energia elétrica / prédio da administração	12.580
energia elétrica / prédio da fábrica	53.000
material de limpeza consumido na fábrica	22.680
insumos consumidos na fábrica	33.805
salário dos operários	98.750

outras informações	
custos diretos por unidade de produto (R\$)	1,58
produção estimada (unidades)	100.000
produção real (unidades)	90.000
venda estimada (unidades)	98.000
venda real (unidades)	80.000
preço de venda estimado, por unidade (R\$)	12
preço de venda real, por unidade (R\$)	8,50

QUESTÃO 29

Considerando o custeio por absorção, o resultado operacional auferido pela empresa, no período correspondente, é igual a

- A R\$ 285.725,00.
- B R\$ 230.620,00.
- C R\$ 265.620,00.
- D R\$ 220.620,00.

QUESTÃO 30

Considerando o custeio por absorção, a variação observada entre o resultado operacional estimado e o resultado operacional real é

- A favorável em R\$ 140.360,00.
- B desfavorável em R\$ 483.360,00.
- C favorável em R\$ 295.800,00.
- D desfavorável em R\$ 165.890,00.

RASCUNHO

QUESTÃO 31

Segundo a Lei n.º 4.320/1964 e legislação correlata, despesa não processada é aquela em que o empenho

- A foi legalmente emitido mas não liquidado; o objeto adquirido ainda não foi entregue e, sob a óptica do sistema orçamentário, sua escrituração contábil não está processada.
- B ainda não foi emitido; o objeto adquirido ainda não foi entregue e, sob a óptica do sistema orçamentário, sua escrituração contábil não está processada.
- C foi legalmente emitido e liquidado; o objeto adquirido ainda não foi entregue e, sob a óptica do sistema orçamentário, sua escrituração contábil não está processada.
- D foi legalmente emitido e liquidado; o objeto adquirido já foi entregue pelo fornecedor e, sob a óptica do sistema orçamentário, sua escrituração contábil não está processada.

QUESTÃO 32

Os bens públicos compõem o patrimônio das entidades públicas. Nesse sentido, assinale a opção que inclui somente bens classificados como bens de uso especial.

- A estradas, ruas e praças utilizadas pela população
- B mares, rios e espaço aéreo utilizados pela população
- C terrenos particulares utilizados por escolas públicas federais, estaduais ou municipais
- D terrenos particulares, utilizados por escolas públicas federais, estaduais ou municipais, que podem ser alienáveis

QUESTÃO 33

Acerca da classificação econômica da despesa orçamentária, assinale a opção correta.

- A Material de consumo é elemento de despesa de custeio; material permanente é elemento de despesa de investimento. Assim, as despesas de custeio e as despesas de investimento fazem parte das despesas de capital.
- B Material de consumo e material permanente são elementos de despesa de custeio. Assim, as despesas destas naturezas, despesas de custeio, fazem parte das despesas correntes.
- C Material de consumo é elemento de despesa de investimento e material permanente é elemento de despesa de custeio. Assim, as despesas de custeio fazem parte das despesas de capital e as despesas de investimento fazem parte das despesas correntes.
- D Material de consumo é elemento de despesa de custeio e material permanente é elemento de despesa de investimento. Assim, as despesas de custeio fazem parte das despesas correntes e as despesas de investimento fazem parte das despesas de capital.

QUESTÃO 34

A escrituração contábil da fixação da despesa, que corresponde ao primeiro estágio, será registrada no sistema

- A orçamentário.
- B financeiro.
- C patrimonial.
- D de compensação.

QUESTÃO 35

A escrituração contábil das garantias contratuais, na forma de títulos e documentos, **não** será efetuada nos sistemas

- A patrimonial, orçamentário e de compensação.
- B financeiro, patrimonial e orçamentário.
- C financeiro, patrimonial e de compensação.
- D financeiro, patrimonial, orçamentário e de compensação.

QUESTÃO 36

Um cliente ao sacar R\$ 3.500,00 além do limite de seu cheque especial contraiu uma dívida com o banco que foi paga ao final de um ano. Nesse negócio, o banco cobrou juros compostos de 7% ao mês. Considerando $1,07^{12} = 2,25$, é correto afirmar que o montante pago pelo cliente ao banco foi igual a

- A R\$ 7.675,00.
- B R\$ 7.775,00.
- C R\$ 7.875,00.
- D R\$ 7.975,00.

QUESTÃO 37

A quantia de R\$ 5.000,00 aplicados em uma instituição financeira rendem, de juros compostos, em um ano, a quantia de R\$ 372,00. Nessa situação, considerando $1,0744 = 1,006^{12}$, é correto afirmar que a taxa de juros anual praticada pela instituição é de

- A 7,8%.
- B 7,6%.
- C 7,4%.
- D 7,2%.

QUESTÃO 38

Em um país, a taxa de inflação em determinado período foi de 4%. Nesse mesmo período, a quantia de R\$ 2.500,00 aplicada em uma poupança rendeu R\$ 256,00. Nessa situação, é correto afirmar que a taxa de juros reais dessa poupança, nesse período, foi de

- A 5,8%.
- B 6,0%.
- C 6,2%.
- D 6,4%.

QUESTÃO 39

Uma pessoa, desejando obter o montante de R\$ 100.734,00 após 60 depósitos mensais, deposita, mensalmente, sempre a mesma quantia, a partir do primeiro dia do primeiro mês, durante 5 anos, em uma aplicação financeira que paga 3% de juros compostos ao mês. Nessa situação, considerando $1,03^{60} = 5,89$, a quantia que deve ser aplicada mensalmente é igual a

- A R\$ 600,00.
- B R\$ 850,00.
- C R\$ 1.000,00.
- D R\$ 1.150,00.

QUESTÃO 40

A quantia de R\$ 100.000,00 foi tomada como empréstimo que deve ser pago em 10 anos, com base no sistema de amortização constante (SAC), à taxa de juros de 8% ao ano. Se a primeira prestação for paga um ano após a tomada do empréstimo, então o valor da terceira prestação será igual a

- A R\$ 10.600,00.
- B R\$ 13.800,00.
- C R\$ 16.400,00.
- D R\$ 18.000,00.

RASCUNHO