

PREFEITURA MUNICIPAL DE SÃO LUÍS

SECRETARIA MUNICIPAL DE ADMINISTRAÇÃO

Concurso Público para Provimento de Cargos Efetivos e Cadastro de Reserva do Quadro de Pessoal dos Órgãos da Administração Direta e Indireta da Prefeitura Municipal de São Luís/MA

EDITAL Nº 001/2008, de 16 de Maio de 2008.

PROVA OBJETIVA

TÉCNICO MUNICIPAL DE NÍVEL MÉDIO

ÁREA DE ATUAÇÃO: CONTABILIDADE

INSTRUÇÕES:

- Verifique se este caderno contém 50 questões sendo: 10 de Língua Portuguesa, 10 de Matemática, 05 de Noções de Informática, 05 de Conhecimentos Gerais e 20 de Conhecimentos Específicos.
- Verifique na Folha de Respostas se o seu nome e número do documento de identificação estão corretos.
- Em cada questão, você deve assinalar somente uma das alternativas, conforme indicado abaixo:

	CERTO					ERRADO				
	A	B	C	D	E	A	B	C	D	E
1	<input checked="" type="radio"/>	<input type="radio"/>	<input type="radio"/>	<input type="radio"/>	<input type="radio"/>	21	<input checked="" type="radio"/>	<input type="radio"/>	<input type="radio"/>	<input type="radio"/>
2	<input type="radio"/>	<input checked="" type="radio"/>	<input type="radio"/>	<input type="radio"/>	<input type="radio"/>	22	<input type="radio"/>	<input checked="" type="radio"/>	<input type="radio"/>	<input type="radio"/>
3	<input type="radio"/>	<input type="radio"/>	<input checked="" type="radio"/>	<input type="radio"/>	<input type="radio"/>	23	<input type="radio"/>	<input checked="" type="radio"/>	<input type="radio"/>	<input type="radio"/>
4	<input type="radio"/>	<input type="radio"/>	<input type="radio"/>	<input checked="" type="radio"/>	<input type="radio"/>	24	<input type="radio"/>	<input checked="" type="radio"/>	<input type="radio"/>	<input type="radio"/>
5	<input type="radio"/>	<input type="radio"/>	<input type="radio"/>	<input type="radio"/>	<input checked="" type="radio"/>	25	<input type="radio"/>	<input checked="" type="radio"/>	<input type="radio"/>	<input type="radio"/>
6	<input type="radio"/>	<input type="radio"/>	<input type="radio"/>	<input type="radio"/>	<input checked="" type="radio"/>	26	<input checked="" type="radio"/>	<input type="radio"/>	<input checked="" type="radio"/>	<input type="radio"/>

- Será anulada a questão que contiver emenda, rasura ou, ainda, a que apresentar mais de uma alternativa assinalada na Folha de Respostas.
- Ao marcar a alternativa correta na Folha de Respostas, use caneta esferográfica de tinta preta, ponta grossa.
- Ao final da prova, devolva ao fiscal de sala a Folha de Respostas assinada no local indicado.
- Os 2 (dois) últimos candidatos de cada sala só poderão ser liberados juntos.
- O Gabarito Oficial da Prova Objetiva será publicado até 72 (setenta e duas) horas a contar do dia subsequente ao da sua realização, afixado no quadro de avisos da Secretaria Municipal de Administração de São Luís e no quadro de avisos da Fundação Sôsândrade, disponibilizado ainda nos endereços eletrônicos www.fsadu.org.br e www.sousandrade.org.br
- As provas objetivas serão também disponibilizadas no prazo e nos endereços eletrônicos supracitados.

Boa prova!

A duração total da prova é de 3 horas. Este tempo inclui a marcação da Folha de Respostas.
Você só poderá levar o Caderno de Provas após transcorridas 2h 30 min do início das provas.

NOME _____	INSCRIÇÃO _____	DATA / HORÁRIO _____
------------	-----------------	----------------------

fsadu

Fundação Sôsândrade de Apoio
ao Desenvolvimento da UFMA

Língua Portuguesa

Leia o **TEXTO 1** para responder às questões de **01** a **05**.

TEXTO 1

Se tudo ocorrer como esperado, dentro de alguns anos teremos um desenho animado bem diferente concorrendo com os Bob Esponja da vida pela atenção das crianças. No lugar de heróis com superpoderes e vilões malvados, índios, portugueses e negros surgirão na telinha para contar, sem maniqueísmo, a História do Brasil.

Serão quatro temporadas de 26 capítulos de oito minutos. Cada uma será dedicada a uma fase: os descobrimentos, as conquistas, as colonizações e as independências. Os roteiros terão colaboração de historiadores e o resultado nada terá a ver com produtos institucionais, garantem os idealizadores.

A saga para a produção da série poderia render no fim do processo um belo making of. O material de pesquisa começou a ser reunido em priscas eras por uma equipe coordenada pelo arquiteto Lúcio Costa.

(Revista Nossa História, nº 17, março de 2005)

01

Ao dizer "... para contar, sem maniqueísmo, a História do Brasil." o autor que dizer que contará

- apenas o lado bom da História do Brasil.
- a História do Brasil sem dividi-la entre heróis e vilões.
- os fatos ocorridos com os povos que colonizaram o Brasil.
- a história dos heróis brasileiros.
- a história dos primeiros habitantes do Brasil: índios, negros e portugueses.

02

Quando garantem que "o resultado nada terá a ver com produtos institucionais..." os idealizadores do projeto afirmam que o resultado

- será baseado nos ideais das instituições históricas do Brasil.
- estará de acordo com a História do Brasil contada pelas instituições governamentais.
- não levará em consideração a história das instituições brasileiras.
- será um projeto comercializado livremente.
- será uma história independente da visão "oficial" da História do Brasil.

03

A que tipo de desenho se refere o texto ao usar a expressão "os Bob Esponja da vida"?

- Desenhos com referências erradas sobre a História do Brasil.
- História em quadrinhos para crianças.
- Desenhos produzidos comercialmente, sem conteúdo histórico.
- Desenhos animados de animais que imitam os seres humanos.
- Histórias produzidas fora do Brasil apenas para crianças.

04

A expressão consagrada utilizada no texto para significar "em tempos remotos" é:

- priscas eras
- dentro de alguns anos
- making of
- sair do papel
- Se tudo correr como esperado

05

"Os roteiros **terão** colaboração de historiadores e o resultado nada terá a ver com produtos institucionais, **garantem** os idealizadores."

Assinale a alternativa que traz, respectivamente, a classificação **CORRETA** das formas verbais destacadas no trecho acima.

- Futuro do subjuntivo e mais-que-perfeito do indicativo.
- Futuro do presente do indicativo e presente subjuntivo.
- Futuro do pretérito e presente do indicativo.
- Futuro do presente e presente do indicativo.
- Futuro do subjuntivo e imperativo afirmativo.

06

“A saga para a produção da série poderia render no fim do processo um belo making of.”

Assinale a alternativa que traz a frase acima com a pontuação alterada de forma **CORRETA**.

- A saga para a produção da série poderia render, no fim do processo, um belo making of.
- A saga, para a produção da série poderia render, no fim do processo um belo making of.
- A saga para a produção da série, poderia render no fim do processo um belo making of.
- A saga para a produção, da série, poderia render no fim do processo um, belo making of.
- A saga para a produção, da série poderia render, no fim do processo, um belo making of.

Leia o **TEXTO 2** e responda à questão **07**.

TEXTO 2

*Durante alguns anos, o tintim me intrigou. Tintim por tintim: o que queria dizer aquilo? Descobri, finalmente, o que significa tintim. É verdade que, se tivesse me dado o trabalho de olhar no dicionário mais cedo, minha ignorância não teria durado tanto. Mas o óbvio, às vezes, é a última coisa **que** nos ocorre. Está no Aurelião. Tintim, vocábulo onomatopaico **que** evoca o tinido das moedas.*

(VERISSÍMO, Luis Fernando. Comédias para se ler na Escola. São Paulo: Objetiva, 2001.)

07

Os dois termos destacados no texto referem-se, respectivamente, a

- moedas/tintim
- tintim/última
- Aurelião/vocábulo
- última/óbvio
- óbvio/tintim

Leia o texto para responder às questões de **08 a 10**.

DICA

Aprenda como deixar o microondas limpo

Limpe a parte interna do seu microondas com uma mistura de 2 colheres (sopa) de bicarbonato de sódio e 1 litro de água quente. Para remover a sujeira com mais facilidade, use uma esponja de espuma macia. O prato giratório deve ser removido e lavado com detergente e água. No dia-a-dia, limpe com um pano úmido os resíduos que respingam dos alimentos.

COM O SEU BOLSO. **CASAS BAHIA** DEDICAÇÃO TOTAL A VOCÊ

(Revista Época, 5 de maio de 2008)

08

Sabendo-se que os recursos de linguagem da propaganda buscam variadíssimos apelos, na mensagem acima encontra-se, sobretudo,

- a ortografia exótica ou estranha.
- uma autopromoção velada.
- o desvio lingüístico da norma padrão.
- uma concepção de prioridade ao usuário.
- o caráter essencialmente artístico da mensagem.

09

Mudando-se para segunda pessoa do singular e mantendo-se o verbo no imperativo afirmativo, de acordo com a norma padrão da língua, a construção “*Limpe a parte interna do seu microondas...*”, tem-se

- Limpas a parte interna do seu microondas...
- Limpes a parte interna do teu microondas...
- Limpa a parte interna do teu microondas...
- Limpe a parte interna do teu microondas...
- Limpai a parte interna do seu microondas...

10

Atente para a pontuação da frase:

“*Para remover a sujeira com mais facilidade, use uma esponja de espuma macia.*”

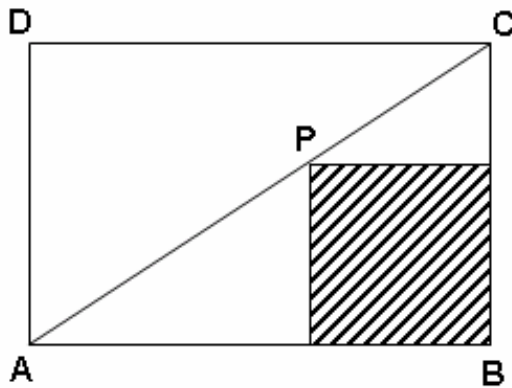
A vírgula, no contexto, de acordo com a gramática tem a função de

- marcar uma frase imperativa afirmativa.
- indicar a supressão de um verbo.
- fazer uma citação.
- separar um termo explicativo.
- separar a oração subordinada adverbial antecipada.

Matemática

11

Na figura a seguir, os lados do retângulo **ABCD** medem 6 cm e 3 cm, respectivamente. **P** é um ponto da diagonal **AC**.



Se o quadrilátero hachurado é um quadrado, seu perímetro mede:

- a) $8\sqrt{2}$ cm
- b) 10 cm
- c) 4 cm
- d) 8 cm
- e) $4\sqrt{2}$ cm

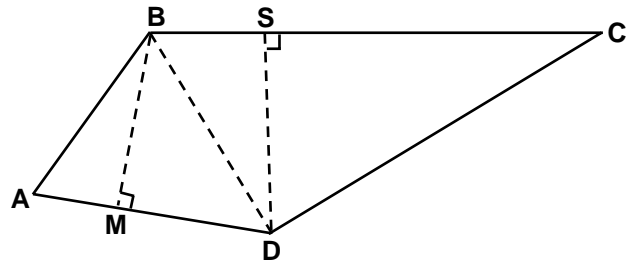
12

Em um grupo há homens e mulheres, sendo que o número de homens corresponde a 25% do total de elementos do grupo. Se nesse grupo entrar mais uma pessoa e essa pessoa for um homem, o número de homens passará a ser 40% do total de pessoas. Se essa pessoa for uma mulher, o número de mulheres passará a ser

- a) 40% do total de pessoas do grupo.
- b) 80% do total de pessoas do grupo.
- c) 90% do total de pessoas do grupo.
- d) 90% do número de homens do grupo.
- e) o triplo do número de homens do grupo.

13

O quadrilátero **ABCD**, indicado a seguir, representa o desenho da planta de um terreno a ser vendido.



Nesse desenho, os triângulos **ABD** e **BDC**, possuem alturas $\overline{BM} = 15\sqrt{3}$ m e $\overline{DS} = 20\sqrt{2}$ m. Além disso, $\overline{AD} = 24$ m e $\overline{BC} = 35$ m.

Sendo R\$ 16,00 o preço do metro quadrado, o valor de venda desse terreno é:

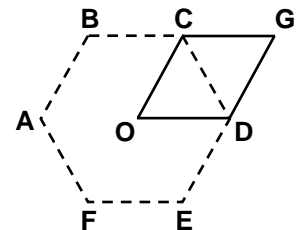
(use: $\sqrt{2} = 1,41$ e $\sqrt{3} = 1,73$)

- a) R\$ 12.878,40
- b) R\$ 13.280,85
- c) R\$ 12.475,95
- d) R\$ 13.683,30
- e) R\$ 11.671,09

14

Na figura indicada a seguir, considere que a letra **O** é o centro da circunferência circunscrita ao hexágono **ABCDEF** e o quadrilátero **OCGD** é um losango cuja

área mede $\frac{\sqrt{3}}{2}$ cm².



Nessas condições, a área do hexágono **ABCDEF**, em cm², mede:

- a) $\frac{6\sqrt{2}}{5}$ cm²
- b) $\frac{3\sqrt{3}}{4}$ cm²
- c) $\frac{3\sqrt{6}}{4}$ cm²
- d) $\frac{3\sqrt{3}}{2}$ cm²
- e) $\frac{2\sqrt{5}}{3}$ cm²

15

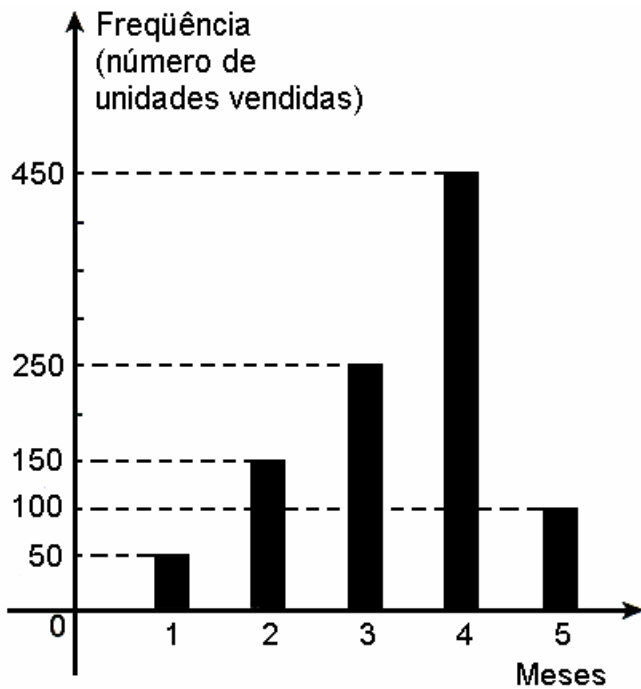
Patrícia foi a uma lanchonete e verificou que existem 6 tipos de sanduíches, 4 tipos de sucos e uma variedade de tipos de sorvetes. Ela, ainda, foi informada que poderia dispor de 168 maneiras distintas de poder tomar um lanche constituído por um sanduíche, um suco e um sorvete.

Nessas condições, a quantidade de tipos de sorvetes é:

- a) 12
- b) 6
- c) 5
- d) 8
- e) 7

16

O gráfico indicado a seguir mostra o desempenho de uma Revendedora de Automóveis, no ano de 2008, meses de janeiro (1), fevereiro (2), março (3), abril (4) e maio (5).



A partir da interpretação desse gráfico estatístico, pode-se afirmar:

- a) As vendas aumentaram mês a mês.
- b) Foram vendidos mais de 800 automóveis até o mês de abril, inclusive.
- c) No mês de maio, as vendas decaíram 25% em relação ao mês de abril.
- d) No mês de abril, as vendas duplicaram em relação ao mês de março.
- e) O mês de menor venda foi o de maio.

17


Os valores reais de x tais que $f(x) \leq g(x)$, sendo

$$f(x) = x^2 - 1 \text{ e } g(x) = \frac{1}{2}x + 2, \text{ constituem o conjunto}$$

- a) $A = \left\{ x; -\frac{3}{2} \leq x \leq 2 \right\}$
- b) $B = \left\{ x; x \leq -\frac{3}{2} \text{ ou } x \geq 2 \right\}$
- c) $C = \left\{ x; x \geq -\frac{3}{2} \right\}$
- d) $D = \left\{ x; x \leq 2 \right\}$
- e) $E = \left\{ x; -2 \leq x \leq 3 \right\}$

18

Em um jogo de dados, em um lançamento, a pontuação do jogador é a soma dos pontos das faces que não estão voltadas para baixo.



Sobre esse tipo de jogo, com um dado honesto, de seis faces numeradas de 1 a 6, é **CORRETO** afirmar:

- a) Em dois lançamentos, a probabilidade do jogador totalizar 17 pontos é de $\frac{4}{6}$.
- b) Em um único lançamento, a probabilidade do jogador obter menos de 20 pontos é de $\frac{1}{6}$.
- c) Em um único lançamento, a pontuação máxima é obtida quando a face 6 fica em uma das laterais, como na ilustração.
- d) Em dois lançamentos, a probabilidade do jogador totalizar 35 pontos é de $\frac{1}{6}$.
- e) Em um único lançamento, a pontuação mínima é obtida quando a face 6 fica voltada para cima.

19

A festa para os *aniversariantes do mês* em uma empresa é organizada do seguinte modo:

- contam-se quantas são as mulheres aniversariantes e compra-se a mesma quantidade de *presentes para mulher* (impeçoal, mas de uso feminino);
- contam-se quantas são os homens aniversariantes e compra-se a mesma quantidade de *presentes para homem* (impeçoal, mas de uso masculino);
- no final da festa, na hora de distribuir os presentes, sorteia-se um aniversariante, indistintamente, e um presente, também indistintamente, e o aniversariante sorteado recebe o presente sorteado;
- outros sorteios são realizados, do mesmo modo, até que todos os aniversariantes recebam seus presentes;
- após os sorteios, os *descontentes* devem tentar trocar seus presentes.

Em uma dessas festas, havia sete aniversariantes: João, três amigos seus e três amigas suas. Qual a probabilidade de João ser o primeiro sorteado e receber um *presente para homem*?

- a) $\frac{4}{7}$
- b) $\frac{1}{7}$
- c) $\frac{4}{49}$
- d) $\frac{1}{4}$
- e) $\frac{11}{28}$

20

Uma empresa multinacional fará seleção para contratar recém-formados, com o seguinte perfil:

- ser formado há, no máximo, dois anos;
- se for homem, ter mais de 25 anos e, se for mulher, deve ter mais de 24 anos;
- se for casado, só poderá trabalhar nas filiais do Brasil;
- se for contratado para uma filial do exterior, deve ter fluência em inglês ou espanhol.

As contratações são destinadas a preencher vagas em filiais da empresa, de acordo com a tabela

Filial	Formação em	Conhecimentos Adicionais
São Paulo	Administração ou Psicologia	Informática
Belo Horizonte	Engenharia Civil	Informática
Paris	Ciência da Computação	
Londres	Direito ou Psicologia	Informática

No momento, há cinco candidatos cadastrados:

- Mariana, 26 anos, sexo feminino, casada, formada há um ano em Direito, conhecimentos avançados em informática, fluência em inglês.
- Otávio, 27 anos, sexo masculino, solteiro, formado há dois anos em Ciência da Computação, fluência em inglês e espanhol.
- Tiago, 25 anos, sexo masculino, formado em Direito há um ano e meio, solteiro, fala fluentemente inglês, espanhol e francês.
- Júlia, 28 anos, sexo feminino, solteira, formada em Psicologia há seis meses, conhecimentos avançados em informática, fluência em francês.
- Andréia, 26 anos, formou-se em Engenharia Civil mês passado, noiva (casamento já marcado), tem conhecimentos avançados em informática.

De acordo com o perfil exigido e as informações disponíveis sobre esses cinco candidatos, podemos afirmar que

- a) somente Andréia, Otávio e Júlia estão em condições de serem selecionados.
- b) Tiago está em condições de ser selecionado para a filial de Londres.
- c) Júlia está em condições de ser selecionada para a filial de Londres ou para a filial de São Paulo.
- d) Mariana está em condições de ser selecionada para a filial de Londres.
- e) somente Tiago e Júlia estão em condições de serem selecionados.

Noções de Informática

21

Considere a figura ilustrativa da barra de tarefas do Microsoft Windows XP versão português.



A barra de tarefas do Windows foi idealizada para facilitar a operação do sistema e o trabalho no modo multitarefas.

Assinale, a seguir, a opção que apresenta uma informação **INCORRETA**.

- A seção intermediária da barra apresenta os programas e documentos abertos e permite alternar rapidamente entre estes.
- Na barra de inicialização rápida podem ser colocados os aplicativos usados com mais frequência.
- Na área de notificação ficam os programas principais para funcionamento correto do Windows XP, quando os programas param de funcionar, uma mensagem é enviada ao usuário administrador do sistema.
- Quando o botão iniciar é ativado, é aberto o **Menu Iniciar**, onde estão organizados todos os aplicativos do computador para um acesso imediato.
- A barra de inicialização rápida é uma barra de ferramentas personalizável, que permite exibir a área de trabalho do Windows ou iniciar um programa com um único clique.

22

Atribua a cada uma das afirmações a seguir o valor verdadeiro (**V**) ou falso (**F**) e assinale a alternativa que apresenta a seqüência correspondente.

- O hardware representa toda parte física do computador.
- O Outlook, mesmo sendo um cliente de e-mail muito utilizado, não tem a opção para gerenciar várias contas de e-mail.
- A Internet, quando compartilhada com vários usuários, é uma peça que aquece muito ao ser utilizada.
- O Windows 98 é um software aplicativo ultrapassado.
- A intranet é muito utilizada, pois facilita o compartilhamento de recursos computacionais e a interligação de microcomputadores.

- F, V, V, V, F
- V, V, F, V, F
- V, F, V, F, V
- V, V, V, V, F
- V, F, F, F, V

23


O Microsoft PowerPoint XP, versão português, é um aplicativo cuja função básica é auxiliar o usuário a montar apresentações, na forma de uma seqüência de telas para projeções, cada tela também é chamada de "slide". Qual o conjunto de teclas de atalho (a serem pressionadas ao mesmo tempo) que adiciona um novo slide ao arquivo?

- CTRL + U
- CTRL + M
- CTRL + ENTER
- CTRL + HOME
- CTRL + END

24

Imagine que você queira enviar uma quantidade muito grande de documentos semelhantes, sendo que cada um deve ser personalizado com o nome e o endereço do destinatário. Uma solução para esse problema pode ser o uso do recurso de **mala direta** do Microsoft Word XP, versão português.

Sobre esse recurso, é **CORRETO** afirmar:

- Quando clicamos no botão , da barra de ferramentas mala direta, todas as informações da mala direta ficam formatadas em caixa alta.
- Quando usamos o BLOCO DE NOTAS como fonte de dados, a mala direta importa direto os nomes do destinatário e endereço.
- O documento principal, que contém o texto, deve sempre apresentar uma tabela com duas colunas, a primeira para o texto e a segunda para o preenchimento automático das informações.
- Uma desvantagem no uso da mala direta é que as informações vindas do arquivo de dados não sofrem atuação da ferramenta "Ortografia e gramática".
- Pelo índice reflexivo do WORD são ordenados os nomes dos destinatários do documento.

25

A **Internet** é um conglomerado de milhões de **computadores**, em rede, interligados através de protocolos de comunicação que permitem o acesso a informações e **transferência de dados**. Assinale a alternativa **CORRETA** referente ao uso da Internet.

- Em www.fsadu.org.br, o **WWW** é o sufixo.
- O Outlook utiliza o protocolo SMTP e E-MAIL.
- O Internet Explorer é um browser.
- O MSN utiliza conexão P2P.
- O Telnet é bastante usado para transmissão de vídeo pela Internet. Um exemplo clássico é o site de compartilhamento de vídeo **YOUTUBE**.

Conhecimentos Gerais

26

A chamada “greve de 1951”, movimento político contra a investidura de Eugênio Barros no governo, contou com ampla participação popular e ajudou a criar uma nova imagem para a cidade de São Luís, imagem essa designada pela expressão

- a) Jamaica Brasileira
- b) Atenas Brasileira
- c) Esparta Maranhense
- d) Ilha dos Amores
- e) Ilha Rebelde

27

A política maranhense, no sec. XIX, era inteiramente dominada por pequenos e fracionados grupos de interesse chamados de

- a) plutocracia.
- b) oligarquia.
- c) teocracia.
- d) ditadura.
- e) comunismo.

28

Pertencente à região Nordeste, o Maranhão é o estado que mais próximo está da região Norte e o noroeste do estado possui características físicas dessa região. Por isso, diz-se que as terras maranhenses estão situadas na zona de transição chamada de

- a) caatinga do noroeste.
- b) meio- nordeste.
- c) zona da mata.
- d) meio-norte.
- e) cocais da Amazônia.

29

A cidade de Alcântara sedia importante projeto aeroespacial e de comunicações. O referido projeto é desenvolvido no

- a) Centro de Lançamento de Alcântara.
- b) Centro de Pesquisa Espacial de Alcântara.
- c) Instituto de Pesquisa Espacial de Alcântara.
- d) Instituto Nacional de Pesquisa Espacial de Alcântara.
- e) Centro de Exploração Espacial de Alcântara.

30

As festas juninas, um conjunto de manifestações folclóricas profanas e religiosas, homenageiam:

- a) Santo Antônio, São João, São Pedro, Sant' Ana e São Benedito.
- b) Santo Antônio, São João, São Pedro, São José e São Marçal.
- c) Santo Antônio, São João, São Pedro, Sant' Ana e São Marçal.
- d) Santo José, São João, São Pedro, Sant' Ana e São Marçal.
- e) Santo Antônio, São Benedito, São Pedro, Sant' Ana e São Marçal.

Conhecimentos Específicos

31

A empresa Bacanga Suprimentos de Informática Ltda. possuía, no início de dezembro de 2007, estoque de equipamentos e materiais de informática, adquiridos, durante os exercícios de 2006 e 2007, ao valor de R\$ 135.000,00. Por ocasião do encerramento do exercício, a empresa apurou que o valor de mercado desses itens patrimoniais correspondia a R\$ 98.000,00, por conta de lançamentos de novos produtos no mercado. Ao deixar de contabilizar a provisão para ajuste ao valor de mercado, o contador não atendeu ao princípio contábil do(a):

- a) Prudência
- b) Oportunidade
- c) Registro pelo Valor Original
- d) Competência
- e) Atualização Monetária

32

A João do Vale Equipamentos Musicais possuía uma dívida a pagar no valor atualizado de R\$ 85.000,00, vencida em 30/07/2007, contraída com seu principal fornecedor. Em 25/02/2008, após longas tratativas, a João do Vale Equipamentos Musicais conseguiu um desconto de 20% sobre o valor dos encargos moratórios (juros e multa), e assinou um contrato de reconhecimento de dívida, para pagamento em 60 dias do saldo remanescente. A contabilização da transação pela João do Vale Equipamentos Musicais resultou em

- a) um fato contábil modificativo aumentativo.
- b) um fato contábil misto aumentativo.
- c) um fato contábil misto, somente.
- d) uma transição contratual mas não em um fato contábil.
- e) um fato permutativo para quitação da dívida.

33

O Balanço Patrimonial da empresa Cajazeiras Construções Ltda. registrou Passivo Exigível quatro vezes menor que o Ativo. No exercício seguinte, enquanto o Ativo aumentou 40%, o Passivo Exigível diminuiu 20%. Nessas condições, o Capital Próprio

- a) aumentou 80%
- b) aumentou 60%
- c) aumentou 40%
- d) diminuiu 60%
- e) diminuiu 50%

34

A João do Vale Equipamentos Musicais apurou os seguintes dados de seus registros contábeis:

- I. Fretes e seguros das mercadorias adquiridas – R\$ 35.000,00;
- II. Compras de mercadorias: R\$ 75.000,00;
- III. Estoque final de mercadorias: R\$ 23.000,00;
- IV. Receita Líquida de vendas: R\$ 380.000,00;
- V. Estoque inicial de mercadorias: R\$ 55.000,00;
- VI. Outras receitas operacionais – Aluguel de Equipamentos Musicais: R\$ 130.000,00;
- VII. Receitas não operacionais – Receita Financeira: R\$ 13.000,00.

Após a apuração, verificou-se que o Lucro Bruto importou em

- a) R\$ 368.000,00
- b) R\$ 238.000,00
- c) R\$ 381.000,00
- d) R\$ 203.000,00
- e) R\$ 261.000,00

35

Aproveitando-se da baixa no preço da moeda estrangeira, a Cajazeiras Construções Ltda. contraiu empréstimo no valor de US\$ 60.000,00 (sessenta mil dólares), com a cotação do dia em 1 US\$ = R\$ 1,35. Dois meses depois, pagou o montante de US\$ 25.000,00, quando o dólar estava a R\$ 1,45. Mais um mês depois, pagou novamente US\$ 15.000,00, quando o dólar estava cotado a R\$ 1,60. No mês subsequente, mês do último pagamento, o dólar passou para R\$ 1,65. O valor da variação monetária passiva acumulada foi de

- a) R\$ 15.000,00
- b) R\$ 12.500,00
- c) R\$ 13.350,00
- d) R\$ 14.000,00
- e) R\$ 12.250,00

36

Sabendo-se que o preço de venda unitário de um determinado produto é R\$ 800,00, sua margem de contribuição unitária é de R\$ 500,00, e os custos fixos totais são R\$ 275.000,00, apure a quantidade a ser vendida para que a empresa aufera um lucro líquido de 180.000,00.

- a) 650 unidades
- b) 780 unidades
- c) 910 unidades
- d) 830 unidades
- e) 735 unidades

37

A empresa Industrial Olho D'Água Ltda. fabrica produtos ao custo variável unitário de 50% do preço de venda. Sabendo-se que os custos fixos totalizam R\$ 635.000,00, apure o valor do faturamento necessário para atingir o ponto de equilíbrio.

- a) R\$ 1.270.000,00
- b) R\$ 1.150.000,00
- c) R\$ 1.300.000,00
- d) R\$ 1.080.000,00
- e) R\$ 1.089.000,00

38

A Prefeitura de Mar Revolto recebeu, em doação, de um organismo internacional um veículo para o transporte escolar. Ao escriturar o recebimento da doação, o técnico contábil da Prefeitura deverá

- a) registrar o fato como receita extra-orçamentária, creditando em contrapartida Bens Móveis.
- b) debitar a Conta de Bens Imóveis, em contrapartida de uma Mutação Patrimonial.
- c) registrar o fato como receita orçamentária, debitando em contrapartida Bens Móveis.
- d) debitar a Conta de Bens Imóveis, em contrapartida de um Acréscimo Patrimonial.
- e) creditar Bens Imóveis em contrapartida de um débito em Variações Ativas.

39

O projeto de Lei Orçamentária Anual do Município de São Luís, enviado para discussão e votação na Câmara de Vereadores, continha dispositivo autorizando a criação de cargo comissionado para a Secretaria Municipal da Juventude e Adolescência, uma nova secretaria, já criada, que passaria a funcionar no ano seguinte. A Câmara, corretamente, arguiu que o projeto de lei feria o princípio orçamentário do(a):

- Responsabilidade Fiscal
- Exclusividade
- Especificação
- Materialidade
- Universalidade

40

No pagamento de uma duplicata de R\$ 500,00, a empresa Ribeirão Ltda. recebeu um desconto de 5% pelo adiantamento da obrigação. O técnico contábil da Ribeirão escriturou o fato da seguinte forma:

- | | |
|--------------------------|------------|
| D – Duplicatas a Receber | R\$ 475,00 |
| C – Bancos | R\$ 475,00 |
- | | |
|------------------------|------------|
| D – Duplicatas a Pagar | R\$ 475,00 |
| C – Bancos | R\$ 475,00 |
- | | |
|------------------------|------------|
| D – Bancos | R\$ 475,00 |
| C – Duplicatas a Pagar | R\$ 500,00 |
| C – Juros Ativos | R\$ 25,00 |
- | | |
|--------------------------|------------|
| D – Bancos | R\$ 475,00 |
| C – Duplicatas a Receber | R\$ 500,00 |
| C – Descontos Concedidos | R\$ 25,00 |
- | | |
|-------------------------|------------|
| D – Duplicatas a Pagar | R\$ 500,00 |
| C – Descontos Recebidos | R\$ 25,00 |
| C – Bancos | R\$ 475,00 |

41

Considere os seguintes fatos praticados pela empresa **Pacotilha Ltda.**, em certo período:

- pagamento de impostos a recolher – R\$ 450,00;
- recebimento de título – R\$ 1.000,00, com juros de 8%;
- compra de mercadorias – R\$ 5.000,00, pagando entrada de R\$ 1.300,00 e o restante a prazo.

Após contabilizar as operações, o técnico da **Pacotilha** concluiu que

- o resultado do período foi negativo em R\$ 80,00.
- o passivo aumentou em R\$ 3.700,00.
- o passivo diminuiu em R\$ 3.250,00
- o ativo aumentou em R\$ 3.330,00.
- o ativo aumentou em R\$ 4.780,00.

42

Dentre as opções abaixo, uma não representa conta de natureza patrimonial. Assinale-a.

- Depreciação Acumulada
- Exaustão
- Provisão para Devedores Duvidosos
- Ágio a Amortizar
- Impostos a Recolher

43

Dentre as opções abaixo, apenas uma encerra características da Lei de Diretrizes Orçamentárias, previstas na Constituição Federal. Assinale-a.

- Orientar a elaboração da parcela do Plano Plurianual a que se referir a Lei de Diretrizes.
- Estabelecer as diretrizes para as despesas correntes e outras delas decorrentes.
- Fixar os limites da dívida flutuante com fornecedores de bens e serviços.
- Fixar o montante dos créditos orçamentários a serem alocados na Lei Orçamentária Anual.
- Compreender as metas e prioridades da administração pública, incluindo as despesas de capital para o exercício financeiro seguinte.

44

Abaixo são apresentadas cinco opções que tratam de créditos retificadores do orçamento, mas apenas uma é **CORRETA**. Assinale-a.

- Os créditos suplementares e especiais são abertos por lei e autorizados por decreto do Poder Executivo.
- São créditos especiais os destinados a cobrir despesas urgentes e imprevistas, como aquelas decorrentes de comoção intestina ou calamidade pública.
- São créditos adicionais as autorizações de despesas não computadas ou insuficientemente dotadas na Lei Orçamentária Anual.
- A abertura dos créditos suplementares, especiais e extraordinários depende da prévia existência de recursos financeiros disponíveis para acudir à despesa.
- O superávit patrimonial apurado no Balanço financeiro do ano anterior é fonte de recurso para a abertura de créditos adicionais no decorrer do exercício seguinte.

45

Abaixo são apresentados itens que se relacionam a comandos inseridos na Lei nº 4.320/1964. Analise-os, classifique-os em V (verdadeiro) ou F (falso) e marque a opção **CORRETA**.

- I. Pertencem ao exercício financeiro as receitas nele lançadas e as despesas pagas.
 - II. Constituem Restos a Pagar as despesas empenhadas, mas não pagas até o dia 31 de dezembro do exercício do seu empenho.
 - III. A importância da despesa anulada, no próprio exercício do seu empenho, considerar-se-á receita do período quando do seu recolhimento.
 - IV. O empenho da despesa não poderá exceder o limite dos créditos disponíveis, exceto nos casos de despesas extraordinárias, decorrentes de guerra externa, calamidade pública ou comoção intestina.
 - V. A liquidação da despesa consiste na verificação do direito adquirido pelo credor e tem por base os títulos e documentos comprobatórios do respectivo crédito.
- a) F, V, V, V, V
 - b) V, V, V, V, V
 - c) F, V, F, F, V
 - d) F, V, V, V, F
 - e) V, V, F, F, V

46

Analise a relação de receitas abaixo.

- ✓ Receita da alienação de ativos
- ✓ Receita da arrecadação de Impostos
- ✓ Receita de aplicação financeira
- ✓ Receita de empréstimos
- ✓ Receita de serviços
- ✓ Receita de serviços de sinalização náutica
- ✓ Receita industrial

Na relação constam

- a) Apenas uma receita de capital.
- b) Apenas receitas correntes.
- c) Quatro receitas correntes e três receitas de capital.
- d) Três receitas correntes e quatro receitas de capital.
- e) Cinco receitas correntes e duas receitas de capital.

47

Escolha dentre as opções a seguir, aquela que é classificada como receita extra-orçamentária.

- a) Empréstimos autorizados na lei orçamentária, cujo pagamento será realizado no próprio exercício.
- b) Multas por atraso no pagamento de tributos.
- c) As decorrentes do leilão de veículos considerados antieconômicos.
- d) Recebimento de aluguéis.
- e) As decorrentes do leilão de mercadorias apreendidas.

48

A Lei Orçamentária do Município de Madre Deus, para exercício de 2007, continha autorização para a realização de despesas correntes no valor de R\$ 150.000,00, e R\$ 36.000,00 de despesas de capital. Já para a receita, a previsão ficou em R\$ 163.000,00 e R\$ 23.000,00, para receitas correntes e de capital, respectivamente. No final do exercício, apurou-se a execução de despesas correntes no valor de 147.000,00 de despesas correntes e R\$ 34.500,00 de despesa de capital. Por sua vez, a receita arrecadada importou em 181.500,00, dos quais 161.300,00 foram receitas correntes e R\$ 20.200,00, receitas de capital. O Balanço Orçamentário demonstrará

- a) déficit de capital de R\$ 2.700,00
- b) déficit corrente de R\$ 3.000,00
- c) superávit corrente de R\$ 3.000,00
- d) déficit de capital de R\$ 14.300,00
- e) superávit de capital de R\$ 1.500,00

49

Considerando que 20% das despesas empenhadas foram pagas e que as despesas pagas representam 40% das despesas liquidadas, o valor a ser inscrito em restos a pagar não processados representam, em relação às despesas empenhadas,

- a) 50%
- b) 47%
- c) 30%
- d) 55%
- e) 38%

50

Com relação à Dívida Ativa, de que trata o art. 39 da Lei nº 4.320/1964 (Lei da Contabilidade Pública), é verdadeiro afirmar que é

- a) crédito da fazenda pública de natureza iminentemente tributária, consideradas também as contribuições sociais.
- b) crédito da fazenda pública que só se escritura como receita no exercício da sua arrecadação.
- c) crédito de natureza tributária ou não tributária, reconhecido como receita no momento da inscrição na Dívida Ativa.
- d) crédito da fazenda pública que goza de liquidez e certeza, o que retira do contribuinte o direito de questioná-lo, quer por via administrativa, quer judicialmente.
- e) dívida tributária, compreendendo, além dos tributos, os empréstimos compulsórios, as contribuições estabelecidas em lei, as multas, os foros e laudêmos.