

PREFEITURA MUNICIPAL DE SÃO LUÍS

SECRETARIA MUNICIPAL DE ADMINISTRAÇÃO

Concurso Público para Provimento de Cargos Efetivos e Cadastro de Reserva do Quadro de Pessoal dos Órgãos da Administração Direta e Indireta da Prefeitura Municipal de São Luís/MA

EDITAL Nº 001/2008, de 16 de Maio de 2008.

PROVA OBJETIVA

MOTORISTA

INSTRUÇÕES:

- Verifique se este caderno contém 40 questões sendo: 10 de Língua Portuguesa, 10 de Matemática, 05 de Conhecimentos Gerais e 15 de Conhecimentos Específicos.
- Verifique na Folha de Respostas se o seu nome e número do documento de identificação estão corretos.
- Em cada questão, você deve assinalar somente uma das alternativas, conforme indicado abaixo:

CERTO						ERRADO					
	A	B	C	D	E		A	B	C	D	E
1	<input checked="" type="radio"/>	<input type="radio"/>	<input type="radio"/>	<input type="radio"/>	<input type="radio"/>	21	<input checked="" type="radio"/>	<input type="radio"/>	<input type="radio"/>	<input type="radio"/>	<input type="radio"/>
2	<input type="radio"/>	<input checked="" type="radio"/>	<input type="radio"/>	<input type="radio"/>	<input type="radio"/>	22	<input type="radio"/>	<input checked="" type="radio"/>	<input type="radio"/>	<input type="radio"/>	<input type="radio"/>
3	<input type="radio"/>	<input type="radio"/>	<input checked="" type="radio"/>	<input type="radio"/>	<input type="radio"/>	23	<input type="radio"/>	<input checked="" type="radio"/>	<input type="radio"/>	<input type="radio"/>	<input type="radio"/>
4	<input type="radio"/>	<input type="radio"/>	<input type="radio"/>	<input checked="" type="radio"/>	<input type="radio"/>	24	<input type="radio"/>	<input checked="" type="radio"/>	<input type="radio"/>	<input type="radio"/>	<input type="radio"/>
5	<input type="radio"/>	<input type="radio"/>	<input type="radio"/>	<input type="radio"/>	<input checked="" type="radio"/>	25	<input type="radio"/>	<input checked="" type="radio"/>	<input type="radio"/>	<input type="radio"/>	<input type="radio"/>
6	<input type="radio"/>	<input type="radio"/>	<input type="radio"/>	<input type="radio"/>	<input checked="" type="radio"/>	26	<input checked="" type="radio"/>	<input type="radio"/>	<input type="radio"/>	<input checked="" type="radio"/>	<input type="radio"/>

- Será anulada a questão que contiver emenda, rasura ou, ainda, a que apresentar mais de uma alternativa assinalada na Folha de Respostas.
- Ao marcar a alternativa correta na Folha de Respostas, use caneta esferográfica de tinta preta, ponta grossa.
- Ao final da prova, devolva ao fiscal de sala a Folha de Respostas assinada no local indicado.
- Os 2 (dois) últimos candidatos de cada sala só poderão ser liberados juntos.
- O Gabarito Oficial da Prova Objetiva será publicado até 72 (setenta e duas) horas a contar do dia subsequente ao da sua realização, afixado no quadro de avisos da Secretaria Municipal de Administração de São Luís e no quadro de avisos da Fundação Sôsândrade, disponibilizado ainda nos endereços eletrônicos www.fsadu.org.br e www.sousandrade.org.br
- As provas objetivas serão também disponibilizadas no prazo e nos endereços eletrônicos supracitados.

Boa prova!

A duração total da prova é de 3 horas. Este tempo inclui a marcação da Folha de Respostas.
Você só poderá levar o Caderno de Provas após transcorridas 2h 30 min do início das provas.

NOME _____

INSCRIÇÃO _____

DATA / HORÁRIO _____

fsadu

Fundação Sôsândrade de Apoio
ao Desenvolvimento da UFMA

Língua Portuguesa

Leia o **TEXTO** para responder às questões de **01 a 05**.

TEXTO

O carro cruzava uma caatinga abafada, aquela vegetação espinhenta, quase agressiva, de semideserto. Desviava de buracos enormes no asfalto da BR 222, que sai de Fortaleza para dentro do sertão. E eu me lembrava daquela frase dita pelo copiloto do avião, na minha primeira chegada a essa terra. “No Ceará, há três estações do ano: quente, muito quente e arretado de quente”. Bota calor nisso. Mas eram todos obstáculos ínfimos. Porque, quando encarei aquela Serra de Ibiapaba, uma chapada bem verde surgida na minha frente... A caatinga deu lugar ao cerrado, a um trecho preservado da Mata Atlântica, depois a uma exuberante floresta tropical de nome quase impronunciável: subcaducifólia.

(Revista Viagem e turismo, edição 146, dezembro de 2007)

01

Segundo o texto,

- I. a caatinga é a única vegetação existente no Ceará.
- II. o calor, entre outras coisas, é superável diante das paisagens do Ceará.
- III. o calor é característica marcante do Ceará.

Está **CORRETO** o que se encontra apenas em:

- a) II e III.
- b) I.
- c) II.
- d) I e III.
- e) I e II.

02

Assinale a alternativa que contém uma expressão de caráter conotativo.

- a) “...A caatinga deu lugar ao cerrado...”
- b) “...nome quase impronunciável...”
- c) “...aquela vegetação espinhenta, quase agressiva...”
- d) “Desviava de buracos enormes...”
- e) “...obstáculos ínfimos...”

03

“Porque, **quando** encarei aquela Serra...”

Em qual das frases a seguir a palavra ou expressão, em destaque, possui o mesmo valor semântico da palavra destacada acima?

- a) Estava doente e **não** fui trabalhar.
- b) **À medida que** anoitece a chuva chega.
- c) Vamos viver em paz **como** irmãos.
- d) Andei **depressa** por causa da chuva.
- e) Vou para casa **antes que** chova.

04

“...um trecho **preservado** da Mata Atlântica...”

A palavra destacada no trecho acima tem seu sinônimo expresso na alternativa:

- a) vendido
- b) preparado
- c) asfaltado
- d) conservado
- e) demarcado

05

No trecho “O carro cruzava uma caatinga **abafada**, aquela vegetação **espinhenta**, quase agressiva, de **semideserto**.” as palavras destacadas são classificadas, respectivamente, de acordo com a gramática normativa, como

- a) adjetivo, substantivo, adjetivo.
- b) adjetivo, adjetivo, substantivo.
- c) substantivo, advérbio, substantivo.
- d) substantivo, substantivo, adjetivo.
- e) adjetivo, advérbio, adjetivo.

06

O período pode ser classificado, segundo a gramática normativa, como simples ou composto. Assinale a alternativa a seguir que traz somente um período simples.

- a) Viva, sorria, cante tudo vale à pena.
- b) Não vale a pena gritar e não ser ouvido.
- c) Fale-me apenas palavras que tragam paz ao coração.
- d) A vida vale pouco nesta cidade.
- e) Começou a chover e água já escorre na rua.

07

Qual alternativa possui apenas palavras acentuadas graficamente pela mesma regra que acentua a palavra “obstáculos”?

- a) Estático, egoísta, glúteo.
- b) Herói, árvore, Ceará.
- c) Próximo, límpido, esplêndido.
- d) Teleférico, atlântico, caráter.
- e) Tímido, incrível, mútuo.

08

Assinale a alternativa em que todas as palavras estão **CORRETAMENTE** escritas.

- a) macio, rezina, atrazo
- b) tocha, querozene, gaz
- c) rocha, busina, flexa
- d) tesoura, gazolina, toxa
- e) gasolina, querosene, combustível

09

Assinale a alternativa cujo termo destacado na frase indica um modo, uma maneira.

- a) O inverno chegou **bruscamente** este ano.
- b) **Jamais** direi que sinto saudade.
- c) **Diante da casa** havia uma jaqueira.
- d) Gosto **muito** de café.
- e) **Onde** está a esperança?

10

Em qual alternativa a pontuação está **CORRETA**?

- a) Por que o Brasil, fala, em toda sua extensão, a mesma língua!
- b) O homem, adoce o mundo com a poluição.
- c) Para ser feliz cante, ou dance ou, faça o bem a todos.
- d) “Pouco se aprende com a vitória, mas muito com a derrota.”
- e) Animais, plantas rios, e mares, precisam ser protegidos.

Matemática

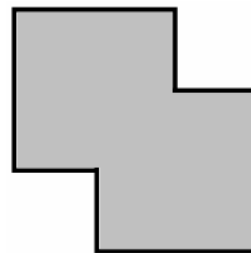
11

Se o preço de um produto deve aumentar 130%, para saber o novo preço basta multiplicar o preço atual por

- a) 1,3
- b) 2,3
- c) 7
- d) 1,7
- e) 2,7

12

Na decoração de uma galeria, em uma das paredes será pintada uma região semelhante à ilustrada na figura a seguir.



Essa região é obtida pela sobreposição parcial de dois quadrados, de modo que cada um tenha um dos vértices no centro do outro. Se a área dessa região mede 4.375 cm^2 , os lados desses quadrados medem

- a) 5 cm
- b) 25 cm
- c) 50 cm
- d) 12,5 cm
- e) 15 cm

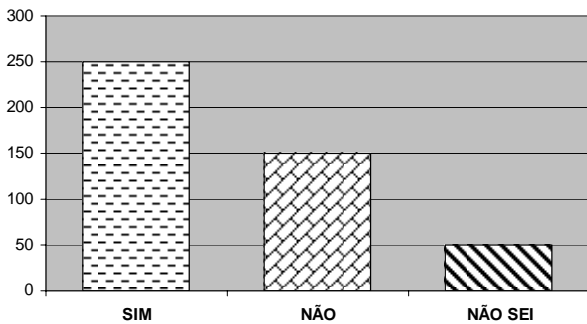
13

Num grupo de 25 pessoas, há 13 homens e 12 mulheres. Nesse grupo, com toda certeza,

- a) há duas pessoas que aniversariam em dezembro.
- b) há duas mulheres que aniversariam no mesmo mês.
- c) há quatro pessoas que aniversariam no mesmo mês.
- d) há uma pessoa que aniversaria em março.
- e) há dois homens que aniversariam no mesmo mês.

14

Numa pesquisa de opinião entre consumidores, o entrevistado poderia responder *SIM*, *NÃO* ou *NÃO SEI*. O gráfico a seguir apresenta o resultado da pesquisa (os entrevistados que não responderam foram contados para a resposta *NÃO SEI*).



Analisando os dados contidos nesse gráfico, é **CORRETO** afirmar que

- a) foram entrevistados mais de 500 consumidores.
- b) responderam *SIM* mais de 50% dos entrevistados.
- c) responderam *NÃO SEI* 10% dos entrevistados.
- d) responderam *NÃO* menos de 30% dos entrevistados.
- e) responderam *SIM* metade dos entrevistados.

15

Quanto custa 1 centavo?

TEXTO NAILA OKITA

Nove centavos! E a culpa não é das matérias-primas: os “ingredientes” (aço carbono e uma película de cobre) saem por meio centavo no mercado internacional. São as etapas de fabricação que encarecem o produto: a eletrodeposição do cobre sobre o aço, a cunhagem e a embalagem. Se fizemos as contas, são mais de R\$ 93 milhões de prejuízo desde o início do Plano Real. Sorte que o déficit é amenizado pela produção de cédulas, que são bem mais baratas. O custo de uma cédula de 1 real, por exemplo, são os mesmos 9 centavos.

(Revista SUPER INTERESSANTE, Edição 252 – Mai/2008)

Com base nas informações contidas no texto, assinale a alternativa **CORRETA**.

- a) Fabricando 1 nota de 1 real e 11 moedas de 1 centavo e pagando o custo da produção com o dinheiro fabricado, sobram apenas 3 centavos.
- b) Para cobrir esse déficit de R\$ 93 milhões, bastaria que fossem produzidas 93.000.000 de moedas de um centavo.
- c) Dez moedas de um centavo pagam a produção de nove cédulas de 1 real.
- d) De cada cédula de 1 real produzida, retirado o custo da produção, restam apenas 99 centavos.
- e) De cada moeda de um centavo produzida, retirado o custo de produção, restam apenas 89 centavos.

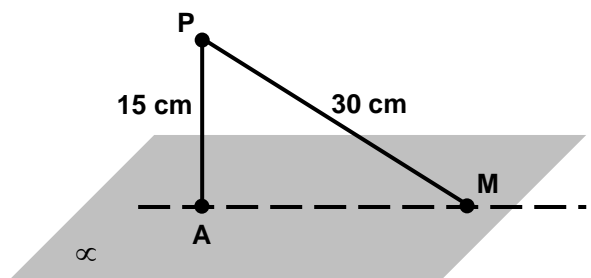
16

Dividindo-se o número 17010 por 135 encontra-se o número **ABC**, em que a letra **A** substitui o algarismo das centenas, **B** substitui o das dezenas e **C** o das unidades. O valor de **A + B + C** é

- a) 7
- b) 8
- c) 10
- d) 11
- e) 9

17

Sejam α um plano; **A**, **M** e **P** pontos tais que **A** e **M** pertencem a α e **P** não pertence a α , conforme figura indicada a seguir.



A medida do lado \overline{AM} do triângulo retângulo **APM** é

(Use: $\sqrt{3} = 1,73$)

- a) 24,22 cm
- b) 27,22 cm
- c) 25,95 cm
- d) 17,30 cm
- e) 31,14 cm

18

A função $f(x) = x^2 - 6x + R$ tem raízes reais e distintas. Nessas condições, é certo que

- a) $f(1) = 0$
- b) $f(3) < 0$
- c) $f(9) = 0$
- d) $f(6) > 0$
- e) $f(0) = 9$

19

O valor numérico da expressão

$$\frac{27^x \cdot 3^{-2}}{243^x \cdot \left(\frac{1}{81}\right)^x}$$

para $x = 3$ é:

- a) $\frac{1}{243}$
- b) 243
- c) 3
- d) 3^{10}
- e) 81

20

“A função do 1º Grau dada por $f(x) = 6 - 2x$ tem raiz igual a _____, é _____, seu gráfico é uma _____ que intercepta o eixo Oy no ponto de ordenada _____ e $f(5)$ é _____ 2.”

Assinale a alternativa cujas expressões completam **CORRETAMENTE** a sentença acima.

- a) 2; positiva; parábola; 3; igual a
- b) 6; crescente; reta; 2; igual a
- c) 3; decrescente; reta; 6; menor que
- d) 2; negativa; circunferência; 3; maior que
- e) 6; bijetora; reta; 2; menor que

Conhecimentos Gerais

21

Os dois maiores rios que cortam a cidade de São Luís e deságuam na baía de São Marcos chamam-se

- a) Munim e Mearim.
- b) Preguiça e Bacanga.
- c) Itapecuru e Anil.
- d) Anil e Bacanga.
- e) Mearim e Preguiça.

22

Graves são os problemas de saúde pública no Brasil. Os brasileiros têm assistido surpresos ao reaparecimento de doenças aparentemente controladas nas suas maiores cidades, a exemplo do Rio de Janeiro, vítima recente de um grande surto de

- a) dengue.
- b) malária.
- c) tuberculose.
- d) febre amarela.
- e) cólera.

23

Embora o carnaval seja uma festa nacional, algumas manifestações e ritmos carnavalescos existem apenas em determinado lugar. É o caso do Maranhão, único Estado onde se pode encontrar

- a) o trio elétrico.
- b) a escola de samba.
- c) o baile de máscara.
- d) o bloco tradicional.
- e) o corso.

24

Entre os anos de 1838 e 1841, grave conflito político e social, entre “cabanos” e “bentivis”, dividiu o Maranhão. Esse conflito é conhecido pelo nome de

- a) Sabinada.
- b) Balaiada.
- c) Farroupilha.
- d) Praieira.
- e) Cabanada.

25

Neste ano, todos os municípios brasileiros escolherão seus chefes do executivo municipal e seus legisladores. Para tanto, elegerão

- a) prefeitos e vereadores.
- b) governadores e prefeitos.
- c) senadores e vereadores.
- d) governadores e vereadores.
- e) prefeitos e senadores.

Conhecimentos Específicos

26

Marque a alternativa que completa **CORRETAMENTE** a frase indicada abaixo.

É permitido trafegar pelo acostamento

- para rebocar um veículo acidentado ou com problemas mecânicos.
- para acessar imóveis lindeiros ou fazer conversões.
- quando a pista estiver congestionada
- quando a estrada estiver com o trânsito parado.
- para ultrapassar veículos lentos.

27

Transitando por uma via de tráfego intenso, depois de um dia cansativo de trabalho, o motorista deve

- buzinar para abrir caminho.
- permanecer na faixa da esquerda.
- dirigir depressa para chegar logo em casa.
- redobrar a atenção e concentrar-se no tráfego.
- ligar o rádio com música relaxante e dirigir pela faixa da direita.

28

Ao passar de uma via urbana para uma via rodoviária, qual o procedimento **CORRETO**?

- Obedecer à sinalização e trafegar com mais cuidado.
- Trafegar bem devagar.
- Confiar na habilidade e na potência do veículo e fazer a passagem.
- Atravessar essas áreas, utilizando a buzina.
- Acelerar e passar rapidamente.

29

Ultrapassar veículo em movimento que integre um cortejo ou um desfile com a autorização de um agente de trânsito

- é uma infração de trânsito considerada leve.
- é uma infração de trânsito considerada gravíssima.
- é uma infração de trânsito considerada grave.
- é uma infração de trânsito considerada média.
- não é considerado uma infração de trânsito.

30

Atualmente, as principais fontes de poluição do ar nas grandes cidades são

- os incineradores.
- as queimadas.
- os automóveis e as indústrias.
- os fogões a gás.
- as queimas de carvão.

31

A figura abaixo é uma placa _____, que indica _____.



Qual das alternativas abaixo completa **CORRETAMENTE** a frase acima:

- educativa; proibido mudar de faixa de trânsito.
- de regulamentação; proibido mudar de faixa de trânsito da esquerda para a direita.
- de advertência; sentido proibido.
- de regulamentação; proibido dobrar para a direita.
- de advertência; proibido retornar à direita.

32

Ao dirigir veículo reprovado na inspeção de emissão de gases, o condutor está sujeito à

- apreensão e cassação da CNH.
- multa e advertência escrita.
- reciclagem obrigatória na renovação da CNH.
- multa e retenção do veículo.
- advertência escrita ao proprietário do veículo.

33

O motorista negligente pode ser definido como aquele que

- expõe a si próprio e as demais pessoas a riscos desnecessários, sem medir conseqüências.
- dirige perigosamente, sem levar em consideração as condições adversas existentes no momento em que trafega.
- não sabe como agir em situações de emergência.
- não está suficientemente capacitado para usar determinado tipo de veículo.
- dirige e cuida do veículo com desleixo, displicência ou descaso.

34

Sabendo que omissão de socorro é crime, um motorista, ao se deparar com um motociclista caído, ainda com o capacete na cabeça, na via que trafegava, deve

- sinalizar o local, chamar o resgate e verificar a respiração.
- remover imediatamente o capacete do motociclista.
- ajudar o motociclista a erguer-se.
- remover o capacete, se ele estiver consciente.
- remover o capacete, se ele estiver inconsciente.

35

Executar operação de retorno em locais proibidos pela sinalização, é uma infração de trânsito

- grave, punível com multa e 05 (cinco) pontos na carteira.
- gravíssima, punível com multa, apreensão do documento de habilitação e 07 (sete) pontos na carteira.
- gravíssima, punível com multa e 07 (sete) pontos na carteira.
- grave, punível com multa, apreensão do documento de habilitação e 05 (cinco) pontos na carteira.
- média, punível com multa e 04 (quatro) pontos na carteira.

36

O atendimento inicial feito no local de um acidente de trânsito visa, principalmente,

- socorrer a vítima, evitando despesas hospitalares.
- auxiliar a vítima e evitar conseqüências danosas em razão de atendimento e transporte inadequados.
- fazer a ocorrência policial, evitando-se ir à delegacia.
- preparar a vítima para cirurgia.
- manter a vítima viva, sem se preocupar com as conseqüências.

37

Um microônibus trafega por uma estrada sinalizada com a placa indicada a seguir:



Após percorrer alguns quilômetros, esse microônibus ingressa numa rodovia não sinalizada. A partir desse ponto, a velocidade máxima permitida para esse veículo

- passa a ser 120 km/h.
- continua sendo de 80 km/h.
- passa a ser 100 km/h.
- passa a ser 110 km/h.
- passa a ser de 90 km/h.

38

Assinale a alternativa que se refere **CORRETAMENTE** a via arterial.

- Ruas, avenidas, vielas, ou caminhos e similares abertos à circulação de veículos.
- Aquela caracterizada por interseções em nível, geralmente controlada por semáforos, com acessibilidade aos lotes lindeiros e às vias secundárias e locais, possibilitando o trânsito entre as regiões das cidades.
- Aquela caracterizada por acessos especiais com trânsito livre sem interseções em nível, sem acessibilidade direta aos lotes lindeiros.
- Aquela caracterizada por interseções em nível não semaforizadas.
- Aquela destinada a coletar e distribuir o trânsito que tenha necessidade de entrar ou sair das vias.

39

Analise as afirmações indicadas a seguir, identificando as verdadeiras (V) ou falsas (F).

- () A Carteira Nacional de Habilitação – CNH é documento de porte obrigatório para os condutores de veículos. Tem o mesmo valor que a original da CNH, uma fotocópia autenticada em cartório, inclusive, para fins de evitar o cometimento de infração de trânsito.
- () O rodízio serve para evitar que os pneus da tração gastem de forma desigual.
- () Os veículos que se deslocam sobre trilhos têm prioridade de passagem sobre os demais, no entanto, a lei não obriga o condutor a parar antes do cruzamento com via férrea.
- () O estacionamento se caracteriza pela parada do veículo por tempo superior ao necessário para o embarque e/ou desembarque.
- () Estacionar o veículo afastado de 20 (vinte) a 49 (quarenta e nove) centímetros da guia da calçada é uma infração de trânsito considerada leve.

A seqüência **CORRETA** das respostas é:

- V, V, F, V, F
- F, F, V, F, V
- V, F, V, V, F
- F, V, F, V, F
- F, V, V, F, F

40

Relacione a 2ª coluna de acordo com a 1ª coluna.

1ª Coluna

- (1) Sinais de Trânsito
- (2) Sinalização Semafórica
- (3) São medidas administrativas impostas pelo agente de trânsito nos locais das infrações.
- (4) São comportamentos nocivos ao trânsito, provocados pela ingestão de bebidas alcoólicas.
- (5) Via terrestre.

2ª Coluna

- () O excesso de velocidade, as manobras arriscadas, a avaliação incorreta de distâncias e a perda do controle da situação.
- () Sinais luminosos, controlados eletronicamente, que servem para controlar o fluxo de veículos e pedestre.
- () É a superfície por onde transitam veículos, pessoas e animais, compreendendo pistas de rolamento, acostamentos, calçadas ou passeios públicos, ilhas e canteiros.
- () São usados para orientar, advertir e disciplinar a circulação dos elementos do trânsito ao longo das vias.
- () A **Retenção do Veículo**: quando a irregularidade pode ser sanada no local da infração e o **Recolhimento do Documento de Habilitação – CNH e PPD**: sob suspeita de adulteração ou inautenticidade de documento.

A alternativa que contém a seqüência **CORRETA** de respostas é:

- a) 5, 1, 3, 4, 2
- b) 4, 5, 3, 2, 1
- c) 4, 2, 5, 1, 3
- d) 2, 5, 4, 3, 1
- e) 1, 5, 4, 3, 2