




Companhia Catarinense de Águas e Saneamento

Concurso Público (edital nº 001/2006)

Caderno de provas

Prova: M5

Técnico em contabilidade



Técnico em contabilidade

Dia: 21 de maio de 2006 • Horário: das 14 h às 18 h

Duração: 4 (quatro) horas, incluído o tempo para o preenchimento do cartão-resposta.

Instruções

Para fazer a prova você usará:

- este caderno de prova;
- um cartão-resposta que contém o seu nome, número de inscrição e espaço para assinatura.

Confira o número que você obteve no ato da inscrição com o que está indicado no cartão-resposta.

Verifique, no caderno de prova:

- se faltam folhas, se a seqüência de questões, no total de 50 (cinquenta), está correta;
- se há imperfeições gráficas que possam causar dúvidas.

Comunique imediatamente ao fiscal qualquer irregularidade.

- Não é permitido qualquer tipo de consulta durante a realização da prova.
- Para cada questão são apresentadas 5 (cinco) alternativas diferentes de respostas (a, b, c, d, e). Apenas uma delas constitui a resposta correta em relação ao enunciado da questão.
- A interpretação das questões é parte integrante da prova, não sendo permitidas perguntas aos fiscais.
- Não destaque folhas da prova.

Ao terminar a prova, entregue ao fiscal o caderno de prova completo e o cartão-resposta devidamente preenchido e assinado.

O gabarito da prova será divulgado até 4 (quatro) horas após a constatação do efetivo encerramento da sua realização, no site:

- <http://casan.fepese.ufsc.br>

Conhecimentos gerais

(20 questões)

Língua portuguesa

(5 questões)

1. Texto:

“Sou um homem comum
brasileiro, maior, casado, reservista,
e não vejo na vida, amigo,
nenhum sentido, se não
lutarmos juntos por um mundo melhor.

Poeta fui de rápido destino.
Mas a poesia é rara e não comove
nem move pau-de-arara

(...)

Homem comum, igual a você
cruzo a avenida sob a pressão do imperialismo.
A sombra do latifúndio mancha a paisagem,
turva as águas do mar
e a infância nos volta
à boca, amarga,
suja de lama e de fome.
Mas somos muitos milhões de homens comuns
E podemos formar uma muralha
Com nossos corpos de sonho e margaridas”.

Entre as alternativas abaixo, assinale a que mais diretamente se refere ao sentido do fragmento do poema “Homem Comum”, de Ferreira Gullar:

- a. () Diferente dos outros homens, o poeta usa a imaginação e o sonho para lutar contra a opressão.
- b. () A poesia é a única força que permitirá corrigir os males do mundo, torná-lo melhor.
- c. () O objetivo do poeta é identificar-se com os outros homens para, juntos, lutarem por um mundo melhor.
- d. () Não há possibilidade de melhorar o mundo, a não ser na imaginação e nos sonhos do poeta.
- e. () A finalidade do poeta é procurar o sentido absoluto, eterno, totalizante da vida.

2. Em:

“**Sou** um homem comum
brasileiro, maior, casado, reservista,
e não vejo na vida, amigo,
nenhum sentido, se não
lutarmos juntos por um mundo melhor”

No texto acima, os verbos destacados estão, respectivamente, no:

- a. () Presente do indicativo e futuro do subjuntivo.
- b. () Presente do subjuntivo e futuro do presente indicativo.
- c. () Pretérito perfeito do indicativo e pretérito mais-que-perfeito.
- d. () Presente do subjuntivo e pretérito perfeito do indicativo.
- e. () Pretérito mais-que-perfeito do indicativo e futuro do subjuntivo.

3. Em:

“Poeta fui de rápido destino.
Mas a poesia é rara e **não** comove
Nem move o pau-de-arara”.

Os termos em negrito são, respectivamente:

- a. () conjunção subordinativa causal, advérbio, conjunção coordenativa alternativa.
- b. () advérbio, conjunção subordinativa temporal, conjunção coordenativa aditiva.
- c. () advérbio, conjunção coordenativa adversativa, conjunção coordenativa conclusiva.
- d. () conjunção subordinativa final, advérbio, conjunção subordinativa condicional.
- e. () conjunção coordenativa adversativa, advérbio, conjunção coordenativa aditiva.

4. Nas frases abaixo, assinale a alternativa em que **não** ocorre crase:

- a. () A força de pensar acabou adormecendo.
- b. () Cheguei as dez horas.
- c. () Os marinheiros já voltaram a terra.
- d. () Há fatos que eu não revelaria , cara a cara, a ninguém.
- e. () Ele já se dirigiu a Bahia.

5. Analise as construções dos períodos abaixo e marque a alternativa **correta**, quanto à regência verbal:

- I. Não obedeço o semáforo a noite.
 - II. Quero muito aos meus pais.
 - III. O médico assiste o doente.
 - IV. Assistimos o espetáculo.
- a. () Apenas estão incorretos os períodos II e III.
 - b. () Apenas estão corretos os períodos II e III.
 - c. () Apenas estão corretos os períodos I e IV.
 - d. () Apenas estão corretos os períodos II e IV.
 - e. () Apenas estão incorretos os períodos III e IV.

Aspectos históricos e geográficos de SC

(5 questões)

6. Leia a notícia.

Falta de água e poluição ameaçam a Terra

Relatório da ONU mostra um quadro sombrio para humanidade

“Nova York, EUA – Quarenta por cento da população mundial enfrentam escassez de água e 2,2 milhões de pessoas morrem a cada ano por beberem água contaminada; outras 3 milhões são mortas por causa da poluição provocada dentro de suas casas pela queima de lenha ou restos de colheita para cozinhar. A procura de alimentos está aumentando enquanto a produção deles diminui e metade dos grandes primatas, os animais mais próximos do homem, está à beira da extinção. Com dados alarmantes como esses, a Organização das Nações Unidas (ONU) lançou ontem um relatório salientando a necessidade de mais apoio ao desenvolvimento sustentável em todo o mundo para diminuir a destruição e manter a segurança da Terra e seus habitantes [...]”.

FONTE: *Jornal A Notícia*. Disponível em <http://www.an.com.br/2002/ago/14/0pai.htm>.

Assinale a alternativa que identifica a região de Santa Catarina onde ocorrem os problemas mais graves de poluição das águas, causados pelo processo de exploração do carvão, afetando o abastecimento de água potável, a fauna e a flora.

- a. () Região da capital. Baías norte e sul da Ilha de Santa Catarina.
- b. () Norte do estado. Baía de Babitonga.
- c. () Região sul do estado. Bacias hidrográficas dos rios Tubarão, Araranguá e Urussanga.
- d. () Norte do estado. Rio Cachoeira.
- e. () Meio-oeste do estado. Bacia hidrográfica do Rio do Peixe.

Técnico em contabilidade

7. Assinale a afirmação **correta** em relação às microrregiões geográficas de Santa Catarina.

- a. () Microrregião geográfica é uma forma de divisão territorial que agrupa os municípios com características parecidas. O município de São Pedro de Alcântara pertence à microrregião geográfica de Tijucas.
- b. () Microrregião geográfica é uma forma de divisão territorial que agrupa os municípios com características parecidas. O município de Witmarsum pertence à microrregião geográfica de São Miguel do Oeste.
- c. () Microrregião geográfica é uma forma de divisão territorial que agrupa os municípios com características parecidas. O município de Anita Garibaldi pertence à microrregião geográfica de Tubarão.
- d. () Microrregião geográfica é uma forma de divisão territorial que agrupa os municípios com características parecidas. O município de Turvo pertence à microrregião geográfica de Criciúma.
- e. () Microrregião geográfica é uma forma de divisão territorial que agrupa os municípios com características parecidas. O município de Águas Mornas pertence à microrregião geográfica do Tabuleiro.

8. Assinale a afirmação **verdadeira** a respeito do relevo do estado de Santa Catarina.

- a. () O estado de Santa Catarina apresenta quatro grandes unidades de relevo: a planície litorânea, a planície costeira, os planaltos e serras do leste e o planalto ocidental.
- b. () O estado de Santa Catarina apresenta cinco grandes unidades de relevo: a planície litorânea, a planície costeira, os planaltos e serras do leste, as serras litorâneas e o planalto ocidental.
- c. () O estado de Santa Catarina apresenta seis grandes unidades de relevo: a planície litorânea, a planície costeira, os planaltos e serras do leste, as serras litorâneas, o planalto ocidental e o planalto litorâneo.
- d. () O estado de Santa Catarina apresenta três grandes unidades de relevo: a planície litorânea (também chamada de costeira), os planaltos e serras do leste (incluindo as serras litorâneas) e o planalto ocidental.
- e. () O estado de Santa Catarina apresenta nove grandes unidades de relevo: a planície litorânea, a planície costeira, o planalto do leste, a serra do leste, a Serra do Mar, as serras do leste, as serras litorâneas e o planalto ocidental e o planalto litorâneo.

9. Leia o texto.

“ Os paulistas que vinham ao sul caçar índios para vendê-los como escravos nos mercados de São Vicente e Bahia, aos poucos foram se fixando no litoral de Santa Catarina. Assim, provavelmente em 1658, Manoel Lourenço de Andrade transferiu-se com toda sua parentela, escravos e agregados.[...] No lugar onde se estabeleceu já havia uma capela [...]. Apoiado pelo governo de São Vicente, Manoel Lourenço teve condições para garantir o progresso do lugar, onde fora designado capitão-mor”.

FONTE: *SANTOS, Silvio Coelho*. Nova História de Santa Catarina. Florianópolis: Editora da UFSC, p.38.

Assinale a alternativa que corresponde à vila do litoral catarinense, cuja origem é descrita no texto.

- a. () São Francisco do Sul.
- b. () São Miguel.
- c. () Desterro.
- d. () Imbituba.
- e. () Laguna.

10. No período regencial da História do Brasil, irrompeu no Rio Grande do Sul a Revolução Farroupilha. Um dos episódios da história de Santa Catarina tem uma íntima relação com este movimento revolucionário.

Assinale a alternativa que identifica **corretamente** esse episódio.

- a. () República do café-com-leite.
- b. () República Juliana.
- c. () Revolta dos Maragatos.
- d. () Revolução Federalista.
- e. () Movimento Tenentista.

Matemática

(5 questões)

11. A caixa de água de uma casa tem capacidade de armazenamento de 2000 litros. Sabendo que ela possui base quadrada, com 1 metro de lado, assinale a alternativa que indica a altura desta caixa de água.

- a. () 2 metros.
- b. () 20 metros.
- c. () 2 centímetros.
- d. () 2 decímetros.
- e. () 20000 centímetros.

12. Um reservatório de água, com base retangular, possui as seguintes medidas internas:

- Altura = 650 cm.
- Comprimento = 800 cm.
- Largura = 10 m.

Considerando-se que o reservatório apresenta um problema e não pode receber água nos 3 metros superiores, assinale a alternativa que indica a capacidade disponível para o armazenamento de água neste reservatório.

- a. () 280 litros.
- b. () 520 m³.
- c. () 280.000 dm³.
- d. () 517.600 dm³.
- e. () 520.000 cm³.

13. Para encontrar o mês em que se obteve o menor valor de uma ação negociada numa bolsa de valores, em determinado ano, é necessário resolver a equação abaixo, considerando t os meses do ano analisado:

▪ $2t^2 - 20t + 60 = 10$.

Assinale a alternativa que representa a solução desta equação.

- a. () $t = 5$.
- b. () $t = 10$.
- c. () $t = 1$.
- d. () $t = 6$.
- e. () $t = 1,5$.

14. Uma construtora está executando uma obra e prevê a sua realização em quatro etapas. A tabela abaixo relaciona a fração do serviço total que foi executado, após a conclusão de cada uma das três primeiras etapas:

ETAPAS	Fração do serviço total executado
Etapa 1	$\frac{2}{5}$
Etapa 2	$\frac{1}{3}$
Etapa 3	$\frac{1}{5}$

Assinale a alternativa que indica a fração do serviço total de execução da obra que deve ser realizada na etapa 4 para que a obra seja concluída.

- a. () $\frac{14}{15}$.
- b. () $\frac{4}{13}$.
- c. () $\frac{9}{13}$.
- d. () $\frac{1}{15}$.
- e. () $\frac{2}{75}$.

15. Em um campeonato de basquete, um time ganhou 33 jogos dos 44 que foram disputados. Assinale a alternativa que indica o percentual de jogos que não foram ganhos.

- a. () 75 %.
- b. () 33 %.
- c. () 11 %.
- d. () 30 %.
- e. () 25 %.

Noções de informática

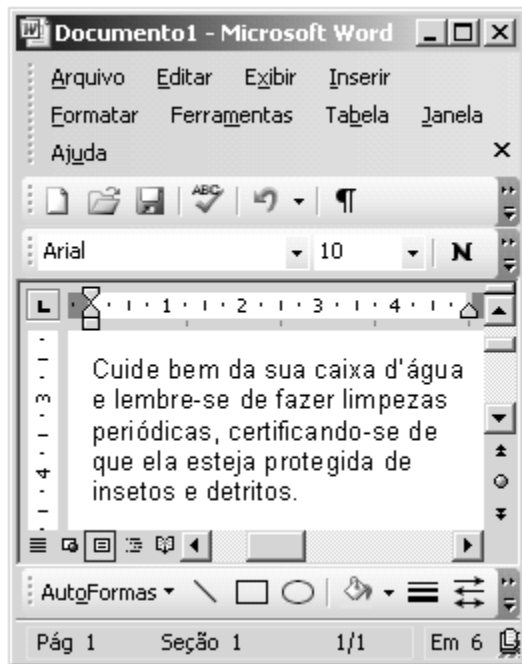
(5 questões)

16. Assinale a alternativa **correta**.




Num microcomputador, no que se refere ao **armazenamento de grande quantidade de dados**, são usados os dispositivos:

- a. () Disco flexível (*floppy disc*) e disco rígido (*hard disc – HD*).
- b. () Disco rígido (*hard disc – HD*) e disco óptico (*CD/DVD-ROM*).
- c. () Memória RAM e fita magnética.
- d. () Disco rígido (*hard disc – HD*) e disco flexível (*floppy disc*).
- e. () Memória ROM e disco óptico (*CD/DVD-ROM*).



17. A figura a seguir apresenta uma janela reduzida do aplicativo **Microsoft Word 2003** e mostra um documento sendo editado. O aplicativo está configurado em sua configuração padrão, em português.



Considerando o que apresenta a janela anterior, assinale a alternativa correta.

- Para que o cursor seja posicionado na primeira posição do parágrafo, basta clicar o botão .
- Pode-se afirmar que o parágrafo mostrado na figura é o primeiro parágrafo do texto sendo editado.
- Uma forma de selecionar todo o parágrafo mostrado na figura é clicar três vezes em qualquer uma das palavras do texto.
- Para salvar o documento sendo editado com o nome **Cuidados1.doc** basta clicar o botão .
- Para alterar o estilo da fonte sendo utilizado, basta clicar o botão  e escolher na janela que será apresentada o estilo de fonte desejado.

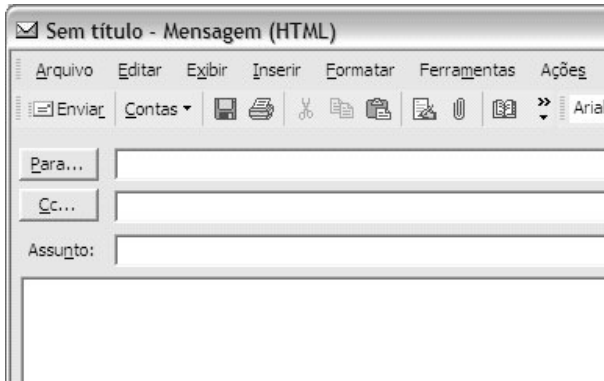
18. Considere as afirmações a seguir sobre o **Microsoft Excel 2003**.

- Quando um ou mais símbolos **?** aparecem dentro de uma célula, isto significa que o valor numérico ou o resultado da fórmula aplicada é muito grande para ser exibido dentro da célula.
- Uma forma de adicionar **bordas e grades** a um conjunto de células de uma planilha é selecionar estas células, clicar na seta à direita do botão **Bordas**  da barra de formatação e escolher a opção **Todas as bordas**.
- Através do uso da ferramenta **Pincel**  pode-se copiar a formatação de uma célula para outra.

Assinale a seguir a alternativa correta.

- Apenas as afirmações I e II estão corretas.
- Apenas as afirmações I e III estão corretas.
- Somente a afirmação II está correta.
- Apenas as afirmações II e III estão corretas.
- Somente a afirmação III está correta.

19. A respeito da janela de edição de mensagens de e-mail do Microsoft Outlook, mostrada na figura abaixo, é **correto** afirmar:



- a. () No campo à direita do botão “Para...” deve ser digitado o endereço de e-mail do principal destinatário da mensagem. Caso deseje enviar a mesma mensagem para mais de um destinatário, o usuário deve digitar os endereços de e-mail dos demais destinatários no campo à direita do botão “Cc...”.
- b. () O botão “Contas” permite escolher as contas de e-mail dos destinatários para os quais esta mensagem será enviada.
- c. () O botão “Enviar” efetua o envio da mensagem para as máquinas de cada um dos destinatários listados nos campos à direita dos botões “Para...” e “Cc...”.
- d. () O campo “Assunto”, no qual deve ser especificado o assunto da mensagem, não pode ser deixado em branco, pois isto causaria um erro no envio da mensagem.
- e. () O botão “Para...”, ao ser pressionado, exibe a lista de contatos do usuário, na qual podem ser selecionados um ou mais destinatários para os quais esta mensagem será enviada.

20. Leia atentamente as seguintes afirmativas, que tratam da rede Internet e de sua utilização:

- I. A Internet é uma rede de longa distância que interliga outras redes de computadores.
- II. Alguns sistemas operacionais e programas aplicativos podem ser atualizados automaticamente através da Internet.
- III. A atualização automática de software através da Internet auxilia a proteger o computador de ataques de *hackers* e de vírus.

A respeito das afirmativas apresentadas, é **correto** afirmar que:

- a. () Apenas as afirmativas I e II estão corretas.
- b. () Todas as afirmativas estão corretas.
- c. () Apenas as afirmativas II e III estão corretas.
- d. () Somente a afirmativa I está correta.
- e. () Somente a afirmativa III está correta.

Conhecimentos específicos

(30 questões)

21. Assinale a alternativa **correta**.

- a. () Do ponto de vista estático, a Contabilidade controla expõe e analisa as modificações ocorridas no patrimônio.
- b. () Do ponto de vista dinâmico, a Contabilidade estuda, controla, expõe e analisa os elementos que compõem o patrimônio.
- c. () O patrimônio de uma entidade pode ser definido como um conjunto de bens, direitos e obrigações.
- d. () No Ativo são encontradas as obrigações e os direitos da empresa.
- e. () No Passivo são encontrados os bens, os direitos e as obrigações da entidade.

22. Assinale a alternativa **correta**, quanto à classificação dos bens patrimoniais

- a. () As marcas e patentes são considerados bens corpóreos.
- b. () Instalações elétricas e hidráulicas são considerados bens incorpóreos, pois dificilmente ficam visíveis em uma empresa.
- c. () Dinheiro em moeda no caixa da empresa é um bem incorpóreo.
- d. () Os bens são todos os elementos materiais e imateriais que integram o patrimônio de uma entidade.
- e. () O ponto comercial é um bem corpóreo

23. Assinale a alternativa **correta** quanto às contas que integram o Ativo Permanente Imobilizado.

- a. () Estoques de mercadorias, clientela e ponto comercial.
- b. () Contas a receber de clientes e móveis e utensílios.
- c. () Estoques de matéria prima e marcas e patentes.
- d. () Veículos, edificações, terrenos, amortização e exaustão de bens do imobilizado.
- e. () Veículos e investimentos permanentes em coligadas e controladas.

24. A empresa Alfa realizou a seguinte transação: Aquisição de uma máquina para fabricação de tecidos no valor de R\$ 50.000,00, sendo pagos R\$ 25.000,00 à vista em dinheiro e R\$ 25.000,00 em 60 dias. Assinale a alternativa que possui os lançamentos corretos.

- a. () Débito de R\$ 50.000,00 no Ativo Permanente Imobilizado, conta máquinas; Crédito na conta caixa de R\$ 25.000,00; e crédito de R\$ 25.000,00 na conta fornecedores.
- b. () Crédito na conta bancos de R\$ 25.000,00; crédito de R\$ 25.000,00 no Ativo Permanente Imobilizado conta máquinas; e débito na conta fornecedores de R\$ 25.000,00
- c. () Crédito na conta caixa de R\$ 50.000,00; Débito de R\$ 25.000,00 no Ativo Permanente Imobilizado conta máquinas; e débito na conta fornecedores de R\$ 25.000,00
- d. () Crédito de R\$ 50.000,00 na conta caixa e débito de R\$ 50.000,00 na conta máquinas do Ativo Permanente Investimento.
- e. () Débito na conta caixa de R\$ 25.000,00; crédito de R\$ 50.000,00 no Ativo Permanente Imobilizado conta máquinas; e débito na conta fornecedores de R\$ 25.000,00

25. Assinale a alternativa **correta** quanto às funções das contas patrimoniais.

- a. () Na conta Seguros a Vencer são registradas as parcelas pagas antecipadamente das despesas de seguros contra incêndio, furto e colisão.
- b. () Na conta Valores Mobiliários são registrados os valores a receber de clientes.
- c. () A conta Banco Conta Movimento indica o saldo em conta bancária que não pode ser movimentado livremente.
- d. () A conta ICMS a Recuperar é utilizada para registrar os valores do ICMS incidentes sobre vendas, incluído no preço da venda.
- e. () Na conta Estoques de Produtos em Elaboração são registrados os estoques da empresa prontos para ser comercializados.

26. Dados:

- Disponível R\$ 5.000,00;
- Clientes R\$ 13.000,00;
- Estoques R\$ 8.000,00;
- Provisão para Devedores Duvidosos R\$ 1.000,00;
- Realizável a Longo Prazo R\$ 10.000,00;
- Fornecedores R\$ 15.000,00;
- Salários a Pagar R\$ 15.000,00;
- Empréstimos a pagar R\$ 3.000,00;
- Permanente R\$ 15.000,00;
- Capital Social R\$ 7.000,00;
- Lucros Acumulados R\$ 10.000,00;
- Receita Operacional Líquida R\$ 12.000,00.

Assinale a alternativa **correta**.

- a. () Ativo R\$ 51.000,00 e Passivo R\$ 49.000,00.
- b. () Ativo R\$ 50.000,00 e Passivo R\$ 50.000,00.
- c. () Ativo R\$ 62.000,00 e Passivo R\$ 50.000,00.
- d. () Ativo R\$ 50.000,00 e Passivo R\$ 62.000,00.
- e. () Ativo R\$ 51.000,00 e Passivo R\$ 62.000,00.

27. Assinale a alternativa **correta**.

- a. () Quando o ativo da empresa for maior que o passivo exigível, não há situação líquida positiva.
- b. () A situação líquida nula ocorre quando não existe equilíbrio entre as contas de ativo e passivo exigível.
- c. () A situação líquida negativa ocorre quando o ativo é maior que o passivo.
- d. () Quando o ativo é menor que o passivo exigível, a situação líquida é denominada de patrimônio líquido.
- e. () Quando o ativo da empresa for maior que o passivo exigível, há situação líquida positiva.

28. Assinale a alternativa **correta**. Quando o patrimônio líquido é devedor (negativo), tem-se a situação patrimonial denominada:

- a. () Ativo a descoberto.
- b. () Total das obrigações são menores que o total do patrimônio líquido.
- c. () Ativo e passivo a descoberto.
- d. () Lucro líquido nulo.
- e. () Passivo a descoberto.

29. Assinale a alternativa **correta**.

- a. () As contas patrimoniais são aquelas que registram as receitas e as despesas.
- b. () As contas de resultado são aquelas que registram as receitas, as despesas, os bens e direitos.
- c. () Quanto à movimentação que sofrem, as contas podem ser unilaterais e bilaterais.
- d. () As contas contábeis podem ser consideradas estáveis quando seus saldos ora são devedores, ora, credores.
- e. () Quanto à variação na natureza do saldo, as contas contábeis podem ser sintéticas e analíticas.

30. Dados:

- Ativo Total R\$ 100.000,00;
- Passivo Total R\$ 100.000,00;
- Despesas com seguros pagas antecipadamente R\$ 2.000,00;
- Receita Bruta de Vendas R\$ 1.000.000,00;
- Impostos Incidentes sobre Vendas R\$ 250.000,00;
- Custos dos Produtos Vendidos R\$ 550.000,00;
- Despesas Administrativas R\$ 50.000,00;
- Despesas Financeiras R\$ 30.000,00;
- Receitas financeiras R\$ 10.000,00;
- Despesas com Vendas R\$ 40.000,00;
- Outras Despesas R\$ 10.000,00.

Assinale a alternativa **correta**.

O lucro líquido do exercício será de:

- a. () R\$ 80.000,00.
- b. () R\$ 68.000,00.
- c. () R\$ 60.000,00.
- d. () R\$ 170.000,00.
- e. () R\$ 78.000,00.

31. Assinale a alternativa **correta** quanto à classificação das contas.

- a. () A conta Provisão para Desvalorização dos Estoques é classificada na Demonstração do Resultado do exercício.
- b. () A conta Impostos a Recolher é classificada no Ativo Circulante ou no Realizável a Longo Prazo.
- c. () A conta Reserva de Reavaliação é classificada no Ativo Circulante.
- d. () A conta Exaustão Acumulada é uma conta redutora e é classificada no Ativo Permanente Imobilizado.
- e. () A conta Empréstimos Concedidos a Diretores é classificada no Passivo Circulante.

32. Dados:

- Caixa R\$ 5.000,00;
- Bancos R\$ 15.000,00;
- Aplicações Financeiras (90 dias para resgate) R\$ 60.000,00;
- Aplicações Financeiras (400 dias) R\$ 14.000,00;
- Estoques de Produtos R\$ 10.000,00;
- Provisão para Redução de Estoques R\$ 500,00;
- Clientes a Receber 60.000,00;
- Provisão para Devedores Duvidosos R\$ 3.500,00;
- Outras Contas do Ativo Circulante R\$ 2.000,00.

Assinale a alternativa **correta**.

O Total do Ativo Circulante é de:

- a. () R\$ 160.000,00
- b. () R\$ 152.000,00
- c. () R\$ 156.000,00
- d. () R\$ 154.000,00
- e. () R\$ 148.000,00

33. Assinale a alternativa **correta**.

- a. () Imóveis destinados à venda são classificados no Ativo Permanente Diferido.
- b. () Imóveis destinados à venda são classificados no Ativo Permanente Investimento.
- c. () Imóveis destinados à venda são classificados no Ativo Circulante ou no Realizável a Longo Prazo.
- d. () Imóveis destinados à venda são classificados no Ativo Permanente Imobilizado.
- e. () Imóveis destinados à venda são classificados no Ativo Permanente Investimento e Diferido.

34. Assinale a alternativa **correta**.

- a. () O Passivo é formado pelo Exigível, pelo Patrimônio Líquido e pelo Diferido.
- b. () O Ativo é constituído pelos bens e direitos que são classificados no Circulante, Realizável a Longo Prazo e Permanente.
- c. () O Ativo é formado pelos bens, direitos que são classificados no Circulante, Realizável a Longo Prazo, Permanente e Resultado de Exercícios Futuros.
- d. () O grupo de contas Resultado de Exercícios Futuros é Classificado nas contas da Demonstração do Resultado do Exercício.
- e. () O Patrimônio Líquido é classificado no Ativo Permanente.

35. Dentre as alternativas apresentadas, assinale a afirmativa **correta**:

- a. () Azienda e gestão são conceitos que se confundem, sendo que ambos se constituem na organização de pessoas.
- b. () Aplica-se a contabilidade às entidades econômico-administrativas, também denominadas de aziendas.
- c. () A contabilidade é simplesmente a técnica de escrituração de atos e fatos da administração econômica.
- d. () De acordo com a corrente doutrinária, o objeto e o campo de aplicação da contabilidade são, respectivamente, o controle dos valores patrimoniais e a administração financeira das empresas.
- e. () É função econômica da contabilidade efetuar o registro dos fatos contábeis.

36. O Contador da Comercial BOAVENDA levantou os seguintes dados contábeis, constantes da contabilidade da empresa:

Contas contábeis	Valores em \$
Caixa	6.000
Máquinas e equipamentos	50.000
Capital social	50.000
Receitas com vendas	200.000
Despesas de salários	30.000
Despesas de juros	2.000
Juros a pagar	1.000
Depreciação acumulada	25.000
Despesas de depreciação	5.000
Duplicatas a receber	60.000
Lucros acumulados	20.000
Fornecedores	40.000
Salários a pagar	30.000
Despesas de aluguel	5.000
Custo da mercadoria vendida	130.000
Mercadorias para revenda	78.000

De acordo com as informações levantadas pelo Contador da empresa, assinale a alternativa **correta** que demonstra o valor apurado das contas devedoras e das contas credoras no Balancete de verificação:

- a. () \$ 366.000,00 e \$ 366.000,00
- b. () \$ 341.000,00 e \$ 341.000,00
- c. () \$ 194.000,00 e \$ 194.000,00
- d. () \$ 169.000,00 e \$ 169.000,00
- e. () \$ 336.000,00 e \$ 336.000,00

37. Com relação aos inventários, assinale a alternativa que representa a afirmativa **correta**:

- a. () Entende-se por inventário permanente entende-se como sendo aquele que ocorre quando os estoques existentes são avaliados na data de encerramento do exercício social, através de contagem física.
- b. () O inventário periódico é aquele que acompanha passo a passo todos os fatos que envolvem mercadorias, de modo que a conta Mercadorias para revenda, a qualquer momento, reflete o valor das mercadorias em estoque.
- c. () Na avaliação dos estoques, os métodos permitidos pela legislação brasileira são: o método do Custo Médio Ponderado Móvel, o método PEPS e o método UEPS.
- d. () As empresas que possuem registro permanente de estoques não poderão fazer o inventário das mercadorias pelo custo médio. Essas empresas deverão fazer a contagem física dos estoques no final do período-base e avaliá-los pelos custos das últimas aquisições.
- e. () Inventário, no sentido amplo, representa a verificação de existências patrimoniais por meio do levantamento individualizado dos bens e valores ativos e passivos de uma entidade.

38. A Cia. Mercantil da Titia utiliza o critério PEPS para avaliar seus estoques. Neste mês, o seu saldo inicial de estoques e a correspondente movimentação assim se apresentam:

Operação realizada	Quantidade	Valor unitário \$	Valor total \$
Estoque inicial	80	400,00	32.000,00
Compra a vista	80	600,00	48.000,00
Venda a vista	40	800,00	32.000,00
Venda a vista	80	1.200,00	96.000,00
Compra a vista	120	700,00	84.000,00
Venda a vista	20	1.200,00	24.000,00

De acordo com as informações acima, assinale a alternativa que representa o valor correto do estoque final pelo critério PEPS:

- a. () \$ 86.000,00
- b. () \$ 91.000,00
- c. () \$ 56.000,00
- d. () \$ 96.000,00
- e. () \$ 98.000,00

39. Como deve ser feito o registro/apuração do custo das mercadorias adquiridas para revenda, quando são cobrados o ICMS e o IPI, sendo a empresa contribuinte do ICMS, mas não contribuinte do IPI? Assinale a alternativa **correta**:

- a. () Incluindo o ICMS e excluindo o IPI.
- b. () Incluindo o IPI e o ICMS.
- c. () Incluindo o IPI e excluindo o ICMS.
- d. () Excluindo o IPI e o ICMS.
- e. () Excluindo o IPI e o ICMS, mas incluindo o ICMS relativo à revenda.

40. Determinada empresa comercial levantou os seguintes dados em sua contabilidade:

Estoque final de mercadorias	\$ 40
Compras de mercadorias	\$ 220
Devolução de compras	\$ 20
Lucro bruto de vendas de mercadorias	\$ 330
Devolução de vendas	\$ 80
Receita com vendas de mercadorias	\$ 880

- As compras e as vendas estão sujeitas a impostos (ICMS) de 20%.

Com os dados fornecidos, assinale a alternativa **correta**, que representa o Estoque inicial de mercadorias:

- a. () \$ 254,00
- b. () \$ 190,00
- c. () \$ 194,00
- d. () \$ 214,00
- e. () \$ 238,00

41. Das afirmativas apresentadas a seguir, assinale a alternativa **correta**:

- a. () Os métodos usualmente utilizados para calcular as depreciações são: método das quotas constantes ou linear; método da soma dos dígitos dos anos; método das unidades produzidas; e método de horas trabalhadas.
- b. () As depreciações representam perdas do valor dos bens intangíveis do ativo permanente.
- c. () As depreciações não alcançam os bens tangíveis, classificados como Investimentos.
- d. () O saldo da conta Amortização acumulada é credor e deve ser transferido para a Apuração do Resultado do exercício.
- e. () A desvalorização de máquinas e equipamentos, por uso ou desgaste de funcionamento, pertencente a uma empresa reflorestadora, será objeto de exaustão.

42. A Cia. Boa Praça adquiriu uma máquina industrial para ser utilizada na área de produção pelo valor de \$ 120.000,00. A compra ocorreu em 10/07/2005. A máquina industrial somente entrou em funcionamento/atividade no dia 01/08/2005. A taxa de depreciação anual permitida e utilizada pela empresa foi de 10%. Assinale a alternativa **correta** que representa os encargos de depreciação acumulados até o final do exercício social, encerrado em 31/12/2005:

- a. () \$ 6.000,00
- b. () \$ 12.000,00
- c. () \$ 5.500,00
- d. () \$ 10.000,00
- e. () \$ 5.000,00

43. Assinale a afirmativa **correta**.

Na Demonstração das Origens e Aplicações de Recursos – DOAR:

- a. () A reversão de uma Reserva de Contingências, no exercício que deixar de existir a razão que justificou a sua constituição, afetará a Demonstração das Origens e Aplicação de Recursos
- b. () O aumento do Ativo Diferido representa uma origem de recursos.
- c. () Considera-se como uma aplicação de recursos a redução do Passivo Exigível a longo prazo.
- d. () A redução do Ativo Realizável a longo prazo se constitui em uma aplicação de recursos.
- e. () O aumento dos custos de Resultados de Exercícios Futuros e a contribuição para Reservas de Capital representam respectivamente, uma origem e uma aplicação de recursos.

44. Das Demonstrações das Origens e Aplicações de Recursos da Santa Catarina Industrial em 31/12/2004 e 31/12/2005, foram colhidos os seguintes elementos:

	Valor em 31/12/2004	Valor em 31/12/2005
Capital Circulante Líquido Positivo	3.736.000	8.012.432
Passivo Circulante	2.715.200	2.570.468

Em decorrência, é correto afirmar que o aumento do Ativo Circulante da empresa, de 31/12/2004 para 31/12/2005, foi de:

- a. () \$ 50.000,00.
- b. () \$ 310.000,00.
- c. () \$ 150.000,00.
- d. () \$ 200.000,00.
- e. () \$ 60.000,00.

45. Na DOAR – Demonstração das Origens e Aplicações de Recursos da Cia. Mercantil Florianópolis, as ORIGENS de recursos somaram \$ 1.300,00. Apurou-se, também, os seguintes dados complementares:

Ativo Circulante

Saldo no início do período	\$ 1.600
Saldo no final do período	\$ 2.400

Passivo Circulante

Saldo no início do período	\$ 900
Saldo no final do período	\$ 1.200

Com base nos dados apresentados, determine a alternativa **correta** que representa o montante das aplicações de recursos da empresa.

- a. () \$ 1.900,00.
- b. () \$ 800,00.
- c. () \$ 1.100,00.
- d. () \$ 2.500,00.
- e. () \$ 2.300,00.

46. Analise os dados.

- Duplicatas a receber \$ 100.000,00.
 - Provisão para devedores duvidosos 3%.
 - Provisão para desvalorização dos estoques 6%.
- a. () Provisão para devedores duvidosos \$ 3.000,00 e provisão para desvalorização dos estoques \$ 6.000,00.
 - b. () Provisão para desvalorização dos estoques \$ 3.000,00.
 - c. () Provisão para devedores duvidosos \$ 9.000,00.
 - d. () Provisão para devedores duvidosos \$ 3.000,00.
 - e. () Provisão para devedores duvidosos \$ 9.000,00 e provisão para desvalorização de estoques \$ 6.000,00.

47. Dados:

- Capital Social Subscrito \$ 120.000,00;
- Capital Social Integralizado \$ 80.000,00;
- Reservas de Lucros \$ 20.000,00;
- Lucros Acumulados \$ 10.000,00;
- Reserva Legal \$ 5.000,00.

Assinale a alternativa **correta**.

O valor do Patrimônio Líquido é:

- a. () \$ 115.000,00.
- b. () \$ 120.000,00.
- c. () \$ 155.000,00.
- d. () \$ 125.000,00.
- e. () \$ 235.000,00.

Técnico em contabilidade

48. A empresa fez a provisão para devedores duvidosos no montante de \$ 10.000,00. Assinale a alternativa que indica o lançamento **correto**.

- a. () Débito em Despesa com Provisão para Devedores Duvidosos de \$ 10.000,00 e crédito em receita com Duplicatas a Receber de \$ 10.000,00.
- b. () Débito em Duplicatas a Receber de \$ 10.000,00 e crédito em Despesa com Provisão para Devedores Duvidosos de \$ 10.000,00.
- c. () Débito em Despesa com Provisão para Devedores Duvidosos de \$ 10.000,00 e crédito em Duplicatas a Receber de \$ 10.000,00.
- d. () Débito em Duplicatas a Receber de \$ 10.000,00 e crédito em Fornecedores de \$ 10.000,00.
- e. () Débito em fornecedores de \$10.000,00 e Crédito de Duplicatas a Receber de \$ 10.000,00.

49. Dados:

- Receita Bruta com Vendas de Mercadorias \$ 550.000,00;
- ICMS 17%;
- Devolução de Mercadorias Vendidas 13% do total das vendas realizadas;
- Custo das Mercadorias Vendidas 50% do valor da Receita Líquida de Vendas;
- Despesas com Vendas \$ 12.500,00.

Assinale a alternativa **correta**.

O Lucro Bruto é de:

- a. () \$ 385.000,00.
- b. () \$ 346.500,00.
- c. () \$ 456.500,00.
- d. () \$ 192.500,00.
- e. () \$ 180.000,00.

50. Considere que o Lucro Bruto é de \$ 50.000,00; Receitas Financeiras de \$ 5.000,00; Despesas Financeiras de \$ 8.000,00; Provisão para Imposto de Renda \$ 2.000,00; Outras Receitas Operacionais \$ 3.000,00; Despesas Administrativas \$ 6.000,00; Contribuição Social \$ 1.000,00.

O Lucro Líquido é de:

- a. () \$ 40.000,00.
- b. () \$ 41.000,00.
- c. () \$ 46.000,00.
- d. () \$ 48.000,00.
- e. () \$ 33.000,00.

Rascunho

Rascunho

Rascunho

Rascunho

Rascunho



CASAN • Companhia Catarinense de Águas e Saneamento
Rua Emílio Blum, nº 83 • 88020-010 • Centro • Florianópolis • SC



FEPESE • Fundação de Estudos e Pesquisas Sócio-Econômicos
Campus Universitário • 88040-900 • UFSC • Florianópolis • SC
Fone/Fax: (48) 3233-0737
<http://www.fepese.ufsc.br>