

PREFEITURA MUNICIPAL DE MANAUS
SECRETARIA MUNICIPAL DE ADMINISTRAÇÃO
SECRETARIA MUNICIPAL DE EDUCAÇÃO
26 DE SETEMBRO DE 2010

NÍVEL MÉDIO

**CARGO 31: TÉCNICO MUNICIPAL
ASSISTENTE DE ADMINISTRAÇÃO**

TARDE

TIPO A

INSTRUÇÕES

Confira seus dados pessoais constantes da sua folha de respostas. Verifique também se o nome do cargo e o tipo de prova impressos neste caderno correspondem aos indicados na sua folha de respostas. Em seguida, verifique se este caderno contém **sessenta** questões, corretamente ordenadas de **1 a 60**. As provas objetivas são constituídas de questões com quatro opções (A, B, C e D) e **uma única resposta correta**.

Em caso de divergência de dados e/ou de defeito no caderno de provas, solicite providências ao fiscal de sala mais próximo.

Transcreva as respostas das questões objetivas para a sua folha de respostas, que é o **único documento válido** para a correção das provas e cujo preenchimento é de sua exclusiva responsabilidade. Serão consideradas marcações indevidas as que estiverem em desacordo com o estabelecido no edital de abertura ou na folha de respostas, tais como marcação rasurada ou emendada, ou campo de marcação não preenchido integralmente. Em hipótese alguma, haverá substituição da folha de respostas por erro de preenchimento por parte do candidato.

Para a marcação na folha de respostas, que é o **único documento válido** para a correção da prova, utilize somente caneta esferográfica de tinta **preta**. Escreva no espaço apropriado da folha de respostas, com a sua caligrafia usual, a seguinte frase de Confúcio:

A essência do conhecimento consiste em aplicá-lo, uma vez possuído.

O descumprimento dessa instrução implicará a anulação das suas provas e sua eliminação do concurso, conforme previsto no edital de abertura.

Não é permitido que a folha de respostas seja preenchida por outra pessoa, ressalvados os casos de atendimento especial previamente deferidos.

É vedado amassar, molhar, dobrar, rasgar ou, de qualquer modo, danificar a sua folha de respostas, sob pena de arcar com os prejuízos decorrentes da impossibilidade de realização da leitura óptica ou da correção.

A duração das provas é de **quatro horas**. Você deverá permanecer, obrigatoriamente, em sala por, no mínimo, uma hora após o início das provas, e poderá levar este caderno somente no decurso dos últimos quinze minutos anteriores ao horário determinado para o seu término.

A desobediência a qualquer uma das determinações constantes dos editais do processo, do presente caderno e da folha de respostas implicará a anulação das suas provas.

CRONOGRAMA

Divulgação do gabarito oficial preliminar das provas objetivas, no endereço eletrônico www.movens.org.br , a partir das 17 horas	28/9/2010
Prazo para entrega de recursos contra o gabarito oficial preliminar das provas objetivas	29 e 30/9/2010
Data provável para divulgação do resultado final das provas objetivas e convocação para a avaliação de títulos	27/10/2010
Data provável para entrega de títulos	28 e 29/10/2010



Utilize este espaço para rascunho.

Leia o texto abaixo para responder às questões de 1 a 5.

O desafio de ler e compreender

1 No Brasil, um em cada dez brasileiros com 15 anos ou
mais não sabe ler e escrever. Uma vergonha que encobre
outras realidades não tão evidentes, mas igualmente
dramáticas, como o fato de que dois terços da população
5 entre 15 e 64 anos são incapazes de entender textos longos,
localizar informações específicas, sintetizar a ideia principal
ou comparar dois escritos. O problema não é reflexo apenas
de baixa escolarização: segundo dados estatísticos, mesmo
considerando a faixa de pessoas que cursaram de 5ª a 8ª
10 série, apenas um quarto delas é plenamente alfabetizado. A
conclusão é que, na escola, os alunos aprendem a ler – mas
não compreendem o que leem.

É preciso virar esse jogo. Em um mundo como o atual,
no qual os textos estão por toda a parte, entender o que
se lê é uma necessidade para poder participar plenamente
15 da vida social. Professores têm um papel fundamental
nessa tarefa. Independentemente do campo de atuação,
o professor pode ajudar os alunos a ler e a compreender
diferentes tipos de texto, incentivando-os a explorar cada
20 um deles. Pode ensiná-los a fazer anotações, resumos,
comentários, facilitando a tarefa da interpretação.

O primeiro passo é firmar um compromisso: ensinar
a ler é tarefa de todas as disciplinas, não apenas de Língua
Portuguesa.

Rodrigo Ratier. Nova Escola, edição especial de janeiro de 2010.
(com adaptações)

QUESTÃO 1

Com base nas ideias apresentadas no texto, assinale a opção correta.

- (A) Ao longo do texto, o autor afirma que os brasileiros com 15 anos ou mais fazem parte de uma parcela da população que já sabe ler e entender um texto; tal fato comprova que o analfabetismo no Brasil foi erradicado.
- (B) A intenção do autor com a frase “É preciso virar esse jogo.” (linha 13) é mostrar que cabe unicamente aos professores de Língua Portuguesa a missão de ensinar os alunos a buscarem alternativas para aprenderem a ler e a compreender um texto.
- (C) A tese defendida pelo autor de que os alunos não sabem ler o que escrevem, abordada no trecho “No Brasil, um em cada dez brasileiros com 15 anos ou mais não sabe ler e escrever.” (linhas 1 e 2), contradiz toda a argumentação apresentada ao longo do texto.
- (D) A proposta do autor é buscar alternativas eficazes para que os alunos não só aprendam a ler, mas também aprendam a compreender aquilo que leem.

QUESTÃO 2

A respeito da pontuação empregada no texto, assinale a opção INCORRETA.

- (A) Não acarretaria prejuízo semântico e sintático ao texto, caso os dois-pontos empregados imediatamente após “escolarização” (linha 8) fossem substituídos por um ponto.
- (B) O travessão inserido imediatamente após “ler” (linha 11) poderia ser substituído por vírgula sem prejudicar a correção gramatical do texto, já que, logo após, o autor apresenta um ideia contrária à apresentada no segundo parágrafo.
- (C) As vírgulas inseridas imediatamente após “atual” (linha 13) e “parte” (linha 14) poderiam ser suprimidas, já que intercalam uma oração de valor explicativo.
- (D) Em “O primeiro passo é firmar um compromisso:” (linha 22), os dois-pontos podem ser substituídos por ponto-e-vírgula sem acarretar prejuízo gramatical ao texto.

QUESTÃO 3

As opções a seguir apresentam trechos textuais. Assinale a opção que apresenta a tipologia semelhante à do texto “O desafio de ler e compreender”.

- (A) “Os dois mais murmuravam que conversavam: havia pouco iniciara-se o namoro e ambos andavam tontos, era o amor: amor com o que vem junto: ciúme.”
(Clarice Lispector)
- (B) “Há tempos, a questão da preservação do meio ambiente entrou no dia a dia das discussões do mundo inteiro. O excesso de poluição emitida pelas indústrias e automóveis do mundo inteiro e a devastação das florestas são as principais causas do efeito estufa.”
(Marcelo Henrique Pereira - Cidadania e Meio Ambiente.)
- (C) “Ali naquela casa de muitas janelas e bandeiras coloridas vivia Rosalina. Casa de gente de casta, segundo eles. Ainda conserva a importância e o porte sensorial, o ar solarengo que o tempo de todo não comeu.”
(Autran Dourado. Ópera dos Mortos.)
- (D) “O casal chegou à cidade tarde da noite. Estavam cansados da viagem, ela grávida, não se sentia bem. Foram procurar um lugar onde passar a noite. Hotel, hospedaria, qualquer coisa serviria, desde que não fosse muito caro.”
(Moacyr Scliar. A massagista japonesa.)

QUESTÃO 4

Com relação às estruturas linguísticas e gramaticais do texto, julgue os itens abaixo como Verdadeiros (V) ou Falsos (F) e, em seguida, assinale a opção correta.

- I – O trecho “Professores têm um papel fundamental nessa tarefa.” (linhas 16 e 17) está empregado em sentido denotativo, enquanto o trecho “É preciso virar esse jogo.” (linha 13) está em sentido conotativo.
- II – A forma verbal “são” (linha 5) está corretamente empregada, pois concorda com “dois terços” (linha 4). Por outro lado, a forma verbal “é” (linha 10) não deveria estar no singular, já que teria que concordar com “um quarto” (linha 10).
- III – No trecho “Professores têm um papel fundamental” (linha 16), “fundamental” é predicativo do objeto e o verbo “têm” recebe o acento circunflexo por estar no plural.
- IV – O termo “a” (linha 9), em sua segunda ocorrência, pode receber, facultativamente, o acento grave, sem causar prejuízo semântico e gramatical ao texto.
- V – A palavra “sintetizar” (linha 6) pode ser substituída por **sumarizar**, sem prejuízo semântico ao texto.”

A sequência correta é:

- (A) V, F, V, F, V.
- (B) V, V, V, V, V.
- (C) F, F, V, F, F.
- (D) F, V, F, V, F.

QUESTÃO 5

Acerca dos aspectos gramaticais e semânticos do texto, julgue os itens abaixo e, em seguida, assinale a opção correta.

- I – A oração “que cursaram de 5ª a 8ª série” tem valor restritivo (linhas 9 e 10) e está no plural para concordar com “pessoas” (linha 9).
- II – A substituição do termo “encobre” (linha 2) por **exibe** prejudica o sentido original do texto.
- III – As palavras “considerando” (linha 9), “alfabetizado” (linha 10) e “independentemente” (linha 17) são advérbios e, ao mesmo tempo, paroxítonas.
- IV – O pronome “os” (linha 19) refere-se a “os alunos” (linha 18).
- V – Na linha 4, a conjunção “como” denota valor concessivo e pode ser substituída por **isto é**, sem acarretar prejuízo semântico ao texto.

Estão certos apenas os itens

- (A) I, II e III.
- (B) III, IV e V.
- (C) I, II e IV.
- (D) IV e V.

QUESTÃO 6

Com relação às ideias e aos aspectos linguísticos apresentados na charge abaixo, assinale a opção correta.



“Não pude fazer os trabalhos de casa porque o meu computador tem um vírus, assim como todos os meus lápis e canetas.”

www.glasbergen.com (com adaptações)

- (A) Ao afirmar a ocorrência de vírus em seus pertences, o aluno tenta provar à professora que sua residência fora invadida por determinado agente infeccioso, o que o impediu de realizar os trabalhos de casa.
- (B) O aluno alega que não fez os trabalhos de casa porque todos os seus lápis e canetas contraíram um vírus de computador.
- (C) O mesmo texto poderia ser reescrito, sem perder o significado ou sofrer alteração de sentido, da seguinte maneira: “Não pude fazer os trabalhos de casa porque o meu computador tem um vírus, e os meus lápis e canetas também o têm”.
- (D) Infere-se da charge que, hoje em dia, com o advento da informática, é justificável deixar de se fazer um trabalho de casa pelo fato de não se ter um computador disponível.

Leia o texto abaixo para responder às questões 7 e 8.

- 1 Não é importante que nos reunamos nos momentos de crise e demonstremos patriotismo agitando a bandeira; não basta que nos tornemos uma superpotência, construindo um arsenal que possa destruir várias vezes este mundo;
- 5 não é suficiente que subjuguemos o resto do mundo com nosso poderio militar, porque não se pode construir a paz sobre alicerces de medo.

Marshall B. Rosenberg. Comunicação não-violenta. São Paulo: Ágora, 2006, p. 15.

QUESTÃO 7

De acordo com as ideias apresentadas no texto, julgue os itens abaixo como Verdadeiros (V) ou Falsos (F) e, em seguida, assinale a opção correta.

- I – Reunir em momentos de crise, demonstrar patriotismo, tornar-se uma superpotência, construir um arsenal de destruição e subjugar o resto do mundo são ações necessárias em momentos de crise.
- II – Demonstrar patriotismo é agitar a bandeira do próprio país.
- III – A paz deve ser construída sobre alicerces de medo em determinadas circunstâncias.
- IV – Não basta demonstrar patriotismo agitando a bandeira para se construir a paz.

A sequência correta é:

- (A) F, F, F, V.
- (B) F, V, V, F.
- (C) V, V, F, V.
- (D) V, F, V, V.

QUESTÃO 8

Acerca dos aspectos linguísticos do texto, assinale a opção correta.

- (A) Os vocábulos “várias” (linha 4) e “superpotência” (linha 3) obedecem à mesma regra de acentuação gráfica.
- (B) O vocábulo “subjuguemos” (linha 5) poderia ser substituído por **desmereçamos**, sem prejuízo semântico ao texto.
- (C) A substituição do vocábulo “porque” (linha 6) por “por que” manteria o sentido do texto, mas acarretaria erro gramatical.
- (D) No contexto, os vocábulos “patriotismo” (linha 2) e “militar” (linha 6) pertencem à mesma classe gramatical e estão empregados em sentido conotativo.

QUESTÃO 9

Assinale a opção que se apresenta conforme o padrão culto da Língua Portuguesa.

- (A) Este é um passo importante para que as escolas possam ter acesso a internet, as redes e a mobilidade.
- (B) Não haveriam dúvidas, se os gestores compreendessem o verdadeiro sentido das mudanças propostas pelo orientador.
- (C) A educação se conquista à medida que se aplicam as técnicas oferecidas por estudiosos de cada área.
- (D) A aplicação de processos de aprendizagem serão necessários a todos os educadores envolvidos nas oficinas.

QUESTÃO 10

De acordo com os aspectos gramaticais e semânticos apresentados na charge, julgue os itens abaixo como Verdadeiros (V) ou Falsos (F) e, em seguida, assinale a opção correta.



www.sergecartoons.com (com adaptações)

- I – Caso o trecho “Houve um tempo” fosse substituído por **Houveram tempos**, haveria somente prejuízo semântico ao texto, mas a concordância se manteria preservada.
- II – A inclusão de uma vírgula imediatamente após o vocábulo “tempo” não causaria prejuízo gramatical ao texto, ao contrário, ela se faz necessária.
- III – A substituição da forma verbal “eram” por **foram**, embora aceita pelo padrão culto da Língua Portuguesa, daria um novo sentido à informação, prejudicando, dessa forma, o sentido da charge.
- IV – O acento agudo do vocábulo “árvores” se justifica por se tratar de uma palavra paroxítona terminada em **-es**.
- V – A colocação do acento circunflexo no vocábulo “que” não configuraria erro gramatical na frase “O que são árvores papá?”.

A sequência correta é:

- (A) V, V, F, F, V.
- (B) F, V, F, V, F.
- (C) V, F, V, V, F.
- (D) F, V, F, F, F.

QUESTÃO 11

Considere que 120.000 pessoas estão em uma estação de metrô e que essa estação possui 6 saídas disponíveis para os usuários. No caso de uma situação de emergência, de ameaça de bomba, será necessário esvaziar a estação o mais rápido possível.

Com base na situação acima, assinale a opção correta.

- (A) Se podem passar 600 pessoas por minuto, por cada uma das 6 saídas, o tempo mínimo necessário para esvaziar a estação é de 35min.
- (B) Se podem passar 400 pessoas por minuto, por cada uma das 6 saídas, o tempo mínimo necessário para esvaziar a estação é de 45min.
- (C) Se podem passar 200 pessoas por minuto, por cada uma das 6 saídas, o tempo mínimo necessário para esvaziar a estação é de 1h20min.
- (D) Se podem passar 1.000 pessoas por minuto, por cada uma das 6 saídas, o tempo mínimo necessário para esvaziar a estação é de 20min.

QUESTÃO 12

Em relação aos números 204 e 96, é correto afirmar que

- (A) os dois menores números pelos quais se devem dividir 204 e 96, a fim de se obterem os quocientes iguais, são 17 e 8, respectivamente.
- (B) os dois maiores números pelos quais se devem dividir 204 e 96, a fim de se obterem quocientes iguais, são 34 e 8, respectivamente.
- (C) $\frac{y}{x} = 136$, sendo x e y o mínimo múltiplo comum e o máximo divisor comum, respectivamente, entre 204 e 96.
- (D) $\frac{x-y}{40} = 45$, sendo x e y o mínimo múltiplo comum e o máximo divisor comum, respectivamente, entre 204 e 96.

QUESTÃO 13

Se $M = \{x \in \mathbb{R} / -1 \leq x < 3\}$, $N = \{x \in \mathbb{R} / x > 1\}$ e $Q =]-\infty, 2]$, pode-se afirmar que

- (A) $M \cap N$ é o intervalo $] -1, -3[$ e $M \cap Q$ é o intervalo $] -1, 2 [$
- (B) $M \cap N \cap Q$ é o intervalo $] 1, 2 [$
- (C) $M \cup N$ é o intervalo $] -1, 1 [$ e $M \cup Q$ é o intervalo $] -1, 3 [$
- (D) $N \cup Q = \mathbb{R}$ e $M \cup Q$ é o intervalo $] -1, 3 [$

QUESTÃO 14

Três amigos que trabalham em sociedade vão receber R\$2.100,00 por um serviço prestado. A divisão desse valor será diretamente proporcional ao tempo de serviço de cada um. Sabendo que um dos sócios trabalhou 3 horas, outro 4 horas e o terceiro trabalhou 5 horas, é correto afirmar que o sócio que trabalhou

- (A) 5 horas receberá R\$350,00 a mais do que o sócio que trabalhou 3 horas.
- (B) 5 horas receberá R\$275,00 a mais do que o sócio que trabalhou 4 horas.
- (C) 3 horas receberá 25% do valor do serviço e o sócio que trabalhou 4 horas receberá aproximadamente 43% do valor do serviço.
- (D) 4 horas receberá aproximadamente 33% do valor do serviço e o sócio que trabalhou 5 horas receberá 47% do valor do serviço.

RASCUNHO

QUESTÃO 15

Seja uma função definida por $f(x) = 2x + \sqrt{x+1}$ e um conjunto $A = \{-5, -3, -2, -1, 0, 1, 3, 8\}$, é correto afirmar que

- (A) $[f(-1)]^2 : [f(0)]^2 = 2$
 (B) $[f(1) - f(-1)] - [f(8) + f(0)] = -16\sqrt{2}$
 (C) o conjunto imagem da função é $\text{Im}(f) = \{-2, -1, 2 - \sqrt{2}, 8, 25\}$
 (D) o subconjunto de A com o maior número de elementos que define o domínio da função é $\text{Dom}(f) = \{-1, 0, 1, 3, 8\}$

QUESTÃO 16

João comprou um carro e pagou uma entrada de 20% do valor total e o restante foi dividido em 36 prestações mensais iguais, sem juros. O valor pago de entrada corresponde aos juros que recebeu de uma aplicação de R\$12.000,00, pelo prazo de 2 anos, à taxa de 30% ao ano.

De acordo com a situação acima, assinale a opção correta.

- (A) Cada prestação ficou no valor de 12% da entrada.
 (B) Cada prestação ficou no valor de 3% do preço do carro.
 (C) O preço do carro foi R\$43.200,00 e o valor de cada prestação foi de R\$1.000,00.
 (D) O preço do carro foi R\$36.000,00 e o valor de cada prestação foi de R\$800,00.

QUESTÃO 17

Em relação aos conjuntos numéricos, julgue os itens abaixo como Verdadeiros (V) ou Falsos (F) e, em seguida, assinale a opção correta.

- I - $(7 + \sqrt{3}) + (11 - \sqrt{3})$ é um número racional.
 II - $(3 + \sqrt{2}) + \sqrt{2}$ é um número racional.
 III - $\frac{\sqrt{5} \cdot \sqrt{5}}{3}$ é um número racional.
 IV - $\frac{\sqrt{7} \cdot \sqrt{2}}{7}$ é um número irracional.

A sequência correta é:

- (A) F, F, V, F.
 (B) F, V, V, V.
 (C) V, F, V, V.
 (D) V, F, F, F.

QUESTÃO 18

Sabe-se que 5 impressoras levam 56 minutos para imprimir 87.500 revistas. Para que 7 impressoras iguais a essas imprimam 350.000 dessas revistas, serão necessárias

- (A) 5 horas e 23 minutos.
 (B) 5 horas e 22 minutos.
 (C) 2 horas e 40 minutos.
 (D) 2 horas e 30 minutos.

QUESTÃO 19

Seja $M = \{2, 3, 7, 8, 9\}$; C o conjunto formado pelos elementos de M que são números primos; D o conjunto formado pelos elementos de M que são quadrados perfeitos; e $E = \{x \in M / x-1 \geq 2\}$, é correto afirmar que

- (A) $C \cup D = \{3, 7, 9\}$ e $D \cup E = \{3, 7, 8, 9\}$
 (B) $C \cup D \cup E = \{2, 3, 7, 8, 9\}$ e $C \cap D \cap E = \emptyset$
 (C) $C \cap D = \emptyset$ e $D \cap E = \{3, 9\}$
 (D) $C \cap D \cap E = \{9\}$ e $C \cup D = \{2, 3, 7, 9\}$

QUESTÃO 20

Clara e algumas amigas encomendaram salgados, bolo e refrigerantes para a comemoração do aniversário de uma delas. A encomenda saiu por R\$400,00 e esse valor seria dividido em partes iguais, entre elas, no dia da festa. No dia marcado, duas das amigas não puderam ir, pois tiveram que viajar. Então, cada uma delas pagou R\$10,00 a mais pela encomenda.

Com base na situação acima, assinale a opção correta.

- (A) Cada uma das amigas pagou o valor de R\$50,00 pela encomenda.
 (B) Cada uma das amigas pagou o valor de R\$40,00 pela encomenda.
 (C) O valor da encomenda seria dividido por 12 pessoas se as amigas que viajaram tivessem participado da festa.
 (D) O valor da encomenda foi dividido por 10 pessoas.

RASCUNHO

QUESTÃO 21

A sentença "Hoje não tem luar, então Sandra não foi ao trabalho e Lúcia não foi à Igreja." pode ser corretamente representada por:

- (A) $\sim p \vee (\sim r \wedge \sim q)$
 (B) $\sim p \wedge (\sim r \vee \sim q)$
 (C) $\sim p \rightarrow (\sim r \wedge \sim q)$
 (D) $p \rightarrow (\sim r \wedge \sim q)$

QUESTÃO 22

Lúcia, Regina e Valéria estão em uma festa. As cores dos vestidos e sapatos usados por elas são vermelho, preto e branco. Somente Valéria usa vestido e sapatos da mesma cor. Regina não usa nem sapatos nem vestido brancos. Lúcia usa sapatos vermelhos.

De acordo com a situação hipotética acima, é correto afirmar que

- (A) os sapatos de Lúcia são brancos e os sapatos de Valéria são pretos.
 (B) os sapatos de Regina são pretos e os de Valéria são brancos.
 (C) o vestido de Valéria é preto e os sapatos de Lúcia são pretos.
 (D) os sapatos de Valéria são pretos e o vestido de Lúcia é branco.

QUESTÃO 23

A possibilidade de Lucas encontrar Gabriel no *shopping* é 0,40; a possibilidade de Lucas encontrar Rodrigo é 0,10; e a possibilidade de Lucas encontrar os dois ao mesmo tempo é 0,05. Pode-se afirmar que a possibilidade de Lucas encontrar Gabriel ou Rodrigo no *shopping* é

- (A) 0,45
 (B) 0,9
 (C) 0,55
 (D) 0,04

QUESTÃO 24

Considere que três amigos – Lauro, Helen e Carlos – trabalham em uma mesma empresa. Um trabalha no setor de informática, outro no setor de recursos humanos e outro na recepção da empresa, não respectivamente nessa ordem. Cada um deles é lotado em cidades diferentes do Estado do Amazonas: Manaus, Parintins e Tabatinga. Sabe-se que

- Carlos trabalha na recepção da empresa;
- a pessoa que está lotada em Manaus atua no setor de recursos humanos;
- Lauro não está lotado em Tabatinga e nem atua no setor de recursos humanos.

De acordo com os dados acima, é correto afirmar que quem está lotado em Manaus e quem atua no setor de informática são, respectivamente,

- (A) Carlos e Helen.
 (B) Helen e Carlos.
 (C) Carlos e Lauro.
 (D) Helen e Lauro.

QUESTÃO 25

Ao dizer que "Álvaro é médico ou Luiz não é vendedor" significa, em termos lógicos, que

- (A) Álvaro é médico se, e somente se, Luiz não é vendedor.
 (B) Álvaro não é médico e Luiz é vendedor.
 (C) se Álvaro é médico, então Luiz é vendedor.
 (D) se Luiz é vendedor, então Álvaro é médico.

QUESTÃO 26

Uma empresa selecionou pessoas para atuarem na área de informática. Duas dessas pessoas se destacaram nesse processo: André e Ricardo. A análise final dos testes mostrou que a possibilidade de os dois serem contratados era de 10%; a possibilidade de apenas um deles ser contratado era de 75%, e que Ricardo tinha 5% mais possibilidade de ser contratado do que André. Sendo assim, é correto afirmar que a possibilidade de nenhum deles ser contratado é de

- (A) 35%
 (B) 40%
 (C) 15%
 (D) 10%

QUESTÃO 27

Do ponto de vista lógico, dizer que "Felipe é torcedor do São Raimundo ou Alberto não é torcedor do Nacional Fast Clube" equivale a dizer que

- (A) Felipe é torcedor do São Raimundo e Alberto não é torcedor do Nacional Fast Clube.
 (B) se Felipe é torcedor do São Raimundo, então Alberto não é torcedor do Nacional Fast Clube.
 (C) se Alberto é Torcedor do Nacional Fast Clube, então Felipe é torcedor do São Raimundo.
 (D) se Felipe não é torcedor do São Raimundo, então Alberto é torcedor do Nacional Fast Clube.

QUESTÃO 28

Um casal, ao fazer seu planejamento familiar, chegou a um consenso de terem juntos três filhos. A possibilidade de que sejam três indivíduos do sexo masculino, já que o primeiro filho é também do sexo masculino, é de

- (A) 50%
 (B) 25%
 (C) 75%
 (D) 20%

QUESTÃO 29

Se "A" é uma proposição verdadeira em relação à proposição "B", é correto afirmar que

- (A) $A \leftrightarrow B$ é falsa, qualquer que seja a proposição B.
 (B) $A \vee B$ é sempre verdadeira, qualquer que seja a proposição B.
 (C) $B \rightarrow A$ é sempre falsa, qualquer que seja a proposição B.
 (D) $A \rightarrow B$ é sempre verdadeira, qualquer que seja a proposição B.

QUESTÃO 30

Considere que tenha sido realizada uma pesquisa no Amazonas Shopping sobre o que as pessoas compravam para presentear no Dia dos Pais. O resultado dessa pesquisa foi o seguinte:

- 75% dos entrevistados optaram por calçados;
- 60% dos entrevistados optaram por perfumes;
- 35% dos entrevistados optaram por perfumes e calçados.

Assinale a opção que apresenta a porcentagem dos entrevistados que compraria apenas perfumes.

- (A) 40%
 (B) 60%
 (C) 25%
 (D) 35%

QUESTÃO 31

A respeito do Estatuto do Servidor Público do Município de Manaus, julgue os itens abaixo e, em seguida, assinale a opção correta.

- I – Ficará dispensado de novo estágio probatório o servidor estável que for nomeado para outro cargo público municipal.
- II – Exceto no âmbito de um mesmo órgão, é vedada a vinculação ou a equiparação de qualquer natureza para efeito de remuneração do pessoal do serviço público municipal.
- III – Haverá igualdade de denominação dos cargos equivalentes e paridade de vencimento e vantagens entre os servidores da Prefeitura e da Câmara Municipal.
- IV – O provimento dos cargos públicos da Prefeitura e de órgãos da administração indireta é de competência exclusiva do prefeito, por meio de lei.

Estão certos apenas os itens

- (A) I e III.
- (B) I, III e IV.
- (C) II e III.
- (D) II e IV.

QUESTÃO 32

Sobre o regime disciplinar dos servidores do Município de Manaus, assinale a opção correta.

- (A) Constitui dever funcional comparecer à repartição nas horas de trabalho ordinário e de trabalho extraordinário, independentemente de convocação, executando os serviços que lhe competirem.
- (B) Ao servidor é proibido, em qualquer caso, exercer atribuições diversas daquelas do seu cargo ou função.
- (C) Verificada em processo administrativo a acumulação proibida de cargo municipal com cargo de entidade estadual, será o servidor de boa-fé exonerado do cargo municipal.
- (D) Na hipótese de desfalque aos cofres municipais, o servidor será obrigado a repor a quantia desfalcada, mediante desconto em folha, em valor nunca excedente à décima parte do vencimento ou remuneração.

QUESTÃO 33

Em relação às penalidades a que se sujeitam os servidores do Município de Manaus, assinale a opção correta.

- (A) Não pode ser aplicada a cada servidor, pela mesma infração, mais de uma pena disciplinar, sendo certo que as penas são independentes, razão pela qual as infrações mais graves não absorvem as mais leves.
- (B) O servidor que retirar, sem prévia autorização da autoridade competente, qualquer documento ou objeto da repartição estará sujeito à pena de demissão.
- (C) Na hipótese de falta funcional também estar prevista na lei penal como crime, a prescrição do delito não interfere na prescrição da punição em âmbito administrativo.
- (D) Prescreverá em dois anos a falta sujeita à repreensão, multa ou suspensão, e à cassação de aposentadoria ou de disponibilidade.

QUESTÃO 34

Em relação ao processo disciplinar aplicável aos servidores do Município de Manaus, assinale a opção correta.

- (A) Terminada a instauração da sindicância, a autoridade sindicante apresentará relatório circunstanciado do que foi apurado, sugerindo o que julga cabível ao saneamento das irregularidades e punições dos culpados ou a abertura de processo administrativo, se forem apuradas infrações puníveis com as penas de suspensão, demissão, cassação de aposentadorias ou de disponibilidade.
- (B) O prazo para a realização do processo administrativo será de sessenta dias prorrogáveis por igual período, mediante autorização da autoridade que determinou a sua instauração, e nos casos de força maior.
- (C) O servidor poderá ser exonerado a pedido, antes da conclusão definitiva do processo administrativo, ocasião em que este será imediatamente extinto na fase em que se encontrar.
- (D) A autoridade que determinar a instauração da sindicância fixará o prazo nunca inferior a trinta dias para a sua conclusão, prorrogáveis até o máximo de quinze dias à vista de representação motivada do sindicante.

QUESTÃO 35

Acerca do processo administrativo aplicável aos servidores do Município de Manaus, julgue os itens abaixo como Verdadeiros (V) ou Falsos (F) e, em seguida, assinale a opção correta.

- I – No caso de malversação de dinheiro público apurada nos autos do processo administrativo, o afastamento do indiciado se prolongará até a decisão final do processo.
- II – A autoridade processante sempre dedicará todo o seu tempo aos trabalhos do processo, ficando seus membros dispensados do serviço na repartição desde a instauração do processo administrativo até a sua conclusão.
- III – A autoridade competente para a instauração do processo administrativo indicará um funcionário para ser o presidente da comissão processante e designará outro para secretariá-la.
- IV – Ao receber o relatório final da comissão processante, a autoridade competente, discordando de suas conclusões, concederá o prazo de 15 dias para que os integrantes dessa mesma comissão complementem os trabalhos com as diligências que se fizerem necessárias.

A sequência correta é:

- (A) V, F, F, F.
- (B) V, F, V, F.
- (C) F, V, F, V.
- (D) F, F, V, V.

QUESTÃO 36

De acordo com as previsões da Lei n.º 4.320/64, relativas à proposta orçamentária, assinale a opção correta.

- (A) Constará da proposta orçamentária, para cada unidade administrativa, descrição pormenorizada de todas as suas finalidades, sem necessidade de indicação da respectiva legislação.
- (B) Caberá aos órgãos de contabilidade, de arrecadação ou de fiscalização organizar demonstrações anuais da receita arrecadada, para servirem de base à estimativa da receita, na proposta orçamentária.
- (C) As receitas e despesas de capital serão objeto de um quadro de recursos e de aplicação de capital, aprovado por decreto do Poder Executivo, abrangendo, no mínimo, um triênio.
- (D) A estimativa da receita terá por base a arrecadação dos cinco últimos exercícios, bem como as circunstâncias de ordem conjuntural e outras que possam afetar a produtividade de cada fonte de receita.

QUESTÃO 37

A respeito da Lei de Orçamento, assinale a opção correta.

- (A) Segundo expressa previsão legal, a Lei de Orçamentos compreenderá todas as receitas, exceto as de operações de crédito autorizadas em lei.
- (B) A Lei de Orçamento consignará dotações globais destinadas a atender indiferentemente as despesas de pessoal, material, serviços de terceiros e transferências.
- (C) A Lei do Orçamento conterà a discriminação da receita e despesa de forma a evidenciar a política econômica financeira e o programa de trabalho do governo, obedecidos os princípios de unidade, universalidade e anualidade.
- (D) A Lei de Orçamento não poderá conter autorização ao Executivo para realizar, em qualquer mês do exercício financeiro, operações de crédito por antecipação da receita para atender a insuficiências de caixa.

QUESTÃO 38

Acerca da Lei de Responsabilidade Fiscal (LC 101/2000), assinale a opção correta.

- (A) Empresa estatal dependente é a empresa controlada que recebe do ente controlador recursos financeiros para pagamento de despesas com pessoal, de custeio em geral ou de capital, incluídos, no último caso, aqueles provenientes de aumento de participação acionária.
- (B) Entende-se por empresa controlada a sociedade cuja maioria do capital social com direito a voto pertença, direta ou indiretamente, a ente da Federação.
- (C) Receita corrente líquida é o somatório das receitas tributárias, de contribuições, patrimoniais, industriais, agropecuárias, de serviços, transferências correntes, sem dedução, em âmbito estadual, das parcelas entregues aos municípios por determinação constitucional.
- (D) Todas as despesas relativas à dívida pública, excetuadas as de natureza contratual e as receitas que as atenderão, constarão da lei orçamentária anual.

QUESTÃO 39

Em relação às disposições que tratam das despesas com pessoal na LC 101/2000, assinale a opção correta.

- (A) Nos municípios, a despesa total com pessoal em cada período de apuração não poderá exceder a 50% (cinquenta por cento) dos percentuais da receita corrente líquida.
- (B) Na verificação do atendimento dos limites impostos por lei para as despesas com pessoal, serão computadas as despesas de indenização por demissão de servidores ou empregados.
- (C) Não poderão exceder a 3% (três por cento) do montante da receita corrente líquida do município as despesas com pessoal no âmbito do Poder Legislativo, incluído o Tribunal de Contas Municipal, quando houver.
- (D) A despesa total com pessoal será apurada somando-se a realizada no mês em referência com as dos onze meses imediatamente anteriores, adotando-se o regime de competência.

QUESTÃO 40

Sobre as disposições que tratam da gestão patrimonial na LC 101/2000, assinale a opção correta.

- (A) É vedada a aplicação da receita de capital derivada da alienação de bens e direitos que integram o patrimônio público para o financiamento de despesa corrente, inclusive se destinada por lei aos regimes de previdência social, geral e próprio dos servidores públicos.
- (B) É válido de pleno direito ato de desapropriação de imóvel urbano expedido sem o prévio depósito judicial do valor da indenização, quando o valor da avaliação do bem superar 5% (cinco por cento) da receita líquida do ente expropriante.
- (C) As disponibilidades de caixa do regime geral de previdência social, ficarão depositadas em conta separada das demais disponibilidades de cada ente e aplicadas nas condições de mercado, com observância dos limites e condições de proteção e prudência financeira.
- (D) A empresa controlada que firmar contrato de gestão em que se estabeleçam objetivos e metas de desempenho não disporá de autonomia gerencial, orçamentária e financeira, e dependerá da ratificação de seus atos pelo ente controlador.

QUESTÃO 41

A respeito das definições previstas na Lei de Licitações, assinale a opção INCORRETA.

- (A) Execução indireta de obras é a que é feita pelos órgãos e entidades da administração, pelos próprios meios.
- (B) Considera-se obra toda construção, reforma, fabricação, recuperação ou ampliação, realizada por execução direta ou indireta.
- (C) Compra é toda aquisição remunerada de bens, para fornecimento de uma só vez ou parceladamente.
- (D) A denominada tarefa ocorre quando se ajusta mão de obra para pequenos trabalhos por preço certo, com ou sem fornecimento de materiais.

QUESTÃO 42

No que se refere aos contratos firmados nas licitações, julgue os itens abaixo como Verdadeiros (V) ou Falsos (F) e, em seguida, assinale a opção correta.

- I – A declaração de nulidade do contrato administrativo opera retroativamente impedindo os efeitos jurídicos que ele, ordinariamente, deveria produzir, além de desconstituir os já produzidos.
- II – Os contratos firmados pela administração com o licitante vencedor poderão conter disposições típicas de direito privado.
- III – Nas contratações de obras, serviços e compras, é obrigatória a exigência de prestação de garantia, mediante fiança bancária, seguro-garantia ou caução em dinheiro.
- IV – A nulidade do contrato exonera a Administração do dever de indenizar o contratado pelo que este houver executado até a data em que ela for declarada, ainda que não seja imputável ao contratado a responsabilidade pela anulação.

A sequência correta é:

- (A) V, F, V, F.
- (B) F, F, V, V.
- (C) F, V, F, V.
- (D) V, V, F, F.

QUESTÃO 43

Em relação às modalidades de licitação, assinale a opção correta.

- (A) São modalidades de licitação a concorrência, a tomada de preços, o convite, o concurso e o leilão, podendo haver a combinação dessas modalidades no caso concreto.
- (B) Leilão é a modalidade de licitação entre quaisquer interessados para a venda de bens móveis inservíveis para a administração ou de produtos legalmente apreendidos ou penhorados, sendo inaplicável na hipótese de venda de imóveis.
- (C) Nos casos em que couber convite, a Administração poderá utilizar a tomada de preços e, em qualquer caso, a concorrência.
- (D) Ainda que tenham por fundamento o interesse público, as licitações não serão efetuadas fora do local onde se situa a repartição interessada, sendo permitida, no entanto, a habilitação de interessados sediados em outros locais.

QUESTÃO 44

De acordo com a Lei Orgânica do Município de Manaus (LOMM), assinale a opção correta.

- (A) É permitido ao município criar ou conferir vantagens pecuniárias aos que tenham exercido o cargo de prefeito ou de vereador.
- (B) Compete ao município organizar e prestar, diretamente ou sob regime de permissão ou concessão, entre outros, os serviços de cemitérios e funerários.
- (C) O vereador que não tiver prestado o compromisso de posse na sessão para este fim realizada perderá, automaticamente, o mandato, convocando-se o suplente a assumir a vaga.
- (D) Depende de voto favorável de dois terços dos membros da Câmara Municipal, em todas as deliberações, a aprovação e alterações do Código Tributário Municipal.

QUESTÃO 45

Conforme as disposições da Lei Orgânica do Município de Manaus (LOMM), relativas à fiscalização contábil, financeira e orçamentária e ao exame público das contas municipais, julgue os itens abaixo e, em seguida, assinale a opção correta.

- I – As contas do Município ficarão à disposição dos cidadãos durante 60 dias, a partir de primeiro de maio de cada exercício, no horário de funcionamento da Câmara Municipal, em local de fácil acesso ao público.
- II – A Câmara de Vereadores, diante de indícios de despesas não autorizadas, exceto as relativas a investimentos não programados, poderá solicitar à autoridade responsável que, no prazo de cinco dias, preste os esclarecimentos necessários.
- III – A consulta às contas municipais poderá ser feita por qualquer cidadão, independente de requerimento, no recinto da Câmara Municipal.
- IV – A fiscalização contábil, financeira, orçamentária e patrimonial do Município, quanto à legalidade, moralidade e legitimidade, será exercida pela Câmara de Vereadores, com o auxílio do Tribunal de Contas do Estado, e pelos órgãos de controle interno de cada poder e de cada entidade.

Estão certos apenas os itens

- (A) I, III e IV.
- (B) I, II e III.
- (C) II e III.
- (D) III e IV.

QUESTÃO 46

Em relação à remuneração dos agentes políticos do Município de Manaus, assinale a opção correta.

- (A) As sessões extraordinárias serão sempre indenizadas à razão de 1/12 (um doze avos) do subsídio mensal, por reunião.
- (B) Os subsídios do prefeito, do vice-prefeito, dos secretários municipais e dos vereadores serão fixados pela Câmara Municipal, por meio de lei, no último mês de cada ano, vigorando para o ano seguinte.
- (C) O subsídio dos vereadores da Câmara Municipal de Manaus corresponderá a 75% (setenta e cinco por cento) dos subsídios mensais dos deputados federais.
- (D) Serão fixados critérios de indenização, de caráter remuneratório, das despesas de viagem do prefeito, do vice-prefeito e dos vereadores.

QUESTÃO 47

Em relação ao processo legislativo previsto na Lei Orgânica do Município de Manaus, assinale a opção correta.

- (A) A proposta de emenda à Lei Orgânica Municipal será discutida e votada em dois turnos de discussão e votação, considerando-se aprovada quando obtiver, em ambos, a maioria absoluta dos votos dos membros da Câmara.
- (B) As leis delegadas serão elaboradas pelo prefeito municipal, que deverá solicitar a delegação à Câmara Municipal, podendo ser objeto de delegação matéria reservada à lei complementar.
- (C) Se o prefeito considerar inconstitucional qualquer projeto de lei aprovado pela Câmara Municipal, no todo ou em parte, vetá-lo-á, total ou parcialmente, no prazo de 15 dias úteis, só podendo o veto ser rejeitado por 2/3 (dois terços) dos vereadores, mediante votação fechada.
- (D) Compete, privativamente, ao prefeito municipal a iniciativa das leis que versem sobre orçamento anual, diretrizes orçamentárias e plano plurianual.

QUESTÃO 48

Em relação ao Poder Executivo do Município de Manaus, assinale a opção correta.

- (A) O prefeito não poderá, desde a posse, sob pena de perda do mandato, ausentar-se do Município quando o afastamento exceder cinco dias, sem prévia autorização da Câmara Municipal, podendo, no entanto, afastar-se desde a data da solicitação.
- (B) O prefeito do Município de Manaus será processado e julgado pelo Tribunal de Justiça do Amazonas pela eventual prática de crime comum e, pela Câmara de Vereadores, pela prática de crime de responsabilidade.
- (C) O prefeito municipal só estará obrigado a divulgar o relatório de execução do programa de metas ao final de cada legislatura, disponibilizando-o integralmente pelos meios de comunicação acessíveis à população.
- (D) Ocorrendo a vacância nos dois últimos anos de mandato do prefeito e do vice-prefeito, a eleição para ambos os cargos será realizada 30 dias depois da ocorrência da última vaga, em eleição indireta, no âmbito da Câmara Municipal.

QUESTÃO 49

A respeito da assistência e da previdência social dos servidores do Município de Manaus, assinale a opção correta.

- (A) A não quitação de empréstimos concedidos ou de financiamentos de programas habitacionais não pode impedir os afastamentos legais do segurado de seu cargo.
- (B) Os processos de aposentadoria por invalidez terão tramitação sumária no âmbito da administração, com prazo máximo de 30 dias para decisão final da autoridade competente, sob pena de responsabilidade.
- (C) A remuneração do servidor público municipal, excetuadas as gratificações, constituirá a base de cálculo da sua contribuição previdenciária e terá repercussão direta no valor dos benefícios concedidos.
- (D) É permitida a utilização de até 30% (trinta por cento) dos recursos da contribuição previdenciária para a execução dos programas habitacionais instituídos no âmbito da administração municipal e acessível a todos os servidores.

QUESTÃO 50

Com relação à Lei Orgânica do Tribunal de Contas do Estado do Amazonas, assinale a opção correta.

- (A) Entende-se por tomada de contas o procedimento pelo qual pessoa física, órgão e entidade, por final de gestão ou por execução de contrato formal, no todo ou em parte, prestarão contas ao órgão competente da legalidade, legitimidade e economicidade da utilização dos recursos orçamentários, da fidelidade funcional e do programa de trabalho.
- (B) Verificada a ilegalidade de contrato firmado por qualquer ente da administração estadual, o Tribunal fixará prazo para que o responsável adote as providências necessárias ao exato cumprimento da lei, não podendo o contrato, no entanto, ser susgado antes da decisão final, sob pena de violação do princípio da continuidade do serviço público.
- (C) As contas serão consideradas ilíquidáveis quando a ocorrência de caso fortuito ou de força maior, comprovadamente por motivos alheios à vontade do responsável, tornar materialmente impossível o julgamento de mérito destas contas.
- (D) Admitir-se-á recurso ordinário, no prazo de cinco dias e sem efeito suspensivo, das decisões finais do conselheiro julgador e das câmaras, endereçado diretamente à autoridade que proferiu a decisão ou ao relator, conforme o caso.

QUESTÃO 51

O Search Companion do Windows XP é um aplicativo para realizar buscas nos arquivos. É possível fazer buscas pelo nome do arquivo, palavras em seu conteúdo ou datas. Se uma determinada pesquisa é muito executada pelo usuário, ele pode salvar os parâmetros da pesquisa, evitando, assim, preenchê-los toda vez em que for realizá-la.

Acerca do procedimento para salvar os parâmetros de pesquisa do Search Companion, assinale a opção correta.

- (A) Abrir o menu Favoritos do Search Companion; escolher a opção Adicionar Pesquisa a Favoritos; escolher um nome para a pesquisa; clicar no botão OK.
- (B) Abrir o menu Pesquisas do Search Companion; escolher a opção Exportar; dar um nome para o arquivo e escolher uma pasta para guardá-lo; clicar no botão Exportar.
- (C) Abrir o menu Ferramentas do Search Companion; escolher a opção Exportar Pesquisa; escolher o formato Pesquisas do Windows; clicar no botão OK.
- (D) Abrir o menu Arquivo do Search Companion; escolher a opção Salvar Pesquisa; dar um nome para o arquivo e escolher uma pasta para guardá-lo; clicar no botão Salvar.

QUESTÃO 52

Considere a imagem do Menu Iniciar do Windows XP mostrada abaixo.



Seguindo a organização do Menu Iniciar e a imagem apresentada, assinale a opção que apresenta a lista correta das designações das áreas numeradas.

- (A) 1- Itens Fixados
2- Arquivos mais acessados
3- Pastas de Sistema
- (B) 1- Programas mais utilizados
2- Itens Fixados
3- Componentes do Windows
- (C) 1- Programas mais acessados
2- Programas recém-instalados
3- Pastas de documentos do usuário
- (D) 1- Programas recém-instalados
2- Programas recém-acessados
3- Pastas recém-acessadas

QUESTÃO 53

Assim como vários programas, o Windows Explorer, no Windows XP configurado em português, também tem atalhos de teclado para agilizar a sua operação. Com relação a esses atalhos de teclado, relacione a primeira coluna, que traz as teclas ou combinações de teclas, à segunda, que apresenta suas respectivas ações e, em seguida, assinale a opção correta.

- I - F2
- II - Ctrl + W
- III - Alt + Enter
- IV - F11
- V - Shift + F10

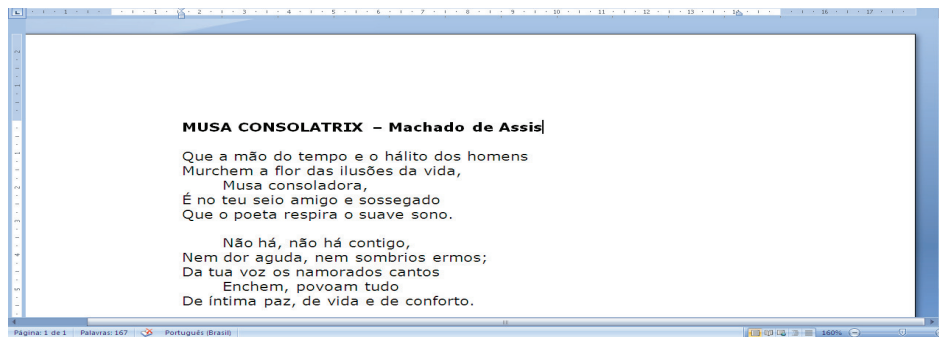
- () Coloca o Windows Explorer em tela cheia.
- () Fecha o Windows Explorer.
- () Permite que o arquivo ou a pasta sejam renomeados.
- () Abre o menu de contexto; equivale a clicar com o botão direito do mouse.
- () Mostra as propriedades dos arquivos e pastas selecionadas.

A sequência correta é:





- (A) IV, II, I, V, III.
- (B) II, III, IV, I, V.
- (C) V, IV, II, III, I.
- (D) III, I, V, II, IV.

QUESTÃO 54

Com base no texto abaixo constante na tela do Microsoft Word 2007, configurado em português, assinale a opção correta.



Considerando que o texto "MUSA CONSOLATRIX" deve ser alterado para "Musa Consolatrix", assinale a opção que apresenta o procedimento correto para realizar a mudança desejada.



- (A) Selecionar o texto **MUSA CONSOLATRIX**. Clicar no botão  e escolher a opção **Colocar cada palavra em maiúscula**.
- (B) Selecionar o texto **MUSA CONSOLATRIX**. Clicar no botão  e escolher a opção **Colocar a primeira letra da sequência em maiúscula**.
- (C) Clicar no botão  e selecionar o texto **MUSA CONSOLATRIX**.
- (D) Clicar no botão  e selecionar o texto **MUSA CONSOLATRIX**.

QUESTÃO 55

Considere a tabela abaixo feita no Microsoft Word 2007, configurado em português.

Itens	Quantidade	Descrição
1.	123	Copos descartáveis
2.	11	Resmas de Papel A4
3.	23	Caixas de Lápis
4.	41	Caixas de Canetas
5.	84	Borrachas
6.	44	Caixas de Clipes
7.	93	Caixas de Grampos
8.	83	CDs Virgens
9.	20	Cartuchos para impressora

A tabela apresenta a descrição de alguns materiais, cuja primeira coluna traz a numeração dos itens. Acerca de como essa numeração pode ser realizada, assinale a opção correta.

- (A) Clicar na segunda célula da primeira coluna; digitar o texto "1."; em cada uma das células abaixo, clicar na célula e inserir fórmula "=numerar()".
- (B) Selecionar da segunda até a última célula da primeira coluna; clicar no botão .
- (C) Clicar na segunda célula da primeira coluna; digitar o texto "1."; na célula abaixo, clicar na célula e inserir fórmula "=soma(acima)"; clicar no canto inferior direito da célula e arrastar até a última célula da coluna.
- (D) Selecionar da segunda até a última célula da primeira coluna; clicar no botão .

QUESTÃO 56

O Microsoft Excel 2007, configurado em português, possui diversas opções para a operação de colar dados que foram copiados ou recortados de células. O conjunto dessas opções é chamado de "Colar Especial".

Acerca das opções disponíveis no "Colar Especial", assinale a opção **INCORRETA**.

- (A) Fórmulas
(B) Filtros
(C) Valores
(D) Comentários

QUESTÃO 57

NÃO faz parte da guia de comandos "Inserir" do Microsoft Excel 2007

- (A) Tabela.
(B) Inserir Imagem do Arquivo.
(C) Caixa de Texto.
(D) Inserir Função.

QUESTÃO 58

A planilha feita no Microsoft Excel 2007, configurado em português, mostrada abaixo, é utilizada para calcular benefícios de funcionários que trabalharam em uma determinada organização.

	A	B	C
1	Cálculo do tempo trabalhado		
2	Data da Contratação	1/2/2009	
3	Data da Saída	15/10/2009	
4	Tempo trabalhado		
5			
6			

Com a finalidade de saber o valor proporcional que determinado funcionário desligado de uma organização deve receber pelo período trabalhado no ano de 2009, assinale a opção que apresenta a fórmula que deve ser utilizada na célula B4 para realizar esse cálculo.

- (A) = VALOR.TEMPO(B2;B3)
- (B) =TEMPO(B2;B3)
- (C) =FRAÇÃOANO(B2;B3)
- (D) =DATA.VALOR(B2;B3)

QUESTÃO 59

Considere as seguintes ações realizadas em um documento em branco aberto no Microsoft Word 2007, configurado em português.

Teclar o atalho: Ctrl + I
 Digitar o texto: Valeu a pena?
 Teclar o atalho: Ctrl + N
 Digitar o texto: Tudo vale a pena
 Teclar o atalho: Ctrl + N
 Teclar ENTER.
 Teclar o atalho: Ctrl + Shift + W
 Digitar o texto: Se a alma não é pequena.

Autor dos versos: **Fernando Pessoa**

Com base nos dados acima, assinale a opção que apresenta o resultado das ações indicadas.

- (A) *Valeu a pena?***Tudo vale a pena**
QUANDO A ALMA NÃO É PEQUENA.
- (B) *Valeu a pena?***Tudo vale a pena**
Quando a alma não é pequena.
- (C) *Valeu a pena?***Tudo vale a pena**
Se a alma não é pequena.
- (D) Valeu a pena?**Tudo vale a pena**
QUANDO A ALMA NÃO É PEQUENA.

QUESTÃO 60

Acerca das funcionalidades do botão do Office no Microsoft Word 2007, em sua configuração original, assinale a opção correta.

- (A) O botão do Office permite alterar o modo de exibição do documento e organizar as janelas.
- (B) O botão do Office permite realizar a inserção de imagens, formas, gráficos e editar o cabeçalho e rodapé dos documentos.
- (C) O botão do Office permite criar um novo documento, salvar o documento atual, imprimir e, até, enviar o documento aberto por email.
- (D) O botão do Office permite alterar a orientação da página, suas margens, tamanho e até incluir marca d'água no documento.