

# CONCURSO PÚBLICO

Nível Fundamental

CARGO

**AUXILIAR OPERACIONAL**

**21**

**TIPO A**

## INSTRUÇÕES

Confira seus dados pessoais constantes da sua folha de respostas. Verifique também se o tipo de prova impresso neste caderno corresponde ao indicado na sua folha de respostas. Em seguida, verifique se este caderno contém **vinte e cinco** questões, corretamente ordenadas de **1 a 25**. As provas objetivas são constituídas de questões com quatro opções (A, B, C e D) e **uma única resposta correta**.

Em caso de divergência de dados e/ou de defeito no caderno de provas, solicite providências ao fiscal de sala mais próximo.

Transcreva as respostas das questões para a sua folha de respostas, que é o único documento válido para a correção das provas e cujo preenchimento é de sua exclusiva responsabilidade. Serão consideradas marcações indevidas as que estiverem em desacordo com o estabelecido no edital de abertura ou na folha de respostas, tais como marcação rasurada ou emendada, ou campo de marcação não-preenchido integralmente. Em hipótese alguma haverá substituição da folha de

respostas por erro de preenchimento por parte do candidato.

Para a marcação na folha de respostas, utilize somente caneta esferográfica de tinta preta. Não é permitida a marcação na folha de respostas por outra pessoa, ressalvados os casos de atendimento especial previamente deferidos.

É vedado amassar, molhar, dobrar, rasgar ou, de qualquer modo, danificar a sua folha de respostas, sob pena de arcar com os prejuízos decorrentes da impossibilidade de realização da leitura óptica.

A duração da prova é de **4 horas**. Você deverá permanecer obrigatoriamente em sala por, no mínimo, uma hora após o início da prova e poderá levar este caderno somente no decurso dos últimos quinze minutos anteriores ao horário determinado para o seu término.

A desobediência a qualquer uma das determinações constantes nos editais do concurso, no presente caderno ou na folha de respostas implicará a anulação da sua prova e a consequente eliminação do processo seletivo.

## CRONOGRAMA

Divulgação do gabarito oficial preliminar das provas objetivas no endereço eletrônico <a href="http://www.movens.org.br">www.movens.org.br</a> , a partir das 17 horas	9/6/2009
Prazo para entrega de recursos contra o gabarito oficial preliminar das provas objetivas	10 e 11/6/2009
Data provável de divulgação do resultado final das provas objetivas e convocação para apresentação dos documentos necessários à comprovação de idade e de tempo de serviço para fins de desempate	7/7/2009



Utilize este espaço para rascunho.



## CONHECIMENTOS BÁSICOS

Leia o texto a seguir para responder às questões de 1 a 4.

### Perigo: lixo!

- 1 Há muito lixo nos oceanos. Para se ter uma idéia, em 2008, no Dia Mundial de Limpeza de Praias, Rios e Lagoas foram
- 5 recolhidas aproximadamente 27 mil toneladas de lixo. Nesse mar de sujeira, o item mais encontrado é o plástico. De cada 100 quilos de lixo recolhido, 60
- 10 são formados por plástico.



- 15 O lixo encontrado nos oceanos representa uma grande ameaça para os animais. Eles podem se enrolar, se enroscar ou ficar presos em restos de linha de pesca ou de pipa, em plástico e em outros materiais. Se isso não causar a sua
- 20 morte de imediato, pode deixá-los fragilizados.

- Animais como aves, tartarugas e peixes também podem ingerir o lixo por acidente, ao confundi-lo com comida. É muito comum encontrar plástico no estômago de
- 25 pingüins, por exemplo. O organismo desses bichos, porém, não é capaz de digerir o plástico – aliás, nem o nosso. Afinal, imagine o que é ter um pedaço de plástico no estômago!

Internet: <http://cienciahoje.uol.com.br>. Acesso em 13/4/2009 (com adaptações).

### QUESTÃO 1

A respeito das idéias do texto assinale a opção INCORRETA.

- (A) O título do texto expressa a idéia de que o lixo é uma ameaça.
- (B) A imagem que ilustra o texto constitui um exemplo de como o lixo encontrado nos oceanos pode ser perigoso para os animais.
- (C) O lixo presente nos oceanos e nos rios pode ferir os animais, fragilizá-los e até matá-los.
- (D) O plástico é facilmente digerido pelo organismo dos animais, mas não pelo organismo humano.

### QUESTÃO 2

Assinale a opção em que a palavra destacada está empregada em sentido figurado.

- (A) "Há muito **lixo** nos oceanos" (linha 1).
- (B) "Eles podem se enrolar, se enroscar ou ficar presos em restos de linha de pesca ou de **pipa**" (linhas 12 e 13).
- (C) "Nesse **mar** de sujeira, o item mais encontrado é o plástico" (linhas 6 a 8).
- (D) "imagine o que é ter um pedaço de plástico no **estômago!**" (linha 21).

### QUESTÃO 3

Acerca dos aspectos lingüísticos e gramaticais do texto, assinale a opção correta.

- (A) Em "Há muito lixo nos oceanos" (linha 1), a palavra "muito" expressa idéia de tempo.
- (B) A palavra "grande" na linha 11 tem função adjetiva.
- (C) Na linha 16, as palavras "aves", "tartarugas" e "peixes" são substantivos abstratos.
- (D) Nas linhas 12 e 13, os verbos "enrolar" "enroscar" e "ficar" estão no presente do indicativo.

### QUESTÃO 4

Quanto ao emprego de pronomes no texto, assinale a opção correta.

- (A) O pronome "Eles" (linha 12) refere-se a "oceanos" (linha 11).
- (B) Em "deixá-los" (linha 15) o pronome "los" refere-se a "animais" (linha 12).
- (C) O pronome "isso" em "Se isso não causar a sua morte" (linhas 14 e 15) refere-se a "outros materiais" (linha 14).
- (D) Nas linhas 17 e 18, o pronome "lo" em "ao confundi-lo com comida" refere-se a "acidente" (linha 17).

### QUESTÃO 5

O Brasil não possui dados confiáveis acerca dos valores movimentados com a biopirataria, mas, atualmente, essa é a terceira atividade ilícita mais rentável do planeta: fica atrás apenas do tráfico de drogas ilícitas e de armas.

Internet: <http://oglobo.globo.com> (com adaptações).

O interesse dos "biopiratas" pelas riquezas da Amazônia não é recente. Um exemplo marcante para a história dessa região foi

- (A) o transporte clandestino de sementes de seringueiras da Amazônia para as colônias inglesas da Ásia no século XIX.
- (B) o tráfico de café, originário do Pará, para a Guiana Francesa, no início do século XIX.
- (C) o tráfico do cacau, originário do Acre, para o México, que se tornou o principal produtor mundial deste produto.
- (D) o contrabando da cana-de-açúcar do Norte brasileiro para regiões da Ásia, onde foi plantado com enorme produtividade ao longo do século XX.

### QUESTÃO 6

No que se refere à situação agrária na Região Norte, assinale a opção correta.

- (A) Registros de trabalho escravo nessa Região têm diminuído nos últimos anos e hoje há apenas casos isolados.
- (B) A abertura de grandes rodovias não teve impacto no desenvolvimento agrícola ou na ocupação de terras dessa Região.
- (C) A questão agrária acabou por perder importância a partir da migração das cidades do interior para Belém ao longo da década de 1990.
- (D) Há uma quantidade considerável de conflitos e mortes no campo, principalmente em razão de ocupação irregular de terras, popularmente conhecida como grilagem.

### QUESTÃO 7

O Projeto Grande Carajás foi idealizado na década de 1970 e teve papel decisivo para a economia paraense nos anos seguintes. Com relação a esse projeto, assinale a opção correta.

- (A) O Projeto Carajás foi concebido para ser explorado por grandes empresas multinacionais americanas em projetos de parceria público-privada.
- (B) A exploração de Carajás levou à criação de diversas obras de infra-estrutura, entre as quais destaca-se a Estrada de Ferro Carajás.
- (C) A exploração mineral da região encontra-se próxima do fim, pois hoje se constata a existência de menos minério de ferro do que inicialmente se imaginava.
- (D) O governo federal pretende revitalizar o projeto Carajás com investimentos maciços em empresas estatais de mineração.

**QUESTÃO 8**

O estoque de um armazém agropecuário contém 5 caixas de fertilizantes em pó, com uma dúzia de pacotes em cada caixa. Sabendo que cada pacote custa R\$21,50 e tem 1.500g de fertilizante, assinale a opção correta.

- (A) Um cliente pagaria R\$215,50 por uma dezena de pacotes e levaria 15,5kg de fertilizantes.
- (B) Se quisesse comprar 15,5kg de fertilizantes, um cliente gastaria R\$225,00.
- (C) No estoque há 90kg de fertilizante, o que representa uma mercadoria no valor total de R\$1.290,00.
- (D) Esse estoque de fertilizantes poderia ser armazenado em meia dúzia de caixas, com uma dezena e meia de pacotes em cada caixa.

**QUESTÃO 9**

Considere que um grupo de funcionários tenha viajado para cadastrar propriedades rurais e coletar amostras biológicas. O motorista fez essa viagem em 2 etapas. Na primeira, durante 3 horas, andou 80km a cada hora. Na segunda, andou 90km a cada hora, durante 1 hora e 30 minutos.

Nessa situação, é correto afirmar que:

- (A) no total, foram percorridos 375km.
- (B) no total, foram percorridos 360km.
- (C) na segunda etapa, foram percorridos 115km a menos que na primeira.
- (D) na primeira etapa, foram percorridos 125km a mais que na segunda.

**QUESTÃO 10**

Considere que Francisca tenha feito a seguinte compra:

PRODUTOS	QUANTIDADE	VALOR
bananas	2 dúzias	R\$1,27 a dúzia
cebolas	3,8kg	R\$0,90 o quilo
tomates	1,5kg	R\$1,48 o quilo

Sabendo que Francisca possuía 2 notas de R\$2,00; 3 moedas de R\$1,00; 4 moedas de R\$0,25; e 1 moeda de R\$0,50, assinale a opção correta.

- (A) Com essa quantia, Francisca poderia ter comprado mais meio quilo de cebola.
- (B) Após as compras, Francisca ficou com apenas R\$0,32.
- (C) Se Francisca tivesse mais uma moeda de R\$0,25, poderia ter comprado mais meia dúzia de bananas.
- (D) Francisca gastou, nessas nas compras, um total de R\$8,50.

**RASCUNHO**

## CONHECIMENTOS ESPECÍFICOS

### QUESTÃO 11



Internet: [www.sitedefotos.com.br/o-poder-de-um-boato](http://www.sitedefotos.com.br/o-poder-de-um-boato).  
Acesso em: 24/5/2009.

As relações humanas no trabalho envolvem o processo de comunicação interpessoal que, muitas vezes, pode ser caracterizado pela presença de barreiras que impedem uma comunicação eficaz.

Assinale a opção que **NÃO** constitui uma dessas barreiras.

- (A) Sobrecarga de informações.
- (B) Baixa credibilidade da fonte de informações.
- (C) Proximidade física entre transmissor e receptor.
- (D) Defesa dos interlocutores contra ameaças na comunicação.

### QUESTÃO 12

Entre as variáveis que interferem no relacionamento no ambiente de trabalho, o boato, ou qualquer uma das suas designações — fofoca, rádio-peão, rádio-corredor, rumor, disse-me-disse, rádio-mexerico —, compõe a enorme rede de comunicação informal nas empresas.

A respeito do boato, assinale a opção **INCORRETA**.

- (A) O boato é facilmente eliminado das relações interpessoais, devendo, para tanto, ser estabelecida, pelas empresas, exclusivamente a comunicação formal.
- (B) A velocidade do boato é inversamente proporcional ao efetivo conhecimento da situação ou do contexto.
- (C) A velocidade do boato é proporcional à importância do assunto ou da pessoa a que se refere.
- (D) O boato surge, de alguma forma, para compensar falhas existentes na comunicação formal.

### QUESTÃO 13


Considerando os princípios básicos do relacionamento com o público, complete as lacunas do enunciado abaixo e, em seguida, assinale a opção que apresenta a sequência correta dos termos.

A \_\_\_\_\_ consiste no processo ou na habilidade de uma pessoa de se colocar no lugar de outra, de entender seus sentimentos, desejos, idéias e ações. Esse processo \_\_\_\_\_ tem sido destacado como muito importante para a \_\_\_\_\_ da comunicação e do relacionamento com o público.

A sequência correta é:

- (A) simpatia / simpático / eficácia
- (B) empatia / empático / eficácia
- (C) simpatia / empático / deformação
- (D) empatia / apático / destruição

### QUESTÃO 14



O diálogo estabelecido pelas personagens acima ilustra uma das diferenças entre a linguagem médica e a leiga. Alguns estudos apontam que as bulas dos remédios vendidos no Brasil são incompletas e excessivamente técnicas para o público leigo, além de superficiais e desatualizadas para os médicos.

Acerca da importância da bula, assinale a opção correta.

- (A) É dispensável para o usuário do medicamento, pois cabe exclusivamente ao médico entender o seu conteúdo.
- (B) É dispensável para o médico, principalmente quanto ao seu conteúdo técnico.
- (C) É dispensável para o médico, pois cabe ao paciente conhecer e compreender as especificações técnicas da medicação.
- (D) É indispensável a médicos e pacientes, pois ambos necessitam de informações específicas acerca dos medicamentos.

### QUESTÃO 15

Antônio, profissional de competência reconhecida em seu trabalho, tem desenvolvido uma capacidade crescente para arrumar, dispor e classificar objetos, documentos e informações profissionais de maneira estruturada, dividida e seqüenciada. Além disso, ele costuma selecionar ações, atividades e responsabilidades e estabelecer uma escala de prioridades, de forma a evitar o desperdício e o retrabalho.

É correto afirmar que as características de Antônio descritas acima correspondem à capacidade de

- (A) gestão de pessoas.
- (B) flexibilidade.
- (C) organização.
- (D) delegação.

### QUESTÃO 16

Maria, auxiliar nas atividades operacionais da cozinha de uma instituição, sabe que a função das fibras é a de estimular o funcionamento intestinal, pois elas absorvem líquidos e substâncias, previnem a prisão de ventre, eliminam elementos tóxicos do organismo e contribuem para evitar a hipertensão, o colesterol alto, a obesidade, entre outras doenças. Uma das atividades a ser desempenhada por Maria é a seleção dos alimentos com fibras para a preparação de determinada receita culinária.

Considerando a situação hipotética acima, assinale a opção que **NÃO** apresenta uma fonte de fibras a ser selecionada por Maria.

- (A) frutas com casca
- (B) leguminosas
- (C) macarrão com farinha branca
- (D) pão integral

**QUESTÃO 17**

Algumas medidas são essenciais para a garantia da saúde alimentar, entre elas a noção de que é fator de multiplicação de bactérias a soma das bactérias patogênicas aos alimentos de alto risco (maionese, ovos, arroz cozido, carnes, leite e derivados etc.), associada ao tempo e à temperatura.

**Acerca da higienização e da manipulação de alimentos, assinale a opção que apresenta uma medida correta para a prevenção de contaminação de alimentos por bactérias.**

- (A) Embalagem dos alimentos a vácuo.
- (B) Armazenamento de carnes em temperaturas superiores a 4°C.
- (C) Reaquecimento de carnes em baixas temperaturas.
- (D) Consumo de carnes mal cozidas.

**QUESTÃO 18**

José, consciente de seu papel de cidadão, tornou-se profissional ativo no combate ao desperdício de energia e tem seguido as recomendações para a racionalização da energia elétrica dos aparelhos usados em sua atividade profissional, entre eles o ferro elétrico.

**Considerando essas recomendações, julgue os itens abaixo e, em seguida, assinale a opção correta.**

- I - O ferro elétrico deve ser ligado nos horários em que muitos outros aparelhos estejam ligados.
- II - Deve-se evitar ligar o ferro elétrico várias vezes ao dia.
- III - Deve-se acumular a maior quantidade possível de roupas, a fim de que possam ser passadas todas de uma só vez.
- IV - Ao terminar de usar o ferro elétrico, o seu fio deve ser enrolado em volta do aparelho ainda quente.

**Estão certos apenas os itens**

- (A) I, II e III.
- (B) I, II e IV.
- (C) II e III.
- (D) II, III, IV.

**QUESTÃO 19**

Geralmente as pessoas utilizam balanças, xícaras, colheres e medidores na preparação de uma receita culinária. No entanto, a noção de pesos e medidas sem balança pode garantir o sucesso de um bom prato, que depende muito das medidas utilizadas. Na ausência de uma balança, pode ser utilizada uma tabela de equivalência.

**Considerando a equivalência dos líquidos apresentada na tabela abaixo, complete as lacunas e, em seguida, assinale a opção correta.**

1 litro	4 copos americanos	1.000 mL
1 xícara (chá)	16 colheres (sopa)	240 mL
1 colher (_____)	3 colheres (chá)	15 mL
1 colher (chá)	1/3 colher (sopa)	5 mL
1 colherinha (_____)	1/2 colher (chá)	2,5 mL

**A seqüência correta é:**

- (A) chá / sopa
- (B) sopa / café
- (C) sopa / café
- (D) chá / café

**QUESTÃO 20**

Previsão, instalação, conservação ou manutenção de equipamentos e materiais específicos são fatores de grande importância para a implantação e o funcionamento eficiente de uma lavanderia.

**Assinale a opção que apresenta o equipamento correspondente às características abaixo apresentadas.**

- Destina-se a secar e passar a roupa ao mesmo tempo.
- É constituído de dois ou mais rolos ou cilindros de metal, perfurados ou não, revestidos, que giram dentro de calhas fixas de ferro, aquecidas a vapor ou eletricidade.
- É provido de um dispositivo que desliga automaticamente a máquina, evitando acidentes com as mãos do operador entre os rolos.
- A roupa, passada sob pressão, entre a calha aquecida e o cilindro girando, seca e desenruga.

- (A) calandra
- (B) extratora
- (C) prensa
- (D) secadora

**QUESTÃO 21**

Joana, costureira experiente, aprendeu que o ofício da costura exige a noção de que as agulhas e as linhas têm de ser compatíveis para cada tipo de tecido. No momento de orientar costureiros menos experientes, ela deve destacar algumas informações a respeito da compatibilidade das linhas e agulhas ao tipo de tecido.

**Assinale a opção que corresponde a uma orientação INCORRETA.**

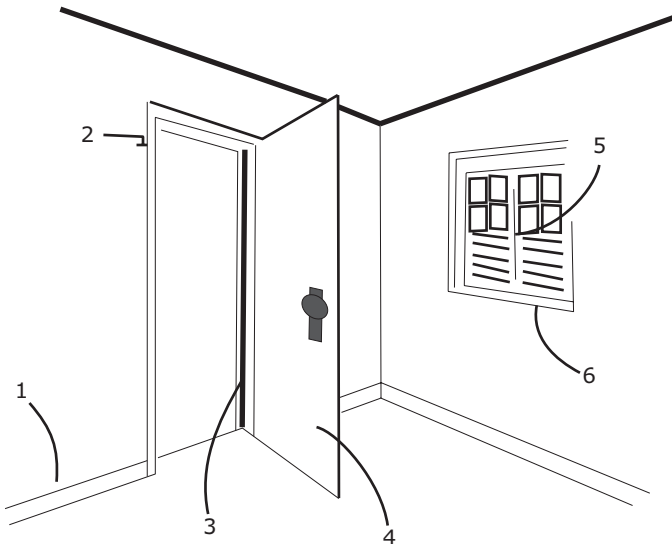
- (A) Para tecidos com elasticidade, como a seda e o brim, recomenda-se apenas a utilização de agulhas n.º 16 e linhas de algodão.
- (B) Para tecidos grossos, como jeans e brim, recomenda-se o uso de agulhas n.º 16 ou n.º 18 e linhas de algodão.
- (C) Para tecidos finos, como cambraia e seda, recomenda-se a utilização de agulhas n.º 11 e linhas de poliéster.
- (D) Para tecidos com elasticidade, como lycra, malhas e jérsei, são recomendadas agulhas especiais de ouro, com a ponta arredondada, que penetram no tecido sem danificar sua fibra, e linhas de poliéster.



### QUESTÃO 22

Noções de construção civil auxiliam na prática de muitas profissões, entre elas a do auxiliar de construção, que tem como atribuição nomear e medir os elementos constitutivos de portas e janelas da construção representada pela figura abaixo, a fim de entregar os dados levantados ao engenheiro da obra.

Com base na numeração associada a cada elemento da figura abaixo, identifique a adequada nomeação desses elementos a ser apresentada pelo auxiliar de construção e, em seguida, assinale a opção correta.



A seqüência correta é:

- (A) rodapé / aduela / folha da porta / alisar / peitoril / esquadria da janela.
- (B) rodapé / alisar / aduela / folha da porta / esquadria da janela / peitoril.
- (C) rodapé / aduela / folha da porta / alisar / esquadria da janela / peitoril.
- (D) alisar / rodapé / aduela / folha da porta / peitoril / esquadria da janela.

### QUESTÃO 23

Alguns agentes biológicos de degradação, como insetos, fungos, bactérias e roedores, são causadores de danos irremediáveis a acervos de materiais e documentos e, também, à segurança de prédios. Dessa forma, muitos cuidados devem ser adotados para evitar a proliferação desses agentes.

Acerca desse assunto, é correto afirmar que

- (A) os países de clima tropical não apresentam as condições climáticas ideais para o rápido desenvolvimento de agentes biológicos.
- (B) a higienização sistemática de acervos constitui requisito que favorece o alastramento da ação danosa de agentes biológicos.
- (C) o monitoramento da temperatura e da umidade não apresenta correlação com o controle da ação danosa de agentes biológicos.
- (D) a ação humana pode ser benéfica ao coibir a introdução de fontes de alimentação nos ambientes, o que favorece o controle de agentes biológicos.

### QUESTÃO 24

Muitas organizações promovem treinamentos, palestras, debates e outras ações para auxiliar os trabalhadores a distinguirem entre o certo e o errado em suas condutas e relações profissionais e a criarem um ambiente favorável à ética.


No que se refere ao comportamento de acordo com a ética profissional, julgue os itens abaixo como Verdadeiros (V) ou Falsos (F) e, em seguida, assinale a opção correta.

- I - Um trabalhador encontra respaldo nos princípios éticos ao fazer "vista grossa" diante dos delitos alheios.
- II - Uma conduta baseada na justificativa "Todo mundo faz isso", em detrimento da conduta fundamentada na justificativa "É correto fazer isso", é considerada uma recomendação ética diante de delitos.
- III - "Hoje em dia você tem de aproveitar todas as vantagens", mesmo que contrárias aos valores morais coletivos, constitui recomendação que atende aos princípios éticos.

A seqüência correta é:

- (A) V, V, V.
- (B) F, V, V.
- (C) F, F, V.
- (D) F, F, F.

### QUESTÃO 25



Internet: [www.malvados.com.br](http://www.malvados.com.br). Acesso em 31/5/2009 (com adaptações).

O amplo acesso das pessoas às novas tecnologias da informação, e especificamente à Internet, tem facilitado a ocorrência de condutas nem sempre éticas.

Tendo como referência a ilustração acima, assinale a opção que apresenta uma relação direta à recomendação ética nela comprometida.

- (A) Evite acessar conteúdos de obras alheias.
- (B) Não se aproprie de idéias que não são suas.
- (C) Não use os recursos de computadores alheios sem pedir permissão.
- (D) Use o computador de modo a proteger sua capacidade de julgamento.