



ESTADO DO RIO GRANDE DO SUL
PODER JUDICIÁRIO
TRIBUNAL DE JUSTIÇA

CONCURSO PÚBLICO PARA PROVIMENTO DO CARGO DE AUXILIAR JUDICIÁRIO

Nome: _____

Nº de Inscrição:

--	--	--	--	--	--	--

Instruções

- Verifique se este caderno contém **62** questões. Caso contrário, solicite ao fiscal da sala outro caderno completo. Não serão aceitas reclamações posteriores.
- Leia cuidadosamente cada uma das questões, escolha a resposta certa (**A, B, C, D** ou **E**) e assinale-a à **tinta** na **folha de respostas**.
- Para cada questão existe apenas **uma** resposta certa. Responda a todas as questões.
- Os candidatos não poderão efetuar qualquer tipo de consulta.
- Iniciada a prova, os candidatos não poderão mais fazer perguntas. Qualquer reclamação a respeito das instruções ou do conteúdo das questões somente será possível posteriormente à realização da prova, pela via adequada, à autoridade competente.
- O tempo de duração da prova é de **4 horas**.

Instrução: As questões de números 01 a 10 referem-se ao texto abaixo.

Anedotas

01 Um dos mistérios da vida é o seguinte: de onde as anedotas? O enigma da criação da anedota se compara
02 ao enigma da criação da matéria. Em todas as teorias conhecidas sobre a evolução do universo, sempre se chega a um
03 ponto em que a única explicação possível é a da geração espontânea. Do nada surge alguma coisa. As anedotas
04 também nasceriam assim, já prontas, aparentemente autogeradas. Você não conhece ninguém que tenha inventado
05 uma anedota; ou, pelo menos, uma boa anedota. Os que contam uma anedota sempre a ouviram de outro, que ouviu
06 de outro, que ouviu de outro, que não se lembra onde a ouviu. Se anedota fosse crime, sua repressão seria difícilíssima.
07 Prenderiam a arraia-miúda, os viciados e até os traficantes, mas jamais chegariam ao *capo*, ao distribuidor, ao verdadeiro
08 culpado.

09 Os humoristas profissionais não fazem anedotas. Inventam piadas, frases, cenas, histórias, mas as anedotas que
10 correm o país não são deles. São de autores desconhecidos, mas nem por isso menos competentes. As anedotas
11 geralmente o rigor formal de um teorema – exposição, desenvolvimento, desenlace. Claro que variam de acordo
12 com quem conta. Grande parte do sucesso de uma anedota depende do estilo de quem conta. A anedota é uma
13 continuação da tradição homérica, da narrativa oral, que transmitia histórias antes do livro. Anedota impressa deixa de
14 ser anedota. Existem contadores brilhantes. E casos pungentes de grandes contadores que, com o tempo, vão perdendo
15 a habilidade, até chegarem ao supremo vexame de, um dia, esquecerem o fim da anedota.

16 Seja como for, a anedota é a grande manifestação da inventividade popular, da inteligência clandestina que
17 vivo o espírito crítico, mesmo quando tentam reprimi-lo. Quem quiser saber o que pensavam os brasileiros dos
18 seus líderes desde o primeiro Pedro deve procurar nas anedotas, não na história oficial.

(Adaptado de Verissimo, Luis Fernando. *Comédias da Vida Pública*: 266 crônicas datadas)

01. Assinale a alternativa que preenche correta e respectivamente as lacunas das linhas 01, 11 e 17.

- (A) vêm – têm – mantém
- (B) vêm – têm – mantêm
- (C) vem – tem – mantém
- (D) vem – tem – mantêm
- (E) vem – têm – mantêm

02. Considerando seu contexto, o significado da palavra **pungentes** na linha 14 é equivalente ao da palavra

- (A) infames.
- (B) extravagantes.
- (C) vergonhosos.
- (D) comoventes.
- (E) espalhafatosos.

03. Considere as assertivas abaixo.

- I - Ninguém sabe de quem ouviu as anedotas que conhece.
- II - Para a criação das anedotas, adota-se intencionalmente a estrutura formal de um teorema matemático.
- III - As anedotas populares revelam espírito crítico.

Quais delas estão de acordo com o texto?

- (A) Apenas I
- (B) Apenas II
- (C) Apenas III
- (D) Apenas II e III
- (E) I, II e III

04. Assinale a alternativa em que a relação entre pronome e palavra ou expressão retomada ou substituída está **incorreta**.

- (A) **que** (linha 03) – **universo** (linha 02)
- (B) **a** (linha 06) – **uma anedota** (última ocorrência da linha 05)
- (C) **(d)eles** (linha 10) – **Os humoristas profissionais** (linha 09)
- (D) **que** (linha 13) – **(d)a narrativa oral** (linha 13)
- (E) **lo** (linha 17) – **o espírito crítico** (linha 17)

05. Qual dos segmentos abaixo poderia substituir **deve procurar** (linha 18) sem alterar o sentido da frase?

- (A) terá de procurar
- (B) será obrigado a procurar
- (C) com certeza procurará
- (D) terá a missão de procurar
- (E) provavelmente procurará

06. Todas as palavras abaixo estão empregadas com um sentido de tempo no texto, **exceto**

- (A) **sempre** (linha 02).
- (B) **já** (linha 04).
- (C) **até** (linha 07).
- (D) **jamais** (linha 07).
- (E) **antes** (linha 13).

07. Se substituíssemos **brasileiros** (linha 17) por **nação brasileira**, quantas outras palavras da frase deveriam sofrer ajuste obrigatório para fins de concordância?

- (A) Uma
- (B) Duas
- (C) Três
- (D) Quatro
- (E) Cinco

<p>08. Considere as justificativas propostas para determinados sinais de pontuação empregados no texto.</p> <p>I - Os dois-pontos da linha 01 introduzem uma inter-rogação indireta.</p> <p>II - A terceira vírgula da linha 06 separa a oração subordinada adverbial da principal.</p> <p>III - As duas últimas vírgulas da linha 07 separam elementos que exercem a mesma função sintática.</p> <p>Quais são corretas?</p> <p>(A) Apenas I (B) Apenas II (C) Apenas III (D) Apenas II e III (E) I, II e III</p>	<p>09. Qual das formas verbais abaixo poderia substituir depende (linha 12) sem acarretar alteração na estrutura da frase?</p> <p>(A) incorre (B) inclui (C) reside (D) insere (E) advém</p> <hr/> <p>10. Assinale a alternativa em que as sílabas das palavras enigma (linha 01), possível (linha 03) e nasceriam (linha 04) estão corretamente separadas.</p> <p>(A) e - ni - gma / pos - sí - vel / nas - ce - ri - am (B) e - ni - gma / po - ssí - vel / na - sce - riam (C) en - ig - ma / po - ssí - vel / na - sce - riam (D) e - nig - ma / po - ssí - vel / nas - ce - ri - am (E) e - nig - ma / pos - sí - vel / nas - ce - riam</p>
--	--

Instrução: As questões de números **11** a **24** referem-se ao texto abaixo.

Prodigalidade

- 01 Nós vivemos na sociedade do desperdício.
- 02 Esse comportamento simplesmente passou a ser parte inquestionável de nosso cotidiano. Desde que produzimos
- 03 o primeiro, lá na idade das cavernas, reservamos um lugar de destaque para o desperdício.
- 04 Desperdiçamos não só porque a publicidade nos torna ansiosos em busca do belo e do novo. Também porque
- 05 “ter”, hoje, se sobrepõe a “ser”. E muito mais porque a indústria progrediu, ficou moderna e eficiente.
- 06 Simplesmente desperdiçamos porque não temos noção de como sermos diferentes.
- 07 Esse capítulo começa com as pragas que brotam e infestam as lavouras, destruindo grande parte das safras.
- 08 Continua pelo terreiro das fazendas nas colheitas e deixa um rastro de alimentos apodrecendo nos caminhos,
- 09 estradas, armazéns, mercados, pias e geladeiras, até que desembarca nas mesas e produz sobras.
- 10 E este não é um privilégio do campo – ou do setor primário, para usar um termo mais técnico.
- 11 Desperdiçamos com erros nas fábricas e burocracia nos escritórios.
- 12 Aprendemos com júbilo a vender mais, estimulando o consumo e induzindo ao desperdício. É um clássico do
- 13 ensino de *marketing* o caso das pastas de dente. Seus fabricantes descobriram, depois de muitas pesquisas, que
- 14 aumentar o diâmetro de saída dos tubos ampliava as vendas sem que fosse preciso duplicar a população nem criar
- 15 novos hábitos de uso.
- 16 Nós repetimos, a todo o tempo, que o que abunda não prejudica.
- 17 Não questionamos as quantidades ofertadas. Por que todo mundo tem que comprar leite em múltiplos de litro ou
- 18 remédios em doses maiores que a da médica?
- 19 Também não questionamos a obsolescência programada que condena à morte produtos ainda nas mesas de
- 20 projeto. Nem a invasão dos descartáveis, das embalagens recheadas com alumínio aos cartões telefônicos.
- 21 Acumulamos excessos. E gastamos com filas, engarrafamentos e refazeres constantes.
- 22 Quem nunca assistiu ao xampu escorrendo pelo ralo através de um gargalo muito maior que o necessário? Onde
- 23 estão as embalagens econômicas? É assim que a indústria produz.
- 24 Não é lindo um presente embalado e reembalado em quilos de papel e fita colorida? Não é tão bom dar e receber
- 25 no Natal, no dia das mães, dos namorados, pais, crianças e mestres? Quem passa impune pelos crediários, promoções
- 26 e vitrines? É assim que o comércio vive.
- 27 O modo de produção industrial se alimenta da escala. O lucro vem da diferença entre o preço de custo e de
- 28 venda. Preço é determinado pela lei da oferta e da procura. A medida de nosso sucesso está no que temos.
- 29 Esses são os principais ingredientes de uma sociedade que não se importa com o desperdício e celebra o novo.
- 30 Tudo novo é melhor. Tudo é descartável. Carro, computador, celular, emprego, relacionamentos...
- 31 Afinal, como chamamos as pessoas que economizam energia, fecham as torneiras e reaproveitam as sobras?

(Adaptado de Prado, Jason. *Leituras Compartilhadas*, fascículo 8)

11. Assinale a alternativa que preenche correta e respectivamente as lacunas das linhas 03, 08 e 18.

- (A) excedente – milionário – prescrição
- (B) excedente – milionário – prescrição
- (C) exedente – milionário – prescrição
- (D) exedente – milionário – proscricao
- (E) excedente – milionário – proscricao

12. Assinale a assertiva que está de acordo com o texto.

- (A) O comportamento humano de desperdício decorreu da criação das primeiras indústrias.
- (B) Expressões do nosso cotidiano, como “o que abunda não prejudica”, incentivam a prodigalidade.
- (C) A publicidade incentiva comportamentos de moderação e uso racional dos produtos.
- (D) “Ter” e “ser” são, simultaneamente, os dois objetivos centrais dos cidadãos contemporâneos.
- (E) O comércio e a indústria estão engajados no esforço de evitar comportamentos de desperdício.

13. De acordo com o texto, o principal objetivo da publicidade, que é o de persuadir clientes e consumidores, está expresso no uso de

- (A) **produzimos** (linha 02).
- (B) **progrediu** (linha 05).
- (C) **infestam** (linha 07).
- (D) **induzindo** (linha 12).
- (E) **criar** (linha 14).

14. A pergunta feita no final do texto demonstra que o autor

- (A) desconhece a palavra adequada para chamar as pessoas que economizam muito.
- (B) quer testar os conhecimentos de vocabulário de seus leitores, para desafiá-los ao aperfeiçoamento constante.
- (C) quer sugerir que a sociedade atual trata com desprezo as pessoas que possuem hábitos de economia.
- (D) pretende mudar a forma de dar nome aos cidadãos que desenvolvem comportamentos de economia.
- (E) deseja desafiar os leitores a voltarem ao título do texto para encontrar a resposta.

15. Analise as sugestões de alteração das frases do texto, desconsiderando eventuais mudanças de maiúsculas e minúsculas.

- I - Inclusão da forma verbal *Desperdiçamos* antes de **Também porque “ter”** (linhas 04-05)
- II - Deslocamento de **o caso das pastas de dente** (linha 13) para antes de **É um clássico do ensino de marketing** (linhas 12-13)
- III - Inclusão de *aprovamos* depois de **Nem** (linha 20)

Quais delas mantêm o significado original do texto?

- (A) Apenas I
- (B) Apenas II
- (C) Apenas I e II
- (D) Apenas II e III
- (E) I, II e III

16. Ao escrever **para usar um termo mais técnico** (linha 10), o autor do texto quis se referir ao uso

- (A) da palavra **privilégio**.
- (B) da expressão **privilégio do campo**.
- (C) da palavra **setor**.
- (D) da expressão **setor primário**.
- (E) do pronome demonstrativo **este**.

17. Assinale a alternativa que completa corretamente a frase abaixo, adaptada do texto.

Tu aprender a vender mais, estimulando o consumo e induzindo ao desperdício.

- (A) pôde
- (B) pudeste
- (C) podestes
- (D) podeste
- (E) pudestes

18. Assinale a alternativa em que as duas palavras são acentuadas pela mesma regra.

- (A) **inquestionável** (linha 02) – **Também** (linha 04)
- (B) **até** (linha 09) – **técnico** (linha 10)
- (C) **fábricas** (linha 11) – **saída** (linha 14)
- (D) **Nós** (linha 16) – **múltiplos** (linha 17)
- (E) **através** (linha 22) – **está** (linha 28)

19. A preposição **a** (linha 12) e a combinação da preposição **de** com o artigo **a** (**da**, primeira ocorrência da linha 27) são exigidas, respectivamente, por

- (A) **Aprendemos** e **O modo**.
- (B) **Aprendemos** e **produção industrial**.
- (C) **Aprendemos** e **se alimenta**.
- (D) **júbilo** e **produção industrial**.
- (E) **júbilo** e **se alimenta**.

20. Os significados adequados de **impune** (linha 25) e de **celebra** (linha 29), no contexto em que ocorrem, são, respectivamente,

- (A) orgulhoso e engrandece.
- (B) incólume e exalta.
- (C) imponente e festeja.
- (D) incólume e realiza.
- (E) imponente e exalta.

21. Considere as seguintes assertivas sobre passagens do texto.

- I - A expressão **Esse comportamento** (linha 02) retoma **desperdício** (linha 01).
- II - O uso de **lá**, na linha 03, faz uma referência a um lugar determinado.
- III - A expressão **o caso das pastas de dente** (linha 13) retoma algo explicado anteriormente no texto.

Quais são corretas?

- (A) Apenas I
- (B) Apenas II
- (C) Apenas I e II
- (D) Apenas I e III
- (E) I, II e III

22. As vírgulas que ocorrem no trecho **Carro, computador, celular, emprego, relacionamentos** (linha 30) se justificam pela mesma regra que prescreve seu uso em

- (A) **“ter”, hoje, se sobrepõe a “ser”** (linha 05)
- (B) **vender mais, estimulando o consumo** (linha 12)
- (C) **Nós repetimos, a todo o tempo, que o que abunda não prejudica** (linha 16)
- (D) **gastamos com filas, engarrafamentos e refazeres constantes** (linha 21)
- (E) **Afinal, como chamamos as pessoas** (linha 31)

23. Qual das palavras abaixo **não** é usada no texto como um substantivo?

- (A) **belo** (linha 04)
- (B) **sobras** (linha 09)
- (C) **consumo** (linha 12)
- (D) **ensino** (linha 13)
- (E) **descartável** (linha 30)

24. Assinale a alternativa em que os segmentos destacados representam o mesmo fonema (som).

- (A) desperdçio – desperdçamos
- (B) júbilo – gargalo
- (C) produção – dosses
- (D) reservamos – burocracia
- (E) excessos – xampu

25. Em uma divisão com números naturais em que o resto é 7 e o divisor tem apenas um algarismo, os divisores possíveis são

- (A) 1, 2, 3, 4, 5, 6
- (B) 4, 5, 6
- (C) 7
- (D) 7, 8, 9
- (E) 8, 9

26. Um advogado ingressou com uma ação de cobrança no valor de R\$ 100.000,00. A ação foi julgada procedente em parte, sendo o ganho do cliente de $\frac{8}{10}$ do valor pleiteado. Como os honorários do advogado foram contratados em $\frac{1}{4}$ do valor que o cliente viesse a receber, quanto sobrou para o cliente?

- (A) R\$ 6.000,00
- (B) R\$ 8.000,00
- (C) R\$ 20.000,00
- (D) R\$ 40.000,00
- (E) R\$ 60.000,00

27. O valor da expressão $3^2 + \sqrt{64} - 4 \div 2$ é

- (A) 5
- (B) 6,5
- (C) 11
- (D) 12
- (E) 15

28. Se $a = -5$, $b = 3$ e $c = -1$, então $a + b - c$ é igual a

- (A) -3
- (B) -1
- (C) 3
- (D) 7
- (E) 9

29. A temperatura de um corpo foi medida três vezes durante uma experiência. A segunda leitura acusou 8 graus centígrados a menos que a primeira, e a terceira acusou 12 graus centígrados a menos que a segunda. Se a primeira leitura foi de 7 graus centígrados, a última medição apontou

- (A) 20 graus centígrados.
- (B) 1 grau centígrado.
- (C) -13 graus centígrados.
- (D) -20 graus centígrados.
- (E) -27 graus centígrados.

30. O valor de x que torna verdadeira a igualdade

$$\frac{x}{x-2} = \frac{4}{5} \text{ é}$$

- (A) - 8
- (B) - 2
- (C) 2
- (D) 8
- (E) 10

31. Se ao dobro de um certo número adicionarmos o quadrado desse mesmo número, obteremos 24. Esse número é

- (A) - 12 ou 8
- (B) - 8 ou 12
- (C) - 6 ou - 4
- (D) - 6 ou 4
- (E) - 4 ou 6

32. Um automóvel consumiu 18 litros de gasolina para percorrer 198 km de certa estrada. Mantendo as mesmas condições durante todo o percurso, quanto o motorista gastou em combustível para percorrer os primeiros 132 km dessa estrada, se ele pagou R\$ 2,50 pelo litro da gasolina?

- (A) R\$ 20,00
- (B) R\$ 30,00
- (C) R\$ 35,00
- (D) R\$ 40,00
- (E) R\$ 45,00

33. Pagando à vista certa mercadoria, obtém-se um desconto de 15% sobre o valor marcado em sua etiqueta. Se o preço pago à vista é de R\$ 102,00, o preço marcado na etiqueta é de

- (A) R\$ 120,00
- (B) R\$ 122,00
- (C) R\$ 125,00
- (D) R\$ 127,00
- (E) R\$ 130,00

34. Um vendedor recebe um salário fixo mensal de R\$ 600,00 acrescido de 5% do valor das vendas efetuadas durante o mês. No mês em que seu salário foi de R\$ 1.100,00, o valor das vendas efetuadas correspondeu a

- (A) R\$ 9.000,00
- (B) R\$ 10.000,00
- (C) R\$ 10.500,00
- (D) R\$ 11.000,00
- (E) R\$ 12.000,00

35. Um capital que, empregado a juros simples de 2% ao mês, rende R\$ 300,00 em 3 meses é de

- (A) R\$ 3.000,00
- (B) R\$ 5.000,00
- (C) R\$ 8.000,00
- (D) R\$ 10.000,00
- (E) R\$ 12.000,00

36. Os juros simples produzidos por um capital de R\$ 4.600,00, aplicado a uma taxa mensal de 1,2%, ao final de 5 meses serão de

- (A) R\$ 27,60
- (B) R\$ 55,20
- (C) R\$ 230,00
- (D) R\$ 276,00
- (E) R\$ 552,00

37. O perímetro de um retângulo é 22 cm, e o comprimento tem 5 cm a mais que a largura. A largura desse retângulo é

- (A) 3 cm.
- (B) 5 cm.
- (C) 6 cm.
- (D) 8 cm.
- (E) 11 cm.

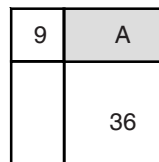
38. Uma audiência no Fórum teve início às 10h20min, com uma duração de 235 minutos sem interrupções. Essa audiência terminou às

- (A) 12h35min.
- (B) 12h55min.
- (C) 13h15min.
- (D) 14h15min.
- (E) 14h55min.

39. A medida, em centímetros, do perímetro de um quadrado de área igual a 144 m^2 é

- (A) 1.200
- (B) 3.600
- (C) 4.800
- (D) 6.000
- (E) 7.200

40. Na figura abaixo, estão representados dois quadrados e dois retângulos que, justapostos, formam um quadrado maior.



A área do quadrado menor é 9, e a do quadrado médio é 36. A área do retângulo escurecido **A** é

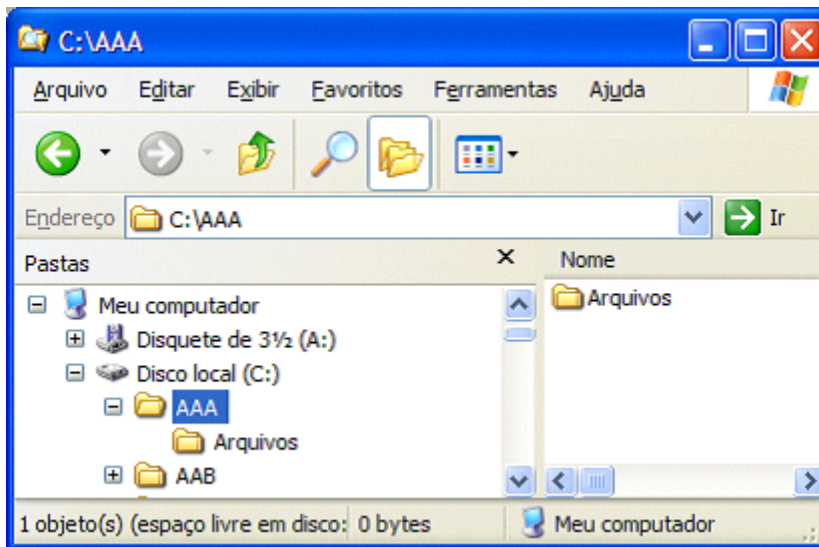
- (A) 12
- (B) 15
- (C) 18
- (D) 24
- (E) 27




Instrução: As questões de números 41 a 43 referem-se ao sistema operacional Microsoft Windows XP Professional, instalação para destros.







41. Qual dos ícones abaixo representa um recurso compartilhado?



Instrução: Para responder às questões de números 42 e 43, considere a imagem do programa Windows Explorer abaixo.











42. Para retirar a pasta  da pasta  e movê-la para dentro da pasta , considere as ações propostas.

- I - Copiar a pasta  através do menu Editar | Copiar e, em seguida, colá-la sobre a pasta  através do menu Editar | Colar.
- II - Mover a pasta , utilizando o botão principal (esquerdo) do mouse, e soltá-la sobre a pasta .
- III - Recortar a pasta  através do menu Editar | Recortar e, em seguida, colá-la sobre a pasta  através do menu Editar | Colar.

Quais são corretas?

- (A) Apenas I
- (B) Apenas I e II
- (C) Apenas I e III
- (D) Apenas II e III
- (E) I, II e III

43. Assinale a assertiva correta.

- (A) Considerando que a pasta  está selecionada, ao clicar uma vez o botão representado pelo ícone , o programa Windows Explorer mostrará, no lado direito da janela, o conteúdo de .
- (B) Ao clicar o botão representado pelo ícone , a pasta  ficará selecionada, e seu conteúdo será mostrado no lado direito da janela do programa Windows Explorer.
- (C) Ao clicar o botão representado pelo ícone , pode-se definir um novo ícone para a pasta selecionada.
- (D) Para desfazer a última operação realizada pelo Windows Explorer, deve-se clicar o botão representado pelo ícone .
- (E) Ao clicar o botão representado pelo ícone , podem ser procurados arquivos e pastas em um computador.

Instrução: As questões de números 44 a 47 referem-se ao programa Microsoft Word 2002.

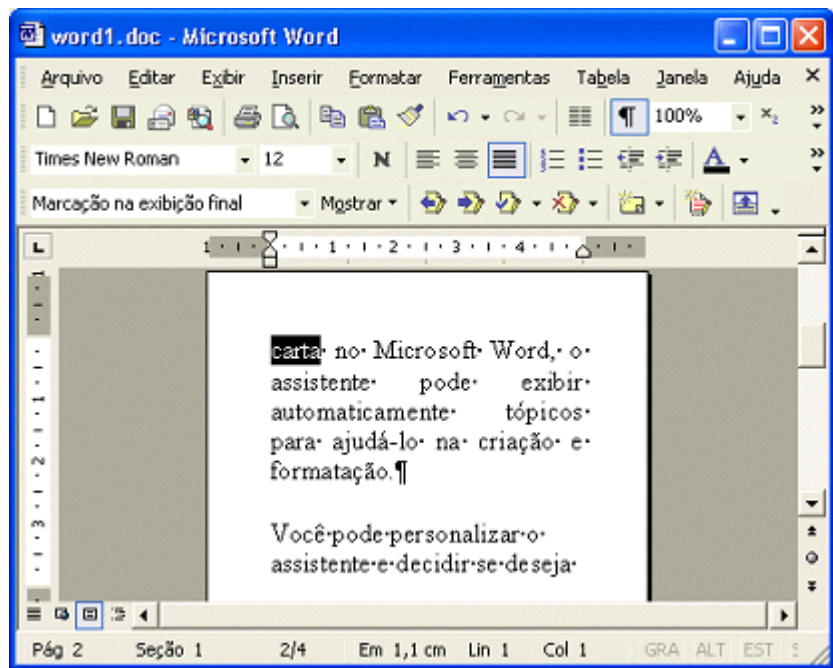
44. Considere as assertivas abaixo sobre características do programa Microsoft Word 2002.

- I - Através da criação de seções, podem ser definidas determinadas opções de formatação de página para uma parte de um documento. Pode-se criar uma nova seção quando se deseja alterar propriedades como numeração de linha, número de colunas, cabeçalhos e rodapés, margens, tamanho e orientação do papel.
- II - O Assistente de mala direta permite a criação de cartas-modelo para o envio de correspondência. Nesse processo, uma fonte de dados é um arquivo que contém os dados que variam em cada cópia de um documento mesclado.
- III - A partir do menu Janela | Dividir, pode-se dividir a janela ativa em painéis.

Quais são corretas?

- (A) Apenas I
- (B) Apenas I e II
- (C) Apenas I e III
- (D) Apenas II e III
- (E) I, II e III

Instrução: Para responder às questões de números 45 a 47, considere a imagem ao lado, que mostra um documento sendo editado.



45. Sobre o documento que está sendo mostrado na imagem, assinale a assertiva correta.

- (A) O documento possui 2 páginas.
- (B) O documento está configurado para utilizar papel tamanho A4, isto é, largura de 21 cm e altura de 29,7 cm.
- (C) O Zoom está definido em 100%, isto é, sem redução nem ampliação na visualização do documento.
- (D) O documento está sendo exibido no modo Normal.
- (E) O nome do arquivo que está sendo editado é "Marcação na exibição final".

46. Os botões da Barra de ferramentas representados pelos ícones ,  e  correspondem, respectivamente, a

- (A) Novo documento em branco, Abrir e Colunas.
- (B) Novo documento em branco, Salvar e Visualizar impressão.
- (C) Excluir documento, Abrir e Justificar.
- (D) Fechar documento, Arquivar e Visualizar impressão.
- (E) Fechar documento, Salvar e Justificar.

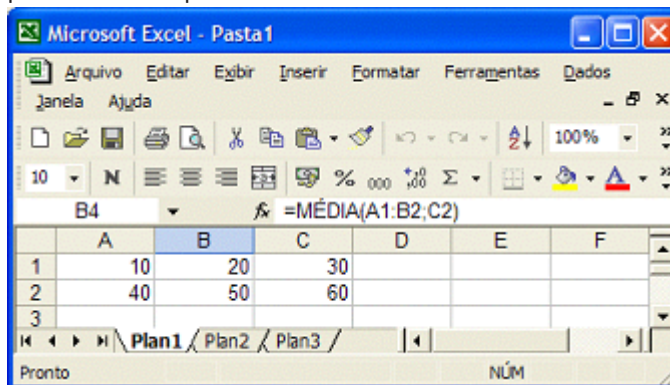
47. Considere as assertivas abaixo sobre o documento que está sendo mostrado na imagem.

- I - Estão sendo exibidas as marcas de formatação como, por exemplo, marcas de parágrafo.
- II - O parágrafo que contém a palavra selecionada **carta** está com o alinhamento justificado, isto é, alinhado às margens ou aos recuos direito e esquerdo.
- III - A palavra selecionada **carta** está formatada em negrito.

Quais são corretas?

- (A) Apenas I
- (B) Apenas I e II
- (C) Apenas I e III
- (D) Apenas II e III
- (E) I, II e III

Instrução: As questões de números 48 e 49 referem-se ao programa Microsoft Excel 2002. Para resolvê-las, considere a imagem a seguir, que mostra uma planilha sendo editada.



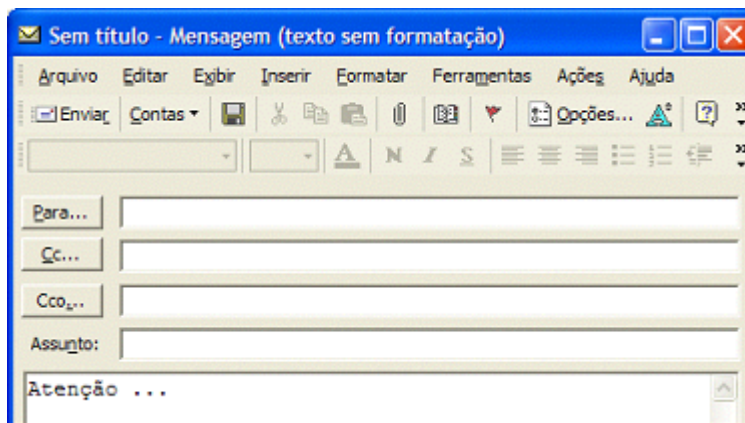
48. Na Barra de ferramentas, o botão que permite inserir uma AutoSoma é representado pelo ícone

- (A)
- (B)
- (C)
- (D)
- (E)

49. Considerando os valores mostrados na planilha, ao digitar-se a fórmula `=MÉDIA(A1:B2;C2)` na célula B4, qual será o resultado obtido nessa célula?

- (A) 30
- (B) 33
- (C) 35
- (D) 36
- (E) 40

50. Considere a imagem e as assertivas abaixo, propostas sobre o programa Microsoft Outlook 2002.

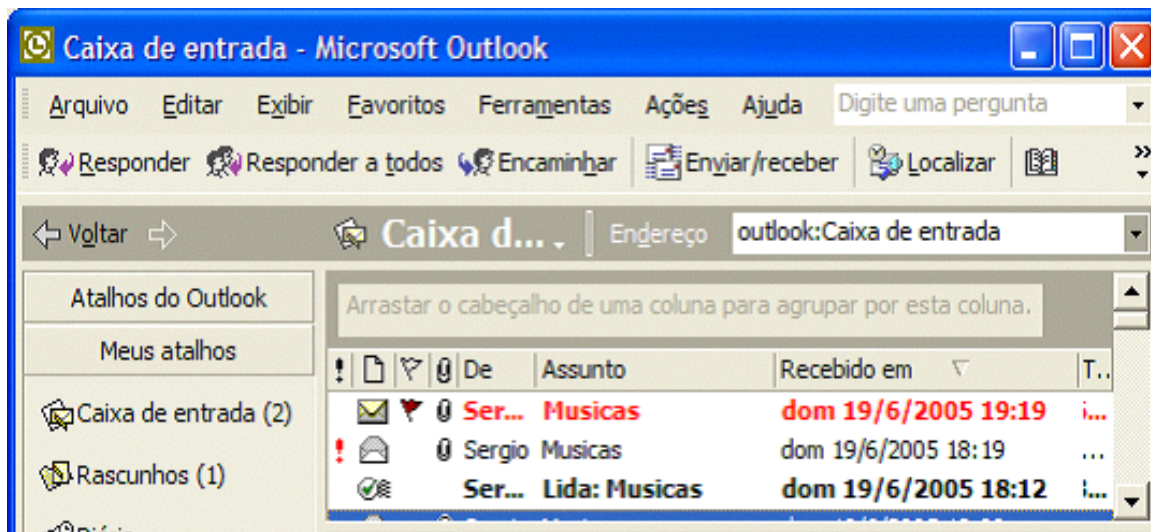







- I - Os nomes dos destinatários de uma mensagem podem ser inseridos na caixa ao lado do botão **Para...**, separados por ponto-e-vírgula (;).
- II - Se, em uma mensagem, se adicionar o nome de um destinatário na caixa ao lado do botão **Cc...**, uma cópia da mensagem será enviada a esse destinatário, e seu nome ficará visível para os outros destinatários da mensagem.
- III - Se, em uma mensagem, se adicionar o nome de um destinatário na caixa ao lado do botão **Cco...**, uma cópia da mensagem será enviada a esse destinatário e, assim que ele a receber, será enviada uma confirmação de recebimento ao remetente.

Quais são corretas?

- (A) Apenas I
- (B) Apenas I e II
- (C) Apenas I e III
- (D) Apenas II e III
- (E) I, II e III

51. Com base na imagem abaixo do programa Microsoft Outlook 2002, assinale a assertiva **incorreta**.



- (A) Quando aparece o símbolo  associado a uma mensagem, isso indica que ela tem prioridade alta.
- (B) Quando aparece o símbolo  associado a uma mensagem, isso indica que ela está marcada como não lida.
- (C) Quando aparece o símbolo  associado a uma mensagem, isso indica que ela possui anexo.
- (D) Quando aparece o símbolo  associado a uma mensagem, isso indica que ela exige uma senha para ser lida.
- (E) Quando aparece o símbolo  associado a uma mensagem, isso indica que ela contém um sinalizador.

52. Considere as assertivas abaixo sobre características e funcionamento do programa Microsoft Internet Explorer 6.

- I - Com o Supervisor de conteúdo, pode-se ajustar o tipo de conteúdo que pode ser visualizado. As configurações de classificação podem ser ajustadas para que reflitam o que se considera conteúdo apropriado em cada uma das áreas: linguagem, nudez, sexo e violência.
- II - Através do menu Personalizar, que aparece quando se clica o botão direito do mouse (botão secundário) na Barra de ferramentas, podem ser adicionados ou removidos botões da Barra de ferramentas padrão, usados botões menores e alterada a ordem na qual são exibidos.
- III - Podem ser usados certificados para proteger o computador contra *software* não seguro. Um certificado assegura que nenhum outro *site* possa assumir a identidade do *site* seguro original.

Quais são corretas?

- (A) Apenas I
- (B) Apenas I e II
- (C) Apenas I e III
- (D) Apenas II e III
- (E) I, II e III

53. Assinale a assertiva **incorreta**.

A Constituição Federal vigente

- (A) incluiu o pluralismo político entre os fundamentos da República Federativa do Brasil.
- (B) deixou de estabelecer, em nível constitucional, o asilo político entre os princípios das relações internacionais do País, estando este regulado apenas na legislação infraconstitucional.
- (C) referiu a criação de uma sociedade livre, justa e solidária como um dos objetivos constitucionais expressamente consagrados.
- (D) elegeu a autodeterminação dos povos como um dos seus princípios nas relações internacionais.
- (E) acenou com a busca de uma integração econômica, política, social e cultural dos povos da América Latina para a formação de uma comunidade latino-americana.

54. Um cidadão requereu que lhe fossem fornecidas as informações sobre sua pessoa constantes num banco de dados de determinada entidade governamental. A solicitação foi negada, sem maior fundamentação. Que remédio a Constituição Federal assegura a esse cidadão para obtenção das informações solicitadas?

- (A) Mandado de segurança
- (B) *Habeas corpus*
- (C) *Habeas data*
- (D) Ação popular
- (E) Mandado de injunção

55. O art. 5º da Constituição Federal estabeleceu o elenco de direitos e deveres individuais e coletivos, dentro do campo dos Direitos e Garantias Fundamentais. Que regra, dentre as propostas abaixo, **não** está ali estabelecida?

- (A) O amplo e livre exercício de qualquer trabalho, ofício ou profissão não está mais sujeito a disposições legais restritivas.
- (B) As associações só poderão ser compulsoriamente dissolvidas por decisão judicial trânsita em julgado.
- (C) A lei não excluirá da apreciação do Poder Judiciário lesão ou ameaça a direito.
- (D) A lei considerará crime inafiançável e insuscetível de graça ou anistia a prática da tortura.
- (E) No processo judicial ou administrativo, as provas obtidas por meios ilícitos são inadmissíveis.

56. Assinale a assertiva correta de acordo com a Constituição da República Federativa do Brasil.

- (A) Todo e qualquer servidor público somente poderá ser admitido em cargo ou emprego público mediante prévia aprovação em concurso público.
- (B) É vedada a contratação emergencial, por tempo determinado, para atender a necessidade temporária de excepcional interesse público, sem prévia lei específica.
- (C) É assegurado a todo servidor público civil e militar o livre direito à associação sindical.
- (D) A única exceção para a acumulação de cargos, no serviço público, é o exercício de 2 (dois) cargos de professor.
- (E) Os cargos em comissão, na administração pública, destinam-se, especificamente, às atribuições de direção, chefia e assessoramento.

57. Considere os órgãos abaixo listados.

- I - O Tribunal de Justiça e os Tribunais do Júri
- II - O Tribunal de Alçada e o Tribunal Militar
- III - O Tribunal de Contas e os Juizados Especiais
- IV - Os Juizes de Direito e o Tribunal de Justiça Desportiva

Quais deles são órgãos do Poder Judiciário de acordo com o que foi instituído na Constituição do Estado do Rio Grande do Sul?

- (A) Apenas os contidos em I
- (B) Apenas os contidos em II
- (C) Apenas os contidos em III e IV
- (D) Apenas os contidos em I, II e III
- (E) Apenas os contidos em II, III e IV

58. **Não** integram a administração indireta do Estado do Rio Grande do Sul

- (A) as autarquias.
- (B) os departamentos das Secretarias de Estado.
- (C) as sociedades de economia mista.
- (D) as empresas públicas.
- (E) as fundações instituídas ou mantidas pelo Estado.

59. Um auxiliar judiciário do Tribunal de Justiça do Estado do Rio Grande do Sul foi indiciado em inquérito administrativo disciplinar por conduta escandalosa na repartição (assédio sexual a uma colega de trabalho), resultando devidamente comprovadas as acusações. Foi-lhe assegurado o amplo direito de defesa. Esta era a terceira falta cometida pelo servidor por fato da mesma natureza. Na primeira vez, foi repreendido; na segunda, foi suspenso por 30 (trinta) dias. De acordo com o Estatuto e Regime Jurídico Único dos Servidores Públicos Civis do Estado do Rio Grande do Sul, esse auxiliar judiciário deverá ser punido com

- (A) nova repreensão.
- (B) pena de suspensão por 60 (sessenta) dias.
- (C) pena de suspensão por 90 (noventa) dias.
- (D) nova pena de suspensão por 90 (noventa) dias e multa.
- (E) pena de demissão.

60. Um servidor público civil, no último ano de sua atividade funcional, teve 63 (sessenta e três) faltas intercaladas, não justificadas. Em razão dessa situação, será punível com a pena de

- (A) advertência.
- (B) suspensão.
- (C) multa.
- (D) demissão.
- (E) demissão a bem do serviço público.

61. Conforme o art. 26 da Lei nº 11.835/02, que estabeleceu nova redação ao Anexo II da Lei nº 11.291/98, **não** se incluem entre as atribuições do auxiliar judiciário (Classe "C") do Tribunal de Justiça do Estado do Rio Grande do Sul

- (A) manter fichários atualizados e controlar a entrega de encomendas e pequenos volumes.
- (B) realizar triagem, encaminhar as partes de acordo com o assunto apresentado e solucionar pequenos problemas.
- (C) acompanhar o oficial de justiça no cumprimento de mandados de intimação, citação e penhora e auxiliá-lo na lavratura das certidões e autos respectivos.
- (D) datilografar ou digitar expedientes e transmitir recados, convites e demais comunicados.
- (E) proceder à movimentação interna de expedientes, processos e correspondência e atender chamadas telefônicas, prestando informações.

62. O Plano de Gestão pela Qualidade do Judiciário do Tribunal de Justiça do Estado do Rio Grande do Sul, instituído pelo Ato nº 12/2002-STP, visando atingir a um grau de excelência na prestação jurisdicional dos serviços forenses, estabeleceu princípios, políticas e valores. Associe a classificação proposta (coluna da esquerda) a suas especificações (coluna da direita).

- 1 - Princípios () Instituir gestão baseada em fatos e dados.
- 2 - Políticas () Promover a integração de todas as pessoas e de todos os processos produtivos.
- 3 - Valores
 - () Representar perante a sociedade a certeza e confiança da proteção dos direitos objetivos, previstos na Constituição e nas leis.
 - () Atuar aplicando os recursos financeiros de modo necessário e suficiente, mantendo o nível da boa qualidade, priorizando os serviços essenciais e evitando desperdício, inclusive de custos ocultos.
 - () Fornecer um serviço de qualidade excelente, prestando os esclarecimentos necessários, atendendo a satisfação total das necessidades dos clientes e com a solução efetiva dos litígios.

A seqüência numérica correta, de cima para baixo, da coluna da direita, é

- (A) 1 – 1 – 3 – 3 – 2
- (B) 1 – 2 – 1 – 3 – 3
- (C) 2 – 1 – 3 – 3 – 2
- (D) 2 – 3 – 3 – 2 – 1
- (E) 3 – 2 – 1 – 1 – 2