



MÉDICO CARDIOLOGISTA COM ESPECIALIZAÇÃO EM ECOCARDIOGRAFIA

LEIA ATENTAMENTE AS INSTRUÇÕES ABAIXO.

01 - Você recebeu do fiscal o seguinte material:

a) este caderno, com as 50 questões das Provas Objetivas, sem repetição ou falha, assim distribuídas:

LÍNGUA PORTUGUESA III		CONHECIMENTOS GERAIS		NOÇÕES DE INFORMÁTICA		CONHECIMENTOS BÁS. MED. e LEG. SUS		CONHECIMENTOS ESPECÍFICOS	
Questões	Pontos	Questões	Pontos	Questões	Pontos	Questões	Pontos	Questões	Pontos
1 a 5	1,0	11 a 15	2,0	16 a 20	2,0	21 a 25	1,0	31 a 40	1,0
6 a 10	3,0					26 a 30	3,0	41 a 50	3,0

b) 1 **Cartão-Resposta** destinado às respostas às questões objetivas formuladas nas provas.

02 - Verifique se este material está em ordem e se o seu nome e número de inscrição conferem com os que aparecem no **CARTÃO**. Caso contrário, notifique **IMEDIATAMENTE** o fiscal.

03 - Após a conferência, o candidato deverá assinar no espaço próprio do **CARTÃO**, preferivelmente a caneta esferográfica de tinta na cor preta.

04 - No **CARTÃO-RESPOSTA**, a marcação das letras correspondentes às respostas certas deve ser feita cobrindo a letra e preenchendo todo o espaço compreendido pelos círculos, a **caneta esferográfica de tinta na cor preta**, com um traço contínuo e denso. A LEITORA ÓTICA é sensível a marcas escuras; portanto, preencha os campos de marcação completamente, sem deixar claros.

Exemplo: (A) (B) (C) (D) (E)

05 - Tenha muito cuidado com o **CARTÃO**, para não o **DOBRAR**, **AMASSAR** ou **MANCHAR**. O **CARTÃO SOMENTE** poderá ser substituído caso esteja danificado em suas margens superior ou inferior - **BARRA DE RECONHECIMENTO PARA LEITURA ÓTICA**.

06 - Para cada uma das questões objetivas, são apresentadas 5 alternativas classificadas com as letras (A), (B), (C), (D) e (E); só uma responde adequadamente ao quesito proposto. Você só deve assinalar **UMA RESPOSTA**: a marcação em mais de uma alternativa anula a questão, **MESMO QUE UMA DAS RESPOSTAS ESTEJA CORRETA**.

07 - As questões objetivas são identificadas pelo número que se situa acima de seu enunciado.

08 - **SERÁ ELIMINADO** do Concurso Público o candidato que:

a) se utilizar, durante a realização das provas, de máquinas e/ou relógios de calcular, bem como de rádios gravadores, *headphones*, telefones celulares ou fontes de consulta de qualquer espécie;

b) se ausentar da sala em que se realizam as provas levando consigo o Caderno de Questões e/ou o **CARTÃO-RESPOSTA**.

09 - Reserve os 30 (trinta) minutos finais para marcar seu **CARTÃO-RESPOSTA**. Os rascunhos e as marcações assinaladas no Caderno de Questões **NÃO SERÃO LEVADOS EM CONTA**.

10 - Quando terminar, entregue ao fiscal **O CADERNO DE QUESTÕES E O CARTÃO-RESPOSTA E ASSINE A LISTA DE PRESENÇA**.

11 - **O TEMPO DISPONÍVEL PARA ESTAS PROVAS DE QUESTÕES OBJETIVAS É DE 3 (TRÊS) HORAS E 30 (TRINTA) MINUTOS**.



LÍNGUA PORTUGUESA III

Texto I

MEDIDAS PARA VIVER MELHOR

A evolução do conceito de qualidade total criou em diversos setores organizacionais um sistema de pontuação – ISO – que é usado na avaliação da qualidade de produtos, serviços, de meio ambiente e assim por diante. Os parâmetros a serem alcançados para obter o certificado ISO, que torna produtos mais competitivos e serviços mais eficientes, indicam o "caminho das pedras" que deve ser seguido para se alcançar a qualidade total.

Em praticamente todos os setores de atividades o ser humano é o elo importante desse sistema. Então por que não avaliar os parâmetros da qualidade de vida do ser humano? Por que não tentar buscar a qualidade total de vida?

É importante se promover o bem-estar total, pois o moderno conceito de saúde vai muito além da ausência de doenças e engloba o bem-estar físico, social, intelectual, emocional, espiritual e profissional, que devem ser avaliados periodicamente. Além desses fatores, outro segmento que muito influi na qualidade total de vida é a saúde familiar.

Com o objetivo de melhor administrar a saúde, deve-se procurar um equilíbrio entre o trabalho, o lazer e o repouso, valorizar as férias e os fins de semana, priorizar a auto-estima, preservar e aprimorar o equilíbrio emocional. Temos verificado que mesmo as pessoas que fazem exames médicos periódicos ou *check-ups*, muitas vezes, devido a dificuldades emocionais, não seguem as recomendações finais, o que representa um fator limitante na promoção da saúde.

Quem assimila o conceito de saúde total e adota medidas positivas de comportamento e hábitos saudáveis, consegue melhor pontuação e conseqüentemente mais se aproxima do almejado "ISO ser humano". Para isso cada pessoa deve estabelecer o seu programa de saúde. Todos podem conseguir um viver melhor desde que haja uma firme decisão de se cuidar.

Deve-se fazer um planejamento geral e escolher a primeira meta a ser alcançada. As prioridades variam de pessoa para pessoa.

JACQUES, Haroldo. **O Globo**. 16 maio 2004. (adaptado)

1

De acordo com o Texto I, ISO é um sistema de pontuação que avalia, nas empresas, a:

- (A) competitividade dos produtos e a eficiência dos serviços.
- (B) qualidade das matérias-primas e a evolução do conceito.
- (C) capacidade de produção e a qualificação do pessoal.
- (D) qualidade do produto e as condições de produção.
- (E) política empresarial e a estratégia organizacional.

2

Segundo o Texto I, a postura de vida que, por sua abrangência, mais se aproxima do "ISO ser humano" é:

- (A) ter uma alimentação variada e balanceada.
- (B) saber conjugar trabalho, lazer e férias.
- (C) adotar medidas positivas de comportamento e hábitos saudáveis.
- (D) fazer periodicamente visitas ao médico e ao dentista.
- (E) evitar estresse, pensamentos negativos e excesso de tarefas.

3

De acordo com o Texto I, é **INCORRETO** afirmar que:

- (A) os procedimentos para atingir o "ISO ser humano" variam de pessoa para pessoa.
- (B) o conceito de saúde ultrapassa os limites físicos.
- (C) o bem-estar total é um dos aspectos da saúde física.
- (D) a saúde familiar é um fator relevante no contexto de vida do ser humano.
- (E) a qualidade de vida do ser humano depende do programa de saúde por ele estabelecido.

4

Analise a ordem em que os tópicos abaixo estão abordados no Texto I.

- I - O papel desempenhado pelo ser humano no sistema.
- II - A relação entre saúde e bem-estar.
- III - O conceito de ISO.
- IV - A qualidade total de vida.

A seqüência correta é:

- (A) I – II – III – IV
- (B) I – III – IV – II
- (C) II – III – IV – I
- (D) III – I – II – IV
- (E) III – IV – I – II



5

"Todos podem conseguir um viver melhor desde que haja uma firme decisão de se cuidar." (l. 36-37)

A segunda oração do período acima estabelece com a anterior uma relação de:

- (A) causa.
- (B) tempo.
- (C) conclusão.
- (D) concessão.
- (E) condição.

6

Considerando-se a regra ortográfica de "auto-estima", qual dos vocábulos abaixo está corretamente grafado?

- (A) Auto-ajuda.
- (B) Auto-destruição.
- (C) Auto-biografia.
- (D) Auto-correção.
- (E) Auto-motriz.

Texto II

NUNCA DESCUIDANDO DO DEVER

Jamais permitiria que seu marido fosse para o trabalho com a roupa mal passada, não dissessem os colegas que era esposa descuidada. Debruçada sobre a tábua com olho vigilante, dava caça às dobras, desfazia pregas, aplainando punhos e peitos, afiando o vinco das calças. E a poder de ferro e goma, envolta em vapores, alcançava o ponto máximo da sua arte ao arrancar dos colarinhos liso brilho de celulóide.

Impecável, transitava o marido pelo tempo. Que, embora respeitando ternos e camisas, começou subrepticiamente a marcar seu avanço na pele do rosto. Um dia notou a mulher um leve afrouxar-se das pálpebras. Semanas depois percebeu que, no sorriso, franziam-se fundos os cantos dos olhos.

Mas foi só muitos meses mais tarde que a presença de duas fortes pregas descendo dos lados do nariz até a boca tornou-se inegável. Sem nada dizer, ela esperou a noite. Tendo finalmente certeza de que o homem dormia o mais pesado dos sonos, pegou um paninho úmido e, silenciosa, ligou o ferro.

COLASANTI, Marina. *Contos de amor rasgados*.

7

Nas passagens "Impecável, transitava o marido pelo tempo." (l. 9) e "... a presença de duas fortes pregas ..." (l. 15-16), as palavras destacadas podem ser substituídas, sem alterar o sentido do texto, respectivamente, por:

- (A) imaculado – marcas.
- (B) infalível – rusgas.
- (C) incensurável – manchas.
- (D) indiferente – dobras.
- (E) indiscutível – carquilhas.

8

No Texto II, o substantivo que, semanticamente, define a ação da mulher é:

- (A) gratidão.
- (B) respeito.
- (C) insegurança.
- (D) vaidade.
- (E) obstinação.

9

A relação entre o vocábulo destacado e a categoria gramatical a ele atribuída está correta em:

- (A) "... com a roupa **mal** passada," (l. 2) – adjetivo.
- (B) "... **que** era esposa descuidada." (l. 3) – pronome relativo.
- (C) "começou sub-repticiamente **a** marcar..." (l. 10-11) – preposição.
- (D) "... um leve **afrouxar-se** das pálpebras." (l. 12-13) – verbo.
- (E) "... só **muitos** meses ..." (l. 15) – advérbio.

10

Assinale a opção em que, ao transcrever a oração "embora respeitando ternos e camisas," (l. 10), o sentido permanece.

- (A) Como respeitava ternos e camisas.
- (B) Ainda que respeitasse ternos e camisas.
- (C) Por respeitar ternos e camisas.
- (D) Quando respeitou ternos e camisas.
- (E) Uma vez que respeitava ternos e camisas.



Continua



CONHECIMENTOS GERAIS

11

Das proibições feitas aos servidores públicos do Estado do Tocantins fazem parte:

- I - ausentar-se do serviço durante o expediente sem autorização;
- II - receber presente em razão de suas atribuições;
- III - recusar fé a documentos públicos;
- IV - utilizar recursos do Estado para fins particulares;
- V - recusar-se a atualizar seus dados cadastrais, quando solicitado.

Estão corretos os itens:

- (A) II e IV, apenas.
- (B) I, II e III, apenas.
- (C) II, III e IV, apenas.
- (D) I, II, III e IV, apenas.
- (E) I, II, III, IV e V.

12

A aposentadoria é um direito do servidor público. O principal documento que garante esse direito é o(a):

- (A) Estatuto Único dos Servidores Públicos.
- (B) Estatuto do Idoso.
- (C) Constituição Federal.
- (D) Lei de Seguridade Social.
- (E) Consolidação das Leis Trabalhistas.

13

A Secretaria de Saúde do Estado do Tocantins estabeleceu várias ações importantes, tais como criação de unidades de saúde, capacitação de profissionais, campanhas de vacinação, medidas de saneamento e criação de Agentes Comunitários. Isto significa que no Estado desenvolve-se uma política de saúde com caráter:

- (A) assistencial.
- (B) emergencial.
- (C) populista.
- (D) preventivo.
- (E) terapêutico.

14

Nos últimos anos, a economia tocantinense tem demonstrado um excelente desempenho. Em 2003, as exportações aumentaram cerca de 646% em relação a todo o ano de 2001, sendo esse crescimento do comércio exterior puxado especialmente pelas exportações de:

- (A) soja.
- (B) feijão.
- (C) milho.
- (D) arroz.
- (E) algodão.


15

O Aeroporto Internacional de Palmas é considerado estratégico pela Infraero para a movimentação de cargas e passageiros. Isto acontece porque o aeroporto:

- (A) é um dos mais modernos aeroportos de médio porte do País.
- (B) tem capacidade para mais de 350 000 passageiros/ano.
- (C) vem aumentando gradativamente seu movimento.
- (D) localiza-se próximo à Usina de Lajeado.
- (E) situa-se no ponto mais central do País.


NOÇÕES DE INFORMÁTICA

16

O botão  da barra de ferramentas Padrão do Word permite:

- (A) chamar o calendário.
- (B) exibir o mapa do documento.
- (C) inserir uma tabela.
- (D) inserir uma planilha do Excel.
- (E) remover objetos selecionados.






17

A célula A3 de uma planilha Excel contém e apresenta o valor 0,62. Se esta célula for selecionada e, em seguida, o botão  for pressionado, a célula A3 passará a conter o valor:



- (A) 0,62 e exibir 6,2%
- (B) 0,62 e exibir 62%
- (C) 6,2 e exibir 6,2%
- (D) 6,2 e exibir 62%
- (E) 62 e exibir 62%

18

No Outlook, o ícone que indica que uma mensagem possui algum documento anexo é:

- (A) 
- (B) 
- (C) 
- (D) 
- (E) 

19

Os ícones  e  ao lado de uma mensagem no Outlook indicam, respectivamente, que a mensagem apresenta prioridade:

- (A) baixa e ainda não foi lida.
- (B) baixa e já foi lida.
- (C) alta e ainda não foi lida.
- (D) alta e já foi respondida.
- (E) alta e já foi encaminhada.

20

No Windows 2000 a combinação padrão de teclas "Ctrl + Z" é utilizada para:

- (A) excluir o item selecionado.
- (B) exibir a caixa de diálogo executar.
- (C) exibir o menu iniciar.
- (D) desfazer o efeito do último comando.
- (E) minimizar todas as janelas abertas.



CONHECIMENTOS BÁSICOS DE MEDICINA E DA LEGISLAÇÃO DO SUS

21

De acordo com a Constituição Federal de 1988, assinale a afirmativa correta, a respeito do Sistema Único de Saúde (SUS).

(A) O SUS deve colaborar com as ações de saúde do trabalhador.

(B) O SUS deve ser centralizado, com direção do governo Federal.

(C) As instituições privadas de saúde devem participar do SUS.

(D) Compete ao SUS controlar a proteção do meio ambiente.

(E) Compete ao SUS fiscalizar e inspecionar alimentos.

22

Em relação à saúde do trabalhador, é disposição da lei 8.080/1990, que trata das condições para a promoção, proteção e recuperação da saúde e da organização e funcionamento dos serviços correspondentes:

- (A) a garantia ao sindicato dos trabalhadores de requerer a interdição de máquina, quando houver exposição a risco iminente para a saúde dos trabalhadores.
- (B) a indicação da entidade sindical regional como responsável pelo acompanhamento e avaliação do impacto das novas tecnologias à saúde.
- (C) a promoção de atividades de educação para a saúde como a determinação do uso de equipamentos de proteção individual.
- (D) a responsabilidade da entidade sindical pela informação e o controle dos riscos de acidentes de trabalho e das doenças profissionais nas empresas.
- (E) as políticas de saúde do trabalhador com a responsabilidade da formação de recursos e promoção de cursos de reciclagem.

23

São princípios do Sistema Único de Saúde (SUS) que constam na lei 8.080 do 19 de setembro de 1990:

- (A) centralização, utilização da epidemiologia e regionalização.
- (B) igualdade, universalidade e direito à informação.
- (C) igualdade, duplicidade de meios e hierarquização.
- (D) universalidade, integralidade e autonomia da comunidade.
- (E) regionalização, centralização e individualidade das ações.

24

Faz parte do SUS um subsistema de Atenção à Saúde Indígena que deve:

- (A) ser custeado exclusivamente pela União, com seus recursos próprios.
- (B) ser centralizado, hierarquizado e regionalizado, tal como o SUS.
- (C) adotar um modelo de atenção à saúde pautado por uma abordagem diferenciada e global.
- (D) selecionar as populações indígenas a serem atendidas.
- (E) servir de retaguarda e referência ao SUS nas regiões onde residem as populações indígenas.

25

Em relação aos recursos humanos que atuam no SUS são feitas as afirmações a seguir.

- I - Os cargos e funções de chefia, direção e assessoramento só poderão ser exercidos em regime de tempo integral.
- II - Os servidores que legalmente acumulam dois cargos ou empregos somente poderão exercer suas atividades em um único estabelecimento do SUS.
- III - Somente poderão exercer suas atividades em mais de um estabelecimento do SUS os ocupantes de cargos ou funções de chefia, direção ou assessoramento.

Está(ão) correta(s) a(s) afirmação(ões):

- (A) I, apenas. (B) II, apenas.
- (C) I e III, apenas. (D) II e III, apenas.
- (E) I, II e III.

26

O tabagismo continua sendo um problema de saúde pública no Brasil. As grávidas fumantes correm riscos de:

- (A) parto prematuro.
- (B) rotura prematura de bolsa das águas.
- (C) pré-eclâmpsia.
- (D) Síndrome de Hellp.
- (E) coagulação intravascular disseminada.

27

Um paciente adulto com um nível tensional de 160x100 mm Hg deve ser considerado:

- (A) normotenso. (B) normotenso limítrofe.
- (C) hipertenso moderado. (D) hipertenso grave.
- (E) hipertenso muito grave.

28

A cefaléia é um sintoma habitual no atendimento médico primário. Na população em geral, o tipo mais freqüente é a cefaléia:

- (A) secundária. (B) de tensão.
- (C) das doenças febris. (D) em salvas.
- (E) pós-traumática.

29

Entre as vantagens do aleitamento materno **NÃO** se inclui a:

- (A) melhoria do desenvolvimento infantil.
- (B) redução da mortalidade infantil.
- (C) redução de alergias no recém-nato.
- (D) prevenção de lesões neurológicas na criança.
- (E) promoção do vínculo afetivo entre mãe e filho.

30

Todo médico deve orientar o paciente com Ansiedade Generalizada, ao lhe prescrever um benzodiazepínico, para risco de:

- (A) convulsões.
- (B) perda de peso.
- (C) possível aparecimento de estado eufórico.
- (D) prática de atividades que exijam atenção.
- (E) possibilidade de confusão mental e comportamento bizarro.



CONHECIMENTOS ESPECÍFICOS

31

O movimento anterior sistólico da válvula mitral é um achado ecocardiográfico de:

- (A) cardite reumática.
- (B) cardiopatia hipertrófica.
- (C) disfunção sistólica severa de ventrículo esquerdo.
- (D) C.I.V.
- (E) C.I.A.

32

Quando se evidencia um eletrocardiograma com onda delta, com deflexão negativa em V1 e V2, simulando B.R.E., com PR curto, deve-se diagnosticar:

- (A) Sobrecarga Ventricular Esquerda (S.V.E.).
- (B) Sobrecarga Ventricular Direita (S.V.D.).
- (C) B.R.E. 3º Grau.
- (D) W.P.W. tipo A.
- (E) W.P.W. tipo B.

33

Nos usuários de drogas venosas, a(s) válvula(s) cardíaca(s) mais acometida(s) por endocardite infecciosa é(são) a:

- (A) pulmonar.
- (B) mitral.
- (C) tricúspide.
- (D) aórtica.
- (E) aórtica e mitral.

34

A reserpina é uma droga para hipertensão arterial, usada com frequência no passado. O paciente que faz uso desta droga, como efeito colateral, apresenta:

- (A) excitação.
- (B) depressão.
- (C) insônia.
- (D) ardência miccional.
- (E) aumento da libido sexual.

35

Paciente portador de hipertensão arterial sistêmica, em uso de diurético diário, queixa-se de câibras poliúria e fraqueza muscular. Tais sintomas são indicadores de:

- (A) hipocalcemia.
- (B) hipocalemia.
- (C) hipercalcemia.
- (D) hiperpotassemia.
- (E) hipernatremia.

36

Exame físico de paciente apresenta *Ictus Cordis* inexpressivo, B1 palpável e acentuada à ausculta. O gradiente médio átrio ventricular esquerdo, pelo Doppler ao ecocardiograma, é de 3 mmHg. Este resultado sugere:

- (A) insuficiência aórtica.
- (B) insuficiência mitral.
- (C) estenose aórtica.
- (D) estenose mitral.
- (E) cardiopatia hipertrófica.

37

Qual a malformação congênita cardíaca mais freqüente encontrada ao nascimento?

- (A) Coartação aórtica.
- (B) Defeito do septo interventricular.
- (C) Defeito do septo interatrial.
- (D) Tetralogia de Fallot.
- (E) Ducto arterioso patente.

38

Mulher, 40 anos de idade, 1,63 m de altura, 50 kg de peso, com passado de febre reumática, dispnéia aos médios esforços, 1º bulha hiperfonética, estalido de abertura mitral, ruflar diastólico e reforço pré-sistólico na ponta. Apresenta gradiente transvalvar mitral médio de 8 mmHg, mas não foi observado refluxo mitral associado. O grau de estenose nesta paciente é:

- (A) mínimo.
- (B) leve.
- (C) grave.
- (D) moderado.
- (E) crítico.

39

Com relação às complicações da ressuscitação cardíaca, é mais freqüente a ruptura de:

- (A) átrio esquerdo.
- (B) átrio direito.
- (C) ventrículo esquerdo.
- (D) ventrículo direito.
- (E) músculos papilares direitos.

40

Em relação a pacientes portadores de fibrilação atrial crônica do grupo de alto risco, pode-se afirmar que:

- (A) o controle da frequência cardíaca é feito só com quinidina, não havendo risco de aumento da resposta ventricular.
- (B) a manutenção do ritmo sinusal, após cardioversão, independe do diâmetro atrial.
- (C) a anticoagulação com cumarínicos deve ser mantida até três a quatro semanas após a reversão da arritmia atrial.
- (D) a cardioversão elétrica oferece risco maior de embolia do que a cardioversão farmacológica.
- (E) as respostas ventriculares elevadas são freqüentes nos pacientes idosos e portadores de Doença do Nódulo Sinusal.



41

Na válvula mitral em “para-quebras” deveremos pensar em:

- (A) insuficiência mitral reumática.
- (B) estenose mitral congênita.
- (C) prolapso da válvula mitral sem degeneração mixomatosa.
- (D) prolapso da válvula mitral com degeneração mixomatosa.
- (E) válvula mitral acometida com endocardite infecciosa.

42

Paciente apresenta quadro de ICC com aumento das quatro câmaras cardíacas, disfunção global importante, hipocinesia inferodorsal, discinesia apical, espessura parietal normal, ECG com HBAE mais BRD. Qual a hipótese diagnóstica?

- (A) Miocardiopatia idiopática.
- (B) Miocardiopatia restritiva.
- (C) Miocardiopatia chagásica.
- (D) Miocardiopatia hipertensiva.
- (E) Endomiocardiofibrose.

43

Na avaliação ecocardiográfica, a presença do “ponto B” na válvula mitral significa:

- (A) diminuição da PD2.
- (B) aumento da PD2.
- (C) estenose mitral leve.
- (D) derrame pericárdico.
- (E) função sistólica preservada.

44

Outra causa de presença de “ponto B” na válvula mitral é:

- (A) taquicardia sinusal.
- (B) taquicardia paroxística supraventricular.
- (C) HVE.
- (D) HVD.
- (E) BAV de primeiro grau.

45

Na avaliação da função diastólica do ventrículo esquerdo, o TRIV (Tempo de Relaxamento Iso Volumétrico) apresenta-se com valor normal em torno de 70 a 110 m/seg. No *deficit* de relaxamento do ventrículo esquerdo, seu valor será:

- (A) diminuído.
- (B) muito diminuído.
- (C) normal.
- (D) aumentado.
- (E) inalterado.

46

Em relação ao prolapso da válvula mitral, o corte considerado adequado para o diagnóstico definitivo da patologia é o:

- (A) apical duas câmaras.
- (B) subcostal quatro câmaras.
- (C) transverso ao nível de vasos da base.
- (D) transverso ao nível de músculo papilar.
- (E) longitudinal paraesternal esquerdo.

47

Quando se evidencia no laudo ecocardiográfico, válvula com aspecto de “pinheiro tombado”, verificamos que existe:

- (A) hipertrofia concêntrica de VE.
- (B) função sistólica normal de VE.
- (C) prolapso da válvula mitral.
- (D) disfunção sistólica de VE.
- (E) S.I.V.

48

Ao exame ecocardiográfico, evidenciamos hiperatividade da parede posterior de VE com movimento anormal do septo interventricular, sendo diagnosticada agenesia de pericárdico. Qual a outra alteração ecocardiográfica comum de ser encontrada neste exame?

- (A) Válvula aórtica bicúspide.
- (B) Estenose mitral reumática.
- (C) Estenose pulmonar.
- (D) PCA.
- (E) CIV.

49

O fechamento mesossistólico da válvula aórtica e o movimento anterior sistólico da válvula mitral são alterações compatíveis com:

- (A) HAP.
- (B) estenose pulmonar.
- (C) cardiopatia isquêmica.
- (D) cardiopatia hipertrófica.
- (E) prolapso da válvula mitral.

50

Em relação ao *doppler* tissular na avaliação da função diastólica do VE, o melhor segmento parietal para análise é o:

- (A) septo ântero-medial.
- (B) septo ântero-apical.
- (C) septo póstero-basal.
- (D) septo ínfero-apical.
- (E) segmento apical.