



MÉDICO CARDIOLOGISTA COM ESP. EM ARRITMOLOGIA, ELETROFISIOLOGIA E ABLAÇÃO

LEIA ATENTAMENTE AS INSTRUÇÕES ABAIXO.

01 - Você recebeu do fiscal o seguinte material:

a) este caderno, com as 50 questões das Provas Objetivas, sem repetição ou falha, assim distribuídas:

LÍNGUA PORTUGUESA III		CONHECIMENTOS GERAIS		NOÇÕES DE INFORMÁTICA		CONHECIMENTOS BÁS. MED. e LEG. SUS		CONHECIMENTOS ESPECÍFICOS	
Questões	Pontos	Questões	Pontos	Questões	Pontos	Questões	Pontos	Questões	Pontos
1 a 5	1,0	11 a 15	2,0	16 a 20	2,0	21 a 25	1,0	31 a 40	1,0
6 a 10	3,0					26 a 30	3,0	41 a 50	3,0

b) 1 **Cartão-Resposta** destinado às respostas às questões objetivas formuladas nas provas.

02 - Verifique se este material está em ordem e se o seu nome e número de inscrição conferem com os que aparecem no **CARTÃO**. Caso contrário, notifique **IMEDIATAMENTE** o fiscal.

03 - Após a conferência, o candidato deverá assinar no espaço próprio do **CARTÃO**, preferivelmente a caneta esferográfica de tinta na cor preta.

04 - No **CARTÃO-RESPOSTA**, a marcação das letras correspondentes às respostas certas deve ser feita cobrindo a letra e preenchendo todo o espaço compreendido pelos círculos, a **caneta esferográfica de tinta na cor preta**, com um traço contínuo e denso. A **LEITORA ÓTICA** é sensível a marcas escuras; portanto, preencha os campos de marcação completamente, sem deixar claros.

Exemplo: (A) ● (C) (D) (E)

05 - Tenha muito cuidado com o **CARTÃO**, para não o **DOBRAR**, **AMASSAR** ou **MANCHAR**. O **CARTÃO SOMENTE** poderá ser substituído caso esteja danificado em suas margens superior ou inferior - **BARRA DE RECONHECIMENTO PARA LEITURA ÓTICA**.

06 - Para cada uma das questões objetivas, são apresentadas 5 alternativas classificadas com as letras (A), (B), (C), (D) e (E); só uma responde adequadamente ao quesito proposto. Você só deve assinalar **UMA RESPOSTA**: a marcação em mais de uma alternativa anula a questão, **MESMO QUE UMA DAS RESPOSTAS ESTEJA CORRETA**.

07 - As questões objetivas são identificadas pelo número que se situa acima de seu enunciado.

08 - **SERÁ ELIMINADO** do Concurso Público o candidato que:

- se utilizar, durante a realização das provas, de máquinas e/ou relógios de calcular, bem como de rádios gravadores, *headphones*, telefones celulares ou fontes de consulta de qualquer espécie;
- se ausentar da sala em que se realizam as provas levando consigo o Caderno de Questões e/ou o **CARTÃO-RESPOSTA**.

09 - Reserve os 30 (trinta) minutos finais para marcar seu **CARTÃO-RESPOSTA**. Os rascunhos e as marcações assinaladas no Caderno de Questões **NÃO SERÃO LEVADOS EM CONTA**.

10 - Quando terminar, entregue ao fiscal **O CADERNO DE QUESTÕES E O CARTÃO-RESPOSTA E ASSINE A LISTA DE PRESENÇA**.

11 - **O TEMPO DISPONÍVEL PARA ESTAS PROVAS DE QUESTÕES OBJETIVAS É DE 3 (TRÊS) HORAS E 30 (TRINTA) MINUTOS**.



LÍNGUA PORTUGUESA III

Texto I

MEDIDAS PARA VIVER MELHOR

A evolução do conceito de qualidade total criou em diversos setores organizacionais um sistema de pontuação – ISO – que é usado na avaliação da qualidade de produtos, serviços, de meio ambiente e assim por diante. Os parâmetros a serem alcançados para obter o certificado ISO, que torna produtos mais competitivos e serviços mais eficientes, indicam o "caminho das pedras" que deve ser seguido para se alcançar a qualidade total.

5 Em praticamente todos os setores de atividades o ser humano é o elo importante desse sistema. Então por que não avaliar os parâmetros da qualidade de vida do ser humano? Por que não tentar buscar a qualidade total de vida?

10 É importante se promover o bem-estar total, pois o moderno conceito de saúde vai muito além da ausência de doenças e engloba o bem-estar físico, social, intelectual, emocional, espiritual e profissional, que devem ser avaliados periodicamente. Além desses fatores, outro segmento que muito influi na qualidade total de vida é a saúde familiar.

15 Com o objetivo de melhor administrar a saúde, deve-se procurar um equilíbrio entre o trabalho, o lazer e o repouso, valorizar as férias e os fins de semana, priorizar a auto-estima, preservar e aprimorar o equilíbrio emocional. Temos verificado que mesmo as pessoas que fazem exames médicos periódicos ou *check-ups*, muitas vezes, devido a dificuldades emocionais, não seguem as recomendações finais, o que representa um fator limitante na promoção da saúde.

20 Quem assimila o conceito de saúde total e adota medidas positivas de comportamento e hábitos saudáveis, consegue melhor pontuação e conseqüentemente mais se aproxima do almejado "ISO ser humano". Para isso cada pessoa deve estabelecer o seu programa de saúde. Todos podem conseguir um viver melhor desde que haja uma firme decisão de se cuidar.

25 Deve-se fazer um planejamento geral e escolher a primeira meta a ser alcançada. As prioridades variam de pessoa para pessoa.

JACQUES, Haroldo. **O Globo**. 16 maio 2004. (adaptado)

1

De acordo com o Texto I, ISO é um sistema de pontuação que avalia, nas empresas, a:

- (A) competitividade dos produtos e a eficiência dos serviços.
- (B) qualidade das matérias-primas e a evolução do conceito.
- (C) capacidade de produção e a qualificação do pessoal.
- (D) qualidade do produto e as condições de produção.
- (E) política empresarial e a estratégia organizacional.

2

Segundo o Texto I, a postura de vida que, por sua abrangência, mais se aproxima do "ISO ser humano" é:

- (A) ter uma alimentação variada e balanceada.
- (B) saber conjugar trabalho, lazer e férias.
- (C) adotar medidas positivas de comportamento e hábitos saudáveis.
- (D) fazer periodicamente visitas ao médico e ao dentista.
- (E) evitar estresse, pensamentos negativos e excesso de tarefas.

3

De acordo com o Texto I, é **INCORRETO** afirmar que:

- (A) os procedimentos para atingir o "ISO ser humano" variam de pessoa para pessoa.
- (B) o conceito de saúde ultrapassa os limites físicos.
- (C) o bem-estar total é um dos aspectos da saúde física.
- (D) a saúde familiar é um fator relevante no contexto de vida do ser humano.
- (E) a qualidade de vida do ser humano depende do programa de saúde por ele estabelecido.

4

Analise a ordem em que os tópicos abaixo estão abordados no Texto I.

- I - O papel desempenhado pelo ser humano no sistema.
- II - A relação entre saúde e bem-estar.
- III - O conceito de ISO.
- IV - A qualidade total de vida.

A seqüência correta é:

- (A) I – II – III – IV
- (B) I – III – IV – II
- (C) II – III – IV – I
- (D) III – I – II – IV
- (E) III – IV – I – II



Continua



5

"Todos podem conseguir um viver melhor desde que haja uma firme decisão de se cuidar." (l. 36-37)

A segunda oração do período acima estabelece com a anterior uma relação de:

- (A) causa.
- (B) tempo.
- (C) conclusão.
- (D) concessão.
- (E) condição.

6

Considerando-se a regra ortográfica de "auto-estima", qual dos vocábulos abaixo está corretamente grafado?

- (A) Auto-ajuda.
- (B) Auto-destruição.
- (C) Auto-biografia.
- (D) Auto-correção.
- (E) Auto-motriz.

Texto II

NUNCA DESCUIDANDO DO DEVER

Jamais permitiria que seu marido fosse para o trabalho com a roupa mal passada, não dissessem os colegas que era esposa descuidada. Debruçada sobre a tábua com olho vigilante, dava caça às dobras, desfazia pregas, aplainando punhos e peitos, afiando o vinco das calças. E a poder de ferro e goma, envolta em vapores, alcançava o ponto máximo da sua arte ao arrancar dos colarinhos liso brilho de celulóide.

Impecável, transitava o marido pelo tempo. Que, embora respeitando ternos e camisas, começou subrepticiamente a marcar seu avanço na pele do rosto. Um dia notou a mulher um leve afrouxar-se das pálpebras. Semanas depois percebeu que, no sorriso, franziam-se fundos os cantos dos olhos.

Mas foi só muitos meses mais tarde que a presença de duas fortes pregas descendo dos lados do nariz até a boca tornou-se inegável. Sem nada dizer, ela esperou a noite. Tendo finalmente certeza de que o homem dormia o mais pesado dos sonos, pegou um paninho úmido e, silenciosa, ligou o ferro.

COLASANTI, Marina. *Contos de amor rasgados*.

7

Nas passagens "Impecável, transitava o marido pelo tempo." (l. 9) e "... a presença de duas fortes pregas ..." (l. 15-16), as palavras destacadas podem ser substituídas, sem alterar o sentido do texto, respectivamente, por:

- (A) imaculado – marcas.
- (B) infalível – rugas.
- (C) incensurável – manchas.
- (D) indiferente – dobras.
- (E) indiscutível – carquilhas.

8

No Texto II, o substantivo que, semanticamente, define a ação da mulher é:

- (A) gratidão.
- (B) respeito.
- (C) insegurança.
- (D) vaidade.
- (E) obstinação.

9

A relação entre o vocábulo destacado e a categoria gramatical a ele atribuída está correta em:

- (A) "... com a roupa **mal** passada," (l. 2) – adjetivo.
- (B) "... **que** era esposa descuidada." (l. 3) – pronome relativo.
- (C) "começou sub-repticiamente **a** marcar..." (l. 10-11) – preposição.
- (D) "... um leve **afrouxar-se** das pálpebras." (l. 12-13) – verbo.
- (E) "... só **muitos** meses ..." (l. 15) – advérbio.

10

Assinale a opção em que, ao transcrever a oração "embora respeitando ternos e camisas," (l. 10), o sentido permanece.

- (A) Como respeitava ternos e camisas.
- (B) Ainda que respeitasse ternos e camisas.
- (C) Por respeitar ternos e camisas.
- (D) Quando respeitou ternos e camisas.
- (E) Uma vez que respeitava ternos e camisas.



CONHECIMENTOS GERAIS

11

Das proibições feitas aos servidores públicos do Estado do Tocantins fazem parte:

- I - ausentar-se do serviço durante o expediente sem autorização;
- II - receber presente em razão de suas atribuições;
- III - recusar fé a documentos públicos;
- IV - utilizar recursos do Estado para fins particulares;
- V - recusar-se a atualizar seus dados cadastrais, quando solicitado.

Estão corretos os itens:

- (A) II e IV, apenas.
- (B) I, II e III, apenas.
- (C) II, III e IV, apenas.
- (D) I, II, III e IV, apenas.
- (E) I, II, III, IV e V.

12

A aposentadoria é um direito do servidor público. O principal documento que garante esse direito é o(a):

- (A) Estatuto Único dos Servidores Públicos.
- (B) Estatuto do Idoso.
- (C) Constituição Federal.
- (D) Lei de Seguridade Social.
- (E) Consolidação das Leis Trabalhistas.

13

A Secretaria de Saúde do Estado do Tocantins estabeleceu várias ações importantes, tais como criação de unidades de saúde, capacitação de profissionais, campanhas de vacinação, medidas de saneamento e criação de Agentes Comunitários. Isto significa que no Estado desenvolve-se uma política de saúde com caráter:

- (A) assistencial.
- (B) emergencial.
- (C) populista.
- (D) preventivo.
- (E) terapêutico.

14

Nos últimos anos, a economia tocantinense tem demonstrado um excelente desempenho. Em 2003, as exportações aumentaram cerca de 646% em relação a todo o ano de 2001, sendo esse crescimento do comércio exterior puxado especialmente pelas exportações de:

- (A) soja.
- (B) feijão.
- (C) milho.
- (D) arroz.
- (E) algodão.


15

O Aeroporto Internacional de Palmas é considerado estratégico pela Infraero para a movimentação de cargas e passageiros. Isto acontece porque o aeroporto:

- (A) é um dos mais modernos aeroportos de médio porte do País.
- (B) tem capacidade para mais de 350 000 passageiros/ano.
- (C) vem aumentando gradativamente seu movimento.
- (D) localiza-se próximo à Usina de Lajeado.
- (E) situa-se no ponto mais central do País.


NOÇÕES DE INFORMÁTICA

16

O botão  da barra de ferramentas Padrão do Word permite:

- (A) chamar o calendário.
- (B) exibir o mapa do documento.
- (C) inserir uma tabela.
- (D) inserir uma planilha do Excel.
- (E) remover objetos selecionados.






17

A célula A3 de uma planilha Excel contém e apresenta o valor 0,62. Se esta célula for selecionada e, em seguida, o botão  for pressionado, a célula A3 passará a conter o valor:



- (A) 0,62 e exibir 6,2%
- (B) 0,62 e exibir 62%
- (C) 6,2 e exibir 6,2%
- (D) 6,2 e exibir 62%
- (E) 62 e exibir 62%

18

No Outlook, o ícone que indica que uma mensagem possui algum documento anexo é:

- (A) 
- (B) 
- (C) 
- (D) 
- (E) 

19

Os ícones  e  ao lado de uma mensagem no Outlook indicam, respectivamente, que a mensagem apresenta prioridade:

- (A) baixa e ainda não foi lida.
- (B) baixa e já foi lida.
- (C) alta e ainda não foi lida.
- (D) alta e já foi respondida.
- (E) alta e já foi encaminhada.

20

No Windows 2000 a combinação padrão de teclas "Ctrl + Z" é utilizada para:

- (A) excluir o item selecionado.
- (B) exibir a caixa de diálogo executar.
- (C) exibir o menu iniciar.
- (D) desfazer o efeito do último comando.
- (E) minimizar todas as janelas abertas.



CONHECIMENTOS BÁSICOS DE MEDICINA E DA LEGISLAÇÃO DO SUS

21

De acordo com a Constituição Federal de 1988, assinale a afirmativa correta, a respeito do Sistema Único de Saúde (SUS).

- (A) O SUS deve colaborar com as ações de saúde do trabalhador.
- (B) O SUS deve ser centralizado, com direção do governo Federal.
- (C) As instituições privadas de saúde devem participar do SUS.
- (D) Compete ao SUS controlar a proteção do meio ambiente.
- (E) Compete ao SUS fiscalizar e inspecionar alimentos.

22

Em relação à saúde do trabalhador, é disposição da lei 8.080/1990, que trata das condições para a promoção, proteção e recuperação da saúde e da organização e funcionamento dos serviços correspondentes:

- (A) a garantia ao sindicato dos trabalhadores de requerer a interdição de máquina, quando houver exposição a risco iminente para a saúde dos trabalhadores.
- (B) a indicação da entidade sindical regional como responsável pelo acompanhamento e avaliação do impacto das novas tecnologias à saúde.
- (C) a promoção de atividades de educação para a saúde como a determinação do uso de equipamentos de proteção individual.
- (D) a responsabilidade da entidade sindical pela informação e o controle dos riscos de acidentes de trabalho e das doenças profissionais nas empresas.
- (E) as políticas de saúde do trabalhador com a responsabilidade da formação de recursos e promoção de cursos de reciclagem.

23

São princípios do Sistema Único de Saúde (SUS) que constam na lei 8.080 do 19 de setembro de 1990:

- (A) centralização, utilização da epidemiologia e regionalização.
- (B) igualdade, universalidade e direito à informação.
- (C) igualdade, duplicidade de meios e hierarquização.
- (D) universalidade, integralidade e autonomia da comunidade.
- (E) regionalização, centralização e individualidade das ações.

24

Faz parte do SUS um subsistema de Atenção à Saúde Indígena que deve:

- (A) ser custeado exclusivamente pela União, com seus recursos próprios.
- (B) ser centralizado, hierarquizado e regionalizado, tal como o SUS.
- (C) adotar um modelo de atenção à saúde pautado por uma abordagem diferenciada e global.
- (D) selecionar as populações indígenas a serem atendidas.
- (E) servir de retaguarda e referência ao SUS nas regiões onde residem as populações indígenas.

25

Em relação aos recursos humanos que atuam no SUS são feitas as afirmações a seguir.

- I - Os cargos e funções de chefia, direção e assessoramento só poderão ser exercidos em regime de tempo integral.
- II - Os servidores que legalmente acumulam dois cargos ou empregos somente poderão exercer suas atividades em um único estabelecimento do SUS.
- III - Somente poderão exercer suas atividades em mais de um estabelecimento do SUS os ocupantes de cargos ou funções de chefia, direção ou assessoramento.

Está(ão) correta(s) a(s) afirmação(ões):

- (A) I, apenas.
- (B) II, apenas.
- (C) I e III, apenas.
- (D) II e III, apenas.
- (E) I, II e III.

26

O tabagismo continua sendo um problema de saúde pública no Brasil. As grávidas fumantes correm riscos de:

- (A) parto prematuro.
- (B) rotura prematura de bolsa das águas.
- (C) pré-eclâmpsia.
- (D) Síndrome de Hellp.
- (E) coagulação intravascular disseminada.

27

Um paciente adulto com um nível tensional de 160x100 mm Hg deve ser considerado:

- (A) normotenso.
- (B) normotenso limítrofe.
- (C) hipertenso moderado.
- (D) hipertenso grave.
- (E) hipertenso muito grave.

28

A cefaléia é um sintoma habitual no atendimento médico primário. Na população em geral, o tipo mais freqüente é a cefaléia:

- (A) secundária.
- (B) de tensão.
- (C) das doenças febris.
- (D) em salvas.
- (E) pós-traumática.

29

Entre as vantagens do aleitamento materno **NÃO** se inclui a:

- (A) melhoria do desenvolvimento infantil.
- (B) redução da mortalidade infantil.
- (C) redução de alergias no recém-nato.
- (D) prevenção de lesões neurológicas na criança.
- (E) promoção do vínculo afetivo entre mãe e filho.

30

Todo médico deve orientar o paciente com Ansiedade Generalizada, ao lhe prescrever um benzodiazepínico, para risco de:

- (A) convulsões.
- (B) perda de peso.
- (C) possível aparecimento de estado eufórico.
- (D) prática de atividades que exijam atenção.
- (E) possibilidade de confusão mental e comportamento bizarro.



CONHECIMENTOS ESPECÍFICOS

31

O movimento anterior sistólico da válvula mitral é um achado ecocardiográfico de:

- (A) cardite reumática.
- (B) cardiopatia hipertrófica.
- (C) disfunção sistólica severa de ventrículo esquerdo.
- (D) C.I.V.
- (E) C.I.A.

32

Quando se evidencia um eletrocardiograma com onda delta, com deflexão negativa em V1 e V2, simulando B.R.E., com PR curto, deve-se diagnosticar:

- (A) Sobrecarga Ventricular Esquerda (S.V.E.).
- (B) Sobrecarga Ventricular Direita (S.V.D.).
- (C) B.R.E. 3º Grau.
- (D) W.P.W. tipo A.
- (E) W.P.W. tipo B.

33

Nos usuários de drogas venosas, a(s) válvula(s) cardíaca(s) mais acometida(s) por endocardite infecciosa é(são) a:

- (A) pulmonar.
- (B) mitral.
- (C) tricúspide.
- (D) aórtica.
- (E) aórtica e mitral.

34

A reserpina é uma droga para hipertensão arterial, usada com frequência no passado. O paciente que faz uso desta droga, como efeito colateral, apresenta:

- (A) excitação.
- (B) depressão.
- (C) insônia.
- (D) ardência miccional.
- (E) aumento da libido sexual.

35

Paciente portador de hipertensão arterial sistêmica, em uso de diurético diário, queixa-se de câibras poliúria e fraqueza muscular. Tais sintomas são indicadores de:

- (A) hipocalcemia.
- (B) hipocalemia.
- (C) hipercalcemia.
- (D) hiperpotassemia.
- (E) hipernatremia.

36

Exame físico de paciente apresenta *Ictus Cordis* inexpressivo, B1 palpável e acentuada à ausculta. O gradiente médio átrio ventricular esquerdo, pelo Doppler ao ecocardiograma, é de 3 mmHg. Este resultado sugere:

- (A) insuficiência aórtica.
- (B) insuficiência mitral.
- (C) estenose aórtica.
- (D) estenose mitral.
- (E) cardiopatia hipertrófica.

37

Qual a malformação congênita cardíaca mais freqüente encontrada ao nascimento?

- (A) Coartação aórtica.
- (B) Defeito do septo interventricular.
- (C) Defeito do septo interatrial.
- (D) Tetralogia de Fallot.
- (E) Ducto arterioso patente.

38

Mulher, 40 anos de idade, 1,63 m de altura, 50 kg de peso, com passado de febre reumática, dispnéia aos médios esforços, 1º bulha hiperfonética, estalido de abertura mitral, ruflar diastólico e reforço pré-sistólico na ponta. Apresenta gradiente transvalvar mitral médio de 8 mmHg, mas não foi observado refluxo mitral associado. O grau de estenose nesta paciente é:

- (A) mínimo.
- (B) leve.
- (C) grave.
- (D) moderado.
- (E) crítico.

39

Com relação às complicações da ressuscitação cardíaca, é mais freqüente a ruptura de:

- (A) átrio esquerdo.
- (B) átrio direito.
- (C) ventrículo esquerdo.
- (D) ventrículo direito.
- (E) músculos papilares direitos.

40

Em relação a pacientes portadores de fibrilação atrial crônica do grupo de alto risco, pode-se afirmar que:

- (A) o controle da frequência cardíaca é feito só com quinidina, não havendo risco de aumento da resposta ventricular.
- (B) a manutenção do ritmo sinusal, após cardioversão, independe do diâmetro atrial.
- (C) a anticoagulação com cumarínicos deve ser mantida até três a quatro semanas após a reversão da arritmia atrial.
- (D) a cardioversão elétrica oferece risco maior de embolia do que a cardioversão farmacológica.
- (E) as respostas ventriculares elevadas são freqüentes nos pacientes idosos e portadores de Doença do Nódulo Sinusal.



41

De acordo com as diretrizes da Sociedade Brasileira de Cardiologia e com as recomendações para realização de métodos diagnósticos, temos abaixo várias indicações para estudo eletrofisiológico, todas classificadas como nível 2, **EXCETO** uma. Indique-a.

- (A) Pacientes assintomáticos, com suspeita de difusão de nódulo sinusal.
- (B) Pacientes com BAV de 2º e 3º graus com marcapasso implantado normofuncionante, nos quais persistem sintomas e suspeita-se que outra arritmia seja a causa.
- (C) Portadores de BAV de 1º grau sintomáticos, com distúrbio na condução intraventricular, em que se suspeita de lesão no Sistema His-Purkinje.
- (D) Pacientes com BAV de 2º grau, com distúrbio na condução intraventricular, assintomáticos.
- (E) BAVT permanente, assintomático.

42

O estudo eletrofisiológico fornece informações do intervalo H-V. A partir de que tempo de H-V existe maior probabilidade de que pacientes com distúrbio de condução intraventricular desenvolvam bloqueio trifascicular?

- (A) 15 m/seg.
- (B) 25 m/seg.
- (C) 35 m/seg.
- (D) 45 m/seg.
- (E) 55 m/seg.

43

O tempo de recuperação do nódulo sinusal prolongado é encontrado em pacientes com suspeita de disfunção do nódulo sinusal. O valor normal deste tempo varia de:

- (A) 500 a 525 m/seg.
- (B) 800 a 1200 m/seg.
- (C) 1000 a 1500 m/seg.
- (D) 1500 a 2000 m/seg.
- (E) 2000 a 2500 m/seg.

44

A porcentagem de complicações do estudo eletrofisiológico é de:

- (A) 01 a 03%.
- (B) 03 a 05%.
- (C) 05 a 10%.
- (D) 10 a 15%.
- (E) 15 a 20%.

45

Dentre as opções abaixo, qual **NÃO** tem indicação para o estudo eletrofisiológico?

- (A) Taquicardia ventricular ou taquicardia supraventricular sintomáticas recorrentes, resistente a farmacoterapia.
- (B) Taquicardia paroxística supraventricular pouco freqüente que não permite avaliação diagnóstica e terapêutica.
- (C) Diferença entre taquicardia supraventricular com aberrância e taquicardia ventricular.
- (D) Síndrome do QT longo assintomática, sem evidência de arritmia.
- (E) Sobrevivente de parada cardiorrespiratória, ocorrendo 48 horas ou mais do IAM.

46

Dentre as afirmações sobre o estudo eletrofisiológico embasivo das condições cardíacas, assinale a **INCORRETA**.

- (A) Taquiritmia ventricular é uma explicação comum para a síncope ou pré-síncope nos pacientes com distúrbio da condução intraventricular.
- (B) A existência de um intervalo H-V igual ou maior do que o registrado durante o ritmo sinusal normal é compatível com o diagnóstico de taquicardia ventricular.
- (C) Nos pacientes com disfunção do nódulo sinusal, comumente há distúrbio da condução AV associado.
- (D) O tempo de recuperação do nódulo sinusal (TRNS) é definido como a diferença entre a duração do ciclo espontâneo do nódulo sinusal antes da estimulação pelo marcapasso e a duração da primeira resposta sinusal espontânea depois da conclusão da estimulação pelo marcapasso.
- (E) A localização das vias acessórias pelo mapeamento endocárdico dos pacientes com a Síndrome de Wolff-Parkinson-White é um pré-requisito importante para a cirurgia ablativa.

47

Há bloqueio atrioventricular quando o impulso atrial for conduzido com retardo ou não for absolutamente levado ao ventrículo. O bloqueio AV do 2º grau é:

- (A) tipo I está associado à evolução clínica benigna em todos os grupos etários.
- (B) tipo I com complexo QRS normal ocorre ao nível do nódulo AV ou no Feixe de His.
- (C) tipo II no IAM inferior não está associado ao aumento da mortalidade.
- (D) tipo II associado ao bloqueio de ramo ocorre ao nível do nódulo AV ou Feixe de His.
- (E) 2:1 pode ser um bloqueio AV do 2º grau tipo I ou II e tem maior probabilidade de ser tipo I se o complexo QRS for normal.



48

Qual das afirmações sobre taquicardia supraventricular paroxística (TSVP) devida à reentrada numa via acessória oculta está **INCORRETA**?

- (A) As TSVP causadas pela condução retrógrada por uma via acessória tendem a ser algo mais rápidas do que as encontradas nas taquicardias de reentrada pelo nóculo AV.
- (B) A maior parte das vias acessórias que participa da condução oculta está localizada entre o VD e AD.
- (C) Nos pacientes encaminhados para avaliação eletrofisiológica da TSVP evidente, a prevalência da via acessória oculta é de aproximadamente 30%.
- (D) Nos pacientes com via acessória oculta, a fibrilação atrial (FA) pode ser tratada da mesma forma que nos pacientes com FA sem essa via.
- (E) Sob algumas circunstâncias, pode haver condução anterógrada ao longo de uma via acessória oculta.

49

Sobre uso de antiarrítmico no tratamento da arritmia cardíaca, é **INCORRETO** afirmar que:

- (A) a adenosina é útil no tratamento dos pacientes com taquicardia supraventricular.
- (B) a adenosina é útil no diagnóstico das taquicardias com QRS amplo.
- (C) o verapamil intravenoso ainda é o medicamento preferível para interromper imediatamente uma taquicardia supraventricular.
- (D) as injeções intravenosas rápidas de adenosina em dose de 6 a 12 mg interrompem mais de 90% das taquicardias supraventriculares.
- (E) ruborização, dispnéia e pressão no peito são efeitos colaterais comuns do tratamento com adenosina.

50

Assinale as seguintes afirmações sobre arritmia como fator desencadeante da insuficiência cardíaca.

- I - as taquiarritmias podem desencadear insuficiência cardíaca, aumentando o tempo de enchimento ventricular;
- II - a braquicardia pode desencadear insuficiência cardíaca, reduzindo o débito cardíaco;
- III - a condução intraventricular anormal pode desencadear insuficiência cardíaca, deprimindo o desempenho miocárdico.

Está(ão) correta(s) a(s) afirmação(ões):

- (A) I, apenas.
- (B) II, apenas.
- (C) III, apenas.
- (D) I e II, apenas.
- (E) II e III, apenas.