



TERAPEUTA OCUPACIONAL

LEIA ATENTAMENTE AS INSTRUÇÕES ABAIXO.

01 - Você recebeu do fiscal o seguinte material:

a) este caderno, com as 50 questões das Provas Objetivas, sem repetição ou falha, assim distribuídas:

LÍNGUA PORTUGUESA III		CONHECIMENTOS GERAIS		NOÇÕES DE INFORMÁTICA		CONHECIMENTOS ESPECÍFICOS	
Questões	Pontos	Questões	Pontos	Questões	Pontos	Questões	Pontos
1 a 5	1,0	11 a 15	2,0	16 a 20	2,0	21 a 30	1,0
6 a 10	3,0					31 a 40	2,0
						41 a 50	3,0

b) 1 **Cartão-Resposta** destinado às respostas às questões objetivas formuladas nas provas.

02 - Verifique se este material está em ordem e se o seu nome e número de inscrição conferem com os que aparecem no **CARTÃO**. Caso contrário, notifique **IMEDIATAMENTE** o fiscal.

03 - Após a conferência, o candidato deverá assinar no espaço próprio do **CARTÃO**, preferivelmente a caneta esferográfica de tinta na cor preta.

04 - No **CARTÃO-RESPOSTA**, a marcação das letras correspondentes às respostas certas deve ser feita cobrindo a letra e preenchendo todo o espaço compreendido pelos círculos, a **caneta esferográfica de tinta na cor preta**, com um traço contínuo e denso. A **LEITORA ÓTICA** é sensível a marcas escuras; portanto, preencha os campos de marcação completamente, sem deixar claros.

Exemplo:



A



C



D



E

05 - Tenha muito cuidado com o **CARTÃO**, para não o **DOBRAR**, **AMASSAR** ou **MANCHAR**. O **CARTÃO SOMENTE** poderá ser substituído caso esteja danificado em suas margens superior ou inferior - **BARRA DE RECONHECIMENTO PARA LEITURA ÓTICA**.

06 - Para cada uma das questões objetivas, são apresentadas 5 alternativas classificadas com as letras (A), (B), (C), (D) e (E); só uma responde adequadamente ao quesito proposto. Você só deve assinalar **UMA RESPOSTA**: a marcação em mais de uma alternativa anula a questão, **MESMO QUE UMA DAS RESPOSTAS ESTEJA CORRETA**.

07 - As questões objetivas são identificadas pelo número que se situa acima de seu enunciado.

08 - **SERÁ ELIMINADO** do Concurso Público o candidato que:

a) se utilizar, durante a realização das provas, de máquinas e/ou relógios de calcular, bem como de rádios gravadores, *headphones*, telefones celulares ou fontes de consulta de qualquer espécie;

b) se ausentar da sala em que se realizam as provas levando consigo o Caderno de Questões e/ou o **CARTÃO-RESPOSTA**.

09 - Reserve os 30 (trinta) minutos finais para marcar seu **CARTÃO-RESPOSTA**. Os rascunhos e as marcações assinaladas no Caderno de Questões **NÃO SERÃO LEVADOS EM CONTA**.

10 - Quando terminar, entregue ao fiscal **O CADERNO DE QUESTÕES E O CARTÃO-RESPOSTA E ASSINE A LISTA DE PRESENÇA**.

11 - **O TEMPO DISPONÍVEL PARA ESTAS PROVAS DE QUESTÕES OBJETIVAS É DE 3 (TRÊS) HORAS E 30 (TRINTA) MINUTOS**.



LÍNGUA PORTUGUESA III

Texto I

MEDIDAS PARA VIVER MELHOR

A evolução do conceito de qualidade total criou em diversos setores organizacionais um sistema de pontuação – ISO – que é usado na avaliação da qualidade de produtos, serviços, de meio ambiente e assim por diante. Os parâmetros a serem alcançados para obter o certificado ISO, que torna produtos mais competitivos e serviços mais eficientes, indicam o "caminho das pedras" que deve ser seguido para se alcançar a qualidade total.

Em praticamente todos os setores de atividades o ser humano é o elo importante desse sistema. Então por que não avaliar os parâmetros da qualidade de vida do ser humano? Por que não tentar buscar a qualidade total de vida?

É importante se promover o bem-estar total, pois o moderno conceito de saúde vai muito além da ausência de doenças e engloba o bem-estar físico, social, intelectual, emocional, espiritual e profissional, que devem ser avaliados periodicamente. Além desses fatores, outro segmento que muito influi na qualidade total de vida é a saúde familiar.

Com o objetivo de melhor administrar a saúde, deve-se procurar um equilíbrio entre o trabalho, o lazer e o repouso, valorizar as férias e os fins de semana, priorizar a auto-estima, preservar e aprimorar o equilíbrio emocional. Temos verificado que mesmo as pessoas que fazem exames médicos periódicos ou *check-ups*, muitas vezes, devido a dificuldades emocionais, não seguem as recomendações finais, o que representa um fator limitante na promoção da saúde.

Quem assimila o conceito de saúde total e adota medidas positivas de comportamento e hábitos saudáveis, consegue melhor pontuação e conseqüentemente mais se aproxima do almejado "ISO ser humano". Para isso cada pessoa deve estabelecer o seu programa de saúde. Todos podem conseguir um viver melhor desde que haja uma firme decisão de se cuidar.

Deve-se fazer um planejamento geral e escolher a primeira meta a ser alcançada. As prioridades variam de pessoa para pessoa.

JACQUES, Haroldo. **O Globo**. 16 maio 2004. (adaptado)

1

De acordo com o Texto I, ISO é um sistema de pontuação que avalia, nas empresas, a:

- (A) competitividade dos produtos e a eficiência dos serviços.
- (B) qualidade das matérias-primas e a evolução do conceito.
- (C) capacidade de produção e a qualificação do pessoal.
- (D) qualidade do produto e as condições de produção.
- (E) política empresarial e a estratégia organizacional.

2

Segundo o Texto I, a postura de vida que, por sua abrangência, mais se aproxima do "ISO ser humano" é:

- (A) ter uma alimentação variada e balanceada.
- (B) saber conjugar trabalho, lazer e férias.
- (C) adotar medidas positivas de comportamento e hábitos saudáveis.
- (D) fazer periodicamente visitas ao médico e ao dentista.
- (E) evitar estresse, pensamentos negativos e excesso de tarefas.

3

De acordo com o Texto I, é **INCORRETO** afirmar que:

- (A) os procedimentos para atingir o "ISO ser humano" variam de pessoa para pessoa.
- (B) o conceito de saúde ultrapassa os limites físicos.
- (C) o bem-estar total é um dos aspectos da saúde física.
- (D) a saúde familiar é um fator relevante no contexto de vida do ser humano.
- (E) a qualidade de vida do ser humano depende do programa de saúde por ele estabelecido.

4

Analise a ordem em que os tópicos abaixo estão abordados no Texto I.

- I - O papel desempenhado pelo ser humano no sistema.
- II - A relação entre saúde e bem-estar.
- III - O conceito de ISO.
- IV - A qualidade total de vida.

A seqüência correta é:

- (A) I – II – III – IV
- (B) I – III – IV – II
- (C) II – III – IV – I
- (D) III – I – II – IV
- (E) III – IV – I – II



5

"Todos podem conseguir um viver melhor desde que haja uma firme decisão de se cuidar." (l. 36-37)

A segunda oração do período acima estabelece com a anterior uma relação de:

- (A) causa.
- (B) tempo.
- (C) conclusão.
- (D) concessão.
- (E) condição.

6

Considerando-se a regra ortográfica de "auto-estima", qual dos vocábulos abaixo está corretamente grafado?

- (A) Auto-ajuda.
- (B) Auto-destruição.
- (C) Auto-biografia.
- (D) Auto-correção.
- (E) Auto-motriz.

Texto II

NUNCA DESCUIDANDO DO DEVER

Jamais permitiria que seu marido fosse para o trabalho com a roupa mal passada, não dissessem os colegas que era esposa descuidada. Debruçada sobre a tábua com olho vigilante, dava caça às dobras, desfazia pregas, aplainando punhos e peitos, afiando o vinco das calças. E a poder de ferro e goma, envolta em vapores, alcançava o ponto máximo da sua arte ao arrancar dos colarinhos liso brilho de celulóide.

Impecável, transitava o marido pelo tempo. Que, embora respeitando ternos e camisas, começou subrepticiamente a marcar seu avanço na pele do rosto. Um dia notou a mulher um leve afrouxar-se das pálpebras. Semanas depois percebeu que, no sorriso, franziam-se fundos os cantos dos olhos.

Mas foi só muitos meses mais tarde que a presença de duas fortes pregas descendo dos lados do nariz até a boca tornou-se inegável. Sem nada dizer, ela esperou a noite. Tendo finalmente certeza de que o homem dormia o mais pesado dos sonos, pegou um paninho úmido e, silenciosa, ligou o ferro.

COLASANTI, Marina. **Contos de amor rasgados.**

7

Nas passagens "**Impecável**, transitava o marido pelo tempo." (l. 9) e "... a presença de duas fortes **pregas** ..." (l. 15-16), as palavras destacadas podem ser substituídas, sem alterar o sentido do texto, respectivamente, por:

- (A) imaculado – marcas.
- (B) infalível – rugas.
- (C) incensurável – manchas.
- (D) indiferente – dobras.
- (E) indiscutível – carquilhas.

8

No Texto II, o substantivo que, semanticamente, define a ação da mulher é:

- (A) gratidão.
- (B) respeito.
- (C) insegurança.
- (D) vaidade.
- (E) obstinação.

9

A relação entre o vocábulo destacado e a categoria gramatical a ele atribuída está correta em:

- (A) "... com a roupa **mal** passada," (l. 2) – adjetivo.
- (B) "... **que** era esposa descuidada." (l. 3) – pronome relativo.
- (C) "começou subrepticiamente **a** marcar..." (l. 10-11) – preposição.
- (D) "... um leve **afrouxar-se** das pálpebras." (l. 12-13) – verbo.
- (E) "... só **muitos** meses ..." (l. 15) – advérbio.

10

Assinale a opção em que, ao transcrever a oração "embora respeitando ternos e camisas," (l. 10), o sentido permanece.

- (A) Como respeitava ternos e camisas.
- (B) Ainda que respeitasse ternos e camisas.
- (C) Por respeitar ternos e camisas.
- (D) Quando respeitou ternos e camisas.
- (E) Uma vez que respeitava ternos e camisas.



CONHECIMENTOS GERAIS

11

Das proibições feitas aos servidores públicos do Estado do Tocantins fazem parte:

- I - ausentar-se do serviço durante o expediente sem autorização;
- II - receber presente em razão de suas atribuições;
- III - recusar fé a documentos públicos;
- IV - utilizar recursos do Estado para fins particulares;
- V - recusar-se a atualizar seus dados cadastrais, quando solicitado.

Estão corretos os itens:

- (A) II e IV, apenas.
- (B) I, II e III, apenas.
- (C) II, III e IV, apenas.
- (D) I, II, III e IV, apenas.
- (E) I, II, III, IV e V.

12

A aposentadoria é um direito do servidor público. O principal documento que garante esse direito é o(a):

- (A) Estatuto Único dos Servidores Públicos.
- (B) Estatuto do Idoso.
- (C) Constituição Federal.
- (D) Lei de Seguridade Social.
- (E) Consolidação das Leis Trabalhistas.

13

A Secretaria de Saúde do Estado do Tocantins estabeleceu várias ações importantes, tais como criação de unidades de saúde, capacitação de profissionais, campanhas de vacinação, medidas de saneamento e criação de Agentes Comunitários. Isto significa que no Estado desenvolve-se uma política de saúde com caráter:

- (A) assistencial.
- (B) emergencial.
- (C) populista.
- (D) preventivo.
- (E) terapêutico.

14

Nos últimos anos, a economia tocantinense tem demonstrado um excelente desempenho. Em 2003, as exportações aumentaram cerca de 646% em relação a todo o ano de 2001, sendo esse crescimento do comércio exterior puxado especialmente pelas exportações de:

- (A) soja.
- (B) feijão.
- (C) milho.
- (D) arroz.
- (E) algodão.


15

O Aeroporto Internacional de Palmas é considerado estratégico pela Infraero para a movimentação de cargas e passageiros. Isto acontece porque o aeroporto:

- (A) é um dos mais modernos aeroportos de médio porte do País.
- (B) tem capacidade para mais de 350 000 passageiros/ano.
- (C) vem aumentando gradativamente seu movimento.
- (D) localiza-se próximo à Usina de Lajeado.
- (E) situa-se no ponto mais central do País.


NOÇÕES DE INFORMÁTICA

16

O botão  da barra de ferramentas Padrão do Word permite:

- (A) chamar o calendário.
- (B) exibir o mapa do documento.
- (C) inserir uma tabela.
- (D) inserir uma planilha do Excel.
- (E) remover objetos selecionados.






17

A célula A3 de uma planilha Excel contém e apresenta o valor 0,62. Se esta célula for selecionada e, em seguida, o botão  for pressionado, a célula A3 passará a conter o valor:



- (A) 0,62 e exibir 6,2%
- (B) 0,62 e exibir 62%
- (C) 6,2 e exibir 6,2%
- (D) 6,2 e exibir 62%
- (E) 62 e exibir 62%

18

No Outlook, o ícone que indica que uma mensagem possui algum documento anexo é:

- (A) 
- (B) 
- (C) 
- (D) 
- (E) 

19

Os ícones  e  ao lado de uma mensagem no Outlook indicam, respectivamente, que a mensagem apresenta prioridade:

- (A) baixa e ainda não foi lida.
- (B) baixa e já foi lida.
- (C) alta e ainda não foi lida.
- (D) alta e já foi respondida.
- (E) alta e já foi encaminhada.

20

No Windows 2000 a combinação padrão de teclas "Ctrl + Z" é utilizada para:

- (A) excluir o item selecionado.
- (B) exibir a caixa de diálogo executar.
- (C) exibir o menu iniciar.
- (D) desfazer o efeito do último comando.
- (E) minimizar todas as janelas abertas.



CONHECIMENTOS ESPECÍFICOS

21

De acordo com a Constituição Federal de 1988, assinale a afirmativa correta, a respeito do Sistema Único de Saúde (SUS).

- (A) O SUS deve colaborar com as ações de saúde do trabalhador.
- (B) O SUS deve ser centralizado, com direção do governo Federal.
- (C) As instituições privadas de saúde devem participar do SUS.
- (D) Compete ao SUS controlar a proteção do meio ambiente.
- (E) Compete ao SUS fiscalizar e inspecionar alimentos.

22

Em relação à saúde do trabalhador, é disposição da Lei 8.080/1990, que trata das condições para a promoção, proteção e recuperação da saúde e da organização e funcionamento dos serviços correspondentes:

- (A) a garantia ao sindicato dos trabalhadores de requerer a interdição de máquina, quando houver exposição a risco para a saúde dos trabalhadores.
- (B) a indicação da entidade sindical regional como responsável pelo acompanhamento e avaliação do impacto das novas tecnologias à saúde.
- (C) a promoção de atividades de educação para a saúde como a determinação do uso de equipamentos de proteção individual.
- (D) a responsabilidade da entidade sindical pela informação e o controle dos riscos de acidentes de trabalho e das doenças profissionais nas empresas.
- (E) as políticas de saúde do trabalhador com a responsabilidade da formação de recursos e promoção de cursos de reciclagem.

23

São princípios do Sistema Único de Saúde (SUS) que constam na Lei 8.080 de 19 de setembro de 1990:

- (A) centralização, utilização da epidemiologia e regionalização.
- (B) igualdade, universalidade e direito à informação.
- (C) igualdade, duplicidade de meios e hierarquização.
- (D) universalidade, integralidade e autonomia da comunidade.
- (E) regionalização, centralização e individualidade das ações.

24

Faz parte do SUS um subsistema de Atenção à Saúde Indígena que deve:

- (A) ser custeado exclusivamente pela União, com seus recursos próprios.
- (B) ser centralizado, hierarquizado e regionalizado, tal como o SUS.
- (C) adotar um modelo de atenção à saúde pautado por uma abordagem diferenciada e global.
- (D) selecionar as populações indígenas a serem atendidas.
- (E) servir de retaguarda e referência ao SUS nas regiões onde residem as populações indígenas.

25

Em relação aos recursos humanos que atuam no SUS são feitas as afirmações a seguir.

- I - Os cargos e funções de chefia, direção e assessoramento, só poderão ser exercidos em regime de tempo integral.
- II - Os servidores que legalmente acumulam dois cargos ou empregos somente poderão exercer suas atividades em um único estabelecimento do SUS.
- III - Somente poderão exercer suas atividades em mais de um estabelecimento do SUS os ocupantes de cargos ou funções de chefia, direção ou assessoramento.

Está(ão) correta(s) a(s) afirmação(ões):

- (A) I, apenas.
- (B) II, apenas.
- (C) I e III, apenas.
- (D) II e III, apenas.
- (E) I, II e III.

26

Ao girar a cabeça de um bebê que se encontra em supino para um dos lados, haverá como resposta hipertonia extensora no lado para o qual a cabeça foi virada e hipertonia flexora no lado oposto. Essa descrição se refere ao(à):

- (A) reflexo tônico labiríntico.
- (B) reflexo tônico cervical simétrico.
- (C) reflexo tônico cervical assimétrico.
- (D) Gallant.
- (E) reação associada.

27

No processo maturativo, o lactente no quarto trimestre:

- (A) inicia o arrastar e troca de decúbito.
- (B) apresenta tônus flexor de membros superiores e cabeça lateralizada.
- (C) pode pular e correr com equilíbrio dinâmico e coordenação motora ampla bem aprimorados.
- (D) muda de decúbito com facilidade, passa para a posição sentada, engatinha e já pode permanecer em posição ortostática.
- (E) não realiza transferências intermediárias e postura *puppy*.

28

A preensão voluntária instala-se no bebê entre os quatro, cinco meses e tem como função alcançar um determinado objeto. Para isto, a criança estende uma das mãos, ou ambas, e realiza um movimento em varredura denominado:

- (A) *grasping*.
- (B) bimanual.
- (C) pinça digital.
- (D) palmar cilíndrico.
- (E) dígito-palmar.



29

A órtese é um dispositivo que se acrescenta ao corpo com o objetivo de:

- (A) substituir uma parte do corpo que foi amputada.
- (B) restaurar uma função.
- (C) estimular o surgimento de contraturas musculares.
- (D) manter movimentos isocinéticos constantes.
- (E) movimentar as articulações atingidas nos episódios agudos de artrite reumatóide.

30

Ao realizar avaliação de uma criança com desenvolvimento neuropsicomotor normal, o terapeuta ocupacional puxa levemente a criança pelas mãos, a partir do decúbito dorsal, e esta traz a cabeça com facilidade, alinhando-a com o tronco e apoiando-se sobre as duas mãos, ficando assim na postura sentada. De acordo com a descrição acima, qual a idade cronológica desta criança, em meses?

- (A) 4
- (B) 6
- (C) 8
- (D) 9
- (E) 10

31

Movimentos espasmódicos, incontrolados e de amplitude extrema, com fraco controle das amplitudes médias, são característicos da Paralisia Cerebral do tipo:

- (A) ataxia.
- (B) atetose.
- (C) hemiplegia espástica.
- (D) quadriplegia espástica.
- (E) diplegia espástica.

32

O sucesso e a eficácia do tratamento da Terapia Ocupacional em crianças com Paralisia Cerebral depende de(a):

- (A) um plano de tratamento rígido e elaborado, de forma que atenda a todas as crianças.
- (B) atuação do terapeuta, não levando em conta a individualidade de cada criança.
- (C) elaboração de planos que sejam sempre repetidos e se adequem a todas as crianças.
- (D) elaboração de atividades rígidas e pré-estabelecidas que proporcionem estímulos adequados, independente da criança.
- (E) elaboração de um plano de tratamento adequado e adaptado à individualidade de cada criança.

33

Ao avaliar a estereognosia em um paciente hemiplégico, o terapeuta ocupacional tem como objetivo testar a(o):

- (A) discriminação de diferentes temperaturas.
- (B) discriminação cinestésica.
- (C) discriminação de dois pontos.
- (D) reconhecimento de partes do corpo.
- (E) reconhecimento de objetos tridimensionais pelo tato.

34

Durante atendimento terapêutico ocupacional de um paciente que sofreu Acidente Vascular Encefálico (AVE), é constatada incapacidade na realização de movimentos intencionais e complexos. Logo, esse paciente apresenta:

- (A) afasia.
- (B) apoplexia.
- (C) sinergia.
- (D) apraxia.
- (E) hipoestesia.

35

No paciente hemiplégico adulto, o tratamento terapêutico ocupacional tem como principal objetivo:

- (A) trabalhar o lado sadio de modo compensatório.
- (B) inibir posturas anormais com técnicas de manipulação de distal para proximal.
- (C) colocar órteses do lado hemiplégico e realizar treino compensatório no lado são.
- (D) treinar as Atividades de Vida Diária (AVD), orientando a utilização do lado são.
- (E) facilitar os movimentos do lado hemiplégico visando à simetria corporal e normalização do tônus.

36

São contra-indicadas a pacientes hemiplégicos com padrão anormal de movimento e forte espasticidade as atividades:

- (A) que proporcionem movimentos escapulares.
- (B) de coordenação motora ampla.
- (C) de coordenação motora e preensão finas.
- (D) com transferência de peso corporal.
- (E) com dissociação das cinturas escapular e pélvica.

37

“O eixo em torno do qual a Terapia Ocupacional _____ deve ser pensada é aquele no qual o sujeito e o coletivo se encontram, procurando resgatar a possibilidade da construção da ação humana por meio da organização e da manifestação do coletivo.”

Em relação ao campo da Terapia Ocupacional, que opção completa corretamente a frase acima?

- (A) Social.
- (B) Pediátrica.
- (C) Geriátrica.
- (D) Neurológica.
- (E) Reabilitadora.

38

Que recurso terapêutico é utilizado pelo terapeuta ocupacional para avaliar a percepção do toque leve?

- (A) Órtese dinâmica.
- (B) Caneta.
- (C) Objeto de discriminação de dois pontos.
- (D) Monofilamentos de Weinstein-Semmes.
- (E) Teste de Captação de Moberg.



39

Para calcular a profundidade ideal do assento de uma cadeira de rodas deve-se medir o(a):

- (A) comprimento da perna desde o terço distal da coxa até o calcanhar.
- (B) altura do braço desde o assento até o cotovelo flexionado em 90°, adicionando-se 3 (três) centímetros de largura de cada lado.
- (C) largura dos quadris em sua porção mais larga, somando 2,5 (dois e meio) centímetros de cada lado.
- (D) área desde o assento até a axila mais a soma de 5 (cinco) centímetros acima da axila.
- (E) área atrás das nádegas, ao longo da coxa até a dobra atrás do joelho, e subtrai-se de 5 (cinco) a 7,5 (sete e meio) centímetros.

40

Que referências se tornaram muito importantes para a Terapia Ocupacional no campo da Saúde Mental (PRADO e BARTALOTTI, 2001)?

- (A) Socioterapia e psicodinâmica.
- (B) Socioterapia e psicomotricidade.
- (C) Construtivismo e socioterapia.
- (D) Psicodinâmica e construtivismo.
- (E) Psicodinâmica e psicanálise.

41

Na análise neuroevolutiva de uma atividade, é importante observar as seguintes características:

- I - se o tipo de contração para cada movimento é estabelecido como isotônico, concêntrico ou isométrico;
- II - se os movimentos e as posições envolvidas na atividade reforçam ou não os reflexos primitivos;
- III - como a atividade pode ser graduada para aumentar a força, a coordenação e a autonomia.

Está(ão) correta(s) a(s) característica(s):

- (A) I, apenas.
- (B) II, apenas.
- (C) III, apenas.
- (D) I e II, apenas.
- (E) II e III, apenas.

42

De acordo com TROMBLY (1989), para possibilitar aumento de variação ativa de movimento, uma atividade deve:

- (A) oferecer estimulação exteroceptiva.
- (B) ser graduável, naturalmente ou através de adaptações.
- (C) proporcionar tração intensa na parte tratada por longo período de tempo.
- (D) possibilitar a maior movimentação possível da parte do corpo em tratamento.
- (E) permitir que a movimentação da parte do corpo que está sendo tratada seja feita com o menor número de repetições possível.

43

Em relação à utilização de uma órtese que tem como objetivo corrigir deformidades, são feitas as afirmativas a seguir.

- I - A órtese deve ser ajustada até o ponto de estiramento máximo.
- II - O tempo de uso da órtese deve ser contínuo desde o momento de sua colocação para que o paciente se habitue rapidamente a ela.
- III - Assim que for demonstrada maior tolerância ao uso da órtese durante várias horas, o paciente deve utilizá-la à noite, liberando a parte do corpo para o uso ativo durante o dia.

Está(ão) correta(s) a(s) afirmativa(s):

- (A) I, apenas.
- (B) II, apenas.
- (C) III, apenas.
- (D) I e II, apenas.
- (E) II e III, apenas.

44

Considere os seguintes objetivos de um tratamento:

- I - estiramento muscular intenso, principalmente nos episódios agudos da doença;
- II - estimulação da realização de atividades de vida diária (como por exemplo, cortar um bife), sem necessidade da utilização de adaptações e sem levar em consideração episódios de dor;
- III - manutenção ou aumento da autonomia.

No planejamento de tratamento de Terapia Ocupacional para um paciente que apresenta Artrite Reumatóide, o(s) objetivo(s) que deve(m) estar presente(s) é(são):

- (A) I, apenas.
- (B) II, apenas.
- (C) III, apenas.
- (D) I e II, apenas.
- (E) II e III, apenas.

45

A lesão da placa volar mal tratada pode resultar em deformidade em pescoço de cisne sintomática, que se apresenta com:

- (A) hiperextensão de articulações metacarpofalangeanas.
- (B) hiperextensão de articulação interfalangeana distal e flexão de articulação interfalangeana proximal.
- (C) hiperextensão de articulação interfalangeana proximal e flexão de articulação interfalangeana distal.
- (D) hiperextensão interfalangeanas proximais e distais.
- (E) hiperflexão de interfalangeanas distais e proximais.



46

É fundamental que o terapeuta ocupacional oriente que a troca de decúbito para prevenção de escaras em pacientes acamados seja realizada a cada:

- (A) duas horas.
- (B) três horas.
- (C) quatro horas.
- (D) cinco horas.
- (E) seis horas.

47

No tratamento terapêutico ocupacional de paciente amputado, o enfaixamento do coto deve ser realizado com o objetivo de:

- (A) diminuição da dor e propriocepção.
- (B) manutenção da amplitude articular e exterocepção.
- (C) controle de edema e inibição de reflexos.
- (D) controle de edema e exterocepção.
- (E) modelagem do coto e controle de edema.

48

A respeito do desenvolvimento da mão no primeiro ano de vida, pode-se afirmar que:

- (A) o reflexo de preensão palmar não é encontrado na análise reflexa de bebês normais com 01 (um) mês de vida.
- (B) o reflexo de preensão palmar está sempre presente no recém-nascido e a maturação da mão ocorre no sentido proximal para distal.
- (C) a preensão voluntária normal se dá entre os quatro e cinco meses, com oposição do polegar e preensão em pinça.
- (D) os dedos do recém-nascido tendem à flexão, inclusive o primeiro dedo que se encontra no cavo palmar durante longos períodos de tempo.
- (E) as primeiras tentativas de preensão voluntária começam no decorrer do nono mês com movimentos desordenados.

49

A Terapia Ativa, descrita por Simon em 1929, retoma o trabalho produtivo para combater a inatividade, organizar o meio manicomial e desenvolver a responsabilidade do doente mental com a proposta do uso de ocupações:

- (A) recreacionais, que contribuam para o equilíbrio entre trabalho e lazer.
- (B) escalonadas em grau de dificuldade de realização, através da divisão de trabalho.
- (C) determinadas por efeitos contraditórios permanentes, sendo necessária a reorganização pessoal.
- (D) laborativas com enfoque psicossocial, tendo em vista a ruptura entre doença e rigidez.
- (E) estabelecidas por afetividade na relação terapêutica, levando em conta capacidades remanescentes.

50

Para se definir um grupo como grupo terapêutico em Terapia Ocupacional, há diversos aspectos a serem considerados, tais como:

- I - o objetivo de um grupo terapêutico em Terapia Ocupacional é o tratamento e tudo que ele implica;
- II - o fazer, num grupo em Terapia Ocupacional, tem efeito terapêutico; por isso, todos os elementos que se relacionam com o fazer e a relação que se estabelece entre o terapeuta e o grupo ao longo do processo terapêutico são de fundamental importância;
- III - o terapeuta ocupacional possui apenas o papel de observador dentro do grupo terapêutico.

Está(ão) correto(s) o(s) aspecto(s):

- (A) II, apenas.
- (B) III, apenas.
- (C) I e II, apenas.
- (D) I e III, apenas.
- (E) II e III, apenas.